

1. SINIF



14. Hafta Fasikülü
2020-2021 Eğitim-Öğretim Yılı

EVDE EĞİTİM E-FASİKÜL' DE



YERKÖY ARGE

Yerköy İlçe Milli Eğitim Müdürlüğü'nün
uzaktan eğitim sürecinde öğrencilerimiz
için hazırladığı destek hizmetidir.

<http://yerkoy.meb.gov.tr>





Yerköy İlçe Millî Eğitim Müdürlüğü

Mehmet DURMAZ
İlçe Milli Eğitim Müdürü

Meliha ÖZDEN
Necmettin SAGLAM
Şube Müdürleri

M.Suat ATİLA
Koordinatör ve Grafik Tasarım

Hazırlayanlar

Fadime YIKILMAZ DAĞAŞAN	Atatürk İlkokulu
Yılmaz TÜNGER	Sekili Şht. Osman Pekşen İlkokulu
Muhammet DURAN	TOKİ Şht. Ali Salmanlı İlkokulu
Ahmet Şevki ŞAHİN	Saray Yibitaş Ortaokulu



HAYAT BİLGİSİ

TEST 1

1. Alışveriş listesi hazırlarken aşağıdakilerden hangisine dikkat etmeliyiz?

- A) Alışveriş listemizde önceliği ihtiyaçlarımıza vermeliyiz.
- B) Alışveriş listemizde önceliği isteklerimize vermeliyiz.
- C) Alışveriş listemizde reklamlarda gördüğümüz ürünlere öncelik vermeliyiz.

2. Aşağıdaki maddelerden hangisini **koku alma** duyumumuzla ayırt edebiliriz?

- A) Şeker
- B) Kolonya
- C) Su

3. “Kişisel bakımımızı yaparken kaynakları kullanmalıyız.”

Yukarıdaki cümlede boş bırakılan yere aşağıdakilerden hangisi getirilemez?

- A) tasarruflu
- B) çok
- C) dikkatli

4. Plan yapmakla ilgili aşağıda verilen ifadelerden hangisi yanlıştır?

- A) Plan yapmak başarımızı arttırır.
- B) Plan yaparken oyun, dinlenme ve uyku için de vakit ayırmalıyız.
- C) Plan yapmak zaman kaybıdır.

5. Doruk ve Yusuf 1/B sınıfı öğrencilerindedir. Doruk Yusuf'a nasıl davranırsa arkadaşlık ilişkileri olumsuz etkilenmez?

- A) Yusuf'a karşı içten davranırsa
- B) Yusuf'a kin tutarsa
- C) Yusuf'a bencilce davranırsa

6. Aşağıdakilerden hangisi Mustafa Kemal'in gittiği okullardan değildir?

- A) İstanbul Üniversitesi
- B) Şemsi Efendi İlkokulu
- C) Manastır Askeri Lisesi

HAYAT BİLGİSİ

7. Göz sağlığını korumak için aşağıdakilerden hangisini yapmamalıyız?

- A) Gözlerimizi ellerimizle ovuşturmamak
- B) Güneş'e çıplak gözle bakmamak
- C) Bilgisayar ve televizyon ekranına uzun süre bakmak

8. Maddeler katı, sıvı ve gaz olarak sınıflandırılır.

Buna göre aşağıdaki eşleştirmelerden hangisi doğrudur?

	<u>KATI</u>	<u>SIVI</u>	<u>GAZ</u>
A)	Taş	Tuz	Duman
B)	Buz	Hoşaf	Toz Şeker
C)	Un	Su	Buhar

9. Aşağıdakilerden hangisi "arkadaşların farklı fiziksel özellikleri olabileceğine" bir örnektir?

- A) Eda ve Merve mavi gözlüdür.
- B) Melisa uzun saçlı, İrem kısa saçlıdır.
- C) Ege ve Alper'in doğum tarihleri aynıdır.

10. Okulumuzda düzenlenen etkinlikler ile ilgili verilen bilgilerden hangisi yanlıştır?

- A) Birlik ve beraberliğimizi artırır.
- B) Ailelerimizin kaynaşmasını sağlar.
- C) Sadece başarısız öğrenciler katılır.

11. Öğretmenimizle birlikte gezmeye gittik. Gittiğimiz yer kapalı bir mekândı. İçeride çok sayıda **tarihi eser** vardı.

Gittiğimiz yer aşağıdakilerden hangisi olabilir?

- A) Açık hava tiyatrosu
- B) Milli Park
- C) Müze

12. Aşağıdaki ifadelerden hangisi **doğru değildir**?

- A) Durağa gelen otobüs yavaşlama hareketi yapar.
- B) Bitkiler hareket edebilirler.
- C) Cansız varlıklar hareket edebilir.



Yukardaki canlılar sırasıyla yerkürenin hangi tabakalarında yaşamaktadır?

- A) Su - Hava - Kara
- B) Su - Kara - Kara
- C) Kara - Su - Hava

14. Aşağıdaki eşleştirmelerden hangisi **yanlıştır**?

- A) Silgi → Katı
- B) Yağmur → Gaz
- C) Süt → Sıvı

HAYAT BİLGİSİ

15. Aşağıda, duyu organlarının görevleri belirtilirken bir yanlışlık yapılmıştır.

Dil: Tat almamızı sağlar.

Göz: Görmemizi sağlar.

Kulak: Dokunarak cisimleri tanımamızı sağlar.

Burun: Koku almamızı sağlar.

Deri: İşitmemizi sağlar.

Buna göre hangi duyu organları yer değiştirirse yanlışlık giderilmiş olur?

A) Kulak ile burun

B) Göz ile deri

C) Kulak ile deri

HAYAT BİLGİSİ

TEST 2

1. Aşağıdaki ifadelerden hangisi yanlıştır?

- A. Beslenme ve giyinme temel ihtiyaçlarımızdandır.
- B. Alışverişte ihtiyaçtan önce isteklerimizi almalıyız.
- C. İsteklerimizi her zaman almak zorunda değiliz.

2. Sınıfımıza su döküldüğünde kimden yardım istemeliyiz?

- A. Hizmetlilerden B. Müdür yardımcısından C. Kantin görevlilerinden

3. Aşağıdaki seçeneklerinden hangisinde verilenlerin tümü kitle iletişim araçlarıdır?

- A. Telefon – televizyon – tablet
- B. Tablet- ütü- gazete
- C. Televizyon- çamaşır makinesi- telefon

4. Aşağıdakilerden hangisi kişisel bakımımızla ilgili değildir?

- A. Yatmadan önce dişlerimizi fırçalamak
- B. Yemekten önce ve sonra ellerimizi yıkamak
- C. Oyun oynamayı sevmek.

5. Dengeli beslenmek ne demektir?

- A. Yalnızca sevdiğimiz besinleri yemek
- B. Her besinden yeterince yemek
- C. Yalnızca sebze yemekleri yemek.

6. Yangın ile karşılaştığımızda hangi numarayı aramalıyız?

A-177

B-110

C-112

7. Aşağıdakilerden hangisi dini bayramlarımızdan biridir?

A-23 Nisan Ulusal Egemenlik ve Çocuk Bayramı

B-Ramazan bayramı

C-19 Mayıs Gençlik ve Spor bayramı

8. Hangisi aile bireylerimizden biri değildir?

A-Komşumuz

B-Babamız

C-Annemiz

9. Kişisel bakım ve temizliğimiz için hangisini yapmak yanlış olur?

A-Banyo yapmak

B-Ağzımızı üzerimize silmek

C-Dişlerimizi fırçalamak

10. Bağımsızlığımızın sembolü nedir?

A-Bayrağımız

B-Yaşadığımız şehir

C-Şiirlerimiz

11. Ulu Önder Mustafa Kemal Atatürk ile ilgili aşağıda verilen bilgilerden hangisi doğrudur ?

A) Kemal ismini babası vermiştir.

B) İstanbul'da doğmuştur.

C) TBMM'nin ilk meclis başkanıdır.

12. Dengeli ve sağlıklı beslenmek için neler yapmalıyız?

A. Düzenli ve dengeli beslenmeliyiz

B. Cips, kola gibi yiyecekler yemeliyiz.

C. Sevmediğimiz zararlı şeyleri de yiyebiliriz.

13. Zeynep, Komşusu Hatice Teyze'yi her gördüğünde elini öper ve durumunu sorardı. Annesi Selma da Hatice Teyze'ye her akşam yaptığı yemeklerden bir kap götürdü.

Yukarıdaki metinde hangi komşuluk ilişkisine değinilmemiştir?

A) Yardımlaşmak

B) Saygılı olmak

C) Kıskançlık

HAYAT BİLGİSİ

14. Aşağıdaki davranışlardan hangisi ailede mutluluğu artırır?

A) sorumsuzluk

B) yardımlaşma

C) kabalık

15. Merve ve Ali, dedesinden ve babaannesinden kalan sandığı açtıklarında bezden bebekler, tenekeden ve telden arabaları görmüşlerdir. Bu oyuncaklar kendi oyuncaklarından çok farklı idi. Çünkü onların tabletleri, uzaktan kumandalı arabaları, ağlayan bebekleri vardı.

Merve ve Ali'nin oyuncaklarının büyüklerinden farklı olmasının nedeni nedir?

A) Büyüklerinin fakir olmaları.

B) Büyüklerin bu oyuncakları daha çok sevmesi.

C) Teknolojinin çok gelişmesi.

HAYAT BİLGİSİ

TEST 3

1. Ulu Önder Mustafa Kemal Atatürk ile ilgili aşağıda verilen bilgilerden hangisi doğrudur ?

- A) Kemal ismini babası vermiştir.
- B) İstanbul'da doğmuştur.
- C) TBMM'nin ilk meclis başkanıdır.

2. Dengeli ve sağlıklı beslenmek için neler yapmalıyız?

- A. Düzenli ve dengeli beslenmeliyiz
- B. Cips, kola gibi yiyecekler yemeliyiz.
- C. Sevmediğimiz zararlı şeyleri de yiyebiliriz.

3. Zeynep, Komşusu Hatice Teyze'yi her gördüğünde elini öper ve durumunu sorardı. Annesi Selma da Hatice Teyze'ye her akşam yaptığı yemeklerden bir kap götürdü.

Yukarıdaki metinde hangi komşuluk ilişkisine değinilmemiştir?

- A) Yardımlaşmak
- B) Saygılı olmak
- C) Kıskançlık

4. Aşağıdaki davranışlardan hangisi ailede mutluluğu artırır?

- A) sorumsuzluk
- B) yardımlaşma
- C) kabalık

5. Merve ve Ali, dedesinden ve babaannesinden kalan sandığı açtıklarında bezden bebekler, tenekeden ve telden arabaları görmüşlerdir. Bu oyuncaklar kendi oyuncaklarından çok farklı idi. Çünkü onların tabletleri, uzaktan kumandalı arabaları, ağlayan bebekleri vardı.

Merve ve Ali'nin oyuncaklarının büyüklerinden farklı olmasının nedeni nedir?

- A) Büyüklerinin fakir olmaları.
- B) Büyüklerin bu oyuncakları daha çok sevmesi.
- C) Teknolojinin çok gelişmesi.

6. Deprem insanlara neden zarar verir?

- A) Soğuk havalarda olduğu için.
- B) Akşam vakti olduğu için.
- C) Binalar sağlam yapılmadığı için.

7. Hangisi kışın çok kar yağan, dağlık köylerde yaşanan doğal afetlerden biridir?

- A) sel
- B) fırtına
- C) çığ

8. Aşağıdakilerden hangisi gece görülmez?

- A) Ay
- B) Güneş
- C) yıldızlar

9. Aşağıdakilerden hangisi evimizde kullandığımız teknolojik ürün ve aletlerin yararlarındandır?

- A) Aile bireyleri daha çok yorulur
- B) Az zamanda çok iş yapmamızı sağlar.
- C) Gürültü kirliliğine neden olurlar.

10. Bir cismi kendimizden uzaklaştırır,..... kendimize yaklaştırırız.

Yukarıdaki cümlede noktalı yerlere sırasıyla hangi kelimeler gelmelidir?

- A) iterek-çekerek
- B) çekerek-iterek
- C) iterek-iterek

11. Okulda öğrendiklerimizi unutmamak için hangisini yapmalıyız?

- A) Yalnızca sınav zamanı çalışmak.
- B) Konuları düzenli olarak tekrar etmek.
- C) Hafta sonları çalışmak.

12. Aşağıdakilerden hangisi sıvıdır?

- A) buhar
- B) şampuan
- C) kalem

13. Aşağıdakilerden hangisi bir öğrenme yöntemi olamaz?

- A) Dinlemek
- B) Yazmak
- C) Gülmek

HAYAT BİLGİSİ

14. Tanımadığımız biri sizi parka götürmek istese nasıl davranırsınız?

- A) Hemen kabul ederim.
- B) Arkadaşım da gelirse giderim.
- C) Kesinlikle gitmem.

15. Aşağıdakilerden hangisi dini bayramlarımızdan biridir?

- A) Zafer bayramı
- B) Ramazan bayramı
- C) Cumhuriyet bayramı

HAYAT BİLGİSİ

TEST 4

1) Büşra babasının işinden dolayı yeni bir okula gitmek zorunda kalmıştır. Büşra aşağıdakilerden hangisine dikkat ederse doğru bir arkadaş seçimi yapmış olur?

- A) Zengin olmasına
- B) Dürüst olmasına
- C) Güçlü olmasına

2) Beden Eğitimi dersinde Sporcu Şirin ve arkadaşları yakar top oynadılar. Sporcu Şirin oyunu kaybedince ağlamaya başladı.

Arkadaşları Sporcu Şirin'e nasıl bir tavsiyede bulunmuş olabilir?

- A) Bir daha yakar top oynamasan iyi olur.
- B) Senin 5 canın olsun. Hep oyunda kal.
- C) Oyunda kazanmak da, kaybetmek de doğaldır. Buna üzülmemelisin.

3) Ahmet arkadaşı Melike ile sürekli alay etmekte ve ona lakap takmaktadır. Melike ise bu durumdan hiç hoşlanmamaktadır.

Melike'nin bu durumda ilk yapması gereken hangisidir?

- A) Melike bu durumu annesine söylemelidir.
- B) Melike Ahmet'i öğretmenine şikayet etmelidir.
- C) Melike Ahmet'i uyarmalı, yaptığıının yanlış olduğunu söylemelidir.

4) Hakan basketbol oynamayı çok sevmektedir. İrem ise resim yapmaktan hoşlanmaktadır. Buna rağmen ikisi de çok yakın arkadaşlardır.

Hakan ve İrem'in ilgileri farklı olmasına rağmen yakın arkadaş olabilmelerinin sırrı aşağıdakilerden hangisidir?

- A) Hakan'ın basketbol oynamaktan vazgeçip resim yapmaya başlaması.
- B) İrem ve Hakan'ın sadece keman çalması.
- C) İkisinin de birbirlerinin ilgilerine saygı duyması.

HAYAT BİLGİSİ

5) **Kübra** → Sınıfta ve koridorda yürürken ayağıma çöpler takılıyor.

Salih → Sınıftaki sesten dolayı öğretmenimi dinleyemiyorum.

Metin → Kitaplıktan aldığım kitaplar hep yırtık.

Tuğçe “**Ders sırasında arkadaşlarımızla konuşmayalım. Parmak kaldırarak söz isteyelim.**”

Tuğçe hangi arkadaşının sorununa çözüm üretmiştir?

A) Kübra

B) Salih

C) Metin

6) “Tekerlekli sandalyesi ile yeni kayıt olduğu okuluna giden Mehmet’i yeni sınıf arkadaşları samimi, içten bir şekilde karşılamışlardır. Daha sonraları oynadıkları oyunlara Mehmet’i de dahil etmişler, ona oyunlarda yapabileceği sorumluluklar vermişlerdir.”

Bu anlatılanlara göre Mehmet’in yeni sınıf arkadaşları için söylenenlerden hangisi doğrudur?

A) Engellilere acıyan kişilerdir.

B) Farklılıkların doğal olduğunu bilen kişilerdir.

C) Sınıf olarak çok uslu ve paylaşımcıdırlar.

7) **Her yıl 23 Nisan günü bayram yapmamızın nedeni aşağıdakilerden hangisidir?**

A) Atatürk’ün Samsun’a çıkması.

B) Türkiye Büyük Millet Meclisinin açılması.

C) Kurtuluş Savaşı’nın sona ermesi.

8) Ben Keloğlan. Dişlerimi fırçalarken suyu açık bırakmam. Harçlıklarımı harcarken dikkatli davranırım.

Keloğlan için hangisi söylenemez?

A) Kaynakları bilinçli kullanıyor.

B) Cimrilik yapıyor.

C) Tutumlu davranıyor.

HAYAT BİLGİSİ

9) Okulumuzda fakir çocuklar için yardım kampanyası düzenleyeceğiz.

Yukarıdaki ifadeye göre Merve'nin hangi kulüp üyesi olduğu söylenebilir?

- A) Gezi ve Turizm Kulübü
- B) Bilinçli Tüketici Kulübü
- C) Sosyal Yardımlaşma, Dayanışma ve Kızılay Kulübü

10) **Melek** : Ne oldu baba? Daha yeni gelmiştin. Nereye gidiyorsun?

Babası: Şehir merkezinde bir olay olmuş. Hemen oraya gidip ne olduğunu öğrenip halka bu olayın nedenini, sonuçlarını duyurmalıyım.

Yukarıdaki konuşmaya göre Melek'in babası hangi meslek çalışanlarından?

- A) Oyuncu
- B) Gazeteci
- C) Polis

11) Dört arkadaş kütüphaneye gitmek için saat 11'de buluşacaklardı. Ali, 10 dakika erken geldi.

Diğerlerinin düşüncesi aşağıda verilmiştir.

Buna göre, hangisinin güvenilecek biri olduğu söylenebilir?

- A) Acil işim çıktı. Hemen arayıp gelemeyeceğimi söyleyeyim.
- B) Aman! Yarım saat geç gitsem ne olacak?
- C) Canım gitmek istemiyor. Onlar yalnız gitsinler bana ne!

12) **Aşağıdaki öğrencilerden hangisi okul yaşamıyla ilgili iyimser bir düşünceye sahiptir?**

- A)Oyun bahçemizin küçüklüğü yüzünden tenffüslerde oynayamıyoruz.
- B)Müzik dersi olduğunda okula gitmek istemiyorum.
- C) Hafta sonu tatilinde okulumu ve arkadaşlarımı çok özliyorum.

HAYAT BİLGİSİ

13) Aşağıdaki hayvanlardan hangisi evde beslenen hayvanlardan biri değildir?

- A) Geyik
- B) Kedi
- C) Köpek

14) Aşağıdaki besinlerden hangisi sağlıklıdır?

- A)Kola-cips-çikolata
- B)Kuru fasulye-pilav-ayran
- C)Gofret-fanta-sigara

15) “Bazı ağaçların yaprakları her mevsimde yeşil kalır ve dökülmez”.

Aşağıdakilerden hangisi bu ağaçlardan birine örnektir?

- A) Elma Ağacı
- B) Çam Ağacı
- C) Kavak Ağacı

Küçük Ece, gece gök gürültüsünden çok korkuyordu. Ablasının yanına gidip senin yanında yatabilir miyim? diye sordu. Ablası ona; korkacak bir şey yok. Bu gürültüler yağmurun habercisi onu haber veriyor diye sakinleştirdi.

(İlk dört soruyu metne göre cevaplayınız.)

1.) Metinde kim geçmektedir?

A. Ece B. Ege C. Eda

2.) Ece, gece kimin yanına gitmiş?

A. annesinin B. babasının
C. ablasının

3.) Ece, gece neyden korkmuş?

A. Karanlıktan B. Fırtınadan
C. Gök gürültüsünden

4.) Ablası, Ece'yi nasıl sakinleştirmiş?

A. Ece'yi hemen yatağına almış.
B. Kardeşiyle konuşup onu rahatlatmış
C. Hemen anne babasını uyandırmış.

5.)



" hikaye" kelimesinin eş anlam-
lısı aşağıdakilerden hangisidir?

A. masal B. öykü C. roman

6.)



Bu akşam sınıfın gösterisi var.

Bu cümlesinde hangi sorunun cevabı yoktur?

A. ne? B. nerede? C. ne zaman?

7.)



Günler, aylar, yıllar geçse de seni unutmayacağım.

Yukarıdaki cümlede, kaç tane çoğul sözcük vardır?

A. 3 B. 4 C. 2

8.)



"sıcak" kelimesinin zıt anlamlısı hangi cümlede kullanılmıştır?

A. Bugün hava gerçekten çok sıcak.
B. Ali soğuk su içtiği için hasta oldu.
C. Okan gece yatarken ılık süt içti.

9.)



Alfabemizde toplam kaç harf vardır?

A. 30 B. 29 C. 28

10.)



"a - b - c - ç - d - e - f - g -
ğ - h - ı - i - j - k - l - ?

Yeşim, yukarıda alfabeyi saymaktadır. L harfinden sonra hangi harf gelir?

A. n B. m C. o

Erol'un babası madende çalışıyordu. Ekmek parası için yerin altına giriyor kömür çıkarıyordu. Babasının mesleği çok tehlikeli idi. Bu nedenle Erol çok üzülüyordu. Ama babası ekmek parası için çalışmaya mecburdu.


(İlk dört soruyu metne göre cevaplayınız.)

1.) Erol'un babasının mesleği neymiş?
A. Madenci B. Polis C. Doktor

2.) Erol'un babasının mesleği için hangisi söylenemez?
A. zor B. tehlikeli C. kolay

3.) Erol'un babası nerede çalışıyormuş?
A. madende B. okulda
C. hastanede

4.) Erol, neden çok üzülyormuş?
A. Babasının mesleği tehlikeliymiş.
B. Çok sevdiğini oyuncağı kırılmış.
C. Babasını çok özlyormuş.

5.) "kolay" kelimesinin zıt anlamlısı aşağıdakilerden hangisidir?


A. basit B. zor C. doğru



Scooby Doo ve arkadaşlarının söylediği harfleri, alfabetik sıraya koyarsak sıralama nasıl olmalıdır?

A. h - k - m - s - r B. h - k - m - r - s
C. h - m - k - r - s


7.)  Çilekli pastam çok güzel oldu.

Obur Şirin'in tümcesinde hangi sorunun cevabı vardır?

A. ne zaman? B. nasıl? C. nerede?

8.)  "kelime" kelimesinin eş anlamlısı aşağıdakilerden hangisidir?

A. tümce B. sözcük C. mısra

9.)  Aşağıdaki kelimelerden hangisi, hecelerine yanlış ayrılmıştır?

A. sal - ın - cak B. dal - ga - cı
C. sal - yan - goz

10.)  Hangisi, dört harften oluşan tek heceli bir kelimedir?

A. kırk B. altı C. yedi

11.  Hangi cümle kızgınlık belirtir?

- A. Ne güzel gözlerin var senin böyle?
B. Ne zaman geldin sen buraya?
C. Neden bu kadar geç kaldın sen!

12.)  Yığıldı üst üste
Kara kara topraklar
Cefakar madenciler
Altında kaldılar


Şiire göre, toprak altında kalanlar kimlerdir?

- A. askerler B. madenciler C. polisler

13.  Baktımyine göremedim.


Cümledeki boş yere hangi kelime **gelemez?**

- A. ama B. veya C. ancak

14.  Bir avuç kömür için bir ömür verdiler.


Pepe'nin cümlesinde kaç **hece** vardır?

- A. 13 B. 12 C. 14


15.  Çamurlu sokaklarda mutlu çocuklar vardı bir zamanlar.

Bu cümlede kaç **çoğul kelime** vardır?


- A. 4 B. 3 C. 2

16.  Hangi cümlede neden sonuç ilişkisi **vardır?**


- A. Sabaha kadar ders çalıştı.
B. Televizyonda çizgi film seyretti.
C. Suluğu kırıldığı için su içemedi.

17.  Aşağıdaki cümlelerin hangisi bir **istek** bildiriyor?


- A. Kantinden bir simit aldım.
B. Baba bana oyuncak alsana.
C. Çok hızlı koşma yere düşersin.

18.  Hangi cümlede noktalama işareti **yanlış konmuştur?**

- A. Ne kadar da güzel resim çizmişsin?
B. Bu kalemi ne kadara aldın?
C. Siz kaçınıcı katta oturuyorsunuz?

19.  Hangi cümlede yazım yanlışı **yapılmıştır?**

- A. Bugün on bir yaşıma giriyorum.
B. Yeliz 15 nisanda dünyaya geldi.
C. Sen de okula gelecek misin?

20.  Aşağıdaki seçeneklerden hangisi, diğerlerine göre farklıdır?

- A. uzun - kısa B. fakir - yoksul
C. büyük - küçük

Melis, çok çalışkan, akıllı, zeki bir kızdı. Özellikle gözleri öyle güzeldi ki. Bütün arkadaşları onu çok beğenirdi. Sınıfta en çalışkan oydu. Öğretmeni onu çok sevdi. O da öğretmenini çok sevdi. Sınavlarda hep birinci olurdu.

(İlk dört soruyu metne göre cevaplayınız.)

1.) Metinde kimden bahsetmektedir?

- A. Melis B. Yeliz C. Deniz

2.) Melis için hangisi söylenemez?

- A. Güzel bir kızmış. B. Çalışkanmış
C. Yaramaz bir kızmış

3.) Sınavlarda kaçınıcı oluyormuş?

- A. birinci B. sonuncu C. ikinci

4.) Melis'in özellikle en güzeli yeri neresiymiş?

- A. saçları B. gözleri C. elleri


5.)



Yanda, her kelimenin bir harfi değiştirilerek yeni bir kelime yazılıyor. Buna göre soru işareti olan yere hangi kelime yazılamaz?

- A. taban B. kaban C. tabak

6.)



Yukarıdaki çocukların söylediği harfler, alfabede hangi sırada olurlar?

- A. j - f - m - t - z B. f - j - m - t - z
C. f - j - m - z - t

7.)



Yukarıdaki öğrencilerden hangisi "vatan" kelimesinin eş anlamlısını söylemiştir?

- A. B. C.

8.)



Aşağıdakilerden hangisi, 3 sesli, 2 sessiz harften oluşmuştur?

- A. tümce B. üstün C. arıza

9.)



Aşağıdaki kelimelerden hangisi hecelerine doğru ayrılmıştır?

- A. pe - ri - şan B. gür - ül - tü
C. yen - il - gi

10.)




Sabaha.....ders çalıştı.

Şirin Baba'nın cümlesinde boş yere hangi kelime gelmelidir?

- A. ama B. kadar C. çünkü


11.  Hangi cümle **beğeni** belirtir?

- A. Ali'nin çok kötü notları vardı.
B. Senin gözlerin ne güzel öyle...
C. Abla bana çikolata alır mısın?


12.)  Meyve dolu ağaçlar
Pırıl pırıl parlıyor güneş
Sıcaktan bunalmış insanlar
Her yer alev, her yer ateş

Yukarıdaki şiirde hangi mevsimden bahsedilmektedir?

- A. ilkbahar B. sonbahar C. yaz


13.  Aşağıdaki cümlelerin hangisinde yazım yanlışı **yapılmıştır**?

- A. Mehmet 13 martta dünyaya geldi.
B. Köpeğim Muncur çok yaramazdır.
C. Uyuyan Güzel kitabını okudun mu?

14.)  Yüreğim yangın yeri anlıyor musun?


Eren'in cümlesinde kaç **hece** vardır?

- A. 13 B. 12 C. 11


15.  Ahmet amcam Bursa'dan Ankara'ya gitti.

Bu cümlede kaç **özel isim** vardır?


- A. 4 B. 3 C. 2

16.)  Aşağıdaki cümlelerin hangi -sinde **çoğul kelime** vardır?


- A. Ne yaparsan yap, beni al o zaman.
B. Hadi o zaman ne duruyoruz?
C. Yaralar zamanla kabuk bağlar mı?

17.)  Aşağıdaki cümlelerin hangisi **özlem** belirtiyor?


- A. Sonunda öğretmenin tepesi attı.
B. Deniz, öğretmenin gözüne girdi.
C. Yeşim'in annesi burnunda tütüyordu.

18.)  Hangi cümlede noktalama işareti **yanlış konmuştur**?

- A. Hadi o zaman ne bekliyorsun?
B. Ne derssen de asla vazgeçmeyeceğim?
C. Ne suçu vardı kendisi de bilmiyordu.

19.)  "kısa" kelimesinin **zıt anlamlısı**, hangi cümlede vardır?

- A. Kalın bir kazak vardı üstünde.
B. Zaman hiç bu kadar uzun gelmemişti.
C. Mutluluk kibrit çöpü kadar kısaymış.

20.  Dün gece o kadar çok ağladım ki.

Ebru'nun cümlesinde hangi sorunun cevabı **vardır**?

- A. neden? B. ne zaman? C. nerede?

Hülya, tatlı, güzel bir kızmış. Sınıfın en akıllısı ve zekisiymiş. Öğretmenini hiç üzmez, hiç yaramazlık yapmazmış. Ödevlerini her zaman kendisi yaparmış. Bol bol kitap okurmuş. Öğretmeni Hülya'yı çok severmiş.

(İlk dört soruyu metne göre cevaplayınız.)

1.) Hülya için aşağıdakilerden hangisi söylenemez?

- A. tatlı bir kız. B. akıllı bir kız.
C. yaramaz bir kız

2.) Öğretmeni, Hülya'ya nasıl davranırmış?

- A. severmiş. B. kızarmış. C. küsermiş.

3.) Hülya, nasıl bir öğrenciymiş?

- A. Çalışkan ve zeki bir öğrenci.
B. Yaramaz ve şımarık bir öğrenci.
C. Tembel, ders çalışmayan bir öğrenci.

4.) Hülya'nın ödevlerini kim yaparmış?

- A. annesi B. babası C. kendisi

5.)



Aşağıdaki kelimelerin hangisi yanlış yazılmıştır?

- A. yalnız B. plan C. grip

6.)



Akşam erken yatmalıyız çünkü

Pepee'nin cümlesi aşağıdakilerden hangisi ile devam etmelidir?

- A. sabah erken kalkacağız.
B. yarın okul yok.
C. öğleye kadar uyuyacağız.

7.)



Arkadaşlar, aşağıdaki cümlelerin hangisinin sonuna soru işareti gelmelidir?

- A. Okulumu çok seviyorum
B. Okula yine mi geç kaldın
C. Aaaa çok tatlı bir kedi

8.)



Burada bir kedi mi var ()

Yukarıdaki cümlenin sonuna aşağıdaki işaretlerden hangisi konmalıdır?

- A. (?) B. (.) C. (!)

TÜRKÇE

9



"İyi" kelimesinin zıt anlamlısı, aşağıdakilerden hangisidir?

- A. güzel B. çirkin C. kötü

13.)



Aşağıdaki sözcüklerden hangisi doğru yazılmıştır?

- A. pilav B. pilaj C. pilan

10.)



Yarın okula

Yukarıdaki cümleye aşağıdakilerden hangisi gelirse anlamlı olur?

- A.gittik. B. gitmiş. C. gideceğiz

14.)



Aşağıdaki cümlelerin hangisi 4 kelimedenden oluşmaktadır?

- A. Okulumu çok seviyorum.
B. Benim kalemim var.
C. Ahmet okula geç kaldı.

11.)



Aşağıdaki kelimelerden hangisi, hecelere yanlış ayrılmıştır?

- A. pen - ce - re B. kor - ku - luk
C. kay - ı - sı

15



Mert ödevdeki soruyu yanlış yapmış.

Pepee'nin cümlesinde hangi kelime yanlış yazılmıştır?

- A.ödevdeki B.soruyu C. yanlış

16.)



Aşağıdaki sözcüklerden hangisi özel isimdir?

- A. Gazete B. Hülya C. Tarak

12.



Aşağıdaki sözcüklerden hangisi 4 hecelidir?

- A. sarımsak B. eldiven
C. televizyon

17



Aşağıdaki cümlelerin hangisinde yazım yanlışı yapılmıştır?

- A. Salih ders çalıştı.
B. Oya, kadiri gördün mü?
C. Beyza bugün bize gel.

Salih, dakikada sadece 25 kelime okuyormuş. Sınıfta diğer arkadaşları daha çok okuyormuş. Bu durum Salih'i üzüyormuş. Bol bol kitap okumaya karar vermiş. Daha çok kitap okumuş. Zamanla arkadaşlarını geçmiş. Böylece çok mutlu olmuş.

1.) Salih dakikada kaç kelime okuyormuş?

- A. 30 B.25 C.20

2.) Salih, neden üzülyormuş?

- A. Yavaş okuduğu için.
B. Ödevini yapmadığı için
C. Hasta olduğu için

3.) Salih, neye karar vermiş?

- A. Daha çok ders çalışmaya
B. Bol bol kitap okumaya
C. Öğretmeninin sözünü dinlemeye

4.) Salih, neden mutlu olmuş?

- A. Yeni oyuncak aldığı için
B. Öğretmeni aferin dediği için
C. Zamanla hızlı okuyup arkadaşları geçtiği için.

5.



Aşağıdaki cümlelerin hangisinin sonuna soru işareti konur?

- A. Yakup, yemeğini çabuk iç ()
B. Ayla, hemen buraya gel ()
C. Hilal akşam bize gelir misin ()

6.)



Bir kilo balık yesem yine de

Kung Fu Panda'nın cümlesi aşağıdakilerden hangisi ile devam edebilir?

- A. doyarım. B. doymam. C. acıkmam

7



Aşağıda yanlış yazılan kelimeyi yok edeceğim çocuklar. Hangi kelimeyi yok etmeliyim?

- A. Tren B. Krem C. Drek

8.)



Hülya, çok tatlı bir kızdır.

Yukarıdaki cümlede hangi sorunun cevabı yoktur?

- A. kim? B. neden? C. nasıl?

9.)



"bayat" kelimesinin zıt anlamlısı aşağıdakilerden hangisidir?

- A. taze B. çürük C. temiz

10.)



Off yine kabak yemeği var ()

Yukarıdaki cümleye sonuna hangi noktalama işareti konmalıdır?

- A. (.) B. (?) C. (!)

11.)



Aşağıdaki cümlelerin hangisinde yazım yanlışı yapılmıştır?

- A. Hülya, deftere yazı yazdın mı?
B. Salim, Oyayı çağır.
C. Oğuz, sabah geç uyandı.

12.)



Aşağıdaki kelimelerden hangisi hecelere yanlış ayrılmıştır?

- A. yu - mur - ta B. pa - ta - tes
C. çiç - ek - çi

13.)



Aşağıdakilerden hangisinin hece sayısı diğerlerinden farklıdır?

- A. kalabalık B. telefon C. pırasa

14.)



Aşağıdaki cümlelerin hangisi 4 kelimedenden oluşmaktadır?

- A. Okulun bahçesi kirlenmiş.
B. Ekmeğin kenarını kim yedi?
C. Bu akşam bize misafir geldi.

15.)



Aşağıdaki sözcüklerden hangisinin ilk harfi daima büyük yazılır?

- A. Rüya B. Irmak C. Ahmet

16.)



Aşağıdaki kelimelerden yanlış yazılanı ağımla yok edeceğim.

Buna göre, Örümcek Adam hangi kelimeyi yok etmelidir?

- A. spor B. fırın C. kral

17.)



Yemeği çok yiyince

Garfield'in cümlesi aşağıdakilerden hangisi ile devam etmez?

- A. karnım doydum B. karnım ağrıdı
C. karnım acıktı

18.)





" Hülya, parkta oyun oynadı."

Yukarıdaki cümlede, altı çizili olan kelime hangi sorunun cevabıdır?

















- A. kim? B. nerede? C. ne?

MATEMATİK

Aşağıdaki geometrik şekillerin adını, köşe ve kenar sayısını yazınız.

	Şeklin Adı	Kenar Sayısı	Köşe Sayısı
 →
 →
 →
 →

Yan tarafta özellikleri verilen geometrik şekli bulup boyayınız.

<p>4 köşem,4 kenarım var. Bütün kenarlarım eşittir.</p>	→				
<p>Köşem ve kenarım yoktur.</p>	→				
<p>Üç köşem ve üç kenarım var.</p>	→				
<p>4 köşem ve 4 kenarım var.Sadece karşılıklı kenarlarım eşittir.</p>	→				

MATEMATİK



Kutu



Dünya



Çamaşır
Makinesi



Dondurma
Külahı



Ağaç Küçük



Buzdolabı



Portakal



Soba Borusu



Zeka Küpü



Yapıştırıcı

Yukarıda verilen varlıklar aşağıdakilerden hangisine benziyorsa karşısına o varlığın adını yazınız.



.....



.....



.....



.....



.....

MATEMATİK

ÖRÜNTÜYÜ TAMAMLAYALIM KURALINI YAZALIM

1- Aşağıdaki örüntüleri tamamlayınız. Örüntünün kuralını bulup yazınız.







2- Aşağıdaki örüntüleri renkleri ve şekilleri de dikkate alarak tamamlayınız. Örüntünün kuralını aşağıya yazınız.





3- Aşağıdaki geometrik şekilleri kullanarak siz de örüntüler hazırlayınız. Hazırladığınız örüntünün kuralını kısaca açıklayınız.



MATEMATİK

TABLO OKUMA-1

1-B Sınıfının Başkan Seçimi	
Aday Öğrenci	Aldığı Oy Sayısı
NURSENA	7
SABRİ	4
BEYZANUR	5
KAAN	3

1) Bu sınıfta kaç öğrenci başkanlık seçimine katılmıştır?

A) 20 B) 19 C) 18

2) Sınıf başkanı seçimini kim kazanmıştır?

A) Kaan B) Sabri C) Nursena

3) En çok oy alanla en az oy alan arasındaki fark ne kadardır?

A) 5 B) 4 C) 3



1-C sınıfında yapılan ankette öğrencilerin en çok sevdiği meyveler belirlenmiş ve aşağıdaki grafik oluşturulmuştur.

1) Tabloya göre en çok sevilen meyve hangisidir?

A)  B)  C) 

2) Tabloya göre meyvelerin en çok sevilenden en az sevilene doğru sıralanışı hangi seçenektir?

A)     B)     C)    

MATEMATİK

TABLO OKUMA 2

1) Aşağıdaki tabloda Zeynep'in buz dolabında bulunan meyveler ve sayıları gösterilmiştir.

Buzdolabı	
Meyve	Sayısı
	7
	6
	10
	6

1) Zeynep'in buz dolabında en fazla hangi meyve vardır?

A) Armut B) Portakal C) Elma

2) Buzdolabındaki hangi meyvelerin sayıları eşittir?

A) armut-portakal B) portakal- muz
C) elma-muz

3) Elmaların sayısı armutların sayısından kaç tane fazladır?

A) 3 B) 4 C) 5

2) Yandaki tablo parkta oynayan çocukları göstermektedir.

<u>çocuk</u>	<u>sayı</u>
 kız	8
 erkek	6

1) Parktaki kızlar erkeklerden kaç fazladır?

A) 1 B) 2 C) 3

2) Parkta toplam kaç çocuk vardır?

A) 14 B) 15 C) 21

MATEMATİK

TABLO OKUMA

Aşağıdaki tablo 1-C sınıfını göstermektedir.

	
	
Her şekil 2 öğrenciyi göstermektedir.	

1) Bu sınıftaki kız öğrencilerin sayısı kaç kişidir?

A) 12 B) 11 C) 8

2) Bu sınıftaki erkek öğrenciler kaç kişidir?

A) 13 B) 10 C) 8

3) Grafiğe göre erkeklerin sayısı kızlardan ne kadar fazladır?

A) 4 B) 3 C) 2

4) 1-B sınıfının mevcudu kaç kişidir?

A) 20 B) 18 C) 16






Her şekil 1 varlığı göstermektedir

Yandaki grafik bir oyuncakçıdaki bazı oyuncakların sayısını gösteriyor. Buna göre, topların sayısı ayıcıkların sayısından kaç fazladır?

OYUNCAKLAR		
	araba	5
	bebek	6
	kukla	9
	panda	4

Yandaki grafik bir anasınıfındaki oyuncakların sayısını

Bu grafiğe göre anasınıfında kaç tane oyuncak vardır?

A) 25 B) 24 C) 23

MATEMATİK

STANDART OLMAYAN UZUNLUK ÖLÇÜLERİ

Bir nesnenin uzunluğunu ölçmek için ölçeceğimiz nesneden bir başlangıç ve bir bitiş noktası belirleriz.

Nesnelerin uzunluklarını METRE denilen araçla ölçeriz.

STANDART OLMAYAN UZUNLUK ÖLÇÜLERİ

Çevremizde bulunan nesnelerin uzunluklarını ölçmek için doğal ölçü birimlerinden olan karış, kulaç, ayak, adım ve parmak gibi ölçüler kullanırız.

Bunlar standart olmayan ölçü birimleridir.

- 1. Karış: Parmaklar** birbirinden uzak duracak biçimde, başparmak ve serçe parmakların uçları arasındaki açıklık.
- 2. Kulaç: Gerilerek** açılmış iki kolun parmak uçları arasındaki uzaklık.
- 3. Parmak: El** parmağının eni kadar olan uzunluktur.
- 4. Adım: Adım** atarken ayaklar arasında kalan uzaklık.
- 5. Ayak: Ayağın başparmağı ile arasında kalan uzaklığa** denir.

Standart olmayan ölçüler, kişiden kişiye farklılık gösterir. Bunun sebebi kişilerin fiziksel farklılıklarından kaynaklanmaktadır.



KULAÇ-KARIŞ-ADIM-AYAK-PARMAK



♣ Aşağıdaki ifadelerde yer alan noktalı yerleri uygun sözcüklerle doldurunuz.

- İki kolumuzu yana doğru açtığımızda ,iki kolumuz arasındaki mesafeyedenir.
- Elimizin baş parmağı ile serçe parmağı arasındaki mesafeye.....denir.
- Baş parmak ile topuğumuz arasındaki mesafeye.....denir.
- Bir ayağımızı öne attığımızda ,öndeki ayağımızla arkadaki ayağımızın arasında kalan mesafeye.....denir.
- El parmağının eni kadar olan uzunluk ölçüsüne.....denir.


♣ Aşağıda verilen nesnelerin uzunluklarını hangi standart olmayan ölçme aracıyla ölçeriz?

- Öğretmen masasının boyunu.....ile ölçeriz.
- Odamızın enini ve boyunu.....ile ölçeriz.
- Kalemin boyunuile ölçeriz.
- Sınıf kapısının enini ve boyunu.....ile ölçeriz.
- Sınıfımızla ,okul kantini arasındaki mesafeyi.....ile ölçeriz.
- Pencerenin enini ve boyunu.....ile ölçeriz.
- Silginin boyunuile ölçeriz.
- Evimizle komşumuzun evinin arasındaki mesafeyi.....ile ölçeriz.

MATEMATİK

STANDART OLMAYAN SIVI ÖLÇÜ BİRİMLERİ

Aşağıda boş bırakılan yerleri resimlere göre "az" ya da "çok" kelimelerinden uygun olanıyla doldurun. Cevaplamanız bitince resimleri istediğiniz renklere boyayınız.




Kova

Bardak

Fincan

- * Kova bardaktan dahasıvı alır.
- * Fincan bardaktan dahasıvı alır.
- * Fincan kovadan dahasıvı alır.
- * Bardak fincandan dahasıvı alır.



Tencere

Cezve

Kaşık

- * Kaşık cezveden dahasıvı alır.
- * Tencere cezveden dahasıvı alır.
- * Cezve kaşıktan dahasıvı alır.
- * Tencere kaşıktan dahasıvı alır.