

1. SINIF



13. Hafta Fasikülü
2020-2021 Eğitim-Öğretim Yılı

EVDE EĞİTİM E-FASİKÜL' DE



YERKÖY ARGE

Yerköy İlçe Milli Eğitim Müdürlüğünün
uzaktan eğitim sürecinde öğrencilerimiz
için hazırladığı destek hizmetidir.

<http://yerkoy.meb.gov.tr>





Yerköy İlçe Millî Eğitim Müdürlüğü

Mehmet DURMAZ
İlçe Milli Eğitim Müdürü

Meliha ÖZDEN
Necmettin SAGLAM
Şube Müdürleri

M.Suat ATİLA
Koordinatör ve Grafik Tasarım

Hazırlayanlar

Fadime YIKILMAZ DAĞAŞAN	Atatürk İlkokulu
Yılmaz TÜNGER	Sekili Şht. Osman Pekşen İlkokulu
Muhammet DURAN	TOKİ Şht. Ali Salmanlı İlkokulu
Ahmet Şevki ŞAHİN	Saray Yibitaş Ortaokulu

DOĞA VE ÇEVRE TEMİZLİĞİ

Canlı ve cansız varlıkların bir arada bulunduğu ortama **çevre** denir.

Yaşadığımız çevrede:

- ✚ **Canlılar: İnsanlar**, bitkiler, hayvanlar
- ✚ **Cansız varlık: Toprak**, hava, su bulunmaktadır. Canlılar, yaşamlarını sürdürebilmek için çevre ile sürekli etkileşim hâindedir. Tüm canlılar, sağlıklı bir yaşam sürebilmek için temiz bir çevreye ihtiyaç duyar.

Bunun için doğanın korunması ve çevrenin temiz tutulması gerekir. Doğanın korunması ve temiz bir çevre için:

- 1 – Çöplerimizi çöp kutusuna atmalıyız.
- 2 – Yerlere çöp atanları uyarmalıyız.
- 3 – Elektriği ve suyu tasarruflu kullanmalıyız.
- 4 – Plastik kaplar yerine doğaya zarar vermeyen cam kapları tercih etmeliyiz.
- 5 – Alışverişlerimizde geri dönüşüme uygun ürünler satın almalıyız.

Çevre kirliliğinin önüne geçilmesi, israfın önlenmesi ve kaynakların daha verimli kullanılması için Çevre ve Şehircilik Bakanlığı ile Millî Eğitim Bakanlığı iş birliği yaparak okullarda **Sıfır Atık Projesi** başlatmıştır.

GERİ DÖNÜŞÜM

Günümüzde teknoloji kullanılarak birçok maddenin geri dönüşümü yapılır.





İnsanlar, her gün boşalan, kırılan, eskiyen, bozulan veya artık istenmeyen her şeyi çöpe atar.



İnsanlar, her gün boşalan, kırılan, eskiyen, bozulan veya artık istenmeyen her şeyi çöpe atar.

NERELERDE ÇÖP OLUŞUR?

- ❖ Evlerde
- ❖ Okullarda
- ❖ İş yerlerinde
- ❖ Fabrikalarda
- ❖ Çiftliklerde
- ❖ İnşaat alanlarında
- ❖ Parklarda
- ❖ Piknik Yerlerinde
- ❖ Alışveriş yerlerinde
- ❖ Sokaklarda

BU KADAR ÇÖP OLUŞURSA NE OLUR?

- Çevremiz kirlenir,
- Sularımız kirlenir,
- Toprağımız kirlenir,
- Daha çok ağaç kesilir,
- Doğal kaynaklar çabuk tükenir,

HAYAT BİLGİSİ

- Hayvanlar zarar görür,
- Daha fazla enerjiye ihtiyaç duyulur,
- Çöp depolama alanları çabuk dolar,
- Dünyamızın yaşam süresini kısalır.



1 atıkların işlenerek yeniden değerlendirilmesine **geri dönüşüm** denir.

GERİ DÖNÜŞÜM ATIKLARI NELERDİR?



Kâğıt Atıklar



Plastik Atıklar



Cam Atıklar



Metal Atıklar



Pil



Bitkisel Yağlar

KAĞIT ATIKLAR NELERDİR?

- ❖ Kağıt
- ❖ Karton
- ❖ Gazete
- ❖ Dergi

Meyve suyu kutuları

Yumurta kutuları

Kullanılmış defter ve kitaplar vb.



PLASTİK ATIKLAR NELERDİR?

- ❖ Şampuan kutuları
- ❖ Sıvı sabun kutuları
- ❖ Süt ve ayran kutuları
- ❖ Yoğurt kapları
- ❖ Ambalajlar
- ❖ Naylon Poşetler
- ❖ Plastik Su Şişeleri
- ❖ Ketçap ve Mayonez
- ❖ Kutuları
- ❖ Plastik ev gereçleri



CAM ATIKLAR NELERDİR?

- ❖ Cam içecek şişeleri
- ❖ Konserve kavanozları
- ❖ Cam yağ şişeleri
- ❖ Parfüm Şişeleri
- ❖ Cam Kavanozlar



METAL ATIKLAR NELERDİR?

- ❖ Metal içecek kutuları
- ❖ Konserve ve salça kutuları
- ❖ Metal boya kovaları
- ❖ Deodorant, oda parfümü kutuları
- ❖ Çeşitli amaçlı metal kutular



Günlük hayatta kullandığımız plastik, kâğıt, pil ve cam gibi atıkları çöpe atmamalıyız.

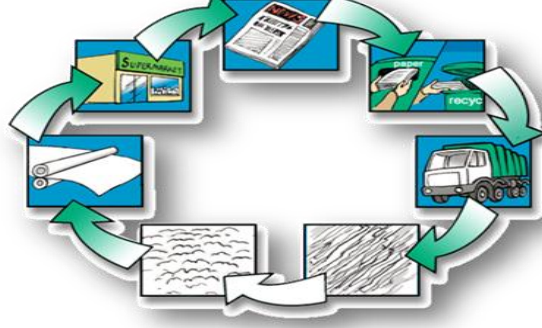
Kullanılmış bitkisel yağları tekrar kullanmak sağlığımız için tehlikelidir.



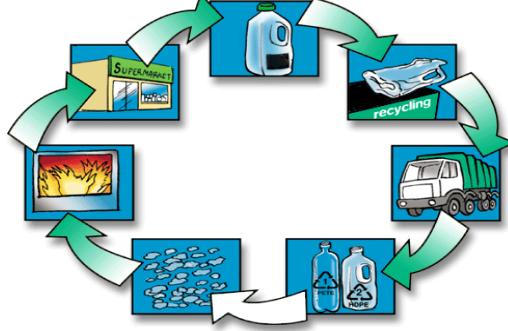
Bu yağları kullandıktan sonra lavaboya dökmek, toprak ve su kirliliğine neden olur.

Evimizdeki atık yağları biriktirerek atık yağ toplama merkezlerine vermeliyiz.

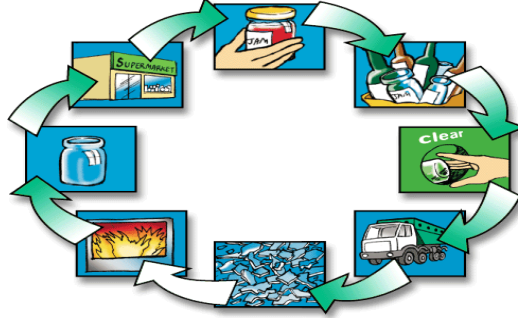
KAĞIT GERİ DÖNÜŞÜMÜ



PLASTİK GERİ DÖNÜŞÜMÜ



CAM GERİ DÖNÜŞÜMÜ



METAL GERİ DÖNÜŞÜMÜ



Teneke kutu içindeki içeceğin tüketiminden sonra bu kutu geri dönüşüm yoluyla tekrar kullanıma sunulur.

HAYAT BİLGİSİ

Atık pillerden herhangi bir madde yapılmaz. Toplanması nedeniyle çevreye vereceği zararların önüne geçmektir.

Geri Dönüşümün Yararları

- Doğal kaynaklarımız korunur.
- Enerji tasarrufu sağlanır.
- Atık miktarı azalır.
- Ülke ekonomisine katkı sağlanır.
- Çevre kirliliği azalır.

SORULAR

1. Aşağıda verilenlerden hangisi geri dönüşüm için uygundur?

- A) Biten defterlerimiz.
- B) Küçülen giysilerimiz.
- C) Eskiye ayakkabılarımız.

2. Kullanılmış yağları lavaboya dökersek ne olur?


- A) Toprak ve su kirliliğine neden olur.
- B) Toprağın verimi artar.
- C) Lavabo temizlenmiş olur.

3. Aşağıdaki verilenlerden hangisi yanlıştır?

- A) Günlük hayatta kullandığımız plastik, kâğıt, pil ve cam gibi atıkları çöpe atmamalıyız.
- B) Geri dönüşüm maddelerini uygun yerlerde biriktirmeliyiz.
- C) Kullanılmış bitkisel yağları tekrar kullanmak sağlığımız için yararlıdır.


4. Aşağıdaki ifadelerden doğru olanların başına “ D “ , yanlış olanların başına ise “ Y “ yazınız.

- () 1 – Ormanları kesip yerlerine güzel binalar dikmeliyiz.
- () 2 – Çöplerimizi denizlere atmalıyız.
- () 3 – Kapalı ortamları sık sık havalandırmalıyız.
- () 4 – Atık pilleri toprağa gömmeliyiz.
- () 5 – Canlı ve cansız varlıkların bir arada bulunduğu ortama çevre denir.


1.)  Ali okula gelecek mi ()

Eda'nın cümlesinin sonuna hangi noktalama işareti konmalıdır?


A. (.) B. (!) C. (?)

2.)  "Akşam bize o gelecek," cümlesinde kaç kelime vardır?


A. Dağ B. Ali C. Öğretmen

3.)  Hangi cümle 4 kelimedenden oluşmuştur?

A. Benim en sevdiğim yemek pilavdır.
B. Sabaha kadar ders çalıştım.
C. Bizim evin kedisi dün kayboldu.

4.)  Hangi kelime 2 sesli 3 sessiz harften oluşmuştur?


A. araba B. masal C. idare

5.)  Aşağıdaki kelimelerden hangisi yanlış yazılmıştır?

A. patetez B. zürafa C. pembe

6.)  Hangi kelime hecelerine yanlış ayrılmıştır?


A. kel – e – bek B. da – i – ma
C. a – part – man

7.)  "Islak," kelimesinde kaç sesli ve sessiz harf vardır?


A. 2 sessiz harf, 3 sesli harf
B. 3 sessiz harf, 2 sesli harf
C. 4 sessiz harf, 1 sesli harf

8.)  Aşağıdakilerden hangisi her zaman büyük harfle başlar?

A. Peynir B. Ankara C. Zeytin

9.)  "Erken yatıp erken uyumalıyız." cümlesinde kaç hece vardır?

A. 11 B. 10 C. 12

10.)  "masal," kelimesi ile ilgili aşağıdakilerden hangisi yanlıştır?

A. İki heceli bir kelimedir.
B. 3 sesli ve 2 sessiz harften oluşmaktadır.
C. Toplam 5 harften oluşur.

TÜRKÇE



1.) "matematik." kelimesinde kaç hece vardır?

- A. 3 B. 4 C. 5



6.) "Ece okula geç kaldı." cümlesinde kaç hece vardır?

- A. 7 B. 8 C. 9



2.) Hangi kelimenin baş harfi her zaman büyük yazılır?

- A. Dağ B. Ali C. Öğretmen



7.) Aşağıdaki hangi kelimenin hece sayısı daha fazladır?

- A. iyilik B. doktor C. sıfır



3.) Hangi kelime yanlış yazılmıştır?

- A. Al'i'yi B. Oya'nın C. su'yun




8.) Aşağıdaki kelimelerden hangisi tek hecelidir?

- A. altı B. yedi C. kırk



4.) "oyuncu." kelimesi hangisinde doğru ayrılmıştır?

- A. oy - un - cu B. o - yun - cu
C. o - yu - n - cu



9.) Aşağıdaki kelimelerden hangisinde 4 hece vardır?

- A. şekerli B. beşinci
C. cumartesi



5.) Hangi kelime 4 hecelidir?

- A. pazartesi B. perşembe
C. çarşamba



10.) Aşağıdaki kelimelerden hangisinde 5 harf vardır?

- A. futbol B. market C. sekiz

Gizem, gece geç yattığı için sabah uyuyup kalmıştı. Uyandığında saat çok geç olmuştu. Hızla giyinip kahvaltı bile yapmadan okula gitti. Okula vardığında ders çoktan başlamıştı. Kapıyı çalıp içeri girdi, öğretmenden geç kaldığı için özür diledi.

(İlk dört soruyu metne göre cevaplayınız.)

1.) Gizem okula neden geç kalmış?

- A. servisi kaçırmış. B. uyuyup kalmış
C. okulu unutmuş

2.) Gizem neden kahvaltı yapmamış?

- A. karnı acıkmamış B. yiyecek yokmuş
C. kahvaltı yapacak zaman yokmuş

3.) Gizem kimden özür dilemiş?

- A. öğretmenden B. arkadaşından
C. annesinden

4.) Gizem için hangisi söylenebilir?

- A. uykucudur B. zekidir
C. akıllıdır

5.) Aşağıdaki kelimelerden hangisi tekil isimdir?

- A. kuşlar B. taş C. evler

6.) Gece geç yattığım için



.....

Yukarıdaki cümlenin devamı aşağıdakilerden hangisi olabilir?

- A. sabah erken kalktım.
B. sabah geç uyandım.
C. sabah erkenden okula gittim.

7.) "soğuk" kelimesinin zıt anlamlısı hangisidir?



- A. sıcak B. ılık C. buz

8.) "Ahmet okulda yere düştü."



Yukarıda cümlede, hangi sorunun cevabı yoktur?

- A. ne zaman? B. kim? C. nerede?

9.) "Akşam bize Ankara'dan halam gelecek."




Erol'un cümlesinde kaç kelime vardır?

- A. 6 B. 4 C. 5


10.) Hangi kelime, 6 harf, 3 heceden oluşmaktadır?



- A. araba B. misket C. hazine

11.  Hangi cümlenin sonuna yanlış noktalama işareti konmuştur?

- A. Yeşim akşam bize gelir misin?
B. Ali kaç tane kalemin var?
C. Benim hiç bisikletim olmadı?


12.)  Sabah yine okula geç kaldı()

Yukarıdaki cümlenin sonuna hangi noktalama işareti konmalıdır?


- A. (!) B. (?) C. (.)

13.)  Aşağıdaki kelimelerden hangisi yanlış yazılmıştır?


- A. spor B. tren C. plav

14.)  Aşağıdaki kelimelerden hangisi hecelere doğru ayrılmıştır?


- A. i - kin - ci B. bir - in - ci
C. son- un - cu

15.)  Aşağıdaki cümlelerin hangisinde özel isim yoktur?


- A. Yarın hep beraber pikniğe gidelim.
B. Bize Bursa'dan misafir geldi.
C. Kedim Tekir, çok yaramaz.

16.)  Hangisinde "sarışın" kelimesi hecelerine doğru ayrılmıştır?

- A. sarı-şın B. sar - ı - şın
C. sa - rı - şın

17.)  Hangi kelime, 3 sesli ve 2 sessiz harften oluşmuştur?

- A. daire B. kalın C. sakar

18.)  Harun akşam çok yemek yedi.


Yukarıdaki cümlede, hangi sorunun cevabı yoktur?

- A. Ne? B. Neden? C. Ne zaman

19.) " içti - sıcak - Nil - çorba "

Yukarıdaki kelimelerden nasıl bir anlamlı ve kurallı cümle oluşur?

- A. Nil çorba sıcak içti.
B. Nil sıcak çorba içti.
C. Sıcak çorba içti Nil.

20.)  Aşağıdaki cümlelerin hangisinde çoğul bir kelime vardır?

- A. Bahçede birçok kedi gördüm.
B. Eren yoldaki taşları topladı.
C. Nesrin kuşu yuvasına koydu.

Aydın, okul çıkışı eve dönerken bir kedi gördü. Kedinin ayağı yaralıydı. Aydın, buna çok üzüldü. Kedi alıp annesi ile beraber veterinere götürdü. Veteriner, kedinin ayağını muayene etti. Kedi bir süre sonra sağlığına kavuştu.

(İlk dört soruyu metne göre cevaplayınız.)

1.) Aydın okul çıkışı ne görmüş?

A. köpek B. kuş C. kedi A.

2.) Aydın neden çok üzülmüş?


A. Çok sevdiği kedisini kaybetmiş.
B. Sınavdan çok düşük not almış.
C. Gördüğü kedi yaralıymış.

3.) Aydın kediye nereye götürmüş?


A. doktora B. veterinere
C. hastaneye

4.) Aydın kediye, veterinere kiminle götürmüş?

A. annesi ile B. babası ile
C. öğretmeni ile


5.)  Aşağıdaki kelimelerden hangisi özel isim **değildir**?

A. Vatan B. Şeyma C. Rize


6.)  Yarın akşam bize misafir

Yukarıdaki cümlenin devamı aşağıdakilerden hangisi olabilir?


A. geldi. B. gelmiş C. gelecek

7.)  Hangi görselin yazılışında daha fazla harf vardır?

A.  B.  C. 


8.)  Aşağıdaki tümcelerin hangisinin hece sayısı daha fazladır?

A. Derslerini yapınca yatabilirsin.
B. Akşama kadar sokakta oynadı.
C. Çok fazla televizyon izlemeyin.

9.)  Sabah erken kalktığı için hemen acıktı.

Eren'in cümlesinde hangi sorunun cevabı yoktur?

A. neden? B. nasıl? C. ne zaman?

10.)  Aşağıdaki sözcüklerden hangisi doğru yazılmıştır?

A. elektirik B. öğretmen C. kağıt



11.) Aşağıdaki cümlelerin hangisinde çoğul bir kelime vardır?

- A. Ağacın yaprakları yere dökülmüş.
B. Okulda birçok çocuk hastalanmış.
C. Arabanın arka tekerliği patladı.



12.) Aynur dün nereye gittin ()

Yukarıdaki cümlenin sonuna hangi noktalama işareti konmalıdır?

- A. (!) B. (?) C. (.)



13.) Aşağıdaki kelimelerden hangisi 4 hece, 6 harftir?

- A. gazete B. ailece C. terlik



14.) Aşağıdaki kelimelerden hangisi hecelere doğru ayrılmıştır?

- A. kar - an - lık B. der - in - lik
C. ku - rak - lık




15.) Hangi cümlede noktalama işareti yanlış konmuştur?

- A. Arkadaşımın kalemi kaybolmuş.
B. Babam bana oyuncak aldı.
C. Ayşe buraya kadar mı okudun.

16.) " bitirdi - hepsini - yemeğin - Ece "

Yukarıdaki kelimelerden kurallı bir cümle olması için nasıl sıralanmalıdır?

- A. Ece hepsini yemeğin bitirdi.
B. Ece bitirdi yemeğin hepsini.
C. Ece yemeğin hepsini bitirdi.



17.) Hangi kelime, 2 sesli ve 3 sessiz harften oluşmuştur?

- A. kalem B. erime C. ailem



18.) " eski " kelimesinin zıt anlamlısı nedir çocuklar ?

- A. yeni B. ucuz C. pahalı



19.) Aşağıdaki cümlelerin hangisinde neden sonuç yoktur?

- A. Çok yemek yediği için karnı ağrıdı.
B. Terli terli su içtiği için hasta oldu.
C. Sevgi hiç durmadan ders çalıştı.

20.) m k r e e

Yukarıda verilen harflerden aşağıdaki sözcüklerden hangisi yazılamaz?

- A. Kerem B. Ekrem C. Ekran

Nazlı'nın en sevdiği yiyecekler yumurta, bal, peynir ve zeytindir. Her kahvaltıda mutlaka bunlardan yer. Nazlı sağlıklı ve dengeli beslenir. Bu nedenle de okulda çok başarılıdır. Başarılı olmak için iyi beslenmek de önemlidir.

(İlk dört soruyu metne göre cevaplayınız.)

1.) Hangisi Nazlı'nın sevdiği yiyecekler arasında yer almaz?

A. peynir B. bal C. reçel

2.) Nazlı için hangisi söylenemez?


A. Çalışkandır B. Başarılıdır.
C. Tembeldir.

3.) Metne göre, Nazlı neden başarılıdır?


A. Çok çalışmaktadır.
B. Bol kitap okumaktadır.
C. Sağlıklı ve dengeli beslenmektedir.

4.) Metinde geçen kişi kimdir?

A. Nazlı B. Nazan C. Nalan


5.)  Hangi kelimedede 4 harfli bir hece vardır?

A. Kaya B. Türkçe C. Büşra

6.)  Dün okula.....

Yukarıdaki cümlenin devamı aşağıdakilerden hangisi olamaz?

A. gittim. B. gitmiş C. gidecek

7.)  Aşağıdaki kelimelerden hangisi özel isim değildir?

A. Defter B. Yusuf C. İrem

8.) ?  Bugün geldim.


Eren, Emel'in sorusuna böyle cevap vermiştir. Buna göre, Emel hangi soruyu sormuştur?

A. Nereden geldin? B. Neden geldin?
C. Ne zaman geldin?


9.)  Akşam televizyonda film izledik.

Ece'nin cümlesinde hangi sorunun cevabı yoktur?


A. ne? B. nasıl? C. ne zaman?

10.)  Hangi sözcük tekil bir kelimedir?


A. masalar B. dişler C. gömlek

11.)  Hangi cümlelerin hece sayısı daha azdır?

- A. Tarık bayrağı duvara astı.
B. Yelda sınıfı güzelce süsledi.
C. Melike bayramda şarkı söyledi.


12.)  "zayıf" kelimesinin zıt anlamlısı nedir çocuklar ?

- A. kocaman B. iri C. şişman


13.)  Ayşe, sınıfta Aynur'dan bir kalem aldı.

Yukarıdaki cümlede kaç kelime vardır?

- A. 6 B. 7 C. 5

14.)  Aşağıdaki kelimelerden hangisi yanlış yazılmıştır?

- A. köfte B. hasta C. kirpit


15.)  Hangi cümlede noktalama işareti yanlış konmuştur?

- A. Okulun bahçesine kuş kondu.
B. Sınıfın silgisini hanginiz aldı.
C. Yemeğin tadına bir türlü bakamadı.


16.) "bütün - Sıla - çözdü - soruları"

Bu kelimeler, kurallı ve anlamlı bir cümle olması için nasıl sıralanmalıdır?


- A. Bütün soruları Sıla çözdü.
B. Sıla bütün soruları çözdü.
C. Çözdü bütün soruları Sıla.

17.)  Hangi kelime, 2 sesli ve 3 sessiz harften oluşmuştur?

- A. gece B. tarak C. avize

18.)  Aşağıdaki cümlelerin hangi -sinde neden sonuç yoktur?

- A. Hasta olduğu için okula gelemedi.
B. Çok uykusu geldiğinden erken yattı.
C. Akşama kadar sürekli uyudu.

19.)  Hangi kelime hecelerine yanlış ayrılmıştır?

- A. tu - run - cu B. be - kar - lık
C. bi - ber - on

20.)  Bizim sınıfın kapısı kırıldı()

Okan'ın cümlesinin sonuna hangi noktalama işareti gelmelidir?

- A.(.) B.(?) C.(!)

Hilal salı günü ödevini yapmamıştı. Bu yüzden çok utanıyordu. Canı okula gitmek istemiyordu. Annesine hasta olduğunu söyledi. Annesi onu okula göndermedi. Bu sefer vicdan azabı çekmeye başladı. Annesine her şeyi anlattı ve yalan söylediği için özür diledi.

(İlk dört soruyu metne göre cevaplayınız.)

1.) Metinde kim geçmektedir?

A. Hilal B. Halil C. Hira

2.) Hilal kimden özür dilemiş?

A. annesinden B. babasından
C. öğretmeninden

3.) Hilal neden okula gitmek istemiyormuş?

A. Hasta olduğu için
B. Ödevini yapmadığı için
C. Misafirlige gidecekleri için

4.) Hilal hangi gün ödevini yapmamış?

A. Cuma B. Çarşamba C. Salı

5.)



Hangi kelimedede sesli harf daha fazladır?

A. patlıcan B. daire C. ailece

6.)



Bu cümlenin sonuna nokta konur.

Bu cümlede altı çizili kelimenin yerine hangi kelime gelirse anlam bozulmaz?

A. kelime B. tümce C. yazı

7.)



Herkes derslerine çok iyi çalışsın.

Yukarıdaki cümlede, hangi sözcük çoğul isimdir?

A. herkes B. çalışsın C. derslerine

8.)



Akşam yemekte tavuk vardı.

Aslanın cümlesinde hangi sorunun cevabı yoktur?

A. ne? B. ne zaman? C. neden?

9.)



"büyük" kelimesinin zıt anlamlısı hangi cümlede kullanılmıştır?


A. Büyük bir kedi gördüm dün.
B. Bu ev bizim için çok küçük.
C. Akşam kocaman bir böcek gördüm.

10.)




Hangi kelime, hecelerine yanlış ayrılmıştır?

A. o - ku - lu - muz B. se - vi - lir - ken
C. ço - cuk - lu - ğum - uz

11.)  Aşağıdaki cümlelerin hangisinde özel isim yoktur?

- A. Akşam yemekte karnıbahar vardı.
B. Sınıfın en çalışkan öğrencisi Bahar'dı.
C. Karabaş, kulübesinde uyuyordu.

16.)  Aşağıdaki cümlelerin hangisinde neden sonuç yoktur?


- A. Çok koştuğu için hemen yoruldu.
B. Annesi ile beraber yemek yaptı.
C. Kalem olmadığı için yazı yazamadı.

12.)

na	la	ta	ha
----	----	----	----

Yukarıdaki hecelerden aşağıdaki kelimelerden hangisi oluşturulamaz?

- A. lahana B. tarhana C. hala

17.)  mevsim - en - yazdır - güzel


Bu kelimelerden anlamlı ve kurallı bir cümle yaparsak, sıralama nasıl olur?

- A. Yazdır en güzel mevsim.
B. Yaz en güzel mevsimdir.
C. En güzel mevsim yazdır.

13.)  Sorsan herkes iyidir herkes mutlu.


Yukarıdaki cümlede kaç hece vardır?

- A. 10 B. 12 C. 11

18.)  Dün akşam halam.....

Yukarıdaki cümlenin sonuna aşağıdakilerden hangisi gelemez?

- A. gelmiş B. geldi C. gelecek

14.)  Aşağıdaki kelimelerden hangisi doğru yazılmıştır?

- A. herkez B. kiprik C. plan


19.)  "geniş" kelimesinin zıt anlamlısı aşağıdakilerden hangisidir?

- A. ince B. kısa C. dar

15.)  Ne güzel şarkı söylüyordu()

Yukarıdaki cümlenin sonuna hangi noktalama işareti konmalıdır?

- A. (?) B. (.) C. (!)

20.)  Aşağıdaki kelimelerden hangisi 3 sesli, 2 sessiz harften oluşur?

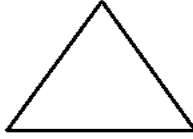
- A. aroma B. inanç C. kazak

MATEMATİK


Aşağıdaki geometrik şekillerin köşelerini mavi kalemle gösteriniz.



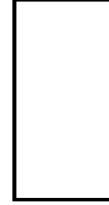
Aşağıdaki geometrik şekillerin kenarlarını kırmızı kalemle gösteriniz.



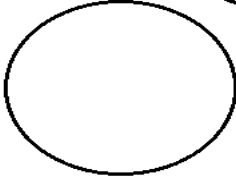
Verilen şekillerin köşe ve kenar sayılarını boşluklara yazınız.



Kenar Sayısı:.....
Köşe Sayısı:.....



Kenar Sayısı:.....
Köşe Sayısı:.....

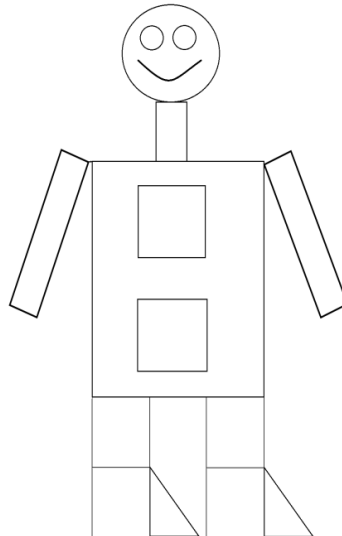
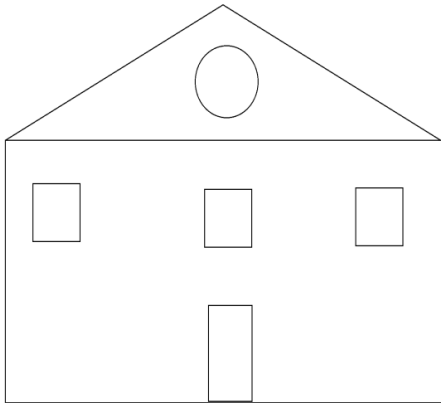


Kenar Sayısı:.....
Köşe Sayısı:.....



Kenar Sayısı:.....
Köşe Sayısı:.....

Aşağıdaki verilen şekillerde hangi geometrik şeklin kaç tane bulunduğunu yazınız.



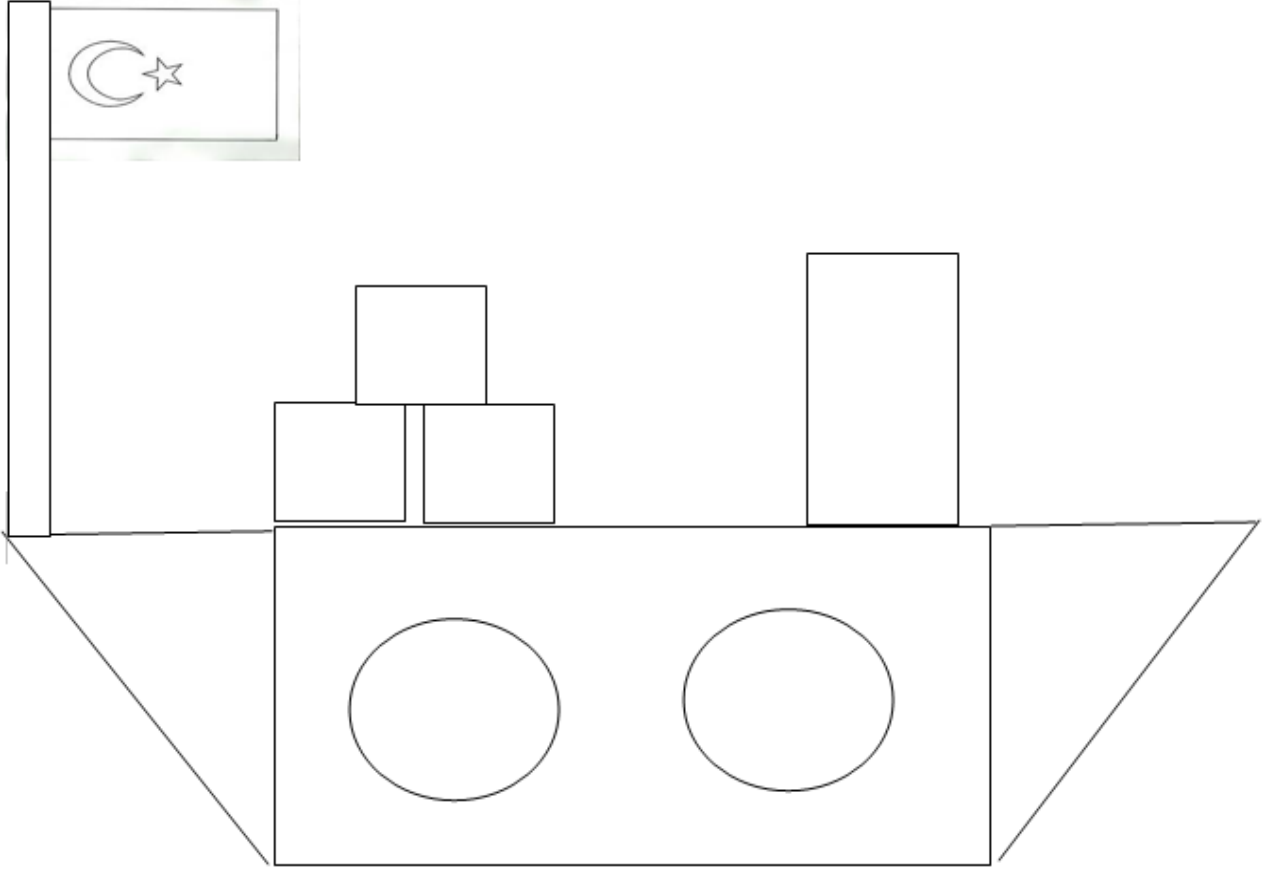
Kare :

Çember:

Üçgen:

Dikdörtgen:

Geometrik Şekiller Boyama Sayfası

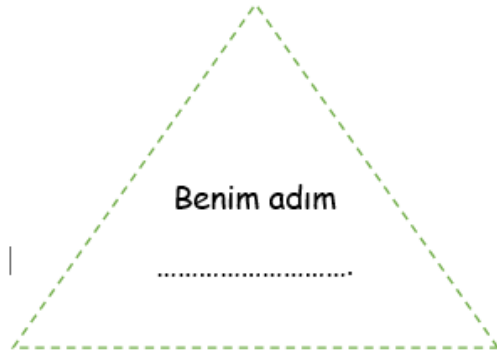


Bayrak---bayrağımızın rengine
dikdörtgen----mor Çember---sarı Üçgen--- pembe
Kare---yeşil

• Aşağıdaki boşlukları uygun ifadelerle doldurunuz.

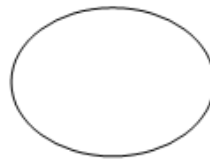

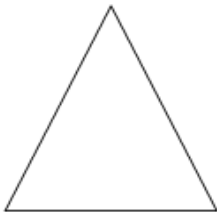
- Karenin köşesi ve kenarı vardır.
- Çemberin köşesi ve kenarı
- Üç köşesi ve üç kenarı olan şekle denir.
- İki uzun, iki kısa kenarı olan ve karşılıklı kenarları eşit olan geometrik şekil
- Üçgenin köşesi vardır.
- köşesi ve kenarı yoktur.

❖ Aşağıdaki noktaların üzerinden geçelim ve isimlerini yazalım. Sonra istediğimiz renklere boyayalım.



❖ Aşağıda verilen ifadeleri şekillerle eşleştiriniz.

Hiç köşem yok.	İki uzun İki kısa Kenarım var.	Üç köşem Üç kenarım var.	Dört köşem var. Bütün kenarlarımın uzunluğu eşittir.
----------------	---	--------------------------------	--

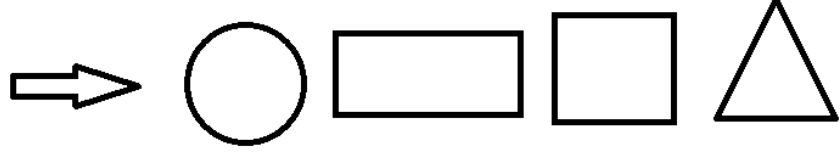


MATEMATİK

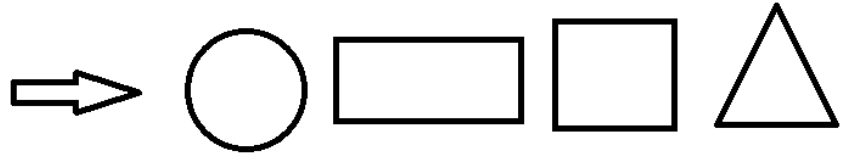
Yan tarafta verilen nesnelerin yüzleri kullanılarak çizebileceğimiz şekilleri boyayınız.



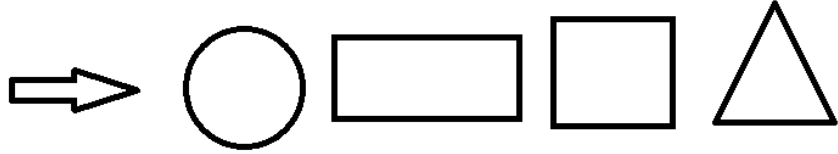
Hediye Kutusu



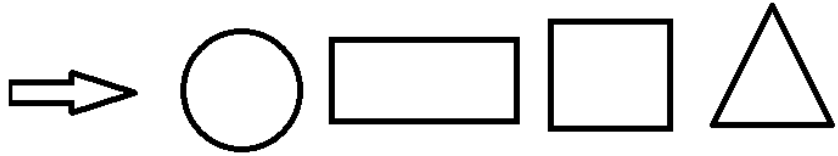
Varil



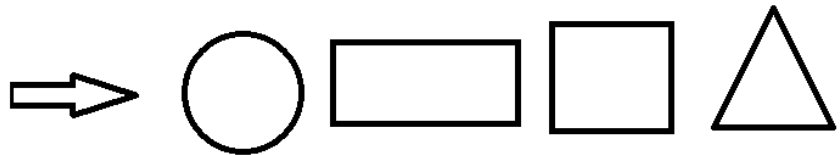
Masa



Karton Kutu





Şapka



MATEMATİK

Aşağıda verilen cisimleri kutuların üzerinde yazılı olan özelliklere göre uygun olan kutulara taşıyınız. (Sadece cismin numarasını kutulara yazınız.)



Köşesi Olmayanlar

Köşesi Olanlar

Yuvarlanabilenler

MATEMATİK

Örüntüler



Örüntünün kuralı: 2 sarı kare, 2 kırmızı kare



Örüntünün kuralı: 1 mavi dikdörtgen, 1 sarı dikdörtgen, 1 kırmızı dikdörtgen



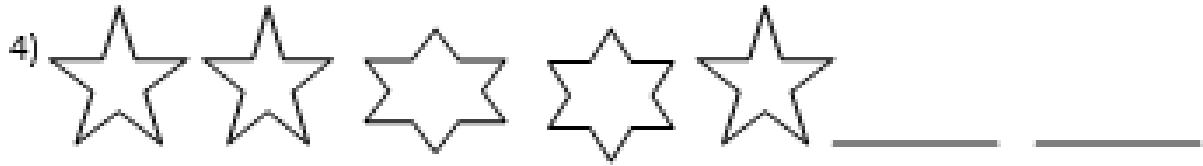
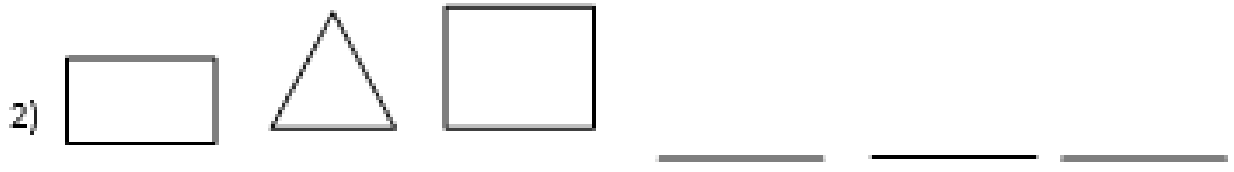
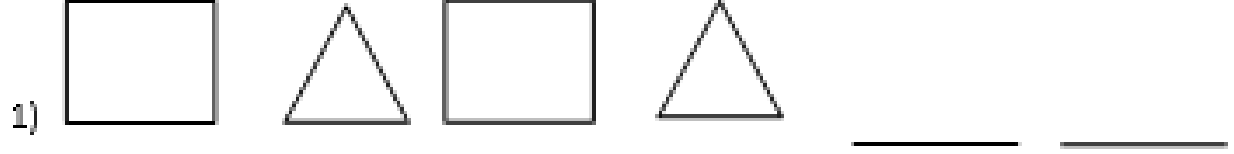
Örüntünün kuralı: 3 mavi üçgen, 3 sarı üçgen



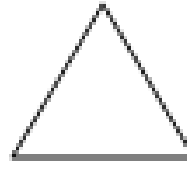
Örüntünün kuralı: 2 mavi daire, 2 sarı daire, 2 yeşil daire

MATEMATİK

Aşağıdaki örneklere göre boşlukları tamamlayınız.



Aşağıdaki geometrik şekillerin isimlerini altlarındaki noktalı yere yazınız.

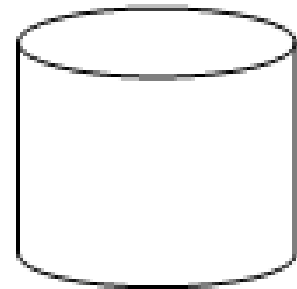

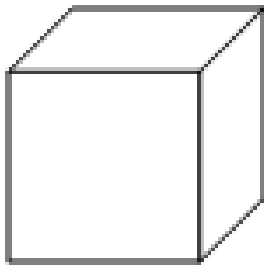


.....

.....

.....

.....



.....

.....

.....

