

4. SINIF



13. Hafta Fasikülü
2020-2021 Eğitim-Öğretim Yılı

EVDE EĞİTİM E-FASİKÜL' DE



YERKÖY ARGE

Yerköy İlçe Milli Eğitim Müdürlüğü'nün uzaktan eğitim sürecinde öğrencilerimiz için hazırladığı destek hizmetidir.



Yerköy İlçe Millî Eğitim Müdürlüğü

Mehmet DURMAZ
İlçe Milli Eğitim Müdürü

Meliha ÖZDEN
Necmettin SAGLAM
Şube Müdürleri

M.Suat ATİLA
Koordinatör ve Grafik Tasarım

Hazırlayanlar

Esra BARDAK	Şht. Mehmet Tez And. Lisesi
Cavidan KURU	Şht. Kamil Çelikkaya İlkokulu
Zeliha KILINÇ	Sekili Şht.Osman Pekşen İlkokulu
Duygu ULUCAN	TOKİ Şht. Ali Salmanlı İlkokulu
Cihan BARDAK	Atatürk İlkokulu
Özgür ŞİRİN	İbrahim Karaoğlanoğlu İlkokulu
Tolga ÖZÇELİK	İbrahim Karaoğlanoğlu İlkokulu



TÜRKÇE

HENTBOL

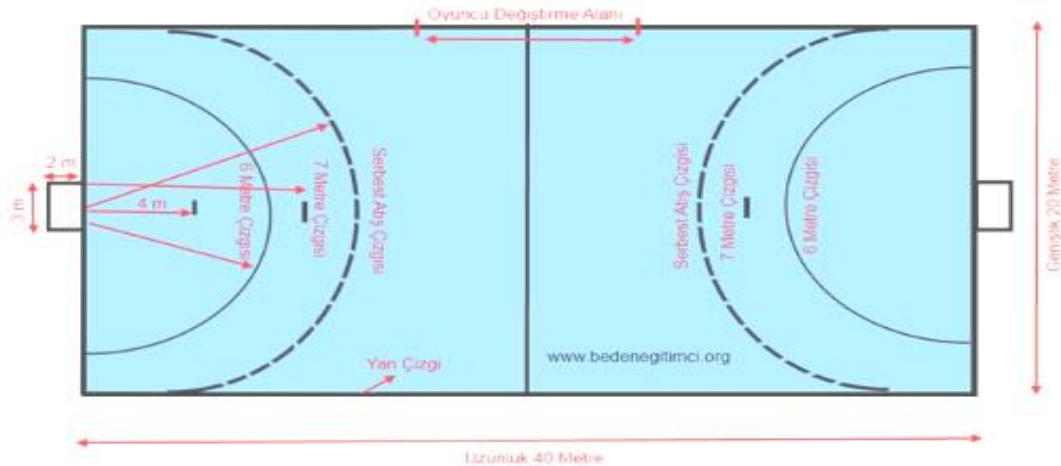
Tarihte hentbola benzer oyunlar hep oynanmıştır. Antik çağda Atina'da ve Milattan önce Roma'da çeşitli kaynaklarda hentbola benzer oyunlardan bahsedilmektedir.

Bugünkü oyunun temellerini Danimarkalı Beden Eğitimi Öğretmeni Holger Nielsen 1848 yılında kural ve yöntemlerini yazarak atmıştır. Oyunun bugünkü adını koymuş öğrencilerine oynatmıştır. İlk zamanlar 11'er kişi ile açık alanlarda oynanan hentbol zamanla salon sporu haline gelmiştir. Bu spor branşı Alman Yüksek Beden Eğitimi Okulu sayesinde tüm dünyaya yayılmış ve 1972 yılında olimpik bir spor haline gelmiştir. Günümüzde İsveç, Danimarka, Almanya, Norveç, İspanya ve Fransa gibi Avrupa ülkeleri bu sporun favori ülkeleridir. Afrika'da futboldan sonra en yaygın spor dalıdır.

Hentbol öncelikle bir takım sporudur. Erkeklerde 30'ar, bayanlarda 25'er dakikalık iki devre halinde oynanır. Amaç rakip kaleye gol atmaktır.

Takımlar müsabakalara 10 saha oyuncusu ve 2 kaleci olmak üzere 12 kişilik kadroları ile çıkarlar. Sahada 6 oyuncu, bir kaleci yer alır. Oyun süresince istenildiği kadar oyuncu değiştirilebilir.

Oyun iki hakemle yönetilir. Top oyuncular tarafından sadece elle oynanır ancak kaleci için böyle bir sınırlama yoktur. Hentbolcu topu elinde en fazla üç saniye tutabilir ve topla birlikte üç adım atabilir. Defans yapan takım rakibini ceza alanına yaklaştırmamaya çalışırken savunma sırasında rakip oyunculara belli ölçüde temas halinde bulunulabilir. Ancak sert faul yapıldığında hakem oyuncuya iki dakika cezası verebilir ve yerine o süre de başka bir oyuncu giremez



TÜRKÇE

A) Aşağıdaki Soruları Cevaplayınız

1. Geçmişte hentbole benzer oyunlar nerelerde oynanmıştır ?

.....

2. Bugünkü hentbolun temellerini kim atmıştır ?

.....

3. Hentbol ilk zamanlar nasıl oynanmıştır?

.....

4. Hentbol ne zaman olimpik bir spor haline gelmiştir ?

.....

5. Hangi ülkeler hentbolde favoridirler ?

.....

6. Hentbol maçında her devre kaç dakikadır ?

.....

7. Hakem neden iki dakika cezası verebilir?

.....

8. Dördüncü paragrafta ne anlatılmaktadır ?

.....

9. Metnin türü nedir ?

.....

10. Metnin konusu nedir ?

.....

11. Metne yeni başlık bulunuz.

.....

B) Aşağıdaki cümlelerde yer alan boşlukları metne göre doldurunuz.

Oyunhakemle yönetilir. Top oyuncular tarafından elle oynanırkaleci için böyle bir sınırlama yoktur. Hentbolcu topu elinde en fazla üç tutabilir ve topla birlikte üçatabilir.Defans yapan takım savunma sırasındaoyunculara belli ölçüde temas halinde bulunulabilir sert faul yapıldığında hakem oyuncuya iki.....cezası verebilir. Oiçinde yerine başka bir oyuncu giremez.

TÜRKÇE

C) Aşağıda metin ile ilgili verilen cümlelerin başına doğru ise (D), yanlış ise (Y) harfi koyunuz.

- (.....) Tarihte hentbole benzer oyunlar hep oynanmıştır.
(.....) İlk zamanlar 11'er kişi ile açık alanlarda oynanan hentbol zamanla salon sporu haline gelmiştir.
(.....) Hentbolde her takım sahada kaleci dahil 7 oyuncu ile yer alır.
(.....) Top tüm oyuncular tarafından sadece elle oynanabilir.
(.....) Sert faul yapıldığında hakem oyuncuya iki dakika cezası verebilir.

D) Aşağıda verilen kelimelerin (anlamdaş) eş anlamlarını yazınız

benzer		süre	
yöntem		yönetim	
favori		alan	
branş		savunma	
müsabaka		sadece	

E) Aşağıda verilen kelimelerin (karşıt) zıt anlamlarını yazınız

benzer		çıkılmak	
önce		tutmak	
rakip		ceza	
sert		açık	
defans		mağlup	

F) Aşağıdaki deyimleri açıklamalarıyla eşleştiriniz.

1-	Başa kakmak		Evlendirmek.
2-	Baş edememek		Sıkıntılı, çaresiz duruma düşmek.
3-	Başgöz etmek		Birinin kötülüğü için belli etmeden plân yapmak.
4-	Başiboş bırakmak		Yapılan bir iyiliği sürekli anlatıp hatırlatıp karşıdakini üzme.
5-	Başı dara düşmek		Kimseden izin almadan bildiğini yapmak.
6-	Başı göğe ermek		Değer verip saygı göstermek.
7-	Başına çorap örmek		Bir kişiyi yola getirememek, başarmaya gücü
8-	Başına karalar ağlamak		Kederlenmek, yas tutmak, üzülme.
9-	Baş tacı etmek		Layık olmadığı bir şeyi elde ettiğinde böbürlenme.
10-	Başına buyruk olmak		Bir şeyi denetimsiz kendi haline bırakma.

TÜRKÇE

YAZIM KURALLARI

Büyük Harflerin Kullanımı

* * Cümlelerin başındaki sözcüğün ilk harfi büyük yazılır:

Maçı sonuna kadar izledim.

Buraların havası güzeldir.

* * Dize başlarındaki sözcükler büyük harfle başlar:

"Bu ne acayip bilmece,
Ne gündüz biter ne gece,
Kime söyleriz derdimizi,
Ne hekim anlar ne hoca."

* * Bütün özel adlar büyük harfle başlar:

Hakan, Oya...

Çince, Almanca...

Türk Tarih Kurumu, Türk Hava Yolları...

* * Sanlar veya unvanlar özel adla kullanılırsa büyük harfle başlar:

Vali Ahmet Bey geldi.

Yarın Yüzbaşı Serhat gidecek.

* * Mektuplarda hitap sözleri büyük harfle başlar:

Kıymetli Arkadaşım,

Değerli Kardeşim,

"de"lerin Yazımı

Dilimizde iki ayrı "de" vardır:

Hâl eki "-de": Ek olan -de, kendinden önceki sözcüğe bitişik yazılır; ünlü uyumuna ve ünsüz benzeşmesine bağlı olarak "-de, -da, -te, -ta" biçimi vardır.

Örnek: *Evde kimse yok. *Bu kitapta her şeyi bulursun.

Bağlaç olan "de": Bağlaç olan "de" kendinden önceki sözcükten ayrı yazılır.

Örnek: *Mehmet de bizimle gelecek. *Gelirken elma da aldım.

"ki"lerin Yazımı

* * "-de" hâl eki almış sözcüklere eklenerek yer bildiren sıfatlar türeten "-ki" eki eklendiği sözcüğe bitişik yazılır.

Örnek: *Kolundaki yara iyileşti. *Elindeki tüm parayı harcadı.

* * Bağlaç olan "ki" ise ayrı bir sözcüktür ve kendinden önceki sözcükten ayrı yazılır.

Cümleleri ya da öğeleri bağlamak için kullanılır.

Örnek: *Beni dinlemedi ki anlasın. *O ki sınıfın en çalışkanıdır, sınavdan zayıf almış.

Uyarı: "Sanki, halbuki, oysaki, mademki" sözcüklerindeki "ki"ler kalıplaşmıştır, bitişik yazılır.

TÜRKÇE

"mi" Soru Ekinin Yazımı

* * "mi" soru eki cümleye soru anlamı katsın veya katmasın her zaman ayrı yazılır.

Örnek: *Okudu mu anlar. *Film bitti mi çıkacağız.

Sayıların Yazımı

* * Sayılar hem rakamla hem de yazıyla yazılabilir. Edebî yazılarda sayılar yazıyla ve her sözcüğü ayrı yazılır.

Tatile on üç gün kaldı.

**Banka işlemlerinde sayılar bitişik yazılır:

Hesapta beşmilyondört yüz lira var.

* * Saatler, istatistik verileri ve bilimsel araştırma sonuçları rakamla yazılır:

Örnek: *Toplantı 20.40'ta başladı. *Karışıma bu maddeden 8 gram ekleyeceksin.

Ay ve Gün Adlarının Yazımı

* * Ay ve gün adları bir tarihle kullanıldığında büyük harfle başlar, diğer durumlarda küçük harfle yazılır.

Müzik kursları 16 Ekim'de başladı

Okullar eylülde açılır, haziranda kapanır.

Kısaca: Rakam varsa ay ve gün adları büyük rakam yoksa küçük yazılır.

Birleşik Sözcüklerin Yazımı

Dilimizde birleşik sözcüklerin bitişik yazılabilmesi için birleşik sözcüğü oluşturan sözcüklerin anlam değişikliğine uğraması gerekir.

İmambayıldı kaptıkaçtı

Sivrisinek görebilmek

Kısaltmaların Yazımı

Kısaltma, bir sözcüğün ilk harfiyle ya da birkaç harfle gösterilmesidir.

* * Birkaç sözcükten oluşan, kurum kuruluş durumundaki özel adların her sözcüğü bir harfle gösterilir.

TDK (Türk Dil Kurumu),

* * Kısaltmaların yazımında araya nokta konmaz: THY, DSİ, TSK...

* * Kısaltmalara ekler, son harfin okunuşuna göre eklenir:

DSİ'ne gittim, (yanlış)

DSİ'ye gittim, (doğru)

PTT'dan geliyor, (yanlış)

PTT'den geliyor, (doğru)

* * Tek sözcükten oluşan bazı özel adlar ilk harfi büyük yazılarak iki-üç harfle gösterilir;

kısaltmaların sonuna nokta konur:

İng. (ingilizce), Ank. (Ankara)

* * Tür adlarının kısaltması küçük harfle başlanarak gösterilir:

cad. (cadde), biy. (biyoloji)

TÜRKÇE

NOKTALAMA İŞARETLERİ VE YAZIM KURALLARI

Yazım yanlışlarını düzelterip uygun noktalama işaretlerini koyunuz.

1. muratla ev ödevini bu akşamı yapacaksınız
-
2. bize verilen yemek güzelmi güzeldi
-
3. okulda yaptıkların beğenilmedimi
-
4. parkta bende oyun oynayacağım
-
5. merak etme sende oynayacaksın
-
6. Şunu bilki her zaman yanıdayım
-
7. sen bu kitabı beğenmedinmi
-
- 8.şanlı urfadamı oturuyordu
-
9. Ayy Ayağıma bastınız
-
10. gitde gör gününü
-
11. of sus artık
-
12. sıranın üstünde neden oturuyorsunki
-
13. musta'fada gelsin pikniğe
-
14. dr Mehmet beyde bizimle gelecekmi
-
- 15.birde çantayı açtımkı cüzdanım çalınmış
-
16. burcu annesine şunu sordu()
-
- 17.atatürk diyorki
-
18. o kadar inatçiki hep dediğini yapıyor
-

19. her birimiz 5er kurabiye yedik
-
20. cumhuriyet bindokuzyüzyirmiüçte ilan edildi
-
21. kaleminide dolaba koydunmu
-
- 22.öyle hızlı gidiyorki kaza yapabilir
-
23. caddeden geçen arabayı gördünmü
-
24. babası oğluna şapkanı düşürecekisin deyip duruyordu
-
25. hasanın kardeşi ali annesini çok üzdü
-
26. bursaya gidecekmiyiz
-
27. yazıık Yine hastalanmış bebek
-
28. sen hiç kitap okumazmısın
-
29. sessiz oturki uslu sansınlar
-
30. sevgili arkadaşım Mehmet
-
31. en sevdiğin çiçek bumu
-
32. bu hafta Türkçe matematik İngilizce derslerinden yazılımız var
-
33. şair şiirinde şunu söylüyor
-
34. ingilizcede masa table()dir.
-
35. Oh,kurtuldum artık
-
36. arabasınıda satmış üstelik
-

TÜRKÇE

37. Ağzından çıkan ilk sözcük ()anne() oldu

-

38. İmdat() Yetişin() Kurtarın bizi()

-

39.Ali babasına Bende gidiyorum dedi

-

40. kapıyı açmadıki

-

41. seninde kalemin yoktu deęimli

-

42. okulda özlemde vardı

-

43. koşmaya başlamıştımkı yere düştüm

-

44.seninde buraya gelmeni istiyordu

-

45. kapıda parmağı sıkışmış

-

46.heyy Beni duymuyormusun

-

47. "İkinci gün" sözünü rakamla yazmak istersek, aşağıdakilerden hangisi doğru olur?

a- 2 gün b-2.gün c-2, gün d- 2-gün

48.Aşağıdaki cümlelerin hangisinde "de" yanlış yazılmıştır?

a-Bugün evde temizlik var.

b-Ablam, İzmir'de okuyor.

c-Bizim bahçedeki güldede tomurcuklar var.

d-Babam tatilde bizi Antalya'ya götürecekt.

49. "Onun sana ders olsun."

Cümlesinde boş bırakılan yere aşağıdakilerden hangisi gelmelidir?

a-başına gelen

b-başbaşa gelen

c-başını bekleyen

d-başını dinleyen

50. Aşağıdakilerden hangisi bir cümledir?

a-Sendeki bu tembelliğin sonu

b-Sakatlara karşı görevlerimiz

c-Çalışıyor ki, başarılı olsun

d-Bu sözlüğün faydası

51. "Yetişin, boğuluyorum" cümlesinin sonuna hangi noktalama işareti konulmalıdır?

a-Soru işareti(?)

b-Nokta(.)

c-Ünlem işareti(!)

d-Üç nokta(...)

52. "Eee, yeter artık" cümlesinin sonuna hangi noktalama işareti gelmelidir?

A-ünlem işareti (!)

B-nokta (.)

C-soru işareti(?)

D-virgül(,)

53. Sıra sayılarını yazarken "-inci,-ıncı,-üncü" gibi eklerin yerine hangi noktalama işareti yazılır?

A)Nokta

B)Virgül

C)Tırnak işareti

D)Noktalı virgül

54."() Bu adam için bir parça söylemeyi ne kadar isterdim () dedi ()" cümlesinde parantez içerisinde gösterilen yerlere sırasıyla hangi noktalama işaretleri konulmalıdır?

A) (-) (,) (.)

B) (-) (:) (.)

C) (-) (;) (!)

D) (-) (...) (.)

55-"Oh dünya varmış ()" cümlesinin sonuna hangi noktalama işareti konulmalıdır?

A) (!)

B) (:)

C) (.)

D) (?)

56-Aşağıdakilerden hangisi bir cümle değildir?

A)Gidiyor

B)Otur

C)Sil

D)Yaprak

TÜRKÇE

57-Aşağıdaki cümlelerin hangisinde (:) işareti yanlış kullanılmıştır?

- A) Karadeniz'e dökülen ırmaklarımız şunlardır:
B) Diller üçe ayrılır:
C) Türkçe ve resimden pekiyi aldım:
D) Üç nokta şuralarda kullanılır:

58 -Aşağıdakilerden hangisi bir cümle değildir?

- A) Bakar mısınız?
B) Okuldan yeni döndüm.
C) Bilgisayarla oyun
D) Gidersen ben de giderim.

59. *Büyük nine sordu()*

- () *Okuduğun ne, kızım()*
() *Bir roman.*
() *Neden bahsediyor()*
() *Hiç.*
Büyük nine tekrar daldı.

YAZIM VE NOKTALAMA

1. Aşağıdakilerden hangisi yanlış yazılmıştır?

- A) Kitabı B) Dudağı C) Ağızı D) Elmayı

2. " Bir yiğın kitab sahibi olmuştu."

Bu cümlede kaçınıcı kelime yanlış yazılmıştır?

- A) 1. B) 2. C) 3. D) 4.

3. Aşağıdaki kelimelerin hangisinde koyu yazılı kelimenin yazımı yanlıştır?

- A) Arkadaşı yarın Ayhan'ı okulda arıyacak.
B) Sizi, bilmeyerek kırdımsa özür dilerim
C) Size demek istediğinin yarısını bile diyemedi.
D) Şimdi **gelseymiş** çok iyi olacakmış.

4. Aşağıdaki cümlelerde koyu yazılmış kelimelerin hangisinde yazım yanlışı yoktur?

- A) Onun davranışlarını herkes **çocukca** buldu.
B) Bu mutfak **dolabı** eskimiş, değiştirmeliyiz.
C) Elde **avuçda** ne varsa hepsini harcadılar.
D) Bir süreden beri bu **Yurta** yerleşmişti.

5. "Bir alman askeri, makineli tüfekle ateş etti."

Yukarıdaki tümcede baştan kaçınıcı kelimenin ilk harfi büyük olmalıdır?

- A) 2 B) 3 C) 4 D) 5

6. Aşağıdaki sözcüklerden hangisinin ilk harfi her zaman büyük yazılır?

- A) Ülke B) Üniversite
C) Bakanlık D) Cemil

7. " gece ali, ankara'dan fransa'ya hareket etti." Yukarıdaki tümcede büyük harfle başlaması gereken kaç sözcük vardır?

- A) 2 B) 3 C) 4 D) 5

8. Aşağıdaki tümcelerin hangisinde büyük harflerin kullanımıyla ilgili bir yazım yanlışı vardır?

- A) Seçilmiş Hikâyeler Dergisi'nde eskiden güzel hikâyeler çıkardı.
B) Çocuklar Topaç'ı bir güzel yıkadılar.
C) Avukat Hasan Bey iyi bir savunma yaptı.
D) Ayşe hanım ve eşi birazdan gelecek.

9. Aşağıdakilerden hangisi kısaltmaya bir örnektir?

- A) bakın B) gön. der. en
C) TCDD D) P.T. Telefon

10. Aşağıdaki tümcelerin hangisinde ünlem (!) işareti gereklidir?

- A) Konu döndü dolaştı son olaylara geldi
B) Hem iş bulup çalışacağım hem de deniz kenarında olacağım
C) Hiç ses gelmeyince daha yüksekten bağırdı
D) Bu ne uyku be

TÜRKÇE

11. Aşağıdaki tümcelerın hangisinde noktalama yanlışlığı yoktur?

- A) İçeri baktı, sessizce içeri, girdi.
- B) Nihayet gelebildiniz.
- C) Bunu kim yaptı!
- D) Annem beni çok sever!

12. "Yaşlı kadın elini Arzunun omzuna koydu."

Bu tümcede hangi sözcükten sonra (') kullanılmalıdır?

- A) Arzunun
- B) Kadın
- C) Elini
- D) omzuna

13. "Okul binaları karanlık loş yerlerdi."

Cümlesinde kaçınıcı kelımeden sonra virgül (,) işareti konulmalıdır?

- A) 1.
- B) 2.
- C) 3.
- D) 4.

14. Aşağıdaki tümcelerın hangisinde yazım yanlışlığı yoktur?

- A) Ben de sizinle gelebilir mi yim?
- B) Lütfen beni dinler misiniz?
- C) Ne olduda sesiniz artık çıkmıyor?
- D) Ankaranın havası kışın çok kirli.

15. Aşağıdaki tümcelerın hangisinde imlâ yanlışlığı yoktur?

- A) Benim en iyi arkadaşım Doğandır.
- B) yarın size oturmaya geleceğiz.
- C) Başını koltuğun arkasına dayayıp uyudu.
- D) Biz geldik oda gelmiş olmalı.

16. Bir balıkçıdan şunu öğrendik

Son yıllara kadar balıkçılar kayıklarına boyama resimler yaparlarmış.

Bu paragrafta iki nokta (:) işareti baştan kaçınıcı kelımeden sonra konulmalıdır?

- A) 2.
- B) 4.
- C) 6.
- D) 8.

17. Ay adları; belli bir tarihi gösterdiklerinde büyük harfle, diğer durumlarda küçük harfle yazılır.

Aşağıdakilerden hangisinde bu kurala uyulmamıştır?

- A) Atatürk'ü 10 Kasım 1938'de kaybettik.
- B) Genel kurulumuz gelecek nisanda toplanacak.
- C) 19 Mayıs 1919'da Kurtuluş Savaşı başlamıştır.
- D) Nevşehir'e 2 aralık 1990'da geldik.

18. Okumayan insanın bize aktaracağı önemli bir görüşü düşüncesi ya da bilgisi olamaz.

Bu cümlede kaçınıcı kelımeden sonuna virgül işareti konulmalıdır?

- A) 4.
- B) 5.
- C) 6.
- D) 7.

19. "Dizdarbaşı(1)

- Ali Usta dükkânı arayacağız (2) dedi.
- Koca Ali cevap verdi:
- Niçin? "

Yukarıdaki parçada (1) ve (2) numaralı yerlere sırasıyla hangi işaretler konulmalıdır?

- A) (:) (.)
- B) (.) (.)
- C) (:) (:)
- D) (?) (:)

20. Hangi durumda büyük harf kullanılması gerekmez?

- A) Özel isimlerin başında
- B) Cümle başlarında
- C) Noktadan sonra
- D) Noktalı virgülden sonra

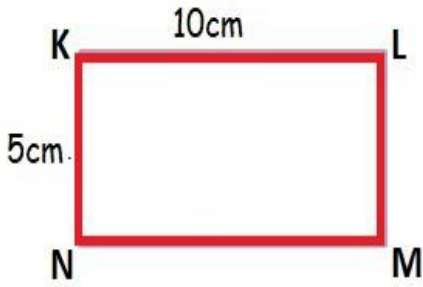
CEVAP ANAHTARI:1-C 2-C 3-A 4-B 5-A 6-D 7-C 8-D 9-C 10-D 11-B 12-A 13-C 14-C 15-C 16-B 17-D 18-D 19-A 20-D

MATEMATİK

Dikdörtgen ve Karenin Çevre Uzunluğu

Dikdörtgen : Karşılıklı kenar uzunlukları birbirine eşit olan, dört kenarı ve dört köşesi bulunan geometrik şekle dikdörtgen denir.

Dikdörtgenin aynı uzunlukta 2 uzun kenarı ve aynı uzunlukta 2 kısa kenarı vardır. Kısa kenara en, uzun kenara boy denir. Düzlemsel şekillerin çevre uzunluğu hesaplanırken o şekli çevreleyen bütün kenar uzunlukları toplanır.



Yanda verilen dikdörtgenin uzun kenarı 10 cm, kısa kenarı 5 cm 'dir. Buna göre dikdörtgenin çevre uzunluğunu hesaplayalım.

KL=NM= UZUN KENARLAR=10 cm

KN=LM= KISA KENARLAR=5 cm

Çevre uzunluğunu 3 yolla bulabiliriz.

1.yol

Dikdörtgenin çevresi = a + a + b + b

Bütün kenar uzunluklarını yazıp toplarız.

Kısa kenarlar: 5 cm

Uzun kenarlar: 10cm

Çevre = 10+10+5+5= 30 cm

2.yol

Dikdörtgenin çevresi = 2 x(a + b)

Bir uzun ve bir kısa kenar uzunluğu toplanır, iki ile çarpılır.

Çevre = 2 x (uzun kenar + kısa kenar)

Çevre = 2 x (10 + 5)

Çevre = 2 x 15 = 30 cm

3.yol

Dikdörtgenin çevresi = (2xa)+(2xb)

Bir uzun kenar iki ile çarpılır, bir kısa kenar iki ile çarpılır. Sonra çarpım sonuçları toplanır.

Çevre = (2x10)+(2x5)

Çevre = 20+10

Çevre = 30 cm

Dikdörtgenin çevresi = a + a + b + b

Dikdörtgenin çevresi = 2 x(a + b)

Dikdörtgenin çevresi = (2xa)+(2xb)

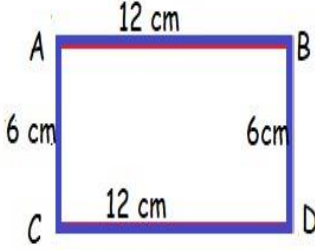
Örnekde görüldüğü gibi üç ayrı yol kullanılarak bulunur.

Dikdörtgenin Çevresi kısa kenar uzunluğu ile uzun kenar uzunluğunun yani eni ve boyunun iki katına eşittir. Çevre Uzunluğu " Ç" harfi ile gösterilir.

MATEMATİK

Kare: Bütün kenar uzunlukları birbirine eşit olan dörtgene kare denir.

Karenin çevresi: Bir kenarı a birim olan karenin çevresi $a+a+a+a \longrightarrow 4 \times a$ "dır.



1.yol

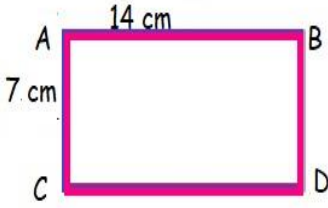
Bütün kenar uzunluklarını yazıp toplarız.

2.yol

Bir uzun ve bir kısa kenar uzunluğu toplanır, iki ile çarpılır.

3.yol

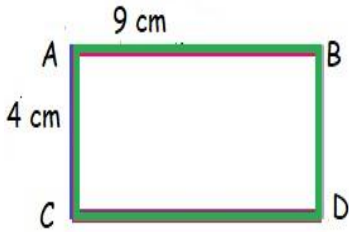
Bir uzun kenar iki ile çarpılır, bir kısa kenar iki ile çarpılır. Sonra çarpım sonuçları toplanır.



1.yol

2.yol

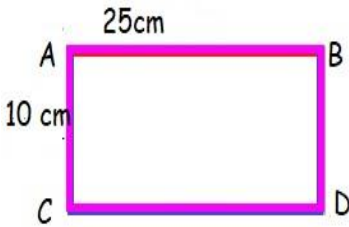
3.yol



1.yol

2.yol

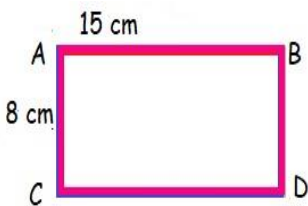
3.yol



1.yol

2.yol

3.yol



1.yol

2.yol

3.yol

MATEMATİK

PROBLEMLER-1

İşlem:

1- Kare şeklindeki bir mangala oyunu tahtasının bir kenarının uzunluğu 13 santimetredir. Buna göre mangala oyunu tahtasının çevresinin kaç santimetre olduğunu bulalım.

İşlem:

2- Sınıfımızdaki dikdörtgen şeklindeki akıllı tahtanın kısa kenarı 120 santimetre, uzun kenarı 280 santimetredir. Buna göre akıllı tahtanın çevresi kaç santimetredir?

İşlem:

3- Dikdörtgen şeklindeki kalem kutusunun çevresi 70 santimetredir. Kalem kutusunun uzun kenarı 22 santimetre olduğuna göre kısa kenarı kaç santimetredir?

İşlem:

4- Çevresi 108 m olan dikdörtgen şeklindeki bir basketbol sahasının uzun kenarı 40 metredir. Basketbol sahasının kısa kenarı kaç metredir?

İşlem:

5- Dikdörtgen şeklindeki bir koşu pistinin kısa kenarı 50 m, uzun kenarın ise kısa kenarın 3 katıdır. Pistin çevresinde 5 tur atan Mert kaç metre koşmuştur?

İşlem:

6- Bir karenin çevre uzunluğunun yarısı 28 cm'dir. Buna göre karenin bir kenarı kaç cm'dir?

MATEMATİK

ALİŞTIRMALAR- 1

- Karenin çevre uzunluğu


$$\text{Ç} = 4 \times \text{Bir kenar uzunluğu}$$



$$\text{Ç} = 9 \times 4 = 36 \text{ br}$$


- Dikdörtgenin çevre uzunluğu

$$\text{Ç} = (2 \times \text{uzun kenar}) + (2 \times \text{kısa kenar})$$



$$\begin{aligned} \text{Ç} &= (9 \times 2) + (6 \times 2) \\ 18 + 12 &= 30 \text{ br} \end{aligned}$$


1. Aşağıda verilen kare ve dikdörtgenlerin çevre uzunluklarını bularak yazın.




$$\text{Ç} = \dots\dots\dots$$



$$\text{Ç} = \dots\dots\dots$$



$$\text{Ç} = \dots\dots\dots$$




$$\text{Ç} = \dots\dots\dots$$

2. Aşağıda verilenlere göre istenilen kenarların uzunluklarını bulun.




$$\text{Çevre} = 24 \text{ br}$$




$$\text{Çevre} = 36 \text{ br}$$




$$\text{Çevre} = 48 \text{ br}$$



$$\text{Çevre} = 42 \text{ br}$$



$$\text{Çevre} = 64 \text{ br}$$



$$\text{Çevre} = 48 \text{ br}$$

MATEMATİK

ALIŞTIRMALAR- 2

Aşağıdaki kareli kâğıda, verilen özelliklere göre geometrik şekilleri çizerek çevrelerini hesaplayınız.

Bir kenarı 5 br olan kare

Çevresi=

Uzun kenarı = 5 br
Kısa kenarı = 3 br olan dikdörtgen

Çevresi=

Uzun kenarı = 8 br
Kısa kenarı = 4 br olan dikdörtgen

Çevresi=

Uzun kenarı = 7 br
Kısa kenarı = 5 br olan dikdörtgen

Çevresi=

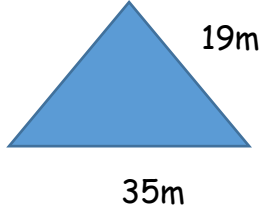
Bir kenarı 7 br olan kare

Çevresi=


Bir kenarı 4 br olan kare

Çevresi=

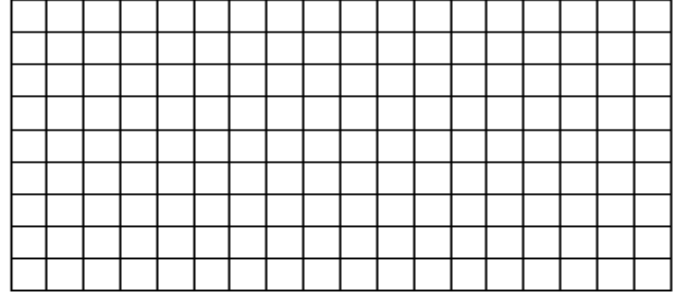
MATEMATİK



9) Yukarıdaki çeşit kenar üçgen şeklindeki bahçenin çevresi 78 m'dir. Bir kenar uzunluğu verilmeyen kenar uzunluğuna eşit olan kare şeklindeki bahçenin çevresi kaç m'dir ?



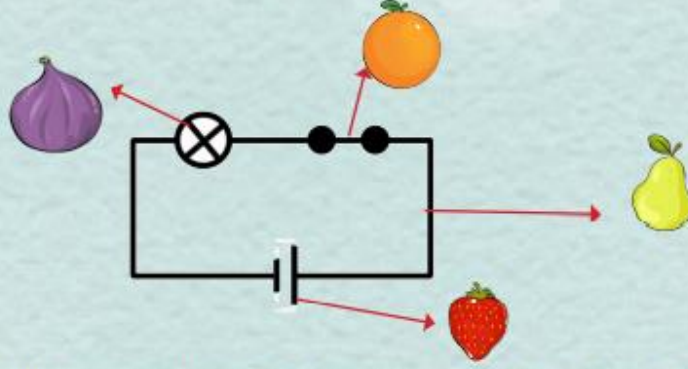
10) Bir spor sahasının çevresi 320 metredir. Sahanın çevresinde günde 3 tur koşan biri, bir haftada kaç metre koşmuş olur?



FEN BİLİMLERİ

HANGİ DEVRE ELEMANI?

Aşağıdaki elektrik devresinde devreyi oluşturan elemanlar sembollerle gösterilmiştir.



Buna göre sembollerin temsil ettiği elemanlarla ilgili ifadeler doğru ise D, yanlış ise Y harfi koyunuz. Yanlış ifadelerin doğrusunu noktalı yerlere yazınız

(🍊) Sembolü ile gösterilen eleman, devrelerin elektrik enerjisini karşılar.

.....

(🍏) Sembolü ile gösterilen eleman kopmuşsa devredeki ampul ışık vermez.

.....

(🍆) Sembolü ile gösterilen eleman, devrede elektriğin kontrol edilmesini sağlayan elemandır.

.....

(🍓) Sembolü ile gösterilen eleman, devrede elektrik akımının ilerlemesini sağlayan elemandır.

.....

(🍊) Sembolü ile gösterilen eleman bitmişse devredeki ampul ışık vermez.

.....

(🍏) Sembolü ile gösterilen eleman, elektrik enerjisini ışık enerjisine çevirir.

.....

(🍓) Sembolü ile gösterilen eleman kapalı iken devredeki ampul ışık verir.

.....

FEN BİLİMLERİ

DOLDUR BOŞLUKLARI

Aşağıdaki cümleleri verilen ifadelerden uygun olanları ile tamamlayınız.

duvarların

kapalı

duy

açık

atık pil

anahtar

ışık

elektrik

devre

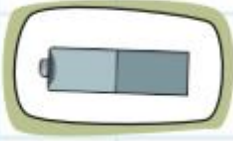
- Ampul, enerjisini ısı ve enerjisine dönüştürür.
- Devrelerde ampulün takıldığı yere denir.
- Televizyonun açma kapama düğmesi elemanıdır.
- Elektrik kabloları binalarda içinden geçer.
- Bir elektrik devresinde anahtar ise ampul ışık verir.
- Duvarlarda bulunan elektrik düğmeleri görevi yapar.
- Bitmiş piller kutusuna atılmalıdır.



FEN BİLİMLERİ

GÖREVLERİYLE EŞLEŞTİR

Aşağıda resmi verilen elektrik devresi elemanlarını görevleri ile çizerek eşleştiriniz



• Devre için gerekli enerjiyi sağlar.

• Devre elemanlarına elektrik enerjisini taşır.



• Ampulün takıldığı devre elemanıdır.

• Devrenin elektrik akımını kontrol eder.



• Biri (+) biri (-) olmak üzere iki kutuptan oluşur.



• Dış kısmında plastik kılıf bulunur.

• Anahtar kapalı iken ısı ve ışık verir.



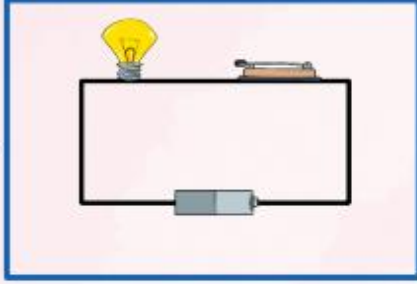
• Devrede ampulün yanması için kapalı olması gereken elemandır.

FEN BİLİMLERİ

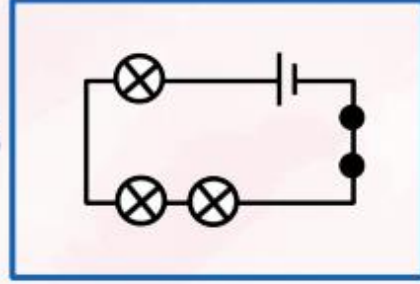
ŞİFREYİ BUL

Verilen elektrik devrelerinin sembollerle gösterilmiş hâleriyle eşleştiriniz.
Harfleri sırasıyla yazarak şifreyi bulunuz.

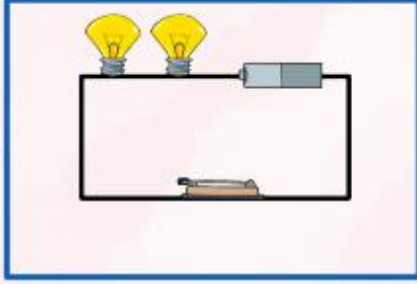
1.



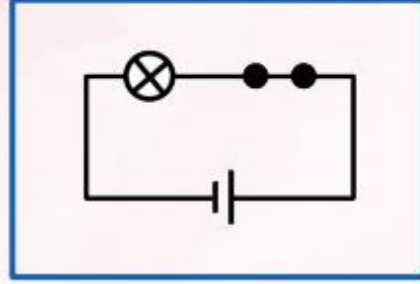
Z



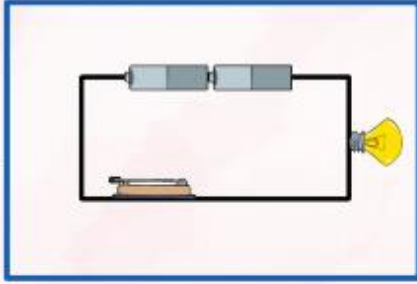
2.



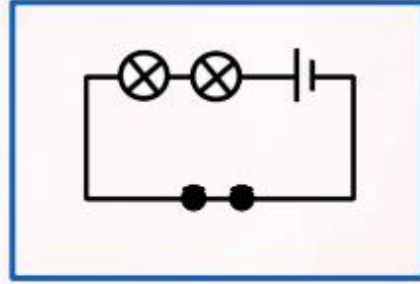
P



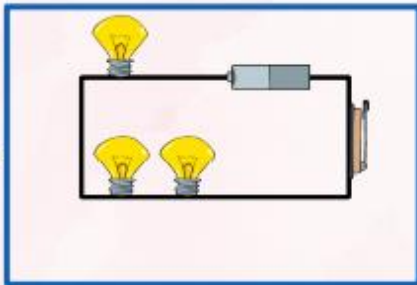
3.



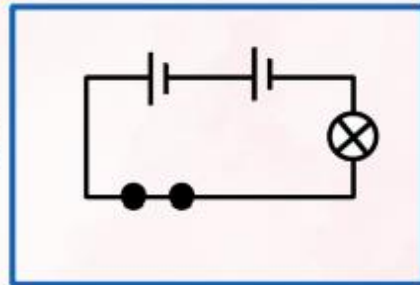
R



4.



İ

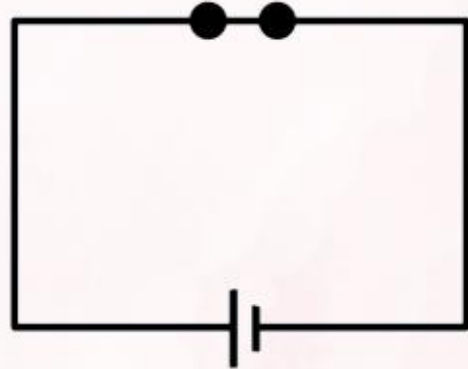
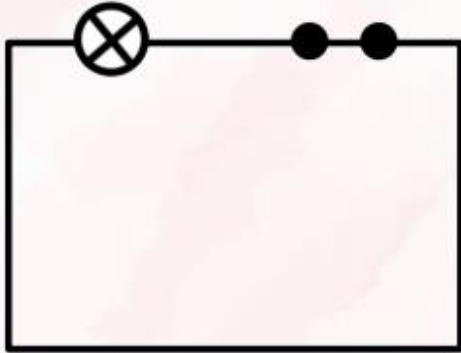
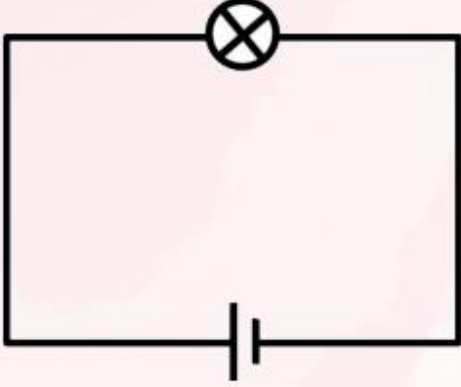


ŞİFRE:

FEN BİLİMLERİ

VERİLMİYENİ BUL

Aşağıdaki elektrik devrelerinde verilmeyen devre elemanını noktalı yerlere yazınız.



SOSYAL BİLGİLER

DEĞERLENDİRME

1. Aşağıdakilerden hangisinin kullanım alanı diğerlerinden farklıdır?

- A) Çamaşır makinesi B) Buzdolabı
C) Fırın D) Stetoskop

2. Buluş yapma sürecinde izlenecek aşamaların ilk basamağı aşağıdakilerden hangisi olmalıdır?

- A) Fikir üretmek B) İhtiyacı belirlemek
C) Tasarım yapmak D) Reklam yapmak

3. I. Cep telefonu
II. Görüntülü telefon
III. Mektup
IV. Telgraf

Verilen haberleşme araçlarının zaman içindeki gelişim sürecine göre sıralanışı aşağıdakilerden hangisidir?

- A) I, II, III, IV B) IV, I, III, II
C) III, IV, II, I D) III, IV, I, II

4. Geçmişte aylarca süren yolculukları günümüzde birkaç saate indiren teknolojik ürün aşağıdakilerden hangisidir?

- A) Bilgisayar B) Cep telefonu
C) Uçak D) Uydu

5. Aşağıdaki davranışlardan hangisi teknolojik ürünlerin yanlış kullanımına verilebilecek örneklerden biri olamaz?

- A) Süratli otomobil kullanmak
B) Televizyonu yakından izlemek
C) Uzun telefon görüşmeleri yapmak
D) Yerlere çöp atmak

6. I. Ampulün icadı II. Tekerleğin bulunuşu
III. Telefonun icadı IV. Matbaanın icadı

8) Yukarıda verilenlerden hangisi ulaşım araçlarının gelişmesinde etkili olmuştur?

- A) IV B) I C) II D) III

7. Aşağıdakilerden hangisi yön bulmak için kullanılan yöntemlerden değildir?

- A) GPS cihazı kullanmak
B) Bulutlara bakmak
C) Gölgeden yararlanmak
D) Kutup Yıldızı'na bakmak

8. Aşağıdaki varlıklardan hangisi beşeri unsurlardan biridir?

- A) Ağaç B) Dere C) Kale D) Kedi.

9. Aşağıdakilerden hangisi sel baskınlarını önlemeye yönelik uygulamalardan biridir?

- A) Sağlık hizmetlerini yaygınlaştırmak
B) Barajlar inşa etmek
C) Az katlı binalar yapmak
D) Enerji tasarrufu yapmak

10. Aşağıdakilerden hangisi teknolojik ürünlerin doğru kullanılmaması nedeniyle ortaya çıkabilecek sorunlar-dan değildir?

- A) Ses kirliliği B) Çevre kirliliği
C) Depremler D) Işık kirliliği

11. I. Mobilyaları duvara sabitlemek
II. Deprem çantası hazırlamak
III. Binaları sağlam zeminler üzerine yapmak

IV. Acil servisten yardım istemek

Yukarıdakilerden hangisi depremden korunmaya yönelik önlemlerden biri değildir?

- A) I B) II C) III D) IV

12. İnsanlar neden meslek sahibi olurlar?

- A) Zengin olmak için
B) Zevk için
C) Hoş vakit geçirmek için
D) İhtiyaç ve istekleri karşılamak için

13. Bilinçli bir tüketici aşağıdakilerden hangisini yapmaz?

- A) Alışveriş öncesi bir liste hazırlar.
B) En kaliteli ve ucuz ürünleri alır.
C) TSE belgesi olmayan ürünleri de alır.

SOSYAL BİLGİLER

14. Bir öğrenci aile bütçesine nasıl katkıda bulunur?

- A) Tutumlu davranarak
- B) Okuldan sonra bir işte çalışarak
- C) Pahalı eşyalar alarak
- D) Ticaret yaparak

15. "Deprem sırasında hangi hareketi yapmamız güvenliğimiz açısından doğru bir harekettir?

- A) Asansörü kullanarak hızla binayı terk etmeliyiz.
- B) Balkona çıkarak güvenli bir şekilde çökmeliyiz.
- C) Dolap, masa gibi eşyaların yanına çök-kapan-tutun şeklinde durmalıyız.
- D) Merdiven boşluklarında veya kapı altlarında depremin bitmesini beklemeliyiz.

"Hoşgörüde deniz gibi ol." (Mevlana)

16. Aşağıdaki davranışlardan hangisi Mevlana'nın sözüne uygun bir davranış **değildir**?

- A) Farklı futbol takımlarını tutan arkadaşların birbirlerini kızdırmaları
- B) Sınıfta söz alıp konuşan bir öğrencinin sözünün kesilmemesi
- C) Farklı düşüncelere sahip olan insanların ortak konularda buluşabilmesi
- D) Televizyondaki bir programı sevmememize rağmen çoğunluğun kararına uyarak izlememiz.

17. Aşağıdaki ihtiyaç ve meslek eşleştirmelerinden hangisi **yanlıştır** ?

- A. Eğitim - Öğretmen
- B. Beslenme - Mimar
- C. Güvenlik - Polis
- D. Sağlık - Doktor

18. Aşağıdaki ifadelerin hangisi **yanlıştır** ?

- A. Hayatın pek çok alanında teknolojiden yararlanıyoruz.
- B. Teknolojinin işlerimizi kolaylaştırdığı alanlardan birisi evlerimizdir.
- C. Elektrikli ev aletleri, işlerimizi hızlandırır ve kolaylaştırır.
- D. Teknolojik ürünlerin zararları faydalarından daha fazladır.

19. Aşağıdakilerden hangisi bütçenin ne olduğunu ifade eder ?

- A. Gelirle giderin dengelenmesi
- B. Zorunlu harcamaların belirlenmesi
- C. Gelirin ne kadar olduğunun belirlenmesi
- D. Giderin ne kadar olduğunun belirlenmesi

20. İnsanların geçmişten günümüze haberleşmek için kullandığı araçların **gelişim sırası** hangi seçenekte doğru verilmiştir?

- 1. Güvercin
- 2. İnternet
- 3. Duman
- 4. Mektup
- A. 1 - 2 - 3 - 4
- B. 2 - 4 - 3 - 1
- C. 3 - 4 - 2 - 1
- D. 3 - 1 - 4 - 2

21. Gereğinden çok Tv İzleyen bir çocukta,

- ①. Uykusuzluk görülmesi,
- ②. Beden gelişiminin olumsuz etkilenmesi,
- ③. Hayal gücünün azalması,
- ④. Arkadaşlarıyla olumlu ilişkiler kurması

durumlarından hangileri gözlenir?

- A) 2, 3 ve 4
- B) 1, 3 ve 4
- C) 1, 2 ve 3
- D) 2 ve 3

I. TSE damgası olup olmadığına bakmalıdır.

II. Reklamlarına bakmalıdır.

III. Ucuz ve kaliteli olmasına dikkat etmelidir.

IV. Tüketici derneklerinden yardım istemelidir.

V. Satış fişi veya faturasını almalıdır.

22. Bilinçli bir tüketici olan Fırat, yeni bir televizyon alırken yukarıdakilerden hangilerini yapmalıdır?

- A) I, II, IV
- B) I, III, V
- C) II, IV, V
- D) III, IV, V

SOSYAL BİLGİLER

23. 1- Üretim 2- Hammadde
3- Tüketim 4- Dağıtım

Yukarıda verilen olguların doğru sıralaması aşağıdakilerden hangisidir?

- A. 1-2-3-4 B. 1-2-4-3
C. 2-1-4-3 D. 4-3-2-1

- * Ağaçların üzerindeki yosunlardan
- * Güneş'in doğup battığı yönden
- * Ay'ın doğup battığı yönden
- * Kutup Yıldızı'ndan
- * Karınca yuvalarından
- * Pusuladan

24. Yön bulmada yukarıdakilerin kaç tanesinden yararlanırsınız?

- A) 6 B) 5 C) 4 D) 3

25. İletişim araçlarının geçmişten günümüze sıralanışı aşağıdakilerin hangisinde doğru verilmiştir?

- A) İnternet - televizyon - faks - telefon
B) Radyo - televizyon - faks - internet
C) Cep telefonu - telgraf - radyo - telefon
D) Televizyon - gramofon - cep telefonu - radyo

26. Teknolojik ürünlerle ilgili,

I. İnsanlar arasında ilişkileri güçlendirir.

II. Zamandan tasarruf sağlar.

III. Fazla güç harcamayı önler.

İfadelerinden hangileri doğrudur?

- A) I ve II B) I ve III
C) II ve III D) I, II ve III

- * Ham petrolden benzin elde edilmesi.
- * Zeytinden yağ çıkarılması.
- * Pamuktan iplik yapılması.

27. Yukarıdaki faaliyetler hangi kavramı açıklayan örneklerdir?

- A) Üretim B) Tüketim
C) Pazarlama D) Dağıtım

OKUL	LOKANTA		ÇİÇEK APARTMANI	BAKKAL
CUMHURİYET CADDESİ				
ÇİÇEKÇİ	ÇOCUK PARKI		HASTANE	

K
↑
↓
G

28. Krokiye göre aşağıdakilerden hangisi söylenemez?

- A) Çiçek Apartmanı, lokantanın batısındadır.
B) Okul, çiçekçinin kuzeyindedir.
C) Hastane, lokantanın güneydoğusundadır.
D) Bakkal, caddenin kuzeyindedir.

I. Üretimin daha kolay hâle gelmesi

II. Üretimde verimliliğin artması

III. Üretimde insan gücü ihtiyacının azalması

IV. Üretimde makine kullanımının azalması

V. Üretim süresinin uzaması

29. Yukarıdakilerden hangileri teknolojik gelişmelerin sonuçlarıdır?

- A) I, II ve III B) I, II ve IV
C) II, III ve IV D) III, IV ve V

I. İnsanların beğenmemeleri nedeniyle bazı mesleklerin yapılmaması

II. İnsanların ihtiyaçlarının değişmesi sonucu bazı mesleklere olan ihtiyacın artması

III. Teknolojik gelişmeler sonucu yeni iş kollarına ihtiyaç duyulması

IV. İnsanların bazı ihtiyaçlarını gidermekten vazgeçmeleri

30. Günümüzde yeni mesleklerin ortaya çıkmasında yukarıdakilerden hangileri etkili olmuştur?

- A) I ve II B) I ve III
C) II ve III D) III ve IV

I. Doğal unsurların yok edilmesi zararlara yol açar.

II. Ormanların kesilmesi, sel baskınlarına neden olur.

III. Bitki örtüsü yapay unsurdur.

IV. Doğal afetlerin insanlara zararı yoktur.

31. Yukarıdaki ifadelerinden hangileri doğrudur?

- A) I ve II B) II ve IV
C) I ve III D) III ve IV

SOSYAL BİLGİLER

32. Aşağıdakilerden hangisinde toplumda yaşanan **kültürel değişime** ait **olumsuz** bir örnekten söz edilmiştir?

- A) Her yıl haziran ayında geleneksel Kırkpınar güreşleri yapılır.
- B) Komşumuzun oğlunu davul zurnayla askere uğurladık.
- C) Evimize gelen misafirlere çay veya kahve ikram ederiz.
- D) İnsanlar bayramlarda akrabalarına değil, tatil için otellere gidiyor.

33. Ürünlerin üretim, dağıtım, tüketimleri ile ilgili, eşleştirmelerinden hangileri **doğrudur?**

- I. Tarlada buğday yetiştirmek ⇒ üretim
 - II. Marketten bisküvi almak ⇒ dağıtım
 - III. Yemekte ekmek yemek ⇒ tüketim
- A) I ve II B) I ve III
C) II ve III D) I, II ve III

34. Sınıf öğrencisi Selim'in **teknolojik ürünlerle** ilgili yaptığı anket sonuçları aşağıdadır.

- Anneannem ⇒ Tansiyon aleti
- Babam ⇒ Cep telefonu
- Annem ⇒ Bulaşık makinesi
- Kardeşim ⇒ Bilgisayar

Bu ankete göre aşağıdaki yorumlardan hangisi doğrudur?

- A) Herkes ihtiyacı olan teknolojik ürününü söylemiştir.
- B) Teknolojik ürünleri sadece büyükler kullanmıştır.
- C) Cep telefonu en önemli teknolojik buluştur.
- D) Teknolojik ürünler ailemizdeki hayatı zorlaştırmıştır.



35. Harita ve verilen sembollere göre aşağıdakilerden hangisi **söylenemez?**

- A) Kuzeybatıda sağanak yağış görülmektedir.
- B) Güney ve batıda hava güneşlidir.
- C) Kuzeyde yağmur görülmektedir.
- D) Kuzeydoğuda sis vardır.

KÜRESEL BAĞLANTILAR

1. Ülkemizden doğuya doğru tren yolculuğu yapan Çelik ailesinin ilk uğradığı ülke hangisidir?

- A) Amerika B) İtalya
- C) Almanya D) İran

2. 23 Nisan'da ülkemize gelen çocukların farklı renkte, farklı dilde olmalarının sebebi aşağıdakilerden hangisidir?

- A) Farklı bir ailede yetişmiş olmaları.
- B) Ülkelerinin farklı olması.
- C) Ülkemize daha önce gelmemiş olmaları.
- D) Gözümüze farklı görülmesi.

3. Ülkemiz topraklarının büyük bölümünün de yer aldığı ? işaretli kıta hangisidir?

- A) Brezilya B) Türkiye
- C) Asya D) Japonya



SOSYAL BİLGİLER

4. "Gözleri çekik, boyu kısa bir arkadaşım var. Babası karate sporunu çok iyi biliyor." Diyen Süleyman'ın arkadaşı aşağıdaki ülkelerden hangisinden gelmiş olabilir?

- A) Suriye
B) Çin
C) İngiltere
D) Nijerya

5. Aşağıdaki olaylardan hangisi tüm dünyada kutlanır?

- A) Kurban Bayramı
B) Cumhuriyet Bayramı
C) Yılbaşı
D) Ramazan Bayramı

6. Okulumuz ile bu yıl sonu tatilimizi piramitleriyle ünlü ülke olan da develer ile seyahat edip, Firavunların yaşadığı eski kalıntıları gezdik.

Cümlede boş bırakılan yere hangi ülke adı gelmelidir?

- A) Fransa
B) Mısır
C) Yunanistan
D) Almanya

7. Aşağıdakilerden hangisi diğer ülkelerde yaşayan çocuklar ile ortak olan yönlerimizden birisi değildir?


- A) Küçük yaşlarda oyuncaklarla oynamak.
B) Okula gitmek ve ders çalışmak
C) Bayramlarda büyüklerimizin ellerini öpmek
D) Futbol oynamak, ip atlamak

8. Aşağıdakilerden hangisi Türklerin misafirperverliğine uygun değildir?

- A) Ülkemize gelen yabancılara iyi davranmak.
B) Evimize gelen yabancılara karşı mutlu ve güler yüzlü olmak.
C) Çevremizde gördüğümüz turistlere yardımcı olmak.
D) Tatil yörelerindeki turistlere zorla hediyelik eşya satmak.

9. Ülkemizde bir sebzenin farklı şekillerde yemeklerinin yapılması kıyafetlerin her bölgede aynı olmaması aşağıdakilerden hangisi ile açıklanır?

- A) Yöresel ve kültürel farklılıklar.
B) Maddi durumun yetersiz olması
C) Cahillik ve fakirlik
D) Büyüklerin öğretmemiş olması



10. Yukarıdakilerin meşhur olduğu bölgede aşağıdakilerden hangisi bulunmamaktadır?

- A) Anıtkabir
B) Rize
C) Çay
D) Kemence

11. Sınıflarımızı süslediğimiz, en güzel şiirleri okuduğumuz, oyunlar oynayıp eğlencelerle kutladığımız özel gün aşağıdakilerden hangisidir?

- A) Kurban Bayramı
B) Yılbaşı
C) Ulusal Egemenlik ve Çocuk Bayramı
D) Zafer Bayramı

12. Aşağıdaki özel günlerden hangisi yalnızca ülkemize aittir?

- A) Anneler günü
B) Babalar günü
C) Yılbaşı
D) Cumhuriyet Bayramı

SOSYAL BİLGİLER



13. Yukarıdaki resimde aşağıdakilerden hangisi gösterilmiştir?

- A) Ürgüp Peribacaları
- B) Ankara Anıtkabir
- C) Efes Antik Kenti
- D) Nemrut Harabeleri

14. Aşağıdakilerden hangisi ülkemizde bulunan tarihi mekanlara örnek gösterilemez?

- A) Ayasofya Müzesi
- B) Sümela Manastırı
- C) Göreme Kiliseleri
- D) Firavun Piramitleri

15. "Portakal, limon bahçelerini gezdikten sonra, sıcacık kumsallarda yürüyüp denize girdim. Çevremde farklı dilleri konuşan insanlar vardı. Onlar da bizler gibi çocuklarının ellerinden tutmuş geziyor, eğleniyordu."

Ahmet'in günlüğündeki bu parça sizlere hangi bölgemizi hatırlatmaktadır?

- A) Karadeniz
- B) Doğu Anadolu
- C) İç Anadolu
- D) Akdeniz

16. I. Giydikleri kıyafetler

II. Kutladıkları bayramlar

III. Konuştukları diller

Toplumların karşılaştırılması yapılırken yukarıda verilenlerden hangilerine göre yapılır?

- A) I,II
- B) II,III
- C) I,III
- D) I,II,III

17. Aşağıdakilerden hangisi bizim diğer milletlerden farklılığımızı göstermez?

- A) Oynadığımız folklor oyunları
- B) Evlerimizin yapılış plânı
- C) Düğünlerimizin yapılış şekli
- D) Okullarımızın olması

18. Aşağıdakilerden hangisi kültürümüzün öğelerinden değildir?

- A) Fiziksel özelliklerimiz
- B) Türkülerimiz
- C) İnanç ve ibadetlerimiz
- D) Bayramlarımız

19. Türk toplumu, konuksever bir toplumdur. Evine gelen insanları en iyi şekilde ağırlar. Onlara sevgi ve saygı gösterir.

Yukarıda, Türk toplumunun hangi özelliğinden bahsedilmektedir?

- A) Dürüstlük
- B) Misafirperverlik
- C) Çalışkanlık
- D) Yardımseverlik

20. Kütüphanede kitapların sıralanışına ilişkin verilenlerden hangisi yanlıştır?

- A) Belli bir sistematığe göre sıralanır.
- B) Her kitaba bir katalog numarası verilir.
- C) Gelişi güzel raflara konur.
- D) Konularına göre sıralanır.

21. Aşağıdakilerden hangisi yanlış bilgidir?

A) Avustralya kıtasının bir diğer adı Okyanusya'dır.

B) Özel günler insanlar arası dayanışmayı güçlendirir.

C) Türkiye'nin dört tarafı denizlerle çevrilidir.

D) Almanya'nın başkenti Berlin'dir.

SOSYAL BİLGİLER

22. Aşağıdakilerden hangisi Nevruz Bayramı'nı kutlamaz?

- A) Türkiye B) Meksika
C) İran D) Azerbaycan

23. Aşağıdaki renklerden hangisi ,Olimpiyat halkalarındaki Afrika kıtasını temsil eder?

- A) Kırmızı B) Sarı
C) Yeşil D) Siyah

24. Aşağıdaki kıtalardan hangisinde devlet yoktur?

- A) Avustralya B) Antartika
C) Amerika D) Asya

25. Aşağıdaki ülkeler ve ünlü yerleri eşleştirilmiştir. Yanlış olan eşleştirme hangi seçenekte verilmiştir?

- A) Mısır- Eyfel Kulesi
B) Hindistan- Taç Mahal
C) İtalya - Piza Kulesi
D) Amerika Birleşik Devleti- Özgürlük Anıtı

26. Türkiye'nin toprakları hangi kıtalar üzerindedir?

- A) Asya- Amerika B) Asya - Afrika
C) Asya- Avustralya D) Asya- Afrika

27. Aşağıdaki başkent - ülke eşleştirmelerinden hangisi doğrudur?

- A) Hollanda-Paris
B) Mısır- Şam
C)İspanya- Madrid
D) Japonya-Atina

28. Ülkemizin en uzun kara sınırı hangi komşumuzladır?

- A) Yunanistan B) İran
C) Irak D) Suriye

29. Ramazan ve Kurban Bayramlarını kimler kutlar?

- A) Asya kıtasında yaşayanlar.
B) Türkler ve Türk Devletleri
C) Müslümanlar
D) Tüm insanlar

30. Tarihsel gelişim sürecinde insanların ürettiği, yaşattığı ve gelecek kuşaklara miras olarak bıraktığı maddi ve manevi değerlerin tümüne ne denir?

- A) Uygarlık B) Adet
C) Kültür D) Kalkınma

31. Aşağıda verilen kıtalar ve ülkeler eşleştirmesi yanlış olan seçenek hangisidir?

- A) Kuzey Amerika- Kanada
B) Güney Amerika - Brezilya
C) Avustralya - Kamboçya
D) Danimarka - Avrupa

32. Dünya'nın en büyük kara parçası (kıtası) hangi seçenekte verilmiştir?

- A) Avrupa B) Güney Amerika
C) Asya D) Afrika

33. Boğa güreşleri ile ilgili ülke hangi seçenekte verilmiştir?

- A) İspanya B) Meksika
C) Kuzey Kore D) Nijerya

34. Aşağıdaki ifadelerden hangisi yanlıştır?

- A) Özgürlük Heykeli ABD'nin bağımsızlık sembolüdür.
B) Her ülkenin kendisine özgü festivalleri bulunabilir.
C) Müslümanlar hac görevlerini yerine getirmek için Kabe'yi ziyaret eder.
D) Avrupa kültürü, diğer kültürlerden üstündür.

SOSYAL BİLGİLER

35. Aşağıda verilen özel günlerden hangisi diğerlerinden farklıdır?

- A) Nevruz B) Hidrellez
C) Cadılar Bayramı D) Kurban Bayramı

36. Farklı kültürlere saygı duymadığımız zaman ne ile karşılaşabiliriz?

- A) Zaten bütün kültürler aynıdır.
B) Bizim kültürümüzün büyüklüğü anlaşılır.
C) Bizim kültürümüzün saygınlığı artar.
D) Kültürler arası çatışmalara zemiz hazırlarız.

37. Sushi yiyen ve kimono giyen birisi hangi ülkeden gelmiş olabilir?

- A) Arjantin B) Japonya
D) Kırgızistan D) Moğolistan

38. Dünya'da 200'e yakın ülke olmasına rağmen kültürleri farklıdır. Buna rağmen ortak olarak kutlanan günler de vardır. Aşağıdakilerden hangisi buna örnek olarak verilemez?

- A) Yılbaşı B) Rio Dans Festivali
C) Anneler Günü C) Dünya Çocuk Günü

39. Türk Cumhuriyetleri deyince aklımıza gelen ülkelere birisi de Kazakistan'dır. Kazakistan'ın başkenti aşağıdakilerden hangisidir?

- A) Astana B) Bakü
C) Bişkek D) Aşkabat

40. Aşağıdaki verilenlerden hangisi, Dünya'mızda bulunan okyanuslardan birisi değildir?

- A) Büyük Okyanus
B) Atlas Okyanusu
C) Japon Okyanusu
D) Hint Okyanusu

TÜRKİYE'NİN KOMŞULARI



Türkiye haritasında numaralandırılmış komşularımızın isimlerini başkentlerini ve denizleri yazınız

KOMŞULAR	BAŞKENTİ
1
2
3
4
5
6
7
8

DENİZLER




1
2
3
4





ENGLISH





A - Aşağıdaki soruların yalnız bir doğru cevabı vardır. Doğru cevabı işaretleyin.

1 - He has long beard. a)  b)  c)  d) 

2 - He is rude. a)  b)  c)  d) 





3 - He has got long curly hair. a)  b)  c)  d) 

4 - She is shy. a)  b)  c)  d) 

5 - She has got straight dark hair. a)  b)  c)  d) 

6 - She is slim. a)  b)  c)  d) 

















7 - She is friendly. a)  b)  c)  d) 

8 - He is polite. a)  b)  c)  d) 




ENGLISH

B - Match the sentences to the pictures and write. Cümleleri resimlerle eşleştiriniz ve yazınız.

a	Bob is cheerful.	b	James is funny.	c	Richard has dark hair.
d	Mary has fair hair.	e	Linda is shy.	f	Michael is friendly.
g	Charles has long beard.	h	Betty has curly hair.	i	Patricia has straight hair.
j	David is nice and polite.	k	Thomas is rude.	l	Sharon has wavy hair.
m	Cindy is energetic.	n	Susan has freckles.	o	Laura is tall and slim.

	1. Tim is short.		2. _____
	3. _____		4. _____
	5. _____		6. _____
	7. _____		8. _____
	9. _____		10. _____
	11. _____		12. _____
	13. _____		14. _____
	15. _____		16. _____

C - Ask and answer as in the example. Örnekteki gibi sor ve cevapla.

	1. Mary - What is Mary like? - She is shy.		2. Steven _____
	3. Linda _____		4. Laura _____
	5. Emily _____		6. Joseph _____

ENGLISH

Who is who?

Read the descriptions and write the names in the boxes.

--	--	--	--	--	--



Hello! My name is Karen. I've got dark, straight hair. I'm wearing a yellow T-shirt and a red dress. My shoes are light yellow and I'm wearing a hat. I'm six years old.

Hello! My name is Patrick. I'm Michael's best friend. I've got short brown hair. I'm wearing red shorts, a blue T-shirt and a pair of dark blue shoes. I'm ten years old.

Hello! My name is Michael. I'm Kevin's cousin. I have got a small nose. I've got dark curly hair. I'm wearing blue jeans, a green T-shirt and green shoes. I'm nine years old.

Hello! My name is Jennifer. I've got long wavy brown hair. I'm wearing a red hairband with a dotted bow. I'm wearing a blue skirt and a red and blue striped T-shirt. I'm seven years old.

Hello! My name is Alice. I've got fair hair and it's quite short. I'm wearing a light and dark blue striped T-shirt and blue shorts. I'm also wearing blue socks and dark blue pjs. I'm eleven years old.

Hello! My name is Kevin. I'm Michael's cousin. I've got short fair hair and freckles. I'm wearing blue jeans, a navy blue and white striped T-shirt and navy blue shoes. I'm eight years old.

ENGLISH

E - Choose the correct option. Doğru seçeneği işaretleyiniz.

1. He's got ... hair.

- a) Curly
- b) straight
- c) wavy



2. Her hair is

- a) Curly
- b) straight
- c) wavy



3. Mark has got ... hair.

- a) dark
- b) fair



4. John is...

- a) tall and slim.
- b) tall and fat.
- c) short and fat.



5. He has got ... hair.

- a) Curly
- b) straight
- c) fair



6. She has got ... hair.

- a) Curly
- b) straight
- c) fair



7. They've got...

- a) beards
- b) big noses
- c) freckles



8. Tom's father is...

- a) short.
- b) tall.



9. My sister is so ...

- a) rude
- b) funny
- c) nice



10. Their eyes are

- a) blue and black
- b) green and brown
- c) blue and green



11. My grandfather has a long ...

- a) beard
- b) hair
- c) ear



12. My uncle is so ...

- a) polite
- b) funny
- c) nice



13. This boy is so ...

- a) polite
- b) funny
- c) rude



14. Little girl is so ..

- a) shy
- b) tall
- c) nice



15. I have got hair.

- a) straight
- b) wavy
- c) Curly



16. My brother is so ...

- a) polite
- b) funny
- c) Cheerful



ENGLISH

WORKSHEET UNIT 9 MY FRIENDS

Hair: saç

Eyes: gözler

Straight: düz

Wavy: dalgalı

Curly : kıvrıkcık

Physical appearance : dış görünüş

Character : karakter

Fair hair : açık kumral

Dark hair : koyu renk saç

Blonde: sarışın (for women)

Blond: sarışın (for men)

Freckles :çiller

Dimple : gamze

Beautiful: güzel

Handsome: yakışıklı

Ugly : çirkin

Long: uzun(saç, yol, etek boyu)

Short: kısa

Tall:uzun boylu

Fat: şişman

Slim: zayıf (formda)

Nice : hoş ,güzel

Big: Büyük

Small: küçük

Moustache : bıyık

Beard: sakal

Bald: dazlak, kel

Thin: zayıf

Lazy: tembel

Hardworking : çalışkan

Clever: zeki

Polite (=kind) = kibar

Rude= kaba

Old =yaşlı

Young= genç

Energetic: enerjik

Helpful= yardımsever

Lovely: sevimli, hoş

Cheerful :neşeli

Shy: utangaç

Sociable: sosyal

Sad :üzgün

Happy: mutlu X unhappy= mutsuz

Famous : ünlü

Pretty : hoş

ENGLISH

HAVE/HAS GOT:(SAHİP OLMAK)

I
You
We
They
The boys(çoğul isim) } **HAVE GOT**
a car.

He
She
It
The boy (tekil isim) } **HAS GOT**

WHAT DOES SHE/HE LOOK LIKE ?

(O nasıl birisi?) Bu soru bireyin dış görünüşünü tarif etmeniz için sorulur

Eg: What does Sezen Aksu look like ?

She has got short straight dark hair and brown eyes.She is of medium-height and medium -weight.

WHAT IS SHE LIKE?

(O nasıl birisi ?) Bu soru ise bireyin karakter yapısını sormak için kullanılır.)

Eg: What is Aslı like?

She is cheerful and helpful.

She is polite and hardworking.

HAVE/HAS GOT NERELERDE KULLANILIR?

It's used for " nose ,ears, eyes, hair,freckles,dimples,,head ,hair ,chin ,cheek .(Bu yapı tüm başımızda bulunan organlar ve bölümler için kullanılır.yani gözler,burun , dişler, kulaklar,saç v.b.)

Eg: I have got long wavy blonde hair, a small nose, brown eyes ,and freckles on my cheeks.

BE VERBS (am,is,are) NERELERDE KULLANILIR ?

It's used for " height weight , age, and adjectives. (Am, is , are) ise boy uzunluğunda ,kiloda, yaşta , ve sıfatlar ile kullanılır. Ayrıca kişilik özelliği belirtirken de "am -is -are " kullanılır.)

Eg:What does he look like?

He is tall and slim.He is young and handsome.

Eg: What is she like ?

She is polite and helpful.

EXERCISES

Use " HAVE/HAS GOT or AM,IS,ARE

1) Mary ----- short curly fair hair and Brown eyes.She ----- of medium height and slim.She ----- freckles on her cheek. She ----- - young.

2) Paul ----- lazy and polite.He ---- short wavy dark hair. He ----- a big nose. He ----- short and fat.

3) Laura ----- a beautiful girl. She ----- -- long wavy blonde hair, and a small nose.She ----- slim and tall. She-----green eyes. She----- young.She ----- helpful and cheerful. But she ----- shy.

ENGLISH

4) My sister ----- very young. She ----- short and medium-weight. She ----- very funny and polite. She ----- short curly red hair, and blue eyes.

5) He ----- black beard and moustache. He ----- slim and short. He ----- small black eyes and a big nose. He ----- old and ugly.

6) My cousin ----- handsome and young. He ----- friendly and helpful. He ----- hazel eyes. He ----- freckles on his cheek. He ----- clever.

7) Rita ----- very lazy and rude. She ----- brown eyes and a big mouth. She ----- short and fat. She ----- curly blonde hair.

8) I ----- long wavy blonde hair and big hazel eyes.

I ----- of medium height and medium weight.

I ----- helpful, friendly. I ----- a small nose and small ears.

I ----- hardworking and polite.

ANSWER THE QUESTIONS

1) What does Tarkan look like ?

2) What does Hadise look like ?

3) What does Recep İvedik look like ?

4) What is Recep İvedik like ?

5) What is your best friend like ?

6) What are you like ?

7) What do you look like ?

ENGLISH

DESCRIBING PEOPLE

Beard	Sakal
Moustache	Bıyık
Dark	Koyu renkli
Fair	Açık renkli
Freckles	Çilli

AGE

Old	Yaşlı
Middle aged	Orta yaşlı
Young	Genç

WEIGHT

Fat	Şişman
Overweight	Aşırı kilolu
Plump	Tombul
Slim	Zayıf
Thin	İnce

HEIGHT

Tall	Uzun
Medium height	Orta boylu
Short	Kısa

HAIR

Black hair	Siyah saçlı
Blonde hair	Sarı saçlı
Brown hair	Kahverengi saçlı
Curly hair	Kıvrıkcık saçlı
Dark hair	Koyu saçlı
Fair hair	Açık renkli saç - kumral
Red hair	Kızıl saçlı
Long hair	Uzun saçlı
Shoulder lenght hair	Omuzlarda saç
Short hair	Kısa saçlı
Straight hair	Düz saçlı
Wavy hair	Dalgalı saçlı

Saçları söylerken **have got / has got** kullanılır. Ex: My sister has got blonde hair.

ENGLISH

EYES

Black eyes	Siyah göz
Brown eyes	Kahverengi göz
Hazel eyes	Ela göz
Blue eyes	Mavi göz
Green eyes	Yeşil göz

Gözleri söylerken **have got / has got** kullanılır.

Ex: Merve, Sinem and Beyza have got green eyes.

LOOKING

Beautiful	Güzel
Handsome	Yakışıklı
Pretty	Şirin, güzel
Ugly	Çirkin

Birinin nasıl görüldüğünü sorarken şu kalıbı kullanırız

- What do you look like?
 - I'm handsome.
 - I have got green eyes.
- What does she look like?
 - She is beautiful.
 - She has got black hair.

Character

Cheerful	Neşeli
Energetic	Enerjik
Friendly	Arkadaş canlısı
Funny	Komik, eğlenceli
Nice	İyi, hoş
Polite	Nazik, kibar
Rude	Kaba
Shy	Utangaç
Quiet	Sessiz
Hardworking	Çalışkan
Helpful	Yardıms sever
Kind	Kibar, nazik
Famous/celebrity	Ünlü

ENGLISH

What are you like?

Bir kişinin nasıl biri olduğunu sorarken bu kalıbı kullanırız.

- ❖ What are you like?
I'm cheerful.
- ❖ What is she like?
She is energetic.