

1. SINIF



12 Hafta Fasikülü
2020-2021 Eğitim-Öğretim Yılı

EVDE EĞİTİM E-FASİKÜL' DE



YERKÖY ARGE

Yerköy İlçe Milli Eğitim Müdürlüğü'nün
uzaktan eğitim sürecinde öğrencilerimiz
için hazırladığı destek hizmetidir.

<http://yerkoy.meb.gov.tr>





Yerköy İlçe Millî Eğitim Müdürlüğü

Mehmet DURMAZ
İlçe Millî Eğitim Müdürü

Meliha ÖZDEN
Necmettin SAGLAM
Şube Müdürleri

M.Suat ATİLA
Koordinatör ve Grafik Tasarım

Hazırlayanlar

Fadime YIKILMAZ DAĞAŞAN	Atatürk İlkokulu
Yılmaz TÜNGER	Sekili Şht. Osman Pekşen İlkokulu
Muhammet DURAN	TOKİ Şht. Ali Salmanlı İlkokulu
Ahmet Şevki ŞAHİN	Saray Yibitaş Ortaokulu



ÇEVREMİZDEKİ BİTKİLER

Yakın çevremizde çeşit çeşit bitkilere rastlarız. Kimisi yemek olur olur, kimisi salata, kimisi evimizi ve çevremizi süsler kimi de hayvanlara yem olur. Birçok ilaç yapımında da yine bitkiler kullanılır.

Bahçe bitkileri: Yaşadığım yer süs bitkileri ve sebzeler bakımından oldukça zengindir. Gül, lale, karanfil, sardunya, süsen, horozibiği, kasımpatı gibi çiçekler; marul, domates, biber, salatalık, soğan, tere, nane, maydanoz gibi sebzeler yetişmektedir.

Yabani bitkiler: Yaşadığım yerde birçok yabani bitki bulunur. Bunlardan bazıları papatya, çan çiçeği, gelincik, menekşe, ayırık otu, madımak, sirken, mancar, hardal, ebegümece, ısırgan otudur.

Ağaçlar: Yakın çevremde birçok ağaç türü vardır. Sarıçam, karaçam, meşe, kavak, akasya, salkım söğüt, iğde, elma, armut, vişne, kiraz, dut, erik, kayısı, kızılıcık, alıç, ahlat, üvez bunlardan bazılarıdır.

Bitkilerde mevsimlere göre değişimler gözlenir.

- Soğukların bitişi ve havanın ısınmaya başlamasıyla kayısı ağacı çiçeklenir.
- Havanın iyice ısınmasıyla çiçekler meyveye dönüşür ve meyveler zamanla olgunlaşır.
- Sıcak sona erip havanın soğuması ile birlikte kayısı ağacının yaprakları sararır ve yavaş yavaş dökülür.
- Havalar iyice soğduğunda, kayısı ağacı, yapraksız dallarıyla havaların tekrar ısınmasını bekler.

BAHÇE BİTKİLERİ



LALE



KARANFİL



MENEKŞE



DOMATES



BİBER



NANE

YABANI BİTKİLER



MADIMAK



GELİNCİK



ISIRGAN OTU



PAPATYA

ÇEVREMİZDEKİ BİTKİLER

Çevremizdeki çiçekler, otlar ve ağaçlar bitkidir.

BAHÇE BİTKİLERİ

- Lale
- Karanfil
- Menekşe
- Domates
- Nane
- Biber

YABANI BİTKİLER

- Madimak
- Hardal
- Gelincik
- Papatya
- Isirgan



• Biber
• Nane
• Domates

• Isirgan
• Papatya

Dikkat!

- ✚ Bahçe bitkilerini veya yabani bitkilerin tadına bakmamalıyız.
- ✚ Bazı yabani bitkiler zehirli olabilir.
- ✚ Bahçe bitkileri de ilaçlanmış olabilir.
- ✚ Büyüklerimizin gözetiminde güvenli olduğundan emin olduktan sonra yemeli veya içmeliyiz.

Çiçekler dalında güzeldir.
Çiçekler saksıda güzeldir.

Çiçekleri koparmayalım.

Tanımadığımız insanlarla konuşmadığımız gibi tanımadığımız bitkilerle de oynamayalım.

BİTKİLERİ VE HAYVANLARI KORUMA

Günlük hayatımızda, çevremizdeki bitki ve hayvanları korumalı ve onlara zarar vermemeliyiz.

Hayvanlara şiddet uygulamamalıyız. Onların barınaklarına zarar vermemeliyiz.





Çevremizde bulunan bitkilere de zarar vermemeli, onları koparıp ezmemeliyiz.

Evimizde yetiştirdiğimiz bitkileri zamanında sulamalıyız.

Bitkilerin bakımı ve budanması sırasında büyüklerimize yardımcı olmalıyız.

ÇEVREMİZDEKİ BİTKİLER

Aşağıda verilen bitkilerin isimlerini yazınız. Sonra resimleri boyayınız.



Aşağıdaki bitkinin büyüme aşamalarını gösteren resimleri sıralayınız.



HAYAT BİLGİSİ

Aşağıdaki cümlelerden doğru olanlara (D), yanlış olanlara (Y) yazınız.

Doğayı ve çevremizi güzelleştirmek için fidanlar dikmeliyiz.

Fabrika bacalarından çıkan duman çevreye zarar vermez.


Yaz mevsiminde havalar ısınır, ağaçlar meyve verir.

Ormandaki bütün yabani bitkilerin meyvelerini yiyebiliriz.




OLSAM

Bir ağaç olsam,
 En yüksek dalıma bir kuş konsa.
 O kuş olsam.
 Uçsam incecik mavi bir bulutla.
 O bulut olsam.
 Yüksek karlı bir dağa sarılıp dursam.
 O yüksek, karlı dağ olsam.
 Serin sular toplasam bir ırmakta.

Ayla Çınaroğlu



Aşağıdaki ilk dört soruyu şiire göre yanıtlayınız.

- Şairin hayali aşağıdakilerden hangisidir?
 A. ağaç olmak B. ırmak olmak C. çiçek olmak
- Şair, bulut olsaydı ne yapacaktı?
 A. Serin sular toplayacaktı.
 B. Yüksek, karlı bir dağa sarılacaktı.
 C. Yüksek bir dala konacaktı.
- Hangisi hayal edilen dağın özelliklerinden **değildir**?
 A. Yüksek olması
 B. Ağaçlarla kaplı olması
 C. Karlı olması
- Aşağıdakilerden hangisi hayal edilenlerden **değildir**?
 A.  B.  C. 

5. Ablam yarın 16 yaşına girecek. **cümlesindeki rakamın yazımı hangisinde doğru verilmiştir?**

A. onaltı

B. on altı

C. onal tı

6. Okuldan çıkınca pastaneye gittim. **cümlesi aşağıdakilerden hangisiyle tamamlanamaz?**

A. önce

B. ilk önce

C. sonra

7. Yüksek **sözcüğünden sonra, aşağıdakilerden hangisi getirilirse anlamca doğru olmaz?**

A. kuş

B. dağ

C. ağaç

8. Mavi **sözcüğü, aşağıdakilerden hangisini anlamca doğru tamamlar?**

A. bulut

B. dal

C. kar

9. **Aşağıdakilerden hangisi canlı bir varlık adıdır?**

A. kitap

B. kelebek

C. ırmak

10. **Aşağıdakilerden hangisi bir kuş türüdür?**

A.



B.



C.



11. Bitki ve hayvanları korumalıyız. Çünkü **cümlesi hangisi ile tamamlanırsa anlamlı bir cümle olmaz?**

A. birçok yararları vardır.

B. onlar doğanın zenginliğidir.

C. her yerde bulunurlar.

12. **Hangi cümlenin sonuna soru işareti konulmalıdır?**

A. Serin sularda yüzelim


B. Yüksek dağlara mı çıkalım

C. Ağaçların dallarını koparmayalım

UZAY

Yeni şiirde,
Uzayda çocuk.
Meteorlarla top oynuyor.
Beyni acıkınca,
Ozan amcası ona
Bir kitap dolusu
Bilgiyle yüklü
Küçük bir hap
Yutturuyor.

Yalvaç Ural



meteor : akan yıldız ozan : şair

İlk beş soruyu şiire göre yanıtlayınız.

- 1. Yeni şiir sözüyle ne anlatılmak isteniyor?**
A. Günümüze yakın bir zamanda yazılmış şiir
B. Çok sık okunmayan şiir
C. Henüz okunmamış olan şiir
- 2. Yeni şiirde çocuklar nerede oynuyorlar?**
A. meteorlarda B. uzayda C. parkta
- 3. Aşağıdakilerden hangisi şiirdeki çocuğun özelliği değildir?**
A. Uzayda yaşaması
B. Meteorlarla top oynaması
C. Kitap okuması
- 4. Hap - yutmak sözcükleri arasındaki ilişki aşağıdakilerin hangisinde vardır?**
A. su - içmek B. meyve - koparmak C. resim - çizmek

TÜRKÇE


5. **Aşağıdakilerden hangisi hayal ürünüdür?**
A. Bilgilerin haplarla verilmesi
B. Ozanların kitap yazması
C. Kitaplarda çeşitli bilgilerin olması
6. **Aşağıdaki cümlelerin hangisinde kişilerin çeşitli özellikleri verilmiştir?**
A. Ali, bize doğru geliyor.
B. Sarı saçlı Nazan, sevimli bir kızdı.
C. Sumru, kuşlara yem verecek.
7. insan - hayal - her - karar **sözcükleriyle anlamlı ve kurallı cümle oluşturulduğunda hangisi sonda olur?**
A. her B. hayal C. karar
8. Güneş() Ay ve yıldızlar, birer gök cisimidir. **cümlesinde yay ayraç içine aşağıdakilerden hangisi konulmalıdır?**
A. (.) B. (,) C. (?)
9. Uğur, elindeki topu Nurana attı. **cümlesindeki hangi sözcükte kesme işareti kullanılmalıdır?**
A. topu B. elindeki C. Nurana
10. **Aşağıdaki sözcüklerden hangisinin yazımı yanlıştır?**
A. gezen B. gökyüzü C. uzay
11. ma - şa - ka **heceleriyle aşağıdaki sözcüklerden hangisi yazılmaz?**
A. maşa B. şaka C. kışa
12. Spor ayakkabılarımı getirmediğim için **cümlesindeki noktalı yer hangisiyle tamamlanırsa cümle anlamlı olur?**
A. jimnastik yapamadım.
B. çok hızlı koştum.
C. rahat oturamadım.

TAVŞAN ÇIKACAK, KUŞ ÇIKACAK

Çok küçükken ben,
Ne yerdim, ne içerdim ...
Annemi deli ederdim!
Çorbamı üstüme dökerdim ...

Güzel annem,
Beni yola getirmenin yolunu buldu.
Sihirli tabak alıp dedi ki:
– Çorbamı içersen eğer,
Kuş mu istiyorsun?
Kuş çıkacak.
Tavşan mı istiyorsun?
Tavşan çıkacak tabağından.
Kuş eline konacak,
Tavşan öpecek yanağından.
İnandım masal bile olsa
Çorbamı içer oldum bundan sonra.

Fevzi Gönenc



İlk beş soruyu şiire göre yanıtlayınız.


1. Şair küçükken aşağıdakilerden hangisini yapıyor?
A. Yemeklerini yemiyor.
B. Süt içiyor.
C. Çorbayı severek içiyor.
2. Annemi deli ederdim. cümlesi ile hangisi anlatılmak isteniyor?
A. Annemi mutlu ederdim.
B. Annemi sevindirirdim.
C. Annemi sinirlendirirdim.
3. Aşağıdakilerden hangisi çocuğun davranışını düzeltmesini sağlamıştır?
A. sihirli tabak öyküsü B. lezzetli çorbalar C. annesinin kızması

TÜRKÇE

4. **Şiirin konusu aşağıdakilerden hangisidir?**
A. Hayvan sevgisi
B. Masalların çocuklar üzerindeki etkisi
C. Çocukların yemekleri
5. **Aşağıdakilerden hangisi şiirde yer almaz?**
A. çocuk B. kuş C. ağaç
6. **Aşağıdakilerin hangisinde kısa çizgi doğru kullanılmıştır?**
A. Akşam çok erk- B. Bayramda şiir oku- C. Ali ne zam-
en yattım. yacağım. an gelecek?
7. **Aşağıdaki cümlelerden hangisinin sonuna soru işareti konulmalıdır?**
A. En sevdiğin yemek hangisi
B. Oyuna siz de katılın
C. Masal dinlemeyi severim
8. 1. Kahvaltımızı yaptık.
2. Sonra arkadaşlarımızla oyun oynadık.
3. Kardeşim ve ben erken kalktık.
Cümlelerle anlamlı bir paragraf oluşturmak için sıralama nasıl olmalıdır?
A. 1, 2, 3 B. 3, 1, 2 C. 3, 2, 1
9. Yemeğe başlamadan önce demeliyiz. **cümlesinde noktalı yere aşağıdakilerden hangisi yazılmalıdır?**
A. afiyet olsun B. teşekkür ederim C. özür dilerim
10. **Aşağıdakilerden hangisinde yazım yanlışlığı vardır?**
A. Annem, güzel yemek yapar.
B. Kuzenim türker bize gelecek.
C. Bugün ev ödevim az.
11. **Güzellik sözcüğünün hecelere ayrılışı hangisinde doğru verilmiştir?**
A. güzel - lik B. güz - el - lik C. gü - zel - lik

ÜÇ GÜNEŞ

Bir portakal,
 Bir portakal daha fırlatıp gökyüzüne
 Güneş'i üçe çıkarmalıyız kış günlerinde.
 İşte o zaman ne yakıt derdi,
 Ne giyim kuşam ...
 Güneşlerden birini de
 Geceye sakladık mıydı hele,
 Artık paltosuz eldivensiz
 Kartopu oynarız sabah akşam.



Ayla Çınaroğlu




Aşağıdaki ilk üç soruyu şiire göre yanıtlayınız.

- Şair, gökyüzüne niçin portakal fırlatmak istiyor?**
 - Güneş'i çoğaltmak için
 - Ay'ı istemediği için
 - Gece olmaması için
- Şair, portakal ile Güneş arasında nasıl ilgi kurmuş olabilir?**
 - Biçimlerini benzetmiştir.
 - Renklerini ve biçimlerini benzetmiştir.
 - Renklerini benzetmiştir.
- Şair'in Güneş'i üçe çıkarmak istemesinin nedeni hangisidir?**
 - Palto ve eldivenin olmaması
 - Gece gündüz üşümeden kartopu oynamak istemesi
 - Güneş'i çok sevmesi
- Ağabeyimle adana yoluna çıktık. cümlesinde hangi sözcük büyük harfle başlamalıdır?**
 - yoluna
 - çıktık
 - adana

5. oynadık - kartopu - bahçede **sözcükleri ile anlamlı ve kurallı cümle oluşturunuz. Birinci sözcük hangisidir?**

- A. oynadık B. kartopu C. bahçede

6. **Aşağıdaki resim ile sözcük eşleştirmelerinden hangisi yanlıştır?**

1  → kartopu 2  → yağmur 3  → bulut

A. 1 B. 2 C. 3

7. **Aşağıdakilerden hangisi kış mevsimiyle ilgili değildir?**

A.  B.  C. 

8. **Aşağıdaki cümlelerden hangisinin sonuna nokta konulmalıdır?**

- A. Kardan adam yapalım mı
B. Kartopu oynayalım mı
C. Kardan adam yaptık

9. Biz bahçede kartopu oynadık. **cümlesinden hangi sözcük çıkarılırsa cümlelerin anlamı bozulmaz?**

- A. oynadık B. biz C. bahçede

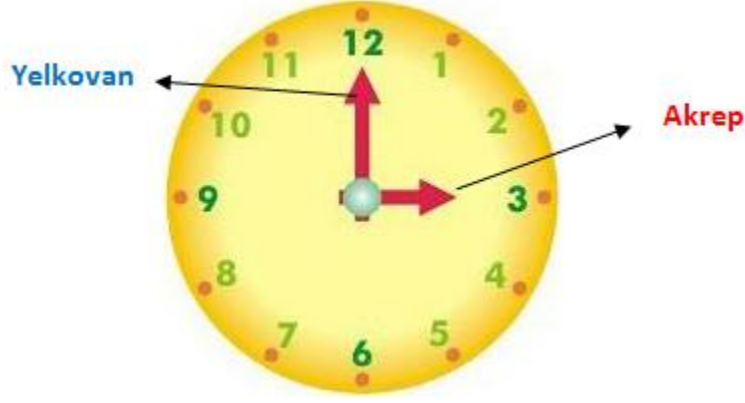
10. Sobanın üzerinde kestane pişiriyor. **cümlesinde aşağıdakilerden hangisinin yanıtı yoktur?**

- A. Ne pişiriyor? B. Niçin pişiriyor? C. Nerede pişiriyor?

11. **Aşağıdakilerden hangisinde olayın sonucu, nedeniyle birlikte verilmiştir?**

- A. Koştuğum için terledim.
B. Anneanneme bir bardak su verdim.
C. Sabahleyin kuvvetli bir kahvaltı yaptım.

SAAATLER



Saat Nedir?

Saat üzerinde akrep ve yelkovanın olduğu bir zaman aracıdır.

Yelkovan Nedir?

Saat üzerinde dakikayı gösteren uzun çubuktur.

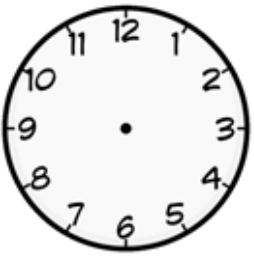
Yelkovan 12 üzerinde ise saat tam saattir.

Yelkovan 6'nın üzerinde ise saat "buçuk" olarak ifade edilir.

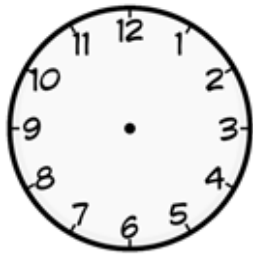
Akrep Nedir?

Saatın kaç olduğunu gösteren kısa kalın çubuktur.

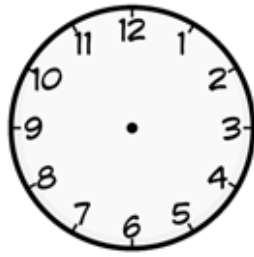
TAM SAATLER



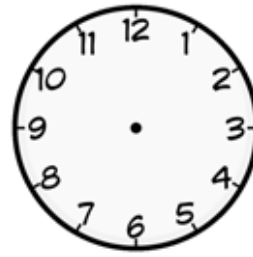
Saat 3



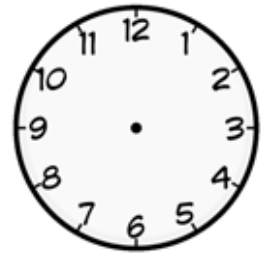
Saat 1



Saat 9

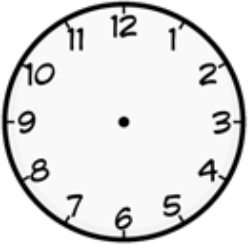


Saat 4

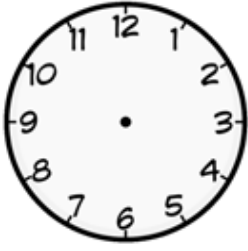


Saat 11

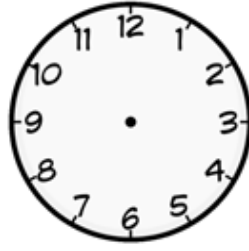
MATEMATİK



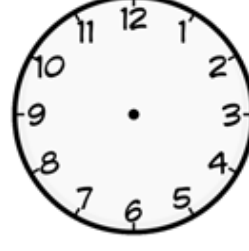
Saat 2




Saat 10



Saat 8

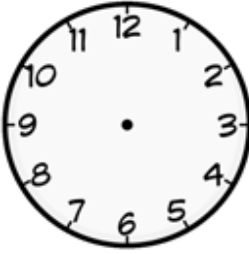


Saat 7




Saat 6

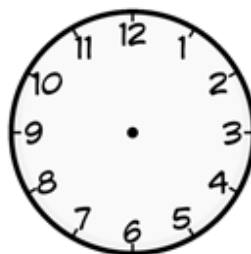
YARIM“SAATLER BUÇUK”



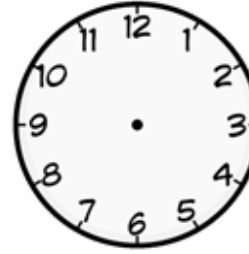
Saat 2:30



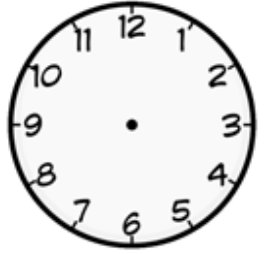
Saat 4:30




Saat 6:30



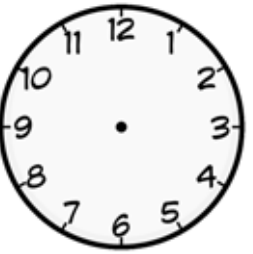
Saat 10:30



Saat 1:30



Saat 7:30




Saat 3:30



Saat 8:30



Saat 9:30

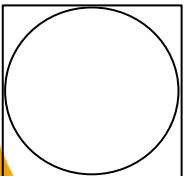


Saat 12:30

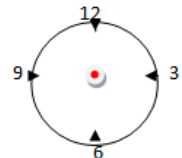
DEFTERİMİZE NASIL YAPACAĞIZ

Saatleri nasıl hazırlayacağız?

Silindir biçimli boya kalem kutularını veya başka yuvarlak tabana sahip araçlarla ilkönce yuvarlak hazırlayacağız;



Sonra 12-6 ve 3 ile 9 rakamlarını yerleştirelim
Daha sonra aralardaki rakamları uygun aralıklarla yazalım.



En sonunda da yuvarlağın tam ortasına bir nokta

MATEMATİK

Saatlerin kaç olduğunu altlarına yazın.



.....




.....




.....



.....



.....



.....

Aşağıda verilen saatlerin akrep ve yelkovanlarını çizin.



07 : 00



10 : 00



2 : 30




4 : 00



3 : 30



5 : 00




7 : 30



8 : 00


Resimleri boyayalım ve sorulara uzun
cevaplar verelim.



Kuzenim Müjdat, sabah saat kaçta uyanmıştır?

.....

.....




Kardeşim Ajda, sabah saat kaçta uyanmıştır?

.....

.....


MATEMATİK



Arkadaşım Tekin, saat kaçta okula gidiyor?

.....

.....




Koşumuz Müge, saat kaçta okula gidiyor?

.....

.....

MATEMATİK



Ablam Yağmur, öğle yemeğini saat kaçta yiyor?

.....

.....




Kardeşim Tayfur, öğle yemeğini saat kaçta yiyor?

.....

.....


MATEMATİK



Kuzenim Veysel, akşam saat kaçta uyumuştur?

.....

.....



Kardeşim Seher, akşama saat kaçta uyumuştur?

.....

.....

MATEMATİK

YARIM SAAT

Boşlukları örnekteki gibi dolduralım.

Akrep 1 ile 2'nin arasında.
Yelkovan 6'nın üstünde.



Saat 1 buçuk veya 1:30

Akrep.....
Yelkovan.....



Saat veya :

Akrep.....
Yelkovan.....



MATEMATİK

Akrep.....

Yelkovan.....



Saat veya :

Akrep.....

Yelkovan.....



Saat veya :

Akrep.....

Yelkovan.....



Saat veya :

MATEMATİK

Akrep.....

Yelkovan.....



Saat veya :

Akrep.....

Yelkovan.....



Saat veya :

Akrep.....

Yelkovan.....



Saat veya :

MATEMATİK

Akrep.....

Yelkovan.....



Saat veya :

.....

Akrep.....

Yelkovan.....



Saat veya :

.....

Akrep.....

Yelkovan.....



Saat veya :

.....

Akrep.....

Yelkovan.....



MATEMATİK



Takvim bulunduğumuz yılın aylarını, haftalarını ve günlerini gösteren bir zaman aracıdır.

2020 YILI MAYIS AYI TAKVİMİ						
Pazartesi	Salı	Çarşamba	Perşembe	Cuma	Cumartesi	Pazar
				1	2	3
4	5	6	7	8	9	10
11	12	13	14	15	16	17
18	19	20	21	22	23	24
25	26	27	28	29	30	31

GENEL TAKVİM BİLGİLERİ

*1Haftada 7 gün vardır. Bunlar;

Pazartesi, Salı, Çarşamba, Perşembe, Cuma, Cumartesi, Pazar

* 1 Yılda on iki ay vardır. Bunlar;

Ocak, Şubat, Mart, Nisan, Mayıs, Haziran, Temmuz, Ağustos, Eylül, Ekim, Kasım, Aralık

*1 Yılda 4 mevsim vardır. Bunlar;

İlkbahar, Yaz, Sonbahar, Kış

*1 Yılda 365 gün vardır.

*1 Yılda 52 hafta vardır

*1 Yıl kavramı, Dünya'nın Güneş etrafındaki bir tur dönüşüne eşit olan zamandır.

MATEMATİK

Verilen sayıları cümlelerdeki boşluklara yazalım.

365	30	12	7	52	4
-----	----	----	---	----	---

1	Bir ay gündür.
2	Bir hafta gündür.
3	Bir yıl gündür.
4	Bir ay haftadır.
5	Bir yıl aydır.
6	Bir yıl haftadır.

Verilen ayları cümlelerdeki boşluklara yazınız.

Ocak	Aralık	Şubat	Eylül	Haziran	Nisan	Ekim	Ağustos
------	--------	-------	-------	---------	-------	------	---------

1	Askerlerin kutladığı milli bayram ayındadır.
2	Yılın ilk ayı aydır.
3	Cumhuriyet Bayramı ayında kutlanmaktadır.
4	Yılın son ayı aydır.
5	Ulusal Egemenlik ve Çocuk Bayramı ayında kutlanır.
6	Okullar ayında açılır.
7	Okullar ayında yaz tatiline girer.
8	Yılın en kısa ayı aydır.

MATEMATİK

Aşağıdaki soruları takvime göre yanıtlayınız.

The image shows a calendar for the month of March (MART). The calendar is decorated with stars, a house, and various patterns. The days of the week are listed at the top: Pazartesi, Salı, Çarşamba, Perşembe, Cuma, Cumartesi, and Pazar. The days of the month are numbered from 1 to 31. The calendar is surrounded by decorative elements like stars, a house, and various patterns.

MART						
Pazartesi	Salı	Çarşamba	Perşembe	Cuma	Cumartesi	Pazar
1	2	3	4	5	6	7
8	9	10	11	12	13	14
15	16	17	18	19	20	21
22	23	24	25	26	27	28
29	30	31				

1) Yukarıdaki takvim yaprağı hangi aya aittir?

.....

2) Bu ayın ilk günü hangi günü göstermektedir?

.....

3) Mart ayı kaç gündür?

.....

4) 18 Mart hangi günü göstermektedir?

.....

5) Okulların tatil olduğu günleri maviye boyayın.

6) Çarşamba günlerini yeşile boyayın.

7) 25 Mart hangi günü göstermektedir?

MATEMATİK

ŞUBAT TAKVİMİ

PAZARTESİ	SALI	ÇARŞAMBA	PERŞEMBE	CUMA	CUMARTESİ	PAZAR
		1	2	3	4	5
6	7	8	9	10	11	12
13	14	15	16	17	18	19
20	21	22	23	24	25	26
27	28					

- ✚ ŞUBAT AYININ İLK GÜNÜ HANGİSİDİR?.....
- ✚ ŞUBAT AYININ SON GÜNÜ HANGİSİDİR?.....
- ✚ ŞUBAT AYI KAÇ GÜNDÜR?.....
- ✚ 3 ŞUBAT HANGİ GÜNDÜR?.....
- ✚ 8 ŞUBAT HANGİ GÜNDÜR?.....
- ✚ 12 ŞUBAT HANGİ GÜNDÜR?.....
- ✚ 23 ŞUBAT HANGİ GÜNDÜR?.....
- ✚ 25 ŞUBAT HANGİ GÜNDÜR?.....
- ✚ PAZARTESİ GÜNLERİ HANGİLERİDİR?.....
- ✚ SALI GÜNLERİ HANGİLERİDİR?.....
- ✚ ÇARŞAMBA GÜNLERİ HANGİLERİDİR?.....
- ✚ PERŞEMBE GÜNLERİ HANGİLERİDİR?.....
- ✚ CUMA GÜNLERİ HANGİLERİDİR?.....
- ✚ CUMARTESİ GÜNLERİ HANGİLERİDİR?.....
- ✚ PAZAR GÜNLERİ HANGİLERİDİR?.....
- ✚ BUGÜN AYI KAÇI VE HANGİ GÜNDEYİZ?.....
- ✚ BUGÜN AYI KAÇI VE HANGİ GÜNDEYİZ?.....
- ✚ YARIN AYI KAÇI VE HANGİ GÜN OLACAK?.....