

2. SINIF



12. Hafta Fasikülü
2020-2021 Eğitim-Öğretim Yılı

EVDE EĞİTİM E-FASİKÜL' DE



YERKÖY ARGE

Yerköy İlçe Milli Eğitim Müdürlüğü'nün
uzaktan eğitim sürecinde öğrencilerimiz
için hazırladığı destek hizmetidir.

<http://yerkoy.meb.gov.tr>





Yerköy İlçe Millî Eğitim Müdürlüğü

Mehmet DURMAZ
İlçe Millî Eğitim Müdürü

Meliha ÖZDEN
Necmettin SAGLAM
Şube Müdürleri

M.Suat ATİLA
Koordinatör ve Grafik Tasarım

Hazırlayanlar

Hanife KARACA	Mehmet Akif Ersoy Ortaokulu
Özgül DOĞAN	Reşat Akyön İlkokulu
Akın KILINÇ	Şht. İbrahim Yıldız İlkokulu
Cemal ŞEN	Şht.Muhammed Ali Ocak İlkokulu
Fatih DURAK	TOKİ Şht. Ali Salmanlı İlkokulu
Serkan SAVAŞ	Şht.Muhammed Ali Ocak İlkokulu



HAYAT BİLGİSİ

MİLLİ GÜNLERİMİZ VE BAYRAMLARIMIZ



Mustafa Kemal Atatürk,
Bu bayramı çocuklara armağan etti.
(TBMM açıldı).



Türk insanının ortaklaşa yöneteceği
bir şekil olan Cumhuriyet rejimine
geçiş yapıldı. Böylece insanlara
seçim şansı verildi.



Mustafa Kemal ve silah arkadaşları
Samsun'a ayak basarak Milli Mücadele'yi
başlattı.



15 Temmuz 2016 günü yine ülkemiz
ele geçirilmeye çalışıldı. Fakat
birlik ve beraberliğimiz sayesinde
zor günlerin üstesinden geldik.





Birlikten kuvvet doğardı ve öyle de
olmuştu. 30 Ağustos 1922'de
düşmanı büyük bir yenilgiye uğrattık.

HAYAT BİLGİSİ

DİNİ BAYRAMLARIMIZ


1. Etkinlik: Aşağıda verilen milli gün ve bayramlarımızla, dini gün ve bayramlarımızı harflerini ait oldukları yere yazalım.

A	19 Mayıs Atatürk'ü Anma Gençlik ve Spor Bayramı	B	Mevlit Kandili
C	Kurban Bayramı	Ç	Ulusal Egemenlik ve Çocuk Bayramı
D	Zafer Bayramı	E	Kadir Gecesi
F	Cumhuriyet Bayramı	G	Ramazan Bayramı
G	15 Temmuz Demokrasi ve Millî Birlik Günü		



2. Etkinlik: Aşağıdakilerden hangileri dini gün ve bayramlarda yapılır? Yapılanların çiçeğini boyyalım.

- 🌸 Bayram namazına gideriz.
- 🌸 Okullarda sınıflarımızı süsleriz.
- 🌸 Sokaklar , caddeler bayraklarla süslenir.
- 🌸 Annemiz misafirler için hazırlıklar yapar.
- 🌸 Camilerde kandil programları olur.
- 🌸 Sınıfça gösteriler hazırlarız.
- 🌸 Okullarda törenler yapılır.
- 🌸 Büyüklerimizin evlerine bayramlaşmaya gideriz.
- 🌸 Evimizi temizler , bayram için hazırlık yaparız.
- 🌸 Törelerde saygı duruşu yapılır ve İstiklal Marşı okunur.
- 🌸 Kurban keseriz.
- 🌸 Çocuklara şeker veya harçlık verilir.
- 🌸 Konuşmalar yapılır , şiirler okunur.



HAYAT BİLGİSİ

1 - Aşağıdakilerden hangisi millî bayramlarda okulda yaptığımız hazırlıklardandır?

- A) En yeni giysilerimizi giymek B) Sınıfımızı süslemek C) Evlere bayraklar asmak

"Önümüzdeki hafta yapacağımız kutlama törenleri için sınıfımızı bayraklarla, kırmızı ve beyaz balonlarla süsledik. O gün okul bahçesinde yapacağımız törende ben bir konuşma yapacağım. Burcu da şiir okuyacak. Törene bütün velilerimiz ve semtimize oturan herkes davetlidir."

2 - Yukarıdaki metinde anlatılanlar aşağıda verilen bayramlardan hangisiyle ilgilidir?

- A) Kurban Bayramı B) Cumhuriyet Bayramı C) Ramazan Bayramı

"Millî bayramlarımızı milletçe.....içinde kutlarız."

3 - Yukarıdaki cümlede boş bırakılan yere aşağıdakilerden hangisi gelebilir?

- A) saygı B) sabır C) coşku

- Törenler düzenlenir.

- Şiirler okunur.

- Okullar bayraklarla süslenir.




4 - Yukarıdakiler aşağıdaki bayramların hangisinde yapılır?

- A) Kurban Bayramı B) Ulusal Egemenlik ve Çocuk Bayramı C) Ramazan Bayramı

5 - Aşağıdakilerde verilen millî bayramlar kutlanan tarih eşleştirmelerinden hangisi yanlıştır?

- A) Cumhuriyet Bayramı - 29 Ekim
B) Zafer Bayramı - 19 Mayıs
C) Ulusal Egemenlik ve Çocuk Bayramı - 23 Nisan

6 - Aşağıdaki öğrencilerden hangisinin söylediğini dini bayramlarda yaparız?

- A)  Saygı duruşunda bulunuruz.
B)  Bando çalışmalarına katılırız.
C)  Büyüklerimizin ellerini öperiz.

"Bu bayramda komşu, dost ve akrabalar ziyaret edilir. Büyüklerin elleri öpülür."

7 - Yukarıda anlatılan bayram aşağıdakilerden hangisi olabilir?

- A) Kurban Bayramı B) Ulusal Egemenlik ve Çocuk Bayramı C) Zafer Bayramı

8 - Aşağıdakilerden hangisi dini bayramlarımızdandır?

- A) 19 Mayıs Atatürk'ü Anma, Gençlik ve Spor Bayramı
B) 23 Nisan Ulusal Egemenlik ve Çocuk Bayramı
C) Ramazan Bayramı

HAYAT BİLGİSİ

"Bayramlaşmaya gelen misafirlere, çeşitli.....bulunulur."

9 - Yukarıdaki cümlede boş bırakılan yere aşağıdakilerden hangisi gelebilir?

- A) ikramlarda B) saygısızlıklarda C) karşılamalarda

"Evde bayram hazırlığı vardı. Annem önce genel bir temizlik yaptı derslerimi yaptıktan sonra ben de anneme yardım ettim. Çeşit çeşit tatlılar yaptı. Bayram alışverişine çıktık. Bana ve kardeşime bayramlık ayakkabı ve giysi alındı.

Yarın bayram. Sabah uyanınca annemin ve babamın ellerini öpüp bayram harçlıklarımızı alacağız. Öğleden sonra da ağabeyim bizi lunaparka götürecektir."

10 - Yukarıdaki yazıda anlatılan bayram aşağıdakilerden hangisi olabilir?

- A) Cumhuriyet Bayramı
B) 23 Nisan Ulusal Egemenlik ve Çocuk Bayramı
C) Ramazan Bayramı

11-Aşağıdaki ifadelerden milli bayramlara ait olanlara ✓ ait olmayanlara ✗ işareti koyun.

D	Y
	19 Mayıs'ta bayram kutlamamızın nedeni Kurtuluş Savaşı'nın başladığı gün olmasıdır.
	TBMM 23 Nisan 1920 tarihinde açılmıştır.
	Cumhuriyetin ilanıyla padişahlık yönetimi kabul edilmiştir.
	19 Mayıs, çocuklara armağan edilmiş olan milli bayramdır.
	Zafer Bayramı'nı her yıl 30 Ağustos'ta kutlarız.

12 -Aşağıdaki ifadelerden dini bayramlara ait olanlara ✓ ait olmayanlara ✗ işareti koyun.

D	Y
	Ramazan bayramı üç gün boyunca kutlanır.
	Ramazan Bayramı'nda kurban etleri dağıtılır.
	Kurban Bayramı dört gün sürer.
	Kurban Bayramı'nda, kurban kesemeyenlere et dağıtılır.
	Bayramlarda şeker ve çikolata ikram edilmez.

13 - Aşağıdaki verilen sözcükleri, cümlelerdeki boşluklara uygun şekilde yerleştirin.


coşkuyla	kahramanlıklarını	29 Ekim	30 Ağustos'ta	milli bayram
----------	-------------------	---------	---------------	--------------

- * Ulusça kutladığımız, tarihte özel bir anlamı olan günlere..... deriz.
- * Milli bayramlar tüm yurttaki büyük bir.....kutlanır.
- * Cumhuriyet Bayramı'nıtarihinde kutlarız.
- * Milli bayramlarımızı kutlarken atalarımızındaha iyi hatırlarız.
- * Kurtuluş Savaşı'mızda kazanılan büyük zaferden dolayı her yıl..... törenler yapılır.

MATEMATİK

BÜTÜN YARIM ÇEYREK

1-Aşağıda verilen varlıklara ait şekilleri "yarım" ve "bütün" olarak adlandırınız.



..... ekmek



..... ekmek



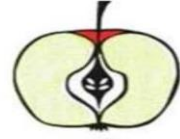
..... ekmek



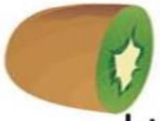
..... elma



..... elma



..... elma



..... kivi



..... kivi



..... kivi



..... portakal

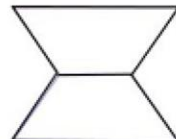
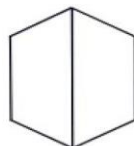

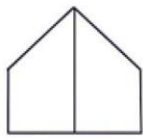



..... portakal



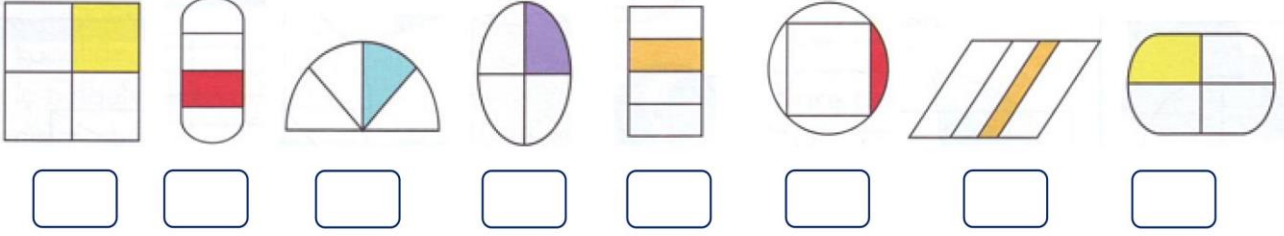
..... portakal

2-Aşağıdaki şekillerin yarısını boyayın.

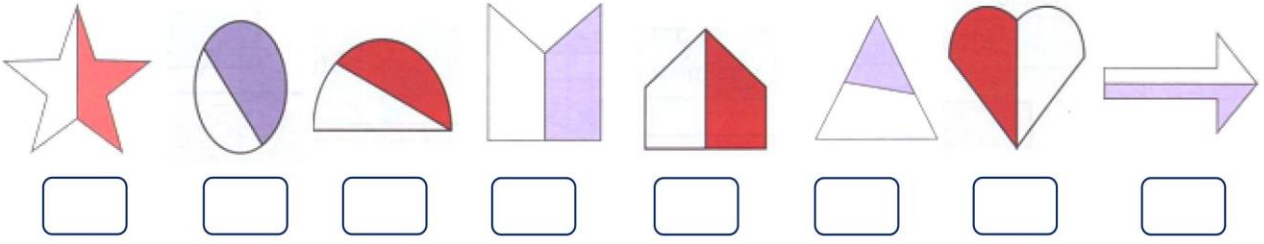


MATEMATİK

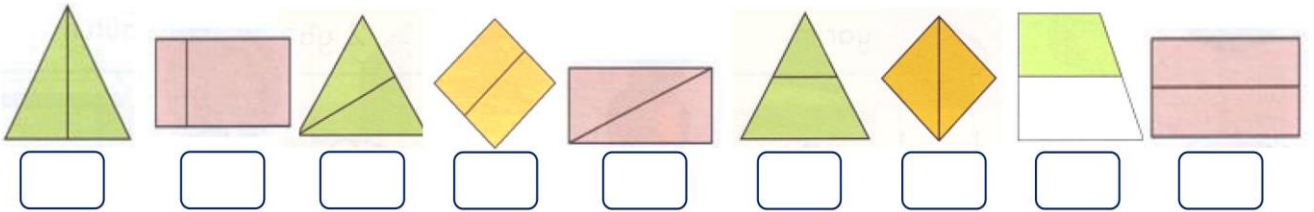
3- Çeyreği boyalı olan şekilleri işaretleyin.



4- Aşağıdaki şekillerin yarısı boyalı olanlarını işaretleyiniz.



5- İki eş parçaya ayrılmış şekilleri işaretleyiniz



6- Aşağıdaki çalışmaları örnekteki gibi yapınız.



5 bütün ekmek → 10 yarım ekmek

MATEMATİK



arpuz




..... yarım karpuz



.... armut



..... yarım armut



..... yumurta



..... yarım yumurta



.... elma



..... yarım elam

TÜRKÇE

A. Metni okuyunuz ve tamamlayınız.



MİNE

Mine o gün arkadaşlarıyla parkta oyun oynamıştı. Çok terlemişti. Parktan eve geldiğinde çok susadığını fark etmişti. Hemen bir bardak soğuk suyu hızlıca içti. Akşam olunca kendini halsiz hissetmeye başladı. Annesi de Mine'nin durumunu fark etmişti. Hemen Mine'nin ateşini ölçtü, ateşi çok yüksekti...

.....

.....

.....

.....

.....

.....

B. Aşağıdaki cümlelerde kullanılması gereken soru eklerini yazınız.

Elmayı yıkadın



Kalemimi gördün



Emre sağlıklı besleniyor



Sen spor yapıyor



Kiraz bir meyve



TÜRKÇE

C. Tekerlemede () ile belirtilen yerlere uygun noktalama işaretlerini koyunuz.

-Komşu, komşu!

-Hu, hu!

-Oğlun geldi mi?

-Geldi.

()Ne getirdi()

()İnci() boncuk()

()Kime() kime()

()Sana() bana()

()Başka kime()

()Kara kediye()

()Kara kedi nerede()

()Ağaca çıktı()

()Ağaç nerede()

()Balta kesti()

()Balta nerede()

()Suya düştü()

()Su nerede()

()İnek içti()

()İnek nerede()

()Dağa kaçtı()

()Dağ nerede()

()Yandı() bitti, kül oldu()

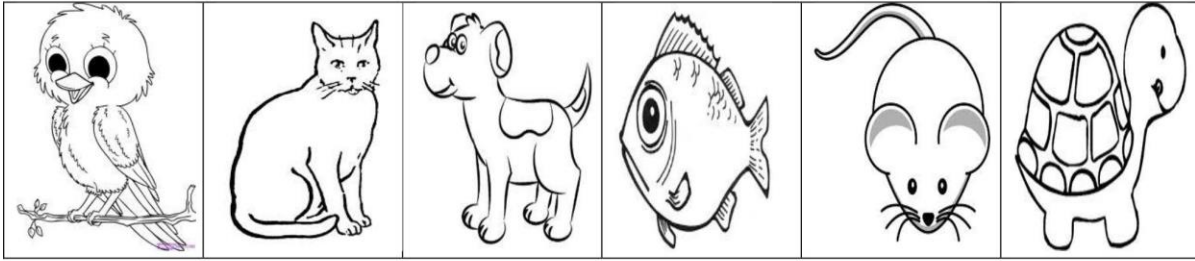


D. Verilen cümleleri oluş sırasına göre numaralandırınız.


- | | |
|--|----------------------------------------|
| | Daha sonra hikâyeyi anlatmamızı istedi |
| | Önce bizimle selamlaştı. |
| | Öğretmenimiz sınıfa girdi. |
| | Bizde dinlediğimiz hikâyeyi anlattık. |
| | Sonra bize hikâye okudu. |

ENGLISH

Exercise 1 A. Write the names of the pets and color: - cat - turtle - fish - bird - mouse - dog



B. Where are they?



1. The books are


- a) **on** the television
- b) **on** the car
- c) **on** the table

2. The bird is

- a) **on** the car
- b) **on** the television
- c) **on** the table

3. The cats are

- a) **on** the table
- b) **on** the car
- c) **on** the television



1. The mouse is

- a) **in** the tree
- b) **in** the aquarium
- c) **in** the bag

2. The birds are

- a) **in** the tree
- b) **in** the bag
- c) **in** the aquarium

3. The fish is

- a) **in** the bag
- b) **in** the aquarium
- c) **in** the tree











The dog is

- a) **on** the car
- b) **over there**
- c) **in** the bag







ENGLISH

Exercise 2 : Match.

Cat.....
Dog.....
Turtle.....
Rabbit.....
Bird.....
Fish.....
Hamster.....

Exercise 3 : Write the names of animals.

1) This is a.....		4) This is a.....	
2) This is a.....		5) This is a.....	
3) This is a.....		6) This is a.....	

ENGLISH

WHERE IS ...?

in / on / under / near

A. Hayvanların nerede olduklarını belirterek soruları cevaplayınız.

1. Where is the bird?



It is in the tree.

2. Where is the dog?




It the box.

3. Where is the cat?



..... table.

4. Where is the fish?



..... aquarium.

5. Where is the rabbit?



..... near tree

6. Where is the turtle?



.....

7. Where is the mouse?



.....

8. Where is the?



..... chair .

9. is the?



.....

10. ?



..... cage.

11. ?



.....

12. ?



.....