

1. SINIF



II. Hafta Fasikülü
2020-2021 Eğitim-Öğretim Yılı

EVDE EĞİTİM E-FASİKÜL' DE



YERKÖY ARGE

Yerköy İlçe Milli Eğitim Müdürlüğü'nün
uzaktan eğitim sürecinde öğrencilerimiz
için hazırladığı destek hizmetidir.

<http://yerkoy.meb.gov.tr>





Yerköy İlçe Millî Eğitim Müdürlüğü

Mehmet DURMAZ
İlçe Milli Eğitim Müdürü

Meliha ÖZDEN
Necmettin SAGLAM
Şube Müdürleri

M.Suat ATİLA
Koordinatör ve Grafik Tasarım

Hazırlayanlar

Fadime YIKILMAZ DAĞAŞAN	Atatürk İlkokulu
Yılmaz TÜNGER	Sekili Şht. Osman Pekşen İlkokulu
Muhammet DURAN	TOKİ Şht. Ali Salmanlı İlkokulu
Ahmet Şevki ŞAHİN	Saray Yibitaş Ortaokulu



DOĞADA HAYAT

ÇEVREMİZDEKİ HAYVANLAR

Daha önce bitkiler gibi hayvanların da doğanın bir parçası olduğunu öğrenmiştik. Yakın çevremizdeki hayvanlarla ilgili araştırma yaparken gözlemlerinizin yanı sıra büyüklerimizden, kitap, dergi ve gazetelerden ve internetten faydalanabiliriz.

Yakın Çevremde Bulunan Hayvanlar

Balıklar: Yaşadığım yerde birçok göl ve akarsu bulunmaktadır. Buralarda tatlı su balıkları yetişmektedir. Aynı zamanda, balık çiftlikleri oluşturularak balık yetiştiriciliği de yapılmaktadır. Sazan, kara balık , yılan balığı, sıraz, sarı benli, çupra ve kefal gibi balıklar yakın çevremde görülen başlıca balık türleridir.

Kuşlar: Yaşadığım yerin çevresi kuş çeşitliliği bakımından ülkemizin zengin bölgelerinden biridir. Güvercin, serçe, kırlangıç, karga, bildircin, saka kuşu, sarı bülbül (sarı asma),kara tavuk, ardıç kuşu (cuppalak), sakarmeke (sakarca),çeşitli su ördekleri, keklik, turaç, kumru gibi kuşlar burada sıkça görülen kuş türlerindedir.

Sürüngenler: Yaşadığım çevrede boz yılan, kara yılan, tarla kertenkelesi, kara kaplumbağası gibi sürüngenler yaşamaktadır.

Böcekler: Karınca, örümcek, çekirge, uğur böceği, karasinek, sivrisinek, ateş böceği, kelebek gibi birçok böcek türü yaşadığım çevrede bulunmaktadır

Evcil hayvanlar: Evcil hayvanlar; etinden, sütünden, yününden, gücünden yararlanmak amacıyla insanlar tarafından yetiştirilen hayvanlardır. Yaşadığım çevrede birçok evcil hayvan vardır. İnek, koyun, keçi, at, eşek, tavuk, hindi, tavşan, kedi, köpek, bal arısı başlıca evcil hayvanlardandır.



HAYAT BİLGİSİ

Balıklar, kuşlar, sürüngenler ve böcekler doğal hayatın içinde beslenme ve barınmalarını kendileri sağlar. Evcil hayvanlar ise insanlar tarafından beslenir. Bu hayvanların barınakları insanlar tarafından yapılır.

- **İnek, koyun, keçi, at ve eşek;** ot, saman ve yem ile beslenir.
- **Kedi ve köpeklere** ise evde pişen yemekler, süt, mama gibi besinler verilir.
- **Tavuk ve hindi gibi kümes hayvanları** arpa, buğday, mısır ile yemlenir.
- **Tavşanlar** ot ile **arılar** ise çiçeklerle beslenir.

İnsanlarda olduğu gibi hayvanlarında yuvaları ve barınakları vardır.



Benim adım arı. Ben kovanda yaşarım.



Benim adım inek. Ben ahırda yaşarım.



Benim adım ayı. Ben inde, mağarada yaşarım.

HAYAT BİLGİSİ



Bizim adımız koyun ve keçi. Bizler ağılda yaşarız.



Bizim adımız tavuk, hindi ve tavşan. Bizler kümeste yaşarız.



Bizim adımız kedi ve köpek. Bizler kulübelerde, evlerde ve sokaklarda yaşarız.

Huyunu bilmediğimiz, tasmaı, küpesi olmayan sahipsiz hayvanlarla oynamamalıyız.

HAYVANLAR NASIL BESLENİR?



Ot yiyenler: Koyun, inek gibi.

Et yiyenler: Aslan, kaplan gibi.

Hem et hem ot yiyenler: Ayı, maymun, kedi, köpek, tavuk gibi.

ETKİNLİK

A – Aşağıdaki ifadelerden doğru olanların başına “ D “ , yanlış olanların başına ise “ Y “ yazınız .

- () 1 – Çevremizdeki canlılar insanlar , bitkiler ve hayvanlardır.
- () 2 – İnek , at , eşek gibi hayvanlar ağılda yaşarlar.
- () 3 – Böceklerin çoğu kanatlıdır.
- () 4 – Kuş ,karınca gibi hayvanlar yuvalarını kendileri yaptıkları için bizim zarar vermemiz onlar için önemli değildir. () 5 – Bakımını üstlendiğimiz hayvanların yiyecek ve içeceklerini istediğimiz zaman verebiliriz.
- () 6 – Yılanlar, ağaçlara veya çatılara yuva yaparlar. () 7 – Denizlerde tatlı su balıkları, göl ve akarsularda tuzlu su balıkları yaşar.
- () 8 – Huyunu bilmediğimiz ,tasması, küpesi olmayan sahihsiz hayvanlarla oynayabiliriz.
















B – Aşağıdaki cümlelerdeki boşlukları uygun kelimelerle doldurunuz.

* karanlık * veteriner * etinden * ota * deve * nemli
* etle * göl * toprağın * yumurtasından

- 1 – Böcekler genellikleve yerlerde yaşarlar.
- 2 – İnek ve koyunlar beslenirler .
- 3 – Kümes hayvanlarının hem hem de yararlanırsınız.
- 4 – Timsahlar ve. yaşarlar.
- 5 – Hasta hayvanların tedavisini yapar.
- 6 – Solucanları yuvası altındadır.
- 7 – , susuzluğa dayanıklı , sıcak bölgelerde yaşayan evcil bir hayvandır.
- 8 – Yabani hayvanlar beslenirler .

Çevremizdeki Hayvanlar

Evde bakılabilen, insanlara alışmış olan hayvanlara evcil hayvanlar diyoruz. Kedi, köpek, inek, tavuk, koyun evcil olan hayvanlardan bazılarıdır. Serçe, güvercin, karga en çok rastladığımız kuşlardır. Yılan, kertenkele, kaplumbağa sürüngen hayvanlardır. Arı, karınca böcek olarak adlandırdığımız hayvanlardır. Her canlının sağlıklı ve güvenli bir yaşam sürmek için bir yuvaya ihtiyacı vardır. İnekler ve atlar ahırda, koyun ve keçiler ağılda, ayılar inlerinde, tavuklar, hindiler ve kazlar kümeste, arılar kovanda yaşarlar. Bazı canlılar ormanda, bazıları denizlerde ve göllerde yaşar. Tavuk, hindi, kaz gibi hayvanlar yemle beslenir. Koyun, keçi İnek, at, eşek gibi hayvanlar gibi otla beslenir. Yılanlar fare, tavşan, kurbağa, kuş gibi canlıları yiyerek. Solucanlar ise topraktaki çürümüş bitkilerle beslenir. Balıklar suda buldukları küçük canlılarla beslenir.

 AHIR	 AĞIL	 AĞIR	 YUVA	 KÜMES
 KULÜBE	 AĞIL HAZIRLAYAN: TUNCAY YILDIRICI	 KOVAN	 İN	 ORMAN
 EV - SOKAK	 TOPRAK ALTINDA	 TOPRAK ALTINDA	 SUDA	 ORMAN

ANA ÖĞÜDÜ

Çiçekleri ezme yavrum,
Çiçekler bir yüreğe benzer.
Çiçek ezen insan ezer.

Tahsin Saraç

6, 7 ve 8. soruları şiire göre yanıtlayınız.

6. Çiçekler neye benzetilmiştir?
A. yüreğe B. çocuğa
7. Anne kime öğüt veriyor?
A. çiçeklere B. çocuğuna
8. Aşağıdakilerden hangisi çocuğun yapması gereken bir davranıştır?
A. Çiçekleri ezmemesi B. İnsanlara çiçek vermesi
9. süt verdim. cümlesi en anlamlı şekilde aşağıdakilerden hangisi ile tamamlanır?
A. Çiçeklere B. Kedime
10. Aşağıdaki cümlelerin hangisinde altı çizili sözcük yanlış yazılmıştır?
A. Tatilde Bursa'ya gittik.
B. Teyzem Antalyadan geldi.

Anneler, dün gece halamlara gitmişler.

11 ve 12. soruları yukarıdaki cümleye göre yanıtlayınız.

11. Anneler halamlara ne zaman gitmişler?
A. dün B. dün gece
12. Anneler dün gece nereye gitmişler?
A. halamlara B. teyzemlere

Stadyum dolmuştu. Taraftarlar tribünlere oturmuşlardı. Flamalarını, bayraklarını durmadan dalgalandırıyorlardı. Maçın başlamasına az kalmıştı.

Stadyumun demir kapıları kapanmıştı. İçeriye giremeyenler duvarın çevresinde dolanıyordu.

Amigolar, toplu hâlde seyircilerini coşturuyorlardı. Türkülerle, şarkılarla karşılıklı atışıyorlardı. Dümbelek, davul çalarak eğleniyorlardı. Karşı tarafın moralini bozmaya çalışıyorlardı.

Mehmet Güler



Aşağıdaki ilk beş soruyu metne göre yanıtlayınız.

1. Maç nerede yapılacaktır?

- A. stadyumda B. spor salonunda C. basket sahasında

2. Taraftarlar nereye oturmuşlardı?

- A. yerlere B. merdivenlere C. tribünlere

3. Stadyuma giremeyenler ne yaptı?

- A. Evlerine gittiler.
B. Kapının önünde beklediler.
C. Duvarın çevresinde dolandılar.

4. Seyircileri kimler coşturuyordu?

- A. amigolar B. palyaçolar C. futbolcular

5. Hangisi seyircilerin yaptıklarından biri değildir?

- A. Sessiz, sessiz oturmak
B. Türküler, şarkılar söylemek
C. Dümbelek ve davul çalmak

6. Aşağıdakilerden hangisi futbolla ilgilidir?

A.



B.



C.



7. El sürme, ceza yersin,
Serbestsin, tekmellersin.

Bilmecenin yanıtı aşağıdakilerden hangisidir?

A.



B.



C.



8. Top oynamaya mı gidiyorsun() cümlesinin sonuna hangi noktalamaya işareti konulmalıdır?

A. (.)

B. (?)

C. (.)

9. bulunur - oyuncu - takımında - futbol - on - bir sözcükleriyle oluşturulan anlamlı ve kurallı cümle hangisidir?

A. Futbol takımında bulunur on bir oyuncu.

B. Futbol takımında on bir oyuncu bulunur.

C. On bir oyuncu bulunur futbol takımında.

10. SAKIZ sözcüğünün harfleriyle aşağıdakilerden hangisi oluşturamaz?

A. NAZ

B. SAZ

C. KAZ

11.



Resimdeki çocuklar için aşağıdakilerden hangisi söylenemez?

A. Oyunda yedi oyuncu oynuyor.

B. İki oyuncu karşılıklı el ele tutuşuyor.

C. Bir oyuncu oyuna katılmıyor.

PATEN KAYIYORUM

Ayaklarımın altında,
Minicik tekerlekler,
Ve koskoca bir dünya.
Uçar gibiyim, kayarak gidiyorum,
Bir uçtan bir uca.

Ah keşke bütün yollar,
Her yer hep dümdüz olsa.
Ve ben hiç durmasam,
Böyle rüzgâr gibi kayarak gitsem.
Dolaşsam dünyanın dört bir yanını.
Boydan boya.

Ayla Çınaroğlu



Aşağıdaki ilk beş soruyu şiire göre yanıtlayınız.

- Şiirde aşağıdakilerden hangisi anlatılmaktadır?**
 - Paten kayan çocuğun duyguları
 - Kızak kayan çocuğun duyguları
 - Kayak yapan çocuğun duyguları
- Şair ,bütün yolların nasıl olmasını istiyor?**
 - virajlı
 - dümdüz
 - taşlı
- Şair kayarak gitmeyi aşağıdakilerden hangisine benzetiyor?**
 - yağmura
 - kara
 - rüzgâra
- Şair, hangisini yapmak istiyor?**
 - Kayarak dünyanın dört bir yanını dolaşmak
 - Oturup biraz dinlenmek
 - Hep paten kaymak
- Paten nasıl kullanılıyor?**
 - Elde tutularak
 - Ayıklara bağlanarak
 - Üstüne oturularak

6. Aşağıdakilerden hangisi paten kaymakla ilgilidir?

A.



B.



C.



7. Aşağıdakilerden hangisi şiir yazan kişidir?

A. yazar

B. okur

C. şair

8. Kışın gelir, yazın gider,
Dünyayı bembeyaz eder.

Bilmecenin yanıtı aşağıdakilerden hangisidir?

A.



B.



C.



9. kayılır - alanda - paten - düz sözcükleri ile oluşturulan anlamlı ve kurallı cümle hangisidir?

A. Kayılır paten düz alanda.

B. Düz alanda kayılır paten.

C. Paten, düz alanda kayılır.

10. 1. Annem istediğim patenleri dün aldı.

2. Annemden bu patenleri almasını istedim.

3. Mavi patenleri çok beğendim.

Cümleleriyle anlamlı bir paragraf oluşturmak için sıralama nasıl olmalıdır?

A. 2, 1, 3

B. 1, 2, 3

C. 3, 2, 1

11. ra - ma - ka hecelerinin hepsi kullanılarak oluşturulan sözcük aşağıdakilerden hangisidir?

A. makara

B. rakam

C. makarna

12. Hasta olduğum için cümlesini anlamca tamamlayan söz grubu hangisidir?

A. paten kayamadım.


B. paten kaydım.

C. okula gittim.

UÇURTMA NASIL UÇAR?

Bunu bilmeyecek ne var?
 Çıkmaya görsün rüzgâr.
 Uçurtmam dünnden hazır,
 Bir yumak ip de cebimde.
 Küçük kız kardeşimle
 Koşarız karşı tepeye.

Ayla Çınaroğlu



Aşağıdaki ilk dört soruyu şiire göre yanıtlayınız.

1. **Uçurtma ne zaman uçar?**

A. Yağmurlu havada B. Rüzgârlı havada C. Güneşli havada

2. **Şair uçurtmasını kim ile birlikte uçar?**

A. arkadaşı ile B. annesi ile C. kız kardeşi ile

3. **Şair uçurtma uçurmak için nereye gidiyor?**

A. tepeye B. kırlara C. sokağa

4. **Aşağıdakilerden hangisi bir yumak ipi anımsatmaktadır?**


A.



B.



C.




5. uçururuz - rüzgârlı - uçurtma - havalarda **sözcükleri ile oluşturulan anlamlı ve kurallı cümle aşağıdakilerden hangisidir?**

A. Uçururuz uçurtma rüzgârlı havalarda.

B. Uçurtma uçururuz rüzgârlı havalarda.

C. Rüzgârlı havalarda uçurtma uçururuz.

6. Dün parkta oyun oynadık. **cümlesinde aşağıdakilerden hangisinin yanıtı yoktur?**
- A. Niçin oyun oynadık?
B. Ne zaman oyun oynadık?
C. Nerede oyun oynadık?
7. **Aşağıdaki cümlelerden hangisinin sonuna soru işareti konulmalıdır?**
- A. Uçurtma uçurmaya gidip gitmeyeceğimi sordu
B. Uçurtma uçurmaya gelir misin
C. Uçurtmalarımızı alıp tepeye çıktık
8. **Aşağıdaki cümlelerin hangisinde yazım yanlışlığı vardır?**
- A. Yarın Birgül ile uçurtma yapacağız.
B. Ayşegül, ip atlamak istemiyormuş.
C. Dün, sinan ve ben basketbol maçı yaptık.
9. **Aşağıdakilerden hangisinin yazımı yanlıştır?**
- A. saklanbaç B. birdirbir C. kovalamaca
10. **Resimlerle sözcükler eşleştirilmiştir. Hangi eşleştirme yanlıştır?**




A

→ uçurtma



B

→ bisiklet




C

→ dönme dolap

11. Hava rüzgârlı olursa **cümlesini anlamca tamamlayan sözcük grubu aşağıdakilerden hangisidir?**
- A. uçurtma uçurabiliriz.
B. uçurtmalarımızı toplarız.
C. uçurtmalarımız uçmaz.

Oyuncular halka şeklinde dizilirler. Ortada, ebe ve iki taşı birbirine vuran oyuncu vardır. Ebenin gözleri bağlıdır. Oyuncu taşları vurarak ses çıkarır. Ebe, onu yakalamaya çalışır. Ebe kendisine yaklaşıncaya oyuncu yer değiştirir. Yakalanmamaya çalışır. Yakalanırsa ebe olur.

Sadettin Cömert



Aşağıdaki ilk üç soruyu şiire göre yanıtlayınız.

1. Aşağıdakilerden hangisi metinde anlatılan oyundur?


A.



B.



C.



2. Metne en uygun başlık aşağıdakilerden hangisidir?

A. Saklambaç

B. Yakan Top

C. Körebe

3. Anlatılan oyun için aşağıdakilerden hangisini söyleyemeyiz?

A. Ebenin gözleri bağlıdır.

B. Oyuncular arka arkaya dizilirler.

C. Ebe ile bir oyuncu ortadadır.

4. 23 Nisanda türkiye Büyük Millet Meclisi kuruldu. Cümlesinde hangi sözcüğün yazımı yanlıştır?

A. türkiye

B. 23 Nisan

C. Millet Meclisi

5. Heyecan sözcüğü aşağıdakilerden hangisinde hecelerine doğru ayrılmıştır?

A. hey - ec - an

B. he - yec - an

C. he - ye - can




6. severdi - Atatürk - çok - çocukları **sözcükleri ile oluşturulan anlamlı ve kurallı cümle aşağıdakilerden hangisidir?**

- A. Atatürk çok severdi çocukları.
B. Atatürk, çocukları çok severdi.
C. Çok severdi Atatürk çocukları.

7. **Aşağıdaki cümlelerin hangisinde yazım yanlışlığı vardır?**

- A. Betül, folklor ekibine seçildi.
B. Maçta hakan iki gol attı.
C. Annemle basketbol maçını izledik.

8. **Aşağıda, resimlerdeki oyunlar ve oyunların adları eşleştirilmiştir. Eşleştirmelerden hangisi yanlıştır?**

- A.  → ip atlama
- B.  → voleybol
- C.  → Birdirbir

9. **Aşağıdaki cümlelerden hangisinin sonuna soru işareti konulmalıdır?**

- A. Bugün yeni bir oyun öğrendik
B. Bu oyunu size Ayşe mi öğretti
C. Saklambaç en sevdiğim oyundur

10. Aradığın kitabı buldun mu() **cümlesinde ayraçla gösterilen yere hangi noktalama işareti konulmalıdır?**

- A. (,) B. (?) C. (.)

11. **Aşağıdakilerden hangisinde altı çizili sözcük duygu belirtmektedir?**

- A. Bayram olduğu için çok sevinçliyim.
B. Bugünün küçüğü, yarının büyüğüdür.
C. Sınıfımızı renkli balonlarla süsledik.

BÜTÜN - YARIM

Bütün : Varlığın parçalanmamış, bölünmemiş haline bütün denir.



bütün ekmek



bütün armut



bütün kabak

Yarım: Bir bütünün iki eş parçasına yarım denir. Yarım elde etmek için varlığı 2 'ye böleriz.

Bir bütünden 2 yarım elde edilir.



bütün



yarım

+



yarım



bütün



yarım

+



yarım

➤ Aşağıda verilen cümlelerdeki boş bırakılan yerlere uygun sayıları yazalım.

- 1 bütünden, yarım elde edilir.
- 3 bütünden, yarım elde edilir.
- 5 bütünden, yarım elde edilir.
- 2 bütünden, yarım elde edilir.

➤ Aşağıda verilen cümlelerdeki boş bırakılan yerlere uygun sayıları yazalım.

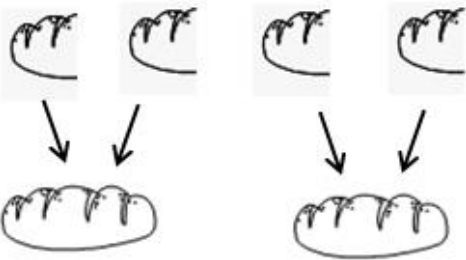
- 8 yarımdan, bütün elde edilir.
- 2 yarımdan, bütün elde edilir.
- 10 yarımdan, bütün elde edilir.
- 4 yarımdan, bütün elde edilir.

➤ Aşağıda verilen bütünleri yarımları ile eşleştir.

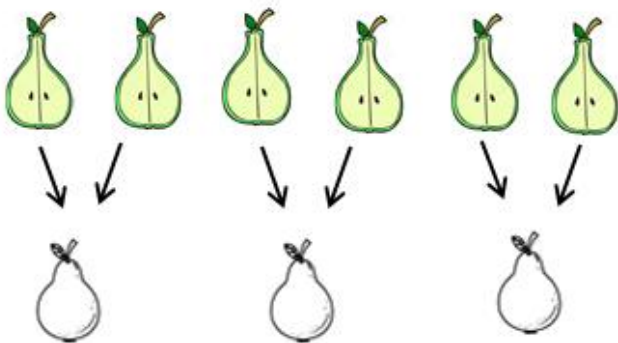


Yarımlar 2'şer 2'şer birleştirilip bütün elde edilir.

4 yarım ekmek birleşince, 2 bütün ekmek olur.



6 yarım armut birleşince, 3 bütün armut olur.




➤ Aşağıda verilen yarımları bütünleri ile eşleştir.




BÜTÜN YARIM ETKİNLİĞİ


Bir bütün iki yarım eder.



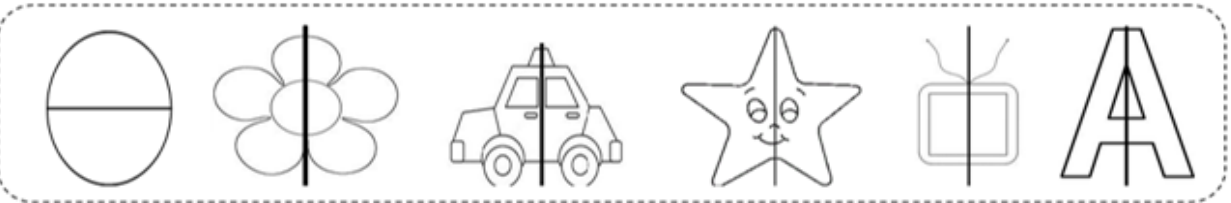
Aşağıdaki resimlerden yarım olanların altındaki gülen yüzü boyayınız.



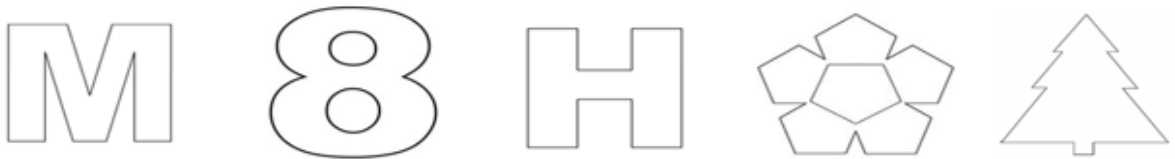
Aşağıdaki resimlerden yarım olanı bütüne tamamlayınız.






Aşağıdaki resimlerin yarısını boyayınız.



Aşağıdaki resimleri iki yarım olacak şekilde ayırınız.



Aşağıdaki yarımları birleştirerek bütün hale getiriniz



MATEMATİK

1. SINIF MATEMATİK DERSİ PROBLEMLER

1. Tabakta 8 kiraz vardı. Emel 7 kiraz daha koydu. Tabakta **toplam** kaç kiraz oldu?
A) 13 B) 14 C) 15
2. Öğretmenim bana 12 hikaye kitabı verdi. 8 tane de bende vardı. **Kaç hikaye kitabım oldu?**
A) 19 B) 20 C) 21
3. Ağaçtaki 19 kuşun 6 tanesi **uçtu**. Ağaçta **kaç kuş kaldı?**
A) 25 B) 13 C) 12
4. 13 kalemim vardı. Kardeşime 7 tanesini verince kaç kalemim kaldı?
A) 6 B) 20 C) 7
5. Dedemin bahçesinden dün 12 elma, bugün 7 elma topladık. **Toplam** kaç elma topladık?
A) 19 B) 5 C) 20
6. 20 yumurtanın 8'i **kırıldı**. **Geriye** kaç yumurta kaldı?
A) 28 B) 12 C) 13
7. Dün masal kitabımın 9 sayfasını, bugün de 13 sayfasını okudum. **Toplam** kaç sayfa kitap okumuş oldum?
A) 21 B) 23 C) 22

MATEMATİK

8. Gaye saat 09.00'da kitap okumaya başladı. 1 saat kitap okudu. Kitap okumayı bitirdiğinde **saat kaç olur?**

- A) 10.00 B) 08.00 C) 11.00

9. Yusuf 8 saatin 3 saatini ders çalışmaya ayırdı. Diğer saatlerini de oyuna ayırdı. Yusuf **kaç saatini oyuna ayırmış oldu?**

- A) 6 B) 11 C) 5

10. Ali pazartesi günü 6, Salı günü 12, Çarşamba günü 5 sayfa kitap okuyunca kitap bitti. Ali'nin okuduğu **kitap kaç sayfadır?**

- A) 22 B) 23 C) 24

11.

8		10
---	--	----

6		8
---	--	---

11.

Yukarıda boş bırakılan yerlere gelecek sayıların **toplamı** kaçtır?

- A) 16 B) 2 C) 17

12.

19		21
----	--	----

9		11
---	--	----

12.

Yukarıda boş bırakılan yerlere gelecek sayıların **farkı** kaçtır?

- A) 30 B) 10 C) 12

13.

7		5
---	--	---

14		12
----	--	----

13.

Yukarıda boş bırakılan yerlere gelecek sayıların **toplamı** kaçtır?

- A) 7 B) 19 C) 12