

3. SINIF



II. Hafta Fasikülü  
2020-2021 Eğitim-Öğretim Yılı

# EVDE EĞİTİM E-FASİKÜL' DE



## YERKÖY ARGE

Yerköy İlçe Milli Eğitim Müdürlüğü'nün  
uzaktan eğitim sürecinde öğrencilerimiz  
için hazırladığı destek hizmetidir.

<http://yerkoy.meb.gov.tr>





## Yerköy İlçe Millî Eğitim Müdürlüğü


### Hazırlayanlar

Ömer YIMAZ	Atatürk İlkokulu
Özlem KÜÇÜK	Şht. Kamil Çelikkaya İlkokulu
Ayşe Nur COŞKUN	Şht. Kamil Çelikkaya İlkokulu
Serhat GÜLCEGÜL	Şht. Kamil Çelikkaya İlkokulu
Yakup MURAT	Şht. Kamil Çelikkaya İlkokulu
Ahmet YARIÇI	Reşat Akyön İlkokulu


**Mehmet DURMAZ**  
İlçe Milli Eğitim Müdürü

**Meliha ÖZDEN**  
**Necmettin SAGLAM**  
Şube Müdürleri

**M.Suat ATİLA**  
Koordinatör ve Grafik Tasarım



# TÜRKÇE



## **KARTALA ÖZENEN KARGA**

Kartal, yüksek bir kayanın üzerinden sürüyü izliyormuş. Birden bire uçup, sürünün üzerine yıldırım gibi inmiş. Sürüden bir koyunu kaptığı gibi hızla oradan havalanmış. Kartalı izleyen karga da iştahı kabarmış. Kendi kendine:

– Ben yapamaz mıyım, kartaldan neyim eksik? Ben de kuşum, hem sesimde daha güzel demiş. Hızla atılarak, kocaman bir kuzunun sırtına konmuş. Konmuş konmasına ama güçsüz tırnakları, koyunun yününe takılıp kalmış.

Ne kadar çırpındıysa bir türlü kurtulamamış. Uzaktan olup biteni izleyen çoban da:

– Ne oluyor şu kargaya ki diye söyleniyormuş. Çoban gelip kargayı yakalamış. Ayağını bağlayıp torbasına koymuş. Sürüyü bıraktıktan sonra evine gelmiş. Evdekiler torbasındaki kuşun ne menem bir kuş olduğunu sormuşlar. Çoban:

– Ben karga olarak biliyorum. Ama o kendisini kartal sanıyor, demiş.

**Aşağıdaki soruları metne uygun bir şekilde cevaplayınız.**

**1. Kartal nereden sürüyü izliyormuş?**

.....

**2. Kartal sürüden ne kapmış?**

.....

**3. Kartal sürünün üzerine nasıl inmiş?**

.....

**4. Kartalı gören karga ne düşünmüş?**

.....



# TÜRKÇE

## 5. Karga nereye takılmış?

.....

## 6. Çoban kargayı yakalayınca ne yapmış ?

.....

## 7. Kartal kendisini ne sanıyormuş?

.....

### (Aşağıda verilen olayları oluş sırasına koyalım .)

- (....) Annesi kapıyı açtı.
- (....) Yürüyerek eve gitti.
- (....) Elini ve yüzünü yıkadı.
- (....) Ercan okuldan çıktı.
- (....) Çantasını odasına bıraktı.
- (....) Futbol topunu aldı.
- (....) Sonra arkadaşı Ali'yi çağırdı.
- (....) Bahçedeki diğer çocuklarla futbol oynadılar.
- (....) Melih önce ödevlerini yaptı.
- (....) Ali 'ile birlikte okul bahçesine gittiler.

### Aşağıda verilen cümleler ile ilgili 5N 1K sorularını cevaplayalım.

**Gürcüler, sabah erkenden eve geldi.**

#### 1) Kim geldi?

.....

#### 2) Ne zaman geldi?

.....

#### 3) Nereye geldi?

.....

# TÜRKÇE

**Okul açıldığı için kırtasiyeden çanta aldım.**

**1) Niçin aldı?**

.....

**2) Nereden aldı?**

.....

**3) Ne aldı?**

.....

**S.1)" Bir sözün önemini belirtmek " anlamına gelen deyim hangisidir ?**

**A) Altını çizmek    B) Arası açılmak    C) Başı çatlamak**

**S.2) " Emek vermeden sonuç alınmaz. " anlamına gelen atasözü hangisidir ?**

**A ) Dünya malı dünyada kalır.**

**B ) Gün doğmadan neler doğar.**

**C ) Ekmeden biçilmez.**

**S.3) " Sakla samanı gelir \_\_\_\_\_. "Atasözünde boş bırakılan yere hangisi gelmelidir?**

**A ) samanı    B ) zamanı    C ) toplayanı**

**S.4) İki ya da daha fazla sözcükten meydana gelip gerçek anlamını kaybederek kalıplaşmış sözcüklere ne ad verilir?**

**A ) sıfat    B ) atasözü    C ) deyim**

**S.5)" Çamur atmak " deyimini hangi anlamı ifade eder ?**

**A ) Sır tutamamak**

**B ) Birini kötü bir işe karışmış gibi göstermek**

**C ) Yanlış yolda olduğunu görerek düzelmek**

# TÜRKÇE

**S.6)** Aşağıdakilerden verilenlerden hangisi **atasözüdür?**

**A )** Ummadığın taş baş yarar.

**B )** Ağzı kulaklarına vardı.

**C )** Ele avuca sığmadı.

**S.7)** Aşağıdaki atasözlerinden hangisi " **Güç durumdan kurtulmak için, insan her çareye başvurur.** " cümlesini **en iyi şekilde açıklamaktadır?**

**A )** Denize düşen yılana sarılır.

**B )** Lafla peynir gemisi yürümez.

**C )** Hamama giren terler.

# MATEMATİK

## SORULAR

1. Bir miktar paranın yarısı kendisi ile toplandıığında 66 TL yapıyor. Bu para kaç liradır?
2. " 5, 0, 7, 9 " sayıları birer kez kullanılarak oluşturulacak üç basamaklı en çok ve en az miktardaki paraların toplamı kaç TL olur?
3. Bir satıcı tanesi 4 lira 50 kuruştan aldığı defterleri 5 liradan satıyor. Bu satıcı 4 düzine defter sattığına göre kaç lira kar etmiştir?
4. 1 m kumaş 9 liradır. Bu kumaştan 2 metre 30 santimetre almak isteyen birisi 50 lira verirse kaç lira para üstü alır?
5. Ercan hafta içi 1 lira hafta sonu 3 lira harçlık alıyor. Ercan 3 haftada kaç lira harçlık alır?
6. Paramın sekizde biri 5 liradır. Paramın hepsinde kaç tane 10 liralık banknot olur?
7. Mert 13 lira, Sema Mert'ten 2 lira fazla Murat ise Sema'dan 5 lira fazla para harcamıştır. Üçünün harcadıkları paraların toplamı kaç liradır?
8. Sinem'in kumbarasında 5.8.6 sayılarından oluşan en büyük üç basamaklı çift doğal sayı kadar parası var. Üzerine 10nluk 5 birlik lira eklerse toplamda kaç lirası olur?
9. Mesut babasından aldığı 8 TL 50 Kr' nin 5 TL 25 Kr' nu harcadı. Geriye kaç lira kaç kuruşu kaldı?
10. Neriman annesinin verdiği 20 liranın 1. Gün 4 lirasını 2. Gün birinci günden 3 lira fazlasını harcadı. Neriman'ın kaç lirası kaldı?

# MATEMATİK

## PARALARINIZ

### 1. Aşağıdaki tmcelerde boş bırakılan yerleri uygun sözcklerle tamamlayınız.

- lkemizin para birimi .....dir.
- En byk kâğıt paramız .....dir.
- En kk kâğıt paramız .....dir.
- En byk mdeni paramız .....dir.
- En kk mdeni paramız .....dur.
- ..... tane kâğıt paramız vardır.
- ..... tane mdeni paramız vardır.

### 2. Aşağıdaki eřitlikleri uygun biimde tamamlayınız.

$1 \text{ TL} = \dots 100 \dots \text{ Kr}$

$5 \text{ TL} = \dots \text{ Kr}$

$2 \text{ TL} = \dots \text{ Kr}$

$4 \text{ TL} = \dots \text{ Kr}$

$8 \text{ TL} = \dots \text{ Kr}$

$6 \text{ TL} = \dots \text{ Kr}$

$3 \text{ TL} = \dots \text{ Kr}$

$9 \text{ TL} = \dots \text{ Kr}$

$10 \text{ TL} = \dots \text{ Kr}$

### 3. Aşağıdaki eřitlikleri uygun biimde tamamlayınız.

$200 \text{ Kr} = \dots 2 \dots \text{ TL}$

$500 \text{ Kr} = \dots \text{ TL}$

$100 \text{ Kr} = \dots \text{ TL}$

$800 \text{ Kr} = \dots \text{ TL}$

$300 \text{ Kr} = \dots \text{ TL}$

$700 \text{ Kr} = \dots \text{ TL}$

$600 \text{ Kr} = \dots \text{ TL}$

$900 \text{ Kr} = \dots \text{ TL}$

$100 \text{ Kr} = \dots \text{ TL}$



# MATEMATİK

## 4. Aşağıdaki eşitlikleri tamamlayınız.

$$\begin{array}{lll} 1 \text{ TL} = \dots\mathbf{4}\dots \text{ tane } 25 \text{ Kr} & 5 \text{ TL} = \dots\dots\dots \text{ tane } 50 \text{ Kr} & 1 \text{ TL} = \dots\dots \text{ tane } 10 \text{ Kr.} \\ 3 \text{ TL} = \dots\dots\dots \text{ tane } 50 \text{ Kr} & 4 \text{ TL} = \dots\dots\dots \text{ tane } 1 \text{ Kr} & 2 \text{ TL} = \dots\dots \text{ tane } 5 \text{ Kr} \\ 1 \text{ TL} = \dots\dots\dots \text{ tane } 5 \text{ Kr.} & 9 \text{ TL} = \dots\dots\dots \text{ tane } 50 \text{ Kr} & 6 \text{ TL} = \dots\dots \text{ tane } 25 \text{ Kr} \end{array}$$

## 5. Aşağıdaki eşitlikleri tamamlayınız.

$$\begin{array}{lll} 50 \text{ TL} = \dots\mathbf{5}\dots \text{ tane } 10 \text{ TL} & 100 \text{ TL} = \dots\dots \text{ tane } 50 \text{ TL} & 100 \text{ TL} = \dots\dots \text{ tane } 20 \text{ TL} \\ 20 \text{ TL} = \dots\dots\dots \text{ tane } 5 \text{ TL} & 30 \text{ TL} = \dots\dots\dots \text{ tane } 10 \text{ TL} & 50 \text{ TL} = \dots\dots \text{ tane } 5 \text{ TL} \\ 40 \text{ TL} = \dots\dots\dots \text{ tane } 20 \text{ TL} & 80 \text{ TL} = \dots\dots\dots \text{ tane } 20 \text{ TL} & 10 \text{ TL} = \dots\dots \text{ tane } 1 \text{ TL} \end{array}$$

## 6. Aşağıdaki eşitlikleri tamamlayınız.

$$\begin{array}{l} 5 \text{ TL} + 90 \text{ Kr} = \dots\mathbf{590}\dots \text{ Kr.} \\ 8 \text{ TL} + 120 \text{ Kr} = \dots\dots\dots \text{ Kr} \\ 1 \text{ TL} + 1 \text{ TL} + 50 \text{ Kr} + 25 \text{ Kr} = \dots\dots\dots\text{Kr.} \\ 2 \text{ TL} + 5 \text{ TL} + 10 \text{ Kr} + 5 \text{ Kr.} + 1 \text{ Kr} = \dots\dots\dots\text{TL} \dots\dots\dots \text{ Kr} \end{array}$$

## 7. Aşağıdaki eşitlikleri tamamlayınız.

$$\begin{array}{l} 4 \text{ TL} - 50 \text{ Kr} = \dots\mathbf{350}\dots \text{ Kr} \\ 1 \text{ TL} - 60 \text{ Kr} = \dots\dots\dots\text{Kr} \\ 600 \text{ Kr} - 2 \text{ TL} = \dots\dots\dots \text{ TL} \\ 7 \text{ TL} - 25 \text{ Kr} = \dots\dots\dots \text{ TL} \dots\dots\dots \text{ Kr} \\ 500 \text{ Kr} - 200 \text{ Kr} = \dots\dots\dots \text{ TL} \\ 50 \text{ TL} - 5 \text{ TL} = \dots\dots\dots\text{TL} \end{array}$$

# MATEMATİK

## PARALARINIZ

1. Aşağıda verilen paraların kaç lira ve kaç kuruş olduğunu yazınız.



.....



.....



.....



.....



.....



.....

# FEN BİLİMLERİ

## 1) Aşağıdaki kavramları bulmacada bularak üzerini farklı renklerde boyayınız.

Beslenme, doğa, orman, su, park, yapay, hayvan, bahçe, spor, tasarruf,

Sağlık, tutumluluk, çevre temizliği, elektrik, Pamukkale, bitki, büyür, çevre, doğal, çoğalır, canlı, cansız, çöp, toprak, doğal gaz, hava

B	E	S	L	E	N	M	E	H	F	S	D	M	İ	K
D	L	V	G	C	A	N	L	I	D	Z	O	J	Y	Ç
Y	E	Ç	O	Ğ	A	L	I	R	D	O	Ğ	A	Ö	E
A	K	D	T	İ	C	K	H	A	İ	G	A	N	M	V
P	T	H	O	T	U	T	U	M	L	U	L	U	K	R
A	R	Z	P	Y	L	İ	Ş	Ö	F	O	G	C	İ	E
Y	İ	F	R	K	S	U	V	D	O	Ğ	A	L	H	T
O	K	H	A	V	A	M	Y	B	C	U	Z	Y	F	E
C	H	Ğ	K	G	U	B	F	A	N	Ç	S	H	S	M
S	F	S	P	O	R	Ü	Z	H	Y	Ö	M	A	A	İ
P	A	R	K	R	Ş	Y	S	Ç	H	P	Z	Y	Ğ	Z
K	C	M	A	M	H	Ü	Ç	E	V	R	E	V	L	L
O	T	A	S	A	R	R	U	F	K	G	F	A	I	İ
Y	S	C	A	N	S	I	Z	G	H	O	K	N	K	Ğ
P	A	M	U	K	K	A	L	E	C	B	İ	T	K	İ

# FEN BİLİMLERİ

Aşağıdaki görselleri inceleyiniz. Doğal çevreye ait olan resimlere **Doğal**, yapay çevreye ait görsellere **Yapay** yazalım.



# FEN BİLİMLERİ

## 1- Aşağıdaki ifadelerden hangisi yanlıştır?

- A) Çevre kirliliğinin sebebi insanlardır.
- B) Çevre kirliliğinden sadece bitkiler zarar görür.
- C) Çevre kirliliği, bazı canlıların yok olmasına sebep olur.



## 2- Yukarıdaki orman görseli için aşağıdakilerden hangisi söylenemez?

- A) Birçok canlıya ev sahipliği yapar.
- B) Doğal çevredir.
- C) İnsan eliyle oluşturulmuştur.

\*parklar \* dağlar \*göller \*tarlalar \*apartman \*köprüler \* nehirler \*peri bacaları

## 3- Yukarıdakilerden kaç tanesi doğal çevreye örnektir?

- A) 5
- B) 4
- C) 3



## 4- Resimdeki şeklin anlamı hangisidir?

- A) İleride çöp bidonu var.
- B) İleriden dönünce çöpü atabilirsin.
- C) Geri dönüşüm kutusu

## 5- Çevre kirliliğini önlemek için alınacak önlemlerden hangisi doğrudur?

- A) Her türlü çöp doğaya bırakılmalıdır.
- B) Doğal kaynaklar bilinçli kullanılmalıdır.
- C) Fabrika atıkları denize değil toprağa akıtılmalıdır.




# HAYAT BİLGİSİ

## ÜLKEMİZİN YÖNETİMİ



Aşağıda verilen resimler cumhuriyetle birlikte kazanılan hangi hakları hatırlatmaktadır?  
Noktalı yerlere yazalım.



.....  
.....



.....  
.....  
.....



.....  
.....  
.....



.....  
.....  
.....



.....  
.....  
.....



.....  
.....  
.....



**Aşağıdaki ifadeler doğru ise "D", yanlış ise "Y" harfini yazalım .**

1. (.....) Cumhuriyet ilan edilmeden önce devletimizi padişah yönetiyordu.
2. (.....) Cumhuriyetin ilanıyla birlikte devletimizin adı Türkiye Cumhuriyeti oldu.
3. (.....) Cumhuriyet yönetiminde halkın söz hakkı yoktur.
4. (.....) Ülkemizde sadece erkekler seçme ve seçilme hakkına sahiptir.
6. (.....) Cumhuriyet yönetimi milletin egemenliğine dayanır.
7. (.....) 23 Nisan tarihinde cumhuriyet ilan edildi.
8. (.....) İlk cumhurbaşkanımız Atatürk'tür.
9. (.....) Cumhuriyet yönetiminde kadın erkek eşitliği vardır.
10. (.....) Cumhuriyetten önce kadınlar seçme ve seçilme hakkı vardı.
11. (.....) Cumhuriyetle birlikte herkes eşit şartlarda eğitim alma hakkına sahip oldu.



# HAYAT BİLGİSİ

## YÖNETİM BİRİMLERİ

• Aşağıda verilen tanımlarla yönetim birimlerini eşleştiriniz.

Devlet tarafından görevlendirilen , ili yöneten en yetkili kişidir.

A

Belediye Başkanı

Devlet tarafından görevlendirilen , ilçeyi yöneten en yetkili kişidir.

B

Muhtar

İl , ilçe veya kasabanın yol , su , temizlik , aydınlatma gibi hizmetleri veren kurumun başında halk tarafından seçilen kişidir .

C

Vali

Köy ve mahalleleri yöneten , halk tarafından seçilen kişidir kişidir.

Ç

Kaymakam

• Aşağıdaki ifadelerden doğru olanının başına “D”, yanlış olanının başına “Y” harfi yazalım.

Muhtarlar devlet tarafından atanır.

İldeki en yetkili ve yöneten kişi validir.

İl , ilçe veya kasabanın yol , su , temizlik , aydınlatma gibi hizmetler belediye tarafından verilir.

Vali ve kaymakam devlet tarafından görevlendirilir.

Kaymakam köyleri yönetir ve halk tarafından seçilir.

Belediye başkanı köyün sorunlarını çözmeye çalışır.

Kaymakam , görevini ildeki valiye bağlı olarak yapar.

Belediye başkanı ve muhtar halk tarafından seçilir.



## 3<sup>RD</sup> GRADE UNIT 8 TRANSPORTATION 2



in the garden



in the air



at the bus stop



on the river



on the sea



at the station



on the road



at the airport



over here



over there

Fill in the blanks.



1. The bus is ..... the bus stop.



2. The plane is ..... the air.



3. The train is ..... the station.



4. The boat is ..... the river.



5. The ship is ..... the sea.



6. The bicycle is ..... the garden.




7. The motorbike is .....



8. The fire truck is .....

## 3<sup>rd</sup> GRADE

Choose the correct answer.




### WHERE IS .....? (Transportation)



1. Where is the bus ?

- It is on the sea.
- It is at the bus stop.
- It is at the airport.



2. Where is the boat ?

- It is on the road.
- It is in the garden.
- It is on the river.



3. Where is the train ?

- It is at the station.
- It is on the road.
- It is in the garden.



4. Where is the car ?

- It is on the road.
- It is at the bus stop.
- It is over here.



5. Where is the bike ?

- It is at the station.
- It is over there.
- It is in the garden.



6. Where is the ship ?

- It is at the station.
- It is on the sea.
- It is in the air.



7. Where is the submarine ?

- It is on the river.
- It is on the road.
- It is in the sea.



8. Where is the hot air balloon ?

- It is in the air.
- It is at the airport.
- It is on the sea.



# INGILIZCE

## 3<sup>RD</sup> GRADE

Look at the picture and answer the questions.

1



Where is the car?

2



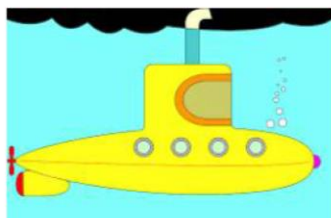
Where is the hot air balloon?

3



Where is the bike?

4



Where is the submarine?

5



Where is the motorbike?

Read and match.

The helicopter is in the air.

The fire truck is over here.

The bus is over there.

The car is on the road.







## UNIT 8 TRANSPORTATION 1

Match the words with the pictures.



HELICOPTER

CAR

TRAIN

MOTORBIKE

SCOOTER

SUBMARINE

BOAT

BIKE

FIRE TRUCK

BUS

ON FOOT

PLANE

SHIP

HOT AIR BALLOON



# İNGİLİZCE

## 3<sup>rd</sup> GRADE

Find and match.



Submarine

Car



Plane

Bus



Motorbike

Boat



Bike

Ship

Train

Fire truck



Hot Air Balloon



Find and choose.

1.



This is a bus / car

2.



This is a ship / submarine

3.



This is a helicopter / plane

4.



This is a bike / scooter

5.



This is a fire truck / train

6.



This is a car / plane