

2. SINIF



10. Hafta Fasikülü
2020-2021 Eğitim-Öğretim Yılı

EVDE EĞİTİM E-FASİKÜL' DE



YERKÖY ARGE

Yerköy İlçe Milli Eğitim Müdürlüğünün
uzaktan eğitim sürecinde öğrencilerimiz
için hazırladığı destek hizmetidir.

<http://yerkoy.meb.gov.tr>





Yerköy İlçe Millî Eğitim Müdürlüğü

Mehmet DURMAZ
İlçe Millî Eğitim Müdürü

Meliha ÖZDEN
Necmettin SAGLAM
Şube Müdürleri

M.Suat ATİLA
Koordinatör ve Grafik Tasarım

Hazırlayanlar

Hanife KARACA	Mehmet Akif Ersoy Ortaokulu
Özgül DOĞAN	Reşat Akyön İlkokulu
Akın KILINÇ	Şht. İbrahim Yıldız İlkokulu
Cemal ŞEN	Şht.Muhammed Ali Ocak İlkokulu
Fatih DURAK	TOKİ Şht. Ali Salmanlı İlkokulu
Serkan SAVAŞ	Şht.Muhammed Ali Ocak İlkokulu



TÜRKÇE

12 AY

Yılın ilk ayı ocak,
Kar yağar kucak kucak.

İkinci ay şubattır;
Soğuğu pek berbattır.



Mart kapıdan baktırır,
Kazma kürek yaktırır.

Nisanda çiçek açar;
Sevinçle kuşlar uçar.

Mayısta kiraz yeriz,
Kuzuları severiz.

Haziranda yaz başlar.
Dağılır arkadaşlar.

Temmuz yakar, kavurur;
Ekinleri öldürür.

Ağustos harman ayı,
Sevinir köylü dayı.



TÜRKÇE

Ekim ayı gelince,
Kapılırsız sevince.

Eylüle yoktur sözüm;
Getirir incir, üzüm.

Kasımda yağmur bol,
Üşüme dikkatli ol.

Aralık yılın sonu,
Soğuktur eni konu.

Bu on iki arkadaş
Bizlere olur yoldaş.

Hepsi güzel, sevimli,
Çalışana verimli.

Tembeller ay, gün seçer,
Ömürleri boş geçer.
Rakım ÇALAPALA

A. Aşağıdaki soruları şiire göre cevaplayalım.

1. Şiirin konusu nedir?

.....

TÜRKÇE

2. Şiire göre kimlerin ömürleri boş geçer?

.....

3. Şiire göre köylüler hangi ayda seviniyor?

.....


4. Ayların adlarını yazalım?

.....

.....

B. Aşağıdaki bulmacayı dolduralım.

1. Atatürk'ün doğum yeri.
2. Haftanın dördüncü günü.
3. Fakir sözcüğünün zıt anlamlısı.
4. Film izlemek için gidilen yer.
5. Serüven sözcüğünün eş anlamlısı.
6. Bayrağımızdaki renklerden biri.
7. Kış sebzesi. Salatalarda çok kullanılır.
8. Trafikte taşıt kullanana verilen ad.
9. Tavuk barınağı.



TÜRKÇE

C. Aşağıdaki cümleleri yazım kurallarına ve noktalama işaretlerine uyararak alt satıra yazalım.

A. antalyada deniz suyu sıcaklığı kaç dereceymiş

.....

B. atatürkün nerede doğduğunu biliyormusun

.....

C. türkçe matematik ve müzik derslerini seviyorum

.....

D. istanbula edirneye iki gündür aralıksız kar yağıyor

.....

E. ağırı dağına ne zaman tırmanacaksınız

.....

F. istanbul boğazının güzelliğini dünyada bilmeyen yoktur

.....

G. ecrin akşamları erken yatar sabahları geç kalkar

.....

H. hikaye şiir masal kitaplarımı nereye koydun

.....

I. yaz tatilini kayseridemi geçireceksin

.....

İ. ömer ile yunus orman haftası etkinliklerine katıldı

.....

J. bu okulda yalnızca ben mi yaramazlık yapıyorum

.....

D. Aşağıdaki soruları cevaplayalım.

1. Aşağıdaki cümlelerin hangisinde yazım hatası yapılmıştır?

- A. Babam, Rize'deki evi sattı.
- B. Özcan, Sinanı aramamış.
- C. Kenan'ın kedisi çok sevimli.

2. Yusuf sınıfın en çalışkanıdır. Yukarıdaki cümlede hangi kelimedden sonra virgül konulmalıdır?

- A. Yusuf
- B. sınıfın
- C. en

3. Aşağıdaki cümlelerin hangisinde yazım yanlışı yapılmıştır?

- A. Adana'dan arkadaşım geldi.
- B. Teyze'm köyde yaşıyor.
- C. Kalem Ali'ye verdim.

4. Hangi cümlelerin sonuna soru işareti konulmalıdır?

- A. Annem mis gibi börek yapar
- B. Annem mis gibi börek yapmış
- C. Annem mis gibi börek mi yapmış

5. Aşağıdaki cümlelerin hangisinde virgül yanlış kullanılmıştır?

- A. Sıcak, ekme mis gibi kokuyordu.
- B. Sıcak, soğuk demez çalışır.
- C. Cenk, Taner okula gelmedi.

6.

Eyvah (1) Okul servisini kaçırdım (2) Yukarıdaki ifadelerde numaralı yerlere hangi noktalama işaretleri gelmelidir?

- A. (?) (.)
- B. (!) (.)
- C. (!) (?)

7. Soğuk bir kış günüydü Eren ve Ceren okuldan dönerken yağmura yakalandılar Islanmış bir şekilde eve ulaştılar Anneleri, onları kapıda karşıladı

Yukarıdaki paragrafta noktalar konulmamıştır. Paragrafta kaç nokta kullanılmalıdır?

- A. 3
- B. 4
- C. 5

8. Hangi cümlede özel isimlerin yazımında yanlışlık yapılmıştır?

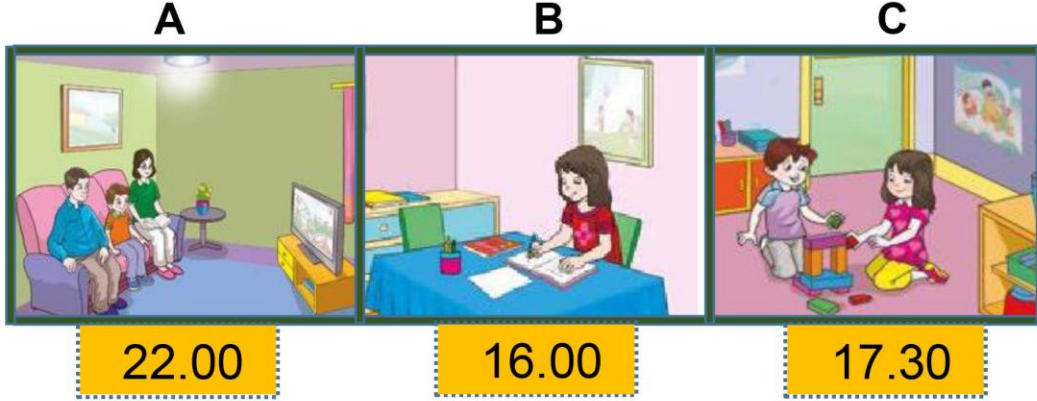
- A. Yurdumuzun başkenti ankara'dır.
- B. Az önce Çetin'e rastladım.
- C. Ay, Dünya'mızın uydusudur.

Cevap Anahtarı

- | | | | |
|-----|-----|-----|-----|
| 1.B | 2.A | 3.B | 4.C |
| 5.A | 6.B | 7.B | 8.A |


HAYAT BİLGİSİ

1. Aşağıdaki resimlerin altındaki saatlere bakarak hangi çocuğun planlı hareket ettiğini söyleyemeyiz?



2. Planlı yaşamak bize ne kazandırır?

- A) İyi insan olmamıza katkı sağlar.
- B) Sağlıklı büyümemizi sağlar.
- C) Hayatta başarılı olmamızı sağlar.



Eda ve babası yaşlı adama birer soru soruyor.

3. Sizce Eda ve babasının sorduğu soru aşağıdakilerden hangisi olabilir?

- A) Saati söyleyebilir misiniz?
- B) Karşıya geçmenize yardım etmemizi ister misiniz?
- C) Bize eczanenin yerini tarif eder misiniz?

HAYAT BİLGİSİ



4. Yukarıdaki resimde nasıl bir yanlışlık vardır?

- A) Babanın evi süpürmesi.
- B) Çocuğun sehpanın tozunu alması.
- C) Burada hiç bir yanlışlık yok.

Annesi ile çarşıya giden Cemal kayboldu.

5. Cemal aşağıdakilerden hangisini yapmamalıdır?

- A) Güvenli bir yerde beklemelidir.
- B) Polisi görürse yanına gitmelidir.
- C) Seni evine götürebilirim diyen kişiyle gitmelidir.

6. Aşağıdakilerden hangisi bir sınıf kuralı olamaz?

- A) Derste hiç konuşmamak.
- B) İzinsiz konuşmamak.
- C) Konuşanın sözünü kesmeden dinlemek.



7. Yandaki çocuklarla ilgili hangi ifade doğrudur?

- A) Kiloları aynıdır.
- B) Cinsiyetleri aynıdır.
- C) Boyları aynıdır.

HAYAT BİLGİSİ

Öğretmen öğrencilerine uçurtma yapma ödevi verdi. Bu ödevi 3 arkadaş birlikte yapmak için bir grup oluşturdu.

8. Aşağıdaki hangi çocuğun söylediği grup çalışma kurallarına uygun değildir?

- A) Uçurtmanın rengi mavi olmazsa ben bu işte yokum.
- B) Dilerseniz uçurtmanın kuyruğunu ben yapabilirim.
- C) İstersen uçurtmayı önce sen uçurabilirsin.

9. Okulda oyun oynarken aşağıdaki hangi davranışı yapmamız doğru olmaz?

- A) Bir arkadaşımız düşünce oyunu durdurmak.
- B) Oyunu kazanan arkadaşımızı tebrik etmek.
- C) Yenilen arkadaşımızla dalga geçmek.



10. Yukarıdaki yanlışlık nedir?

- A) Çocuk oyuna geç kalmıştır.
- B) Çocuk oyuna izin istemeden girmek istemektedir.
- C) Çocuk oyuna alınmamıştır?

HAYAT BİLGİSİ



11. Tarık'nun gol yiyen arkadaşına hangisini söylemesi doğru olur?

- A) Çok beceriksiz bir kalecisin.
- B) Bu gol da yenmez ki ama.
- C) Üzülme Tarık, telafi ederiz.



Yukarıdaki resimde Ali arkadaşlarına başına gelen üzücü bir olayı anlatmaktadır.

12. Bu resimle ilgi ne söylenebilir?

- A) Arkadaşları Ali'nin söylediklerini dinlemiyor.
- B) Arkadaşları Ali'nin üzüntüsünü paylaşmışlar.
- C) Arkadaşları Ali'yi dinliyorlar.

HAYAT BİLGİSİ



Hakan okulunun yerini arkadaşına tarif ediyor.

13. Aşağıdaki tariflerden hangisi Hakan'ın arkadaşının okulu bulmasına daha çok yardımcı olur?

- A) Okulumuzun arkasında park, önünde market, çaprazında yıkık bir bina var.
- B) Okulumuz spor caddesinde, Güneş Sokak ile Gül Sokağın birleştiği yerde bulunmaktadır.
- C) Okulumuzun karşısında market var. Okulumuz iki sokağın birleştiği bir cadde üzerindedir.



14. Yandaki resim hangi sınıf kuralını ifade etmektedir?

- A) Dersi dikkatli dinlemeliyiz.
- B) Konuşmak için söz istemeliyiz.
- C) Arkadaşımızın sözünü kesmemeliyiz.

HAYAT BİLGİSİ



15. Yukarıdaki resimleri en doğru anlatan ifade aşağıdakilerden hangisidir?

- A) Dengeli ve düzenli beslenirsek daha hızlı büyürüz.
- B) Anne ve babamız her zaman bize bakarlar.
- C) Büyüdükçe bazı davranışları kendimiz de yapabiliriz.

CEVAP ANAHTARI: 1A-2C-3B-4C-5C-6A-7C-8A-9C-10B-11C-12A-13B-14B-15C



MONSTER

HOW MANY?

1. How many eyes?

.....

2. How many ears?

.....

3. How many hands?

.....

4. How many fingers?

.....

5. How many mouth?

.....

6. How many nose?

.....

7. How many legs?

.....

8. How many toes?

.....

İNGİLİZCE

ACTIVITY 1

Ask and answer the questions.



1. What is this?
- It is a head.











ACTIVITY 2

Give short answers. **Yes, it is / No, it isn't.**



1. Is it a head?



3. Is it a mouth?



5. Is it an arm?



7. Is it a toe?



2. Is it a mouth?



4. Is it an eye?



6. Is it an ear?



8. Is it a shoulder?

İNGİLİZCE

UNIT 7 REVISION TEST

1 Yandaki görsele göre; öğretmen, öğrencilere ne demiş olabilir ?

- A) Raise your hand!
- B) Look at my eye.
- C) Show me your mouth.



2 Görsele göre boş bırakılan yere hangisi yazılmalıdır ?

Touch your.....

- A) foot
- B) nose
- C) ear



3 Yanda verilen görsele göre eksik olan organ hangisidir?

He hasn't got.....

- A) hand
- B) eye
- C) arm



4 Yanda verilen görsele göre eksik olan organ hangisidir?

He hasn't got.....

- A) ear
- B) hand
- C) foot



5 Aşağıdaki cümlelerden hangisi verilen görsele uygun düşer ?

- A) Look at my mouth.
- B) Look at my knee.
- C) Look at my fingers.



6 "Başınıza dokunun" cümlesinin İngilizce karşılığı aşağıdakilerden hangisidir ?

- A) Touch your toes.
- B) Touch your knee.
- C) Touch your head.



7 Look at my.....

- A) knee
- B) ear
- C) eye



8 It's is my.....

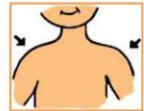
- A) arm
- B) leg
- C) nose.



9 Organlardan hangisi vücudumuzun baş bölümünde bulunmaz ?

- A) toe
- B) ear
- C) eye

10 Görsellerin doğru sıralaması nasıl olmalıdır ?



- A) shoulder
 - B) nose
 - C) ear
- hand
 - foot
 - hand
- ear
 - arm
 - shoulder

İNGİLİZCE

11 Organlardan hangisinin ismi yanlış yazılmıştır ?



- A) leg B) teeth C) foot


12 How many hands have you got?

- A) two B) three C) one

13 How many noses have you got?

- A) one B) two C) three

14 Hangisi yalan söylüyor ?



- A) head B) eye C) nose

15 Hangisi doğru söylüyor ?



- A) nose B) foot C) leg

16 What is this ?



- A) nose.
B) leg
C) mouth

17 What is this ?



- A) hand
B) chin
C) eye

18 Görsele göre konuşma balonuna ne yazılmalıdır ?

.....



- A) Look at my mouth.
B) Show me your knee.
C) Touch your ear.

19 Görsele göre konuşma balonuna ne yazılmalıdır ?

.....



- A) Look at my head.
B) Show me your arm.
C) Touch your leg.

20 Is this my eye ?



- A) Yes it is.
B) No, it isn't.
C) Yes; I do.

MATEMATİK

ÇARPMA İŞLEMİ

Aşağıdaki çarpma işlemleri sonuçları ile eşleştiriniz.

$7 \times 2 =$

6

$6 \times 1 =$

14

$5 \times 3 =$

15

$3 \times 4 =$

40

$8 \times 5 =$

12

$9 \times 1 =$

9

Aşağıdaki işlemlerden doğru olanlara "D", yanlış olanlara "Y" yazınız.

$6 \times 2 = 12$

$7 \times 3 = 24$

$5 \times 4 = 20$

$3 \times 5 = 12$

$8 \times 4 = 32$

$6 \times 3 = 18$

$7 \times 5 = 30$

$9 \times 2 = 15$

$7 \times 0 = 7$

MATEMATİK

TEST SORULARI



1. Beş deste kalem kaç tane kalem eder?

A) yirmi

B) kırk

C) elli



2. Parkta altı tane köpek var. Köpeklerin ayaklarının sayısı kaçtır?

A) 24

B) 9

C) 10



3. Tanesi 5 lira olan kitaplardan altı tane aldım. Satıcıya kaç lira ödemeliyim?

A) 20

B) 30

C) 35



4. 9 vazunun her birinde 2 tane gül vardı. Beş tanesini anneme hediye ettim. Geriye kaç gülüm kaldı?

A) 18

B) 23

C) 13

5. Sınıfımızda on sıra var. Her sırada 2 kişi oturmaktadır. Sınıfımızın mevcudu kaçtır?

A) 12

B) 20

C) 25

MATEMATİK



6. Her kutuda 3 şeker bulunan kutulardan 6 tane aldım. Kaç tane şekerim oldu?

- A) 18 B) 9 C) 15



7. Her gün bir bardak süt içen Soner 10 günde kaç bardak süt içer?

- A) 20 B) 10 C) 11

8. Mina her gün 4 lira harçlık almaktadır. Mina sekiz günde kaç lira harçlık alır?

- A) 12 B) 24 C) 32

9. 8 sayısının beş katı kaçtır?

- A) 40 B) 13 C) 20



10. Berat 'ın balonlarının sayısı 6 ile 4 'ün çarpımı kadardır. Balonlardan 5'i patlarsa geriye kaç balon kalır?

- A) 20 B) 19 C) 18

Cevaplar: 1.C 2. A 3. B 4. C 5. B 6. A 7. B 8. C 9. A 10. B