

3. SINIF



10. Hafta Fasikülü
2020-2021 Eğitim-Öğretim Yılı

EVDE EĞİTİM E-FASİKÜL' DE



YERKÖY ARGE

Yerköy İlçe Milli Eğitim Müdürlüğü'nün
uzaktan eğitim sürecinde öğrencilerimiz
için hazırladığı destek hizmetidir.

<http://yerkoy.meb.gov.tr>





Yerköy İlçe Millî Eğitim Müdürlüğü


Hazırlayanlar

Ömer YIMAZ	Atatürk İlkokulu
Özlem KÜÇÜK	Şht. Kamil Çelikkaya İlkokulu
Ayşe Nur COŞKUN	Şht. Kamil Çelikkaya İlkokulu
Serhat GÜLCEGÜL	Şht. Kamil Çelikkaya İlkokulu
Yakup MURAT	Şht. Kamil Çelikkaya İlkokulu
Ahmet YARIÇI	Reşat Akyön İlkokulu

Mehmet DURMAZ
İlçe Milli Eğitim Müdürü

Meliha ÖZDEN
Necmettin SAGLAM
Şube Müdürleri

M.Suat ATİLA
Koordinatör ve Grafik Tasarım



TÜRKÇE

TÜRKÇE

Hepimiz vatanımızı çok sevdiğimizi, onu koruyup kollamak gerektiğini dilimizden düşürmeyiz, oysa birçoğumuz yerlere çöp atar, denizleri kirletir, okuldaki eşyalara ve tarihi eserlere zarar veririz.

Vatani sevmenin en belirgin göstergesi yaşadığımız doğaya çevreye zarar vermemek, doğal ve tarihi güzellikleri korumaktır.

(NOT: İlk üç soruyu metne göre cevaplayınız. Cevapları sorunun altındaki boşluğa yazınız.)

1) Hepimizin çok sevdiği, dilinden düşürmediği şey nedir ?

.....

2) Vatani sevmenin **en belirgin** göstergeleri nelerdir, yazınız?

.....

3) Bu konudan nasıl bir ders çıkarabiliriz?

.....

4) Aşağıdaki atasözlerinden hangisinin konusu çalışmakla ilgili?

- A) Sakla samanı gelir zamanı.
- B) Bir elin nesi var, iki elin sesi var.
- C) İşleyen demir pas tutmaz.

5) Aşağıdaki meslek ve yapılan iş eşleştirmelerinden hangisi yanlıştır?

- A) Fırıncı-Ekmeğinizi ben pişiririm
- B) Kasap-Aşılarınızı ben yaparım.
- C) Mühendis-Yol ve bina yaparım.

6) Aşağıda verilen sözcüklerin eş anlamlılarını yazınız.

Giysi..... yoksul..... Güven..... ırmak
Soru..... konuk..... Zaman..... Doktor
öğretmen..... kelime..... Talebe.....

7) Aşağıdaki verilen kelimelerin zıt anlamlılarını yazınız.

İnce uzak ünlü Islak
Basit Erken kuzey acı

TÜRKÇE

8) Aşağıda verilen sestek kelimeleri farklı anlamda iki cümle kuralım.

Yüz:

Saz:

9) Aşağıdaki cümlelerin sonuna olumlu, olumsuz veya soru cümlesi durumuna göre uygun olanları yazınız.

Babam bana harçlık verdi

Elif Nazlı bugün okula gelmedi

Kapı çaldı mı

Bugün okulda sınav var

Bugün öğretmenimiz sınav yapmayacakmış

10) Aşağıdaki cümledeki kelimelerden kaç tanesi özel isimdir? Yazınız.

Serhat, bugün köpeği Boncuk ile gezmeye gitti. Parkta oyun oynarken arkadaşı Mehmet'i ve onun köpeği Beyaz Diş ile karşılaştı. Beraber parkta oyun oynadıktan sonra evlerine gittiler.

11) Tekil isimler çoğul isimler ve topluluk isimlerine birer tane örnek veriniz.

Tekil:

Çoğul:

12) Eyvah () İbrahim () Berat ve Ali() yi bize çağırmanı unuttum ()"
Yukarıdaki cümlede parantezlerin içine sırası ile hangi noktalama işaretleri kullanılır?

A) (.) (,) (,) (!) B) (!) (!) (') (.) C) (!) (,) (') (.)

13) Aşağıdakilerden hangisinde varlığın sayısı tam bellidir?

A) Birkaç tane tablet

B) Yirmi silgi

C) Birtakım insanlar

14) Hangi sözcük yanlış yazılmıştır?

A) buğday

B) yağmur

C) kazete

MATEMATİK

1) Aşağıdaki saatleri **öğleden sonra** olarak okuyalım.



20:30

yirmi otuz



:




:



:



:



:



:



:



:



:



:



:



:



:



:



:




:




:

MATEMATİK



:



:



:



:



:



:

3) Bir bisikletli 10 dakikada 4 km yol gidiyor. Bu bisikletli **2 saatte** kaç kilometre yol gider?

4) Annem yaptığı keki fırına koydu. Kek 35 dakikada pişti. Kek piştiğinde saat 17.25 oldu. Annem **keki fırına koyduğunda** saat kaçtı?

5) İzlediğimiz tiyatro oyunu 1 saat 25 dakika sürdü. 10 dakika da ara verildi. Oyun başladığında saat 13.45'ti. Buna göre tiyatro oyunu saat kaçta **bitmiştir?**

6) Bindiğimiz tren 15 dakikada 20 km yol gidiyor. Bu tren 480 km'yi kaç saatte gider?

7) Bir oyuncakçı 15 dakikada 1 kukla diyor. Bu oyuncakçı 3 saatte **kaç kukla diker?**

8) Bugün Mayısın 27'sidir ve günlerden çarşambadır. Baykan 12 Haziranda doğum gününü kutlayacaktır. Baykan'ın doğum günü hangi gündür?

9) Metin her gün 45 dakika kitap okuyor. Metin1 haftada **kaç saat kaç dakika** kitap okur?

HAYAT BİLGİSİ

Aşağıdaki cümlelerin doğru olanların başındaki parantez işine "D", yanlış olanlara ise "Y" harfi yazınız.

- (.....)1.) Trafik işaret ve levhaları güvenli bir trafik ortamı sağlar.
- (.....)2.) Kırmızı ışıkta geçip yeşil ışıkta durmalıyız.
- (.....)3.) Karşıdan karşıya geçerken önce sola, sonra sağa, sonra tekrar sola bakarak yol boş ise geçmeliyiz.
- (.....) 4.)Trafığın düzeni ve güveni için konulan kurallara trafik kuralları denir.
- (.....) 5.)Tarihi geçmiş gıdaları tüketmek zehirlenmeler e neden olur.
- (.....) 6.)Pencereden sarkmak eğlenceli davranıştır.
- (.....) 7.)Köylerde polisin görevini itfaiye yapar.
- (.....) 8.)Sivil Savunma günü 28 Mart günüdür.
- (.....) 9.)İsim, adres fotoğraf gibi özel bilgilerimi internette paylaşırım.
- (.....)10.)İstiklal Marşı 12 Mart'ta kabul edilmiştir?

Aşağıdaki cümlelerde boş bırakılan noktalı yerleri uygun kelimelerle tamamlayınız.

çığlık	dikkatsizliktir	levhaları	güvenli
yüksek	Hayat üçgeni	kaçan	Ezbere

- 1) Yolda tanımadığımız biri kolumuzdan tutup çekerse atmalıyız.
- 2) Acil telefon numaralarını hepimiz bilmeliyiz.
- 3) Boğulmalar, yaralanmalar ve zehirlenmelerin çoğunun sebebi
- 4) Oyun oynamak için.....yerler seçmeliyiz.
- 5)Deprem anında dışarıya çıkamıyorsak sağlam bir eşyanın yanında
.....oluşturmaliyiz.
- 6) Parklarda oyun oynarkenyerlerden atlamamalıyız.
- 7) Oyun alanları dışındatopun peşinden koşmamalıyız.
- 8)Trafik işaret ve trafiği düzenlemek için kullanılır.

HAYAT BİLGİSİ

Oyun parkında oyun oynarken tanımadığınız birisi size bakkala gidelim dedi. Bu durumda yapman gerekenleri aşağıya sırasıyla yazar mısın?

.....

.....

.....

.....

Acil durum numaralarını yazar mısın?

Polis:..... Ambulans:.....
Jandarma:..... İtfaiye:.....

AŞAĞIDAKİ SORULARI OKUYUP DOĞRU CEVAPLARINI İŞARETLEYİNİZ.

1-)Yaya olarak trafikte güvenli hareket edebilmek için aşağıdakilerden hangisinden yararlanılamaz?

- A- Trafik İşaretleri
- B-Trafik Levhaları
- C-Trafik Yoğunluğu

2-) Aşağıdaki davranışlardan hangisi trafik kazalarına sebep olur?

- A- Trafik kurallarına uymak
- B-Trafik işaretlerinin anlamlarını bilmemek
- C- Alt ve üst geçitleri kullanmak

3-) Hangi yer ve durumlarda karşıdan karşıya geçilemez?

- A- Yayılar için yeşil ışık yandığı zaman
- B- Arabalar için yeşil ışık yandığı zaman
- C- Yayılar için kırmızı ışık yandığı zaman

5-)Herhangi bir yerimiz yandığı zaman aşağıdakilerden hangisi yapılmamalıdır?

- A- Yanıkla temas eden giysileri çıkarmak.
- B-Yanık üzerine soğuk uygulamak.
- C-Yanık üzerini bantla yapıştırmak.

6-) Aşağıdakilerden hangisi güvenli bir yolculuk için uymamız gereken kurallardan birisi değildir?

- A-Ayakta yolculuk yapmak
- B-Emniyet kemeri takmak
- C-Arabanın camından başımızı çıkarmamak

7-)Aşağıdakilerden hangisi kazalara karşı alınabilecek bir önlem değildir?

- A- Uyarı yazı ve levhaları asmak.
- B- Büyüklerden yardım istemek.
- C- Her işi kendimiz yapmak.

HAYAT BİLGİSİ

8-) Aşağıdaki davranışlardan hangisi bizim için tehlike oluşturmaktadır?

- A- Yabancı insanların tekliflerine 'hayır' demek,
B-Tanımadığımız insanların arabasına binmek,
C- Yabancı insanlarla konuşmamak,

9-) Aşağıdaki doğal afetlerden hangisi ülkemizde çok sık görülmez?

- A- Deprem B- Sel C- Tsunami

I. Işıklı İşaret Cihazı II. Yaya Geçidi
III. Üst Geçit

10-) Karşıdan karşıya geçerken yukarıdakilerden hangilerini kullanmalıyız?

- A) I ve II B) II ve III C) I, II ve III

Dizlik Emniyet kemeri Kask

11-) Yukarıdaki ifadeler aşağıdakilerden hangisini çağırır?

- A) Trafik B) Güvenlik C) Oyun araçları

I. Trafiği düzenler.
II. II. Kurallara uymayanları uyarır.

12-) Yukarıda belirtilenler aşağıdakilerden hangisinin görevidir?

- A. Trafik müdürü
B. Trafik polisi
C. Trafik amiri

"Satın aldığımız ürünün ..I.. dikkatlice okumalıyız.".....II..... olan ürünleri tercih etmeliyiz."

13-) Yukarıdaki cümlelerde noktalı yerlere hangileri gelmelidir?

- I
A. faturasını
B. kullanma kılavuzunu
C. garanti belgesini
- II
pahalı
garanti belgesi
kampanyalı



I



II



III

14-) Yukarıdaki levhalardan hangisi yaya giremez anlamındadır?

- A. I B. II C. III

I. Oyuncaklar II. Kibrit, çakmak gibi maddeler
III. Kesici aletler

15-) Yukarıdakilerden hangileri ev kazalarına sebep olabilir?

- A. I - II B. II - III C. I - III

I. Tanımadığınız bir kişi size yiyecek teklif ettiğinde

II. Arkadaşınız resmine yardımcı olmanızı istediğinde

III. Okul çıkışı eve giderken kestirme yoldan gidelim dendiğinde

16-) Yukarıdaki durumlara karşılaştığımızda hangilerine "hayır" demeliyiz?

- A. I - II B. I - III C. I - II - III

HAYAT BİLGİSİ

AŞAĞIDAKİ CÜMLELERİN DOĞRU OLANLARIN BAŞINDAKİ PARANTEZ İÇİNE "D" YANLIŞ İSE "Y" HARFİ YAZINIZ.

(.....) Trafik işaret ve levhaları güvenli bir trafik ortamı sağlar.

(.....) İnsanların karşıdan karşıya güvenli bir şekilde geçebilmeleri için yolun belirlenmiş bölümüne yaya geçidi denir.

(.....) Karşıdan karşıya geçerken önce sola, sonra sağa, sonra tekrar sola bakarak yol boş ise geçmeliyiz.

(.....) Trafiğin düzeni ve güveni için konulan kurallara trafik kuralları denir.

(.....) Tarihi geçmiş gıdaları tüketmek zehirlenmeler e neden olur.

(.....) Pencereden sarkmak eğlenceli davranıştır.

(.....) Köylerde polisin görevini itfaiye yapar.

(.....) Güvenliğimizi tehdit eden bir kişi olduğunda yanından uzaklaşmalı ve bağırarak yardım istemeliyiz.

(.....) İsim, adres fotoğraf gibi özel bilgilerimi internette paylaşırım.

(.....) kişinin yaşlıları tarafından kendilerine benzer şekilde davranmaya zorlamasına akran baskısı denir.

AŞAĞIDAKİ CÜMLELERDE BOŞ BIRAKILAN NOKTALI YERLERİ UYGUN KELİMELERLE TAMANLAYINIZ.

kask	trafik polisi	Elektrik çarpması	bisiklet yolu	trafik
177	deprem çantası	dikkatsizlik	soğukkanlı	ailem

Bisikletimizigibi güvenli yerlerde kullanmalıyız.

Bisiklet, paten ,kaykay gibi araçları kullanırken dizlik ,dirseklik vetakmalıyız.

Deprem olmadan önce evlerimizdehazırlamalıyız.

İnternette yaptığım her şeyianlatırım.

Orman kenarından geçerken ormanda bir yangın görürseknumaralı telefonu aramalıyız.

Kazalar genelliklebilgisizlik sonucu oluşur.

Trafik işlerini yürüten emniyet görevlisinedenir.

Trafiğin düzenli bir şekilde işlemesi için konulan kurallarakuralları denir.

Elektrikli aletlere ve prizlere ıslak elle dokunmak

.....neden olur.

Kaza ya da yaralanmalarda

.....davranılmalıdır.

AŞAĞIDAKİ SORULARI OKUYUNUZ VE DOĞRU OLAN SEÇENEĞİ İŞARETLEYİNİZ.

S-1......Daire ve kırmızı renkli trafik levhaları yasaklayıcı anlam taşır.

..... Üçgen şeklindeki trafik işaretleri uyarıcı anlam taşır

..... Kare şeklindeki trafik levhaları bilgilendirici anlam taşır.

Yukarıdaki doğru ifadelere ait kutucuklar doğru işaretlendiğinde **sonuç nasıl olur?**

A- D,Y,D

B- D,D,D

C- Y,D,D

HAYAT BİLGİSİ

S-2. Parkta oynarken yaşlı bir teyzenin fenalaşıp yere düştüğünü gördüm. Çevredeki insanlar hemen yardım çağırdılar. Merve'nin bahsettiği olayda çevredeki insanlar, telefonlarıyla **hangi numarayı aramış olabilir?**

A-156 **B-** 112 **C-**177

S-3. Karşılaştığımız hangi durumda hayır diyerek yakınlarımızdan **yardım istemeliyiz?**

A- Yolda tanımadığımız biri, bizi evimize götürebileceğini söylediğinde

B- Annemizin işi varken üst komşumuz Elif teyze, bizi okuldan almaya geldiğinde

C- Okul çıkışında öğretmen bizi yanına çağırdığında

S-4. Sokakta oynarken biri bizi arabasına zorla bindirmek istediğinde **ne yapmalıyız?**

A- Kibarca reddetmeliyiz.

B- Bağırarak çevredeki insanlardan yardım istemeliyiz.

C- Kabul etmeliyiz ve arka koltukta oturmalıyız.

S-5. Kenan: Ailem beni okuldan almak için gecikirse eve kendim giderim.







Gülsün: Okul çıkışında ailem beni almaya gelmez ise öğretmenimden beni eve bırakmasını isterim.

Gülizar: Ailem beni okuldan almakta gecikirse öğretmenimden veya müdür yardımcısından ailemi aramasını isterim. Yukarıdaki hangi öğrencinin davranışı **doğrudur?**

A- Kenan **B-** Gülsün **C-** Gülizar

FEN BİLİMLERİ

1) Tablodaki varlıkların özelliklerini uygun yerlere " X " işareti koyunuz.

						
Çoğalır						
Büyür						
Beslenir						
Hareket eder						
Nefes alır						
Ölür						

2) Canlı vücudundaki atıkların dışarıya atılmasına **ne denir?**

- A) Atılım B) Boşaltım C) Büyüme

3) Aşağıdakilerden hangisi tüm canlılarda olan bir özellik **değildir?**

- A) Düşünme
B) Uyarılara tepki verme
C) Solunum

4) "Ayçiçeği (Günebakan) bitkisi, gün içerisinde güneşin yönüne göre yön değiştirebilmekte, yüzünü güneşe dönmektedir."





Yukarıdaki açıklamaya göre, bitkilerin hangi özelliğe sahip olduğu söylenebilir?

- A. Solunum B. Hareket etme C. Boşaltım

FEN BİLİMLERİ

5) Aşağıdaki canlılardan hangisinin hareket etme özelliği sınırlıdır?



6) Resimdeki varlıkta aşağıdaki özelliklerinden kaç tanesi vardır?



- * Büyüme
- * Beslenme
- * Çoğalma
- * Hareket etme

A) 2

B) 3

C) 4

çiçek

canlı

cansız

hareket eden


masa

hareket etmeyen

7) Aşağıdaki cümlelerde boş bırakılan yerleri uygun kavramlarla tamamlayınız.

Çevremizdeki varlıklar ve olmak üzere ikiye ayrılır . Doğan , büyüyen , gelişen ve varlıklara varlıklar denir . İnsan , ayı , , solucan balık gibi varlıklar varlıklardır . Dışarıdan bir etki olmadan büyüemeyen , varlıklar varlıklardır . Taş , , kitap gibi varlıklar varlıklardır .

8) Aşağıdakilerden hangisi canlı bir varlık değildir?



9) Canlıların ortak özellikleriyle ilgili olarak aşağıda verilenlerden hangisi yanlıştır?

- A) Bitkiler hariç bütün canlılar hareket eder.
- B) Canlılar, dışarıdan gelen uyarılara tepki verirler.
- C) Canlılar, kendilerine benzer canlılar meydana getirirler.

FEN BİLİMLERİ

10) Aşağıdaki ifadelerden hangisi yanlıştır?

- A) Hayvanlar yer değiştirerek, bitkiler ise yer değiştirmeden hareket ederler.
B) Canlıların soluk alıp verme organları farklıdır.
C) Hayvanlar kendi besinlerini kendileri üretirler.

11) Aşağıda verilen kelimeleri bulmacadan bularak boyayalım. Yalnız aşağıda yazılmayan iki tane gizli kelime var. Gizli kelimeleri bulduktan sonra da noktalı yere yazalım.

(Yukarıdan aşağıya, çapraz, soldan sağa ve sağdan sola doğru sıralanmıştır.)

*HOROZ *KAVAK *FİDAN *MEYVE *TOHUM *ÇİÇEK *SOLUNGAÇ
*SU *MANTAR *KUŞ *KEDİ *İNSAN *HAVA *TOPRAK *AYÇİÇEĞİ
*BOŞALTIN *TAŞ *SOLUNUM *HAREKET *YAPRAK *BİTKİ *ÇEVRE
*ORHAN *ÇÖP

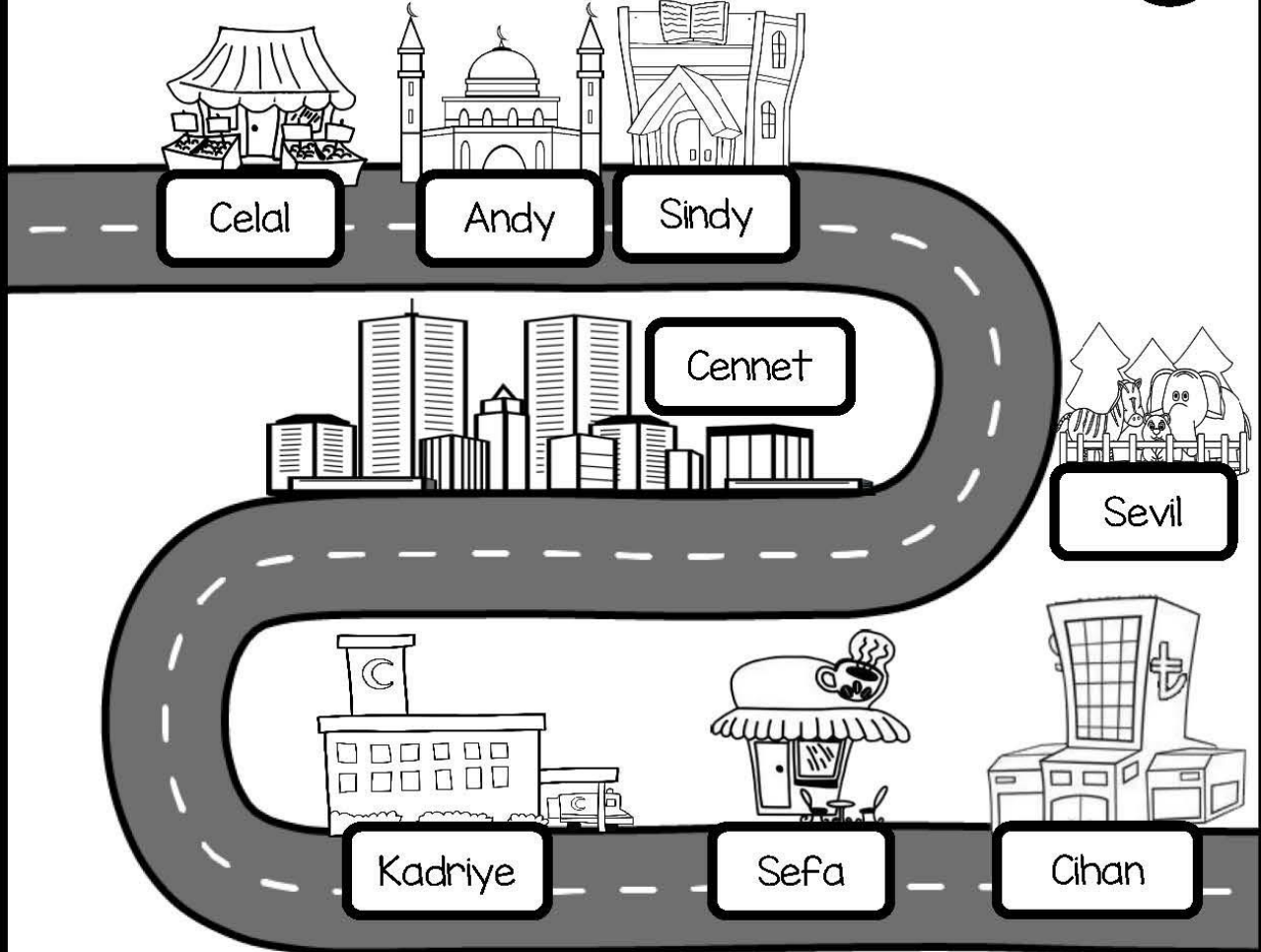
GİZLİ KELİMELER

1.....

2.....

H	U	N	U	L	O	S	T	F	E	S	E	T	S	İ
E	J	Ç	Ö	P	K	E	D	İ	R	U	R	O	Ü	N
Y	T	H	G	Ü	N	E	Ş	D	H	R	L	P	R	S
V	O	H	O	R	O	Z	L	A	A	U	H	R	E	A
E	H	A	Ç	E	V	R	E	N	N	T	H	A	M	N
J	U	V	K	A	V	A	K	G	T	A	Z	K	E	C
K	M	A	U	O	R	H	A	N	A	T	C	V	K	N
O	H	G	Ş	F	H	Ç	K	A	R	P	A	Y	N	Y
P	Y	B	O	Ş	A	L	T	İ	M	T	H	Ş	F	R
A	Y	Ç	İ	Ç	E	Ğ	İ	T	E	K	E	R	A	H

Let's look and number ①



- | | |
|------------------------|---|
| 1. - Where is Andy? | <input type="radio"/> - He is at the bank. |
| 2. - Where is Sindy? | <input type="radio"/> - He is at the market. |
| 3. - Where is Sefa? | <input type="radio"/> - She is at the library. |
| 4. - Where is Cennet? | <input type="radio"/> - She is at the hospital. |
| 5. - Where is Cihan? | <input type="radio"/> - He is at the mosque. |
| 6. - Where is Kadriye? | <input type="radio"/> - She is at the zoo. |
| 7. - Where is Celal? | <input type="radio"/> - She is in the city. |
| 8. - Where is Sevil? | <input type="radio"/> - He is at the cafe. |

Let's look

and write

1. - Where is Nida?

- She is at the park.

2. - Where is Davut?

- _____

3. - Where is Sevgi?

- _____

4. - Where is Ali?

- _____

5. - Where is Sıdka?

- _____

6. - Where is Mustafa?





- _____

7. - Where is Ayşenur?

- _____





8. - Where is Ahmet?

- _____



Let's look and write

Library - Bank - Zoo - Cafe - Mosque
School - Museum - Hospital - Cinema
Shopping Center - Market - Restaurant



Let's read and number ①

1. My mother is at the market.

2. Sindy is at the cafe.

3. He is at the shopping center.

4. She is at the cinema.

5. I am in İstanbul.

6. My friends are in the library.

7. She is at the museum.

8. Ahmet and Melih are at the school.

9. My sister is at the zoo.

10. Andy is at the park.

11. I am in Adana.

12. He is at the mosque.

