

1. SINIF



9. Hafta Fasikülü
2020-2021 Eğitim-Öğretim Yılı

ABC

EVDE EĞİTİM E-FASİKÜL' DE



YERKÖY ARGE

Yerköy İlçe Milli Eğitim Müdürlüğü'nün
uzaktan eğitim sürecinde öğrencilerimiz
için hazırladığı destek hizmetidir.

<http://yerkoy.meb.gov.tr>





Yerköy İlçe Millî Eğitim Müdürlüğü

Mehmet DURMAZ
İlçe Millî Eğitim Müdürü

Meliha ÖZDEN
Necmettin SAGLAM
Şube Müdürleri

M.Suat ATİLA
Koordinatör ve Grafik Tasarım

Hazırlayanlar

Fadime YIKILMAZ DAĞAŞAN	Atatürk İlkokulu
Yılmaz TÜNGER	Sekili Şht. Osman Pekşen İlkokulu
Muhammet DURAN	TOKİ Şht. Ali Salmanlı İlkokulu
Ahmet Şevki ŞAHİN	Saray Yibitaş Ortaokulu



HAYAT BİLGİSİ

Atatürk

açacağı

Okul müdürü

Deprem

Andımızı

- 1) Cumhuriyetimizikurdu.
- 2) Okulumuzu yönetir.
- 3) bir doğal afettir.
- 4) Kalemimizi kalem ile açarız.
- 5) Her sabah derse girerken söyleriz.

6) Aşağıdakilerden hangisi sınıfta bulunmaz?

- A) Atatürk köşesi
- B) Bayrak
- C) Elektrik süpürgesi

7) Mustafa Kemal Atatürk nerede doğmuştur?

- A) Ankara
- B) Selanik
- C) Konya

8) Mustafa Kemal Atatürk'ün mezarı nerede bulunmaktadır ?

- A) Ankara-Anıtkabir
- B) İstanbul-Dolmabahçe Sarayı
- C) İzmir

9) 29 Ekimde kutlanan bayramın adı nedir ?

- A) Ulusal Egemenlik ve Çocuk Bayramı
- B) Atatürk'ü Anma Gençlik ve Spor Bayramı
- C) Cumhuriyet Bayramı

10) Efe hastalıktan korunmak için ne yapmalıdır?

- A) Yemek yemelidir
- B) Aşı olmalıdır
- C) Top oynamalıdır

11- Trafik ışıklarından kırmızı ışık ne demektir?

A)Yol size kapalıdır B)Yol size açıktır C)Hazırlan

12- Hangi duyu organımızla kokuları hissederiz?

A)kulak B)burun C) deri

13- Aşağıdakilerden hangisi bitkidir?

A)ağaç B)balık C) toprak

14- Suyun katı hale geçmesine ne denir?

A)donma B) erime C)buharlaşıma

15- Aşağıdakilerden hangisi kişisel eşya değildir?

A)diş fırçası B)tarak C) televizyon

Tümcelerden doğru olana D , yanlış olana Y yazınız.

16- () Su ısınınca fokurdar buna kaynama denir.

17- () Yemeği hazırlayana eline sağlık derim.

18- () İnek ,koyun ,keçi , at etle beslenen hayvanlardır.

19- () Maddeler doğada katı, sıvı ,gaz halinde bulunur.

20- () Balık, ahtapot, yunus suda yaşar.

1.SINIF – HAYAT BİLGİSİ – DUYU ORGANLARIMIZ ETKİNLİĞİ

DUYU ORGANLARIMIZ



Göz:
Görürüz



Kulak:
Duyarız



Dil :
Tat alırız



Burun:
Koklarız



Deri:
Hissederiz



Çevremizdeki insanlarla duyu organlarımız sayesinde iletişim kurarız. Yemeklerin tadını, kokusunu duyu organlarımız sayesinde alırız. İnsanlarla konuşur, onları dinleriz. Soğuğu, sıcaklığı derimizle hissederiz.

Aşağıdaki cümlelerdeki boş yerlere kutucukların içindeki uygun kelimeleri getiriniz.

iletişim	gözümüz	derimiz
kulağımız	burnumuz	dilimiz

- 1.) Yemeklerin tadını.....ile alırız.
- 2.) Sesleri.....ile duyarız.
- 3.) Varlıkları.....ile görürüz.
- 4.) Sıcak ve soğuğuile hissederiz.
- 5.) Çiçeklerin kokusunu.....ile alırız.
- 6.) Duyu organlarımız insanlarla.....kurmamızı sağlar.

Aşağıdaki cümlelerden doğru olanların başına (D) yanlış olanlara (Y) yazın.

- 1.) () Ağızımız bir duyu organıdır.
- 2.) () Yemeklerin tadını dilimizle alırız.
- 3.) () Elimiz bir duyu organıdır.
- 4.) () İğne battığı zaman acıyı derimiz sayesinde hissederiz.
- 5.) () Varlıkların seslerini kulaklarımızla işitiriz.
- 6.) () Gözlerimiz sayesinde varlıkları görürüz.

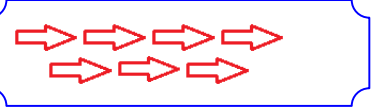
TOPLAMA İŞLEMİ ETKİNLİKLERİ

1) Aşağıdaki toplama işlemlerini yapınız.


$4 + 1 = \dots$



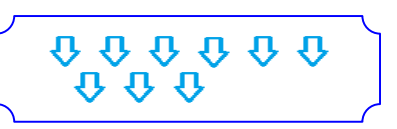
$7 + 2 = \dots$



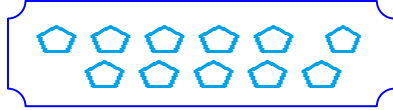
$6 + 2 = \dots$



$2 + 5 = \dots$



$8 + 3 = \dots$



2) Aşağıdaki örneği inceleyiniz. Örneğe uygun diğerlerini de siz yapınız.

$$\begin{array}{r} 8 \\ + 1 \\ \hline \dots \\ 1 \\ + 3 \\ \hline \dots \end{array}$$

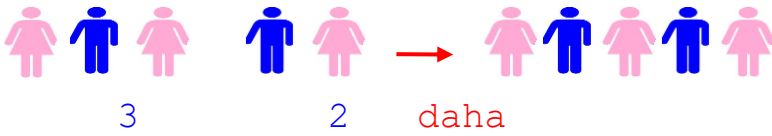
$$\begin{array}{r} 6 \\ + 3 \\ \hline \dots \\ 4 \\ + 5 \\ \hline \dots \end{array}$$

$$\begin{array}{r} 5 \\ + 2 \\ \hline \dots \\ 5 \\ + 2 \\ \hline \dots \end{array}$$

$$\begin{array}{r} 3 \\ + 5 \\ \hline \dots \\ 3 \\ + 6 \\ \hline \dots \end{array}$$

$$\begin{array}{r} 2 \\ + 7 \\ \hline \dots \\ 5 \\ + 3 \\ \hline \dots \end{array}$$

3) Aşağıdaki örneği inceleyiniz. Diğerlerini de siz yapınız.



....

....

da

.... e



....

....

da

....

ed



...

+

...

=

...

eder

...

+

...

=

...

eder

MATEMATİK

1.SINIF MATEMATİK ZİHİNDEN TOPLAMA İŞLEMİ ALIŞTIRMALARI

❖ Aşağıdaki toplama işlemlerini zihinden toplayarak örnekteki gibi yazın.

5

+

2	=	7
4	=	
6	=	
8	=	
10	=	

4

+

4	=	8
5	=	
7	=	
9	=	
12	=	

7

+

5	=	13
0	=	
6	=	
4	=	
11	=	

3

+

6	=	9
4	=	
7	=	
12	=	
15	=	

1

+

9	=	19
5	=	
4	=	
10	=	
0	=	

9

+

1	=	10
4	=	
10	=	
11	=	
8	=	

1

+

4	=	17
3	=	
6	=	
1	=	
2	=	

8

+

0	=	8
8	=	
10	=	
2	=	
12	=	

1

+

5	=	20
0	=	
4	=	
3	=	
1	=	

- Doğru yaptığın her tablo için bir tane kelebek boyar mısın?



MATEMATİK

❖ Aşağıdaki toplama işlemlerini zihinden yapın, sonuçlarını eşleştirin.

$2 + 3$

$5 + 4$

$4 + 6$

$1 + 10$

$7 + 7$

$8 + 10$

$6 + 11$

$3 + 1$

$8 + 0$

$10 + 3$

$6 + 6$

$7 + 8$

$4 + 2$

18

4

11

9

17

12

15

10

5

8

13

6

14

❖ Aşağıdaki toplama işlemlerini zihinden yapın, aynı sonucu bulduğunuz işlemleri aynı renge boyayın.

$5 + 9$	$4 + 9$	$2 + 8$	$3 + 10$	$7 + 6$	$6 + 4$
$9 + 9$	$10 + 0$	$7 + 8$	$1 + 16$	$5 + 13$	$11 + 5$
$7 + 13$	$9 + 6$	$3 + 4$	$10 + 9$	$15 + 3$	$4 + 2$

MATEMATİK

Aşağıdaki işlemleri örneğine uygun yapınız.

$$\begin{array}{cccc} 5 & + & 4 & + & 1 \\ \downarrow & & \downarrow & & \downarrow \\ 9 & + & 5 & & \\ \downarrow & & \downarrow & & \\ \boxed{14} & & & & \end{array}$$

$$\begin{array}{cccc} 6 & + & 3 & + & 4 \\ \downarrow & & \downarrow & & \downarrow \\ & + & & & \\ \downarrow & & \downarrow & & \\ \boxed{} & & & & \end{array}$$

$$\begin{array}{cccc} 6 & + & 2 & + & 4 \\ \downarrow & & \downarrow & & \downarrow \\ & + & & & \\ \downarrow & & \downarrow & & \\ \boxed{} & & & & \end{array}$$

$$\begin{array}{cccc} 5 & + & 4 & + & 5 \\ \downarrow & & \downarrow & & \downarrow \\ & + & & & \\ \downarrow & & \downarrow & & \\ \boxed{} & & & & \end{array}$$

$$\begin{array}{cccc} 4 & + & 4 & + & 3 \\ \downarrow & & \downarrow & & \downarrow \\ & + & & & \\ \downarrow & & \downarrow & & \\ \boxed{} & & & & \end{array}$$

$$\begin{array}{cccc} 7 & + & 3 & + & 5 \\ \downarrow & & \downarrow & & \downarrow \\ & + & & & \\ \downarrow & & \downarrow & & \\ \boxed{} & & & & \end{array}$$

$$\begin{array}{cccc} 6 & + & 3 & + & 5 \\ \downarrow & & \downarrow & & \downarrow \\ & + & & & \\ \downarrow & & \downarrow & & \\ \boxed{} & & & & \end{array}$$

$$\begin{array}{cccc} 6 & + & 3 & + & 4 \\ \downarrow & & \downarrow & & \downarrow \\ & + & & & \\ \downarrow & & \downarrow & & \\ \boxed{} & & & & \end{array}$$

MATEMATİK

8 — 3 — 2 7 — 4 — 3

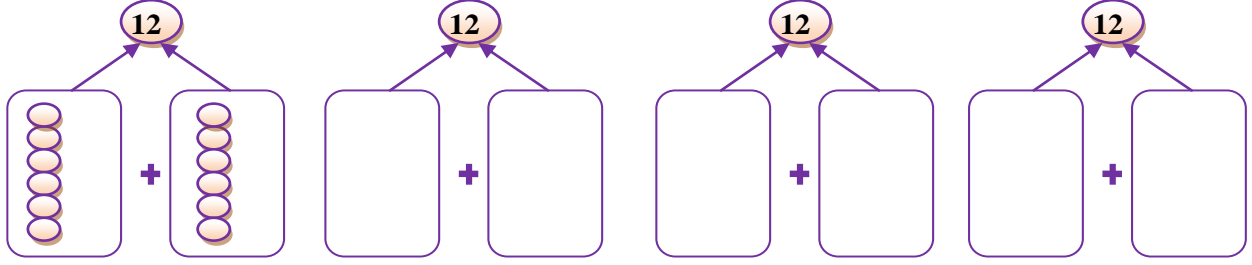
9 — 5 — 2 9 — 4 — 1

8 — 3 — 1 8 — 2 — 1



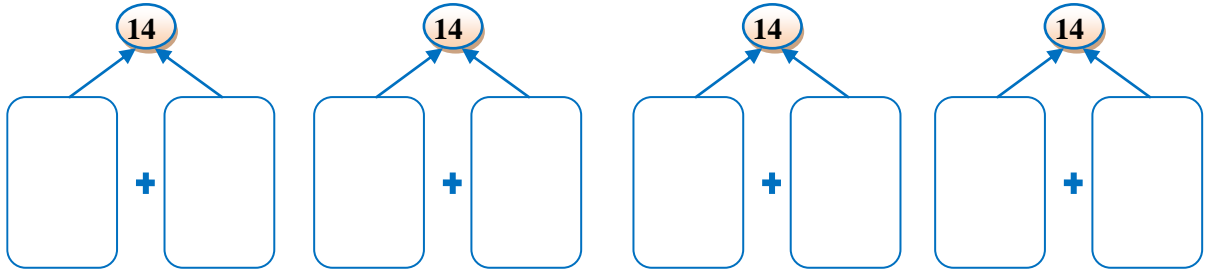
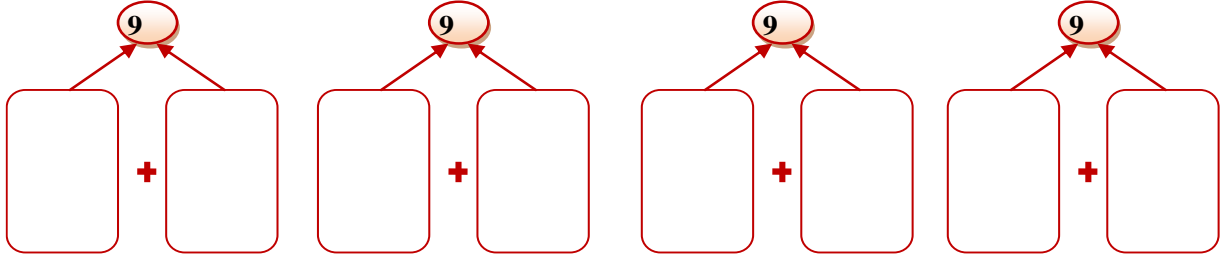
8 — 4 — 1 7 — 3 — 2

MATEMATİK

Aşağıdaki örnekte olduğu gibi istenilen sayıyı bulmak için toplananların kaç olması gerektiğini düşün ve şekilleri çiz. Şekillere ait işlemi altına yap.



$$6 + 6 = 12$$



MATEMATİK

VERİLMİYEN TOPLANANI BULMA ETKİNLİĞİ

10 7 + ...	10 8 +	10 5 +	10 6 +	10 9 +	10 4 +
---------------	-----------	-----------	-----------	-----------	-----------

12 6 +	12 7 +	12 8 +	12 9 +	12 10 +	12 11 +
-----------	-----------	-----------	-----------	------------	------------

14 9 +	14 8 +	14 7 +	14 6 +	14 10 +	14 11 +
-----------	-----------	-----------	-----------	------------	------------

16 8 +	16 9 +	16 10 +	16 12 +	16 14 +	16 15 +
-----------	-----------	------------	------------	------------	------------

18 9 +	18 10 +	18 12 +	18 14 +	18 15 +	18 13 +
-----------	------------	------------	------------	------------	------------

20 10 +	20 12 +	20 13 +	20 14 +	20 15 +	20 16 +
------------	------------	------------	------------	------------	------------


11 8 +	11 9 +	11 7 +	11 6 +	11 10 +	11 4 +
-----------	-----------	-----------	-----------	------------	-----------

8 7 +	8 6 +	8 5 +	8 4 +	8 2 +	8 8 +
----------	----------	----------	----------	----------	----------

7 4 +	7 5 +	7 3 +	7 6 +	6 3 +	6 4 +
----------	----------	----------	----------	----------	----------

TÜRKÇE TESTİ

Hava çok güzeldi. Seda, köpeği Benekli'yi alıp dışarı çıktı. Evin yakınlarında bir park vardı. Parkta koşup eğlendiler. Oyunlar oynadılar. Benekli, Seda ile çok iyi vakit geçiriyordu. Artık eve dönme vakti gelmişti. Çünkü annesinden bir saatlik izin alabilmişti.



1. ve 2. soruları metne göre cevaplayalım.

1. Seda, köpeği ile nerede oynadı?

- A. Parkta
- B. Bahçede
- C. Ormanda

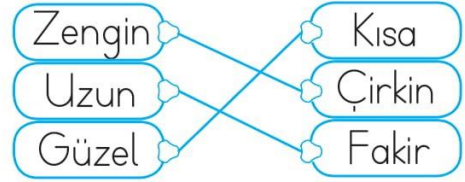
2. Seda'nın köpeğinin adı nedir?

- A. Pamuk
- B. Benekli
- C. Karabaş

3. Aşağıdakilerden hangisi "K" ve "R" harflerinin arasında değildir?

- A. M
- B. Ö
- C. S

4.



Yukarıda zıt anlamlı kelimeler eşleştirilmiştir.

Bu eşleşmelerden kaç tanesi yanlıştır?

- A. 1
- B. 2
- C. 3

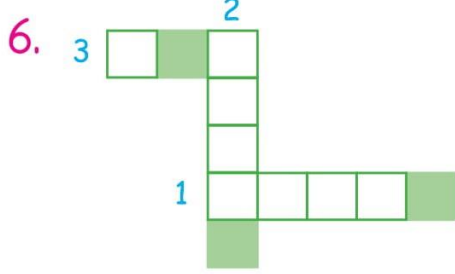
5.



Numaralandırılmış balonların içindeki sözcüklerden hangisinin yazımı yanlıştır?

- A. 1
- B. 2
- C. 3

TÜRKÇE TESTİ



1. "Mutlu" sözcüğünün zıt anlamlısı
2. "Büyük" sözcüğünün zıt anlamlısı
3. "Az" sözcüğünün zıt anlamlısı

Yukarıdaki bulmaca çözüldüğünde boyalı kutulardaki harflerle hangi sözcük oluşturulabilir?

- A. saç B. küs C. kon

7. Aşağıdakilerden hangisi "kırmızı" kelimesinin eş anlamlısıdır?

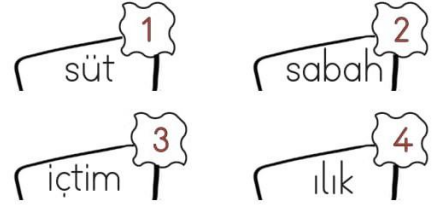
- A. Ak
B. Al
C. Siyah

8. Bal yapan, iğnesi olan ve sokan böcek.

Tanıtımı yapılan hayvan aşağıdakilerden hangisidir?

- A. B. C.

9.



Yukarıdaki sözcüklerle anlamlı ve kurallı cümle oluşturulduğunda sıralama nasıl olmalıdır?

- A. 1 - 2 - 3 - 4
B. 3 - 1 - 2 - 4
C. 2 - 4 - 1 - 3

10. Aşağıdakilerden hangisi harf değildir?

- A. 2 B. K C. A

TÜRKÇE TESTİ

11. Aşağıdakilerden hangisinin sonuna nokta konulmalıdır?

- A. Ayça kitap okuyor
- B. Denize girelim mi
- C. Oooo, çok güzel olmuş

12. Aşağıdakilerden hangisi cümle değildir?

- A. Benimle oynar mısın
- B. Gördüm
- C. Sabah kahvaltı

13. Aşağıdakilerden hangisi hecelerine doğru ayrılmıştır?

- A. kitap-
lık
- B. pat-
ates
- C. sek-
iz

14.

öykü	isim	kırmızı
al	harf	büyük
ad	hikaye	ses

Tahtadaki eş anlamlı sözcükler eşleştirildiğinde hangisi dışarıda kalır?

- A. harf
- B. büyük
- C. ad

15.

Ali  zaman - vakit

İsa  ak - beyaz

Can  uzak - yakın


Yukarıdaki tabloda hangi öğrencilerin yazdığı kelimeler eş anlamlı değildir?

- A. İsa
- B. Can
- C. Ali

TÜRKÇE TESTİ

RESSAM RAFİ

Arı Rafe, resim yapmayı çok seviyordu. Farklı çiçeklere konup onların resmini yapıyordu. Yaptığı resimleri kovanının yanında saklıyordu. Resimleri o kadar güzel olduğu için arkadaşları ona Ressam Rafe diyordu.



1. ve 2. soruları metne göre cevaplayalım.

1. Arı Rafe ne yapmayı çok seviyordu?

- A. Resim yapmayı
- B. Şarkı söylemeyi
- C. Dans etmeyi

2. Yaptığı resimleri nerede saklıyordu?

- A. Bal peteğinin içinde
- B. Kovanın yanında
- C. Evin bahçesinde

3. Aşağıdakilerden hangisinin ünlü harf sayısı, ünsüz harf sayısından fazladır?

- A. 
- B. 
- C. 

4.



Yukarıdaki görseller arasında bir anlam ilişkisi vardır.

Aşağıdakilerden hangisinde yukarıdaki anlam ilişkisi yoktur?

- A. 
- B. 

- C. 


5. Aşağıdaki noktalama işaretlerinden hangisinde hata vardır?

- A. Kaç yaşındasın?
- B. Kim denize girdi.
- C. Offf! Canım sıkıldı.

TÜRKÇE TESTİ

6. : Nesnelerin görünüşünü veren arkası koyu olan cam.
Yukarıda anlamı verilen kelime hangisidir?

- A. Ayna
- B. Masa
- C. Tabak

7.  Çocuklar, aşağıdaki cümlelerden hangisinin sonuna "oynadım" yazarsak cümle anlamsız olur?

- A. Arkadaşımla oyun
- B. Evde topumla
- C. En sevdiğim kedi

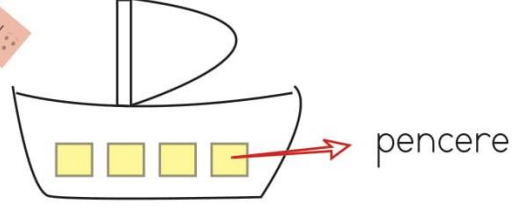
8. Ablam pazardan elma armut kivi ve muz aldı.

Yukarıdaki cümlede kaç virgöl kullanılmalıdır?

- A. 2
- B. 3
- C. 4

Soruya Gel:

9.



Yukarıdaki gemi fırtınaya yakalandı. Fırtınadan kurtulmak için yelkenin aşağı indirilmesi gerekiyor.

Yelkeni aşağı indirmek için pencere sayısı ile aynı sayıda hecesi olan kelimeyi seçmeniz gerekiyor. Hangi kelime gemiyi fırtınadan kurtarır?

- A. Gergedan
- B. Kaplumbağa
- C. Kelebek

10. Babam arabanın kapısını kapatmayı unuttu.


Yukarıdaki cümlede hangi sorunun cevabı yoktur?

- A. Ne zaman?
- B. Kim?
- C. Neyi?

TÜRKÇE TESTİ

Soru Gel...

11.



Yavru yılanın karnı acıktı. Karnını doyurması için elmaları alfabetik sıraya göre yemesi gerekiyor.

Yılan elmaların hangisini en son yer?



12. 1 okuldan 2 geldi 3 Taner

Yukarıdaki kelimelerden kurallı cümle oluşturmak istersek sıralama nasıl olmalıdır?

- A. 1 2 3
 B. 2 3 1
 C. 3 1 2

13.



"Rüzgar" kelimesi hangi cümlede özel isim olarak kullanılmıştır?

- A. Rüzgar kuvvetli esiyor.
 B. Rüzgar'ın topu patladı.
 C. Rüzgar gibi geçti.

14. Aşağıdakilerden hangisi cümle değildir?

- A. Gözlerimi
 B. Yarın ablamlar gelecek
 C. Düştüm

15. Aşağıdakilerden hangisi 6 harflidir?



A.

B.



C.