

3. SINIF



9. Hafta Fasikül  
2020-2021 Eğitim-Öğretim Yılı

# EVDE EĞİTİM E-FASİKÜL' DE



## YERKÖY ARGE

Yerköy İlçe Milli Eğitim Müdürlüğü'nün  
uzaktan eğitim sürecinde öğrencilerimiz  
için hazırladığı destek hizmetidir.

<http://yerkoy.meb.gov.tr>



ABC





## Yerköy İlçe Millî Eğitim Müdürlüğü


### Hazırlayanlar

Ömer YIMAZ	Atatürk İlkokulu
Özlem KÜÇÜK	Şht. Kamil Çelikkaya İlkokulu
Ayşe Nur COŞKUN	Şht. Kamil Çelikkaya İlkokulu
Serhat GÜLCEGÜL	Şht. Kamil Çelikkaya İlkokulu
Yakup MURAT	Şht. Kamil Çelikkaya İlkokulu
Ahmet YARIÇI	Reşat Akyön İlkokulu

**Mehmet DURMAZ**  
İlçe Milli Eğitim Müdürü

**Meliha ÖZDEN**  
**Necmettin SAGLAM**  
Şube Müdürleri

**M.Suat ATİLA**  
Koordinatör ve Grafik Tasarım



# TÜRKÇE

## TÜRK ASKERİ AĞLAMAZ

Mustafa Kemal 19 Mayıs 1919'da Samsun'a çıkmıştı. Bir iki gün sonrasıydı. Üstü başı yırtık bir asker, ayakkabıları eskimiş, silahsız bir asker gördü. Askerin yüzünün rengi solmuştu. Oldukça zayıflamış bu Türk askeri ağlıyordu. Ona sordu:

-Asker ağlamaz arkadaş! Sen niçin ağlıyorsun?

Asker irkildi, kafasını kaldırdı. O, bu sesi tanıyordu. Karşısında duran bu adamın yüzü yabancı değildi. Az düşündükten sonra hemen aklına geldi. Karşısında duran Çanakkale Savaşları'ndaki komutanı Mustafa Kemal'in ta kendisiydi!.. Hemen doğruldu, çelik bir yay gibi komutanını selamladı.

Mustafa Kemal yeniden sordu:

-Söyle, niçin ağlıyorsun?

Yürekli Anadolu çocuğu içini çekti:

-Düşman memleketi bastı. Hükümet beni terhis etti. Silahlarımız elimizden alındı. Toprağıma ayak basan düşmanı ne ile yok edeceğim.

Mustafa Kemal ağlamaklı oldu. Elini askerin omzuna koydu:

-Üzülme çocuğum, dedi. Gel benimle!..

Yanıdakilere emir verdi. Samsun deposundan asker elbisesi ve silah alındı. Hemen giyindirildi. Bu asker, Mustafa Kemal'in Kurtuluş Savaşı'ndaki ilk askeri oldu...

(Aşağıdaki soruları metne göre cevaplayınız.)

1- Mustafa Kemal Samsun'a ne zaman çıkmıştı?

.....

2- Mustafa Kemal ne gördü?

.....

3- Gördüğü asker ne yapıyordu?

.....

4- Mustafa Kemal askere ne dedi?

.....

5- Asker niçin ağlıyordu?

.....

6- Mustafa Kemal askere ne dedi?

.....

# TÜRKÇE

7- Yürekli Anadolu çocuğu ne yapmış?

.....

8- Asker ne yapmaz?

.....

9- Askere ne verildi?

.....

Ayşe ve küçük kardeşi Fatih oyun oynamak için parka gittiler. Ayşe salıncağa bindi. Fatih te kumlu alanda oynuyordu. Fatih'te daha sonra uzakta bir köpek gördü. Köpeğin peşinden giden Fatih parktan çok uzaklaşmıştı. Ayşe parkta Fatih'i göremeyince çok telaşlandı. Ayşe parkın yanındaki polise kardeşinin kaybolduğunu söyledi. Polis, Fatih'i aramaya başlamıştı. Parkın yanındaki köşeyi dönen polis önce küçük köpeği ve sonra da Fatih'i gördü. Polis, Fatih'e adını sordu. Fatih de adını söyleyince polis Fatih'i ablasının yanına götürdü.

**(5N 1K)**

**1. Ayşe'nin kardeşinin adı nedir?**

**2. Ayşe ve kardeşinin parka gitme sebebi nedir?**

**3. Fatih parkın uzağında ne görmüştür?**

**4. Fatih'i kim bulmuştur?**

**5. Fatih'i kaybeden Ayşe hangi duyguyu yaşamıştır?**

# TÜRKÇE

**1/ Aşağıdaki sözcüklerden hangisi, sözlükte diğerlerinden önce gelir?**

- A) Bengi B) Beşlik C) Bereket

**2/ "Yaşlı kadın olanca sesiyle bağırdı ( ) ( )Yetişin, hırsız var ( )**

Yukarıdaki sözlerde gösterilen yerlere, sırasıyla hangi noktalama işaretleri konmalı?

- A) (:), (-), (!) B) (...), (-), (.) C) (.), ("), (...)

**3/ Aşağıda verilen kelimelerden anlamlı bir cümle yapıldığında en sona hangi kelime gelir ?**

**" kitaptır , iyi , en , insanların , dostu "**

- a) iyi b) kitaptır c) insanların

**4/ Aşağıdaki cümlelerin hangisinin sonuna nokta konulmalıdır ?**

- a) Ayşe'nin doğum yeri İstanbul'dur  
b) Televizyondaki çizgi filmi izledin mi  
c) Eyvah , çocuk düşecek

**5/Aşağıdakilerden hangisi, birleşik kelime değildir?**

- A-Beşiktaş B-hanımeli C-koltuk

**6/ Aşağıdakilerden hangisi bir cümle değildir?**

- A-Dişlerimi iyice fırçalamalısın.  
B-Yalnız gidemezsin.  
C-Birer birer hepsini

**7/ Kocaman kanatları gökyüzünü kapattı. Ağzında kocaman bir balık vardı. Geldi geldi, kumların üstüne fırlatıp attı balığı.**

**Paragrafta anlatılan hangi hayvan olabilir?**

- A) Martı B) Kedi C) Koyun

**8/ "Aşı olmanın .....yararı hastalıklardan korunmaktır."**

**Yukarıdaki cümlede noktalı yere aşağıdakilerden hangisinin yazılması uygundur?**

- A) en az B) özellikle C) başlıca

# TÜRKÇE

**9/ " Açlıktan başım dönüyordu. " cümlesinde aşağıdaki sorulardan hangisinin yanıtı yoktur ?**

- a. ne                      b. neden                      c. ne zaman

**10/ Hangi cümlede çoğul isim kullanılmamıştır?**

- A) Bayramda hastaları ziyaret ederiz.  
B) Yemekten sonra dişlerimizi fırçalamalıyız.  
C) Sınıfımızı temiz tutmalıyız

**11/Aşağıdaki kelimelerden hangisi birleşik kelimedir?**

- a) Kitapçı              b) Başbakan              c) Kalemlik

**12/ Aşağıdaki sözcük çiftlerinden hangisi zıt anlamlıdır?**

- a) beyaz-ak              c) siyah-kara                      d) büyük-küçük

**13/ Hangi seçenekteki özel ad yanlış yazılmıştır?**

- A)** Muratlar              **B)** elif'in              **C)** Elazığ'da

**14/ Aşağıdaki cümlelerden hangisi yaşanan bir duyguyu belirtmektedir ?**

- a. Hafta sonu ödevlerimi yetiştiremedim.  
b. Ablama çok kızmıştım.  
c. Tatilde bisiklete binmeyi öğreneceğim

# MATEMATİK

## KESİR PROBLEMLERİ

1. Ali 44 tane olan şekerinin  $\frac{1}{4}$  ini kardeşi Berke'ye verdi. Ali kardeşine kaç şeker verdi?  
Çözüm:

7. Aslı 78 tane test sorusunun  $\frac{1}{6}$  ini çözdü. Çözmediği kaç sorusu kalmıştır?  
Çözüm:

2. Zeynep'in 32 cevizi vardı.  $\frac{1}{8}$  ini ağabeyine verdi. Zeynep ağabeyine kaç ceviz vermiştir?

8. Serhat'ın 35 tane yaprak testi vardı.  $\frac{1}{5}$  ini çözdü. Serhat'ın çözmediği kaç yaprak testi kaldı?

3. Tarık'ın 91 bilyesi vardı.  $\frac{1}{7}$  ini kardeşine verdi. Tarık kardeşine kaç bilye vermiştir?

9. Bir kırtasiyeci 36 defterin  $\frac{1}{6}$  ini sattı. Kırtasiyecinin satamadığı kaç defteri kalmıştır?

4. Oktay'ın 72 sayfa kitabı vardı.  $\frac{1}{6}$  ini okudu. Oktay kaç sayfa kitap okumuştur?

10. Bir manav 60 kg elmanın  $\frac{1}{5}$  ini sattı. Manavın satamadığı kaç kg elma kalmıştır?

5. Emre 81 sayfa olan defterinin  $\frac{1}{9}$  ini kullandı. Emre kaç sayfa defter kullanmıştır?

11. Okulumuz binasında 56 cam vardır. Yaz tatilinde  $\frac{1}{4}$  i kırılmış. Kaç sağlam cam kalmıştır?

# MATEMATİK

6. Bekir'in 63 tane misketi vardı.  $\frac{1}{7}$  ini kaybetti. Bekir kaç tane msket kaybetmiştir?

12. Göksel 72 poğaçanın  $\frac{1}{4}$  ini sattı. Satılmayan kaç poğaçası kalmıştır?

1. Beyza'nın 56 fındığı vardı.  $\frac{3}{8}$  ünü yedi. Beyza kaç tane fındık yemiştir?

5. Bir manifaturacı 81 m kumaşın  $\frac{6}{9}$  sını sattı. Manifaturacı kaç metre kumaş satmıştır?

2. Şeymanur'un 68 Ykr parası vardı. Parasının  $\frac{3}{4}$  ünü harcadı. Şeymanur kaç Ykr. para harcamıştır?

6. Bir çiftlikteki 78 koyunun  $\frac{5}{6}$  i satıldı. Çiftlikte kaç tane koyun satılmıştır?

3. Bir sepette 63 tane elma vardı. Elmaların  $\frac{6}{9}$  sı satıldı. Kaç tane elma satılmıştır?

7. Bir ağaca 91 kuş konmuştu. Kuşların  $\frac{5}{7}$  i uçtu. Ağaçtan kaç tane kuş uçmuştur?

4. Okul kantininde satmak üzere 85 kek alan kantinci, bu keklerin  $\frac{4}{5}$  ünü sattı. Kantinde kaç tane kek satılmıştır?

8. Serhat 42 tane test sorusunun  $\frac{4}{7}$  ünü çözdü. Serhat kaç tane test sorusu çözmüştür?



# MATEMATİK

9. Ezgi sınıf kitaplığında bulunan 54 kitabın  $\frac{5}{9}$ 'ini okudu. Ezgi'nin okumadığı kaç kitap kalmıştır?  
Çözüm:

10. Mehmet'in kitaplığında 49 tane Bilim Çocuk dergisi birikmişti. Mehmet bu dergilerin  $\frac{4}{7}$ 'ünü sınıf kitaplığına armağan etti. Mehmet'in kendisine kaç tane dergi kalmıştır?

11. Bir otomobil 72 km'lik yolun  $\frac{8}{9}$ 'ini gidiyor. Otomobilin gideceği kaç km yolu kalmıştır?

12. Bir trende 80 yolcu vardı. İstasyonda  $\frac{3}{5}$  ü indi. Trende kaç tane yolcu kalmıştır?

13. Bir tiyatro salonundaki 72 izleyicinin  $\frac{2}{6}$ 'si erkek seyirci olduğuna göre salonda kaç tane bayan seyirci vardı?

14. Okulumuzdaki 54 pencerenin  $\frac{4}{6}$  ü silindi. Silinmeyen kaç pencere kalmıştır?

15. Nevşehir – Kayseri arası 77 km'dir. Yolun  $\frac{5}{7}$ 'ini giden bir otomobilin daha gideceği kaç km yolu vardır?

16. Sınıfımızda 32 öğrenci vardı. Öğrencilerin  $\frac{5}{8}$ 'i erkek öğrenci ise bu sınıfta kaç kız öğrenci vardır?

# FEN BİLİMLERİ

**1) Canlıların yaşamındaki en önemli ve en büyük ışık kaynağı aşağıdakilerden hangisidir?**

- A) Ay      B) Güneş      C) Lambalar

**2) Aşağıda verilenlerden hangisini yapmak göz sağlığımız için önemlidir?**

- A) Televizyonu yakından izlemek.  
B) Kitapla göz arasında 35 - 40 cm bırakmak.  
C) Bilgisayarı uzun süre kullanmak.

**3) Üzerlerine ışık düştüğünde parlak görünen ve ışık kaynağı gibi algılanan cisimlere aydınlatılmış cisimler denir. Aşağıdakilerden hangisi aydınlatılmış cisim değildir?**

- A) Ay      B) Trafik Levhası      C) Tahta kaşık

**4) Körebe oynarken, ebenin gözü bağlanır. Ebeye diğer çocuklar seslenir. Ebe bu sesleri takip ederek oyuncuların birini yakalamaya çalışır.**

**Buna göre, ebe olan Emre'nin, Ayşe'yi yakalamasıyla ilgili aşağıda verilen yorumlardan hangisi doğrudur?**

- A)Emre'nin gözleri iyi bağlanmamıştır.  
B)Emre, işittiği sesin geldiği yönü takip etmiştir.  
C)Ayşe bilerek Emre'ye kendini yakalatmıştır.

**5) Sınıfta öğretmen masasına yakın oturan öğrencilerin öğretmenin sesini net duyması, arka sıralarda oturanların az duyması doğaldır.**

**Açıklamaya göre aşağıdaki sonuçlardan hangisini çıkartabiliriz?**

- A)Ses her yere aynı şiddette yayılır.  
B)Ses doğrusal yolla yayılır.  
C)Kaynağından uzaklaştıkça sesin şiddeti azalır.

# FEN BİLİMLERİ

**6) Suya atılan taşın su üzerinde oluşturduğu dalgalar aşağıdakilerden hangisinin yayılmasına model olarak gösterilebilir?**

- A) Işığın yayılmasına      B) Sesin yayılmasına      C) Hem ışığın hem de sesin yayılmasına

**7) Taner aşağıdaki deneylerden hangisini sesin her yöne yayıldığını ispatlamak için yapmıştır?**

- A) Çalar saati havası boşaltılmış fanusun içine koyup saatin sesini duymaya çalışması  
B) Üç farklı odada bulunan kardeşlerine seslendiğinde üçünün de Taner'in sesini duyması  
C) Demir kaşık ile önce masaya sonra tencereye vurduğunda farklı sesler duyması

1. Her sesin bir kaynağı vardır.    2. Ses, dalgalar hâlinde yayılır.    3. Ses, her yöne yayılır.

**8) Yukarıdaki ifadelerden hangileri doğrudur?**

- A) 1 ve 2      B) 2 ve 3      C) 1, 2 ve 3

**9) Ercan aşağıdaki deneylerden hangisini sesin her yöne yayıldığını ispatlamak için yapmıştır?**

- A) Çalar saati havası boşaltılmış fanusun içine koyup saatin sesini duymaya çalışması  
B) Üç farklı odada bulunan kardeşlerine seslendiğinde üçünün de Taner'in sesini duyması  
C) Demir kaşık ile önce masaya sonra tencereye vurduğunda farklı sesler duyması

**10) Aşağıdaki verilenlerden hangisi insan kulağı tarafından işitilebilir?**

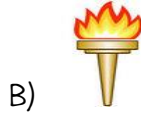
- A) Karıncanın ayak sesi  
B) Kuşun kanat sesi  
C) Kelebeğin kanat sesi

**11. Özel köpek düdüklelerinin çıkardığı sesler insanlar tarafından duyulamadığı hâlde köpekler tarafından duyulabilmektedir. Bu bilgiden faydalanılarak aşağıdaki sonuçlardan hangisine ulaşılabılır?**

- A) İnsanlar her şiddetteki sesleri duyabilir.  
B) Tüm hayvanlar insanların duyamadığı sesleri duyabilir.  
C) Köpekler insanların duyamadığı sesleri duyabilir.

# FEN BİLİMLERİ

12) Aşağıdakilerden hangisi hem doğal ışık kaynağına hem de doğal ses kaynağına örnek olabilir?



13) Aşağıdaki ses kaynaklarından doğal olanlara doğal ses kaynağı, yapay olanlara yapay ses kaynağı yazınız.

Keman sesi	Yapay ses kaynağı
Gök gürültüsü	
Su sesi	
Hoparlör sesi	
Kuş sesi	
Yaprak hisirtisi	
Rüzgarın sesi	
Radyo	
İnsan sesi	
Köpek havlaması	
Yağmur sesi	
Şelale sesi	
Piyano sesi	
İtfaiye sireni	
Helikopter sesi	
Sinek vızıltısı	

Aşağıdaki cümlelerin başına doğru ise( D ) yanlış ise( Y )koyunuz.

(...)Her sesin bir kaynağı vardır.

(...)Ses kaynağı bizden uzaklaşıyorsa sesin şiddeti artar.

(...)Davul, radyo doğal ses kaynağıdır.

(...)Kaynaktan çıkan sesin bize yaklaşıp yaklaşmadığını sesin şiddetinden anlarız.

(...)Ses sadece tek bir yöne gider.

(...)İtfaiyenin sesi attığına göre itfaiye yaklaşmaktadır.

(...)Su ve dalga sesi doğaldır.

(...)Yakındaki ses şiddetli uzaktaki ses az şiddetli duyulur.

(...)Canlı varlıkların ve doğa olaylarının sesi doğal ses kaynağıdır.

(...)Cansız varlıkların ve müzik

aletlerinin sesi yapay ses kaynağıdır.

(...)Yapay ses kaynakları insan etkisi olmadan ses çıkarırlar.

# HAYAT BİLGİSİ

## ANAN DİKKAT AKZA OLHASIN

1) Aşağıdaki verilenlerden hangisi yanlıştır?

- A) Kazalar dikkatsizlik sonucunda olur.
- B) Kazaları önlemek için hiçbir şey yapmamalıyız.
- C) Teneffüslerde bahçe ve koridorlarda koşmamalıyız.


2)



Yandaki görselde belirtilen olay hangi kazaya sebep olur?

- A) yaralanma
- B) yangın
- C) boğulma

3) Yandaki görselde belirtilen olay hangi kazaya sebep olur?



- A) düşme
- B) kesilme
- C) yangın

4)  Hangisi kazalara sebep olur?

Merve

Merve'nin sorusunun cevabı aşağıdakilerden hangisidir?

- A) Dikkatsiz davranmak
- B) Kurallara uymak
- C) Tedbirli olmak

5) Aşağıdakilerden hangisi kazalara karşı alınabilecek bir önlem değildir?

- A) Uyarı yazı ve levhaları asmak.
- B) Büyüklerden yardım istemek.
- C) Her işi kendimiz yapmak.

6) Öğrenciler teneffüste sınıf kapısı önünde oynuyor, kapıyı sürekli açıp kapatıyor ve kapıya tırmanıyorlardı. Bu durumun sonucunda aşağıdakilerden hangisinin olması beklenemez?

- A) Çocukların parmakları kapıya sıkışır ve yaralanma olabilir.
- B) Kapı yerinden çıkabilir ve çocukların üzerine devrilebilir.
- C) Öğrenciler zehirlenebilir.

# HAYAT BİLGİSİ

7) Yüksekteki bir eşyayı almak için yapılması gereken davranış aşağıdakilerden hangisidir?

- A) Sandalyenin üstüne çıkıp almak.
- B) Masanın üstüne çıkıp almak.
- C) Büyüklerimizden yardım istemek.

8) Aşağıdaki davranışlardan hangisi zararlı maddelerin bizi zehirlemesini engeller?

- A) Zararlı maddelerden uzak durmak.
- B) Deterjan ya da oje gibi maddeleri koklamak.
- C) Zararlı maddeleri çocukların rahatça ulaşabileceği bir yere koymak.

9) Aşağıdaki davranışlardan hangisi kazaya sebep olabilecek bir durumdur?

- A) Uyarı ve ikazlara uymak.
- B) Merdivenleri koşarak inip çıkmak.
- C) Oyun oynarken dikkatli ve tedbirli olmak.

10) Yandaki görselde belirtilen olay hangi kazaya sebep olur?



- A) yanma
- B) boğulma
- C) düşme

11) Aşağıdakilerden hangisi evimizde yangın çıkmasına sebep olabilir?

- A) Ocak üstünde unutulmuş yemek
- B) Çalışma odasının kapısının açık kalması
- C) Musluğun bozulması

12) Aşağıdakilerden hangisi kazaya sebep olmaz?

- A) Kesici aletler
- B) İlaçlar
- C) Oyuncaklar

13) Elektrik prizlerine dokunmak ya da deliklerine sivri aletler sokmak hangi kazaya sebep olur?

- A) Düşme
- B) Elektrik çarpması
- C) Boğulma

14) Aşağıdakilerden hangisi boğulmaya neden olabilir?

- A) Bahçedeki çukur ve tümsekler
- B) Nefes borusuna kaçan yabancı cisimler
- C) Islak ve kaygan zeminler

15) Aşağıdakilerden hangisi tehlike oluşturmaz?

- A) Yerdeki cam kırıkları
- B) Dolapların üzerindeki eşyalar
- C) Bahçedeki çiçekler

# HAYAT BİLGİSİ

## ACİL BİR DURM VAR

16) Aşağıdaki verilenlerden hangisi yanlıştır?

- A) Günlük hayatımızda birçok acil durumla karşılaşabiliriz.
- B) Yangın hem malımıza hem canımıza zarar verir.
- C) Kazalara karşı dikkatli olmaya gerek yoktur.



17) Yangın esnasında dumandan daha fazla etkilenmemek için ne yapmamız gerekir?

- A) Emekleyerek yangın yerinden uzaklaşmalıyız.
- B) Yangın çıkan yerde beklemeliyiz.
- C) Kapı ve pencereleri kapatmalıyız.

18) Aşağıdakilerden hangisi yangın esnasında yapmamız gereken bir davranıştır?

- A) Telaşlanarak yangın yerinde beklemek.
- B) Kapı ve pencereleri açmak.
- C) İtfaiyeyi aramak ve komşulara haber vermek.

19) Aşağıdakilerden hangisi kazaların sebeplerinden değildir?

- A) dikkatsizlik
- B) tedbir
- C) ihmal

20) Yangın esnasında aşağıdaki davranışlardan hangisi yapılmamalıdır?

- A) Yangın esnasında asansör kullanmak.
- B) Komşulara haber vermek.
- C) Telaşa kapılmadan büyüklerimize haber vermek.

21) Bir yerimiz kesilebilir veya kanayabilir. Bu durumda aşağıdakilerden hangisi yapılmalıdır?

- A) Kesilen yer bant ile yapıştırılmalıdır.
- B) Kesilen yer su ile yıkanmalıdır.
- C) Büyüklerimize haber verilmelidir.

22) Aşağıdakilerden hangisi kazaya sebep olur?

- A) Arkadaşlarımızla konuşmak.
- B) Arkadaşımızı itmek veya çekmek.
- C) Kazalara karşı dikkatli olmak.

# HAYAT BİLGİSİ

23) Herhangi bir yerimiz yandıđı zaman ařađıda- kilerden hangisi yapılmamalıdır?



- A) Yanıkla temas eden giysileri çıkarmak.
- B) Yanık üzerine sođuk uygulamak.
- C) Yanık üzerine bantla yapıştırmak.

24) Tehlikeli bir durum esnasında insanları uyarmak için kullanılan sese ne ad verilir?



- A) Siren
- B) Müzik
- C) Korna

25) Ařađıdakilerden hangisi acil durum telefon numaralarından deđildir?

- A) 112
- B) 155
- C) 111

26)

Arkadařlarımınla parkta oynarken yařlı bir teyze rahatsızlandıđını ve kendini iyi hissetmediđini söyledi.

Yukarıda açıklanan bir durum ile karřılařıldıđında aranacak acil durum telefon numarası hangisidir?

- A) 112
- B) 186
- C) 184

27) Acil durum numaralarını asılsız ve gereksiz yere aramamalıyız. Bunu sebebi ařađıda- kilerden hangisi olamaz?

- A) Acil durum alıřanları gereksiz ihbarlar nedeniyle zaman kaybeder.
- B) Acil durum numaralarını sürekli aradıđımız zaman yardımlar daha abuk ulařır.
- C) Acil durum yardımı bekleyenlere yardımların ge ulaşmasına sebep olur.

28) Ařađıdakilerden hangisi acil durum deđildir?

- A) Komřumuzun evinde yangın ıkması
- B) Aniden oluřan salgın bir hastalıkların olması
- C) Evimizdeki musluđun bozulması

29)

Evimize hırsız girdiđini fark ettiđimizde hemen .....aramalıyız

Yukarıdaki cümlede boř bırakılan yere hangisi yazılmalıdır?

- A) 186
- B) 155
- C) 112

30) Bir yerde sel felaketi olduđu zaman ařađıdakilerden hangisi acil olarak oraya gitmelidir?

- A) AFAD
- B) Ambulans
- C) Hepsi



## 3<sup>RD</sup> GRADE UNIT 6 MY HOUSE 4

### PREPOSITIONS



WHERE IS .....?  
(House Objects)



IN

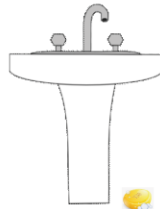
ON

UNDER

OVER HERE  
RIGHT HERE

OVER THERE  
RIGHT THERE

Fill in the blanks.



1. Where is the kettle?  
It is ..... the table.

2. Where is the soap?  
It is ..... the table.

3. Where is the toothbrush?  
It is ..... the cup.



4. Where is the lamp?

It is .....



5. Where is the television?

It is .....

Choose the correct answer.



1. Where is the doll?



2. Where is the bookcase?



3. Where is the ball?



4. Where is the teddy bear?



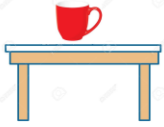
5. Where is the sofa?



6. Where is the cup?

## 3<sup>rd</sup> GRADE

Match the two halves.



1. The cup is

in the garden.



2. The ball is

on the sofa.



3. The tree is

right here.



4. The car is

under the table.



5. The teddy bear is

on the table.



6. The doll is

in the garage.



7. The teddy bear is

in the cup.



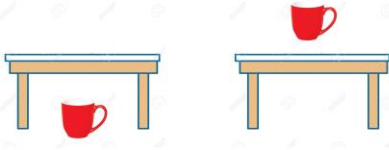
8. The toothbrush is

over there.

## 3<sup>rd</sup> GRADE

Read and choose the correct picture.


1. The cup is under the table.



6. The fridge is over there.



2. The soap is on the sink.




7. The toothbrush is on the table.




3. The teddy bear is in the box.



8. The car is under the sofa.



4. The ball is under the chair.



9. The shampoo is over here.



5. The doll is on the bed.



10. The robot is in the toy box..

