

1. SINIF



8. Hafta Fasikülü  
2020-2021 Eğitim-Öğretim Yılı

# EVDE EĞİTİM E-FASİKÜL' DE



## YERKÖY ARGE

Yerköy İlçe Milli Eğitim Müdürlüğü'nün  
uzaktan eğitim sürecinde öğrencilerimiz  
için hazırladığı destek hizmetidir.

<http://yerkoy.meb.gov.tr>





## Yerköy İlçe Millî Eğitim Müdürlüğü

**Mehmet DURMAZ**  
İlçe Milli Eğitim Müdürü

**Meliha ÖZDEN**  
**Necmettin SAGLAM**  
Şube Müdürleri

**M.Suat ATİLA**  
Koordinatör ve Grafik Tasarım

### Hazırlayanlar

Fadime YIKILMAZ DAĞAŞAN	Atatürk İlkokulu
Yılmaz TÜNGER	Sekili Şht. Osman Pekşen İlkokulu
Muhammet DURAN	TOKİ Şht. Ali Salmanlı İlkokulu
Ahmet Şevki ŞAHİN	Saray Yibitaş Ortaokulu





# TRAFİK KURALLARI



- ✚ Yayaların, hayvanların ve araçların karayolu üzerinde hal ve hareketlerine “**trafik**” denir.
- ✚ Araçlarda bulunmayan, karayolunda hareket veya hareketsiz halinde bulunan insanlara yaya denir.
- ✚ Ülkemizde en çok mal ve can kaybına yol açan kazalar trafikte meydana gelir.
- ✚ Trafik kazalarını önlemek için trafik kurallarını bilmek ve uymak gerekir.



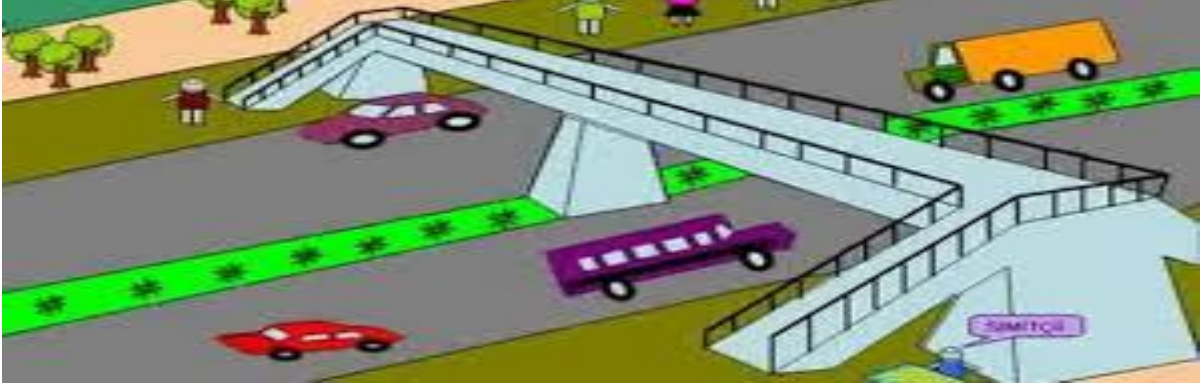
- Trafik lambaları yayalar için iki renklidir. **Kırmızı** dur, **yeşil** geç demektir. Yayalar için yeşil yandığında karşıya geçeriz.



- Duran ve park hâlindeki araçların önünden, arkasından ve arasından geçmeyelim.



- Trafik polisinin olduğu yerde trafik lambasına değil, trafik polisinin işaretlerine uyarak karşıya geçmeliyiz.



- Geçtiğimiz yolda yaya geçidi, trafik lambası ve trafik polisi olsa bile; en güvenli geçişler, alt ve üst geçitlerden yapılanlardır.



- Yaya kaldırımından yürümeliyiz.
- Kaldırım olmayan yollarda yolun sol tarafından yürümeliyiz.
- Böylece karşıdan gelen araçları görebiliriz.



- Karanlıkta yürürken ışığı yansıtan kıyafetler giymeli, el feneri gibi ışık kaynakları kullanarak sürücülerin bizi görmesini sağlamalıyız.





- ✚ Trafik işaretleri olmayan yolda karşıya geçerken önce sola, sonra sağa ve sonra tekrar sola bakarak araçların gelmediğinden emin olmalıyız. Yolun ortasına gelince tekrar sağımıza bakmalıyız. Koşmadan fakat hızlı adımlarla geçmeliyiz.

Trafik kurallarına uyalım!  
Uymayanları uyaralım!

## TÜRKÇE TESTİ

Gamze masasının başında kitap okuyordu. Kapı açıldı ve içeri babası girdi. Elinde bir paket vardı. Gamze, babasının elindeki paketi görünce heyecanlandı. Babası hediyeği ona almıştı. Paketi masanın üzerine koydu. Hızlı ve dikkatli bir şekilde açtı. İçinden baykuş şeklinde bir saat çıktı. Saat çok hoşuna gitmişti. Babasına sarıldı.



1. ve 2. soruları metne göre cevaplayalım.

1. Gamze, babasının elindeki paketi görünce ne hissetti?

- A. Öfke
- B. Sinir
- C. Heyecan

2. Babası, Gamze'ye hediye olarak ne almıştı?

- A. Saat
- B. Kitap
- C. Boya

3. **k y a a**

Yukarıda verilen harfleri kullanarak hangi sözcük yazılmaz?

- A. ayak
- B. kaya
- C. arka





4. "kayısı" sözcüğünün ilk hecesi hangi seçenekteki görselin adında hece olarak kullanılmıştır?















5. Hangi cümlede tek harfli sözcük kullanılmıştır?

- A. O, yanıma gelmedi.
- B. Babam eve geldi.
- C. İrem kitap okuyor.

## TÜRKÇE TESTİ

6.  topladım  elmaları  
 ağaçtan  kırmızı

Yukarıdaki kelimelerle kurallı bir cümle oluşturmak istersek sıralama nasıl olur?

- A.      
 B.      
 C.    

7. Aşağıda bir cümleyi oluşturan kelimeler verilmiştir. Hangi kelime çıkarılırsa cümle oluşmaz?

- A. kırıldım      B. çok  
 C. sana

8. Aşağıdaki kelimelerden hangisi "uzun" kelimesinin zıt anlamlısıdır?

- A. kalın      B. kısa  
 C. şişman

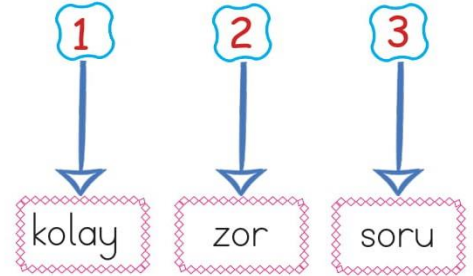
9.



Aşağıdakilerden hangisi yukarıdaki kelimenin zıt anlamlısı değildir?

- A. yaşlı  
 B. ihtiyar  
 C. uzun

10.



Yukarıdaki iki kelime birbirinin zıt anlamlısıdır. Bir tanesi dışarıda kalır.

Samet'in doğru yolu bulması için farklı olan kelimeyi seçmesi gerekiyor. Hangi yol doğrudur?

- A.       B.   
 C. 



## TÜRKÇE TESTİ

11. Hangi seçenekteki sözcükler zıt anlamlı değildir?

- A. ileri - geri
- B. dost - düşman
- C. siyah - kara

12. Ailelerimiz bize zıt anlamlı isimler koymuş.



Kardeşlerin adları hangi seçenekteki olamaz?

- A. Celal - Deniz
- B. Savaş - Barış
- C. Kuzey - Güney

13. Aşağıdaki isimlerden hangisi özel isimdir?

- A. Kalem
- B. Masa
- C. Ali

14. nasıl Annen yapıyor yemek

Yukarıdaki sözcüklerle kurulacak kurallı cümlenin sonuna hangi noktalama işareti gelmelidir?




15. Pazardan elma armut ve kivi aldık

Yukarıdaki cümleye yerleştirilen işaretler, hangi noktalama işaretlerini ifade etmektedir?

A.	virgöl	kısa çizgi	nokta
B.	virgöl	virgöl	nokta
C.	nokta	kısa çizgi	virgöl

Küçük fil güneşten çok etkilenmişti. Gölge-lik bir yer arıyordu. Aynı zamanda da çok susamıştı. Karşısına bir dere çıktı. Dereye eğildi ve güzelce suyunu içti. Biraz rahatlamıştı. Kafasını kaldırdı, karşısında bir ağaç gördü. Gölgesinde oyunlar oynadı.



1. ve 2. soruları metne göre cevaplayalım.

1. Yukarıdaki metne uygun başlık hangisi olabilir?

- A. Filin Hafızası
- B. Filin Arayışı
- C. Filin Kızgınlığı

2. Küçük fil nereden su içti?

- A. dereden
- B. gölden
- C. denizden

3. Aşağıdakilerden hangisi cümlede kelime olarak kullanılmaz?

- A. ol
- B. o
- C. k

4. Görseldeki mevsimler alfabetik sıralanırsa hangisi sonda yer alır?

A.



B.



C.



5. Hangi sözcük hecelerine yanlış ayrılmıştır?

- A. ki - tap - lik
- B. de - fi - ne
- C. siy - ah

6.

insan	yaşlı
adam	genç

Yukarıdaki tabloda zıt anlamlı sözcükler boyanacaktır. Buna göre hangi seçenek doğru olur?

- A. 


      B. 

- C. 


7. Okula ..... ile gidiyorum.

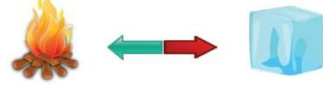
Yukarıdaki cümlede boş bırakılan yere hangisi yazılamaz?

- A. yürüyerek  
B. araba  
C. servis

8. Aşağıdaki kelimelerden hangisinin zıt anlamlısı yoktur?

- A. balon                                      B. kısa  
C. şişman

9.



Yukarıdaki görseller arasındaki anlam ilişkisi hangi görseller arasında yoktur?

- A.      B.      C.

10.  Benimle markete  
 Gidiyorum  
 Kitap okuyorum

Yukarıdaki verilenlerden hangileri cümledir?

- A.     
B.    
C.



11.



Yukarıdaki kelimelerle kurallı cümle oluşturulacaktır. Buna göre baştan ikinci kelime hangisi olur?

- A. çilekli
- B. pasta
- C. yaptı

12.



Yukarıdaki kelimeler, yüz ifadeleri ile eşleştirilirse hangisi boşta kalır?

- A.
- B.
- C.

13.



Yukarıdaki görsel için aşağıdakilerden hangisi söylenemez?

- A. Kar yağıyor.
- B. Ağacın üstünde kar var.
- C. Çocuk karla oynuyor.

14.

- Ankar'a
- İsmail'in
- Ali'yi

Yukarıdaki özel isimlerinden hangisinin yazılımda bir yanlışlık yapılmıştır?

- A.
- B.
- C.

15. Hangi cümlede "Kim?" sorusunun yanıtı vardır?

- A. Pazardan elma aldı.
- B. Ağacı suladı.
- C. Erhan yere düştü.

# MATEMATİK

## PARALARIMIZI TANIYALIM



..... Kr

..... Kr

..... Kr

..... Kr

..... Kr

..... TL



..... TL



..... TL



..... TL



..... TL



..... TL



..... TL

# MATEMATİK

1. Madeni paralarımızı büyükten küçüğe sıralayalım.



2. Kağıt Paralarımızı büyükten küçüğe sıralayalım.



3. Aşağıdaki paralarımız kaç lira veya kaç kuruş yazalım.



4. En büyük madeni paramız .....

5. En küçük madeni paramız .....

6. En büyük kağıt paramız .....

7. En küçük kağıt paramız .....



# MATEMATİK

Aşağıdaki kumbaralarda kaç TL para olduğunu altlarına yazalım.



## Verilmeyen toplananı bulma

Uğur böceklerinin kanatlarında, benekleri inceleyerek toplama işlemlerini yapınız. Esik olan benekleri siz tamamlayınız.



$$3 + 4 = 7$$



$$2 + \dots = 5$$



$$\dots + 3 = 6$$



$$4 + \dots = 10$$



$$5 + \dots = 11$$



$$5 + \dots = 9$$



$$\dots + 7 = 13$$



$$\dots + 6 = 12$$



$$\dots + 5 = 14$$



$$6 + \dots = 16$$



$$10 + \dots = 20$$

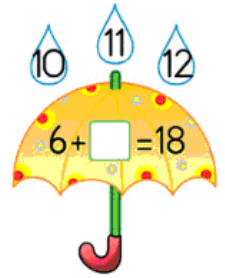
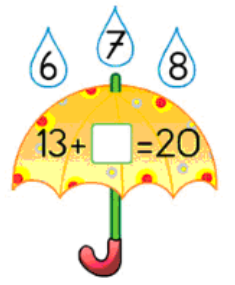

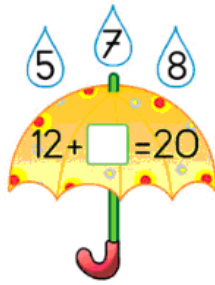
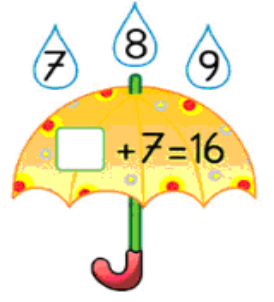
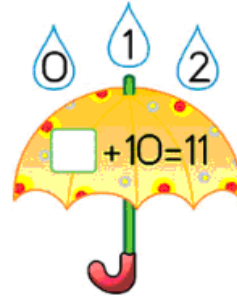
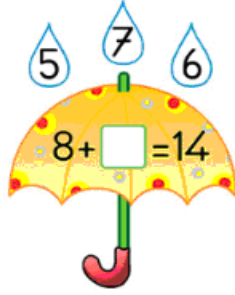
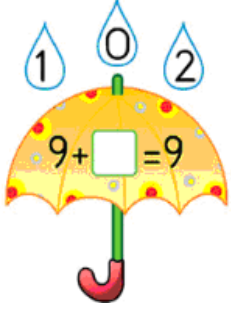

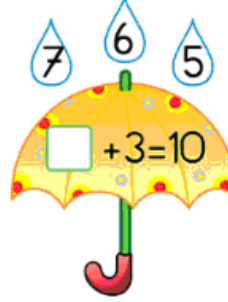
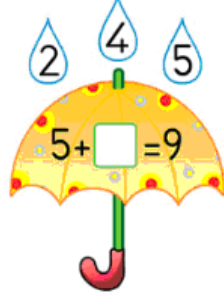
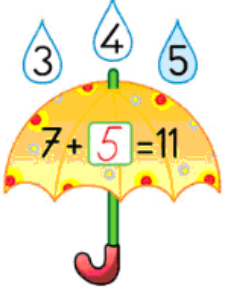


$$\dots + 8 = 20$$

# MATEMATİK

## Verilmeyen toplananı bulma

Şemsiyedeki toplama işlemlerini inceleyiniz. Verilmeyen toplananın yazıldığı yağmur damlasını örnekteki gibi boyayınız.





# MATEMATİK

## Toplama İşleminde Verilmeyen Toplananı Bulma Etkinlik-

1) Aşağıdaki toplama alıştırmalarını yapınız.

$$\begin{array}{r} 3 \\ + \dots \\ \hline 6 \end{array}$$

$$\begin{array}{r} 4 \\ + \dots \\ \hline 7 \end{array}$$

$$\begin{array}{r} 1 \\ + \dots \\ \hline 5 \end{array}$$

$$\begin{array}{r} 1 \\ + \dots \\ \hline 4 \end{array}$$

$$\begin{array}{r} 8 \\ + \dots \\ \hline 9 \end{array}$$

$$\begin{array}{r} 2 \\ + \dots \\ \hline 3 \end{array}$$

$$\begin{array}{r} 3 \\ + \dots \\ \hline 7 \end{array}$$

$$\begin{array}{r} 3 \\ + \dots \\ \hline 8 \end{array}$$

$$\begin{array}{r} 2 \\ + \dots \\ \hline 9 \end{array}$$

$$\begin{array}{r} 3 \\ + \dots \\ \hline 6 \end{array}$$

$$\begin{array}{r} 4 \\ + \dots \\ \hline 7 \end{array}$$

$$\begin{array}{r} 6 \\ + \dots \\ \hline 9 \end{array}$$

$$\begin{array}{r} 1 \\ + \dots \\ \hline 6 \end{array}$$

$$\begin{array}{r} 4 \\ + \dots \\ \hline 7 \end{array}$$

$$\begin{array}{r} 4 \\ + \dots \\ \hline 8 \end{array}$$

2) Aşağıdaki toplama alıştırmalarını yapınız.

1)  $5 + \dots = 6$

$1 + \dots = 4$

$5 + \dots = 8$

2)  $7 + \dots = 8$

$3 + \dots = 8$

$4 + \dots = 9$

3)  $3 + \dots = 6$

$5 + \dots = 7$

$6 + \dots = 8$

4)  $2 + \dots = 6$

$4 + \dots = 5$

$1 + \dots = 5$

# MATEMATİK

Toplama İşleminde verilmeyen toplananı bulma

1) Aşağıdaki toplama alıştırmalarını yapınız.

$$\begin{array}{r} \dots \\ + 6 \\ \hline 9 \end{array}$$

$$\begin{array}{r} \dots \\ + 7 \\ \hline 9 \end{array}$$

$$\begin{array}{r} \dots \\ + 3 \\ \hline 9 \end{array}$$

$$\begin{array}{r} \dots \\ + 8 \\ \hline 9 \end{array}$$

$$\begin{array}{r} \dots \\ + 6 \\ \hline 8 \end{array}$$

$$\begin{array}{r} \dots \\ + 1 \\ \hline 8 \end{array}$$

$$\begin{array}{r} \dots \\ + 5 \\ \hline 7 \end{array}$$

$$\begin{array}{r} \dots \\ + 2 \\ \hline 6 \end{array}$$

$$\begin{array}{r} \dots \\ + 4 \\ \hline 9 \end{array}$$

$$\begin{array}{r} \dots \\ + 1 \\ \hline 9 \end{array}$$

$$\begin{array}{r} \dots \\ + 7 \\ \hline 8 \end{array}$$

$$\begin{array}{r} \dots \\ + 6 \\ \hline 9 \end{array}$$

$$\begin{array}{r} \dots \\ + 1 \\ \hline 4 \end{array}$$

$$\begin{array}{r} \dots \\ + 5 \\ \hline 7 \end{array}$$

$$\begin{array}{r} \dots \\ + 2 \\ \hline 9 \end{array}$$

$$\begin{array}{r} \dots \\ + 3 \\ \hline 9 \end{array}$$

$$\begin{array}{r} \dots \\ + 4 \\ \hline 8 \end{array}$$

$$\begin{array}{r} \dots \\ + 3 \\ \hline 8 \end{array}$$

2) Aşağıdaki toplama alıştırmalarını yapınız.

1) ... + 5 = 7

... + 2 = 6

... + 3 = 9

2) ... + 1 = 9

... + 7 = 8

... + 6 = 9

3) ... + 1 = 4

... + 5 = 7

... + 2 = 9

4) ... + 3 = 9

... + 4 = 8

... + 3 = 8