

2. SINIF



8. Hafta Fasikülü
2020-2021 Eğitim-Öğretim Yılı

EVDE EĞİTİM E-FASİKÜL' DE



YERKÖY ARGE

Yerköy İlçe Milli Eğitim Müdürlüğünün
uzaktan eğitim sürecinde öğrencilerimiz
için hazırladığı destek hizmetidir.

<http://yerkoy.meb.gov.tr>





Yerköy İlçe Millî Eğitim Müdürlüğü

Mehmet DURMAZ
İlçe Millî Eğitim Müdürü

Meliha ÖZDEN
Necmettin SAGLAM
Şube Müdürleri

M.Suat ATİLA
Koordinatör ve Grafik Tasarım

Hazırlayanlar

Hanife KARACA
Özgül DOĞAN
Akın KILINÇ
Cemal ŞEN
Fatih DURAK
Serkan SAVAŞ

Mehmet Akif Ersoy Ortaokulu
Sekili Şht. Osman Pekşen İlkokulu
Şht. İbrahim Yıldız İlkokulu
Şht. Muhammed Ali Ocak İlkokulu
TOKİ Şht. Ali Salmanlı İlkokulu
Şht. Muhammed Ali Ocak İlkokulu





YORGAN GİTTİ KAVGA BİTTİ

Nasrettin Hoca, bir gece uyanmış ki kapının önünde birkaç kişi kavga ediyor.

Hoca:

- Hatun, şu ışığı yak da bakalım neymiş bunların derdi?

Hanım:

- Hoca işin mi yok, şu kışta kıyamette dışarı çıkılır mı, dese de dinletememiş.

Hoca sırtına yorganı alıp dışarı çıkmış.

Çıktığı gibi de oradakilerden biri sırtındaki yorganı alıp kaçmış. Tabi ki kalabalık da bir anda dağılmış, gürültü de kesilmiş.

Titreyerek içeri giren Hoca'ya hanımı:

- Hocam neymiş o dışarıdaki gürültü? diye sorunca, Hoca şu meşhur cevabı vermiş:

- Ne olacak hatun, kavga bizim yorgan içinmiş. Yorgan gitti, kavga bitti.

TÜRKÇE

A. Aşağıdaki soruları fıkraya göre cevaplandıralım.

1. Gece vakti kapının önünde ne oluyormuş?

.....

2. Hoca dışarıya nasıl çıkmış?

.....

3. Hoca dışarı çıkınca ne olmuş?

.....

4. Hoca'ya göre kavga niçin bitmiş?

.....

B. Aşağıda fıkrayla ilgili istenilen bilgileri yazalım.

Kahramanlar:

.....

Yer:

.....

Zaman:

.....

Konu:

.....

C. Aşağıdaki soruları cevaplayalım.

1. Eren sabah erkenden uyandı. Elini yüzünü yıkadı. Kahvaltısını yaptıktan sonra arkadaşı Ahmet ile okula doğru yola çıktılar.

Yukarıdaki metnin kahramanları kimlerdir?

- A. Eren ve babası
- B. Eren ve annesi
- C. Eren ve Ahmet

2. Aşağıdaki seçeneklerin hangisinde zıt anlamlı sözcükler bir arada verilmiştir?

- A. cevap - yanıt
- B. iyi-kötü
- C. basit-kolay

3. Ahmet, geçen yazı köyünde geçirdi. Dedesinin evinde kalan Ahmet köyde çok eğlendi.

Aşağıdaki seçeneklerden hangisi hikayenin zamanını belirtmektedir?

- A. Geçen yaz
- B. Geçen kış
- C. Önümüzdeki bahar

4. "Mehmet'in sorusunu cevap-ladı." Altı çizili sözcüğün yerine hangisi kullanılırsa cümlenin anlamı değişmez?

- A. sual
- B. yanıt
- C. bilmecesini

5. Dünkü maçta mağlup olduk. Altı çizili sözcüklerin yerine hangisi yazılırsa cümlenin anlamı değişmez?

- A. berabere kaldık
- B. yenildik.
- C. galip geldik

6. Hayri ailesi ile birlikte tatilini Antalya' da bir otelde geçirdi. Hayri tatil boyunca çok keyifliydi.

Aşağıdaki seçeneklerden hangisi hikayenin geçtiği yeri belirtmektedir?

- A. Antalya' da bir evde.
- B. Antalya' da bir konakta.
- C. Antalya' da bir otelde.

TÜRKÇE

7. -Yarın Orhan'ın doğum günüymüş()
-Oley, babam yarın geliyor()
-Baban gelmene izin verir mi()

Yukarıdaki cümlelerin sonuna sırasıyla hangi noktalama işaretleri gelmelidir?

- A. (.) (.) (!)
B. (.) (!) (?)
C. (!) (?) (.)

8. Aşağıdaki cümlelerden hangisi kurallı bir cümledir?

- A. Tolga'yı gördüm okul çıkışı.
B. Okul çıkışı gördüm Tolga'yı.
C. Okul çıkışı Tolga'yı gördüm.

9.

1. Emre ile Çetin yarışma alanına geldi.
2. Emre en az Çetin kadar heyecanlıydı.
3. Hakemin düdüğüyle yarış başladı.
Yukarıdaki cümlelerin hangi-sinde özel isim kullanılmıştır?
- A. 3 B. 2 C. 1

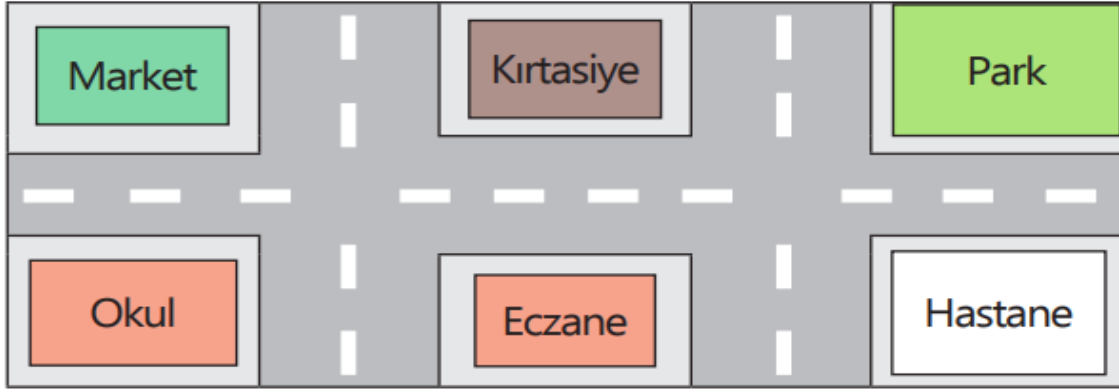
Cevap Anahtarı:

1. C
2. B
3. C
4. A
5. B
6. C
7. B
8. C
9. A

UZAMSAL İLİŞKİLER

Yer, Yön , Hareket Belirtelim ve Simetri

1) Aşağıdaki görsele göre cümlelerdeki boşlukları verilen ifadelerden uygun olanıyla doldurunuz.



sağındadır park kırtasiye solundadır market eczane

- ✓ Kırtasiyenin sağında vardır.
- ✓ Hastanenin solunda vardır.
- ✓ Marketin sağında vardır.
- ✓ Kırtasiye, parkın
- ✓ Eczane, okulun

2) Aşağıdaki görsellerden simetrik olanları boyayınız.



MATEMATİK

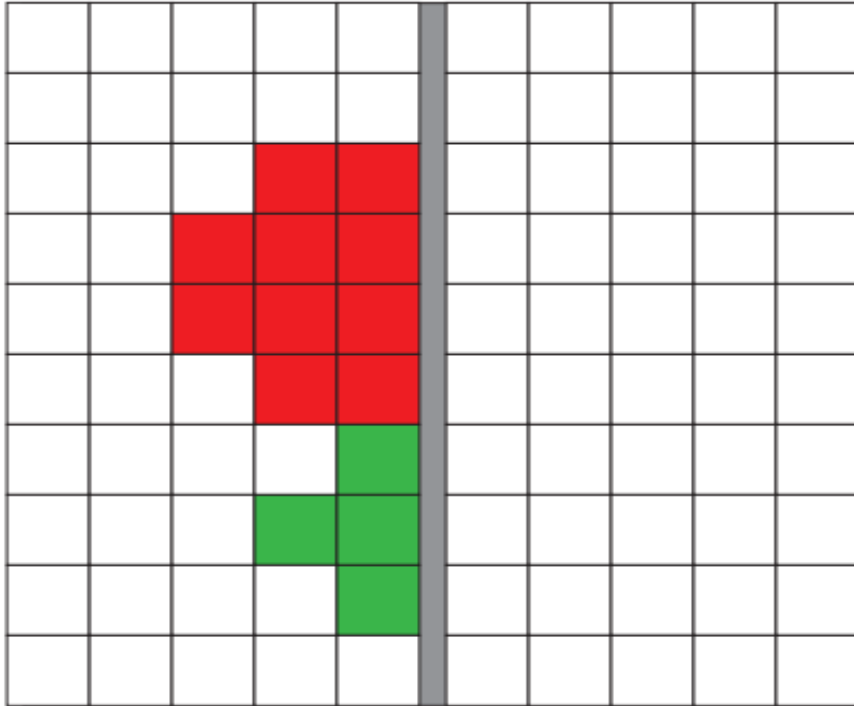
3) Aşağıda verilen görselleri simetrik olacak şekilde iki parçaya ayırınız.



4) Aşağıda bir parçası verilen nesnelerin simetriğini bularak eşleştiriniz.



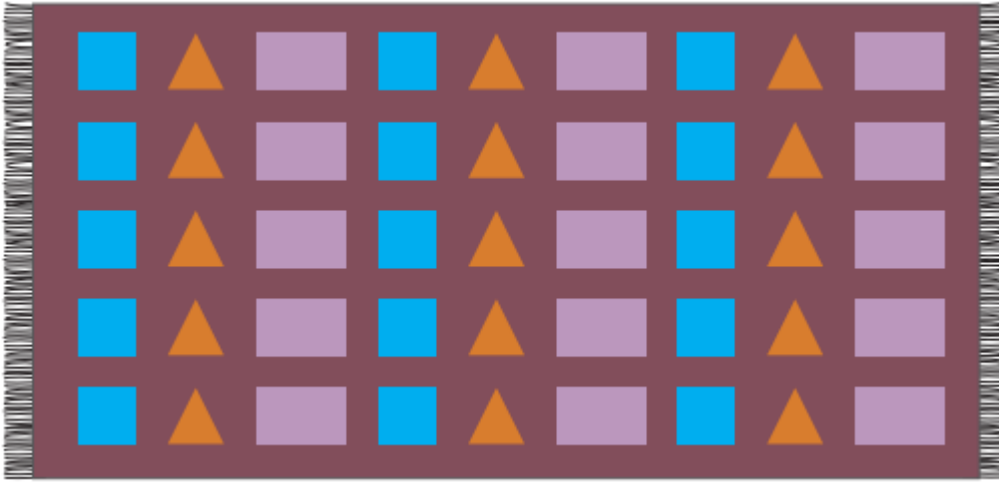
5) Yarısı verilen şeklin eş parçasını çizip boyayınız.



MATEMATİK

ÖRÜNTÜ OLUŞTURMA

1) Aşağıdaki kilim görselini inceleyiniz.




Yukarıdaki kilimde hangi geometrik şekillerin kullanıldığını yazınız.

..... Kilimde geometrik şekillerle oluşturulan örüntülerin kuralını yazınız.

.....

2) Aşağıdaki örüntülerde verilmeyen şekilleri çiziniz.



MATEMATİK


3) Aşağıdaki örüntülerin kuralını belirleyip altlarına yazınız.



.....



.....



.....

4) Aşağıdaki örüntülerin kuralını belirleyip örüntüleri devam ettiriniz.



MATEMATİK


KENDİMİZİ DEĞERLENDİRELİM

Aşağıdaki cümleleri okuyunuz. Doğru olanların başına "D", yanlış olanların başına "Y" yazınız. Yanlış olan cümlelerin doğrularını altlarındaki boşluklara yazınız.

- 1) () Geometrik şekillerde kenarların birleştiği yere köşe denir.
- 2) () Örüntü, sayı veya şekillerin belli bir kurala göre dizilmesidir.
- 3) () Dairenin iki köşesi vardır.
- 4) () Kare, iki eş parçaya ayrılabilirdi için simetriktir.
- 5) () Üçgen prizmanın bir yüzü ile kare çizilebilir.

TEST

- 1) Aşağıdaki şekillerden hangisi iki eş parçaya ayrılamaz?



- 2)




Yandaki görsele göre Gürkan, kendi etrafında yarım dönüş yaptığında kaç numaralı oyuncakı görür?

A) 4

B) 3

C) 1

- 3)



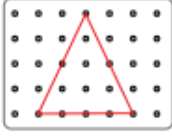
Yandaki görsel oluşturulurken aşağıdaki geometrik şekillerden hangisi kullanılmamıştır?

A) Kare

B) Dikdörtgen

C) Çember

4)



Yandaki görselde yer alan noktalı kâğıt üzerindeki üçgeni aşağıdaki prizmalardan hangisiyle çizebiliriz?

5) Aşağıdakilerden hangisi örüntü oluşturmaz?



SAĞLIĞIMIZ İÇİN ÇALIŞANLAR

Hastaneler, muayene ve tedavi olmak için gittiğimiz sağlık kurumlarıdır. Hastaneler, sağlık hizmeti veren **en büyük sağlık kurumlarıdır**. Hastanelerde doktorlar, hemşireler ve diş hekimleri gibi sağlık görevlileri çalışır.


Aile sağlığı merkezleri, sağlığımızı korumak için çalışan sağlık kurumlarından-dır. Bulaşıcı hastalıklardan korunmak için **aşı** oluyoruz. Aile sağlığı merkezlerinde doktorlar ,hemşireler ve diş hekimleri görev yapar. Aile sağlığı merkezinde çalışan sağlık görevlileri, çocukların aşılarının yapılması, hastaların muayene edilmesi gibi sağlık hizmetlerinin yürütülmesini sağlarlar. **Muayene ve tedavi olmak için** aile sağlığı merkezlerine gideriz.

- **Doktorlar**, hastaları muayene ederler. Hastaların iyileşmeleri için gerekli ilaçları reçeteye yazırlar.
- **Hemşireler**, hastaların muayenesinde ve tedavisinde doktorlara yardımcı olurlar.
- **Diş hekimleri**, dişlerimizin kontrol ve tedavisini yaparlar.
- **Sağlık görevlileri**(Röntgen ve laboratuvar çalışanları): Doktorların hastalığımızın ne olduğunu bulmak için istedikleri kan ve idrar tahlilleri ile röntgen çekimi gibi kontrolleri yaparlar.
- **Eczacılar**, eczanelerde ilaçlarımızı veren yetkili kişilerdir. Doktorların yazdığı reçetede ki ilaçları eczanelerden alırız.

♣ Sağlığımızla ilgili kuruluşların aşağıda sembolleri verilmiştir.İnceleyelim.



Sağlığımız için çalışanlara ait görseller aşağıda verilmiştir.İnceleyiniz.



HAYAT BİLGİSİ

SAĞLIĞIMIZ İÇİN ÇALIŞANLAR DEĞERLENDİRME

1) Aşağıdakilerden hangisi sağlıkla ilgili kurumlardan biri değildir?

- A) Hastane B) Otel C) Eczane

2) Doktorun belirlediği tedaviyi uygulamak, hastanın bakımını yapmakla görevli sağlık çalışanı aşağıdakilerden hangisidir?

- A) Eczacı B) Diş hekimi C) Hemşire

3) “Doktorlar hastaların iyileşmeleri için gerekli ilaçları yazarlar.”

Yukarıdaki ifadede noktalı aşağıdaki sözcüklerden hangisinin gelmesi uygundur?

- A) kağıda B) reçeteye C) kitaba

4) Aşağıda verilen sağlığımız için çalışanları görevleriyle eşleştiriniz.

DOKTOR

Hastaların muayenesinde ve tedavisinde doktorlara yardımcı olurlar.

DİŞ HEKİMİ

Eczanelerde doktorun reçeteye yazdığı ilaçları veren yetkili kişidir.

HEMŞİRE


Dişlerimizin kontrol ve tedavisini yaparlar.

SAĞLIK GÖREVLİSİ

Doktorların hastalığımızın ne olduğunu bulmak için istedikleri kan ve idrar tahlilleri ile röntgen çekimi gibi kontrolleri yaparlar.

ECZACI

5) Aşağıdaki görsellerden hangisi en büyük sağlık kuruluşumuza aittir?



MEVSİMİNDE TÜKETELİM

1) Aşağıda verilen doğru bilgilerin başına gülen yüz, yanlış verilen bilgilerin başına üzgün yüz ifadesi çiziniz.

- Kavun karpuz ve çileği kışın daha uygun fiyata alabiliriz..
- Havuç, ıspanak ve kereviz kış mevsiminde daha lezzetli olur.
- Mevsimi dışında satılan sebze ve meyveler vitamin ve mineral bakımından zengindir.
- Her meyve ve sebzenin doğal olarak yetiştiği bir mevsim vardır.
- Mevsiminde tüketilen sebze ve meyveler daha sağlıklıdır.
- Günümüz teknolojisinde yapay yollarla her mevsim sebze ve meyve üretilebilir.
- Sebze ve meyveleri mevsiminde kurutarak veya konserve yaparak saklayabiliriz.
- Mevsiminde üretilen sebze ve meyveler daha pahalıdır.
- Mevsimde yetişen sebze ve meyveler daha sağlıklıdır.

2- Aşağıda verilen bilgilerden hangisi doğrudur?

- A) Tüm meyve ve sebzeleri her mevsimde tüketebiliriz.
- B) Mevsiminde yetişen meyve ve sebzeler daha sağlıklıdır.
- C) Pahalı olan meyve ve sebzeler daha sağlıklıdır.

3- Sağlıklı ve dengeli beslenmek için aşağıdakilerden hangisini yapmalıyız?

- A) Mevsimi dışında da meyve ve sebzeleri çokca tüketmeliyiz.
- B) Yapay yollarla üretilen meyve ve sebzeleride tercih edebiliriz.
- C) Mevsiminde yetişen sebze ve meyveleri bol bol tüketmeliyiz.

CEVAP ANAHTARI: 2B-3C

HAYAT BİLGİSİ

UYGUN KIYAFETLER SEÇELİM

Açıklaması yapılan mevsimlerin adını altına yazınız.

Havalar soğumaya başlar. Yamurlar yağar. Ağaçların yaprakları dökülür. Bu mevsimde havalar soğumaya başladığı için yaza göre biraz daha kalın giymeliyiz.

Havalar ısınmaya başlar. Her yerde çiçekler açar. Kışa göre biraz ince giysiler giymeliyiz. Yanımıza hırka ve şemsiye almayı unutmamalıyız.

Havalar çok soğuktur. Kar yağar. Kalın giysiler giymeli atkı bere takmalıyız.

Havalar sıcak olur, pamuklu ve açık renk giysiler giymeliyiz.

Aşağıda verilen çoktan seçmeli soruları cevaplayınız.

1.



Bot - mont - eldiven giyer; atkı bere takarız.

A) Yaz B) Kış C) İlkbahar

2.



Atkıyı hangi mevsimde kullanamayız.

A) Sonbahar B) Kış C) Yaz

CEVAP ANAHTARI: 1B-2C

İNGİLİZCE

ACTIVITY 1

A. Match the words with pictures.

Run -

slide

- dance

- play football



.....

B. Match the words with pictures.

Swing

- sing

- walk

- hide and seek



.....

C. Write the numbers.

1. 2. 3. 4. 5.

6. 7. 8. 9. 10.

D. Colour the boxes with the right colour.

Yellow

Purple

Pink

Orange

Red

Brown

Green


Black

Blue

İNGİLİZCE


ACTIVITY 2

1




a) Let's run!
b) Let's skip a rope!
c) Let's sing!

6



a) Let's walk!
b) Let's skip a rope!
c) Let's swing!

2




a) Let's play!
b) Let's skip a rope!
c) Let's swing!

7




a) Let's play!
b) Let's walk!
c) Let's slide!

3




a) Let's slide!
b) Let's play!
c) Let's swing!

8



a) Let's jump!
b) Let's skip a rope!
c) Let's play!

4




a) Let's play!
b) Let's slide!
c) Let's run!

9



a) Let's play!
b) Let's dance!
c) Let's swing!

5



a) Let's play!
b) Let's skip a rope!
c) Let's run!

10



a) hide and seek
b) slide
c) run