

3. SINIF



8. Hafta Fasikül
2020-2021 Eğitim-Öğretim Yılı

EVDE EĞİTİM E-FASİKÜL' DE



YERKÖY ARGE

Yerköy İlçe Milli Eğitim Müdürlüğü'nün uzaktan eğitim sürecinde öğrencilerimiz için hazırladığı destek hizmetidir.

<http://yerkoy.meb.gov.tr>





Yerköy İlçe Millî Eğitim Müdürlüğü


Hazırlayanlar

Ömer YIMAZ	Atatürk İlkokulu
Özlem KÜÇÜK	Şht. Kamil Çelikkaya İlkokulu
Ayşe Nur COŞKUN	Şht. Kamil Çelikkaya İlkokulu
Serhat GÜLCEGÜL	Şht. Kamil Çelikkaya İlkokulu
Yakup MURAT	Şht. Kamil Çelikkaya İlkokulu
Ahmet YARIÇI	Reşat Akyön İlkokulu

Mehmet DURMAZ
İlçe Milli Eğitim Müdürü

Meliha ÖZDEN
Necmettin SAGLAM
Şube Müdürleri

M.Suat ATİLA
Koordinatör ve Grafik Tasarım



TÜRKÇE



DOĞUM GÜNÜ

Fatma'nın teyzesi Japonya'da yaşıyordu. Bu yıl yaz tatilinde Türkiye'ye gelecekti. Bunu duyan Fatma sevinçten havalara uçtu. Çünkü doğum gününde teyzesi yanında olacaktı.

Zaman geçti ve teyzesinin gelme günü geldi. Ailecek karşılamaya gittiler. Teyzesini o kadar çok eşyası vardı ki arabaya çok zor sığdırdılar. Eve varır varmaz teyzesi valizlerden bir paket çıkartarak Fatma'ya uzattı. Fatma hediyeye çok sevindi. İzin arak paketi açtı. Paketten çıkan şeyin ne olduğunu anlayamayan Fatma teyzesine şaşkın şaşkın baktı.

_ Fatmacığım bu bir sanal gerçeklik gözlüğü. Bu gözlüğü bilgisayara bağlayacağız. Uygulamalar ile gözlüğü taktığın anda kendini izlediğin filmin içindeymiş gibi hissedeceksin.

Teyzesi bir süre dinlendikten sonra bilgisayara birkaç uygulama indirdikten sonra gözlüğü taktı ve sevinçten havalara uçtu. Fatma'nın bu halini gören aile üyeleri de merak edip gözlüğü denemek için sormaya girdiler.

(soruları metne göre cevaplayalım)

1.) Fatma'ya hediyeyi kim getirdi?

.....

2.) Fatma neden mutlu oldu?

.....

3.) Fatma ne zaman çılgın oldu?

.....

4.) Sizin doğum gününüz olsa hangi teknolojik ürünü isterdiniz?

.....

TÜRKÇE

5.) A) Metindeki kahramanlar kimler?

B) Olayın yaşandığı özel gün nedir?

C) Metnin konusu nedir?

6.) Verilen bilgileri kullanarak boşlukları uygun kelimeler ile dolduralım.

A) Satır sonuna sığmayan kelimeleri ayırmak için kullanılır.

B) Tarih yazılışlarında gün, ay ve yıl belirten sayıların arasına konur.

C) Özel adlara gelen ekleri ayırmak için kullanılır.

D) Kendisinden sonra örnek verilecek zaman kullanılır.

E) Cümledeki eş görevli sözcükleri ayırmada kullanılır.

(NOKTA–ÜNLEM–VİRGÜL–KISA ÇİZGİ–ÜSTEN VİRGÜL)

7.) Aşağıdaki deyimlerden hangisi çok şiddetli yağmur için kullanılır?

A: Bana göre hava hoş.

B: Bu son damla

C: Bardaktan boşanırcasına.

8.) Aşağıdaki sözlerden hangisi 'Akan su yosun tutmaz.' Atasözü ile aynı anlama gelir.

A: Su akar yolunu bulur.

B: İşleyen demir ışıldar.

C: Dikensiz gül olmaz.

9.) Aşağıdakilerden hangisi gürültülü ortamda çalışıp yorulan bir kişinin söyleyeceği bir sözdür?

A: başım kazan gibi.

B: başımdan kaynar su döküldü.

C: başımda saç kalmadı.

10.) Aşağıda verilen atasözlerinin anlamlarını aşağıya yazınız?

A: ev alma komşu al.

B: sakla samanı gelir zamanı.

C: tatlı dil yılanı deliğinden çıkarır.

TÜRKÇE

11.) 'VATAN' kelimesini çağrıştırdıklarını yazınız.



12.) 'AİLE' sözcüğünün size çağrıştırdıklarını yazınız.



13.) Aşağıda verilen cümlelerden kurallı ve kuralsız olanları belirleyerek uygun yerlere yazalım.

A: Saat geçmişti on ikiyi.

B: Bugün yorgunluktan hiç uyuyamadım.

C: Ayşe derin bir üzüntü içindeydi.

Ç: Gidiyorum bugün okula ben.

D: Akşam kitap okur iken uyumuşum erkenden.

MATEMATİK

Aşağıdaki çarpma işlemlerini yapınız.

$6 \times 7 = \dots\dots\dots$

$9 \times 6 = \dots\dots\dots$

$7 \times 7 = \dots\dots\dots$

Aşağıda verilen çarpma işlemlerini zihinden yapınız.

$8 \times 5 =$		$6 \times 6 =$		$7 \times 4 =$		$4 \times 6 =$	
$7 \times 6 =$		$6 \times 8 =$		$9 \times 5 =$		$9 \times 6 =$	

Aşağıda verilen bölme işlemlerini kısa yoldan yapınız, sonuçlarıyla eşleştiriniz.

$20 \div 10 =$		$60 \div 10 =$		$40 \div 10 =$		$30 \div 10 =$	
$50 \div 10 =$		$70 \div 10 =$		$80 \div 10 =$		$90 \div 10 =$	

Aşağıdaki çarpma işlemlerini yapınız.

$$\begin{array}{r} 53 \\ \times 15 \\ \hline \end{array}$$

$$\begin{array}{r} 323 \\ \times 2 \\ \hline \end{array}$$

$$\begin{array}{r} 18 \\ \times 14 \\ \hline \end{array}$$

$$\begin{array}{r} 126 \\ \times 7 \\ \hline \end{array}$$

$$\begin{array}{r} 32 \\ \times 28 \\ \hline \end{array}$$

$$\begin{array}{r} 42 \\ \times 22 \\ \hline \end{array}$$

MATEMATİK

Aşağıdaki bölme işlemlerini yapınız ve işlemlerin doğruluğunu kontrol ediniz.

96	8	81	9	77	3	84	5	20	2

76	6	125	5	27	3	45	5	89	2

- Bir sepet elmayı, 4 arkadaş eşit olarak paylaştılar. Her birine 14 elma düştü. Geriye 3 adet elma kaldı. Paylaşmadan önce sepetteki elmaların sayısı kaçtır?
- 3/C sınıfı öğrencilerinin 78, 3/B sınıfı öğrencilerinin 92 adet hikâye kitabı vardır. Kitaplarını bir araya getirip yarısını bir köy okuluna bağışladılar. Bağışlanan kitaplar kaç adettir?
- 29 Ekim Cumhuriyet Bayramı'nda 3/C sınıfına 75 adet bayrak getirildi. 3/C sınıfında 5 pencere olduğuna göre her pencereye kaç adet bayrak asılmıştır?

FEN BİLİMLERİ

1) Görme olayının gerçekleşmesi için gereklidir.

Yukarıdaki cümlede boş bırakılan yere aşağıdakilerden hangisi yazılmalıdır?

A) ışık B) renk C) ses

2) Aşağıdaki ortamların hangisine varlıkları göremeyiz?

A) Güneş ışığı ile aydınlatılan ortamda
B) Işığın olmadığı karanlık ortamda
C) Geceleyin ampulle aydınlatılan ortamda

3) Görme olayının gerçekleşmesi için ışığın nereye gelmesi gerekir?

A) cismin üzerine B) gözümüze C) yere

4) Aşağıdaki mesleklerden hangisinde çalışanların ortamının aydınlatılması zorunludur?

A) Hemşireler B) Madenciler C) Öğretmenler

Arabalardaki sis farları, sisli havalarda sürücülerin daha iyi görmelerini sağlamak amacıyla diğer ampullerden daha güçlü ampuller kullanılarak yapılır.

5) Güneşli bir günde sis farlarının açık tutulması en çok hangi durum bakımından tehlikeli olabilir?

A) Karşıdan gelen sürücülerin gözlerini kamaştırıp kazaya sebep olabilir.
B) Arabanın aküsünün bitmesine neden olabilir.
C) Ampuller çabuk bozulabilir.

Işığın görmedeki rolü" ile ilgili sınıfta yapılan deneyde, sınıftaki tüm perdeler kapatılarak karanlık bir sınıf ortamı oluşturuluyor. Öğrencilerden Ahmet Efe dışarı çıkarılıyor. Kolinin üst kısmından küçük bir delik açılıyor. Kolinin içerisine elma ve kalem konuluyor. Ahmet Efe sınıfa çağrılıyor ve kolinin içerisindeki nesnelerin ne olduğunu söylemesi isteniyor. Ancak Ahmet Efe delikten bakıyor ama nesnelerin ne olduğunu bilemiyor. Daha sonra Ahmet Efe'ye bir el feneri veriliyor ve el fenerini yakarak tekrar bakması isteniyor. Ahmet Efe bu durumda kolinin içerisinde ne olduğunu hemen söylüyor.

6) Ahmet Efe 1.durumda niçin kutudaki nesnelere bilememiştir? Yazın.

.....

7) Ahmet Efe 2.durumda kutudaki nesnelere nasıl bilmiştir? Yazın.

.....

FEN BİLİMLERİ

8) Aşağıdaki kelimeleri okuyalım. Işık kaynağı olanlarla olmayanları tablolarla yazalım.

lamba	davul	meşale	ayna	mikrofon
radyo	mum	zurna	El feneri	Güneş

Işık Kaynağı Olanlar
1)
2)
3)
4)
5)

Işık Kaynağı Olmayanlar
1)
2)
3)
4)
5)



9) Aşağıda verilen ışık kaynaklarını bulmacada bularak doğal olan ışık kaynaklarını maviye, yapay olan ışık kaynaklarını sarıya boyayalım.

LAZER	ŞİMŞEK	MASA LAMBASI
DENİZ ANASI	FLORESAN	ATEŞ BÖCEĞİ
GÜNEŞ	EL FENERİ	TELEVİZYON

A	T	E	Ş	B	Ö	C	E	Ğ	İ	F	E
Ş	N	B	F	L	O	R	E	S	A	N	İ
İ	M	A	S	A	L	A	M	B	A	S	İ
M	L	İ	E	L	F	E	N	E	R	İ	M
Ş	L	A	Z	E	R	L	G	Ü	N	E	Ş
E	T	E	L	E	V	İ	Z	Y	O	N	E
K	R	D	E	N	İ	Z	A	N	A	S	İ

FEN BİLİMLERİ

10) Aşağıdakilerden hangisi yapay ışık kaynağı değildir?



11) Dünya'mızın uydusu olan Ay ile ilgili hangisi yanlıştır?

A) Doğal ışık kaynağıdır. B) Dünya'nın uydusudur. C) Güneş'ten aldığı ışığı yansıtır.

12) Aşağıdaki ışık kaynaklarının türlerini yazınız.



.....



.....



.....



.....



.....



.....



.....



.....



.....



.....



.....



.....

HAYAT BİLGİSİ

KIRMIZI YANDI, DUR!

1) Aşağıdaki verilenlerden hangisi yanlıştır?

- A) Kazalar dikkatsizlik sonucunda olur.
- B) Kazaları önlemek için hiçbir şey yapmamalıyız.
- C) Teneffüslerde bahçe ve koridorlarda koşmamalıyız.

2)



Yandaki görselde belirtilen olay hangi kazaya sebep olur?

- A) yaralanma
- B) yangın
- C) boğulma

3) Yandaki görselde belirtilen olay hangi kazaya sebep olur?



- A) düşme
- B) kesilme
- C) yangın

4)  Hangisi kazalara sebep olur?

Merve

Merve'nin sorusunun cevabı aşağıdakilerden hangisidir?

- A) Dikkatsiz davranmak
- B) Kurallara uymak
- C) Tedbirli olmak

5) Aşağıdakilerden hangisi kazalara karşı alınabilecek bir önlem değildir?

- A) Uyarı yazı ve levhaları asmak.
- B) Büyüklerden yardım istemek.
- C) Her işi kendimiz yapmak.

6) Öğrenciler teneffüste sınıf kapısı önünde oynuyor, kapıyı sürekli açıp kapatıyor ve kapıya fırlanıyorlardı. Bu durumun sonucunda aşağıdakilerden hangisinin olması beklenemez?

- A) Çocukların parmakları kapıya sıkışır ve yaralanma olabilir.
- B) Kapı yerinden çıkabilir ve çocukların üzerine devrilebilir.
- C) Öğrenciler zehirlenebilir.

HAYAT BİLGİSİ

7) Yüksekteki bir eşyayı almak için yapılması gereken davranış aşağıdakilerden hangisidir?

- A) Sandalyenin üstüne çıkıp almak.
- B) Masanın üstüne çıkıp almak.
- C) Büyüklerimizden yardım istemek.

8) Aşağıdaki davranışlardan hangisi zararlı maddelerin bizi zehirlenmesini engeller?

- A) Zararlı maddelerden uzak durmak.
- B) Deterjan ya da oje gibi maddeleri koklamak.
- C) Zararlı maddeleri çocukların rahatça ulaşabileceği bir yere koymak.

9) Aşağıdaki davranışlardan hangisi kazaya sebep olabilecek bir durumdur?

- A) Uyarı ve ikazlara uymak.
- B) Merdivenleri koşarak inip çıkmak.
- C) Oyun oynarken dikkatli ve tedbirli olmak.

10) Yandaki görselde belirtilen olay hangi kazaya sebep olur?

- A) Yanma
- B) Boğulma
- C) Düşme



11) Aşağıdakilerden hangisi evimizde yangın çıkmasına sebep olabilir?

- A) Ocak üstünde unutulmuş yemek
- B) Çalışma odasının kapısının açık kalması
- C) Musluğun bozulması

12) Aşağıdakilerden hangisi kazaya sebep olmaz?

- A) Kesici aletler
- B) İlaçlar
- C) Oyuncaklar

13) Elektrik prizlerine dokunmak ya da deliklerine sivri aletler sokmak hangi kazaya sebep olur?

- A) Düşme
- B) Elektrik çarpması
- C) Boğulma

14) Aşağıdakilerden hangisi boğulmaya neden olabilir?

- A) Bahçedeki çukur ve tümsekler
- B) Nefes borusuna kaçan yabancı cisimler
- C) Islak ve kaygan zeminler

15) Aşağıdakilerden hangisi tehlike oluşturmaz?

- A) Yerdeki cam kırıkları
- B) Dolapların üzerindeki eşyalar
- C) Bahçedeki çiçekler

HAYAT BİLGİSİ

TRAFİK KURALLARINA UYALIN

16) Aşağıdaki verilenlerden hangisi yanlıştır?

- A) Trafik kurallarına uymak bir vatandaşlık görevidir.
- B) Yaya için kırmızı yanıyor karşıya geçmeliyiz.
- C) Duran araçların aralarından geçmemeliyiz.

17)



Yolculuk yaparken emniyet kemeri takma- mızın sebebi aşağıdaki- lerden hangisidir?

- A) Rahat uyuyabilmek için
- B) Daha güzel görünebilmek için
- C) Güvenli yolculuk yapabilmek için

18) Aşağıdakilerden hangisi toplu ulaşım araç- larında yapmamız gereken davranışlardan birisi değildir?

- A) Yüksek sesle konuşmamalıyız.
- B) Koltuk, cam ve pencerelere zarar vermemeliyiz.
- C) Sürücüyle konuşmalıyız.

19)



Yayaların yürümesi için en güvenli

Merve olan yer hangisidir?

Merve'nin sorusunun cevabı aşağıdakilerden hangisidir?

- A) Anayol
- B) Kaldırım
- C) Otoyol

20) Aşağıdaki bilgilerden hangisi doğrudur?

- A) Küçük çocuklar ön koltukta oturmalıdır.
- B) Duran araçların önünden ya da arkasından geçmeliyiz.
- C) Her zaman yaya kaldırımından yürümeliyiz.

21) Trafikte öncelikli olarak aşağıdakilerin hangisine uymalıyız?

- A) Trafik ışıkları
- B) Trafik polisi
- C) Trafik işaretleri

22) Güvenli bir yolculuk yapabilmemiz için aşağıdakilerden hangisini yapmamalıyız?

- A) Ayakta yolculuk yapmak
- B) Emniyet kemeri takmak
- C) Arabanın camından başımızı çıkarmamak

HAYAT BİLGİSİ

23) Aşağıdaki bilgilerden hangisi yanlıştır?

- A) Kaldırımlarda ve yollarda top oynamamalıyız.
- B) Caddeye kaçan topu yakalamak için koşmamalıyız.
- C) Trafikte hareket halindeki araçlara asılmamalıyız.

24) Hangi yer ve durumlarda yayalar karşıdan karşıya geçemez?

- A) Yayalar için yeşil ışık yandığı zaman
- B) Arabalar için kırmızı ışık yandığı zaman
- C) Yayalar için kırmızı ışık yandığı zaman

25) Işıklı işaret cihazlarında aşağıdaki renklerden hangileri vardır?

- A) Kırmızı-Sarı-Yeşil
- B) Mavi-Mor-Turuncu
- C) Siyah-Beyaz-Pembe

26) Trafik kazalarının asıl sebebi aşağıdakilerden hangisidir?

- A) Yolların iyi olmaması
- B) Arabaların iyi olmaması
- C) Trafik kurallarına uyulmaması

27) Cadde ve sokaklarda yaya kaldırımları bulunmaktadır. Yaya kaldırımlarının bulunmadığı yerlerde hangi bölümde yürümeliyiz?

- A) Yolun sağ tarafından yürümeliyiz.
- B) Yolun sol tarafından yürümeliyiz.
- C) Yolun ortasından yürümeliyiz.

28)

Trafikte insanlar kurallara uymadıkları zaman ve..... kaybına sebep olan kazalar meydana geliyor.

Yukarıdaki cümlede boş bırakılan yerlere hangi sözcükler yazılmalıdır?

- A) yol-ışaret
- B) can-mal
- C) kural-ışık

29) Aşağıdaki durumlardan hangisi trafikte tehlike oluşturur?

- A) Hareket eden araçlara tutunmak
- B) Trafik polisinin uyarılarına uymak
- C) Trafik kurallarını bilmek ve uygulamak


30) Aşağıdaki araçlardan hangisi ile yolculuk yapılması uygun değildir?

- A) Özel araçlar
- B) Toplu taşıma araçları
- C) Üzeri açık araçlar

Let's write the rooms! 😊

Living room – Garage
 Kitchen – Bedroom
 Bathroom – Playroom – House

- 1) This is my _____
- 2) This is my _____
- 3) This is my _____
- 4) This is my _____
- 5) This is my _____
- 6) This is my _____
- 7) This is my _____




Let's write the objects! 😊

Cup – chair – Shampoo – Soap – Sofa
 bed – book – Kettle – table
 computer game – car – toothbrush


- 1) This is my _____
- 2) This is my _____
- 3) This is my _____
- 4) This is my _____
- 5) This is my _____
- 6) This is my _____
- 7) This is my _____
- 8) This is my _____
- 9) This is my _____
- 10) This is my _____
- 11) This is my _____
- 12) This is my _____

by aogutegin

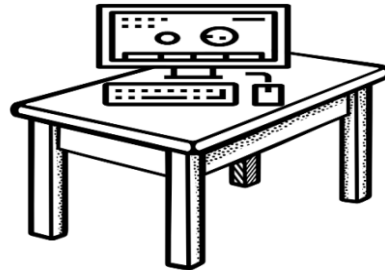


İNGİLİZCE

Let's write "in", "on", "under".



1) The soap is _____ the table.



7) Computer game is _____ table.



2) The cup is _____ the chair.



8) The book is _____ the bedroom.



3) Shampoo is _____ chair.



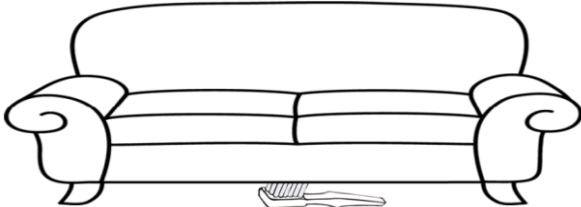
9) The toothbrush is _____ the bed.



4) The car is _____ the garage.




10) The kettle is _____ the chair.



5) Toothbrush is _____ sofa.



11) The sofa is _____ the living room.



6) The bed is _____ the bedroom.



12) The toothbrush is _____ the cup.