

1. SINIF



7. Hafta Fasikül
2020-2021 Eğitim-Öğretim Yılı

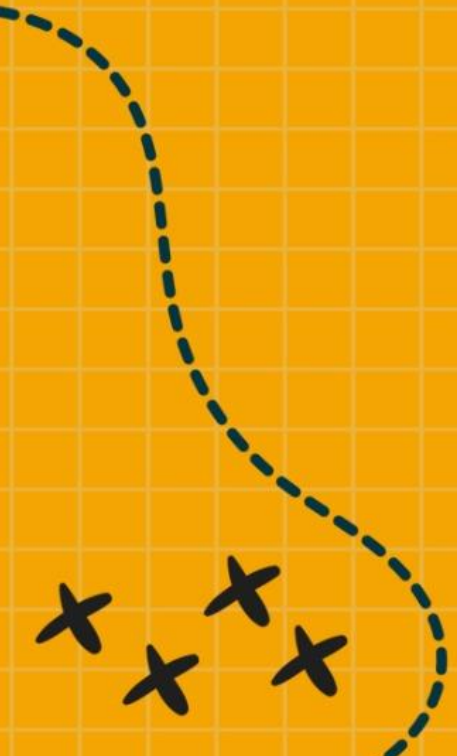
EVDE EĞİTİM E-FASİKÜL' DE



YERKÖY ARGE

Yerköy İlçe Milli Eğitim Müdürlüğü'nün
uzaktan eğitim sürecinde öğrencilerimiz
için hazırladığı destek hizmetidir.

<http://yerkoy.meb.gov.tr>





Yerköy İlçe Millî Eğitim Müdürlüğü

Mehmet DURMAZ
İlçe Millî Eğitim Müdürü

Meliha ÖZDEN
Necmettin SAGLAM
Şube Müdürleri

M.Suat ATİLA
Koordinatör ve Grafik Tasarım

Hazırlayanlar

Fadime YIKILMAZ DAĞAŞAN	Atatürk İlkokulu
Yılmaz TÜNGER	Sekili Şht. Osman Pekşen İlkokulu
Muhammet DURAN	TOKİ Şht. Ali Salmanlı İlkokulu
Ahmet Şevki ŞAHİN	Saray Yibitaş Ortaokulu



1. HAFTA SORULARI

- Aşağıdaki ifadelerden hangisi yanlıştır?
 - Beslenme ve giyinme temel ihtiyaçlarımızdandır.
 - Alışverişte ihtiyaçtan önce isteklerimizi almalıyız.
 - İsteklerimizi her zaman almak zorunda değiliz.
- Sınıfımıza su döküldüğünde kimden yardım istemeliyiz?
 - Hizmetlilerden
 - Müdür yardımcısından
 - Kantin görevlilerinden
- Aşağıdaki seçeneklerinden hangisinde verilenlerin tümü kitle iletişim araçlarıdır?
 - Telefon – televizyon – tablet
 - Tablet- ütü- gazete
 - Televizyon- çamaşır makinesi- telefon
- Aşağıdakilerden hangisi kişisel bakımımızla ilgili değildir?
 - Yatmadan önce dişlerimizi fırçalamak
 - Yemekten önce ve sonra ellerimizi yıkamak
 - Oyun oynamayı sevmek.
- Dengeli beslenmek ne demektir?
 - Yalnızca sevdiğimiz besinleri yemek
 - Her besinden yeterince yemek
 - Yalnızca sebze yemekleri yemek.
- Yangın ile karşılaştığımızda hangi numarayı aramalıyız?
 - 177
 - 110
 - 112

HAYAT BİLGİSİ

7. Aşağıdakilerden hangisi dini bayramlarımızdan biridir?

- A. 23 Nisan Ulusal Egemenlik ve Çocuk Bayramı
- B. Ramazan bayramı
- C. 19 Mayıs Gençlik ve Spor bayramı

8. Hangisi aile bireylerimizden biri değildir?

- A. Komşumuz
- B. Babamız
- C. Annemiz

9. Kişisel bakım ve temizliğimiz için hangisini yapmak yanlış olur?

- A. Banyo yapmak
- B. Ağzımızı üzerimize silmek
- C. Dişlerimizi fırçalamak

10. Bağımsızlığımızın sembolü nedir?

- A. Bayrağımız
- B. Yaşadığımız şehir
- C. Şiirlerimiz

11. Ulu Önder Mustafa Kemal Atatürk ile ilgili aşağıda verilen bilgilerden hangisi doğrudur?

- A. Kemal ismini babası vermiştir.
- B. İstanbul'da doğmuştur.
- C. TBMM'nin ilk meclis başkanıdır.

12. Dengeli ve sağlıklı beslenmek için neler yapmalıyız?

- A. Düzenli ve dengeli beslenmeliyiz
- B. Cips, kola gibi yiyecekler yemeliyiz.
- C. Sevmediğimiz zararlı şeyleri de yiyebiliriz.

HAYAT BİLGİSİ

13. Zeynep, Komşusu Hatice Teyze'yi her gördüğünde elini öper ve durumunu sorardı. Annesi Selma da Hatice Teyze'ye her akşam yaptığı yemeklerden bir kap götürürdü. Yukarıdaki metinde hangi komşuluk ilişkisine değinilmemiştir?

- A. Yardımlaşmak
- B. Saygılı olmak
- C. Kıskançlık

14. Aşağıdaki davranışlardan hangisi ailede mutluluğu artırır?

- A. sorumsuzluk
- B. yardımlaşma
- C. kabalık

15. Merve ve Ali, dedesinden ve babaannesinden kalan sandığı açtıklarında bezden bebekler, tenekeden ve telden arabaları görmüşlerdir. Bu oyuncaklar kendi oyuncaklarından çok farklı idi. Çünkü onların tabletleri, uzaktan kumandalı arabaları, ağlayan bebekleri vardı.

Merve ve Ali'nin oyuncaklarının büyüklerinden farklı olmasının nedeni nedir?

- A. Büyüklerinin fakir olmaları.
- B. Büyüklerin bu oyuncakları daha çok sevmesi.
- C. Teknolojinin çok gelişmesi.

CEVAP ANAHTARI

1	B	6	B	11	C
2	A	7	B	12	A
3	A	8	A	13	C
4	C	9	B	14	B
5	B	10	A	15	C

2. HAFTA SORULARI

1. Deprem insanlara neden zarar verir?

- A. Soğuk havalarda olduğu için.
- B. Akşam vakti olduğu için.
- C. Binalar sağlam yapılmadığı için.

2. Aşağıdakilerden hangisi gece görülmez?

- A. Ay
- B. Güneş
- C. yıldızlar

3. Aşağıdakilerden hangisi evimizde kullandığımız **teknolojik ürün ve aletlerin yararlarından**dır?

- A. Aile bireyleri daha çok yorulur
- B. Az zamanda çok iş yapmamızı sağlar.
- C. Gürültü kirliliğine neden olurlar.

4. Okulda öğrendiklerimizi **unutmamak** için hangisini yapmalıyız?

- A. Yalnızca sınav zamanı çalışmak.
- B. Konuları düzenli olarak tekrar etmek.
- C. Hafta sonları çalışmak.

5. Aşağıdakilerden hangisi sıvıdır?

- A. buhar
- B. şampuan
- C. kalem

6. Tanımadığımız biri sizi parka götürmek istese nasıl davranırsınız?

- A. Hemen kabul ederim.
- B. Arkadaşım da gelirse giderim.
- C. Kesinlikle gitmem.

7. Aşağıdakilerden hangisi dini bayramlarımızdan biridir?

- A. Zafer bayramı
- B. Ramazan bayramı
- C. Cumhuriyet bayramı

8. Ahmet arkadaşı Melike ile sürekli alay etmekte ve ona lakap takmaktadır. Melike ise bu durumdan hiç hoşlanmamaktadır.

Melike'nin bu durumda ilk yapması gereken hangisidir?

- A. Melike bu durumu annesine söylemelidir.
- B. Melike Ahmet'i öğretmenine şikâyet etmelidir.
- C. Melike Ahmet'i uyarmalı, yaptığığın yanlış olduğunu söylemelidir.

9. Hakan basketbol oynamayı çok sevmektedir. İrem ise resim yapmaktan hoşlanmaktadır. Buna rağmen ikisi de çok yakın arkadaştır.

Hakan ve İrem'in ilgileri farklı olmasına rağmen yakın arkadaş olabilmelerinin sırrı aşağıdakilerden hangisidir?

- A. Hakan'ın basketbol oynamaktan vazgeçip resim yapmaya başlaması.
- B. İrem ve Hakan'ın sadece keman çalması.
- C. İkisinin de birbirlerinin ilgilerine saygı duyması.

10. Kübra → Sınıfta ve koridorda yürürken ayağıma çöpler takılıyor.

Salih → Sınıftaki sesten dolayı öğretmenimi dinleyemiyorum

Metin → Kitaplıktan aldığım kitaplar hep yırtık.

Tuğçe " Ders sırasında arkadaşlarımızla konuşmayalım. Parmak kaldırarak söz isteyelim."

Tuğçe hangi arkadaşının sorununa çözüm üretmiştir?

- A. Kübra
- B. Salih
- C. Metin

HAYAT BİLGİSİ

11. “Tekerlekli sandalyesi ile yeni kayıt olduđu okuluna giden Mehmet’i yeni sınıf arkadaşları samimi, içten bir şekilde karşılamışlardır. Daha sonraları oynadıkları oyunlara Mehmet’i de dahil etmişler, ona oyunlarda yapabileceği sorumluluklar vermişlerdir.”

Bu anlatılanlara göre Mehmet’in yeni sınıf arkadaşları için söylenenlerden hangisi doğrudur?

- A. Engellilere acıyan kişilerdir.
- B. Farklılıkların doğal olduğunu bilen kişilerdir.
- C. Sınıf olarak çok uslu ve paylaşımcıdırlar.

12. Her yıl 23 Nisan günü bayram yapmamızın nedeni aşağıdakilerden hangisidir?

- A. Atatürk’ün Samsun’a çıkması.
- B. Türkiye Büyük Millet Meclisinin açılması.
- C. Kurtuluş Savaşı’nın sona ermesi.

13. Ben Keloğlan. Dişlerimi fırçalarken suyu açık bırakmam. Harçlıklarımı harcarken dikkatli davranırım.

Keloğlan için hangisi söylenemez?

- A. Kaynakları bilinçli kullanıyor.
- B. Cimrilik yapıyor.
- C. Tutumlu davranıyor.

14. Melek: Ne oldu baba? Daha yeni gelmiştin. Nereye gidiyorsun?

Babası: Şehir merkezinde bir olay olmuş. Hemen oraya gidip ne olduğunu öğrenip halka bu olayın nedenini, sonuçlarını duyurmalıyım.

Yukarıdaki konuşmaya göre Melek’in babası hangi meslek çalışanlarındandır?

- A. Oyuncu
- B. Gazeteci
- C. Polis

HAYAT BİLGİSİ

15. Dört arkadaş kütüphaneye gitmek için saat 11’de buluşacaklardı. Ali, 10 dakika erken geldi.

Diğerlerinin düşüncesi aşağıda verilmiştir.

Buna göre, hangisinin güvenilecek biri olduğu söylenebilir?

A. Acil işim çıktı. Hemen arayıp gelemeyeceğimi söyleyeyim.

B. Aman! Yarım saat geç gitsem ne olacak?

C. Canım gitmek istemiyor. Onlar yalnız gitsinler bana ne!

CEVAP ANAHTARI

1	C	6	C	11	B
2	B	7	B	12	B
3	B	8	C	13	B
4	B	9	C	14	B
5	B	10	B	15	A

3. HAFTA SORULARI

1. Aşağıdaki öğrencilerden hangisi okul yaşamıyla ilgili iyimser bir düşünceye sahiptir?

- A. Oyun bahçemizin küçüklüğü yüzünden teneffüslerde oynayamıyoruz.
- B. Müzik dersi olduğunda okula gitmek istemiyorum.
- C. Hafta sonu tatilinde okulumu ve arkadaşlarımı çok özlüyorum.

2. Aşağıdaki hayvanlardan hangisi evde beslenen hayvanlardan biri değildir?

- A. Geyik
- B. Kedi
- C. Köpek

3. Aşağıdaki besinlerden hangisi sağlıklıdır?

- A. Kola-cips-çikolata
- B. Kuru fasulye-pilav-ayran
- C. Gofret-fanta-sigara

4. “Bazı ağaçların yaprakları her mevsimde yeşil kalır ve dökülmez”.

Aşağıdakilerden hangisi bu ağaçlardan birine örnektir?

- A. Elma Ağacı
- B. Çam Ağacı
- C. Kavak Ağacı

HAYAT BİLGİSİ

5. Suyu tasarruflu kullanmak için alınacak önlemlerden biri değildir?
- A. Arızalı çeşmeleri tamir etmeliyiz.
 - B. Bulaşık yıkarken suyu az açmalıyız.
 - C. Her gün banyo yapmalıyız.
6. Aşağıdakilerden hangisi kişisel bakım için yaptıklarımızdandır değildir?
- A. Saçlarımızı taramak
 - B. Dişlerimizi fırçalamak
 - C. Odamızı temiz tutmak
7. Aşağıdakilerden hangisi yolcu taşımaz?
- A. Tır
 - B. Taksi
 - C. Uçak
8. Aşağıdakilerden hangisi okul kurallarındandır?
- A. Bayramlarda büyüklerimizin ellerini öpmek
 - B. Söz hakkı almak için parmak kaldırmak
 - C. Yeşil ışık bize yandığında karşıya geçmek
9. Vücudumuzun ihtiyacı olan her türlü besinden yeterince almaya ne denir?
- A. Dengeli beslenme
 - B. Düzenli beslenme
 - C. Çok beslenme
10. Aşağıdakilerden hangisi okul kuralı değildir?
- A. Okulu ve çevresini temiz tutmak
 - B. Haftada iki defa banyo yapmak
 - C. Bayrak törenlerine katılmak

HAYAT BİLGİSİ

11. Sınıftaki çalışmalarda başarılı olan arkadaşlarımıza hangisini söylemeliyiz?

- A. Tebrik ederim. B. İyi akşamlar. C. Geçmiş olsun.

12. Aşağıdakilerden yanlış olanı işaretleyiniz.

- A. Telefonda gereğinden fazla konuşmam.
B. Dinlediğim radyonun sesini başkalarını rahatsız edecek kadar açmam.
C. Televizyonda her şeyi izlerim.

13. Hangisi İstiklal Marşı'mızın özelliği değildir?

- A. Şairi Mehmet Akif Ersoy'dur.
B. Ulusumuzun özgürlüğünü temsil eder.
C. Okullarda her teneffüste söylenir.

14. Millî marşımızın şairi kimdir?

- A. Atatürk B. Osman Zeki Üngör C. Mehmet Akif Ersoy

15. 1. Parmak kaldırırız.

2. Yerimize otururuz.

3. Sorumuzu sorarız.

4. Ayağa kalkarız.

Öğretmenimize soru sorarken hangi sırayla yapmalıyız?

- A. 1,3,4,2 B. 4,1,2,3 C. 1,4,3,2

CEVAP ANAHTARI

1	C	6	C	11	A
2	A	7	A	12	C
3	B	8	B	13	C
4	C	9	A	14	C
5	C	10	B	15	C

Sevgili Öğrencimiz,

Tüm dünyayı etkileyen bir salgın sürecini bizimle birlikte yaşadın.
Okulundan, arkadaşlarından, sosyal hayatından uzak kaldın.
Hepimizin sağlığı için evdeydin, güvende olmamız için elinden geleni yaptın.
Derslerini EBA ve EBA TV üzerinden takip ettin, eğitimine sınıksız tutundun.

Biz öğretmenlerinle iş birliği içinde oldun.

Bize verdiğin destek ve gösterdiğin çaba için sana teşekkür ederim.
İyi ki varsın ve iyi ki bu ülkenin bir evladsın.


Güzel, sağlıklı, üretken ve unutulmaz anılar biriktireceğin bir tatil senin olsun.

Sevgiyle kal...

Ziya Öğretmen

Ziya Öğretmen

Okuyalım, defterimize bakmadan yazalım,
boyayalım.



Bir gün Nasrettin Hoca,
Eşğine ters binmiş.
Birlikte düşüp yola,
Köy meydanına gelmiş.
Köylüler bakmışlar önce,
Şaşırılmışlar bu işe.
Nasrettin Hoca gülmüş buna,
Sirtını dönmemiş onlara.

KARESEL METİNLERİ OKUYALIM

Ağladı.

Bebek ağladı.

Küçük bebek ağladı.

Kucağındaki küçük bebek ağladı.

Hande'nin kucağındaki küçük bebek ağladı.

Kucağındaki küçük bebek ağladı.

Küçük bebek ağladı.

Bebek ağladı.

Ağladı.



Yedi.

Havuç yedi.

Turuncu havuç yedi.

Tavşan turuncu havuç yedi.

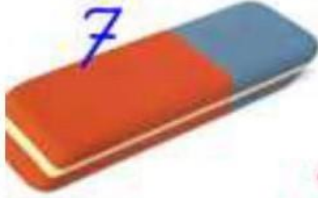
Turuncu havuç yedi.

Havuç yedi.

Yedi.



Görsel Bulmaca



7



3



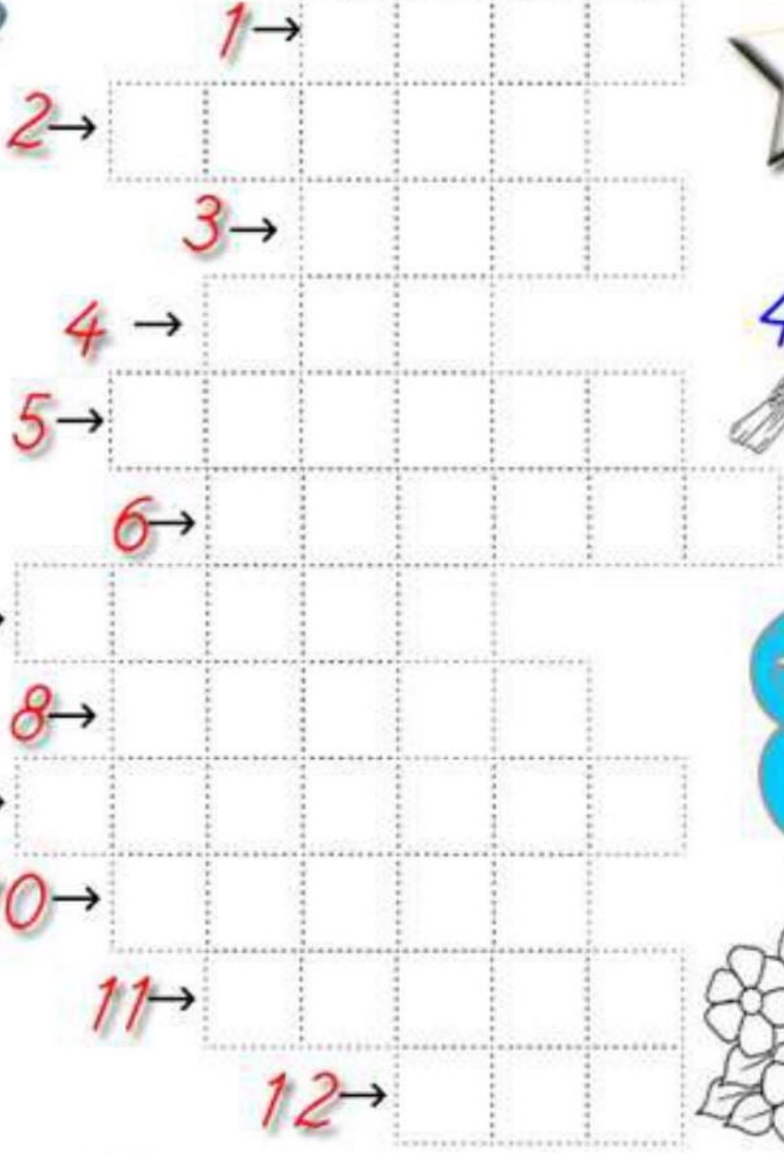
12



2



9



1

2

3

4

5

6

7

8

9

10

11

12



6



4



8



11



10






1



5

TÜRKÇE

* Aşağıdaki görsellerin gölgelerini bulup işaretleyelim.



TÜRKÇE

* Aşağıda görselleri verilen varlıkların isimlerini yazalım.
















TÜRKÇE

✿ Aşağıdaki bilmeceleri aile bireylerimize soralım.

✓ Dalında yeşil, çarşıda siyah, evde kırmızı olan şey nedir?

✓ Ağız var dili yok, nefesi var canı yok.

✓ Hangi bebek süt içemez?

✓ İğnesi yok, ipliği var. Sarar sarar ev yapar.

✓ Kanatlıdır uçamaz, alarmı var kurulmaz.

✓ Sıvıdır su değil, beyazdır kar değil.

✓ En çok kardeşi olan meyve hangisidir?

✓ Benim bir ağacım var her gün yaprak döker.

✓ Dışı kazan karası, içi peynir mayası

✓ Vardır ama göremezsin, o olmazsa hiç bilemezsin

çay	takvim	horoz	süt	akıl
örümcek	göz bebeği	üzüm	balon	kestane

NEZAKET KURALLARI

Nezaket kurallarına uymak çok önemlidir. Arkadaşlarımızın ve çevremizdeki diğer insanların sevgi ve saygısını kazanmak için nazik olmaya özen göstermeliyiz.

Teşekkür etmek, özür dilemek, insanlara kibar davranmak, olumlu özelliklerimizdendir. Ailede de nezaket kuralları önemlidir. Annemizden su isterken "Anneciğim su verir misin?" diye istemek annemizi mutlu eder. Ablamızdan ödevimize yardım etmesini isterken ya da babamızdan alışverişe giderken ihtiyacımız olan bir şeyi almasını isterken de nazik olmalıyız. Böylece insanlarla aramızda güçlü bir sevgi bağı oluşur.

* Metni üç kez okuyalım. Verilen ifadelerden doğru olanların başına "D", yanlış olanların başına "Y" yazalım.

- Nazik olmak önemli değildir.
- Teşekkür etmek, bir nezaket ifadesidir.
- Ailedeki insanların her zaman birbirine ihtiyacı olur.
- Nazik ve kibar olmak diğer insanların sevgi ve saygısını kazanmamıza neden olur.
- Özür dilemek kötü bir davranıştır.
- Kötü ve kaba davrandığımızda aramızdaki sevgi bağı güçlenir.

BÜYÜMEK

Çimenler
Ipslak
Ben ağlayınca

Bir serçe
Konar pencereye
Ben gülünce

Gök masmavi
Bakıyorum diye
Bir gün

Kapıyı çalacak
Komşu çocuklar
Ben yürüyünce

İşte böyle
Büyüyorum,
Bir gündüz
Bir gece



Cahit ZARİFOĞLU
(Gülücük Çocuk Kitapları)

✿ Soruları şiire göre cevaplandıralım.

1. Ben ağlayınca neler ıpslak olur?

.....

2. Ben gülünce pencereye kim konar?

.....

3. Ben yürüyünce kapıyı kim çalacak?

.....

4. Ne zaman büyüyorum?

.....

TÜRKÇE

* Karışık hâlde verilen hece gruplarından anlamlı sözcükler oluşturalım.

ca - ma - bul

ta - ne - kes

dar - jan - ma

lı - pa - ka

sak - baç - lam

ma - cu

ne - an

tı - ça

ta - rak

ra - fa - zü

pa - is - nak

ma - do - tes

tap - lık - ki

lı - sa

lot - pi

şık - ka

ko - tan - mu

zel - gü

SAĞLIKLI BESLENME

Sağlıklı ve düzenli beslenmek çok önemlidir. Günde 3 defa yemek yemeliyiz. Günün en önemli öğünü sabah kahvaltısıdır. Sabah kahvaltısında; zeytin, peynir ve reçel gibi yiyecekleri yemeliyiz. Kemiklerimizin daha sağlam olması için mutlaka süt içmeliyiz. Öğle ve akşam yemeğinde de hazırlanan yemekleri güzelce yemeliyiz. Yemeklerden sonra mutlaka dişlerimizi fırçalamalıyız. Ayrıca gün boyunca bol bol su içmeliyiz.

Hastalıklardan korunmak için aşı olmayı ihmal etmemeli, belli aralıklarla diş ve göz kontrolü yaptırmalıyız.

✿ Soruları okuduğumuz metne göre cevaplandıralım.

1. Sabah kahvaltıda ne yemeliyiz?

.....

2. Günde kaç defa yemek yemeliyiz?

.....

3. Günün en önemli öğünü hangisidir?

.....

4. Süt içmek niye önemlidir?

.....

5. Yemeklerden sonra ne yapmalıyız?

.....

6. Hastalıklardan korunmak için ne yapmalıyız?

.....

* Görselleri inceleyelim. Örnekteki gibi görsellere uygun cümleler yazalım.



Çikolatayı az tüketmeliyiz.

Blank writing lines for a sentence.



Blank writing lines for a sentence.

Blank writing lines for a sentence.



Blank writing lines for a sentence.

Blank writing lines for a sentence.



Blank writing lines for a sentence.

Blank writing lines for a sentence.



UÇURTMA

Anıl ile Berk iki iyi arkadaşlardır. Okulda aynı sınıftalar ve mahallede de aynı apartmanda oturuyorlar. Okul dışındaki zamanlarını da beraber geçirmekten çok keyif alıyorlar.

Anıl ve Berk birgün uçurtma yapmaya karar vermişler, uçurtma malzemelerini evden getirmişler ve biraz uğraştıktan sonra rengarenk bir uçurtma yapmayı başarmışlar.

Sıra gelmiş uçurtmayı uçurmaya. Uçurtma, güzelce uçmuş uçmasına ama çok fazla yükseğe çıkamamış çünkü ip çok kısa gelmiş.

...



✿ Soruları okuduğumuz öyküye göre cevaplandıralım.

1. Hikâyenin kahramanları kimlerdir?

.....

2. Anıl ve Berk ne yapmaya karar vermişler?

.....

3. Uçurtma malzemelerini nereden almışlar?

.....

4. Uçurtma neden yükselememiş?

.....

TÜRKÇE

❁ Aşağıdaki metni okuyalım. Bir kez yazalım.

ATATÜRK



Mustafa Kemal Atatürk, vatanını ve milletini seven bir komutandır. Kurtuluş Savaşında milleti ile el ele vererek cephelerde kahramanca savaştı. Bizlere bu güzel vatani armağan etti.

* İki resim arasındaki yedi farkı işaretleyelim.




TÜRKÇE

* Aşağıdaki görsellerde verilen hayvanların isimlerini yazalım.



* Aşağıdaki tekerlemeleri okuyalım.


KOMŞU

- Komşu komşu hul!
- Oğlun geldi mi?
- Geldi. 
- Ne getirdi?
- İnci boncuk 
- Kime kime?
- Sana, bana 
- Başka kime?
- Kara kediye 
- Kara kedi nerede?
- Ağaca çıktı?
- Ağaç nerede? 
- Balta kesti?
- Balta nerede? 
- Suyu düştü.
- Su nerede?
- İnek içti
- İnek nerede? 
- Dağa kaçtı?
- Dağ nerede?
- Yandı bitti kül oldu.

Oooo...

- İğne battı 
- Canımı yaktı
- Tombul kuş, 
- Arabaya koş
- Arabanın tekeri
- İstanbul'un şekeri 
- Hop hop altın top
- Bundan başka oyun yok.

Portakalı soydum 

- Baş ucuma koydum
- Ben bir oyun kurdum
- Duma duma dum
- Kırmızı mum 
- Dolapta pekmez
- Yala yala bitmez
- Ayşecik cik cik cik
- Fatmacık cik cik cik
- Sen bu oyundan çık

TÜRKÇE

Resimlere göre cümleleri tamamlayalım.


	Ablam yeni bir almış.
marulu çok sever.
	Paten yapançok komikti.
	Annemsüt sağdı.
	Kayseriye'ye ile gittik.

Metni okuyalım, soruları yanıtlayalım.

SEMİH

Kardeşim Semih pek haylaz, hiç yerinde duramaz. Bir bakarsın ağaca çıkmış, bir bakarsın çukura düşmüş. Kötülük nedir bilmez. Sadece hareketli bir çocuktur.

Dün yine koşuyordu. Ayağı halıya takıldı. Pat, yere düştü. Dizi fena yaralandı. Semih çok ağladı. Annem yarasını sardı. Semih koşmamaya söz verdi.



1-Yerinde duramayan kimdir?

.....

2-Semih neden düştü?

.....

3-Semih'in neresi yaralandı?

.....

TÜRKÇE

* Kurbağayı, yolu bularak ailesine ulaştıralım.



Üç Şey Yaz Oyunu



Uçan 1..... 2..... 3.....	İçilen 1..... 2..... 3.....
Giysilerden 1..... 2..... 3.....	Gökyüzünde 1..... 2..... 3.....
Tatlı Olan 1..... 2..... 3.....	Ses Çıkaran 1..... 2..... 3.....

Aşağıdaki açıklamaları okuyarak cümlelerin numaralarını resimde doğru yerlere yazalım.



- 1- Parmak kaldıran, düz saçlı çocuk Arda'dır.
- 2- Mert gözlük takmaya başladı.
- 3- Selin saçlarını iki yandan bağlamış.
- 4- Efé'nin kıvrık saçları var.
- 5- Yağmur saçlarına toka takmamış.

Sorulara resme göre cevap verelim.

- 1- Sınıfımızda kaç kız öğrenci vardır?
- 2- Sınıfımızda kaç erkek öğrenci vardır?
- 3- Sınıfımız toplam kaç kişidir?


TÜRKÇE

Sence alttaki resim bize neler anlatıyor? Birkaç cümle ile yazalım. Sonra resmi boyayalım.



TÜRKÇE

Atkılardaki modellerin devamını çizelim.
Boyayalım.



Görseli inceleyelim. Kelimeleri okuyalım.
Görselde olanları işaretleyelim.



Silly Side
Client: Highlights Puzzlemania

f.m.

köpek	saksılar	eldiven
kedi	gergedan	merdiven
şemsiye	gökkuşacağı	küvet
tencere	reçel	havuz
fincan	ayçiçeği	penguen
tavşan	kalemlik	halı
direksiyon	olta	fare

Soruları görsel bakarak cevaplayalım.



1-Adamın solunda ne var?

2-Kedi nerede?

3-Babayla oğlanın arasında kim oturuyor?

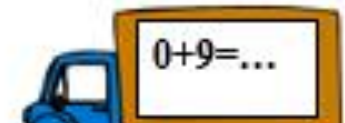
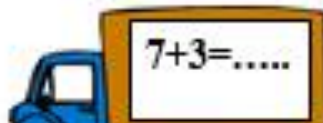
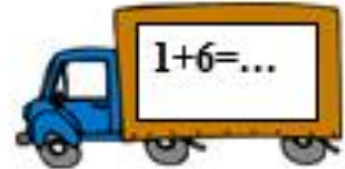
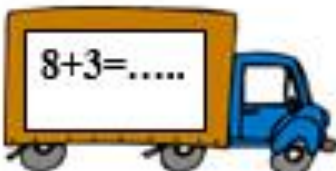
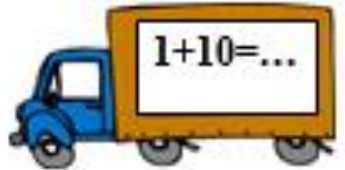
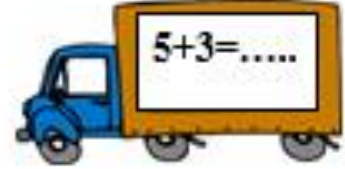

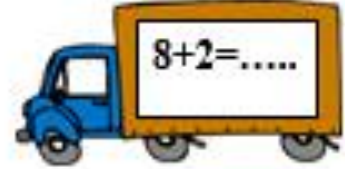
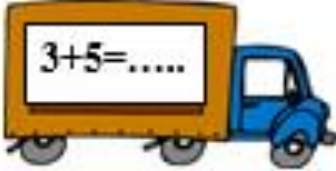
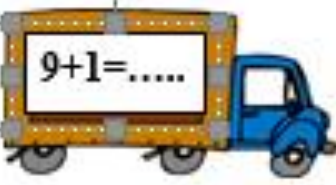
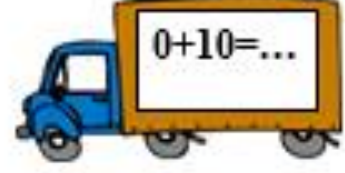
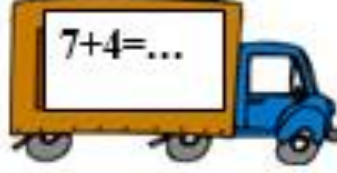
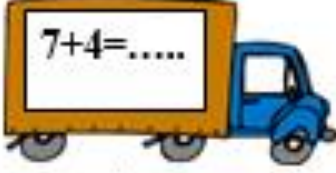
4-Kızın karşısında ne var?

5- Vazo nerede?

6- Oğlanın başının altında ne var?

MATEMATİK

Aşağıdaki kamyonların üzerinde yazılı olan rakamları toplayınız
Toplamı 10 olan kamyonlara karpuz yüklenecektir. Topamları 10 olanları
bulup karpuzlar ile eşleştiriniz.



MATEMATİK

TOPLAMA İŞLEMLERİ



Onluk	Birlik
1	3
+	2



Onluk	Birlik
1	4
+	5



Onluk	Birlik
1	8
+	1



Onluk	Birlik
1	1
+	4



Onluk	Birlik
1	5
+	4



Onluk	Birlik
1	0
+	7



Onluk	Birlik
1	5
+	4



Onluk	Birlik
1	6
+	2



Onluk	Birlik
1	4
+	3



Onluk	Birlik
1	8
+	0



Onluk	Birlik
1	7
+	1



Onluk	Birlik
1	6
+	3



Onluk	Birlik
1	3
+	5



Onluk	Birlik
1	5
+	3



Onluk	Birlik
1	1
+	7



Onluk	Birlik
1	5
-	4



Onluk	Birlik
1	4
-	5



Onluk	Birlik
1	5
-	1



Onluk	Birlik
1	2
-	2



Onluk	Birlik
1	1
-	5

MATEMATİK

TOPLAMA İŞLEMLERİ

Onluk	Birlik
1	7
+	2
<hr/>	

Onluk	Birlik
1	4
+	4
<hr/>	

Onluk	Birlik
1	2
+	5
<hr/>	

Onluk	Birlik
1	1
+	3
<hr/>	

Onluk	Birlik
1	3
+	4
<hr/>	

Onluk	Birlik
1	0
+	3
<hr/>	

Onluk	Birlik
1	6
+	2
<hr/>	

Onluk	Birlik
1	3
+	5
<hr/>	

Onluk	Birlik
1	2
+	7
<hr/>	

Onluk	Birlik
1	0
+	1
<hr/>	

Onluk	Birlik
1	2
+	3
<hr/>	

Onluk	Birlik
1	4
+	1
<hr/>	

Onluk	Birlik
1	5
+	2
<hr/>	

Onluk	Birlik
1	3
+	6
<hr/>	

Onluk	Birlik
1	6
+	0
<hr/>	

Onluk	Birlik
1	0
+	6
<hr/>	

Onluk	Birlik
1	1
+	4
<hr/>	

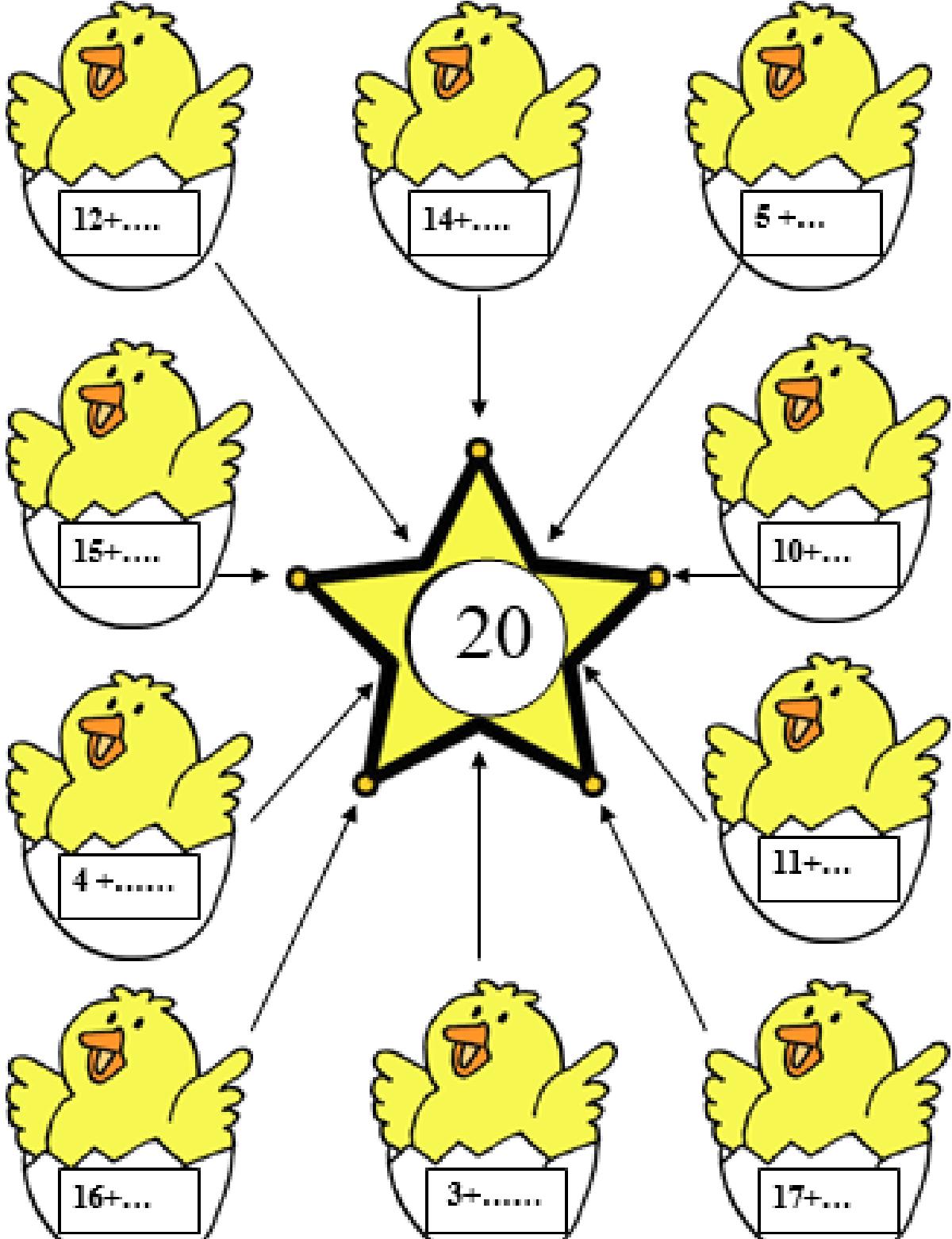
Onluk	Birlik
1	3
+	3
<hr/>	

Onluk	Birlik
1	4
+	3
<hr/>	

Onluk	Birlik
1	6
+	1
<hr/>	

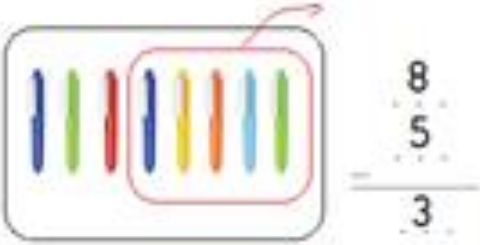
MATEMATİK

TOPLAMLARI 20 EDEN SAYILARI BULALIM, YERLERİNE YAZALIM



ÇIKARMA İŞLEMİ

1-

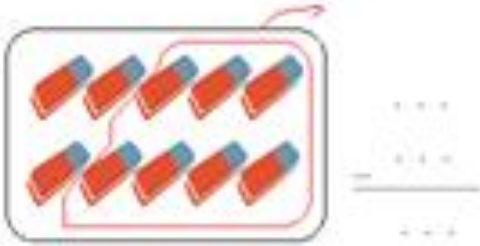


1

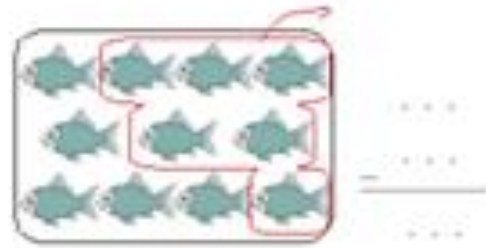
5-



2-



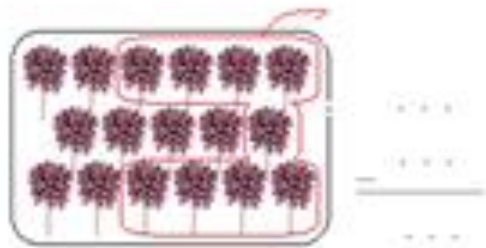
6-



3-



7-



4-




8-



ÇIKARMA İŞLEMİ

1-

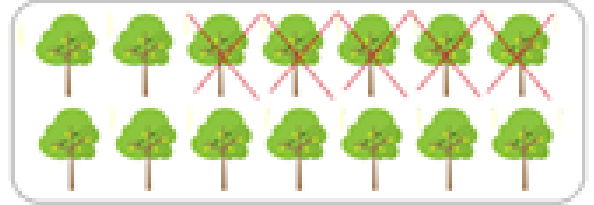


$$9 - 5 = 4$$




$$\dots + \dots = \dots$$

5-



$$\dots + \dots = \dots$$

2-



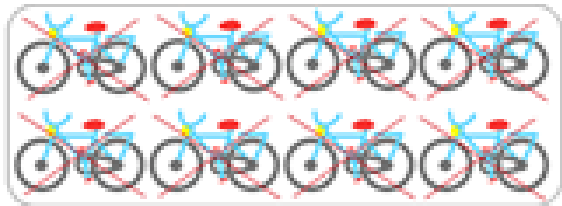
$$\dots + \dots = \dots$$

6-



$$\dots + \dots = \dots$$

3-



$$\dots + \dots = \dots$$

7-



4-

MATEMATİK

ÇIKARMA İŞLEMİ



$$6 - 3 = 3$$



$$= \dots\dots\dots$$

$$\dots - \dots = \dots\dots\dots$$



$$= \dots\dots\dots$$

$$\dots - \dots = \dots\dots\dots$$



$$= \dots\dots\dots$$

$$\dots - \dots = \dots\dots\dots$$



$$= \dots\dots\dots$$

$$\dots - \dots = \dots\dots\dots$$



$$= \dots\dots\dots$$

$$\dots - \dots = \dots\dots\dots$$

MATEMATİK

ÇIKARMA İŞLEMİ YAPIYORUM

$$\begin{array}{r} 3 \\ - 1 \\ \hline \end{array}$$

$$\begin{array}{r} 2 \\ - 1 \\ \hline \end{array}$$

$$\begin{array}{r} 4 \\ - 3 \\ \hline \end{array}$$

$$\begin{array}{r} 4 \\ - 2 \\ \hline \end{array}$$

$$\begin{array}{r} 5 \\ - 2 \\ \hline \end{array}$$

$$\begin{array}{r} 5 \\ - 3 \\ \hline \end{array}$$

$$\begin{array}{r} 6 \\ - 4 \\ \hline \end{array}$$

$$\begin{array}{r} 7 \\ - 5 \\ \hline \end{array}$$

$$\begin{array}{r} 8 \\ - 5 \\ \hline \end{array}$$

$$\begin{array}{r} 8 \\ - 7 \\ \hline \end{array}$$

$$\begin{array}{r} 9 \\ - 3 \\ \hline \end{array}$$

$$\begin{array}{r} 9 \\ - 5 \\ \hline \end{array}$$

$$\begin{array}{r} 9 \\ - 9 \\ \hline \end{array}$$

$$\begin{array}{r} 12 \\ - 4 \\ \hline \end{array}$$

$$\begin{array}{r} 14 \\ - 4 \\ \hline \end{array}$$

$$\begin{array}{r} 15 \\ - 6 \\ \hline \end{array}$$

$$\begin{array}{r} 13 \\ - 7 \\ \hline \end{array}$$

$$\begin{array}{r} 15 \\ - 9 \\ \hline \end{array}$$

$$\begin{array}{r} 12 \\ - 8 \\ \hline \end{array}$$

$$\begin{array}{r} 11 \\ - 8 \\ \hline \end{array}$$

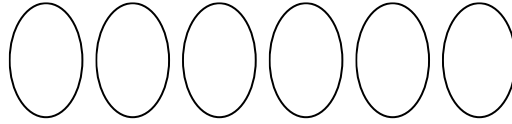
ÇIKARMA İŞLEMİ

1.) Kuşlardan 3'ünü ayır boya, kalanı belirt.




$$5 - 3 = 2$$

2. Yumurtalardan 4'ünü ayır boya, kalanı belirt.



$$\dots - \dots = \dots$$

3.) Güneşlerden 3'ünü ayır boya, kalanı belirt.



$$\dots - \dots = \dots$$


4.) Aylardan 4'ünü ayır boya, kalanı belirt.



$$\dots - \dots = \dots$$

MATEMATİK

5.) Kazlardan 5'ini ayır boya, kalanı belirt.



$$\quad - \quad =$$

6.) Ahtapottan 3'ünü ayır boya, kalanı belirt.



$$\dots - \dots = \dots$$

7.) Sincaplardan 4'ünü ayır boya, kalanı belirt.



$$\dots - \dots = \dots$$

8.) Kelebeklerden 3'ünü ayır boya, kalanı belirt.



$$\dots - \dots = \dots$$

MATEMATİK

9.) Balıklardan 4'ünü ayır boya, kalanı belirt.



$$\dots - \dots = \dots$$

10.) Maymunlardan 5'ini ayır boya, kalanı belirt.



$$\dots - \dots = \dots$$

MATEMATİK

Verilen sayının üzerine 3 say ve çıkan sonucu kutucuğa örnekte olduğu gibi yaz.

14	→	17	16	→		15	→		3	→	
12	→		17	→		7	→		5	→	
13	→		10	→		1	→		2	→	
9	→		8	→		6	→		4	→	

Verilen sayının üzerine 4 say ve çıkan sonucu kutucuğa örnekte olduğu gibi yaz.

8	→	12	16	→		11	→		3	→	
10	→		13	→		7	→		1	→	
12	→		9	→		5	→		4	→	
14	→		15	→		6	→		12	→	

Verilen sayının üzerine 5 say ve çıkan sonucu kutucuğa örnekte olduğu gibi yaz.

15	→	20	10	→		6	→		3	→	
14	→		11	→		7	→		2	→	
13	→		9	→		5	→		7	→	
12	→		8	→		4	→		1	→	

MATEMATİK

Aşağıdaki balonun üzerinde yazan toplama işlemlerini yapınız. Bulduğunuz sonuçlara göre Aşağıdaki balonlarla eşleştiriniz.

