

3. SINIF



Yarıyıl Tatili Fasikülü
2020-2021 Eğitim-Öğretim Yılı

EVDE EĞİTİM E-FASİKÜL' DE



YERKÖY ARGE

Yerköy İlçe Milli Eğitim Müdürlüğü'nün
uzaktan eğitim sürecinde öğrencilerimiz
için hazırladığı destek hizmetidir.

<http://yerkoy.meb.gov.tr>





Yerköy İlçe Millî Eğitim Müdürlüğü

Hazırlayanlar

Özlem KÜÇÜK	Şht. Kamil Çelikkaya İlkokulu
Ayşe Nur COŞKUN	Şht. Kamil Çelikkaya İlkokulu
Serhat GÜLCEGÜL	Şht. Kamil Çelikkaya İlkokulu
Yakup MURAT	Şht. Kamil Çelikkaya İlkokulu
Ömer YIMAZ	Atatürk İlkokulu
Ahmet YARIÇI	Reşat Akyön İlkokulu

Mehmet DURMAZ
İlçe Milli Eğitim Müdürü

Meliha ÖZDEN
Necmettin SAGLAM
Şube Müdürleri

M.Suat ATİLA
Koordinatör ve Grafik Tasarım



TÜRKÇE

1.-2.-3. HAFTA

KARDAN ADAM

Bir kış sabahıydı. Gecedен kar yağmış, her yer bembeyazdı. Ömür sabah uyanıp pencereden bakınca karları görüp çok sevindi. Abisi ona söz vermişti. Birlikte kardan adam yapacaklardı. Artık vakti gelmişti. Kardan adam yapabilirlerdi. Abisi o uyanmadan işe gitmişti. Ömür, abisinin gelmesini sabırsızlıkla bekliyordu. Birden pencereden bir ses Ömür'ü çağırıyordu. Ömür pencereden baktı ve abisini gördü. Abisi, Ömür'ü dışarı çağırdı ve birlikte kardan adam yaptılar.

1., 2. Ve 3. soruları yukarıdaki metne göre cevaplayınız.

1) Metinde anlatılan hikâye hangi mevsimde geçiyor?

- A) Kış B) İlkbahar C) Yaz

2) Abisi Ömür'e ne sözü vermişti?

- A) Parka gitme.
B) Kardan adam yapma.
C) Oyuncak alma.

3) Ömür, abisinin işten gelmesini neden sabırsızlıkla bekliyordu?

- A) Abisi oyuncak getirecekti.
B) Abisi ile parka gidecekti.
C) Abisi ile kardan adam yapacaklardı.

4) " gecekond - evsiz - camgöz - gül" sözcükleri yapısına göre hangi seçenekte doğru sıralanmıştır?

- A) birleşik - türemiş - birleşik - basit
B) basit - birleşik - türemiş - birleşik
C) birleşik - basit - türemiş - basit

Fotokopi

5) Yukarıdaki kelime hangi seçenekte doğru bir şekilde hecelerine ayrılmıştır?

- A) Fot-o-ko-pi B) Fo-to-kop-i C) Fo-to-ko-pi

6) Aşağıdaki kelime gruplarından hangi ikisi arasında farklı bir anlam ilişkisi vardır?

- A) Nemli - kuru B) Mutlu - mesut C) Keder - üzüntü

7) Aşağıdaki kelimelerden hangisi hecelerine doğru olarak ayrılmıştır?

- A) mus- ta- fa B) bağ - ım - sız C) bal - on - cu

TÜRKÇE

8) "Sevgi, gibi herkese yetecek kadar çok olan bir duygudur." tümcesini en iyi tamamlayan kelime hangisidir?

- A) su B) elbise C) merak

4.-5.-6. HAFTA

Okuldan yeni dönmüştüm. Hava daha aydınlıktı. Önlüğümü yavaş yavaş çıkarırken babamın sesiyle kendime geldim: - Akşama deden gelecek. Bunu duyunca o kadar sevindim ki! Bütün yorgunluğum gitti. Üzerimden dağ gibi bir yük kalktı. Dede deyince aklıma şu bol susamlı, uçan balon gibi tombul simitler gelir. Dedem bize her geldiğinde kese kâğıdında sıcak simitler getirir.

(İlk 4 soruyu yukarıdaki metne göre cevaplayınız.)

1-) Parçaya en uygun başlık aşağıdakilerden hangisi olabilir?

- A) Tombul Simit B) Önlük C) Aydınlık Hava

2-) Aşağıdakilerden hangisi çocuğun sevinme sebebi değildir?

- A) Dedesinin gelecek olması B) Dedesinin susamlı, tombul simitler getirecek olması C) Çocuğun yorgunluğunun geçmesi

3-) Dedesi simitleri neyle getiriyor?

- A) Hediye paketiyle B) Poşetlerin içine koyarak C) Kese kâğıtların içine koyarak

4-) Çocuğun söylediği sözlerden hangisi bir duyguyu ifade eder?

- A) Okuldan yeni dönmüştüm.
B) Dedemin gelişine çok sevindim.
C) Dedem, her gelişinde sıcak simitler getirir.

5-) "İlkbaharda çok az yağmur yağdı. Bunun için yaz mevsiminde sıkıntısı çekilebilir." Tümcesini hangi kelimeyle tamamlayabiliriz?

- A) yağ B) bulut C) su

6-) Aşağıdaki kelimelerden hangisinin yazılışı doğrudur?

- A) herkez B) kardaş C) nefes

7-) Aşağıdaki atasözlerinden hangisinin konusu diğerlerinden farklıdır?

- A) Sakla samanı, gelir zamanı. B) Aç kurt, fırın deler. C) Damlaya damlaya göl olur.

8-) Aşağıdaki kelimelerden hangisi hem cins hem de tekil isimdir?

- A) kalemler
B) pamuk şeker
C) Ömer

9-) Aşağıdaki cümlelerin hangisinde sebep sonuç ilişkisi yoktur?

- A) Gürültü olduğu için uyuyamadım.
B) Telefonum bozuk. Bu yüzden mesaj atamadım.
C) Bu kış oldukça uzun ve soğuk geçti.

TÜRKÇE

10-) "zaman – vakit " kelimeleri arasındaki anlam ilişkisinin benzeri aşağıdakilerden hangisinde vardır?

- A) sonbahar – güz B) yazlık – kışlık C) rüya – düş

11-) Köylü kızı kucak kucak

Sarı gül toplayacak

Ağaçları altımıza

Gölgemizi yayacak.

Dörtlükte, hangi varlığın özelliği belirtilmiştir?

- A) ağaç B) gül C) gölge

12-) "Mızıkçı olduğu kimse onu oyuna almadı." Noktalı yere aşağıdakilerden hangisi gelmelidir?

- A) için B) ve C) da

13-) "Amcam sabah erkenden yola çıktı. Kendi arabasıyla, durmadan gidiyordu." İfadesinde aşağıdakilerden hangisi tam olarak belli değildir?

- A) Olayın kahramanı
B) Olayın geçtiği zaman
C) Olayın meydana geldiği yer

14-) "Meyve bahçesi veya üzüm kütüklerinin dikili bulunduğu toprak parçası" anlamına gelen kelime, aşağıdakilerden hangisidir?

- A) bahçe B) bağ C) orman

15-) Hangi seçenekte kelimeler arasında farklı bir anlam ilişkisi vardır?

- A) uzun _kisa B) çabuk – hızlı C) uzak – yakın

7.-8.-9. HAFTA

1. Aşağıdaki cümlelerin hangisinde zıf anlamlı kelimeler bir arada kullanılmıştır?

- A) Sokak çok soğuktu bir türlü ısınamadık.
B) Sınav çok kolaydı, hemen bitirdim.
C) Acı tatlı demeden masadaki her şeyi yedi.

TÜRKÇE

2. Aşağıdaki cümlelerden hangisi "Babam amcamdan daha uzundur." cümlesiyle aynı anlamdadır?

- A) Babam, amcamdan daha uzun boylu değil.
B) Amcam, babamdan daha kısa boylu.
C) Ne babam ne de amcam uzun boylu.

3. "İşçiler gece gündüz çalıştılar işi bitirdiler."

Yukarıdaki cümlede altı çizili kelimeler arasındaki **anlam ilişkisi** hangi seçenekte vardır?

- A) öğrenci – talebe B) Aşağı – yukarı C) Okul – mektep

4. "Pazara gelen köylü, yumurtaları satamayınca onları geri götürdü. "

Yukarıdaki cümledeki "onları" sözcüğü aşağıdaki varlıklardan hangisinin yerine kullanılmıştır?

A) 
Köylü

B) 
Yumurtalar

C) 
Tavuklar

5. Aşağıdaki cümlelerin hangisinde soru işareti kullanılmalıdır?

- A) Kurban bayramında koyun kestik
B) Bu akşam kuran okuyacağım
C) Yatsı namazını kıldın mı

6. Aşağıdaki cümlelerden hangisi sebep-sonuç cümlesidir?

- A) Allah, çocukları çok sever.
B) Ezan okununca camiye gittik.
C) Meral, kuran okumayı öğreniyor.

7. "Ahmet ()in çantasını buraya getir ()"

Yukarıdaki cümlede boş bırakılan yerlere hangi noktalama işaretleri yazılmalıdır?

- A) (') (.) B) (') (?) C) (') (!)

10.-11.-12. HAFTA

1-"ağız kulaklarına varmak"

söz grubu yerine aşağıdakilerden hangisini kullanabiliriz?

- A) Çok korkmak B) Çok sevinmek C) Çok üzölmek

2-"Ah çocuk, bunu niçin daha önce akıl edemedin?" cümlesindeki

"akıl edememek" söz grubu yerine aşağıdakilerden hangisini kullanabiliriz?

- A) anlamadın B) düşünemedin C) bilemedim

TÜRKÇE

3-Aşağıdaki atasözlerinden hangisi anlamca diğerlerinden farklıdır?

- A) Ağaç yaşken eğilir
- B) Sakla samanı gelir zamanı.
- C) Damlaya damlaya göl olur.

4-Aşağıdaki cümlelerin hangisinde zıt anlamlı kelimeler birlikte kullanılmıştır?

- A) Ayakkabılarını eğilip sildi.
- B) Rüyasında hem ağladı hem güldü
- C) Bahçeye topları düşmüş

5-"Şekerleme" kelimesinin hece sayısı aşağıdakilerden hangisine eşittir?

- A) okuldaki
- B) verimli
- C) oradakiler

"Geç kaldığı için dersi kaçırdı"

6-Yukarıdaki cümlenin sonuç bölümü hangisidir?

- A) geç kalmak
- B) geç kaldığı için
- C) dersi kaçırmak

7- "Gökyüzüne bakınca Ay'ı yıldızları ve gökyüzünü izlerim." Cümlesinde hangi kelimedenden sonra virgül(,) kullanılmalıdır?

- A) bakınca
- B) Ay'ı
- C) yıldızları

8-"Düş" kelimesi, aşağıdakilerden hangisinde farklı anlamdadır?

- A) Düşümde Şeneli gördüm.
- B) Düşerken kolundan yakaladım.
- C) Düştüğü yerde öylece kaldı.

9-Aşağıdaki cümlelerden hangisinin sonuna farklı bir noktalama işareti getirilmelidir?

- A) Necip bugün çok çalıştı
- B) Eyüp erken yattı erken kalktı
- C) Eyvah, ödevimi unuttum

TÜRKÇE

13.-14.-15. HAFTA

1. " güzel, kibar konuşmak " anlamına gelen deyim aşağıdakilerden hangisidir?

- A. dilinden bal damlamak
- B. dili uzamak
- C. dili tutulmak

2. Aşağıdaki sözcüklerden hangisi çoğul değildir?

- A. öğretmenler
- B. doktorlar
- C. kiler

3. Aşağıdaki tümcelerden hangisinde yazım yanlışı yapılmıştır?

- A. Kitabları yırtmadan okumalıyız
- B. Damlalar bize gelecekler.
- C. Oda da kim var?

4. Aşağıdaki tümcelerin hangisinde eşesli bir sözcük yoktur?

- A. Dayım saz çaldı.
- B. Ekmek aslanın ağzında.
- C. Su kenarında oturuyoruz.

5. " Çantasında sadece mavi defteri vardı. " tümcesinde varlığın özelliğini belirten sözcük aşağıdakilerden hangisidir?

- A. çantasında
- B. defter
- C. mavi

6. "Çocuklar, elmaları ve armutları poşete doldurdular." Cümlesinde geçen isimlerden tekil olanı hangisidir?

- A) poşete
- B) Çocuklar
- C) Elmaları

7. Aşağıdaki tümcelerin hangisinde bir duygu anlatılmaktadır?

- A. Saçlarımı yıkadım.
- B. Yaralı kuşa çok acıdım.
- C. Yazın su kıtlığı olacakmış.

8. Aşağıdaki tümcelerin hangisinde yanlış yazılmış bir sözcük vardır?

- A. Annem pencereyi açdı.
- B. Kafesteki bülbül çok öttü.
- C. Ocağı kibritle yaktı.

9. "Sınıfımızı, temiz, daima, tutmalıyız, zaman" sözcükleriyle düzgün bir tümce kurduğumuzda sondan ikinci sözcük hangisi olur?

- A. temiz
- B. her
- C. tutmalıyız

10. Birden çok varlığı anlatan isimlere ne denir?

- A) Tekil isimler
- B) Çoğul isimler
- C) Genel isim

MATEMATİK

A-) Aşağıdaki ifadelerden doğru olanların başına D, yanlış olanların başına Y harfi yazınız.

- () Birler basamağında 1,2,3,4 olan üç basamaklı sayılar bir sonraki onluğa yuvarlanır.
- () Romen rakamlarını sadece saat ifadelerinde kullanırız.
- () Bir sayının, rakamlarının basamak değerleri toplamı sayının kendisine eşittir.
- () Rakamları birbirinden farklı üç basamaklı en küçük doğal sayı 102'dir.
- () Birler basamağında 0,2,4,6,8 rakamlarından biri olan doğal sayılar çift sayılardır.

B-) Aşağıdaki cümlelerde noktalı yerleri uygun sözcüklerle tamamlayınız.

999

rakam

987

Üç

basamak

- 1- Bir rakamın bulunduğu basamaktaki değerine değeri denir.
- 2- Rakamları birbirinden farklı üç basamaklı en büyük sayı sayıdır.
- 3- Sayıları yazmak için kullanılan işaretlere denir.
- 4- Romen rakamlarında I ve X rakamları yan yana en fazla kez yazılabilir.
- 5- Üç basamaklı en büyük doğal sayı..... sayıdır.

C-)Aşağıdaki sekizer ileri ritmik saymanın devamını 104'e kadar yazınız.

8 – 16

Ç) Sayının basamak adı, sayı değeri ve basamak değerlerini yazalım.

3 9 1	Basamak adları	/	Sayı Değeri	/	Basamak Değerleri
3	/	/
9	/	/
1	/	/

D) Aşağıdaki sayıları KÜÇÜKTEN – BÜYÜĞE sıralayınız. Sembol kullanınız.

596 – 135 – 745 – 833 =

345 – 892- 432 – 563 =

485 – 583 – 379 – 172 =

MATEMATİK

E) Aşağıda verilen sayıların altlarına çıkararak çift olanlara Ç, tek olanlara T yazınız .

825:

428 :

99:

774:

3:

F)Aşağıdaki sayıları en yakın ONLUĞA yuvarlayınız.

* 256= * 643 = * 985 = * 371 = * 563 =

G) Aşağıdaki sayıları en yakın YÜZLÜĞE yuvarlayınız.

* 162 = *449 = * 759 = * 945 = * 271 =

H) Aşağıda çözümlenmiş sayıların karşılıklarını yazınız.

3 yüzlük + 6 onluk + 2 birlik :

4 onluk + 7 yüzlük + 2 birlik :

5 birlik + 7 yüzlük :

5 yüzlük + 2 onluk :

6 onluk + 2 yüzlük + 4 birlik :

8 birlik + 5 yüzlük + 1 birlik :

I)Aşağıda okunuşları verilen sayıların okunuşlarını ve rakamla yazınız.

208---.....

Beş yüz yirmi altı:

189 ---

İki yüz yirmi:

346---.....

Altı yüz kırk iki:.....

752---.....

Üç yüz sekiz:.....

919---.....

Altı yüz yetmiş beş:.....

İ) Aşağıda verilen boşlukları ROMEN RAKAMLARI ile doldurunuz.

6 =

II :

9 =

16 =

IV :

XIX :

X + X = :

14 =

XVI :

IX + X = :

MATEMATİK

J) Aşağıdaki sayılar arasındaki ilişkiye uygun işareti koyunuz.. (<, > ve =)

156 259

672 672

478 321

479 314

687 368

310 210

598 798

714 981

TEST

1) (64 - 72 - 80 - 88 - 96)

Yukarıdaki sayı örüntüsünün kuralı nedir?

- A) Yedişer ritmik sayma yapılmıştır.
- B) Sekizer ritmik sayma yapılmıştır.
- C) Dokuzar ritmik sayma yapılmıştır.

2) " 764 " doğal sayısının çözümlenmiş şekli aşağıdakilerden hangisidir?

- A) (7 X 100) + (6 X 10) + (4 X 1)
- B) (7 X 10) + (6 X 100) + (4 X 1)
- C) (7 X 100) + (4 X 10) + (6 X 1)

3) Üç basamaklı, EN KÜÇÜK sayı hangisidir?

- A) 100
- B) 101
- C) 102

4) 27 - 36 - 45 - - 63 - 72 yandaki örüntüde boşluğa hangi sayı gelmelidir?

- A) 55
- B) 53
- C) 54

5) " A > 224 " ifadesinde A yerine gelebilecek sayılardan en küçük olan doğal sayı kaçtır?

- A) 224
- B) 225
- C) 242

6) 3 birlik, 5 yüzlük ve 8 onluktan oluşan sayı kaçtır?

- A) 358
- B) 583
- C) 538

7) " 123 " sayısında hangi rakamın basamak değeri en küçüktür ?

- A) 1
- B) 2
- C) 3

8) (123 + 52) + 55 = (52 + 55) + A İşleminde A yerine aşağıdaki sayılardan hangisi gelmelidir?

- A) 123
- B) 52
- C) 55

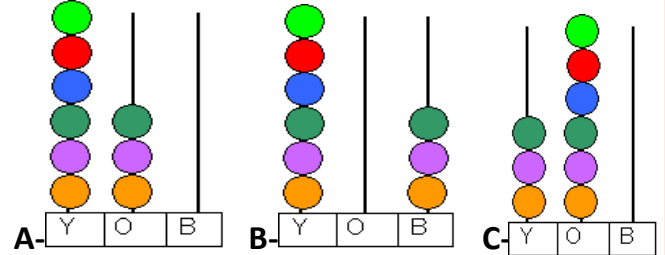
9) Aşağıdaki toplama işlemlerinden hangisinin sonucu farklıdır?

- A. 501
- B. 354
- c: 353
- . +328
- + 224
- +225

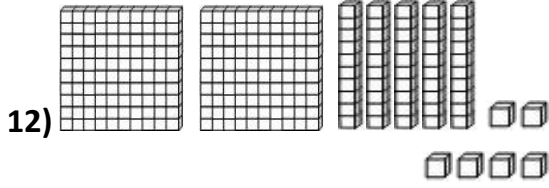
10) Bir okulda 248 erkek öğrenci vardır. Erkek öğrencilerin 79 fazlası kız öğrenci vardır. Bu okulda toplam kaç öğrenci vardır?

- A) 327
- B) 744
- C) 575

11) Aşağıdaki abaküslerden hangisinde "altı yüz otuz" sayısı gösterilmiştir?



MATEMATİK



13- 8 yüzlük, 2 onluk , 3 birlikten oluşan sayıyı yazınız.
.....

14-283'ten başlayarak İLERİYE doğru 6'şar ritmik saymaları tamamlayınız.
283-..... - - - -

15-Bir toptancı önce 285 kg patates , sonra 407 kg soğan alıyor , kamyonu yüklüyor. Toptancı kamyonu kaç kg mal yüklemiştir?

16-Ekmek fırınında sabahleyin 451 ekmek pişirilmiştir. Bu ekmeklerin 159 tanesi markete , 75 tanesi bakkala verilmiştir. Fırında geriye kaç ekmek kalmıştır?

17-Günde 8 kg üzüm satan manav 192 kg üzümü kaç günde satar?

18- 9 kilogramı 81 TL olan kirazın 3 kg'ı kaç TL.dir?

19-Sinem haftada 2 litre süt içeriyorsa , 1 yılda kaç litre süt içer?
(1 yıl=52 hafta)

FEN BİLİMLERİ

1) Doğru ifadelerin başına D, yanlış ifadelerin başına ise Y harfi koyunuz.

(.....) Dünya'mız dıştan içe doğru birbirini kuşatan katmanlardan oluşmaktadır.

(.....) Dünya'nın küre şeklinde olduğunu ileri süren ilk bilim adamı Pisagor'dur.

(.....) Büyük kara parçalarına okyanus, büyük su birikintilerine ise kıta denir.

(.....) Dünya'nın gözle görülmeyen katmanları dıştan içe doğru yerkaabuğu, dış çekirdek, iç çekirdek ve mantodur.

(.....) Sahile yaklaşan bir geminin önce dumanını ve bacasını, sonra geminin kendisini görürüz.

(.....) Bir uçak bulunduğu noktadan hep batıya gittiğinde yine aynı noktaya gelir.

(.....) Dünya'nın şekli düz bir tepsiye benzer.

(.....) Uzaydan çekilen fotoğraflar Dünya'nın küreye benzediğini ispatlar.

2) Aşağıda verilen özelliklerin Dünya'nın hangi katmanına ait olduğunu bularak numaralarını ait olduğu katmana yazalım.

Kara katmanı
.....

Su Katmanı
.....

Hava Katmanı
.....

1) Balıklar ve bazı bitkiler bu katmanda yaşarlar.

2) Dünya'nın dörtte birini kaplar.

3) Kar, yağmur, dolu, rüzgâr gibi hava olayları bu katmanda yaşanır.

4) Depremlerin meydana geldiği katmandır.

5) Gözle göremeyiz ama varlığını hissederiz.

6) Dünya'yı dıştan saran gaz tabakasıdır.

7) Okyanuslar, göller, denizler, yeraltı suları bu katmanda bulunur.

8) Dünya haritasında mavi renkle gözükür.

9) Ormanlar, ağaçlar ve kayalar bulunur.

10) Diğer adı da atmosferdir.


11) Kıtalar, okyanus tabanları, taş, toprak bu katmanı oluşturur.


FEN BİLİMLERİ


12) Dünya'nın dörtte üçünü oluşturan katmandır.

3) Aşağıda verilen tabloda duyu organlarımızın sağlığı ile ilgili doğru olan ifadeleri yeşil, yanlış olan ifadeleri mavi ile boyarsak aşağıdakilerden hangisi oluşur?

Dedemizin gözlüğünü takarak göz sağlığımızı koruruz.	Yiyecekleri çok soğukken ya da çok sıcakken tüketmemeliyiz.
Deri sağlığımızı korumak için düzenli olarak banyo yapmalıyız.	Kulaklarımızı sert cisimlerle karıştırmamalıyız.

A) 

B) 

C) 

4) Duyu organları ile ilgili verilen bilgilerden hangisi yanlıştır?

A) Beş tane duyu organımız vardır.

B) Göz, kulak, burun, deri ve dil duyu organlarımızdır.

C) Mide, beyin, akciğer, kalp ve böbrek duyu organlarımızdır.

5) Aslıhan uyanır uyanmaz annesinin kek yaptığını anlayınca çok sevindi. Merve mutfağa gitmeden annesinin kek yaptığını hangi duyu organıyla algılamıştır?

A) Burun

B) Göz

C) Kulak

6) Noktalı yerleri aşağıdaki kelimelerden uygun olan kelimelerle doldurunuz.

Beş, dış etkenlerden, deri, konuşmaya, nefes, koku, tat, ışık, nefes, dengemizi

★ vücudumuzu kaplayan en büyük duyu organımızdır.

★ Kulağımız sadece işitmemizi değil, de sağlar.

★ Göz, çevreden alarak görmeyi sağlar.

★ Vücudumuzda tane duyu organı bulunur.

★ Derimiz vücudumuzu korur.

★ Burun, alma ve alıp vermekle görevlidir.

★ Dilimiz alma organımızdır. Diğer görevi ise yardımcı olmaktır.

FEN BİLİMLERİ

7) Aşağıda verilen varlıkların hareket türlerini belirleyerek görsellerin altına yazınız.



..... hareketi

..... hareketi

..... hareketi

..... hareketi

8) Aşağıdaki tabloda uygulanan kuvvet türlerinden (itme kuvveti-çekme kuvveti) uygun olanı ifadelerin karşısına yazınız.

Futbol topunu kaleye atmak	
Halat çekme yarışmasındaki çocuklar	
Buzdolabının kapağını açmak	
Kumanda düğmesine basmak	
Rüzgârın uçurtmayı uçurması	
Okun yayını germek	



9) Yukarıdaki görselde verilen bilgilere göre doğru olan ifadelere D, yanlış olanlara Y yazınız.

*Top 1 yönünde hareket etmektedir. Buna göre;

2 yönünde kuvvet uygulandığında top,
(.....) hızlanabilir.
(.....) yavaşlayabilir.
(.....) durabilir.
(.....) yön değiştirebilir.

3 yönünde kuvvet uygulandığında top,
(.....) hızlanabilir
(.....) yavaşlayabilir
(.....) durabilir
(.....) yön değiştirebilir

FEN BİLİMLERİ

10) Maddeyi niteleyen özelliklere göre her birine birer örnek yazalım.

SERT
.....

YUMUŞAK
.....

ESNEK
.....

KOKULU
.....

Maddeyi niteleyen
özellikler

KIRILGAN
.....

PÜRÜZLÜ
.....

RENKLİ
.....

PÜRÜZSÜZ
.....

11) Aşağıda verilen özellikler maddenin hangi haline örnektir? Katı ise Tabloya 'K', sıvı ise 'S', gaz ise 'G' yazınız.



	Bulunduğu ortama yayılırlar.
	Belirli bir şekli vardır.
	Sıkıştırılabilirler.
	Bulunduğu kabın şeklini alırlar.
	Kan, süt, ayran maddenin bu haline örnektir.
	Dışarıdan bir etki olmadıkça şekli değişmez.
	Taş, masa, kalem maddenin bu haline örnektir.
	Akışkandırlar.

	Uçucudurlar.
	Suyun donmuş halidir.
	Buldukları kabın tamamını doldurular.
	Tuz, kum, şeker gibi küçük tanecikli olabilir.
	Balonun şişmesini sağlayan maddenin halidir.
	Yere dökülünce yayılırlar.
	Çok sıkıştığında patlayabilir.
	Küçük bir delikten bile sızabilir.

HAYAT BİLGİSİ




1.HAFTA

- Anlayışlı olmak ▲ Kavgacı olmak
● Güler yüzlü olmak ✨ Sabırlı olmak




1 Olumlu davranışların bulunduğu seçeneği işaretleyelim?

- A) ■ ● ▲ B) ✨ ■ ▲ C) ■ ✨ ●

2 Aşağıdaki görsellerin hangisinde arkadaşlık ilişkilerini olumsuz yönde etkileyen bir davranış vardır?

- A)  B) 
C) 

3 Aşağıdaki çocuklardan hangisi becerilerden söz edilmemiştir?

- A)  Televizyon izlemeyi seviyorum.
B)  Çok güzel resim yapabiliyorum.
C)  Müzik dersinde gitar çalabiliyorum.

4 Aşağıdakilerden hangisi sosyal yardımlaşmayı seven birinin özelliği olamaz?

- A) Yardım sever B) Duyarlı C) Sorumsuz

5

Aşağıdaki ifadelerden hangisi doğru davranışa örnektir?

- A) Her zaman yardım sever olmalıyız.
B) Arkadaşlarımızın fiziksel özellikleriyle dalga geçmeliyiz.
C) Ödünç aldığımız eşyaları geri vermemeliyiz.

6

Aşağıdakilerden hangisi oklumuzda yapacağımız sosyal çalışmalara örnek verilemez?

- A) Kütüphane için kitap kampanyası düzenlemek.
B) Arkadaşlarla birlikte hafta sonu denize gitmek.
C) Okulumuzun etrafına çiçek dikme kampanyası düzenlemek.

Arkadaşlarımla oyun oynamayı severim.
Planlı ders çalışırım. Geç saatlere kadar televizyon izlerim.

7

Yukarıdaki paragrafta verilenlerden hangisi

bir öğrencinin zayıf yönü olabilir?

- A) Oyun oynamak
B) Planlı olmak
C) Geç saatlere kadar oturmak

8

Meslek ve özellikleri hangi seçenekte yanlış verilmiştir?

- A) Doktor: İnsan sağlığıyla ilgilenmesi
B) Veteriner: Doğal çevre düzenlenmesi
C) Mimar: Evin planının çizilmesi

HAYAT BİLGİSİ

9. Okulda kaynakları verimli ve etkili kullanmak için aşağıdakilerden hangisini yapmamalıyız?

- A) Suyu ve sabunu israf eden arkadaşları uyarmalıyız.
- B) Gereksiz yere yanan lambaları kapatmalıyız.
- C) Okuldaki suyu sadece teneffüslerde kullanmalıyız.

10. Aşağıdaki ifadelerden hangisi doğrudur?

- A) Sınavdan düşük not alan arkadaşımızla alay etmeliyiz.
- B) Yardıma ihtiyaç duyan arkadaşlarımıza yardım etmeliyiz.
- C) Kısa boylu arkadaşlarımızla alay etmeliyiz.

11. Aşağıdaki davranışlardan hangisinin arkadaşlarımızda bulunmasını istemeyiz?

- A) Bencillik
- B) Naziklik
- C) Düzenlilik

12. Aşağıdakilerden hangisi okulda tasarruf yapma yöntemi değildir?

- A) Kağıt israfı yapmamak.
- B) Kalorifer yanarken pencereleri açık bırakmak.
- C) Gereksiz yere tahtayı karalamamak.

13. Aşağıdaki görsellerden hangisi sorumluluğunun dışında bir iş yapmaktadır?



14. Duyarlı kişiler aşağıdakilerden hangisini yapar?

- A) Engelli arkadaşı ile dalga geçer alay eder.
- B) Arkadaşlarına karşı bencil olur.
- C) Sınavdan düşük not alan arkadaşını teselli eder ona destek olur.

15. Aşağıdakilerden hangisi bir çocuğun yapabileceği işlerden değildir?

- A) Arabayı tamir etmek
- B) Sofrayı hazırlamak
- C) Bahçeyi temizlemek

-düzenli- yardım sever- cimri – bencil – kavgacı – planlı – duyarlı – anlayışlı – tutumlu – güler yüzlü

16. Yukarıdakilerden davranışların kaç tanesini arkadaşlarda bulunmasını isteriz?

- A) altı
- B) yedi
- C) sekiz

17. Aşağıdaki mesleklerden hangisi güvenliğimizi sağlamaktadır?

- A) Doktor
- B) Polis
- C) Öğretmen

HAYAT BİLGİSİ

2. HAFTA

Aşağıdaki cümlelerden doğru olanların başına "D", yanlış olanların başına "Y" yazınız.

- () Aile büyüklerimizin çocukluk döneminde en çok sevdiği oyunlar bilgisayar ve tablet oyunlarıdır.
- () Herkesin iyi bir komşuya sahip olması önemlidir.
- () Pencereden veya balkondan bir şeyler silkelemek doğal hakkımızdır.
- () Aile büyüklerimizle çocukluğu hakkında ansiklopedilerden faydalanabiliriz.
- () Komşularımızla diyalog kurmalıyız.
- () Odamızdan çıkarken lambayı kapatmaya gerek yoktur.
- () Çocuklar, evin geçimini sağlamakla sorumludurlar.
- () Banyo yaparken suyu israf etmeden kullanmalıyız.
- () Evimizi tarif ederken yakınında bulunan yerlerden yararlanabiliriz.
- () Alışveriş yaparken öncelikle isteklerimizi karşılamalıyız.

Aşağıdaki cümlelerde noktalı yerler uygun sözcükler yazalım.

yardımlaşarak

kolaylaşır

isteklerimizi

çocukluk

haklarına

krokişini

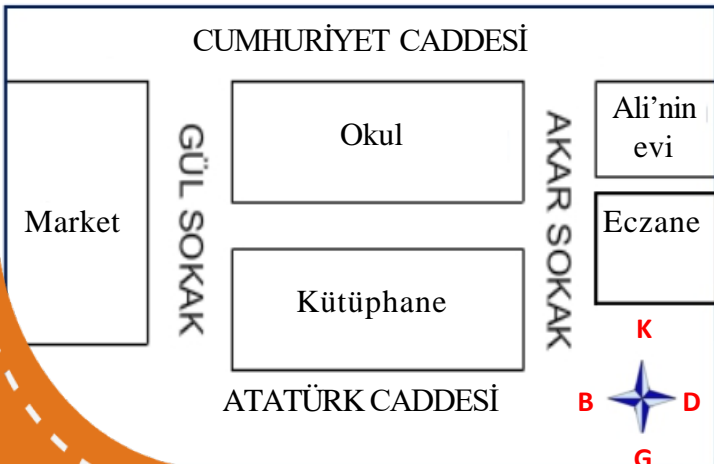
dikkatli

ihtiyaçlarımızı

fotoğraflardan

- ❖ Aile büyüklerimizin yaşamları hakkında bilgi edinmek için yararlanabiliriz.
- ❖ Komşular birbirlerinin saygı göstermelidir.
- ❖ Aile büyüklerimiz evdeki işleri paylaşmalı ve işleri yapmalıyız.
- ❖ Teknolojik ürünleri kullanırken olmalıyız.
- ❖ Önce ihtiyaçlarımızı, sonra almalıyız.
- ❖ Evimizin çizerken yakın çevreden yararlanabiliriz.
- ❖ Aile büyüklerimizin de bizim gibi dönemi olmuştur.
- ❖ Teknolojik ürünler geliştikçe insanların yaşamı
- ❖ Paramızı harcarken belirlemeliyiz.

Aşağıda verilen krokiye göre soruları yanıtlayınız.



Ali'nin evi okula göre hangi yöndedir?

.....

Okulun güneyinde hangi yapı var?

.....

Krokiye göre market hangi yöndedir?

.....

HAYAT BİLGİSİ

1. Aşağıdaki oyunlardan hangisi aile büyüklerimizin çocukluk döneminde oynadığın oyunlardan biri değildir?

- A) Saklambaç
- B) Körebe
- C) Bilgisayar oyunları

2. Babamın çocukluk dönemiyle ilgili bir araştırma yapacak olsak aşağıdakilerden hangisi bize bu konuda bilgi veremez?

- A) Babamın annesi ve babası
- B) İş arkadaşları
- C) Babamın amcası

3. Aşağıdakilerden ifadelerden hangisi evimizde adaletli bir iş bölümü olduğunu gösterir?

- A) Evimizdeki herkes sorumluluklarını bilir.
- B) Yataklarımızı annemiz toplar.
- C) Odamızı temiz tutmak anne ve babamızın görevidir.

4. Evimizi tarif ederken aşağıdaki bilgilerden hangisine ihtiyacımız yoktur?

- A) Evimizin adresini bilmek
- B) Babamın mesleğini bilmek
- C) Yönleri bilmek

5. Aşağıdakilerden teknolojik ürünlerden hangisi iletişim alanında kullanılmaz?

- A) Akıllı tahta
- B) Bilgisayar
- C) Telefon

6. Aşağıdakilerden hangisi çocukların görevlerinden biri olabilir?

- A) Odasını toplamak
- B) Para kazanmak
- C) Yemek yapmak

7. Aşağıdakilerden hangisi komşuluk haklarına uygun olmayan bir davranış biçimidir?

- A) Komşularımızı rahatsız edici davranışlarda bulunmamalıyız.
- B) Evimizde televizyonun sesini istediğimiz kadar açabiliriz.
- C) Komşularımızla diyalog kurmalıyız.

8. Aşağıdakilerden hangisi evdeki kaynakların kullanımı ile ilgili doğru bir davranıştır?

- A) Ellerimiz yıkarken suyu açık bırakmak
- B) Tabağımıza yiyeceğimizden fazla yemek almak
- C) Damlayan muslukları tamir ettirmek

9. Aşağıdakilerden hangisi paramızı tasarruflu kullanmaya örnek olamaz?

- A) Önce ihtiyaçlarımızı karşılamalıyız.
- B) Kumbarada para biriktirmeye özen göstermeliyiz.
- C) Harçlığımızı istediğimiz gibi kullanırız.

10. Aşağıdakilerden hangisi komşularıyla ilişki kuran birinin davranışı olamaz?

- A) Hasta komşularımızı ziyaret etmek
- B) Komşularımıza karşı saygılı olmalıyız.
- C) Çöpleri balkondan aşağı atmak.

HAYAT BİLGİSİ

3. HAFTA

Aşağıdaki cümlelerden doğru olanların başına "D", yanlış olanların başına "Y" yazınız.

- () Kendisine ve çevresine saygı duyan herkes kişisel bakımını yapmalıdır.
- () Banyo yaparken su ve sabunu istediğim kadar kullanabilirim.
- () Ürün satın alırken son kullanma tarihine dikkat etmeliyiz.
- () Bir ürünün pahalı olması o ürünün güvenilir olduğunu gösterir.
- () Sağlığımızın korunması için besinlerin mevsiminde yenilmesi önemlidir.
- () Öğün aralarında cips, şekerli ve gazlı içecekler tüketebiliriz.
- () Temizlik kurallarına uyulmadığı yerlerde hastalıklar çabuk yayılır.
- () Hastalanmamak için temizlik kurallarına uymalıyız.
- () Alacağımız ürünlerin ambalajını kontrol etmeliyiz.
- () Dişlerimin daha temiz olması için diş macununu bolca kullanmalıyız.

Aşağıdaki cümlelerde noktalı yerler uygun sözcükler yazalım.

sağlığımız

reklamların

listesi

ağzımızı

bütün

mevsiminde

içeriklerine

yiyebileceğimiz

bilinçli

- ❖ Kişisel bakımımızı yaparken kullandığımız kaynakları kullanmak önemlidir.
- ❖ Alışveriş sırasında etkisinde kalmamalıyız.
- ❖ yenilen besinler hem daha sağlıklı hem de daha lezzetli olur.
- ❖ Sağlıklı büyümemiz için yiyeceklerinden yeteri kadar yemeliyiz.
- ❖ Hapşırırken ve öksürürken uygun şekilde kapatmalıyız.
- ❖ Aldığımız yiyeceklerin bakmalıyız.
- ❖ Kişisel bakımımız için önemlidir.
- ❖ Tabağımıza kadar yemek almalıyız.
- ❖ Alışveriş yapmadan önce alışveriş hazırlanmalıdır.

Aşağıdaki noktalı yerlere bir ürün alırken nelere dikkat etmemiz gerektiğini yazınız.

- 1)
- 2)
- 3)
- 4)
- 5)

HAYAT BİLGİSİ

1. Aşağıdaki davranışlardan hangisi doğrudur?

- A) Kişisel bakımımı yaparken israftan kaçınırım.
- B) Dişlerimizi fırçalarken suyu açık bırakabilirim.
- C) Kaynakları dikkatli kullanarak aile bütçesine katkıda bulunurum.

Kaynakları kullanırken etmemeliyiz.

2. Yukarıdaki cümlede noktalı yere aşağıdaki sözcüklerden hangisi gelmelidir?

- A) İhtiyaç
- B) İsrar
- C) Bütçe

3. Aşağıdakilerden hangisi bilinçli bir tüketici davranışı **olamaz?**

- A) Ürünün kalitesi kontrol edilmelidir.
- B) Pahalı ürünler satın alınmalıdır.
- C) TSE damgalı olmayan ürünler alınmamalıdır.

4. Aşağıdaki ifadelerden hangisi bilinçli bir tüketici davranışıdır?

- A) Açıkta satılan yiyeceklerden alabiliriz.
- B) Alacağımız ürünlerin son kullanma tarihi bakmalıyız.
- C) Satın aldığımız ürünün fişini almamıza gerek yoktur.

5. Kişisel bakımımızla ilgili verilen bilgilerden hangisi **yanlıştır?**

- A) Saçlarımızı yıkarken şampuanı istediğimiz kadar kullanabiliriz.
- B) Kişisel bakımımızı yaparken kullandığımız suyu boşa yere akıtmamalıyız.
- C) Dişlerimizi fırçalarken suyu kapatmalıyız.

6. Sağlıklı olmak için aşağıdakilerden hangisini yapmalıyız?

- A) En çok sevdiğimiz yemeklerden beslenmeliyiz.
- B) Günde üç öğün besin tüketilmelidir.
- C) Her gün tost yemeliyiz.

7. Aşağıdakilerden hangisi ortak kullanım alanlarında **yapılmaması** gereken davranışlardan birdir?

- A) Piknik alanları, okul alanları vb. alanlarda çöpleri çöp kutusuna atmalıyız.
- B) Açık alanlarda yere tükürebiliriz.
- C) Ortak kullanım alanlarında tuvaletleri temiz tutmalıyız.

8. Sağlıklı olmak isteyen biri aşağıdakilerden hangisini **yapmamalıdır?**

- A) Sürekli aynı besinlerden yemelidir.
- B) Sabah kahvaltısı, öğlen ve akşam yemeklerini zamanında yemeliyiz.
- C) Her çeşit besinden tüketmelidir.

9. Aşağıdakilerden hangisi ortak kullanım alanlarında uyulması gereken davranışlar arasındadır?

- A) Hapşırırken ağızımızı kapatmamalıyız.
- B) Piknik alanlarında çöpleri bırakabiliriz
- C) Kapalı alanları sık sık havalandırmalıyız.


Dişabet sorunları olanlar besinler tüketmemelidir.

10. Yukarıdaki cümlede noktalı yere aşağıdaki sözcüklerden hangisi gelmelidir?

- A) Tahıl içeren
- B) Şekerli
- C) Sebzeli

TEST - 3

1)



Eksik olan kelimeler sırasıyla hangileridir?

- a) tall - thin
- b) small - thin
- c) young - old

2)



Yukarıdaki kelimelerden hangisi yanlıştır?

- a) ♥
- b) ★
- c) ▲

3)



It is
It is

Boşluklara sırasıyla hangileri gelmelidir?

- a) big / pink
- b) big / purple
- c) small / yellow

4) Is he heavy?

Görsele göre sorunun cevabı hangisidir?

- a) Yes, she is.
- b) No, he isn't.
- c) Yes, he is.



5)

He is old.

Hangi cümleyle devam edilirse anlaşılır?

- a) He can't run fast.
- b) He can climb a tree.
- c) He can run fast.

6)


Can you play the guitar?



Stary'nin cevabı hangisidir?

- a) No, I can't.
- b) No, she can't.
- c) Yes, I can.

7)



Boşluğa ne gelmelidir?

- a) sing
- b) play
- c) dance

8)



Eşleştirmelerden hangisi yanlıştır?

- a) slow
- b) big
- c) small

TEST - 4




Görsele göre hangisi **alamaz**?

- a) I am sad.
- b) I am energetic.
- c) I am bad.

2) - How do you feel?
-

Görsele uygun cevap hangisidir?

- a) I feel good.
- b) I feel happy.
- c) I feel tired.



Görsele uygun ifade hangisidir?

- a) Let's drink ayran.
- b) Let's sing.
- c) Let's eat an apple.

4) happy spin angry

Yukarıdaki kelimelerden hangisi diğerlerinden **farklıdır**?

- a) happy
- b) spin
- c) angry

5)




Yandaki görseli anlatan ifade hangisidir?

- a) Let's study!
- b) Let's eat!
- c) Let's cook!

6) Aşağıdakilerden hangisi diğerlerinde **farklıdır**?

- a) thirsty
- b) read
- c) start

7)

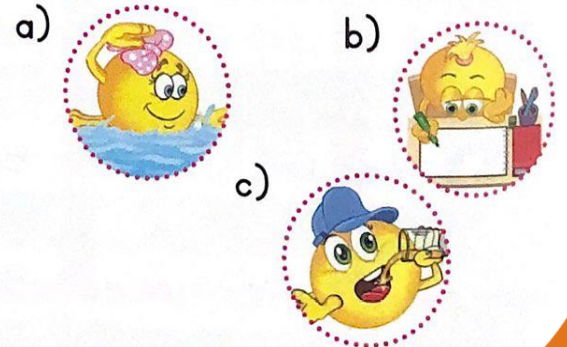


Aşağıdaki seçeneklerden hangisi yukarıdaki görsellere uygun **değildir**

- a) I am hungry.
- b) I am angry.
- c) I am surprised.

8) **Let's drink orange juice.**

Yukarıdaki ifadeyi anlatan görsel hangisidir?



TEST - 5

1)



Görsellerden hangisi aşağıda **yoktur**?

- a) ball b) blocks c) drum

2)



I have got a
It is

Boşluğa sırasıyla aşağıdaki kelimelerden hangileri gelmelidir?

- a) teddy bear - purple
b) teddy bear - pink
c) kite - pink

3)



How many playing cards are there?

Yukarıdaki sorunun cevabı hangisidir?

- a) There are ten playing cards.
b) There are eleven playing cards.
c) There are nine playing cards.

4)

have I got buttons nine

Kartlardaki karışık cümlelerin doğru sıralanışı hangisidir?

- a) I nine have got buttons.
b) I have got nine buttons.
c) I got have buttons nine.

5)



balloon

board game

puzzle

Eşleştirmelerden hangisi **yanlıştır**?

- a) balloon b) board game
c) puzzle

6)




Have you got a blue ball?

Oyuncak kutusuna göre cevap hangisidir?

- a) No, I have. b) No, I haven't.
c) Yes, I have.

7)



Görsele göre hangi cümle doğrudur?

- a) It's a yellow kite.
b) It's a purple kite.
c) It's a blue kite.

8)

What colour is it?

Sorusunun cevabı hangisi **olamaz**?

- a) It's red. b) It's purple.
c) It's a toy shop.