

4. SINIF



7. Hafta Fasikül
2020-2021 Eğitim-Öğretim Yılı

EVDE EĞİTİM E-FASİKÜL' DE



YERKÖY ARGE

Yerköy İlçe Milli Eğitim Müdürlüğü'nün uzaktan eğitim sürecinde öğrencilerimiz için hazırladığı destek hizmetidir.





Yerköy İlçe Millî Eğitim Müdürlüğü

Mehmet DURMAZ
İlçe Milli Eğitim Müdürü

Meliha ÖZDEN
Necmettin SAGLAM
Şube Müdürleri

M.Suat ATİLA
Koordinatör ve Grafik Tasarım

Hazırlayanlar

Esra BARDAK	Şht. Mehmet Tez And. Lisesi
Cavidan KURU	Şht. Kamil Çelikkaya İlkokulu
Zeliha KILINÇ	Sekili Şht.Osman Pekşen İlkokulu
Duygu ULUCAN	TOKİ Şht. Ali Salmanlı İlkokulu
Cihan BARDAK	Atatürk İlkokulu
Özgür ŞİRİN	İbrahim Karaoğlanoğlu İlkokulu
Tolga ÖZÇELİK	İbrahim Karaoğlanoğlu İlkokulu



TÜRKÇE

1. HAFTA

TEST-1

MEHMENE BANU ŞAH

Horasan diyarında çok büyük ve göz kamaştırıcı güzelliğe sahip bir şehir vardı ki, etrafı, gül ağaçları ve rengârenk çiçeklerle çevrili idi. Bu şehrin tam ortasında büyük bir nehir akardı.

Böylesine bereketli toprakların suyu da son derece güzel olduğu gibi kadın, erkek bütün halkı da birbirinden sevimli ve mutlu insanlardı. Yüzlerine bakanlar onlara büyük bir hayranlık duyarlardı. Hemen hepsi de şen, neşeli ve eğlenceyi seven kişilerdi. Gülüp oynamak, çalıp söylemek, vazgeçilmez tutkularıydı. Gam, kasvet, üzüntü ve keder nedir bilmezlerdi. Yiyecek, içecek bakımından da hiçbir sıkıntıları yoktu. Her bakımdan tam bir refah içindeydiler.

Çünkü bu ülkenin şahı olan hanım efendi de tıpkı halkı gibi, gayet iyi kalpli, şen şakrak, eğlenceye düşkün, güzeller güzeli genç bir kadındı. Adına Mehmene Banu Şah derlerdi. Şah babası öldüğü zaman yerine geçebilecek erkek evladı bırakmadığı için memlektin adet ve kurallarına uyan halk, kızı Mehmene Banu'yu tahta geçirerek kendilerine şah edinmişlerdi.

5N 1K sorularını metine göre cevaplayınız.

1- Büyük nehir nerede akarmış?

.....

2- Mehmene Banu ne zaman şah olmuştur?

.....

3- İnsanların vazgeçilmez tutkuları nedir?

.....

4- Kim şah olmuştur?

.....

5- Horasan'da yaşayan insanlar nasıl insanlardır?

.....

6- Şahın kızı niçin tahta oturtulmuştur?

.....

TÜRKÇE

7- Aşağıdaki cümlelerin hangisinde altı çizili sözcüğün yazımında yanlışlık yapılmıştır?

- A) Sporcuların sağlıklı bir vücudu vardır.
- B) Plastik gibi atık maddeleri geri dönüşüme kazandırmalıyız.
- C) Yalnız insanlar beni hep hüznülendirir.
- D) Çocuklar kibrit ile oynamamalıdır

8- Aşağıdakilerden hangisi bir cümle değildir?

- A) Derslerine düzenli çalışmalısın
- B) Yalnız değilsin
- C) Kiminle oturuyorsun
- D) Tek tek hepimizi çok

9- "Meteor çukurunu görmek için Ağrı'ya gideceğiz." Cümlesi hangi sorunun cevabı yoktur?

- A) Nereye gidiyorsunuz?
- B) Neyle gidiyorsunuz?
- C) Neyi göreceksiniz?
- D) Niçin gidiyorsunuz?

10- I. ihtiyar - yaşlı II. Uzun - kısa
III. yukarı - aşağı IV. doktor - hekim

Yukarıdaki kelime çiftlerinden hangilerinde eş anlam ilişkisi vardır?

- A) I ve II
- B) III ve IV
- C) II ve III
- D) I ve IV

11- "Yarın dayım elazığ'a gideceğini söyledi." Cümlesinde yapılan yazım yanlış aşağıdakilerden hangisidir?

- A) Cümlenin sonuna (!) gelmeliydi.
- B) Dayım kelimesinin ilk harfi büyük olmalıydı.
- C) Elazığ'a sözcüğünü ilk harfi büyük

12- Aşağıdaki cümlelerin hangisinde altı çizili sözcük gerçek anlamda kullanılmıştır?

- A) Hasan'ın sözleri beni çok kırdı.
- B) Kavga sırasında çok ağır sözler söyledi.
- C) Soğuk havalarda kalın giyinmeliyiz.
- D) Bu ince davranışıyla takdir edildi.

13- "sıcak" kelimesi, aşağıdaki cümlelerin hangisinde mecaz anlamda kullanılmamıştır?

- A) Sıcak bir çay, çok iyi gider.
- B) Olayın sıcaklığı daha geçmemişti.
- C) Sıcak ve samimi bir gülümsemesi vardı.
- D) Öyle sıcak bir bakışı vardı ki.

14- Aşağıdaki isimlerden hangisi her zaman büyük harfle başlanılarak yazılır ?

- A) berra
- B) davul
- C) çimen
- D) bardak

15- Aşağıdaki cümlelerin hangisinin sonuna yanlış noktalama işareti konmuştur?

- A) Neden arkadaşının kalemini kırdın?
- B) Havuzda yüzmeyi çok seviyorum.
- C) Acaba beni özlemiş midir?
- D) Bunu niçin söylediğimi bilmiyorum?

16- Aşağıdaki cümlelerin hangisinde sebep - sonuç ilişkisi vardır?

- A) Ağacın en üst dallarına kadar tırmandım.
- B) Bastığım dal kırılınca yere düştüm.
- C) Hemen hastaneye götürdüler.
- D) Bacağımda iki kırık vardı?

TÜRKÇE

17- " yaş " sözcüğü aşağıdaki cümlelerin hangisinde farklı bir anlamda kullanılmıştır?

- A) Annem elbiselerimi yıkamış hâlâ yaş kurumamış.
- B) Üzerime su sıçrayınca pantolonum yaş oldu.
- C) Kuru kelimesinin zıt anlamlısı yaştır.
- D) Yaş günüme bütün arkadaşlarımı çağırdım.

TEST-2

KEL HASAN

Masallarımızdaki Keloğlan sahnelerimizdeki Kel Hasan. Zavallının hayli zamandan beridir, yatağa düşmüş olduğunu duymuştum. Esad Mahmud Bey'in birkaç gün önce Akşam'da çıkan "Kel Hasan Ağır Hastadır" makalesine göre, ölüme yaklaştığını anlayınca doğrusu mahzun oldum.

Bu, kendiliğinden yetişen sanatkârı, kırkbeş kırkaltı sene önce tanımuştım. Annem birkaç gün önce hava değişimi için, Kızıltoprak taraflarında, Saraylı Hanım dediğimiz bir tanıdığın evine gitmişti. Tabi bende yanında idim. Bu hanımın ben yaşta, benden küçük iki çocuğu vardı. Akşam üstü gezmeye çıktık. Birkaç komşu çocuğu da bize katıldı. Bu aralık yanıma başında yağlı yırtık bir fes, sırtında alaca bir mintan, belinde kırmızı bir kuşak, rengi atmış yarım şalvar, on yedi, on sekizlik biri geldi.

Ahmet RASİM " FALAKA "

5N 1K sorularını metine göre cevaplayınız.

1-"Kel Hasan Ağır Hastadır" makalesi nerede çıkmıştır?

.....

2-Yazar Kel Hasan'ı ne zaman tanımuştur?

.....

3-Masallarımızdaki Keloğlan'ın sahnelerdeki adı nedir?

.....

4-Akşam'da çıkan "Kel Hasan Ağır Hastadır" makalesini kim yazmıştır?

.....

5-Akşam üstü gezmeye çıktıklarında yanlarına nasıl biri gelmiştir?

.....

.....

6-Yazar niçin mahzun olmuştur?

.....

.....

Aşağıdaki ilk üç soruyu verilen metne göre cevaplayınız.

7- Kel Hasan'ın hasta olup yatağa düştüğünü nereden öğrenmiştir?

- A) Arkadaşları söylemiştir.
- B) Akşam'da çıkan makaleden öğrenmiştir.
- C) Kel Hasan kendisi söylemiştir.
- D) Yazarın annesi söylemiştir.

TÜRKÇE

8-Yazarın annesi birkaç gün önce nereye gitmiştir?

- A) Kızıltoprak'ta bir tanıdığının evine
- B) Kel Hasan'ı ziyaret etmeye
- C) Esad Mahmud ile görüşmeye
- D) Çocuklar ile gezmeye

9- Aşağıdakilerden hangisi çocukların yanına gelen on yedi, on sekiz yaşlarındaki çocuk ile ilgili verilen bilgilerden biri değildir?

- A) Yağlı yırtık bir fesi olduğu
- B) Sirtında alaca bir mintan olduğu
- C) Kırmızı kuşak taktığı
- D) Sarışın bir çocuk olduğu

10-Aşağıdaki cümlelerden hangisinde yazım yanlışı yoktur?

- A) İsmail, kuşu çenebazı özgür bıraktı.
- B) İstanbulda güneşli bir hava vardı.
- C) atık plastikleri geri dönüşüm kutusuna attım.
- D) Bu sabah erkenden kalktın mı?

11-Aşağıdaki cümlelerin hangisinde altı çizili kelime mecaz anlamda kullanılmıştır?

- A)Pazardan iki kilo elma aldım.
- B) Pazartesi geziye gittik.
- C)Koyu bir sohbete dalınca zamanın nasıl geçtiğini anlayamadık.
- D) Arkadaşlarımla birlikte çim sahada top oynadık

12-Aşağıdaki cümlelerin hangisinde zıt anlamlı kelimeler bir arada kullanılmamıştır?

- A)Aşağı yukarı on bir on iki yaşlarındaydı.
- B) Genç yaşlı bütün insanlar oraya toplanmışlardır.
- C) Sağlık sıhhat en büyük zenginliktir.
- D) Yerdeki büyük küçük bütün çöpleri toplayıp, çöp kutusuna atmalısınız.

13- "Baş" sözcüğünün eş anlamlısı aşağıdaki cümlelerin hangisinde kullanılmıştır?

- A)Kafasına rengarenk bir bere takmıştı.
- B) Yağan yağmurda baştan aşağı ıslanmıştı.
- C) Pencereden karın yağışını izliyordu.
- D) Kardan adam yapmayı çok istiyordu.

14-Aşağıdaki cümlelerin hangisinde karşılaştırma yapılmıştır?

- A) Hafta sonu futbol maçımız var.
- B) Maçta üç gol atmalıyım.
- C) Bu maçta en iyi Müslüm oynadı.
- D) Ahmet maç gelmedi mi?

15- Aşağıdaki cümlelerin hangisinin sonuna farklı bir noktalama işareti getirilmelidir?

- A) Eyvah anahtarımı kaybetmişim
- B) Bir anda köpek karşımıza çıkınca, çok korktuk.
- C) Akşama kadar gezdik eğlendik
- D) Kaykay sürmeyi çok severim

TÜRKÇE

16- " kar - yoğun - yağışından -iki - dolayı - gün - kapandı - okullar" verilen kelimelerden kurallı ve anlamlı bir cümle kurarsak cümlenin sonunda hangi kelime olur?

A) kapandı B) yoğun C) okullar D) yağıştan

17- Aşağıdaki cümlelerin hangisinde abartılı bir ifade kullanılmıştır?

A) Cam kırılınca eli kesildi.
B)O kadar zayıftı ki, üflesem uçacaktı.
C)Onu görünce çok heyecanlanıyorum
D)Meyve bahçesinde elma ağcından elma topladık.

TEST-3

FADİŞ

Kurtuluş savaşı sırasında Yunanlılar, geçtikleri her yeri yakıp yıkıyorlardı. Bütün Anadolu ayaklanmıştı. Köylerde, kasabalarda ve şehirlerde her şey altüst olmuştu. Herkes her an tetikte ve tedirgindi.

Toroslu kasabası düşmanın yolunun üstündeydi. Halk kasabadan ayrıлып köylere sığınmıştı. Genç ve güçlü erkekler askere alınmış geride sakat ya da yaşlı erkeklerle kadınlar ve çocuklar kalmıştı. Eli silah tutanlar, düşmanın geçeceği yollara tuzaklar kuruyordu.

Düşman güçlüydü. Acımasızdı. Yoluna çıkan yaşlı, çocuk- kadın ayrımı gözetmeden hemen öldürüyordu. Kurulan tuzaklar düşmanı çok öfkelenmişti. Düşman komutanı askerlerine " kasabayı baştan aşağıya yakın, taş üstünde taş bırakmayın. Çevredeki bağları bahçeleri, tarlalardaki ekinleri de tutuşturun." Diye bir buyruk salmıştı.

Kasabalılar, sığındıkları köylerden döndükleri zaman evlerinin yerinde kül yığınları bulmuşlardı. Yaşlılar ağlaşıp duran gençlere, " Savaşta evlerimiz yakılıp yıkılacak. Ağlayıp sızlanmak yararsız. Gücümüzü toplayıp yeniden yapalım." diye çıkışıyorlardı.

Böylece yangın atıkları elbirliğiyle temizlendi. Kasaba halkı evlerinin yerine, başlarını sokacak birer barınak yapmaya girişti.

Gülten DAYIOĞLU

5N 1K sorularını metine göre cevaplayınız.

1- Düşmanın geçeceği yollara kimler tuzak kuruyordu?

2- Kasabalılar ne zaman evlerinin yerinde kül yığınları bulmuşlardır?

3- Düşman komutanı askerlerine ne söylemiştir?

4- Kasaba halkı nerede başlarını sokacak bir barınak yapmaya girişmiştir?

5- Yaşlılar, ağlaşıp duran gençlere nasıl bir öğüt vermişlerdir?

6- Düşman niçin öfkelenmiştir?

TÜRKÇE

7-Aşağıdaki cümlelerin hangisinde eş sesli bir kelime kullanılmıştır?

- A) Ağacın dalları penceremi kapatmıştı.
- B) Sokakta çocuklar koşuşturuyordu.
- C) Binamıza yeni komşular taşınmıştı.
- D) Onun kadar kitap okumayı seven bir çocuk görmedim?

8-Aşağıdaki cümlelerin hangisinde büyük harflerin yazımı ile ilgili bir yanlış yapılmıştır?

- A) Babam dün Ankara'dan geldi.
- B) Köpeğimin adını Maya koydum.
- C) Akşemsettin İlkokulu'nda okuyorum.
- D) Sabah Teyzem gelerek bize sürpriz yaptı.

9-" Gökyüzünü kara bulutlar kapladı." Cümlesindeki altı çizili sözcük aşağıdaki cümlelerin hangisinde farklı bir anlamda kullanılmıştır?

- A) Kara tahtaya yazılanları defterime geçirmeliyim.
- B) Kömür taşıyınca elim ayağım kapkara oldu.
- C) Onu ilk gördüğümde kara kara düşünüyordu.
- D) Üzerinde kapkara bir mont vardı.

10- Aşağıdakilerden hangisi bir cümle değildir?

- A) Gece çok güzel bir rüya gördüm.
- B) Sabah kalkar kalkmaz elini yüzünü
- C) Kahvaltıda mutlaka bir bardak süt içerim.
- D) Gün boyu etrafına anlamsız anlamsız bakıp durdu.

11-Aşağıdaki cümlelerin hangisinin sonuna farklı bir noktalama işareti getirilmelidir?

- A) Kuru üzüm çok faydalı bir yemiştir
- B) Bugün hiç balık tutamadık
- C) Bugün bir plan yaptın mı
- D) Bu kitabı okumanı tavsiye ederim

12-"Yıllardır görmediğim arkadaşlarımla buluşacağız."

Cümlesi hangi sorunun cevabı olabilir?

- A) Kiminle buluşacaksınız?
- B) Nerede buluşacaksınız?
- C) Ne zaman buluşacaksınız?
- D) Buluşmaya neyle gideceksiniz?

13-Aşağıdaki cümlelerden hangisi gerçektir, hayal ürünü değildir?

- A) Sonbaharda ağaçtan düşen yapraklar üzülyordu.
- B) Yere düşen yapraklara insanlar basınca acı içerisinde bağırmaya başladılar.
- C) Sararan yapraklar esen rüzgârla uçuşarak etrafa dağıldılar.
- D) Yapraklar yere düşmemek için ağaca sınıksı sarıldılar.

14-Aşağıdaki cümlelerin hangisinde "geniş" sözcüğü mecaz anlamda kullanılmıştır?

- A) Geniş bir odada sadece iki sandalye vardı.
- B) Üst komşumuz Hasan Amca ne kadar da gürültü yapsak hiç kızmaz geniş bir adamdı.
- C) Giyindiği pantolonun paçası çok genişti.
- D) Dar sokaklardan ilerledikten sonra, geniş bir meydana çıkıyorsunuz.

15-Aşağıdaki cümlelerin hangisinde sebep sonuç ilişkisi vardır?

- A) Karşıdan karşıya geçerken trafiğe dikkat etmediği için kaza yapmış.
- B) Dün bütün okullarda KPSS sınavı yapıldı.
- C) Bütün erkek çocukları futbol oynamayı sever.
- D) Teneffüste arkadaşlarınızla kavga etmeden oynayınız.

2. HAFTA

TEST-4

TALİHİN ANAHTARLARI

Mısır ülkesinde bir padişah yaşarmış. Padişah Mehmet, ne kadar sert ve disiplinli, ise o kadar adaletli ve haksever biriymiş.

Bu padişah, babasının halktan zorla topladığı vergilerle biriktirdiği serveti; bilginleri korumak, fakirleri gözetmek, yetimleri doyurmak, yiğitleri ödüllendirmek için kullanmış. Böylece halkın arasında haklı bir sevgiye ve itibara sahip olmuş.

Padişah sağladığı barış ve hoş görüş ortamı, Nil'in düzenli akması sayesinde ürünlerin bereketli olması ile de bir kat daha artmış. Halk mutluluk ve huzur içerisinde yaşamını sürdürür olmuş.

Sultan Mehmet tahta çıktığı zaman, sarayın ileri gelenleri arasında adaletsiz maaş alanlar varmış. Kimi çok hizmet edip fazla iş gördüğü halde az para, kimi az hizmet edip hiç iş görmediği halde çok para alıyormuş. Bu da insanlar arasındaki hoş görüşü, saygıyı ve sevgiyi ortadan kaldırıyor, huzursuzluk yaratıyormuş. Padişah bu adaletsiz duruma bir çare bulmak için sarayda çalışanları huzuruna çağırılmış.

5N 1K sorularını metine göre cevaplayınız.

1-Kim adaletsiz maaş alıyormuş?

.....

2-Sultan Mehmet ne zaman sarayın ileri gelenlerini huzuruna çağırılmış?

.....

3- Sultan Mehmet babasının halktan zorla topladığı vergilerle **ne** yapmış?

.....

4- Halk nerede mutluluk ve huzur içerisinde yaşıyormuş?

.....

.....

5-Sultan Mehmet nasıl bir padişahmış?

.....

6-Sultan Mehmet sarayın ileri gelenlerini niçin huzuruna çağırılmış?

.....

7-Düşmek sözcüğü aşağıdakilerin hangisinde "azalmak, eksilmek" anlamında kullanılmıştır?

- A) Olgunlaşan meyveler dalından düştü.
- B) Bu hafta altın fiyatları iyice düştü.
- C) Onun gülümsemesi zaman zaman aklıma düşüyor.
- D) Kadıköy hangi tarafa düşüyor.

8-Aşağıdaki cümlelerin hangisinde -lar, -ler eki eklendiği sözcüğe çoğul anlamı katmamıştır?

- A) Sıranızın altındaki çöpleri çöp kutusuna atınız
- B) Odadaki oyuncakları toplamalısın.
- C) Erenler pikniğe gittiler.
- D) Poşetleri taşımanıza yardım edebilirim.

TÜRKÇE

9- " Havada keskin bir yanık kokusu vardı." Cümlesindeki altı çizili sözcük hangi anlamda kullanılmıştır?

- A) mecaz anlamda
- B) gerçek anlamda
- C) terim anlamında
- D) sözlük anlamında

10- Aşağıdaki cümlelerden hangisinde karşılaştırma yapılmıştır?

- A)Hafta sonu balık tutmaya gideceğiz.
- B)Ahmet, Eren'den fazla balık tutmuştu.
- C) Alabalığı çok severim.
- D) Bu hafta bir kitap okudum.

11- "Darıca Hayvanat Bahçesi'n.... Kaplan gördüm." cümlesini anlamlı bir biçimde tamamlamak istersek aşağıdaki hangi eki getirmemiz gerekir?

- A) - de B) - e C) - ni D) - in

12- " Okul - Öğretmen" sözcükleri arasındaki ilişkinin benzeri aşağıdakilerden hangisinde vardır?

- A) Hastane - Sağlık ocağı
- B) Karakol - Hapishane
- C) Mahkeme - Hâkim
- D) Çocuk Parkı - Salıncak

13- " Telefonu açtığımda annemin sesini duyunca heyecandan konuşamadım."

Aşağıdaki sorulardan hangisinin cevabı yukarıdaki cümlede yoktur?

- A) Ne zaman konuşamadın?
- B) Kiminle konuşamadın?
- C) Nasıl konuşamadın?
- D) Neden konuşamadın?

14- " 29 Ekim Cumhuriyet Bayramı'nda, günün anlam ve önemini belirten bir konuşma yaptım."

Cümlesi ile ilgili verilen bilgilerden hangisi yanlıştır?

- A) İçerisinde özel isim vardır.
- B) Cümlede kesme işareti kullanılmıştır.
- C) Yedi sözcükten oluşmuştur.
- D) Milli bir bayramda yapılan etkinlik anlatılmıştır.

15- Aşağıdaki cümlelerin hangisinde zıt anlamlı sözcükler bir arada kullanılmamıştır?

- A) Aşağı yukarı sizin yaşlarda bir çocuktuk.
- B) İleri geri konuşması beni sinir ediyordu.
- C) Uzun ince bir yoldayım, gidiyorum gündüz gece.
- D) Köşeyi dönünce iri yarı bir adamla çarpıştım.

16- " oğlum - dedi - konuşmaya -anne - başlayınca - ilk " verilen kelimelerden kurallı ve anlamlı bir cümle kurarsak baştan ikinci sözcük hangi kelime olur?

- A) dedi B) anne
- C) konuşmaya D) ilk

17 -Aşağıdaki cümlelerin hangisinde sebep sonuç ilişkisi vardır?

- A)Yeterince ders çalışmadığı için yazılıdan düşük not almış.
- B) Ahmet Ali'den daha çalışkandır.
- C) Bir dakikada senden daha fazla kelime okuyabilirim.
- D) İnsanlara yakışan en güzel şey gülümsemektir.

18- Aşağıdakilerden hangisi sözcükte en önce gelir?

- A)araba B) araç C) aralık D) arazi

TÜRKÇE

TEST-5

KELOĞLAN

Yaşlı ve fakir bir baba üç tane oğlu ile yaşıyordu. En büyük oğlunu, dışından tırnağından artırarak okula gönderdi. Bu çocuğu bir bilim adamı yapmayı düşünüyordu. Ortanca oğluna ise ileride dükkânını bırakmayı düşünüyordu. Küçük oğluna gelince, buna verecek bir şey yoktu. Hatta buna bir ad bile koymamıştı. Önemsizliğini göstermek üzere ona "Keloğlan" derdi. Böylece bütün mahalleliler arasında onun adı "Keloğlan" olarak kaldı.

Keloğlan henüz yedi yaşındayken, ekmeğini emeğiyle kazanmaya başladı. Hamallık, kahvecilik, garsonluk, aşçı çıraklığı gibi birçok işlere girdi çıktı.

Eline pek az para geçiyordu. On iki yaşına kadar türlü sıkıntılar çekerek yaşadı. Bu yaşa gelince, kendine güvenen tam bir erkek oldu. Artık büyük işlere girmek, ünlenmek, büyük bir adam olmak istiyordu.

Ziya GÖKALP

5N 1K sorularını metine göre cevaplayınız.

1-Kim çocuklarının geleceği için planlar yapmıştır?

.....

2-Keloğlan ne zaman tam bir erkek olmuştur?

.....

3- Yaşlı adam büyük oğlunun neolmasını istemiştir?

.....

4- Keloğlan nerelerde çalışmıştır?

.....

5-Yaşlı adam çocuklarına nasıl bir gelecek düşünüyormuş?

.....

6-Keloğlanın eline niçin pek az para geçiyormuş?

.....

7-Aşağıdaki cümlelerin hangisinde bir istek söz konusu değildir?

- A) Babam eve gelmiş midir?
- B) Arkadaşımı ziyaret etmeliyim.
- C) Sende bize katılmalısın.
- D)Bu manzaranın resmini yapmalıyım.

8-Türkçe bir sözcüğün doğru yazılışını öğrenmek için hangi kaynağa başvururuz?

- A)Gazete
- B) Yazım Kılavuz
- C)Ders Kitabı
- D)Sözlük

9-" beyaz "sözcüğünün zıt anlamlısı aşağıdaki cümlelerin hangisinde kullanılmamıştır?

- A) Kara gömleğini çok severdi.
- B) Gömleğinde kara bir leke vardı.
- C)Resim dersinde kara kalem çalışması yaptık.
- D) Gemi karaya vurmuştu.

10- Aşağıdaki cümlelerden hangisi mutlu birini anlatmaz?

- A)Sevincinden yerinde duramıyordu.
- B)Kahkahalarla gülüyordu.
- C)Etrafına boş gözlerle bakıyor hiç konuşmuyordu.
- D)Herkesle yakından ilgileniyor onlara gülümsüyordu.

TÜRKÇE

11-Çantanda kalemin() defterin() boyalı kalemlerin tam mı () Parantez içlerine gelecek uygun noktalama işaretleri hangileridir?

- A) (!) (.) (.)
- B) (.) (.) (.)
- C) (.) (!) (.)
- D) (.) (.) (?)

12-Aşağıdaki cümlelerin hangisinde karşılaştırma yapılmıştır?

- A) Beyaz ışık sarı ışıktan daha fazla ortamı aydınlatır.
- B)Bütün kitaplarımı ve defterlerimi çantama koydum.
- C) Arkadaşlarımla birlikte futbol oynadık.
- D) Güneşli günlerde balık tutmayı çok severim.

13-Aşağıdaki cümlelerin hangisinin hece sayısı diğerlerinden fazladır?

- A)Yağan yağmuru pencereden seyrederek hayallere daldım.
- B)Arkadaşımın tavsiye ettiği hikâyeyi bir çırpıda okudum.
- C) Hafta sonu için çok güzel planlar yaptım.
- D)Yeni aldığım oyuncağımla oynamaya doyamıyorum.

14-Aşağıdaki cümlelerin hangisinde altı çizili kelimenin sestesi yoktur?

- A) Perşembe günü dayımın çiftliğinde at bindim.
- B) Tahtada yazılanların tamamını defterime yazdım.
- C) Ağaca çıktıktan sonra bastığım dal kırılınca yere düştüm.
- D) Ders kitaplarımı masanın üstüne koymalısın.

15-Aşağıdaki sözcüklerden hangisi sözlükte en sonda yer alır?

- A) kapı B) kapak C) kaplan D) kapan

16-Aşağıdaki cümlelerin hangisinde yapılan iş gelecekte yapılacaktır?

- A) Manzara resmi yapmayı seviyorum.
- B) Bu filmi ben izlemiştim.
- C)Haftaya arkadaşlarımla sinemaya gideceğiz.
- D) Bilgisayarda oyun oynuyor.

17 -Aşağıdaki cümlelerden hangisi olumsuz cümledir?

- A)Araçlara bindiğinde hemen kemerini takmalısın
- B) Çöplerinizi çöp kutusuna atınız.
- C) Güzel yapılan resimleri panoya asalım.
- D) En sevdiğim arkadaşım okula gelmedi.

18-Aşağıdaki cümlelerin hangisinin de altı çizili sözcüğün eş anlamlısı yoktur?

- A)Babam akşam eve biraz geç geldi.
- B) Öğretmenimin tavsiye ettiği kitabı okuyacağım.
- C) Kar yağınca okullar tatil olur mu acaba?
- D) Hafta sonu bizim ev çok kalabalıktı.

TÜRKÇE

TEST-6

DELİ DUMRUL

Deli Dumrul adında bir er vardı. Kuru bir çayın üzerine köprü yaptırmıştı. Köprüden geçenlerden otuz akçe alırdı. Geçmeyenlerden döve döve kırk akçe alırdı. Niçin böyle ederdi? Çünkü "Benden deli, benden güçlü yiğit varsa çıksın savaşalım." isterdi. Yiğitliğine güvenirdi.

Deli Dumrul atını sürüp geldi.

- Bre, benim köprümün başında ne ağlarsınız? Niye yas tutarsınız? dedi.

Söylediler:

- Hanım, bir yiğidimiz öldü, ona ağlarız.
- Yiğidinizi kim öldürdü?
- Vallahi, bey yiğit, Allah'tan buyruk oldu.

Al kanatlı Azrail de geldi, yiğidin canını aldı.

Deli Dumrul kızdı:

- Bre Azrail dediğiniz kimdir ki, adamın canını alır? Ya Allah! Azrail'i benim gözüme göster, savaşayım, çekişeyim, yiğidin canını almasın, dedi. Döndü evine geldi.

Tanrı'ya Deli Dumrul'un sözleri hoş gelmedi. " Bak sen şu Deli'ye. Benim birliğimi bilmez, bana şükür kılmaz." dedi.

Azrail'e buyruk verdi.

- Var git o deli oğlanın gözüne görün, benzini sarart, canını hırlat, al, dedi.

Deli Dumrul kırk yiğidi ile birlikte yiyip içip, otururken birdenbire Azrail geldi. Azrail'i kimse görmedi. Deli Dumrul'un görür gözü görmez oldu. Tutar eli tutmaz oldu.

5N 1K sorularını metine göre cevaplayınız.

1- Allah'a Azrail'i benim gözüme göster, savaşayım, çekişeyim, diyen yiğit kimdir?

2- Azrail Deli Dumrul'un karşısına ne zaman çıkmış?

3- Deli Dumrul köprüden geçmek istemeyenlere ne yapıyormuş?

4- Deli Dumrul nerelerde köprü yapmıştır?

5- Deli Dumrul nasıl bir adammış?

6- Deli Dumrul niçin kuru çay üzerine bir köprü yaptırmış?

7- Aşağıdaki cümlelerin hangisinin sonuna farklı bir noktalama işareti getirilmelidir?

- A) Bu sabah erkenden uyandım
- B) Kahvaltı yapmadan evden çıkmam
- C) Bugün kimlerin kahvaltı yapmadığını biliyorum
- D) Bugün kahvaltı yapmayan var mı

8- Aşağıdaki noktalama işaretlerinden hangisi yazı içerisindeki başkasına ait bir cümleyi belirtmek için kullanılır?

- A) Nokta
- B) Virgül
- C) tırnak işareti
- D) ünlem işareti

9- Aşağıdaki cümlelerin hangisinde hece sayısı diğerlerinden fazladır?

- A) Hafta sonu balık tutmaya gittik.
- B) En sevdiğim tatlı revanidir.
- C) Dedemin aldığı hediye çok güzel.
- D) Kardeşimle birlikte oynuyorum.

TÜRKÇE

10- Aşağıdaki cümlelerden hangisi devrik cümledir?

- A) Hemen yapmalısınız resimlerinizi.
- B) Yapılan resimler panoya asıldı.
- C) 15 Temmuz şehitleri temalı resimler yaptık.
- D) Yağmur yağdığı için teneffüste bahçeye çıkmayın.

11- "Dün bir yağmur yağdı ki anlatamam, her yeri su bastı." Aşağıdaki sorulardan hangisinin cevabı yukarıdaki cümlede yoktur?

- A) Ne zaman yağdı?
- B) Nasıl yağdı?
- C) Nereyi su bastı?
- D) Ne yağdı?

12- Aşağıdakilerden hangisinde işin yapılması bir şarta bağlı değildir?

- A) Köyden gelirse size söylerim.
- B) Yağmur yağarsa ekinler büyür.
- C) Para verirsen alışveriş yaparım.
- D) Esmâ bugün okula gitti.

13- Aşağıdaki cümlelerin hangisinde "temiz" kelimesi mecaz anlamda kullanılmıştır?

- A) Temiz bir ahlaka sahip olduğun için seni kutlarım.
- B) Temiz bir çorap giyinmelisin
- C) Sınıfınızı temiz tutmalısınız.
- D) Sınıfın tahtasını kim temizlemek ister?



Bir cümlede -de'nin durum eki mi, bağlaç mı olduğunu anlamak için cümledeki "de" den sonra bağlaç olarak ikinci bir "de" getirilir. Eğer cümlede "de" bağlacı varsa cümle "de" bağlacını kabul etmeyecektir.

14- Yukarıdaki çocuğun verdiği bilgiyi dikkate aldığımızda Aşağıdakilerden hangisinde -de bağlaç olarak kullanılmıştır?

- A) Selda'nın ablasında aynı çantadan var.
- B) Selda da bizimle gezmeye gelecekmiş.
- C) Kerem'in kardeşi okulda yoktu.
- D) Çarşıda karşılaştığımızda birlikte gezelim mi dedim.

15- Aşağıdaki cümlelerin hangisinde karşılaştırma yapılmıştır?

- A) Türkçe dersini matematikten daha çok seviyorum.
- B) üçüncü teneffüste oyun oynayalım mı?
- C) Arabanın tekeri patlamıştı.
- D) Kitabımı okuyup bitirdim.

16- Aşağıdaki cümlelerin hangisinde yazım yanlışı yapılmıştır?

- A) Ayşe teyze evinde tek başına yaşıyor.
- B) Yanlız yaşamak çok zordur.
- C) Plastikleri geri dönüşüm kutusuna attın mı?
- D) Köprüden geçene kadar akla kararı seçtik.

TÜRKÇE

3. HAFTA

TEST-7

MEŞE AĞACI

Meşe ağacı hiç mutlu değilmiş. Yağmur yağıyor, rüzgâr esiyor, güneş açıyor, mevsimler geçiyormuş. Ama meşe ağacı bir türlü mutlu olamıyormuş. Uçup giden kuşlara, yerde gezen otlara ve komşu ağaçlara bakıyormuş. Hepsinde çok mutluymuş.

Meşe ağacı bir gün ağlayarak bende mutlu olmak istiyorum demiş.

Baba sincap, onun yanına gelmiş ve meşe ağacına:

- Sizin dallarınız çok güzel görünüyor. Gövdenizde kuvvetli izin verirsiniz, buraya taşınabilir miyim?

Meşe ağacı bu teklifi kabul etmiş. Sincap ağacın gövdesine güzel bir ev yapmış. Sincap, hanım ve üç yavrusuyla birlikte meşe ağacının evine taşınmışlar.

Nefise AKÇATARLAR

5N 1K sorularını metine göre cevaplayınız.

1-Meşe ağacıyla kim konuşmuş?

.....

2- Meşe ağacı, ne zaman ağlayarak bende mutlu olmak istiyorum demiş?

.....

3-Sincap meşe ağacına nesöylemiştir?

.....

4-Sincap nerede ev yapmıştır?

.....

5- Meşe ağacı nasıl mutlu olmuş?

.....

6- Sizce meşe ağacı niçin mutlu değilmiş?

.....

7-Aşağıdaki cümlelerin hangisinde de, -da'nın yazımı ile ilgili bir hata yapılmıştır?

- A) Yurdanur, Öznur bir de Berna tiyatroya gittik.
- B) Gelenler arasında onu göremedim.
- C) Şarkı söylemese de olur.
- D) Yaşadıklarımızın aramız da kalacağına söz verdi.

8-Aşağıdaki cümlelerin hangisinin sonuna gelen noktalama işareti yanlış getirilmiştir?

- A) Dün gece yağın yağmur sele sebep olmuş.
- B) İnsanlar güzel bir iş bulabilmek için sınavlara girmek zorundalar...
- C) Verdiğim hikâye kitaplarını kimler okudu?
- D) Bugün sinemaya gitmek istiyorum.

9-Aşağıdaki cümlelerin hangisinde neden sonuç ilişkisi vardır?

- A) Hafta sonu abim sınava girdi.
- B) Derslerine çok çalıştığı için sınavı iyi geçmiş.
- C) Kitap okumayı çok severdi.
- D) Sınavdan bir gün önce çok eğlendiler.

10- Aşağıdaki cümlelerin hangisinde altı çizili sözcüğün eş anlamlısı yoktur?

- A) Pazartesi günü okulda tiyatro gösterisi varmış?
- B) Ahmet hasta olunca doktora gitmiş.
- C) Bindiğim otobüsün tekeri patladı.
- D) Dedeme artık yaşlandın dedim.

TÜRKÇE

11-“ Çocuklar birbirine zarar vermeden oynuyorlar.”

Aşağıdaki sorulardan hangisinin cevabı yukarıdaki cümlede yoktur?

- A) Ne zaman oynuyorlar?
- B) Kim oynuyor?
- C) Nasıl oynuyorlar?
- D) Çocuklar ne yapıyorlar?

12-Aşağıdakilerden hangisi bir cümle değildir?

- A) Pencerenden dışarıdaki çocukların oyunlarını izledik.
- B) Yağan yağmurun taneleri cama
- C) Anneme sarılıp “Seni çok seviyorum anne” dedim.
- D) Dedemin aldığı oyuncakla akşama kadar oynadım.

13-Yazdığımız bir kelimenin doğru yazılıp yazılmadığını nasıl kontrol edebiliriz?

- A) Sözlüğe bakarak
- B) Birine sorarak
- C) Dergilere bakarak
- D) imla kılavuzuna bakarak

14-Aşağıdaki cümlelerin hangisinde karşılaştırma yapılmamıştır?

- A) Resim dersini müzik dersinden çok seviyorum.
- B) Kışın günler, yazdan daha kısadır.
- C) Ezo Gelin çorbası içebilir miyim?
- D) Elmayı mandalinaya tercih ederim.

15-Aşağıdaki cümlelerin hangisi kurallı bir cümledir?

- A) Elmanın iki yarısı gibi birbirine benziyorlardı.
- B) Oynadım tüm gün parkta.
- C) Oturdum hemen ilk gördüğüm koltuğa.
- D) Okuyordum yeni aldığım hikâye kitabını.

16-Aşağıdaki cümlelerin hangisinde hece sayısı diğerlerinden fazladır?

- A) Nihayet beklenen kar yağmaya başladı
- B) Kapalı havaları hiç sevmiyorum
- C) Güneşli bir ilkbahar gününde sahilde köpeğimle yürümek isterim.
- D) Tüm Sokak tertemiz süpürülmüş ve çiçeklerle süslenmişti.

17-Aşağıdaki özel adların hangisinin yazımı doğrudur?

- A)Ataşehir'in Mevlana Mahallesi'nde oturuyoruz.
- B) Elazığlılar sevecen insanlardır.
- C) Erzurumun soğuğu meşhurdur.
- D) Esranın kalemi kaybolmuş.

18- Aşağıdaki cümlelerdeki -ki ekinin yazımı ile ilgili bir yanlışlık yapılmıştır?

- A) Aşağıdaki çöpleri görüyor musunuz?
- B) Çantanda ki defterini çıkarır mısınız?
- C) Şimdi söylüyorum ki unutmayasın.
- D) Sabahki hareketlerine bir anlam veremedim.

19- Aşağıdaki kelimelerden hangisi sözlükte en sonda yer alır?

- A)kazak
- B) kazık
- C) kazma
- D) kaz

TÜRKÇE

TEST-8

ÜÇ PAPAZ VE HOCA

Üç papaz, Akşehir'e hoca merhum ile tanışmaya ve bazı sorular sormaya geldiler. Bir meydan yerinde toplanarak konuşacaklardı. Papazlar ve kalabalık halk topluluğu meydan yerini doldurmuştu.

Papazlar sorularını sormaya başladılar. Birinci papaz:

- "Dünyanın ortası neresi?" diye sordu. Hoca eşeğin ön ayaklarının olduğu yeri gösterdi:

İşte dünyanın ortası burasıdır, dedi. Papaz itiraz etmek istedi:

- "Ne biliyorsun orası olduğunu?" diye sorunca, Hoca Nasreddin:

İnanmazsan ölçebilirsin, dedi. Kendisinden gayet emindi. Acaba dünyanın yuvarlak olduğunu ta o zaman tahmin etmiş miydi? Çünkü dünya yuvarlak olduğuna göre her yer dünyanın ortası olabilir.

İkinci papaz sordu sorusunu:

-Gökyüzünde kaç tane yıldız var hoca efendi?

Hoca cevap verdi:

Eşeğin sırtında ne kadar kıl varsa o kadar da yıldız var. Papaz itiraz etti:

- "Olur mu canım nereden belli doğru söylediğin?" deyince, Hoca cevabı yapıştırdı:

İnanmıyorsan sayabilirsin! O da verecek cevap bulamadı tabii. Sıra geldi üçüncü papaza:

- "Benim sakalımda ne kadar kıl var?" dedi.

Eşeğin kuyruğunda ne kadar varsa senin sakalında da o kadar kıl var.

Papaz yine itiraz etti:

- "Ne malûm aynı olduğu?" deyince, Hoca gayet kestirme bir yol buldu:

- Alırız cımbızı elimize, bir eşeğin kuyruğundan, bir senin sakalından çekeriz. Evvelâ hangisi biterse belki de o azdır. Eğer denk gelmezse ben davayı kaybetmiş sayılırım, dedi.

Papazın işine gelmedi sakalını yoldurmak: - "Haklısın hoca efendi!" demek zorunda kaldı.

Bu konuşmalar papazların çok hoşuna gitmişti. Çünkü onlar beklemedikleri bir cevapla karşılaşmışlardı. Hocanın böyle zeki ve kestirme cevaplarına hayran kaldılar.

5N 1K sorularını metine göre cevaplayınız.

1-Nasrettin Hoca ile kim tanışıp soru sormak istemiş?

2- Nasrettin Hoca ne zaman dünyanın ortası eşeğimin ön ayaklarının bastığı yer demiştir?

3-Üçüncü papaz ne sormuştur ne yapmış?

4-Üç papaz, Nasrettin Hoca ile nerede konuşacaklarmış?

5- Nasrettin Hoca, birinci papaza nasıl cevap vermiştir?

6- Üçüncü papaz niçin Hocaya haklısın hoca efendi demek zorunda kalmıştır?

TÜRKÇE

7-Aşağıdaki cümlelerin hangisinin sonuna farklı bir noktalama işareti getirilmelidir?

- A) Tuvaletleri temiz tutalım
- B) Muslukları boşa akıtmayalım
- C) Gereksizse lambaları söndürelim
- D) Tasarruf etmemiz gerektiğini biliyor musunuz

8-Aşağıdaki cümlelerin hangisinde neden-sonuç ilişkisi vardır?

- A) Yerler buz tuttuğu için araba kaymış ve kaza yapmışlar.
- B) Hafta sonu gireceği sınava çok çalışmış.
- C) Yazın köye gitmeyi çok ama çok seviyorum.
- D) Güzel bir uykuya ihtiyacım var.

9-Aşağıdaki cümlelerin hangisinde - de' nin yazımı ile ilgili bir yanlışlık yapılmıştır?

- A) Onlardan birisi de bendim.
- B) Sabah olsa da okula gitsem.
- C) Evlerine gittim, evdede yoktu.
- D) Esmâ'nın da ödevini verebilir misin?

10- Aşağıdaki sözcüklerin hangisinin tek başına bir anlamı yoktur?

- A)ile B) fert C) sert D) el

11-Aşağıdaki cümlelerin hangisinin sözcük sayısı diğerlerinden fazladır?

- A)Bu sözleri dinledikten sonra, avcının akli başına geldi.
- B) Biraz önce ben sana ne öğüt verdim?
- C) Bu üç öğüdümü tutacak olursan, ömür boyu mutlu olursun.
- D) Kuşun öğüdü belki işe yarar.

12-Aşağıda verilen cümlelerden hangisinde yapılan iş geçmişte yapılmıştır?

- A) Kitap okuyorum.
- B) Müzik dinlemeyi severim.
- C) Sinemaya gideceğiz.
- D) Çok güzel uyudum

13-Aşağıdaki cümlelerin hangisinde karşılaştırma yapılmıştır?

- A) Pazartesi günü Türkçe dersinden sınav olduk.
- B) Beden Eğitimi dersinde maç yaptık.
- C) Mendil kapmaca oyununu erkekler kızlardan daha iyi oynuyorlar.
- D) Dikkatsizce konuşunca arkadaşları ile çarpıştı.

14-Aşağıdaki kelimelerin hangisinin zıt (karşıt) anlamı yoktur?

- A)açık B) sık C) okul D) yaş

15-Aşağıdakilerden hangisinin mecaz anlamı yoktur?

- A) derin B) ağır C) hediye D) boş

16-Aşağıdaki cümlelerin hangisinde altı çizili sözcüğün zıt anlamı yoktur?

- A) Sahilde gençler kamp kurmuş, ateş yakmışlardı.
- B) Arkadaşlarımla sözleştik, akşam tiyatroya gideceğiz.
- C) İnsanları anlamak çok zor.
- D) Amcamlar bizim üst katta oturuyorlar

TÜRKÇE

TEST-9

Vaktiyle bir köle kaçıp ormana sığınmış. Etrafta gezinirken, inilti içinde ıstırap çeken bir aslan görmüş. Önce korkup kaçmaya yeltenmiş. Fakat aslanın yerinden hiç kıpırdamadığını, yalvaran gözlerle kendisine baktığını görüp durmuş. Aslan kanayan pençesini uzatıyormuş ona. Köle dikkatlice bakınca, aslanın pençesine büyük bir dikenin saplandığını görmüş. Dikeni çıkarıp yarayı temizleyen köle, gömleğinden kopardığı bezle de iyice sarmış. Rahatlayan aslan ayağa kalkıp kölenin ellerini yalamaya başlamış. Sonra da önüne düşüp yaşadığı inine götürmüştü. Her gün yakaladığı avları ine taşıyıp, köleye yardım ediyormuş. Bu beraberlikleri uzun sürmemiş. Ormana gelen avcılar ikisini de yakalamışlar. Ayrı kafeslere kapatıp günlerce aç bırakmışlar onları. Kralın da hazır bulunduğu bir gün kafesin ağzı açılmış. Aslanın köleyi nasıl parçalayacağını herkes merakla bekliyormuş. Büyük bir iştahla saldıran aslan, kölenin yanına gelince onu tanımış.

Aşağıdaki ilk beş soruyu metne göre cevaplayınız.

1- Ormana sığınan köle ormanda ne görmüş?

- A) Yaralı bir aslan
- B) Köleyi arayan sahipleri
- C) Ormancuları
- D) Avlanmaya çıkan avcılar

2- Ormanda aslan gören köle önce ne yapmayı düşünmüştü?

- A) Hemen aslanın yanına gitmiş.
- B) Onu öldürmek istemiş.
- C) Tuzak kurup yakalamak istemiş.
- D) Önce korkup kaçmaya yeltenmiş.

3- Köle aslana niçin yardım etmiş?

- A) Kölenin sahibi emir verdiği için.
- B) Aslanın pençesine büyük bir diken battığı için.
- C) Aslan yolunu kapattığı için
- D) Aslandan korktuğu için

4- Aslan kendisine yardım eden köleye nasıl davranmış?

- A) Köleye zarar vermeyip hemen oradan uzaklaşmış.
- B) Önce ellerini yalamış, sonrada önüne düşüp yaşadığı inine götürmüştü.
- C) Pençesindeki diken çıkarılınca hemen rahatlayıp, köleye bakarak inine dönmüştü.
- D) Aslan kendinse zarar vereceğini düşünerek köleye kükreyip oradan uzaklaşmasını sağlamış.

5- Aşağıdaki ifadelerden hangisi yukarıdaki metinde yoktur?

- A) Aslanın köleyi nasıl parçalayacağını herkes merakla bekliyormuş.
- B) Büyük bir iştahla saldıran aslan, kölenin yanına gelince onu tanımış.
- C) Ayrı kafeslere kapatıp günlerce aç bırakmışlar onları.
- D) Günlerdir aç olan aslan köleye bir pençe vurarak öldürmüştü.

TÜRKÇE

6-"Börek, anahtar, etek, tırpan" kelimelerinin sözlük sırasına göre dizilişi hangisidir?

- A) Börek, etek, anahtar, tırpan
- B) Anahtar, börek, etek, tırpan
- C) Anahtar, etek, börek, tırpan
- D) Etek, börek, anahtar, tırpan

7-Aşağıdaki isimlerden hangisi her zaman büyük harfle başlanılarak yazılır?

- A) çiçek B) ağaç C) azra D) meşe

8-" Furkan'ın kardeşi iki saat bisiklet sürmüştür." Cümlesinde bisiklet süren kimdir?

- A) Furkan bisiklet sürmüştür.
- B) Furkan'ın arkadaşı bisiklet sürmüştür.
- C) Furkan ve kardeşi bisiklet sürmüştür.
- D) Furkan'ın kardeşi bisiklet sürmüştür.

9-"Bizim evin karşısındaki meydana bir oyun parkı kuruldu."

Cümlesi ile ilgili verilen bilgilerden hangisi yanlıştır?

- A) Sekiz sözcükten oluşmuştur.
- B) Kurallı ve anlamlı bir cümledir.
- C) Bu cümlede yirmi hece vardır.
- D) Bu cümlede bütün sesli harfler kullanılmıştır.

10- Aşağıdaki cümlelerin hangisinde abartılı bir ifade kullanılmıştır?

- A) Cam kırılınca eli kesildi.
- B) O kadar iyiydi ki sanki kanatsız melekti.
- C) Onu görünce çok heyecanlanıyorum
- D) Meyve bahçesinde elma ağcından elma topladık

11-Aşağıda verilen cümlelerin hangisinin sonuna farklı bir noktalama işareti konulmalıdır?

- A) Sabah erkenden kalkmayı sevmiyorum
- B) Seninle görüştüğüme sevindim
- C) Dün senin kitabını vermiş miydim
- D) Kimin gittiğini görmedim

12-Aşağıdaki cümlelerin hangisinde -de'nin yazımı ile ilgili bir yanlışlık yapılmıştır?

- A)Bu anlattıklarını defterine de yazmalısın.
- B) Kitabını evde unutmuş.
- C) Erdem'de bizimle gelsin.
- D) Çarşıda tek başına geziyordu.

13-Aşağıdaki cümlelerin hangisi kurallı bir cümledir?

- A) Severdi kitap okumayı.
- B) Tüm gün kavga ederdi herkesle.
- C) Bende gelirim demişti bana.
- D) Onu dün sabah gördüm.

14-Aşağıdaki cümlelerden hangisi olumsuz cümledir?

- A) Sessizce kitap okumalısın
- B) Arkadaşlarıyla kavga etmemelisin
- C) Senden daha güzel davranışlar bekliyorum.
- D) Keremler bizim mahalleye taşındılar.

15-Aşağıdakilerden hangisi bir cümle değildir?

- A) Geldim
- B) Güneş tam doğmak üzereyken hepimiz
- C) Kalemimi alabilirsin
- D) Artık konuşmayın

TÜRKÇE

16- Annesi ()

() İnsanlara karşı dürüst olmalısın() dedi ()
Yukarıdaki diyalogda ayraç () içerisine
aşağıdaki noktalama işaretlerinden hangileri
sırayla getirilmelidir?

- A) (.) (_) (,) (.)
B) (:) (_) (,) (.)
C) (.) (-) (,) (?)
D) (.) (_) (!) (.)

17- ".....yaptığı resimleri çok
beğeniyorum?" cümlesinde noktalı yere hangi
kelime gelmelidir?

- A) senin B) onun C) bizim D) sen

18- Aşağıdaki cümlelerin hangisinde sebep
sonuç ilişkisi vardır?

- A) Çok hızlı gitmeyin.
B) Arkadaşıyla çarpışınca yere düşmüş dizi
kanamış.
C) İsteddiğiniz resmi yapabilirsiniz.
D) Arkadaşın neden okula gelmemiş?

TEST1:7-C 8-D 9-B 10-D 11-C 12-C 13-A 14-A 15-D 16-B 17-D

TEST2:7-B 8-A 9-D 10-D 11-C 12-C 13-A 14-C 15-A 16-A 17-B

TEST3:7-A 8-D 9-C 10-B 11-C 12-A 13-C 14-B 15-A

TEST4:7-B 8-C 9-A 10-B 11-A 12-C 13-C 14-C 15-D 16-C 17-A 18-A

TEST5:7-A 8-B 9-D 10-C 11-D 12-A 13-B 14-D 15-C 16-C 17-D 18-A

TEST6:7-D 8-C 9-C 10-A 11-B 12-D 13-A 14-B 15-A 16-B

TEST7:7-D 8-B 9-B 10-C 11-A 12-B 13-D 14-C 15-A 16-C 17-A 18-B 19-C

TEST8:7-D 8-A 9-C 10-A 11-C 12-D 13-C 14-C 15-C 16-C

TEST9:1-A 2-D 3-B 4-B 5-D 6-B 7-C 8-D 9-D 10-B 11-C 12-C 13-D 14-B
15-B 16-B 17-B 18-B

MATEMATİK

AŞAĞIDA VERİLEN SAYILARIN OKUNUŞLARINI KARŞILARINA YAZINIZ.

15245

.....

2314

.....

25653

.....

4555

.....

25400

.....

12345

.....

6542

.....

21364

.....

23879

.....

5646

.....

8430

.....

3236

.....

55610

.....

90004

.....

AŞAĞIDA OKUNUŞLARI VERİLEN SAYILARI KARŞILARINA YAZINIZ.

Yüz yirmi beş bin dört yüz yetmiş yedi

Otuz iki bin beş yüz üç

On iki bin sekiz yüz elli dört

Dokuz bin dokuz yüz doksan sekiz

On yedi bin yedi yüz doksan üç

Yüz yirmi bin beş yüz seksen sekiz

Kırk dokuz bin dokuz

Yetmiş altı bin doksan beş

Beş bin yüz yetmiş yedi

Üç yüz yetmiş beş bin sekiz yüz otuz üç

1. HAFTA ETKİNLİKLERİ

MATEMATİK

Aşağıda verilen rakamlarla belirtilen sayıları yazınız?

4 - 5 - 6 - 5

- a) Rakamları farklı dört basamaklı en büyük sayı kaçtır?
.....
- b) Rakamları farklı dört basamaklı en küçük sayı kaçtır?
.....
- c) Rakamları farklı dört basamaklı en büyük çift sayı kaçtır?
.....
- d) Rakamları farklı dört basamaklı en büyük tek sayı kaçtır?
.....

1 - 6 - 3 - 9

- a) Rakamlarıyla yazılacak dört basamaklı en büyük çift sayı kaçtır?
.....
- b) Rakamlarıyla yazılacak dört basamaklı en büyük tek sayı kaçtır?
.....
- c) Rakamlarıyla yazılacak dört basamaklı en büyük çift sayı ile en büyük tek sayının toplamı kaçtır?

.....
+	-
.....
.....
.....

Dört basamaklı en büyük çift ve en küçük tek sayının toplamı ile farkı kaçtır? (Cevaplarınızı aşağıdaki kutuların içine yazınız.)

.....
+	-
.....
.....
.....

Rakamları farklı dört basamaklı en büyük çift sayı ile en küçük tek sayının toplamı ile farkı kaçtır?

.....
+	-
.....
.....
.....

Rakamları farklı en büyük dört basamaklı sayı ile rakamları farklı en küçük üç basamaklı sayının toplamı ile farkı kaçtır?

.....
+	-
.....
.....
.....

Üç basamaklı en büyük tek sayı=

Dört basamaklı en küçük çift sayı=

Dört basamaklı en büyük sayı=

MATEMATİK

AŞAĞIDA VERİLEN SAYILARIN
BASMAK ADLARINI YAZINIZ.

87568

Basamak Adı



40036

Basamak Adı



ÇÖZÜMLENMİŞ HALİ VERİLEN
SAYILARI ALTTAKİ BOŞLUKLARA
YAZINIZ.

9 yüzlük + 8 on binlik + 6 binlik + 3 birlik

Sayı →

.....

9 on binlik + 5 birlik + 1 onluk

Sayı →

.....

6 yüz binlik + 5 yüzlük + 2 onluk + 3 binlik

Sayı →

.....

2 on binlik + 5 binlik + 1 yüzlük + 3 onluk
+ 5 birlik

Sayı →

.....

2 yüz binlik + 2 on binlik + 6 binlik + 6
birlik

Sayı →

.....

6 binlik + 2 yüzlük + 4 onluk

Sayı →

.....

7 on binlik + 2 binlik + 9 yüzlük + 2 onluk
+ 9 birlik

Sayı →

.....

MATEMATİK

AŞAĞIDA VERİLEN SAYILARIN ÇÖZÜMLEMELERİNİ ALTTAKİ BOŞLUKLARA YAZINIZ.

4656

.....

2053

.....

1002

.....

AŞAĞIDAKİ ÖRÜNTÜNÜN KURALINI BULUP SONRAKİ ADIMI BOŞ BIRAKILAN YERE YAZINIZ.

53 — 6 — 8 — 11 — 15 —

Örüntü kuralı →

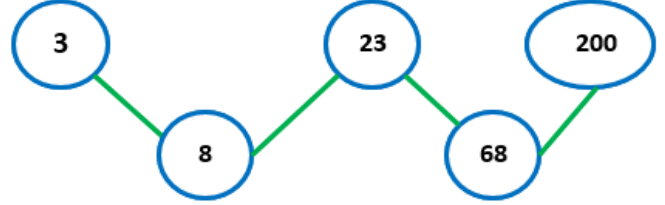
8 — 12 — 16 — 20 — 24 —

Örüntü kuralı →

2 — 5 — 11 — 23 — 47 —

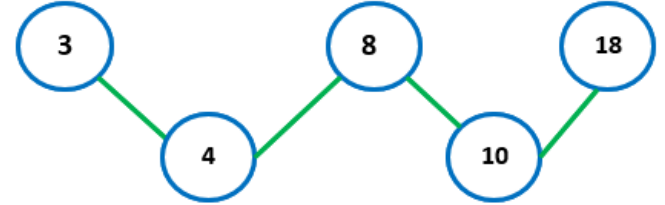
Örüntü kuralı →

AŞAĞIDAKİ ÖRÜNTÜLERDE ÖRÜNTÜ KURALINI BOZAN SAYIYI BULUP DOĞRUSUNU YAZINIZ.



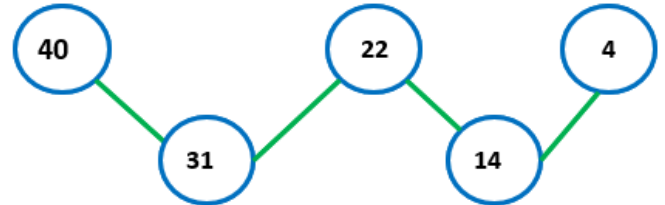
Örüntüyü bozan sayı →

Doğru sayı →



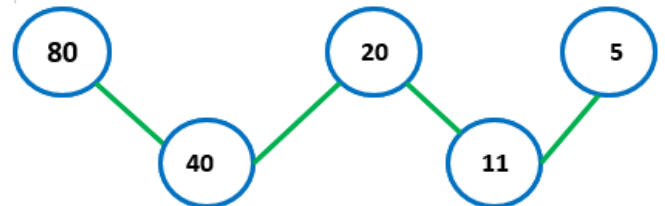
Örüntüyü bozan sayı →

Doğru sayı →



Örüntüyü bozan sayı →

Doğru sayı →



Örüntüyü bozan sayı →

Doğru sayı →

MATEMATİK

Aşağıdaki işlemleri yapınız.

$$\begin{array}{r} 3553 \\ + 642 \\ \hline \end{array}$$

$$\begin{array}{r} 7489 \\ + 345 \\ \hline \end{array}$$

$$\begin{array}{r} 5889 \\ + 323 \\ \hline \end{array}$$

$$\begin{array}{r} 2586 \\ + 307 \\ \hline \end{array}$$

$$\begin{array}{r} 4489 \\ + 2206 \\ \hline \end{array}$$

$$\begin{array}{r} 5812 \\ + 1453 \\ \hline \end{array}$$

$$\begin{array}{r} 2020 \\ + 571 \\ \hline \end{array}$$

$$\begin{array}{r} 1071 \\ + 632 \\ \hline \end{array}$$

$$\begin{array}{r} 2023 \\ + 165 \\ \hline \end{array}$$

$$\begin{array}{r} 2460 \\ + 2145 \\ \hline \end{array}$$

$$\begin{array}{r} 1023 \\ + 4584 \\ \hline \end{array}$$

$$\begin{array}{r} 7993 \\ + 1852 \\ \hline \end{array}$$

Aşağıda verilen toplama işlemlerini yapınız?

$$\begin{array}{r} 2648 \\ + 6235 \\ \hline \end{array}$$

$$\begin{array}{r} 3334 \\ + 2088 \\ \hline \end{array}$$

$$\begin{array}{r} 2559 \\ + 5648 \\ \hline \end{array}$$

$$\begin{array}{r} 6963 \\ + 2409 \\ \hline \end{array}$$

$$\begin{array}{r} 9256 \\ + 2265 \\ \hline \end{array}$$

$$\begin{array}{r} 5236 \\ + 3123 \\ \hline \end{array}$$

$$\begin{array}{r} 7459 \\ + 7456 \\ \hline \end{array}$$

$$\begin{array}{r} 1355 \\ + 5596 \\ \hline \end{array}$$

$$\begin{array}{r} 5863 \\ + 2569 \\ \hline \end{array}$$

$$\begin{array}{r} 2523 \\ + 8805 \\ \hline \end{array}$$

$$\begin{array}{r} 7588 \\ + 5874 \\ \hline \end{array}$$

$$\begin{array}{r} 5874 \\ + 4189 \\ \hline \end{array}$$

MATEMATİK

Aşağıda verilen toplama işlemlerini yapınız.

$$\begin{array}{r} 1585 \\ + 54542 \\ \hline \end{array}$$
$$\begin{array}{r} 2589 \\ + 845256 \\ \hline \end{array}$$

$$\begin{array}{r} 2641 \\ + 5256 \\ \hline \end{array}$$
$$\begin{array}{r} 62040 \\ + 1022 \\ \hline \end{array}$$

$$\begin{array}{r} 4526 \\ + 2580 \\ \hline \end{array}$$
$$\begin{array}{r} 5831 \\ + 2122 \\ \hline \end{array}$$

$$\begin{array}{r} 5452 \\ + 1500 \\ \hline \end{array}$$
$$\begin{array}{r} 1472 \\ + 6865 \\ \hline \end{array}$$

$$\begin{array}{r} 8456 \\ + 4268 \\ \hline \end{array}$$
$$\begin{array}{r} 82223 \\ + 2252 \\ \hline \end{array}$$

$$\begin{array}{r} 9414 \\ + 8416 \\ \hline \end{array}$$
$$\begin{array}{r} 6851 \\ + 3251 \\ \hline \end{array}$$

$$\begin{array}{r} 8791 \\ + 6316 \\ \hline \end{array}$$
$$\begin{array}{r} 9420 \\ + 5587 \\ \hline \end{array}$$

$$\begin{array}{r} 1256 \\ + 2410 \\ \hline \end{array}$$
$$\begin{array}{r} 82589 \\ + 8590 \\ \hline \end{array}$$

$$\begin{array}{r} 8748 \\ + 4123 \\ \hline \end{array}$$
$$\begin{array}{r} 584706 \\ + 5858 \\ \hline \end{array}$$

$$\begin{array}{r} 8541 \\ + 5823 \\ \hline \end{array}$$
$$\begin{array}{r} 5858 \\ + 8520 \\ \hline \end{array}$$

$$\begin{array}{r} 5993 \\ + 5253 \\ \hline \end{array}$$
$$\begin{array}{r} 8712 \\ + 1102 \\ \hline \end{array}$$

$$\begin{array}{r} 9870 \\ + 1112 \\ \hline \end{array}$$
$$\begin{array}{r} 69414 \\ + 8501 \\ \hline \end{array}$$

MATEMATİK

Aşağıda verilmeyen topları yanda boş bırakılan kutunun içine işlemi yapıp cevabı bulunuz.

$$\begin{array}{r} 7598 \\ + \square \\ \hline 12365 \end{array}$$

$$\begin{array}{r} 5462 \\ + \square \\ \hline 9563 \end{array}$$

$$\begin{array}{r} 8559 \\ + \square \\ \hline 15500 \end{array}$$

$$\begin{array}{r} 6023 \\ + \square \\ \hline 13259 \end{array}$$

$$\begin{array}{r} 8489 \\ + \square \\ \hline 14782 \end{array}$$

$$\begin{array}{r} 2135 \\ + \square \\ \hline 7496 \end{array}$$

$$\begin{array}{r} 8856 \\ + \square \\ \hline 10863 \end{array}$$

$$\begin{array}{r} 3465 \\ + \square \\ \hline 8569 \end{array}$$

$$\begin{array}{r} \square \\ + 4881 \\ \hline 8158 \end{array}$$

$$\begin{array}{r} \square \\ + 8417 \\ \hline 14692 \end{array}$$

$$\begin{array}{r} 84512 \\ + \square \\ \hline 11541 \end{array}$$

$$\begin{array}{r} 7045 \\ + \square \\ \hline 10925 \end{array}$$

MATEMATİK

Aşağıda verilen toplama işlemlerinin sonucunu tahmin edip tahmin ile gerçek sonucu karşılaştırınız?

İşlem	Tahminim	Kontrol
$\begin{array}{r} 8732 \\ + 2542 \\ \hline \end{array}$	$\begin{array}{r} \dots\dots\dots \\ + \dots\dots\dots \\ \hline \end{array}$	$\begin{array}{r} \dots\dots\dots \\ + \dots\dots\dots \\ \hline \end{array}$

İşlem	Tahminim	Kontrol
$\begin{array}{r} 5486 \\ + 4569 \\ \hline \end{array}$	$\begin{array}{r} \dots\dots\dots \\ + \dots\dots\dots \\ \hline \end{array}$	$\begin{array}{r} \dots\dots\dots \\ + \dots\dots\dots \\ \hline \end{array}$

İşlem	Tahminim	Kontrol
$\begin{array}{r} 4126 \\ + 2135 \\ \hline \end{array}$	$\begin{array}{r} \dots\dots\dots \\ + \dots\dots\dots \\ \hline \end{array}$	$\begin{array}{r} \dots\dots\dots \\ + \dots\dots\dots \\ \hline \end{array}$

İşlem	Tahminim	Kontrol
$\begin{array}{r} 5606 \\ + 5425 \\ \hline \end{array}$	$\begin{array}{r} \dots\dots\dots \\ + \dots\dots\dots \\ \hline \end{array}$	$\begin{array}{r} \dots\dots\dots \\ + \dots\dots\dots \\ \hline \end{array}$

İşlem	Tahminim	Kontrol
$\begin{array}{r} 4123 \\ + 3215 \\ \hline \end{array}$	$\begin{array}{r} \dots\dots\dots \\ + \dots\dots\dots \\ \hline \end{array}$	$\begin{array}{r} \dots\dots\dots \\ + \dots\dots\dots \\ \hline \end{array}$

Aşağıda verilen sayıların en yakın olduğu onluk ve en yakın olduğu yüzlük boşluklara yazınız?

En Yakın Onluk	Sayı	En Yakın Yüzlük
$\dots\dots\dots$	5496	$\dots\dots\dots$

En Yakın Onluk	Sayı	En Yakın Yüzlük
$\dots\dots\dots$	1235	$\dots\dots\dots$

En Yakın Onluk	Sayı	En Yakın Yüzlük
$\dots\dots\dots$	3264	$\dots\dots\dots$

En Yakın Onluk	Sayı	En Yakın Yüzlük
$\dots\dots\dots$	8475	$\dots\dots\dots$

En Yakın Onluk	Sayı	En Yakın Yüzlük
$\dots\dots\dots$	9453	$\dots\dots\dots$

En Yakın Onluk	Sayı	En Yakın Yüzlük
$\dots\dots\dots$	8492	$\dots\dots\dots$

En Yakın Onluk	Sayı	En Yakın Yüzlük
$\dots\dots\dots$	8795	$\dots\dots\dots$

En Yakın Onluk	Sayı	En Yakın Yüzlük
$\dots\dots\dots$	1432	$\dots\dots\dots$

2. HAFTA ETKİNLİKLERİ

MATEMATİK

Aşağıda verilen çıkarma işlemlerini yapınız?

$$\begin{array}{r} 5426 \\ - 2564 \\ \hline \end{array}$$

.....

$$\begin{array}{r} 8459 \\ - 5412 \\ \hline \end{array}$$

.....

$$\begin{array}{r} 5412 \\ - 1245 \\ \hline \end{array}$$

.....

$$\begin{array}{r} 4587 \\ - 3458 \\ \hline \end{array}$$

.....

$$\begin{array}{r} 8745 \\ - 7458 \\ \hline \end{array}$$

.....

$$\begin{array}{r} 6549 \\ - 4269 \\ \hline \end{array}$$

.....

$$\begin{array}{r} 2364 \\ - 2235 \\ \hline \end{array}$$

.....

$$\begin{array}{r} 7456 \\ - 5432 \\ \hline \end{array}$$

.....

$$\begin{array}{r} 9989 \\ - 8456 \\ \hline \end{array}$$

.....

$$\begin{array}{r} 9147 \\ - 7316 \\ \hline \end{array}$$

.....

$$\begin{array}{r} 4263 \\ - 3596 \\ \hline \end{array}$$

.....

$$\begin{array}{r} 7859 \\ - 5462 \\ \hline \end{array}$$

.....

$$\begin{array}{r} 8793 \\ - 5462 \\ \hline \end{array}$$

.....

$$\begin{array}{r} 8456 \\ - 2659 \\ \hline \end{array}$$

.....

$$\begin{array}{r} 4856 \\ - 2843 \\ \hline \end{array}$$

.....

$$\begin{array}{r} 8999 \\ - 4123 \\ \hline \end{array}$$

.....

$$\begin{array}{r} 7459 \\ - 4263 \\ \hline \end{array}$$

.....

$$\begin{array}{r} 8112 \\ - 5211 \\ \hline \end{array}$$

.....

$$\begin{array}{r} 9433 \\ - 5723 \\ \hline \end{array}$$

.....

$$\begin{array}{r} 8456 \\ - 5555 \\ \hline \end{array}$$

.....

MATEMATİK

Aşağıda yan yana verilen çıkarma işlemlerini yapınız?

$$\begin{array}{r} 8993 \\ - 5623 \\ \hline \end{array}$$
$$\begin{array}{r} 8792 \\ - 4192 \\ \hline \end{array}$$

$$\begin{array}{r} 5423 \\ - 1236 \\ \hline \end{array}$$
$$\begin{array}{r} 9456 \\ - 6455 \\ \hline \end{array}$$

$$\begin{array}{r} 5462 \\ - 2356 \\ \hline \end{array}$$
$$\begin{array}{r} 7456 \\ - 2316 \\ \hline \end{array}$$

$$\begin{array}{r} 5455 \\ - 2312 \\ \hline \end{array}$$
$$\begin{array}{r} 4562 \\ - 1235 \\ \hline \end{array}$$

$$\begin{array}{r} 7846 \\ - 6459 \\ \hline \end{array}$$
$$\begin{array}{r} 2136 \\ - 1425 \\ \hline \end{array}$$

$$\begin{array}{r} 5462 \\ - 2315 \\ \hline \end{array}$$
$$\begin{array}{r} 88456 \\ - 5451 \\ \hline \end{array}$$

$$\begin{array}{r} 9789 \\ - 4586 \\ \hline \end{array}$$
$$\begin{array}{r} 6532 \\ - 8415 \\ \hline \end{array}$$

$$\begin{array}{r} 5462 \\ - 4526 \\ \hline \end{array}$$
$$\begin{array}{r} 7845 \\ - 2631 \\ \hline \end{array}$$


$$\begin{array}{r} 5469 \\ - 4528 \\ \hline \end{array}$$
$$\begin{array}{r} 9999 \\ - 8451 \\ \hline \end{array}$$

$$\begin{array}{r} 6996 \\ - 4123 \\ \hline \end{array}$$
$$\begin{array}{r} 7456 \\ - 5142 \\ \hline \end{array}$$


MATEMATİK

Aşağıdaki çıkarma işlemlerinde verilmeyen elemanları bulunuz.


$$\begin{array}{r} \boxed{} \\ - 2014 \\ \hline 1565 \end{array}$$




$$\begin{array}{r} \boxed{} \\ - 6800 \\ \hline 1876 \end{array}$$




$$\begin{array}{r} \boxed{} \\ - 3556 \\ \hline 2235 \end{array}$$



$$\begin{array}{r} \boxed{} \\ - 5899 \\ \hline 4885 \end{array}$$



$$\begin{array}{r} \boxed{} \\ - 4589 \\ \hline 3659 \end{array}$$



$$\begin{array}{r} \boxed{} - 6122 \\ \hline 2369 \end{array}$$




$$\begin{array}{r} \boxed{} - 1463 \\ \hline 1548 \end{array}$$




$$\begin{array}{r} \boxed{} - 7453 \\ \hline 1452 \end{array}$$



$$\begin{array}{r} \boxed{} - 6462 \\ \hline 1989 \end{array}$$



$$\begin{array}{r} \boxed{} - 7479 \\ \hline 2478 \end{array}$$



$$\begin{array}{r} \boxed{} - 4523 \\ \hline 3369 \end{array}$$



MATEMATİK

Aşağıda verilen çıkarma işlemlerinin sonucunu tahmin edip tahmin ile gerçek sonucu karşılaştırınız?

İşlem	Tahminim	Kontrol
$\begin{array}{r} 8732 \\ - 2542 \\ \hline \end{array}$	$\begin{array}{r} \text{.....} \\ - \text{.....} \\ \hline \end{array}$	$\begin{array}{r} \text{.....} \\ - \text{.....} \\ \hline \end{array}$

İşlem	Tahminim	Kontrol
$\begin{array}{r} 6523 \\ - 4065 \\ \hline \end{array}$	$\begin{array}{r} \text{.....} \\ - \text{.....} \\ \hline \end{array}$	$\begin{array}{r} \text{.....} \\ - \text{.....} \\ \hline \end{array}$

İşlem	Tahminim	Kontrol
$\begin{array}{r} 4593 \\ - 2248 \\ \hline \end{array}$	$\begin{array}{r} \text{.....} \\ - \text{.....} \\ \hline \end{array}$	$\begin{array}{r} \text{.....} \\ - \text{.....} \\ \hline \end{array}$

İşlem	Tahminim	Kontrol
$\begin{array}{r} 9897 \\ - 4562 \\ \hline \end{array}$	$\begin{array}{r} \text{.....} \\ - \text{.....} \\ \hline \end{array}$	$\begin{array}{r} \text{.....} \\ - \text{.....} \\ \hline \end{array}$

İşlem	Tahminim	Kontrol
$\begin{array}{r} 4562 \\ - 3825 \\ \hline \end{array}$	$\begin{array}{r} \text{.....} \\ - \text{.....} \\ \hline \end{array}$	$\begin{array}{r} \text{.....} \\ - \text{.....} \\ \hline \end{array}$

Aşağıda verilen çarpma işlemlerini yapınız?

$$\begin{array}{r} 526 \\ \times 24 \\ \hline \\ + \\ \hline \end{array}$$

$$\begin{array}{r} 899 \\ \times 35 \\ \hline \\ + \\ \hline \end{array}$$

$$\begin{array}{r} 695 \\ \times 71 \\ \hline \\ + \\ \hline \end{array}$$

$$\begin{array}{r} 565 \\ \times 58 \\ \hline \\ + \\ \hline \end{array}$$

$$\begin{array}{r} 6943 \\ \times 44 \\ \hline \\ + \\ \hline \end{array}$$

$$\begin{array}{r} 588 \\ \times 32 \\ \hline \\ + \\ \hline \end{array}$$

$$\begin{array}{r} 216 \\ \times 65 \\ \hline \\ + \\ \hline \end{array}$$

$$\begin{array}{r} 354 \\ \times 37 \\ \hline \\ + \\ \hline \end{array}$$

MATEMATİK

Aşağıda verilen çarpma işlemlerini kısa yoldan yapınız?

682 x 100	→	
586 x 20	→	
111 x 200	→	
2580 x 300	→	
600 x 100	→	
850 x 1000	→	
122 x 1000	→	
924 x 2000	→	
600 x 200	→	
1200 x 300	→	
612 x 3000	→	
322 x 4000	→	
12 x 2000	→	

Aşağıda verilen çarpma işlemlerinin sonucunu tahmin edip tahmin ile gerçek sonucu karşılaştırınız?

İşlem	Tahminim	Kontrol
$\begin{array}{r} 68 \\ \times 5 \\ \hline \end{array}$	$\begin{array}{r} \text{.....} \\ \times \text{.....} \\ \hline \end{array}$	$\begin{array}{r} \text{.....} \\ \times \text{.....} \\ \hline \end{array}$
$\begin{array}{r} 44 \\ \times 2 \\ \hline \end{array}$	$\begin{array}{r} \text{.....} \\ \times \text{.....} \\ \hline \end{array}$	$\begin{array}{r} \text{.....} \\ \times \text{.....} \\ \hline \end{array}$
$\begin{array}{r} 27 \\ \times 7 \\ \hline \end{array}$	$\begin{array}{r} \text{.....} \\ \times \text{.....} \\ \hline \end{array}$	$\begin{array}{r} \text{.....} \\ \times \text{.....} \\ \hline \end{array}$
$\begin{array}{r} 93 \\ \times 4 \\ \hline \end{array}$	$\begin{array}{r} \text{.....} \\ \times \text{.....} \\ \hline \end{array}$	$\begin{array}{r} \text{.....} \\ \times \text{.....} \\ \hline \end{array}$
$\begin{array}{r} 84 \\ \times 6 \\ \hline \end{array}$	$\begin{array}{r} \text{.....} \\ \times \text{.....} \\ \hline \end{array}$	$\begin{array}{r} \text{.....} \\ \times \text{.....} \\ \hline \end{array}$

MATEMATİK

Aşağıda verilen bölme işlemlerini yapınız?

$$\begin{array}{r} 996 \\ \underline{} \\ \end{array} \begin{array}{l} 6 \\ \hline \end{array}$$

$$\begin{array}{r} 685 \\ \underline{} \\ \end{array} \begin{array}{l} 5 \\ \hline \end{array}$$

$$\begin{array}{r} 728 \\ \underline{} \\ \end{array} \begin{array}{l} 8 \\ \hline \end{array}$$

$$\begin{array}{r} 819 \\ \underline{} \\ \end{array} \begin{array}{l} 9 \\ \hline \end{array}$$

$$\begin{array}{r} 480 \\ \underline{} \\ \end{array} \begin{array}{l} 2 \\ \hline \end{array}$$

$$\begin{array}{r} 874 \\ \underline{} \\ \end{array} \begin{array}{l} 4 \\ \hline \end{array}$$

$$\begin{array}{r} 369 \\ \underline{} \\ \end{array} \begin{array}{l} 9 \\ \hline \end{array}$$

$$\begin{array}{r} 505 \\ \underline{} \\ \end{array} \begin{array}{l} 5 \\ \hline \end{array}$$

$$\begin{array}{r} 186 \\ \underline{} \\ \end{array} \begin{array}{l} 6 \\ \hline \end{array}$$

$$\begin{array}{r} 897 \\ \underline{} \\ \end{array} \begin{array}{l} 7 \\ \hline \end{array}$$

$$\begin{array}{r} 884 \\ \underline{} \\ \end{array} \begin{array}{l} 4 \\ \hline \end{array}$$

$$\begin{array}{r} 248 \\ \underline{} \\ \end{array} \begin{array}{l} 8 \\ \hline \end{array}$$

$$\begin{array}{r} 648 \\ \underline{} \\ \end{array} \begin{array}{l} 8 \\ \hline \end{array}$$

$$\begin{array}{r} 427 \\ \underline{} \\ \end{array} \begin{array}{l} 7 \\ \hline \end{array}$$

$$\begin{array}{r} 546 \\ \underline{} \\ \end{array} \begin{array}{l} 6 \\ \hline \end{array}$$

$$\begin{array}{r} 607 \\ \underline{} \\ \end{array} \begin{array}{l} 7 \\ \hline \end{array}$$

MATEMATİK

Aşağıda verilen sayıları sembol kullanarak büyükten küçüğe doğru sıralayınız?

1. 1545 – 1123 – 7456- 3562

.....

2. 8450 – 2015 – 5426- 9456

.....

3. 1001 – 1010 – 1110- 1011

.....

4. 2568 – 1238 – 5628- 3456

.....

5. 5585 – 2356 – 4230- 1124

.....

6. 3003 – 3002 – 3030- 3033

.....

Aşağıda verilen sayıları sembol kullanarak küçükten büyüğe doğru sıralayınız?

7. 15850 – 12652- 15590

.....

8. 45262 – 75967- 54269

.....

9. 3009 – 3479 – 1245- 3062

.....

10. 8452 – 6523 – 9452- 3265

.....

11. 69592 – 45620- 68452

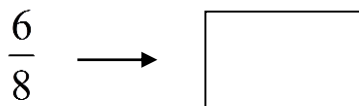


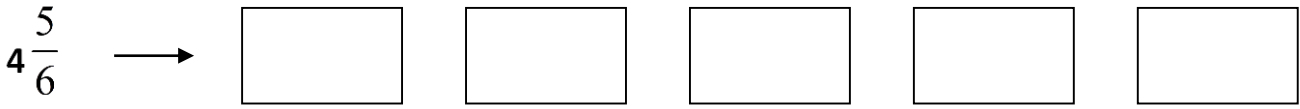
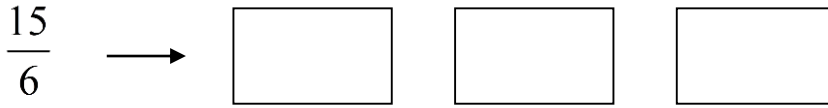
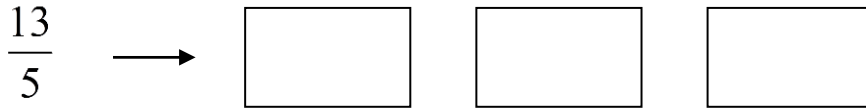
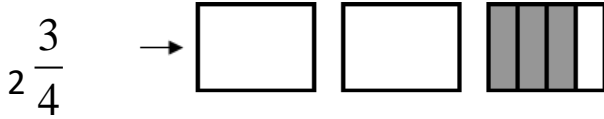
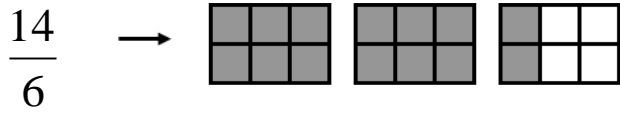
.....

12. 3261 – 1233 – 4562- 1123

.....








MATEMATİK

A. Aşağıdaki kesirleri örneklere uygun olarak şekillerle gösteriniz.



MATEMATİK

Aşağıdaki kesirleri sayı doğrusunda gösteriniz.



FEN BİLİMLERİ

1. HAFTA

TEST-1

1. Tahıl grubunda bolca bulunur. Enerji verir. Fazla tüketildiğinde vücutta yağ olarak depolanır.

Yukarıda tanıtılan besin grubu hangisidir?

- A) Karbonhidratlar B) Yağlar
C) Proteinler D) Vitaminler

2. Balığın içeriğinde aşağıdakilerden hangisi daha fazla vardır?

- A) Karbonhidrat B) Protein
C) Yağ D) Vitamin

3. Aşağıdakilerden hangisi yanlıştır?

- A) Sigara ağız kokusu yapar.
B) Alkol daha iyi görmemizi sağlar.
C) Sigara damar tıkanıklığını hızlandırır.
D) Alkol geçici hafıza kaybına yol açabilir.

4. I. Kuvvet cisimleri hareket ettirebilir.
II. Kuvvet cisimlerin şeklini değiştirebilir.
III. Kuvvetin etkisi gözlemlenemez.

Yukarıda kuvvetle ilgili verilen ifadelerden hangileri doğrudur?

- A) I ve II B) II ve III
C) I ve III D) I, II ve III

5. Süngerin avuç içinde sıkılıp bırakılması durumunda süngere etki eden kuvvetle ilgili aşağıdaki yorumlardan hangisi doğrudur?

- A) Süngere hareket kazandırmıştır.
B) Süngerin şeklini değiştirmiştir.
C) Süngerin yerini değiştirmiştir.
D) Süngeri hızlandırmıştır.

6. Kuvvetin cisimleri hareket ettirme etkisini kanıtlamak için aşağıdaki olaylardan hangisi gözlemlenmelidir?

- A) Karatecinin yumruğu ile kiremiti kırması
B) Topun camı kırması
C) Masanın yerinin değiştirilmesi
D) Kalecinin topu tutması

7. Topu yukarı atıp tutan birinin topa uyguladığı kuvvetle ilgili aşağıdakilerden hangisi yanlıştır?

- A) Topu hareket ettirmiştir.
B) Topun yönünü değiştirmiştir.
C) Topa hızlanma hareketi kazandırmıştır.
D) Topun şeklini değiştirmiştir.

8. Aşağıdakilerden hangisi mıknatıslarla ilgili yanlış bilgidir?

- A) İki kutbu vardır.
B) Zıt kutuplar birbirini çeker.
C) Aynı kutuplar birbirini iter.
D) İkiye bölündüğünde parçalardan biri N, biri S kutbu olarak kalır.

9. ▲ Hoparlörlerde

- Kapı zillerinde
- Pusulalarda

Yukarıda verilenlerden hangileri mıknatısların kullanım alanlarındandir?

- A) ▲ • B) • ■
C) ▲ ■ D) ▲ • ■

FEN BİLİMLERİ

10. I. Hızlandırabilir.
II. Yavaşlatabilir.
III. Yönünü değiştirebilir.
IV. Kütlesini arttırabilir.





Yukarıdakilerden hangileri hareket halindeki bir cisme kuvvetin etkilerindedir?

- A) I, II, III B) II, III, IV
C) I, III, IV D) I, II, IV

11. Fosillerle ilgili aşağıdaki ifadelerden hangisi yanlıştır?

- A) Uzun zaman önce yaşamış olan bitki ve hayvanların kayalar içerisindeki kalıntılarıdır.
B) Fosiller, yalnızca kayaların arasında bulunur.
C) Canlılardan arta kalan kemik, kabuk, diş vb. sert dayanıklı kısımların bıraktığı izler fosilleri oluşturur.
D) Bir nehrin kumlu tabanında, bataklık, buzul, çam reçinesi, deniz ve göl gibi ortamlarda fosilleşme olabilir.

12. Ambalajın geri dönüşümlü olduğunu gösteren sembol aşağıdakilerden hangisidir?

- A)  B) 
C)  D) 

13. I. Madenler doğada saf hâlde bulunur.
II. Lüle taşı, oltu taşı gibi madenlere kolayca şekil verilir.
III. Madenler fabrikalarda işlenir.
IV. Türkiye, bor mineralleri bakımından dünyanın en zengin ülkesidir.

Yukarıdaki bilgilerden hangileri doğrudur?

- A) I ,II B) II ,III
C) I, II, III D) I, II, III, IV

14. Aşağıda verilen bilgilerden hangisi yanlıştır?

- A) Dünya, kendi eksenini etrafında dönerken Güneş ışığı Dünya'ya farklı açılarla gelir.
B) Dünya'mız Ay'ın etrafında döner.
C) Dünya'nın Güneş etrafında dönmesiyle sıcaklık farkı oluşur.
D) Dünya'nın kendi eksenini etrafında dönmesiyle gece ve gündüz oluşur.

15. Proteinler ile ilgili;

- I. Et ve süt ürünlerinde bolca bulunur.
II. Yapıcı ve onarıcı olarak görev yapar.
III. Bütün besinlerde bulunur.

ifadelerinden hangileri doğrudur?

- A) I ve II B) I ve III
C) II ve III D) I, II ve III

16. Aşağıdakilerden hangisi fosil yakıt değildir?

- A) Petrol B) Taş kömürü
C) Mangal kömürü D) Doğal gaz

FEN BİLİMLERİ

17. Sigara için aşağıdakilerden hangisi söylenemez?

- A) Hamilelerde bebeğin gelişimini olumsuz etkiler.
- B) Aile bütçesine zarar verir.
- C) Sigara, solunum yolu, kalp ve damar hastalıklarına neden olur.
- D) Ortak kullanım alanlarında kullanılabilir.

18. Aşağıda verilen bilgilerden hangisi yanlıştır?

- A) Hareket eden varlıklar yer değiştirebilir.
- B) Cansız varlıklar dışarıdan etki olmadıkça hareket edemezler.
- C) Bitkiler hareketsiz varlıklardır.
- D) Hareket, canlıların ortak özelliğidir.

19. I. Çantayı sırtımıza almak
II. Masayı çekerek düzeltmek
III. Sabahları erkenden uyanmak
IV. Çekmeceyi açmak

Yukarıdakilerden hangileri kuvvetin etkileriyle gerçekleşir?

- A) I ve II
- B) I, II ve IV
- C) I, II ve III
- D) I, II, III ve IV

20. Mıknatısın demir tozuna uyguladığı kuvvet aşağıdaki cisimlere etki eden kuvvetlerden hangisi ile benzerlik gösterir?

- A) Bisikletin pedalının çevrilmesi
- B) Uçurtmanın gökyüzünde uçması
- C) Ağaçtaki elmanın yere düşmesi
- D) Geminin su üzerinde durması

21. Aşağıdakilerden hangisi mıknatısların kullanım alanlarından birisi değildir?

- A) Manyetik raylı trenler
- B) Otomobil sinyal sistemleri
- C) Pusula
- D) Cep telefonu

22. I-Oluşumu uzun yıllar sürer.
II-Parçalanarak suyu oluştururlar.
III- Bazılarının ekonomik değeri vardır.
VI- Dünya'nın her katmanında bulunurlar.

Yukarıda verilenlerden hangileri kayaçların özelliklerindedir?

- A) I - II
- B) I-III
- C) II - III - IV
- D) II-IV

23. Toprağın oluşumunda aşağıdaki faktörlerden hangisinin etkisi yoktur?

- A) Canlıların farklılıkları
- B) Mevsimsel farklılıklar
- C) Yağış şekilleri
- D) Gece ve gündüz arasındaki sıcaklık farkı

24. Dünya kendi eksenini etrafında dönmeseydi aşağıdakilerden hangisi gerçekleşirdi?

- A) Dünya'da yaşam olmazdı.
- B) Hep gündüz olurdu.
- C) Hep gece olurdu.
- D) Dünya'nın Güneş'e bakan tarafında hep gündüz, diğer tarafında hep gece olurdu.

FEN BİLİMLERİ

25. Pirinçte hangi besin içeriği fazladır?

- A) Karbonhidrat
B) Protein
C) Vitamin
D) Yağ

26. Aşağıdaki menülerden hangisindeki besinlerin tamamı bitkisel kaynaqlıdır?

- A) 1. menü: Bulgur-Patlıcan-Salatalık
B) 2. menü: Kabak-Yoğurt-Mercimek
C) 3. menü: Süt-Yumurta-Domates
D) 4. menü: Tereyağı-Bal-Kaymak

27. Bir araç hareketi esnasında yön değiştiriyor ise yön değiştirme hareketi yapmış olur.

Aşağıdakilerden hangisinde hareketli, yön değiştirme hareketi yapar?

- A) Potaya çarpıp seken basketbol topu
B) Düz yolda ilerleyen bisiklet
C) Rüzgarsız bir havada düşen yağmur damlası
D) Yavaşlayarak hava alanına iniş yapan uçak

28. Aşağıdaki olaylardan hangisi kuvvetin etkisinde gerçekleşmez?

- A) Hareket eden aracın durması
B) Trenin aniden durması
C) Masanın üzerinde defterin durması
D) Duran aracın harekete geçmesi

29. Kuvvetin etkisinde şekli değişen, kuvvetin etkisi kalktığında tekrar eski hâline gelen maddelere esnek madde denir.

Aşağıda bazı maddeler verilmiştir:
sünger, paket lastiği, oyun hamuru, sakız, cetvel

Bu maddelerden kaç tanesi esnek maddedir?
A) 2
B) 3
C) 4
D) 5

30. Aşağıdakilerden hangisi besinleri uzun süre saklamak için kullanılan yöntemlerden birisi değildir?

- A) Kurutma
B) Turşu kurma
C) Şekerli suya yatırma
D) Konserve yapma

Cevap Anahtarı: 1-A 2-B 3-B 4-A 5-B 6-C 7-D 8-D 9-D 10-A 11-B 12-D 13-D 14-B 15-A 16-C 17-D 18-C 19-B 20-C 21-B 22-B 23-A 24-D 25-A 26-A 27-A 28-C 29-A 30-C

FEN BİLİMLERİ

2. HAFTA

TEST-2

1. Aşağıdaki hangisi konservesi yapılan besinlerden birisidir?

- A) Bezelye B) Elma
C) Çekirdek D) Tavuk

2. Besin tüketimi ile ilgili aşağıda verilen bilgilerden hangisi doğrudur?

- A) Yağlı besinleri çok proteinli besinleri az tüketmeliyiz
B) Karbonhidratlı besinleri çok suyu az tüketmeliyiz
C) Vücudumuz için gerekli besinleri yeterince tüketmeliyiz
D) Besinlerin bozulmaması için hepsini bir anda tüketmeliyiz

3. Sağlığı bozacak ölçüde vücutta aşırı yağ birikmesi olarak tanımlanan hastalık aşağıdakilerden hangisidir?

- A) Grip B) Şeker hastalığı
C) Böbrek hastalığı D) Obezite

4. Obezite aşağıdaki hastalıklardan hangisine neden olmaz?

- A) Karaciğer yağlanması B) Nezle
C) Solunum güçlüğü D) Kalp hastalığı

Alışverişten önce ihtiyaç listesi hazırlamalıyız
Tüketebileceğimiz kadar yemek pişirmeliyiz
Fazla pişirilen yemekleri komşularımızla paylaşmalıyız

5. Yukarıdaki tavsiyelerin verilmiş amacı ne olabilir?

- A) İsrafı önlemek
B) Daha iyi beslenebilmek
C) Yemeklerimizin ailemize yetmesi
D) Besinlerin lezzetli olması

6. Aşağıda yer alan bilgilerden hangisinin paketlenmiş besinlerin paketlerinde olması zorunlu değildir?

- A) Ürünün fiyatı
B) Üretici firmanın adı
C) Üretici firmanın adresi
D) Üretici firmanın telefonu

- Köfte
- Maden suyu
- Yeşil salata
- Tatlı

7.

Bir yemek öğününde yukarıdaki besinleri yiyen Bengü, hangi besin çeşitlerinden almıştır?

- A) Karbonhidrat - yağ - protein
B) Protein - yağ - su
C) Yağ - protein - karbonhidrat - vitamin
D) Su - vitamin - mineral - karbonhidrat - yağ - protein

FEN BİLİMLERİ

8. Canlıların beslenme sebepleri arasında;

I. Büyüme ve gelişmeyi sağlamak

II. Yaşam enerjisi üretmek

III. Vücut sağlığını korumak

şeklindeki özelliklerden hangileri vardır?

A) Yalnız I B) I ve II

C) I ve III D) I, II ve III

Öğ le yemeğ i

• Köfte • Pilav • ?

9. Öğrencinin sağlıklı besleniyor olabilmesi için menüde soru işareti ile gösterilen yerde hangisi olmalıdır?

A) Makarna B) Tavuk
C) Patates kızartması D) Salata

10. Aşağıdakilerden hangisinde besin çeşitleri ve öncelikli görevleri doğru eşleştirilmiştir?

<u>Yağlar</u>	<u>Vitaminler</u>
A) Enerji verici	Yapıcı ve onarıcı
B) Enerji verici	Düzenleyici
C) Düzenleyici	Yapıcı ve onarıcı
D) Düzenleyici	Enerji verici

11. Aşağıdakilerden hangisi alışveriş sırasında dikkat etmemiz gereken hususlardan değildir?

A) Ambalaj üzerindeki gıda içeriklerini okuma
B) Ürünün son kullanma tarihine dikkat etme
C) Ürünün üzerinde Tarım Bakanlığı'nın izni olup olmadığını kontrol etme
D) Katkı maddesi fazla olan ürünleri seçme

12. Aşağıda verilen bilgilerden hangisi yanlıştır?

A) Sebze ve meyveleri mevsiminde yemeliyiz.
B) Günde üç öğün beslenmeye dengeli beslenme denir.
C) Doğal besinleri tercih etmeliyiz.
D) Sebzeleri az su ile kapalı kaplarda pişirmeliyiz.

13. Aşağıda verilen bilgilerden hangisi doğrudur?

A) Pişmiş yiyecekler dışarıda bırakılmaldır.
B) Pazardan aldığımız meyveleri yıkamadan yiyebiliriz.
C) Doğal besinleri tercih etmeliyiz.
D) Yemek yemeden önce ellerimizi yıkamasak da olur.

14. Sigara içen bir insan için hangi seçenekteki ifade yanlıştır?

A) Çevresindekilere de zarar verir.
B) En çok zarar gören organı akciğerdir.
C) Denge sorunları yaşar.
D) Vücuduna katran girmiş olur.

15. Aşağıda verilen bilgilerden hangisi yanlıştır?

A) Yeşilay insanları zararlı alışkanlıklardan korur.
B) Sigaranın zararları kalıcı ve sürekli olabilir.
C) Alkol ve sigara zararlı alışkanlıklardandır.
D) Alkol kullanan birinin karaciğer kanserine yakalanma riski yok denecek kadar azdır.

16. Aşağıdaki rahatsızlıklardan hangisini sigarayla ilgisi yoktur?

A) Akciğer kanseri B) Diş çürümesi
C) Dudak kanseri D) Ayak mantarı

FEN BİLİMLERİ

17. Sigaranın verdiği zararlarla ilgili hangi seçenekteki ifade yanlıştır?

- A) Hastalık, yara ve ameliyat tedavileri uzun sürer.
- B) Kanser riski artar.
- C) Sağlıklı bir vücut oluşur.
- D) Cildin yapısının bozulmasına neden olur.

18. Aşağıdakilerden hangisi yanlış bir bilgidir?

- A) Alkol, bağımlılık yapar.
- B) Sigarada sağlığa zararlı birçok madde bulunmaktadır.
- C) Alkolden en fazla etkilenen organımız gözdür.
- D) Sigara izmaritlerinden orman yangınları çıkabilmektedir.

19.

Yapıcı-Onarıcı	Enerji Verici	Düzenleyici
I	Şeker pancarı	Muz
Yoğurt	II	Su
Tavuk	Pirinç	III

Tabloda I, II, ve III olarak numaralandırılmış besinler, aşağıdaki seçeneklerden hangisinde doğru verilmiştir?

- | <u>I</u> | <u>II</u> | <u>III</u> |
|------------|-----------|------------|
| A) Makarna | Maydonoz | Balık |
| B) Köfte | Baklava | Çilek |
| C) Ekmek | Et | Köfte |
| D) Elma | Süt | Yumurta |

20. Markette alışveriş yapan Sinem Hanım alacağı gıdanın öncelikle neyine bakmalıdır?

- A) Paketin üzerindeki son kullanma tarihine
- B) Markasına
- C) Paketin güzelliğine
- D) Miktarına

21. Sigara ve alkol tüketiminden dolayı oluşan sağlık problemlerini en aza indirebilmek için aşağıda verilen kurumlardan hangi ikisi birlikte işbirliği yapmalıdır?

- A) Sağlık Bakanlığı - Adalet Bakanlığı
- B) Dış İşleri Bakanlığı - İçişleri Bakanlığı
- C) Sağlık Bakanlığı - Tarım ve Orman Bakanlığı
- D) Sağlık Bakanlığı - Kültür ve Turizm Bakanlığı

22. Vücudumuzun sağlığını koruyabilmek için aşağıdakilerden hangisini yapmamalıyız?

- A) Düzenli olarak spor yapmalıyız.
- B) Sık sık ilaç kullanmalıyız.
- C) Ormanda yürüyüş yapmalıyız.
- D) Dengeli beslenmeliyiz.

23.

Bisiklet sürerken kuvvetin hangi etkisinden yararlanmayız?

- A) Döndürme
- B) Yavaşlatma
- C) Yön değiştirme
- D) Şeklini değiştirme

24. Madenleri, yerkürenin yapısını ve kayaçları inceleyen bilim insanı aşağıdakilerden hangisidir?

- A) Paleontolog
- B) Jeolog
- C) Astrolog
- D) Sosyolog

FEN BİLİMLERİ

25. Esnek cisimlere fazla kuvvet uygulandığında esneklik özelliği kaybolabilir. Aşağıdakilerden hangisi buna örnek olarak verilebilir.

- A) Üzerine basılan balonun patlaması.
- B) Kağıdın yırtılması.
- C) Şekli değişen sakızın eski haline dönmemesi.
- D) Yere düşen bardağın kırılması.

26.

Su : % 88	Protein : % 3,5
Yağ : % 2	Karbonhidrat : % 5

Bir gıda paketi üzerinde besin içerikleri yukarıdaki gibi verilmiştir.

Buna göre içeriği verilen gıda maddesi aşağıdakilerden hangisi olamaz?

- A) Süt
- B) Ayrın
- C) Tarhana Çorbası
- D) Ekmek

27. Düşüp ayağını yaralayan birisi aşağıdaki yiyeceklerden hangisini öncelikli tüketmelidir?

- A) Balık
- B) Pilav
- C) Meyve
- D) Makarna

28.

Bengü bebek arabasıyla merdivenlerin yanında bulunan rampadan aşağı inecektir.

Bengü rampadan aşağı inerken kuvvetin hangi etkisinden yararlanmalıdır?

- A) Yön değiştirme
- B) Döndürme
- C) Yavaşlatma
- D) Hızlandırma

29. Sağlıklı bir yaşam için aşağıdakilerden hangisi yapılmalıdır?

- A) Meyveleri sabunlu suyla yıkayarak tüketmeliyiz.
- B) Son kullanma tarihi geçmiş besinleri tüketmeliyiz.
- C) Dondurulmuş gıdaları yemeliyiz.
- D) Düzenli aralıklarla egzersiz yapmalıyız.

30. Kuvvet uygulandığında şekli değişen, uygulanan kuvvet ortadan kalktığında eski haline dönen cisimlere esnek cisimler denir. Bu bilgiye göre aşağıdakilerden hangisi esnek cisimlere örnek verilebilir?

- A) Oyun hamuru
- B) Porselen tabak
- C) Lastik balon
- D) Tahta kaşık

Cevap Anahtarı: 1-A 2-C 3-D 4-B 5-A 6-A 7-D 8-D 9-D 10-B 11-D 12-B 13-C 14-C 15-D 16-D 17-C 18-C 19-B 20-A 21-C 22-B 23-D 24-B 25-A 26-D 27-A 28-D 29-D 30-C

FEN BİLİMLERİ

3. HAFTA

TEST-3

1. Hareketli cisimlere kuvvet uygulandığında;

I. Yönü değişebilir,

II. Hızı artabilir,

III. Durabilir.

Durumlarından hangileri gerçekleşir?

A) Yalnız I B) I - II

C) I - III D) I - II - III

2. Fosil araştırması yapan bir paleontolog hangi fosilleri bulabilir?

I. Balık fosili

II. Yaprak fosili

III. Kemik fosili

A) Yalnız I B) I ve II

C) I ve III D) I, II ve III

3. Aşağıdakilerden hangisi Dünya'nın Güneş çevresindeki dolanma hareketinin sonuçlarından birisidir?

A) Gece ve Gündüz oluşması

B) Ayın tutulması

C) Bir gün oluşması

D) Gece ve gündüz sürelerinin değişmesi

4. Yaz mevsiminde yemek yapan bir aşçı, yemek için aşağıdaki fasulyelerden hangisini kullanmalıdır?

A) Taze fasulye

B) Konserve fasulye

C) Kurutulmuş fasulye

D) Dondurulmuş fasulye

5. Aşağıdakilerden hangisi alkolün zararlarından birisi değildir?

A) Kalbin çalışma düzenini bozar.

B) Akciğer kanserine yol açar.

C) Geçici hafıza kaybına neden olur.

D) Aşırı cesaret verdiği için taşkınlıklara sebep olur.

6. Aşağıdaki olayların hangisinde kuvvet söz konusu değildir?

A) Yelkenlinin rüzgarın etkisiyle hareketi

B) Çekilen lastiğin uzaması

C) Buzun erimesi

D) Mıknatısın demiri çekmesi

7. Kuvvet uygulanan bir cismin hareket etmemesi durumunda aşağıdaki yargılardan hangisine ulaşılabilir?

A) Cismin çok küçük olduğu

B) Uygulanan kuvvetin yetersiz olduğu

C) Cismin çok hafif olduğu

D) Uygulanan kuvvetin çok büyük olduğu

FEN BİLİMLERİ

8. Aşağıdakilerden hangisi doğru bir ifadedir?

- A) Bulutlar hareket etmez.
- B) Dünya'nın Güneş etrafındaki hareketi sallanmadır.
- C) Cisimleri hareket ettirebilmek için iter ya da çekeriz.
- D) Cisimler hareket ettikçe daima ileriye doğru giderler.

9. Aşağıdakilerden hangisi yanlış bir ifadedir?

- A) Hareket halindeki cisimi durdurmak tehlikeli olabilir.
- B) Hareket etmeye başlayan bir market arabasının hızı artar.
- C) Uçakların kalkış anı hızlanan harekete, iniş anı ise dönme hareketine örnektir.
- D) Bütün canlıların ortak özelliklerinden birisi de hareket etmeleridir.

10. Kuvvet cisimlere etki ederse aşağıdakilerden hangisi olmaz?

- A) Duran cisimler hareket edebilir.
- B) Dışarıda kalan yiyecekler çürüyebilir.
- C) Hareket eden cisimlerin yönü değişebilir.
- D) Cisimlerin şekli değişebilir.

11. Hareket hâlindeki bir cisimi hızlandırmak için aşağıdakilerden hangisini yapmalıyız?

- A) Cisme hareketi yönünde kuvvet uygulamalıyız.
- B) Cisme hareketi yönünün tersi yönde kuvvet uygulamalıyız.
- C) Cisme ön tarafından kuvvet uygulamalıyız.
- D) Cisme yan tarafından kuvvet uygulamalıyız.

12. Duran bir cisimi harekete geçiren, hareket halindeki bir cisimi durduran veya hızlandıran, cismin yönünü değiştiren etkiye ne denir ?

- A) Hacim
- B) Hız
- C) Etki
- D) Kuvvet

13. Ay'ın Dünya'mızın etrafındaki hareketi aşağıdaki hareket türlerinden hangisidir ?

- A) Yavaşlayan hareket
- B) Dönen hareket
- C) Sallanan hareket
- D) Hızlanan hareket

14. Bir marangoz, elindeki keresteyi tahta kesme makinasında iteleyerek hareket ettiriyor. Aynı hareketi kerestenin üzerine ağırlık koyarak denediğinde biraz daha zorlanıp daha fazla güç harcadığını görüyor. Buna göre aşağıdakilerden hangisi doğrudur?

- A) Kuvvet arttıkça maddenin hızı azalır.
- B) Ağırlık arttıkça maddenin hızı azalır.
- C) Ağırlık arttıkça hareket için gereken kuvvet artar.
- D) Kuvvet arttıkça ağırlık azalır.

15. Aşağıda yapılan uygulamalardan hangisinde bazı cisimlerin kuvvet etkisiyle geçici şekil değişikliğine uğradığı sonucuna ulaşılmaz?

- A) Süngere üzerinden kuvvet uygulandığında
- B) Balona üzerinden kuvvet uygulandığında
- C) Yastığa üzerinden kuvvet uygulandığında.
- D) Oyun hamuruna üzerinden kuvvet uygulandığında.

FEN BİLİMLERİ

16.



Doğu yönünde hareket etmekte olan oyuncak arabaya hangi yönde kuvvet uygulanırsa, oyuncak arabanın yönünde bir değişiklik olmaz?

- A) Kuzey B) Kuzeybatı
C) Güney D) Doğu

17. Bir masa tenisinde topun oyuna dahil edildiği andan itibaren raketler ile uygulanabilecek kuvvet türleri seçeneklerin hangisinde verilmiştir?

- A) Hızlandırma - şekil değiştirme
B) Hızlandırma - yön değiştirme
C) Şekil değiştirme - yavaşlatma
D) Hızlandırma - durdurma

18. Dengeli beslenme ile ilgili aşağıda yapılan açıklamalardan hangisi doğrudur?

- A) Karbonhidrat içerikli beslenmeye dengeli beslenme denir.
B) Vücudun ihtiyaç duyduğu besin maddelerinin gerektiği kadar alınmasına dengeli beslenme denir.
C) Mineraller dengeli beslenme için gerekli değildir.
D) Dengeli beslenme için yapıcı ve onarıcı besinlerin tüketilmesine gerek yoktur.

19. Aşağıda verilenlerden hangisi suyun görevlerinden biridir?

- A) Kırılan kemiklerin onarılmasını sağlar.
B) Büyüme ve gelişmeyi sağlar.
C) Vücut ısımızın dengelenmesini sağlar.
D) Vücutta enerji verici olarak kullanılır.

20. Siroz-Yüksek tansiyon- Akciğer kanseri
Bel fıtığı-Kansızlık-Karaciğer büyümesi

Aşırı alkol kullanımı yukarıdaki hastalıklardan kaç tanesine sebep olabilir?

- A) 6 B) 5 C) 4 D) 3

21. Zararlı alışkanlıklarla ilgili aşağıda verilen ifadelerden hangisi yanlıştır?

- A) Alkol tüketimi bağımlılık yapmaz.
B) Sigara hem içene hem de topluma zararlıdır.
C) Dünya'da en yaygın zararlı alışkanlık sigaradır.
D) Alkol kullanımı özellikle karaciğere çok zarar verir

22. I. Yelkenli gemilerin hareket etmesi
II. Paraşütün yeryüzüne yavaşça inmesi
III. Rüzgâr gülünün döndürülmesi

Yukarıda verilenlerden hangileri havanın itme kuvvetinin etkisine örnek olarak verilir?

- A) I ve II B) II ve III
C) I ve III D) I, II ve III

SOSYAL BİLGİLER

1.HAFTA

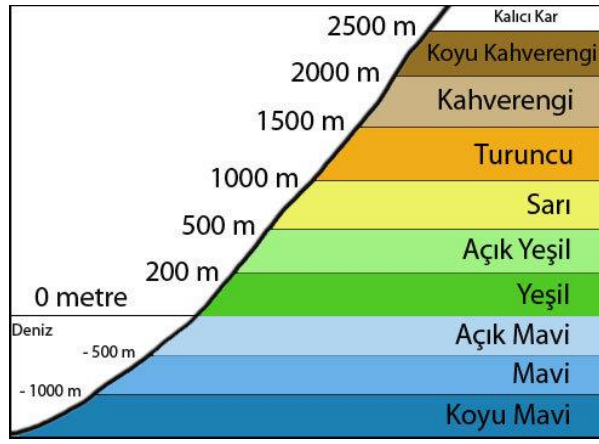
HARİTA ÇEŞİTLERİ

SİYASİ (idari) HARİTALAR

Ülkelerin, illerin, ilçelerin sınırlarını gösteren haritalardır.

FİZİKİ (coğrafi) HARİTALAR

Bir yerin (dünyanın, ülkelerin, illerin...) yer şekillerini (dağ, akarsu, göl, deniz, ova, ada, körfez, burun...) gösteren haritalardır.



Harita İşaretleri

Orman	Maden yatağı
Bataklık	Hava alanı
Kumluk	Toprak yol
Taşlık	Asfalt yol
Çukurluk	Devlet sınırı
Akarsu	Demir yolu
Baraj ve baraj gölü	Kent
Çeşme	Mezarlık

Haritalarda; yer şekilleri, nehirler, göller, şehirler, deniz ve karalar olduğu gibi gösterilmez. Çeşitli işaretler kullanılır. Haritalarda verilmek istenen bilgiler, haritanın bir köşesinde, bu işaretlerin ne anlama geldiğini gösteren tabloya yer verilmektedir. Bu tabloya harita anahtarı(lejant) denir.

- Fiziki haritalarda deniz seviyesine yakın olan yerler yeşil ve yeşilin tonları ile yüksek dağlar kahverenginin tonlarıyla gösterilir.

- Haritalarda genellikle deniz ve göller, mavinin tonlarıyla gösterilmektedir. Derinliği az olan yerler açık mavi ile daha derin yerler koyu mavi ile gösterilir.
- Akarsular haritalarda koyu mavi ile gösterilir.

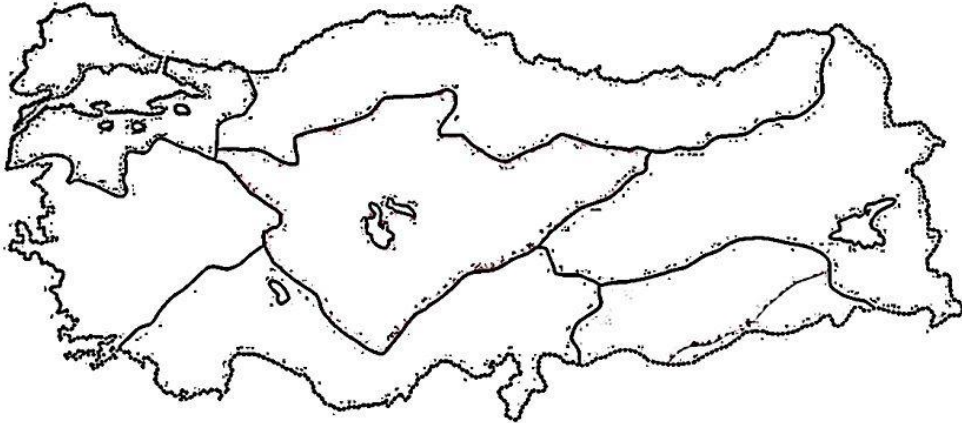
SOSYAL BİLGİLER

Türkiye yükseltisi fazla olan bir ülkedir. Dağların büyük bir kısmı doğu-batı doğrultusunda uzanmaktadır.Ülkemizdeki yükseklikler batıdan doğuya doğru gidildikçe artar.



Boşlukları Doldurunuz.

- 1.Türkiye'nin En Büyük Dağı:.....
- 2.Türkiye'nin En Büyük Gölü:.....
- 3.Türkiye'nin En Uzun Irmağı.....
- 4.Ortalama Yükseltisi En Fazla Olan Bölgemiz:.....
- 5.Ortalama Yükseltisi En Az Olan Bölgemiz:.....
- 6.Türkiye'nin En Kalabalık Şehirleri:.....
- 7.Türkiye'nin En Az Nüfuslu Şehirleri:.....
- 8.Türkiye'nin Yüzölçümü En Büyük Şehirleri:.....

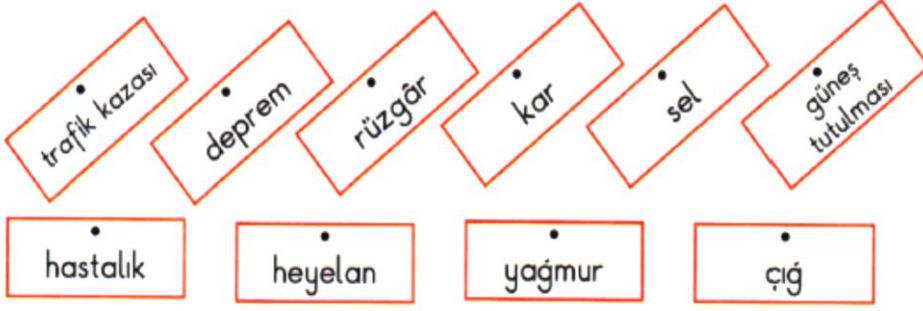


Yukarıdaki Türkiye haritasında bölgeleri yazınız.

SOSYAL BİLGİLER

2.HAFTA

Doğal Afetleri Yazınız



- ❖
- ❖
- ❖
- ❖

Aşağıdaki İfadeleri Okuyalım, Doğruysa 'D'; Yanlıısa 'Y' Yazalım.

- (.....) Boş arazilerin ağaçlandırılması sel ve heyelanı önlemede etkilidir.
(.....) Eğimli olmayan düz yerlerde çığ meydana gelmez.
(.....) Doğal afetler can ve mal kaybına neden olmaz.
(.....) Heyelan, toprak kaymasının diğer bir adıdır.
(.....) Sel, heyelan, çığ gibi afetlerin oluşmasında insanların da etkisi vardır.

Aşağıdaki bölüme deprem ile ilgili akrostiş çalışması yapınız.

- D.....
E.....
P.....
R.....
E.....
M.....

SOSYAL BİLGİLER

3. HAFTA

Test

1. T.C. kimlik kartının üzerinde.....depolayan çip bulunmaktadır. **Noktalı yere aşağıdakilerden hangisi gelmelidir?**

- A) kimlik bilgilerimizi
- B) ailemizin geçmişini
- C) kartın arka bölümünü
- D) seyahat edeceğimiz yerleri

2. Ayşe 24.05.2020 'de yeni kimlik belgesini aldı. **Yeni kimlik kartlarının geçerlilik süresi dikkate alındığında kartın en son ne zaman yenilenmesi gerek?**

- A)24.04.2030
- B)24.05.2030
- C) 24.05.2031
- D)24.05.2029

3. Kimlik kartlarımız nüfus müdürlükleri tarafından verilmektedir. **Veren makam olarak arka bölümünde hangi kurum yazmaktadır?**

- A)T.C.Maliye Bakanlığı
- B)T.C.Dışişleri Bakanlığı
- C)T.C.İçişleri Bakanlığı
- D)T.C.Sağlık Bakanlığı

4.1.sınıfa giden Ece arkadaşlarına hayat hikayesini anlattı. **Buna göre Ece kronolojik sıra yaptığında hangisi en sonda yer alır?**

- A)Okumayı öğrenmişim.
- B)İlk dişim çıkmış.
- C)Yürümeye başladım.
- D)Konuşmaya başladım.

5.Küçücük ve çok sevimliydi. Hemen kucağıma alıp okşamak istedim. **Bu metne göre Aysu 'nun içinde bulunduğu duygu durumu aşağıdakilerden hangisidir?**

- A)Kıskançlık
- B)Üzüntü
- C)Sevgi
- D)Pişmanlık

6.Deniz'in hayata dair yaşadığı sevinçleri, üzüntüleri, kızgınlıkları ve pişmanlıkları vardır. **Deniz 'in bütün bu yaşadıklarının genel adı aşağıdakilerden hangisi olabilir?**

- A)Özellik
- B>Farklılık
- C)Algılama
- D)Duygular

7. **Kültür öğelerimiz aşağıdaki müzelerden hangisinde sergilenmez?**

- A)Arkeoloji müzesi
- B)Etnografya müzesi
- C)Bilim müzesi
- D)Oyuncak müzesi

SOSYAL BİLGİLER

8. Aşağıdakilerden hangisi aile yadigârı eşyalarından olabilir?

- A) Telefon
- B) Bilgisayar
- C) Gramofon
- D) Dijital saat

9. Ülkemizde illerimize göre değişik milli kültür öğelerimiz vardır. Aşağıdaki milli kültür öğesi-il eşleştirmelerinden hangisi doğru **değildir**?

- A) İzmir-zeybek
- B) Erzurum-atabarı
- C) Trabzon -horon
- D) İzmir-horon

10. Birinci Dünya Savaşından sonra Osmanlı Devleti.....ile bağımsızlığını kaybetmiştir. Noktalı yere aşağıdakilerden hangisi gelir?

- A) Mondros Ateşkes Antlaşması
- B) Kars Antlaşması
- C) Sevr Antlaşması
- D) Lozan Barış Antlaşması

11. Kurtuluş Savaşında güney cephesinde hangi ülkeyle savaşıldı?

- A) İngiltere
- B) İtalya
- C) Yunanistan
- D) Fransa

12. Vatan bir bütündür, bölünemez kararı hangi kongrede alınmıştır?

- A) Erzurum Kongresi
- B) Alaşehir Kongresi
- C) Sivas Kongresi
- D) Balıkesir Kongresi

13. Mustafa Kemal Atatürk'ün ilk görev yaptığı yer neresidir?

- A) İstanbul
- B) Şam
- C) Çanakkale
- D) Trablusgarp

14. Aşağıdakilerden hangisi itilaf devletlerinden değildir?

- A) İtalya
- B) Almanya
- C) İngiltere
- D) Fransa

15. Atatürk, hangi savaştan sonra gazilik ve mareşallik unvanını almıştır?

- A) 1. İnönü Savaşı
- B) Sakarya Meydan Muharebesi
- C) 2. İnönü Savaşı
- D) Büyük Taarruz

SOSYAL BİLGİLER

16.24 Temmuz 1923 tarihinde yapılan antlaşma hangisidir?

- A)Lozan Barış Antlaşması
- B)Sevr Antlaşması
- C)Kars Antlaşması
- D)Ankara Antlaşması

17.Aşağıdakilerden hangisi güney cephesinde mücadele etmiş kahramanlarımızdan biri değildir?

- A)Sütçü İmam
- B)Şahin Bey
- C)Demirci Mehmet Efe
- D)Ali Saip Bey

18.Ordular! İlk hedefiniz Akdeniz'dir! İleril sözünü Atatürk, Kurtuluş Savaşında hangi savaşın kazanılmasından sonra söylemiştir?

- A) Sakarya Savaşı
- B) Başkomutanlık Meydan Savaşı
- C) 1.İnönü Savaşı
- D) 2.İnönü Savaşı

19.Pusulula, gölge yöntemi, karınca yuvaları, ağaçtaki yosunların ortak özelliği nedir?

- A) Kuzeyi göstermeleri
- B) Güneyi göstermeleri
- C)Doğuyu göstermeleri
- D)Batıyı göstermeleri

20.1.dürbün 2.telsiz 3.pusulula 4.saat

Dağcılık spora yapan Saliha yukarıdakilerden özellikle hangi Numaradaki varlığı yanına almalıdır?

- A) 1
- B) 2
- C) 3
- D) 4

21.Aşağıdakilerden hangisi doğal unsurdur?

- A)15 Temmuz Köprüsü
- B)Ankara-İstanbul otoyolu
- C)Dolmabahçe Sarayı
- D) Peribacaları

22.Aşağıdakilerden hangisi beşeri unsurdur?

- A)Pamukkale Travertenleri
- B)Kız Kulesi
- C)Uzungöl
- D)Manavgat Şelalesi

23.Ege Bölgesini gezmek isteyen Ümit aşağıdaki illerden hangisine uğramaz?

- A)Burdur
- B)İzmir
- C)Kütahya
- D)Aydın

SOSYAL BİLGİLER

24. Fiziki Haritanın sağ alt köşesindeki renk basamaklarına göre aşağıdakilerden hangisi söylenebilir?

- A) Derinlik arttıkça mavi renk açığlaşır.
- B) Yükseklik arttıkça yeşil renk koyulaşır.
- C) Yükseklik azaldıkça kahverengi tonu artar.
- D) Derinlik arttıkça mavilik koyulaşır.

25. Türkiye 'nin nüfus olarak en kalabalık ili neresidir?

- A) Ankara
- B) İstanbul
- C) İzmir
- D) Adana

26. Aşağıdakilerden hangisi ana yöndür?

- A) Güneydoğu
- B) Kuzeybatı
- C) Güneybatı
- D) Kuzey

27. Bulutsuz bir gecede yönümüzü bulmamıza yardımcı olan gök cismi aşağıdakilerden hangisidir?

- A) Ay
- B) Güneş
- C) Gezegenler
- D) Kutup Yıldızı

28. Aşağıdakilerden hangisi geleneksel çocuk oyunlarından değildir?

- A) Körebe
- B) Çelik -çomak
- C) Saklambaç
- D) Atari

29. Aşağıdakilerden hangisi doğal afettir?

- A) Trafik kazası
- B) Yangın
- C) Yağmur
- D) Heyelan

30. Aşağıdakilerden hangisi en yıkıcı doğal afettir?

- A) Deprem
- B) Sel
- C) Çiğ
- D) Toprak Kayması

31. Atmosferdeki hava olaylarını inceleyen bilim dalının adı nedir?

- A) Jeoloji
- B) Arkeoloji
- C) Meteoroloji
- D) Paleontoloji

CEVAP ANAHTARI	1.A	2.B	3.C	4.D	5.C	6.D		
7.D	8.C	9.D	10.C	11.D	12.A	13.B	14.B	
15.B	16.A	17.C	18.B	19.A	20.C	21.D	22.B	23.A
24.D	25.B	26.D	27.D	28.D	29.D	30.A	31.C	

ENGLISH

1. HAFTA

Test - 1

1) 37

- a) thirty-six
- b) thirty-seven
- c) twenty-seven
- d) forty-seven

2) A:..... are you from?

B: I'm from Russia.

- a) what
- b) when
- c) where
- d) who

3) A:?

B: He is from Turkey.

- a) What nationality is he?
- b) Where are you from?
- c) Are you Turkish?
- d) Where is he from?

4) Turn the lights.

- a) on
- b) under
- c) in
- d) at

5) Ten - twenty - thirty -?- fifty

- a) fourteen
- b) forty
- c) four
- d) fifty.

6) Elif: Give me the ruler, please.

Sare: 😞

- a) Sure.
- b) Here you are.
- c) Sorry, not right now.
- d) Say that again please.

7) I'm Akira. I'm from Japan.

I'm.....

- a) Japanese
- b) Italian
- c) French
- d) Germany

8) Hangisi farklıdır?

- a) Italy
- b) Russia
- c) Iraq
- d) German

9) Sıralama nasıl olmalıdır?

- 1- I
- 2- so
- 3- don't
- 4- think

- a) 3-1-2-4
- b) 1-3-4-2
- c) 3-4-2-1
- d) 1-2-4-3

ENGLISH

10) Where is İzmir?

.....

- a) It is in the west.
- b) It is in the east.
- c) It is in the south.
- d) It is in the north.

11) Sinop is in the.....

- a) east
- b) south
- c) north
- d) West

12) A: Give me the pencil, please

B:.....

A: Pencil, please.

B: Here you are.

A: Thank you.

B: You' re welcome.

- a) Sorry, not right now.
- b) Say that again please.
- c) Of course.
- d) I think so.

13) Is she French?

I so.

- a) think
- b) am
- c) maybe
- d) don't

14) Aşağıdaki eşleştirmelerden hangisi yanlıştır?

- a) Iraq- İraqi
- b) Italy- İtalyan
- c) Germany- Alman
- d) China- Çinli

15) What are you?

I am Turkish.

- a) country
- b) from
- c) nationality
- d) maybe

16) $20+30= ??$

- a) forty
- b) thirteen
- c) twenty
- d) fifty

ENGLISH

17)

I am from Germany.

- a) Where are you from?
- b) What nationality are you?
- c) Where is she from?
- d) What nationality is he?

18)

She is Pakistani.

- a) What nationality are you?
- b) What nationality is he?
- c) What nationality is she?
- d) What is she from?

19) / I/May/in/come/?/

- a) May I in come?
- b) May I come in?
- c) May come I in?
- d) May come in I?

20) Duygu: Give me the pencil sharpener, please.

Berre: 😊

- a) Here you are.
- b) Sorry, not right now.
- c) You're welcome.
- d) Say that again, please.

Test - 2

1) I get dressed the morning.

- a) in
- b) on
- c) at
- d) under

2) Tuesday / ? / Thursday / ? / Saturday/

- a) Monday / Friday /
- b) Wednesday / Friday /
- c) Friday / Wednesday /
- d) Sunday / Monday /

3) I wake up early in the

- a) afternoon
- b) evening
- c) night
- d) morning

4) 1) have

a) teeth

2) wash

b) dressed

3) get

c) breakfast

4) brush

d) face

a) 1a / 2b / 3c / 4d /

b) 1d / 2c / 3b / 4a /

c) 1c / 2d / 3b / 4a /

d) 1b / 2a / 3d / 4c /

ENGLISH

5) I have dinner seven the evening.

- a) at / at
- b) in / at
- c) in / in
- d) at / in

6) I my teeth and go to bed at night.

- a) go
- b) have
- c) do
- d) brush



7) I in the morning.

Boşluğa hangisi gelmelidir?

- a) wash my face
- b) watch TV
- c) have lunch
- d) have a shower

8) Aşağıdaki kelimelerden hangisi diğerlerinden farklıdır?

- a) brush
- b) comb
- c) night
- d) read

9) Aşağıdakilerden hangisi yanlıştır?

- a) at midnight
- b) in the afternoon
- c) in the evening
- d) at the morning

10) to school

shopping

home

Boşluğa hangi kelime gelmelidir?

- a) go
- b) have
- c) do
- d) get

11) A:

B: I read a book in the evening.

Boşluğa hangi soru gelmelidir?

- a) What do you do in the evening?
- b) What do you do at noon?
- c) What do you do in the morning?
- d) What do you do at night?

12) 1 lunch / 2 I / 3 at / 4 noon / 5 have /

Cümlelerin doğru sıralanışı hangisidir?

- a) 2 - 1 - 3 - 5 - 4
- b) 2 - 5 - 1 - 3 - 4
- c) 2 - 3 - 1 - 4 - 5
- d) 4 - 2 - 1 - 3 - 5

ENGLISH

13) I wake up 9 o'clock Monday.

Yukarıdaki boş bırakılan yerlere hangisi gelmelidir?

- a) on / at c) at / on
b) at / in d) in / on

14) G...T DR...SS..D

Boşluklara hangi harf gelmelidir?

- a) E c) A
b) U d) O

15) do you go to school in the morning?

Sorudaki boşluğa hangisi gelmelidir?

- a) Are c) How many
b) Is d) What time

16) What time is it?

15:00

Sorunun cevabı hangisidir?

- a) It is two o'clock.
b) It is one o'clock.
c) It is three a.m.
d) It is three p.m.

17) What do you do in the morning?

Sorusunun cevabı hangisi olamaz?

- a) I go to bed.
b) I have breakfast.
c) I go to school.
d) I get dressed.

18) brush / I / teeth / my /

Cümlenin doğru sıralanışı hangisidir?

- a) I teeth my brush.
b) I brush teeth my.
c) I brush my teeth.
d) I my brush teeth.

19) breakfast

..... dinner

..... lunch

..... a shower

Boşluklara hangi kelime gelmelidir?

- a) go c) do
b) have d) get

ENGLISH

TRUE or FALSE.

I wake up at eight o'clock and I have breakfast. I brush my teeth in the morning. I go to school at nine a.m. I have lunch at twelve o'clock. I do my homework in the afternoon and I play in the garden. I meet my friends at four o'clock. I have dinner with my family at six p.m. I read a book at night. I go to bed at nine thirty.

- 1) I wake up at seven o'clock.()
- 2) I have breakfast. ()
- 3) I have lunch at one o'clock. ()
- 4) I brush my teeth in the afternoon.()
- 5) I do my homework in the afternoon. ()
- 6) I watch TV in the evening. ()
- 7) I meet my friends at three o'clock.
- 8) I have dinner with my family at six p.m. ()
- 9) I read a book in the evening.
- 10) I go to bed at ten o'clock.

COMPLETE.

u / a / e / o /

- 1) M-nd-y. 2) T- -sd-y.
- 3) W-dn-sd-y. 4) Th-rsd-y.
- 5) Frid-y. 6) S-t-rd-y.
- 7) S-nd-y.

2.HAFTA

Test - 3

1. Verilen kelimelerden oluşturulan doğru seçeneği işaretleyiniz.

board / may / ? / clean / the / I /

- A) May I clean board the ?
- B) I may clean the board ?
- C) May clean I the board ?
- D) May I clean the board ?

2. Soru işareti yerine gelmesi gereken sayı hangisidir?


10-20-30-40-?

- A) Fifty B) Forty-five C) Fifteen
- D) Five

3. Yes, you may .

May I in ?

- A) write
- B) close
- C) turn
- D) come



4. Verilen cevabı tamamlayan uygun ifade hangisidir?

A: May I go out ?

B: Sorry,.....

- A) Sure. B) you may.
- C) not right now. D) Of course

5. Hangisinin anlamı yanlıştır?

- A) Of course /Sure: Tabi ki
- B) Say that again: Tekrar söyle
- C) Excuse me: Sınav var.
- D) Here you are: İşte burada,buyur

ENGLISH

6. Toplama işleminin sonucu kaçtır ?

$15 + 30 = ?$

- A) forty-five B) twenty-two C) fifteen
D) thirty

7. Hangisi diğerlerinden farklıdır?

- A) Turkish B) German
C) American D) France

8. Aşağıda verilen ülke-uyruk eşleştirmelerinden hangisi yanlıştır?


- A) France-French B) Iraq-Italian
C) Pakistan-Pakistani D) Britain-British

9.your book.



- A) open
B) close
C) clean
D) take

10.



- A) Excuse me.
B) Here you are.
C) Stand up.
D) Well done.

11. Look at the girl with green kimono.
Is she Japanese?

- A) I think so.
B) She is Italian.
C) She is Turkish.
D) Sorry, not right now.



12. Ali'ye hangi komut verilmiştir?

- A) Come in
B) Turn on the lights.
C) Clean the board.
D) Turn on the TV.



13. Soruya verilecek uygun cevap hangisidir ?

A: Where are you from?
B: I'm from....

- A) Turkey B) France
B) Egtpt D) Spain



14. What is this ?

It is an _____ .

- A) eraser
B) pencil
C) book
D) pencil sharpener



15. Where is Samsun?

- A) It is in the west.
B) It is in the east.
C) It is in the north.
D) It is in the south.

ENGLISH

16. Where is Antalya?

- A) It is in the west.
- B) It is in the east.
- C) It is in the north.
- D) It is in the south.

17. Asya: Is he Russian?

Ömer:.....He is Japanese.

- A) Yes, I am. B) No, he isn't.
- C) Yes, he is. D) No, she isn't.

18. Teacher : Give me the book,please.

Girl :

Teacher : The book, please.

Girl : OK.

- A) Thank you very much.
- B) Here you are.
- C) Say that again, please.
- D) Sorry, not right now.

19. I can play the piano,.....I can't play the guitar. Boş bırakılan yere hangisi gelmelidir?

- A) So B) And C) But
- D) Also

20. Aşağıdaki eşleştirmelerden hangisi yanlıştır?

- A) 14=fourteen B) 29=twenty-nine
- C) 43=forty-three D) 36=thirty-one

21. Hangi ülkenin bayrağı olabilir?

white	A)China	B)France
blue	B)Russia	D)Italian
red		

22. Is he German ?

- A) He is Mexican
- B) I don't think so.
- C) She is Indian
- D) I think so.



23. My hero is very strong.

He cana horse.

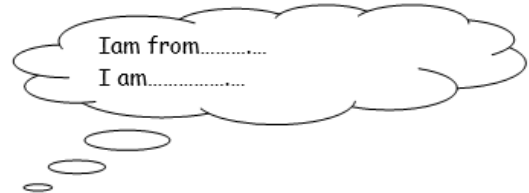
He can.....a car.

He cana tree.

Yukarıdaki cümleler seçeneklerdeki kelimelerle tamamlandığında hangi seçenek açıkta kalır?

- A) climb B) ride C) drive D) skip

24.



Konuşma balonunu hangisiyle tamamlarız?

- A) French-France B) China-Chinese
- C) Iraqi-Iraq D) Spanish-Spain

ENGLISH

25.

I. stand
II. sit
III. come
IV. go

a. down
b. in
c. up
d. out

Kelime gruplarının doğru eşleştirilmiş hali aşağıdakilerden hangisidir?

- A) I-c/II-a/III-b/IV-d
B) I-d/II-a/III-b/IV-c
C) I-a/II-c/III-b/IV-d
D) I-c/II-d/III-b/IV-a

26) A:.....?

B: Yes, I do.

Boş bırakılan yere hangisi gelmelidir?

- a) Do you like swimming?
b) Can you play chess?
c) I dislike flying a kite.
d) I can't ride a horse.

27) I like to music.

Boş bırakılan yere hangisi gelmelidir?

- a) sliding c) flying
b) listening d) singing

28) playing

Boş bırakılan yere hangisi gelebilir?

- a) rope
b) basketball
c) bike
d) pictures.

29) Aşağıdakilerden hangisi diğerlerinden farklıdır?

- a) dancing b) flying
c) cartoons d) skating

30) riding a

Boş bırakılan yere hangi kelime gelebilir?

- a) tennis b) puzzle
c) book d) scooter

31) She can run fast she can't play volleyball.

Boşluğa hangisi gelmelidir?

- a) this b) whose
c) and d) but

32) I like playing.....

Boşluğu tamamlayan ifade hangisidir?

- a) cartoons b) kite
c) chess d) bike

33) I like comics.

Boşluğu tamamlayan ifade hangisidir?

- a) riding b) watching
c) playing d) reading

ENGLISH

34) I like playing chess computer games. Boşluğa gelmesi gereken ifade hangisidir?

- a) and b) but
c) dislike d) on

35) A: Do you like playing football?

B: Slowly,

A: Do you like playing football?

Boşluğa gelmesi gereken seçenek hangisidir?

- a) pardon b) thank you
c) playing d) please

36) I can climb a but I can't ride aBoş bırakılan yerlere uygun düşen seçeneği işaretleyiniz?

- a) car / train
b) camera / car
c) book / horse
d) tree / bike

37) A: What do you do at night?

B:

Hangi ifade konuşmayı tamamlayamaz?

- a) I watch TV.
b) I have lunch.
c) I read a book.
d) I brush my teeth.

3.HAFTA

Test - 4

1. Aşağıda verilen aktivite isimlerinden hangisinin resmi verilmemiştir?



- A) Reading a book B) Swinging
C) Riding a bike D) Flying a kite

2. Paul: Can you ride a bike?

John :

- A) No, I'm not.
B) Not right now.
C) No, I don't.
D) No, I can't.

3. Yes, you may .

May I in ?

- A) write
B) close
C) turn
D) come



4.



I like.....

- A) Dancing B) Swimming
C) Reading D) Flying

ENGLISH

5. chess with marbles



the guitar?

- A) running B) cartoons
C) the piano D) swimming

6. I can play basketball, I can't play chess.

- A) and B) but C) because D) not

7. Verilen kelimelerden oluşturulan doğru seçeneği işaretleyiniz.

/window / may / ? / open / the / I /

- A) May I open window the ?
B) I may open the window ?
C) May open I the window ?
D) May I open the window ?

8. Toplama işleminin sonucu kaçtır ?

seventeen + twenty-one = ?

- A) 22 B) 32 C) 38 D) 48

9. Aşağıda verilen ülke-uyruk eşleştirmelerinden hangisi yanlıştır?

- A) England-American
B) France-French
C) Pakistan-Pakistani
D) Britain-British

10. " fifty-three" sayısı hangisidir?

- A) 23 B) 33 C) 43 D) 53

11. Soru işareti olan yerlere hangi günler gelmelidir?

Monday	Tuesday	?	Thursday	?
--------	---------	---	----------	---

A) Wednesday/Friday

B) Saturday/Friday

C) Friday/Wednesday

D) Sunday/Wednesday

12. This is.....car. I can drive it very well.

This is.....piano. She can play it.

Boşlukları hangisiyle tamamlarız?

- A) your/my
B) his/her
C) my/her
D) his/your

13. Aşağıdaki resme uygun seçeneği



bulunuz.

- A- swim
B- climb
C- fly
D- run

ENGLISH

14. can speak English.



A) It B) They C) She D) He

15. Aşağıdaki resme uygun seçeneği bulunuz

- A- jump
- B- dance
- C- draw
- D- run



16.



Tuba: Do you like?
Ahmet:

- A) Playing table tennis / Yes, I do.
- B) Playing football / No, I don't.
- C) Playing football / Yes I can.
- D) Playing table tennis / Yes, I can.

17. I like playing the piano,....I dislike(don't like) playing the guitar.

Boş bırakılan yere hangisi gelmelidir?

A) So B) And C) But D) Also

18. I like _____ a book.

- A) read B) to read
- C) reads D) reading

19. _____ you like watching cartoons?

Yes, I _____

- A) Do/do B) Can/can't
- C) Can/ can D) Do/don't

20. My birthday party is _____ 18:00 o'clock _____ Sunday.

- A) in/in B) at/on
- C) on/at D) at/at

21. "Ben ata binebilirim." cümlesinin İngilizce karşılığı hangisidir?

- A) I can sing.
- B) I can ride a horse
- C) I can play the piano.
- D) I can't swim.

22. Where is Samsun?

- A) It is in the west.
- B) It is in the east.
- C) It is in the north.
- D) It is in the south.