

2. SINIF



5. Hafta Fasikül
2020-2021 Eğitim-Öğretim Yılı

EVDE EĞİTİM E-FASİKÜL' DE



YERKÖY ARGE

Yerköy İlçe Milli Eğitim Müdürlüğünün
uzaktan eğitim sürecinde öğrencilerimiz
için hazırladığı destek hizmetidir.

<http://yerkoy.meb.gov.tr>





Yerköy İlçe Millî Eğitim Müdürlüğü

Mehmet DURMAZ
İlçe Millî Eğitim Müdürü

Meliha ÖZDEN
Necmettin SAGLAM
Şube Müdürleri

M.Suat ATİLA
Koordinatör ve Grafik Tasarım

Hazırlayanlar

Hanife KARACA
Özgül DOĞAN
Akın KILINÇ
Cemal ŞEN
Fatih DURAK
Serkan SAVAŞ

Mehmet Akif Ersoy Ortaokulu
Sekili Şht. Osman Pekşen İlkokulu
Şht. İbrahim Yıldız İlkokulu
Şht. Muhammed Ali Ocak İlkokulu
TOKİ Şht. Ali Salmanlı İlkokulu
Şht. Muhammed Ali Ocak İlkokulu



TÜRKÇE



TILKI İLE LEYLEK

Bir gün bir tilki, yeni arkadaş olduğu leyleği yemeğe davet etmiş. Bu daveti seve seve kabul eden leylek, tilkinin evine gitmiş. Tilkinin buyur ettiği sofrada basit bir çorba varmış. Üstelik tilki, düz bir tabakta ikram etmiş o yağsız tuzsuz çorbayı. Uzun gagalı leyleğimiz nasıl içsin bunu? Tabii ne varsa, hepsi tilkinin midesine inmiş.

Leylek buna çok içermiş ama, belli etmemiş. Tilkinin davetine teşekkür ederek ayrılmış oradan. Ama kendi kendine; "Bunun acısını bir gün çıkarırım!" diyerek ahdetmiş.

Aradan bir zaman geçtikten sonra bu kez, leylek tilkiyi davet etmiş. Tilki; "Hay hay! Memnuniyetle" diyerek leyleğin evine gitmiş. Üstelik leyleğe yaptığı oyunu hiç mi hiç umursamadan... Ama oyun oynama sırası leylekteymiş.

Leylek çok güzel yemekler hazırlamış. Etlerin kokusu tilkiyi mest ediyormuş. Bir an önce sofraya oturup bu nefis yemeklerden yemek için acele ediyormuş. Sonunda leyleğin buyur etmesiyle oturmuşlar sofraya. Ama tilki gördükleri karşısında, büyük bir hayal kırıklığına uğramış. Çünkü yemekler, ağızları dar kavanozlardaymış. Uzun gagasıyla leylek, yemekleri bir güzel yemiş. Tilki ise kafasını kavanozlara sokamadığı için leyleği ağzı sulanarak seyretmiş.

Bunu onur meselesi yapan tilki sesini çıkarmamış ve başı önünde, sessizce evinin yolunu tutmuş.

TÜRKÇE

A. Aşağıdaki soruları metne göre cevaplayınız.

1) Tilki, leyleğe ne ikram etmiş?

.....

2) Leylek, tilkinin hazırladığı yemekten neden yiyememiş?

.....

3) Leylek, tilkinin evinden ayrılırken kendi kendine ne demiş?

.....

4) Tilki, leyleğin hazırladığı yemeklerden neden yiyememiş?

.....

5) Tilki, olup biteni nasıl seyretmiş?

.....

B. Aşağıda yer alan bilgileri ve örnekleri inceleyiniz.

NOKTANIN (.) KULLANILDIĞI YERLER



Cümlelerin sonuna konur:

Bugün hava çok güzel.

Ben güzel resim yaptım.

Kısaltmaların sonuna konur:

Dr. (Doktor)

Mah. (Mahalle)

Sıra gösteren rakam ve harflerden sonra (-inci ekinin yerine) konur:

2. sınıf

50. sayfa

VİRGÜLÜN (,) KULLANILDIĞI YERLER

Eş görevli kelimeler arasına konur:

Elma, armut, üzüm ve muz aldım.

Annem, babam ve kardeşim gitti.

Hitap sözlerinden sonra:

Sayın Öğretmenim,

Canım Anneciğim,





SORU İŞARETİNİN (?) KULLANILDIĞI YERLER

Soru anlamı taşıyan söz ve cümlelerden sonra konur:
İkinci sınıfta mı okuyorsun?
Kimi arıyorsun?

ÜNLEM İŞARETİNİN (!) KULLANILDIĞI YERLER

Şaşama, acıma, korkma, heyecan, sevinç gibi duygu ve düşünceleri bildiren söz ve cümlelerin sonuna konur:

Aman, dikkat et!
Hey! Beni dinleyin.
Eyvah, kafesin kapısı açık!

Yaşasın!
Aferin sana!



C. Aşağıdaki test sorularını cevaplayınız.

1. Özel isimlere gelen ekler kesme işareti ile ayrılır.

Aşağıdakilerden hangisinde hata yapılmıştır?

- A. Ahmet'in
- B. Çeti'nin
- C. Elif'in

2. Aşağıdaki cümlelerin hangisinde özel isim yanlış yazılmıştır?

- A. Bugün Eren'i okulda görmedim.
- B. Orhan Ankara'da oturuyor.
- C. Annesi Pelini uyardı.

3. Aşağıdaki cümlelerin hangisinde zıt anlamlı kelimeler bir arada kullanılmıştır?

- A. Bahar geldi çiçekler açtı.
- B. Mert soruların bazılarını doğru, bazılarını yanlış yaptı.
- C. Çok uzak diyarlarda bir prenses yaşarmış.

4.



Kelimeler arasındaki anlam ilişkisi hangi seçenekte vardır?

- A. gece - gündüz
- B. siyah - beyaz
- C. öğretmen - muallim

5. Aşağıdaki kelimelerden hangisi sözlükte diğerlerinden sonra yer alır?

- A. turuncu
- B. siyah
- C. mavi

6. Aşağıdaki kelimelerden hangisi hecelerine yanlış ayrılmıştır?

- A. telefon te-le-fo-n
- B. çaydanlık çay-dan-lık
- C. terazi ter-a-zi

TÜRKÇE

7. Mehmet başarılı bir öğrencidir. Cümlesinde renkli yazılmış kelimenin yerine hangisi getirilirse cümlenin anlamı değişmez?
A. talebe B. muallim
C. mektep

8. Okula ne zaman gideceğiz ()
Kütüphanede ders çalışıyorum ()
Kitabımı gördün mü ()
Cümlelerin sonuna sırasıyla hangi noktalama işaretleri gelmelidir?
A. (?) (.) (.)
B. (?) (.) (?)
C. (.) (.) (?)

9. Yaşasın, tatile gidiyoruz ()
Cümlesinin sonuna hangi noktalama işareti gelmelidir?
A. Nokta (.)
B. Ünlem (!)
C. Soru İşareti (?)

10. Aşağıdakilerden hangisi cümle sonunda kullanılmaz?
A. Ünlem (!)
B. Nokta (.)
C. Virgül (,)

11. Utku marketten kalem aldı?
Cümlesinin sonundaki noktalama işaretine göre noktalı yere hangisi gelmelidir?
A. kaç B. üç C. renkli

12. Manavdan elma () nar ve mandalina aldı.
Yukarıdaki cümlede yay ayrıç ile belirtilen yere hangi noktalama işareti gelmelidir?
A. Nokta B. Virgül C. Kısa çizgi

13. Aşağıdaki noktalama işaretlerinden hangisi cümle sonuna gelir?
A. Virgül B. Konuşma çizgisi
C. Soru işareti

14. "Tamamlanmış cümlelerin sonuna nokta konur."
Aşağıdakilerden hangisinin sonuna nokta konulmalıdır?
A. Hakan bugün okula
B. Teyzemle beraber çarşıya gideceğim
C. Babası Ebru'yu yanına

CEVAP ANAHTARI

1.B	8.B
2.C	9.B
3.B	10.C
4.C	11.A
5.A	12.B
6.C	13.C
7.A	14.B

MATEMATİK

Sıvı ölçüleri problemleri çözelim

Aşağıdaki ilk dört soruyu tabloya bakarak yapınız.



Su kapları	Aldıkları su miktarı
Tencere	42 bardak su
Kova	83 bardak su
Demlik	21 bardak su
Güğüüm	96 bardak su
Şişe	10 bardak su



Soru 1: Güğüüm, demlikten kaç bardak fazla su alır?

Çözüm:

Soru 2: Bir kova, bir tencereden kaç bardak fazla su alır? **Çözüm:**

Soru 3: Bir demlik, bir tencere ve bir şişe kaç

bardak su alır? **Çözüm:**

Soru 4: En fazla su alan kap ile en az su alan kap arasında kaç bardak su

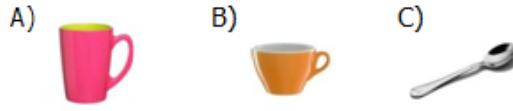
farkı vardır? **Çözüm:**

MATEMATİK

1 Aşağıdaki görsellerden hangisi sıvılara örnek olabilir?



2 Aşağıdakilerden hangisi daha az sıvı alır?



bal, silgi, su, zeytinyağı, tebeşir, kolonya

3 Yukarıda verilenlerden kaç tanesi sıvıdır?

A) 4 B) 3 C) 2

4 Aşağıdaki görsellerden hangisi en fazla sıvı alır?



5 Her gün 4 bardak su içen Ahmet bir haftada kaç bardak su içer?



6 Bir çaydanlıktan 26 bardak çay vardır. Çaydanlıktan 18 bardak çay içildi. Geriye kaç bardak çay kaldı?



7 Ecrin, çiçeklerine her gün 3 bardak su ile sulamaktadır. Ecrin, 2 günün sonunda çiçekleri kaç bardak su ile sulamıştır?



8 Yusuf ile Berke bahçedeki havuzu su taşımışlar. Yusuf 14 teneke, Berke ise Yusuf'un taşıdığından 5 teneke daha az su taşımıştır. Buna göre Yusuf ile Berke havuza kaç teneke su taşımıştır?



9 Annemin yaptığı limonatan ablam 2 bardak, kardeşim 1 bardak, babam 3 bardak limonata içmiştir. Sürahideki limonata bitmiştir. Buna göre sürahide kaç bardak limonata vardı?



10 Yandaki çaydanlığın yarısı 10 bardak su almaktadır. Buna göre çaydanlığın tamamı kaç bardak su almaktadır?



MATEMATİK

2.SINIF MATEMATİK TOPLAMA ve ÇIKARMA PROBLEMLERİ TESTİ

Aşağıdaki problemleri çözerek doğru seçeneği işaretleyin.

1 -Pazarcılık yapan Fatma teyze, evinin önünden topladığı 46 kg yeşil biber ile 34 kg kırmızı biberi pazara götürerek satıyor. Biberlerin 13 kg arttığına göre, Fatma teyze pazarda kaç kg biber satmıştır?



a) 25

b) 67

c) 93

2 - Seda 8 yaşındadır. Babasının yaşı, Seda'nın yaşından 23 fazladır. Annesi ise babasından 4 yaş küçüktür. Buna göre, bu ailenin yaşları toplamı kaçtır?



a) 66

b) 58

c) 39

3 - Sefaların üç inekleri vardır. Bir inek günde 17 litre süt vermektedir. Bu sütün 45 litresini sattıklarına göre, kaç litre süt artmaktadır?



a) 6

b) 7

c) 8

4 - Heybeli İlkokuluna kış için 96 torba kömür gelmiştir. Kömürün kış aylarında 67 torbası, ilkbahar aylarında ise 17 torbası yanmıştır. Okulun kaç torba kömürü kalmıştır?



a) 10

b) 11

c) 12

5 - Esmâ'nın doğum günü partisine okuldan 23 kız, 17 erkek arkadaşı katılmıştır. Bir süre sonra doğum günü partisinden 29 kişi ayrılmıştır. Partide kaç kişi kalmıştır?



a) 13

b) 11

c) 9

MATEMATİK

6 - Bir basketbol maçını 24 kadın taraftar, kadın taraftarlardan 37 fazla erkek taraftar izlemeye gelmiştir. Buna göre, maçı kaç taraftar izlemiştir?



a) 58

c) 61

b) 85

7 - Bir terzielin elinde 90 metre kumaşı vardır. Terzi bu kumaşın 24 metresi ile ceket, 46 metresi ile elbise dikiyor. Terzinin kaç metre kumaşı artmıştır?



a) 20

b) 25

c) 30

8 - Büyükbelen Ortaokulunda 44 kız, 51 erkek öğrenci vardır. Sene sonunda yapılan pikniğe ailelerinden izin alan 78 öğrenci katılmıştır. Pikniğe katılmayan kaç öğrenci vardır?



a) 16

b) 17

c) 18

9 - Üç arkadaşın Sami 16 yaşındadır. Yalçın, Sami'den 3 yaş küçük, Mustafa ise Yalçın'dan 6 yaş büyüktür. Üç arkadaşın yaşları toplamı kaçtır?



Sami Yalçın Mustafa

a) 48

b) 47

c) 34

10 - Alperen, kırtasiyeden 3 liraya silgi, 4 liraya kalemtıraş ve 4 liraya kalem alıyor. Alperen yanında bozuk parası olmadığı için kırtasiyeciye 50 lira verdiği göre, kaç lira para üstü alır?



a) 39

b) 34

c) 29

HAYAT BİLGİSİ

1. Babamızın kız kardeşine ne deriz?
 - a) Dayı
 - b) Teyze
 - c) Hala
2. "Annemizin erkek kardeşine , babamızın erkek kardeşine deriz."
 - a) teyze-hala
 - b) dayı-amca
 - c) enişte-kuzen

Halamın oğlu Serdar ile top oynadık.

3. **Kerem :**
Kerem'in ifadesine göre aşağıdakilerden hangisi yanlıştır?
 - a) Kerem ve Serdar akrabadır.
 - b) Serdar, Kerem'in kuzendir.
 - c) Kerem ile Serdar'ın anneleri kardeştir.
4. Anne, baba ve çocuklardan oluşan topluluğa denir.
 - a) Çekirdek aile
 - b) Geniş (büyük) aile
 - c) Lüks aile
5. Asya'nın Kadir dayısı "Ayda bir gün tüm yakın akrabalarla bir araya gelip lokantada akşam yemeği yiyelim." Fikrini sunmuştur.
Kadir Dayı, bu fikri hangi amaçla sunmuştur?
 - a) Aile bağlarını güçlendirmek için.
 - b) Canı öyle istediği için.
 - c) Lokantada yemek yemeği sevdiği için.

HAYAT BİLGİSİ

6. Aşağıdakilerden hangisi aile bağlarını güçlendiren etkenlerden değildir?
- Sevgi
 - Saygı
 - Tartışmalar

7. "Ailemizle birlikte, içinde yaşadığımız bir yuvamız var."

Yukarıda verilen ifadeye göre, ailenin yaşadığı yuvaya ne denir?

- Ev
- Okul
- Hastan

8.

Songül:



Songül adresini yazarken hangi bilgiyi unutmuştur?

Arkadaşlar size evimin adresini yazıyorum.

Fatih Sultan Mehmet Mahallesi

Yavuz Caddesi. Gül Sokak. No:52

- Şehir ismi
- Muhtarın ismi
- Köy ismi

9.

- Ülkemizin adı
- Anne ve babamızın telefon numarası
- Ev adresimiz

Kayıbolan bir kişi, yukarıda verilen bilgilerden hangilerini polise vermelidir?

- Yalnız 1
- 2 ve 3
- 1 ve 3

10. " Bizim evimizde iş bölümü vardır."

Bunu söyleyen birisinin ailesi için ne denilebilir?

- Annem yemeği yapar, babam sofrayı hazırlar, ben de sofrayı toplarım.
- Evde bütün işleri annem yapar.
- Ben oyun oynarım. Babam televizyon izler. Annem sofrayı hazırlar.

HAYAT BİLGİSİ

11. Ailede kararlar nasıl alınmalıdır?
- Bütün kararları anne almalıdır.
 - Bütün kararları baba almalıdır.
 - Bütün kararları ortak alınmalıdır.
12. Aile içinde iş bölümüne katılmak bizlere ne kazandırır?
- Yardımsızlığı
 - Kıskançlığı
 - Sorumsuzluğu
13. Aşağıdakilerden hangisini evde tek başımıza yapabiliriz?
- Halıları yıkamak
 - Yatağımızı toplamak
 - Yemek pişirmek
14. Farklı fikirlere hoşgörü öncelikle nerede başlar?
- Okulda
 - Evde
 - Mahallede
15. Özge: Dişlerimi fırçalarken musluğu kapatırım.
Özge için aşağıdakilerden hangisi söylenemez?
- Tasarruf yapar.
 - Aile bütçesini düşünür.
 - Cimridir.
16. "Elektronik aletleri işi bitince kapatma düğmesinden kapatmamakgiderlerinin artmasına neden olur."
- Elektrik
 - Doğalgaz
 - Su
- 17.
- ❖ Kıyafet
 - ❖ Kışlık yakacak odun, kömür
 - ❖ Yiyecek, içecek
 - ❖ Ev
- Yukarıda verilen ihtiyaçlarımız ne tür ihtiyaçlardır?
- Lüks ihtiyaçlar
 - Temel ihtiyaçlar
 - Sosyal ihtiyaçlar

HAYAT BİLGİSİ

18.

Harcamalarımızı yaparken öncelik vermeliyiz.

Yukarıdaki cümlede verilen boşluğu aşağıdaki hangi kelime ile tamamlayabiliriz?

- a) İsteklerimize
- b) İhtiyaçlarımıza
- c) Hayallerimize

19.

Bayat ekmeklerden köfte yapmak

Bayat ekmeklerden galeta unu yapmak

Bayat ekmekleri ıslatıp sokak hayvanlarına vermek.

Yukarıda verilenleri yapan bir aile için aşağıdakilerden hangisi söylenebilir?

- a) Su israfını önler.
- b) Elektrik israfını önler
- c) Ekmek israfını önler.

20. " Arda'nın babası hafta sonunda bozuk muslukları tamir etti. Pencereilerin eskiyen bantlarını, soğuk hava girmemesi için değiştirdi."

Arda'nın babası bu işleri yaparak nelerden tasarruf sağlamıştır?

- a) Su ve ısı tasarrufu
- b) Yiyecek, giyecek tasarrufu
- c) Su ve yiyecek tasarrufu

CEVAP ANAHTARI:

1C-2B-3C-4A-5A-6C-7A-8A-9B-10A-11C-12A-13B-14B-15C-16A-17B-18B-19C-20A

1.Etkinlik

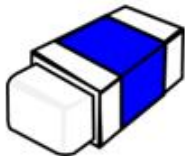
Match the words with the pictures



.....

.....

.....



.....

.....

.....



.....

.....



.....

.....



.....



.....



.....



.....

.board

.pencil

.eraser

.teacher

.bag

.crayons

.pencilcase

.scissors

.ruler

.sharpener

.desk

.student

.chair

.book



















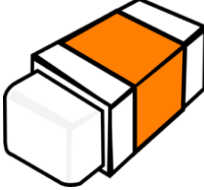

İNGİLİZCE

2.ETKİNLİK

Circle the correct number

<p>Three</p> <p>4 3</p> <p> 9</p>	<p>Nine</p> <p>4 3</p> <p> 9</p>	<p>5</p> <p>one five six</p>	<p>10</p> <p>one ten eight</p>
<p>Ten</p> <p>10 3</p> <p> 9</p>	<p>Five</p> <p>2 5</p> <p> 7</p>	<p>1</p> <p>one five eight</p>	<p>2</p> <p>one five two</p>
<p>Seven</p> <p>10 9</p> <p> 8</p>	<p>Eight</p> <p>1 5</p> <p> 8</p>	<p>6</p> <p>one five six</p>	<p>7</p> <p>seven five ten</p>
<p>Six</p> <p>4 8</p> <p> 6</p>	<p>Two</p> <p>2 8</p> <p> 7</p>	<p>9</p> <p>one five nine</p>	<p>4</p> <p>seven four nine</p>
<p>One</p> <p>1 3</p> <p> 10</p>	<p>Four</p> <p>4 3</p> <p> 9</p>	<p>3</p> <p>three five six</p>	<p>8</p> <p>one five eight</p>

3.ETKİNLİK Count and write

				
a pencil	three pencils			
				
				
				

Match the questions with their answers

.....1-How old are you?

.....2-What is your name?

.....3-How are you?

.....4-How many rulers are there?

A-I am great ,thanks

B-I am eight years old.

C-Ten.

D-I am Ali.