

2. SINIF



4. Hafta Fasikül
2020-2021 Eğitim-Öğretim Yılı

EVDE EĞİTİM E-FASİKÜL' DE



YERKÖY ARGE

Yerköy İlçe Milli Eğitim Müdürlüğünün
uzaktan eğitim sürecinde öğrencilerimiz
için hazırladığı destek hizmetidir.

<http://yerkoy.meb.gov.tr>





Yerköy İlçe Millî Eğitim Müdürlüğü

Mehmet DURMAZ
İlçe Millî Eğitim Müdürü

Meliha ÖZDEN
Necmettin SAGLAM
Şube Müdürleri

M.Suat ATİLA
Koordinatör ve Grafik Tasarım


Hazırlayanlar

Hanife KARACA
Özgül DOĞAN
Akın KILINÇ
Cemal ŞEN
Fatih DURAK
Serkan SAVAŞ

Mehmet Akif Ersoy Ortaokulu
Sekili Şht. Osman Pekşen İlkokulu
Şht. İbrahim Yıldız İlkokulu
Şht. Muhammed Ali Ocak İlkokulu
TOKİ Şht. Ali Salmanlı İlkokulu
Şht. Muhammed Ali Ocak İlkokulu



TÜRKÇE



İNATÇI KEÇİLER

Günün birinde, birbirinden inatçı iki keçi dar bir köprünün üzerinde karşılaşmışlar. Köprü ancak bir keçinin geçebileceği genişlikteymiş.

-Dur bakalım arkadaş. Önce ben geldim.

Çekil kenara da geçeyim.

Diğer keçi hemen atılmış.

-Hayır, önce ben geldim. Önce ben geçeceğim.

-Hayır! Ben geldim. Ben geçeceğim, diye kavgaya ederlerken tolaşmışlar.

Birbirlerini itmeye başlamışlar. Onlar böyle itişirlerken, zaten daracık olan köprü dayanamamış ve yıkılıvermiş.

Keçiler ne olduğunu anlayamadan kendilerini suda bulmuşlar. Çok korkmuşlar.

Yüzme bilmedikleri için de bağırip çağırılmışlar. Durumu gören arkadaşları hemen yardıma koşmuşlar. Zor da olsa iki inatçı keçi kurtarmışlar. İçlerinde en bilge olan keçi:

- İnadın sonunun nereye vardığını gördünüz. Az daha canınızdan oluyordunuz. Bundan sonra yerli yersiz inatçılık yapmayın.

A. Aşağıdaki soruları metne göre cevaplandıralım.

1. Keçiler nasıl bir köprünün üzerinde karşılaşmışlar?

2. Keçiler niçin kavgaya tutuşmuşlar?

TÜRKÇE

3. Suya düşen keçiler ne yapmışlar?

4. Bilge keçi ne demiş?

B. Aşağıdaki açıklamadan faydalanarak etkinlikleri cevaplayalım.



Bir duyguyu, bir düşüncüyü, bir işi tam olarak anlatan sözcük gruplarına **cümle** denir.

Aşağıdaki sözcük veya sözcük gruplarından cümle olanlara "✓" işareti, olmayanlara "x" işareti koyunuz.

Manavdan mandalina almış

İki tane defter

Sabah erkenden

En sevdiği oyuncasını kaybetmiş

Kapıyı açık

Kahvaltı hazır

Geliyorum

Bugün ödevlerimi

C. Aşağıdaki açıklamadan faydalanarak etkinlikleri cevaplayalım.



Kurallı cümlelerde eylem (iş, oluş, hareket, durum) bildiren sözcükler cümlenin sonunda yer alır.

Örnek:

Geliyor Hüseyin dayım yarın bize. → Kurallı değil

Hüseyin dayım geliyor yarın bize. → Kurallı değil

Hüseyin dayım yarın bize geliyor. → Kurallı cümle

TÜRKÇE

D. Aşağıdaki cümlelerden kurallı olanların başındaki gülen yüzleri boyayalım.



Eymen top oynuyor.



Geç geldi eve Ahmet.



Kapı açıldı aniden.



Bütün ödevlerini yaptı.



Kahvaltayı hazırladı erkenden.



Gece erkenden uyudu.

E. Aşağıdaki test sorularını cevaplayalım.

1. iyi ↔ kötü

Yukarıdaki kelimeler arasındaki anlam ilişkisi aşağıdaki kelimelerden hangileri arasında vardır?

- A. yıl-sene
- B. vakit-zaman
- C. doğru-yanlış

2. 1. Ahmet 2. yapmış
3. eksik 4. ödevini

Kelimelerle anlamlı bir cümle oluşturulduğunda sıralama nasıl olur?

- A. 4 - 3 - 2 - 1
- B. 1 - 4 - 3 - 2
- C. 3 - 4 - 1 - 2

3. Aşağıdaki cümlelerden hangisi kurallı cümle değildir?

- A. Resmimi boyadım maviye.
- B. Güzel bir resim çizdim.
- C. Odamdaki panoya astım.

4. Aşağıdaki sözcük gruplarından hangisi cümledir?

- A. Ahmet yarın
- B. Okuyorum
- C. Akşam geç

5. Yarın sabah erken.....

Yukarıdaki cümleyi hangi sözcükle tamamlamak uygun olmaz?

- A. geldim
- B. uyanacağım.
- C. çıkacağım

6. Korku, şaşkınlık, heyecan, sevinç gibi duyguları anlatan cümlelerin sonuna konur.

Yukarıdaki açıklamaya uygun kullanım aşağıdaki seçeneklerin hangisinde verilmiştir?

- A. Okula gelecek misin?
- B. Ödevimi yaptım.
- C. Eyvah, çocuk düştü!

Cevap Anahtarı: 1. C

2. B

3. A

4. B

5. A

6. C

MATEMATİK

Toplamı Tahmin Etme

Matematik

Bunları Bilelim.

- Toplama işleminin sonucunu tahmin etmek için toplananlar en yakın onluğa yuvarlanarak toplama işlemi yapılır.

Örnek :

İşlem	Tahmin	Fark
$\begin{array}{r} 22 \\ + 35 \\ \hline 57 \end{array}$	$\begin{array}{r} 20 \\ + 40 \\ \hline 60 \end{array}$	$\begin{array}{r} 60 \\ - 57 \\ \hline 03 \end{array}$

- Tahmini sonuç ile gerçek sonuç karşılaştırılır. Aradaki fark sonuca ne kadar yaklaşıldığını gösterir.

→ Aşağıdaki toplama işlemlerinin sonuçlarını tahmin edelim. İşlem ile tahmin sonuçlarını karşılaştıralım.

İşlem	Tahmin	Fark
$\begin{array}{r} 22 \\ + 35 \\ \hline \dots\dots \end{array}$	$\begin{array}{r} \dots \\ + \dots \\ \hline \dots\dots \end{array}$	$\begin{array}{r} \dots \\ - \dots \\ \hline \dots\dots \end{array}$

İşlem	Tahmin	Fark
$\begin{array}{r} 43 \\ + 24 \\ \hline \dots\dots \end{array}$	$\begin{array}{r} \dots \\ + \dots \\ \hline \dots\dots \end{array}$	$\begin{array}{r} \dots \\ - \dots \\ \hline \dots\dots \end{array}$

İşlem	Tahmin	Fark
$\begin{array}{r} 58 \\ + 25 \\ \hline \dots\dots \end{array}$	$\begin{array}{r} \dots \\ + \dots \\ \hline \dots\dots \end{array}$	$\begin{array}{r} \dots \\ - \dots \\ \hline \dots\dots \end{array}$

İşlem	Tahmin	Fark
$\begin{array}{r} 61 \\ + 22 \\ \hline \dots\dots \end{array}$	$\begin{array}{r} \dots \\ + \dots \\ \hline \dots\dots \end{array}$	$\begin{array}{r} \dots \\ - \dots \\ \hline \dots\dots \end{array}$

İşlem	Tahmin	Fark
$\begin{array}{r} 47 \\ + 12 \\ \hline \dots\dots \end{array}$	$\begin{array}{r} \dots \\ + \dots \\ \hline \dots\dots \end{array}$	$\begin{array}{r} \dots \\ - \dots \\ \hline \dots\dots \end{array}$

İşlem	Tahmin	Fark
$\begin{array}{r} 36 \\ + 33 \\ \hline \dots\dots \end{array}$	$\begin{array}{r} \dots \\ + \dots \\ \hline \dots\dots \end{array}$	$\begin{array}{r} \dots \\ - \dots \\ \hline \dots\dots \end{array}$

İşlem	Tahmin	Fark
$\begin{array}{r} 36 \\ + 14 \\ \hline \dots\dots \end{array}$	$\begin{array}{r} \dots \\ + \dots \\ \hline \dots\dots \end{array}$	$\begin{array}{r} \dots \\ - \dots \\ \hline \dots\dots \end{array}$

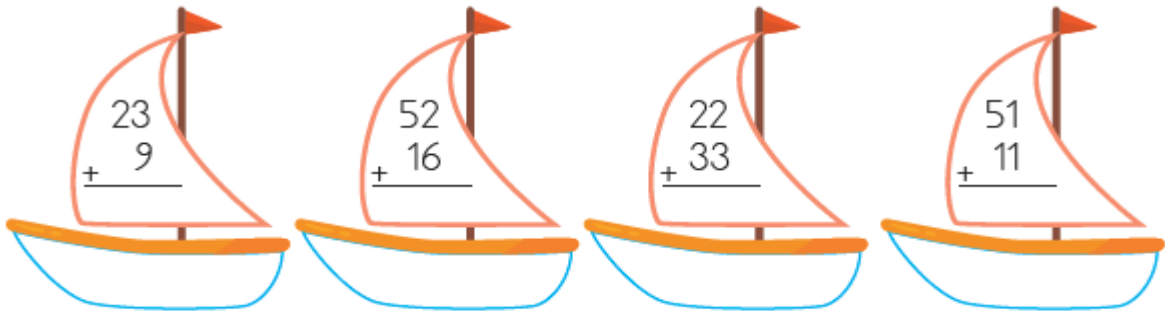
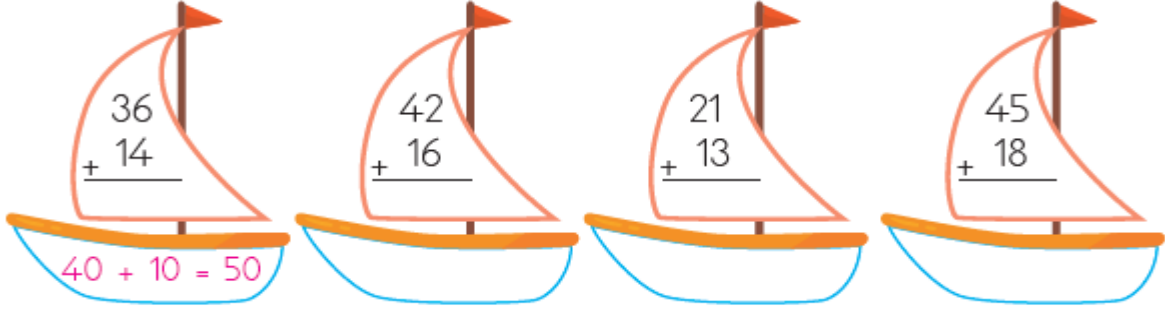
İşlem	Tahmin	Fark
$\begin{array}{r} 60 \\ + 19 \\ \hline \dots\dots \end{array}$	$\begin{array}{r} \dots \\ + \dots \\ \hline \dots\dots \end{array}$	$\begin{array}{r} \dots \\ - \dots \\ \hline \dots\dots \end{array}$

MATEMATİK

Toplamı Tahmin Etme

Matematik

→ Aşağıdaki toplama işlemlerini en yakın onluğa yuvarlayarak yapalım. Sonuçları aynı olan gemileri eşleştirelim.



→ Aşağıdaki toplama işlemlerinin sonuçlarını tahmin edelim. İşlem ile tahmin sonuçlarını karşılaştıralım.

38 + 16		
İşlem	Tahmin	Fark

47 + 12		
İşlem	Tahmin	Fark

36 + 26		
İşlem	Tahmin	Fark

56 + 22		
İşlem	Tahmin	Fark

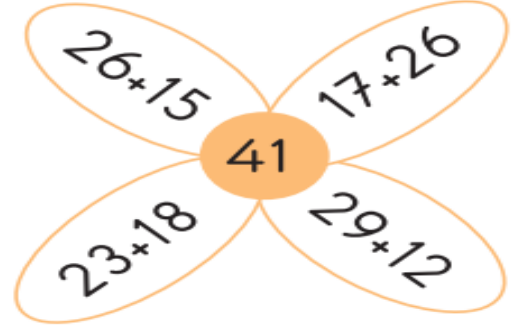
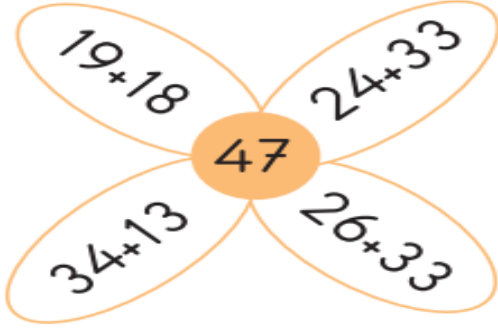
72 + 11		
İşlem	Tahmin	Fark

24 + 51		
İşlem	Tahmin	Fark


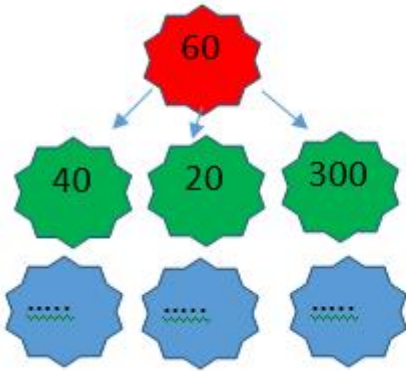
MATEMATİK

ZİHİNDEN TOPLAMA

1.Yapraklardaki işlemleri zihinden yapınız. Sonucu ortadaki sayı olan işlemlerin bulunduğu yaprakları kırmızıya boyayınız.



2.Aşağıdaki toplama işlemlerini zihinden yapıp sonuçlarını yazalım.



3.Aşağıdaki soruları örnekteki gibi zihinden yapınız.

14+34	10+ 30 =40	4+4= 8	48
36+12			
23+28			
45+17			

4

Merve, yaz tatilinde köyde dedesinin yanına gidiyor. Merve, her sabah erkenden kalkıp kümesten yumurta topluyor. Merve, dün 30 yumurta, bugün ise 60 yumurta topladı. Merve'nin iki günde toplam kaç yumurta topladığını zihinden bulalım:



5. Aşağıdaki toplama işlemlerini istediğiniz yöntemle zihinden yapalım.

28

52

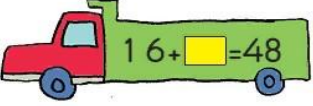
22

43

51

+14+ 17+ 58+37+ 39

MATEMATİK

1.  Yandaki kamyonun kasasında yapılan toplama işleminde **toplana**n kaçtır?


A) 32 B) 64 C) 22

2.  Yandaki toplama işleminde verilmeyen **toplana**n kaçtır?


A) 27 B) 33 C) 37

3.  Gülşen, aklında tuttuğu sayıya 18 ekleyince 63 sayısını buluyor. Gülşen'in aklında tuttuğu sayı kaçtır?

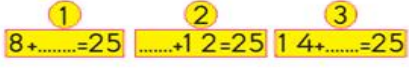
A) 55 B) 45 C) 35

4.  Yandaki toplama işleminde noktalı yere hangi sayı gelmelidir?

A) 54 B) 44 C) 46

5.  Yandaki toplama işleminde verilmeyen **toplana**n hangisidir?

A) 47 B) 33 C) 43

6.  Yukarıdaki toplama işlemlerinden hangisinin verilmeyen **toplana**nı 13'tür?


A) 1 B) 2 C) 3

7.  Yukarıdaki toplama işleminde "?" olan yere kaç top çizilirse eşitlik doğru olur?


A) 4 B) 8 C) 9

8.  Yukarıdaki toplama işleminde verilmeyen yıldız sayısı kaçtır?

A) 3 B) 4 C) 5

9.  Yukarıdaki toplama işleminde verilmeyen **toplana**n kaçtır?

A) 30 B) 40 C) 50

10.  Yukarıdaki toplama işleminde "A" sayısı kaçtır?

A) 39 B) 48 C) 49

HAYAT BİLGİSİ

TEMA SONU DEĞERLENDİRME ÇALIŞMALARI

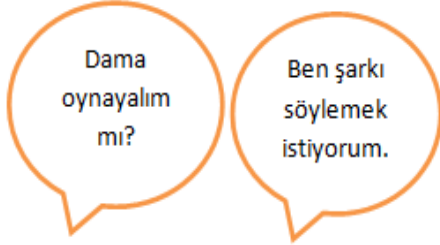
1) Aşağıdakilerden hangisi kişisel özelliğini tanıtan bir çocuğun söylediği bir cümle olamaz?

- A. Sokaktaki hayvanlara yardım etmeliyiz.
- B. Sarı saçlı, mavi gözlüyüm.
- C. Çok güzel resim yaparım.

2) "Hepimizin kişisel özellikleri"

- A. aynıdır
- B. değişmez
- C. farklıdır

3)



Ahmet:

Sami:

Yukarıdaki arkadaşların farklı oyun oynamak istemelerinin sebebi ne olabilir?

- A. Okulları farklıdır.
- B. Boyları farklıdır.
- C. İlgi ve yetenekleri farklıdır.

4) Aşağıdaki ifadelerden hangisi yanlıştır?

- A. Ödevlerimizi vaktinde yapmalıyız.
- B. Okul çantamızı hazırlarken ders programımıza dikkat etmeliyiz.
- C. Planlı çalışmak bizi çok fazla yorar.

5) " Sınıf kurallarını, fikirlerine göre belirledik." ifadesi aşağıdakilerden hangisi ile tamamlanmalıdır?

- A. çoğunluğun
- B. sınıf başkanının
- C. öğretmenimizin

HAYAT BİLGİSİ

6) Aşağıdaki davranışlardan hangisi doğrudur?

- A. Okul tuvaletlerindeki muslukları kapatmak.
- B. Çöpleri yere atmak.
- C. Güneşli bir günde ışıkları yakmak

7) Gökçen, Kağan'a mangala oynamayı öğretti.

Bu durumda Kağan, Gökçen'e hangi nezaket ifadesini kullanmalıdır?

- A. Teşekkür ederim.
- B. Özür dilerim.
- C. Afiyet olsun.

8)

- ❖ İşbirliğinin önemini kavrarız.
- ❖ Sorumluluk bilincimiz artar.
- ❖ Özgüvenimiz azalır.
- ❖ Cesaretimiz artar.

Yukarıdakilerden kaç tanesi grup çalışmalarının faydalarındandır?

- A)4 B)3 C)2

9) Aşağıdakilerden hangisi iyi bir dinleyicidir?

- A. Ada, öğretmeni ders anlatırken pencereden sokağa bakar.
- B. Çağan, arkadaşı konuşurken kitap okur.
- C. Ela, söyleyeceklerini konuşmacıdan izin alarak söyler.

10) Tuna okul çantasını aşağıdakilerden hangisine bakarak hazırlamadır?

- A. Haftalık ders programına göre,
- B. Sınıf nöbet çizelgesine göre,
- C. Hayat bilgisi kitabına göre,

11) Grup çalışmalarında sorumluluklarını yerine getirmeyen arkadaşımıza hangisini söylememiz doğru olur?

- A. Sorumluluklarını yerine getirmediğin için bu gruptan çık!
- B. Seni öğretmene söyleyeceğim
- C. Araştırma yapamıyorsan sana yardımcı olabilirim.

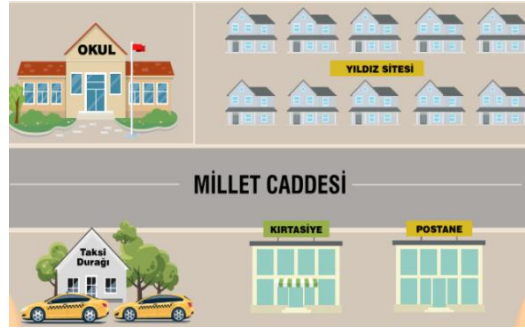
HAYAT BİLGİSİ

12) Niçin oyun oynarsınız?

- A. Hoş vakit geçirmek ve eğlenmek için.
- B. Rakibimize üstünlük sağlamak için.
- C. Arkadaşlarımızla alay etmek için.

13) Babasından haftalık harçlığını alan Sami, aşağıdakilerden hangisini yapmalıdır?

- A. Bütün harçlığını harcamalıdır.
- B. Paranın tamamını kantinde harcamalıdır.
- C. İhtiyacı kadarını harcadıktan sonra, fazlasını biriktirmelidir.



14) 14, 15 ve 16. soruları yukarıdaki görsele göre cevaplayınız.

Okulun sağında aşağıdakilerden hangisi vardır?

- A. Taksi durağı
- B. Yıldız sitesi
- C. Postane

15) Yıldız sitesinin karşısında aşağıdakilerden hangileri vardır?

- A. Taksi durağı ve okul
- B. Postane ve okul
- C. Kırtasiye ve Postane

16) Taksi durağı, hangisinin solundadır?

- A. Kırtasiye
- B. Okul
- C. Yıldız sitesi

HAYAT BİLGİSİ

17) Arkadaşlarımızla oyunumuz bittikten sonra aşağıdakilerden hangisini yapmalıyız?

- A. Kazananı tebrik etmeliyiz.
- B. Kazananla kavga etmeliyiz.
- C. Kaybedenlerle dalga geçmeliyiz.

- 18) I. Güzel resim yapmak
II. Mavi gözlü olmak
III. Müzik dinlemek
IV. Uzun boylu olmak

Yukarıdakilerden kaç tanesi fiziksel özellik değildir?

- A) 1 B) 2 C) 3

19) Aşağıdakilerden hangisini yaparsak kaynakları israf etmiş oluruz?

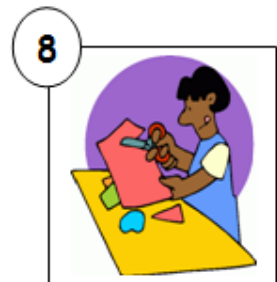
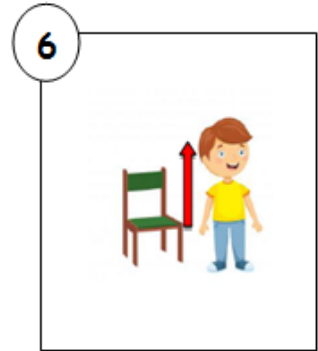


- A. Kağıt havludan top yapmak.
- B. İşimiz bitince musluğu kapatmak.
- C. Su ile oyun oynamamak.

CEVAP ANAHTARI:

1B-2C-3C-4C-5A-6A-7A-8B-9C-10A-11C-12A-13C-14B-15C-16A-17A-18B-19A

ACTIVITY 1

Match.



Be quiet

Open the book

Stand up

Raise your hand

Open the window

Sit down

Listen

Turn right

Close the door

Cut

ACTIVITY 2



1. Resimde gördüğümüz nesnenin İngilizcesi aşağıdakilerden hangisi?

- a. broccoli b. ambulance c. stadium



2. Resimde gördüğünüz nedir?

- a. zebra b. university
c. train

3. Resimde gördüğümüz nedir?

- a. yoghurt
b. lemon
c. negative



4. Sabah kalktığımızda ne deriz ?

- a. Good morning
b. Goodbye
c. Good night

5. Bir kişiyle karşılaşıncaya ne deriz ?

- a. Good bye b. Hello c. Thank you



What is your name?

6. Bu soruya aşağıdaki yanıtlardan hangisini verebiliriz?

- a. I'm fine, thank you.
b. My name is Mete.
c. Goodbye.

7. Resme göre öğretmeni öğrencisine nedemiş olabilir?

- a. Stand up! b. Turn right! c. Sit down !



8. Ali :?

Ayşe : I'm fine, thank you.

Ali'nin sorusu ne olmalıdır?

- a. Hello
b. What is your name
c. How are you

9. Bu işaretin anlamı nedir?

- a. Turn left!
b. Sit down!
c. Close the door!



10. Aşağıdakilerden hangisi "tanıştığımıza memnun oldum" cümlesinin İngilizcesidir?

- a) How are you?
b) Nice to meet you.
c) Hello



11. Aşağıdakilerden hangisi balonun İngilizcesidir?

- a) Balon b) Balun
c) Balloon



12. Aşağıdakilerden hangisi "İyi Geceler" kelimesinin İngilizcesidir?

- A) Good Night
B) Good Morning
C) Good evening



İNGİLİZCE

13. ECRİN:.....?

SEMİH: My name is Semih.

Aşağıdakilerden hangisi yukarıda boş bırakılan yere getirilmelidir?

- A) How are you?
- B) What is your name?
- C) Nice to meet you.

14)

- a) Close the door
- b) Turn right
- c) Open the door



15) Aşağıdakilerden hangisi İngilizce alfabesinin 26. harfidir?

- a) H
- b) Z
- c) P

16) Aşağıdakilerden hangisi "'Güle güle'" kelimesinin İngilizcesidir?

- a) Hello
- b) Goodbye
- c) Good afternoon



17)

- a) Sit down
- b) Stand Up
- c) Turn Left



18) Aşağıdakilerden hangisi resimdeki "pasta"nın İngilizcesidir?



- a) Pasta
- b) Cake
- c) Keyk

19) Aşağıdakilerden hangisi "S" harfinin

İngilizce okunuşudur?

- a) Se
- b) Si
- c) Es



20) Aşağıdakilerden hangisi "Özür dilerim" kelimesinin İngilizcesidir?

- a) I am Sorry
- b) Thanks
- c) Good bye



21) Aşağıdakilerden hangisi "Teşekkür ederim" kelimesinin İngilizcesidir?

- a) Good bye
- b) Nice to meet you
- c) Thank you



22) A - B - C - D - E - F - G - H - I - - K - L - M

İngilizce alfabeye göre yukarıdaki noktalı yere gelmesi gereken harf aşağıdakilerden hangisidir?

- a) J
- b) H
- c) N

23) Aşağıdaki cümlelerden hangisi "Nasılsın?" anlamına gelmektedir?

- a) Nice to meet you
- b) How are you?
- c) What is your name?



24) Yandaki işaretin İngilizce karşılığı nedir?

- a) Turn Left
- b) Turn right
- c) Sit down

