

3. SINIF




3. Hafta Fasikül
2020-2021 Eğitim-Öğretim Yılı

EVDE EĞİTİM E-FASİKÜL' DE

YERKÖY ARGE

Yerköy İlçe Milli Eğitim Müdürlüğü'nün uzaktan eğitim sürecinde öğrencilerimiz için hazırladığı destek hizmetidir.

<http://yerkoy.meb.gov.tr>





Yerköy İlçe Millî Eğitim Müdürlüğü

Hazırlayanlar

Özlem KÜÇÜK	Şht. Kamil Çelikkaya İlkokulu
Ayşe Nur COŞKUN	Şht. Kamil Çelikkaya İlkokulu
Serhat GÜLCEGÜL	Şht. Kamil Çelikkaya İlkokulu
Yakup MURAT	Şht. Kamil Çelikkaya İlkokulu
Ömer YIMAZ	Atatürk İlkokulu
Ahmet YARIÇI	Reşat Akyön İlkokulu

Mehmet DURMAZ
İlçe Milli Eğitim Müdürü

Meliha ÖZDEN
Necmettin SAGLAM
Şube Müdürleri

M.Suat ATİLA
Koordinatör ve Grafik Tasarım



TÜRKÇE

Talha futbol oynamayı çok sever. Okuldan gelince hemen üstünü değiştirir. Sokağa çıkar. Mahalleden arkadaşları Kazım, Ömür ve Emirhan en iyi arkadaşlarıdır. Maç yaparken aralarına Necip i de alırlar. Necip kalede durur. Golleri de genellikle Ahmet atar. Maç bitince Talha'nın annesi tüm takıma reçelli ekmeğe verir. Talha kilolu olduğu için hemen bitirir ve ikincisini isterdi.

(Not: İlk üç soruyu metne göre cevaplayınız.)

S.1: Maç sırasında kalede duran kim?

- A) Emirhan B) Necip C) Kazım

S.2: Talha şişman olduğu için ne yaparmış?

- A) Reçelli ekmeği yavaş yemiş.
B) Reçelli ekmeği bir lokmada yemiş.
C) Reçelli ekmeğin ikincisini istemiş.

S.3: Maçta golleri genellikle kim atmış?

- A) Ömür B) Talha C) Ahmet

S.4: Hangi sözcük sözlükte diğerlerinden önce gelir?

- A) B) C)

S.5: Hangi seçenekte verilen kelimedeki harf sayısı diğerlerinden azdır?

- A) Reis B) Alper C) Tuğrul

S.6: Aşağıdaki tabloyu örnekteki gibi yapalım?

Kelime	Hece Sayısı	Hecelenişi
Papağanlar	4	Pa-pa-ğan-lar
Kütüphane		
Azerbaycan		
Selçuklu		

S.7) Aşağıdaki cümlelerdeki boşlukları uygun kelimeler ile dolduralım?

Bugün günlerden..... Okulun ilk günü.

Biz okula haftada gün gidiyoruz.

Benim en sevdiğim renk.....

Ülkemizin başkenti..... Dir.

TÜRKÇE

S.8: Hangi seçenekte zıt anlamlı sözcükler bir arada kullanılmıştır?

- A) Gece gündüz ders çalışmaktayım.
B) Sabah erkenden okluma gidiyorum.
C) Sokak ve caddelerimiz çok kirlendi.

S.9: Aşağıdaki sözcüklerden hangisi satır sonuna geldiğinde hecelerine ayrılabilir?

- A) Türk B) Adem C) Damla

S.10: Aşağıda verilen kelimeleri okuduğunuzda aklınıza gelen ilk iki sözcüğü yazalım?

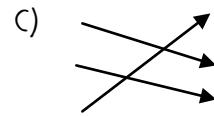
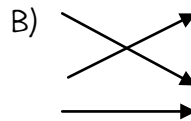
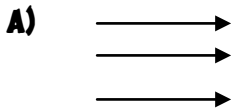
KELİME	İLK AKLIMA GELEN	İKİNCİ AKLIMA GELEN
SONBAHAR		
KIŞ		
İLKBAHAR		
YAZ		

S.11: 'Rehber' sözcüğünün eş anlamlısı nedir?

- A) izci B) kılavuz C) kitap

S.12: Öneri Seyahat
Beceri Teklif
Yolculuk Yetenek

Yukarıda ki kelimeleri eş anlamlıları ile eşleştirildiğinde hangi şekil ortaya çıkar?



S.13: Aşağıda verilen kelimelerin sözlük anlamını bulalım?

GÜNEŞ:.....

MASKE:.....

VİRÜS:.....

HİJYEN:.....

MATEMATİK

Aşağıda okunuşları verilen sayıları Romen rakamları ile gösteriniz.

On üç:	
On altı:	
Sekiz:	
On iki:	
On sekiz:	
On beş:	
Yedi:	
Altı:	
On dokuz:	
Yirmi:	
Üç:	
Bir:	
İki:	
Beş:	
Dört:	
On dört:	
On yedi:	
Dokuz:	
On:	
On bir:	

MATEMATİK

Aşağıda Romen rakamları ile verilen sayıların okunuşlarını yazınız.

VI:	
IX:	
XIII:	
XVI:	
XI:	
XII:	
XIX:	
XIV:	
XX:	
VIII:	
IX:	
III:	
I:	
II:	
VII:	








MATEMATİK

Verilen toplama işlemlerini yapınız.

543+221=		244+444=	
303+204=		555+222=	
105+302=		539+218=	
532+261=		547+292=	
823+342=		414+378=	
861+124=		465+288=	
75+164=		229+149=	
730+211=		631+125=	
255+225=		335+226=	
333+222=		289+197=	
216+703=		581+296=	
473+216=		310+218=	
425+213=		291+188=	

FEN BİLİMLERİ

Aşağıdaki tabloda görsellerdeki varlıkların hareket özelliklerini işaretleyiniz.

	HIZLANMA HAREKETİ	YAVAŞLAMA HAREKETİ	SALLANMA HAREKETİ	DÖNME HAREKETİ	YÖN DEĞİŞTİRME HAREKETİ
					
					
					
					
					
					
					

FEN BİLİMLERİ


Aşağıdaki soruları cevaplayınız.

1. Gemi limandan ayrılırkenhareketi, gemi limana yaklaşırken hareketi yapar. Cümlesindeki boş bırakılan yerlere aşağıdaki ifadelerden hangileri gelmelidir?

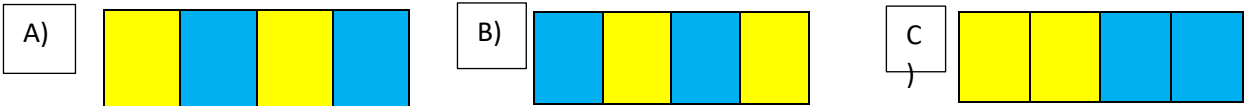
- A) Hızlanma-yavaşlama
- B) Yavaşlama-hızlanma
- C) Dönme-hızlanma

2. Köpekten kaçan kedi hangi hareketleri yapar?

- A) Dönme-yavaşlama
- B) Yön değiştirme-hızlanma
- C) Yön değiştirme-yavaşlama



3) Yukarıdaki görsellerden sallanma hareketi yapanları sarı renkle, dönme hareketi yapanları mavi renkle boyadığımızda aşağıdaki şekillerden hangisi oluşur?




Aşağıdaki cümlelerden doğru olanların başına (D), yanlış olanların başına (Y) koyunuz..

1. (.....) Cansız varlıkları kuvvet ile hareket ettiririz.
2. (.....) Kuvvet varlıkların şeklini değiştirmez.
3. (.....) Kuvvet varlıkların yönünü değiştirebilir.
4. (.....) Duran bir topa vurduğumuzda çekme kuvveti uygulamış oluruz.
5. (.....) İçeri doğru açılan bir kapıyı içeriden çekme kuvveti ile açarız.
6. (.....) Elektrikli süpürge çekme kuvvetine sahiptir.
7. (.....) Kuvvet, hareket eden bir cismi durduramaz.
8. (.....) Rüzgâr itme kuvvetine sahiptir.

FEN BİLİMLERİ

Aşağıdaki görsellerde **İTME** kuvveti uygulanmışsa kutucuğuna (İ),
ÇEKME kuvveti uygulanmışsa kutucuğuna (Ç) yazalım.



AŞAĞIDAKİ CÜMLELERDE BOŞ OLAN YERLERE UYGUN KELİMELERİ YERLEŞTİRİNİZ.

[kuvvet - itme - itme - çekme - hareket - ters - şeklini - değiştirir - cansız - durdurur]

1. Cisimleri.....sayesinde hareket ettiririz.
2. Kuvvet, varlıkların.....değiştirir.
3. Hareket eden bir cismeyönde etki edersek yavaşlar.
4. Kuvvet, varlıkların yönünü.....
5. Matkap.....kuvveti uygular.
6. Kuvvet, duran bir cismi.....ettirir.
7. Kuvvet, hareket eden bir cismi.....
8. Duran bir topa vurunca.....kuvveti uygulamış oluruz.
9. Halat çekme oyununda.....kuvveti uygulamış oluruz.
10.varlıkları kuvvet sayesinde hareket ettirip durdururuz.

HAYAT BİLGİSİ

HANGİ MESLEĞİ SEÇMELİYİM?

Aşağıdaki tabloyu inceleyiniz. Verilen özelliklere sahip kişilerin hangi mesleklerde başarılı olabileceklerini düşününüz. En uygun seçeneği (X) ile işaretleyiniz.

	Özellikler	Seçebileceği
1	Çocuklarla vakit geçirmekten hoşlanır, sabırlıdır. Kitap okumak en büyük zevkidir. Yazmaktan hoşlanır.	<input type="checkbox"/> Öğretmen <input type="checkbox"/> Avukat <input type="checkbox"/> Marangoz
2	Araştırma yapmayı sever. Yenilikleri denemekten hoşlanır. İnsanlığa hizmet etmek için yeni şeyler keşfetmek ister.	<input type="checkbox"/> Terzi <input type="checkbox"/> Bilim adamı <input type="checkbox"/> Berber
3	Resim ve sanat etkinliklerinden hoşlanır. Güzel resim yapar, boyalarla uğraşmaktan zevk alır.	<input type="checkbox"/> Doktor <input type="checkbox"/> Piyanist <input type="checkbox"/> Ressam
4	Güzel şarkı söyler, şarkıların melodilerini hatırlar müzik aleti çalar, farkında olmadan mırıldanır, müzik dinleyerek çalışmaktan hoşlanır.	<input type="checkbox"/> Pilot <input type="checkbox"/> Müzisyen <input type="checkbox"/> Kasa
5	Hayvanları çok sever, onların bakımıyla ilgilenir.	<input type="checkbox"/> Veteriner <input type="checkbox"/> Bankacı <input type="checkbox"/> Sekreter
6	Çiçeklere meraklıdır. Açık havada olmayı ve bahçe işlerini sever.	<input type="checkbox"/> Bakkal <input type="checkbox"/> Bahçıvan <input type="checkbox"/> Kitancı
7	Yemek yapmaktan hoşlanır. Yaptığı yemekleri başkalarına tattırmak ister. Mutfakta çok zaman mutfakta geçirir.	<input type="checkbox"/> Politikacı <input type="checkbox"/> Hemşire <input type="checkbox"/> Asçı
8	Çocukları, çiçekleri ve kitapları çok sever. Davranışlarıyla çocuklara örnek olur. Öğretimden çok eğitime önem verir.	<input type="checkbox"/> Doktor <input type="checkbox"/> Çiçekçi <input type="checkbox"/> Öğretmen

HAYAT BİLGİSİ

Aşağıdaki görselleri ve başlıca görevlerini inceleyerek hangi meslek sahibi olduklarını altlarına yazınız.



Yangınları söndürerek yardım eder.

.....
...



Yasaları uygular

.....
.....



Et ihtiyaçlarımızı karşılar

.....
...



Binaları, şehirleri, evlerin

.....



Kara taşıtlarını sürer

.....
...



Can güvenliğimizi sağlar

.....
...



Hastalıklarımızı tedavi eder

.....
...



İnsanların giyecek ihtiyaçlarını giderir

.....
...



Uçakla seyahat eden yolcuların ihtiyaçlarını karşılar.

.....
.....

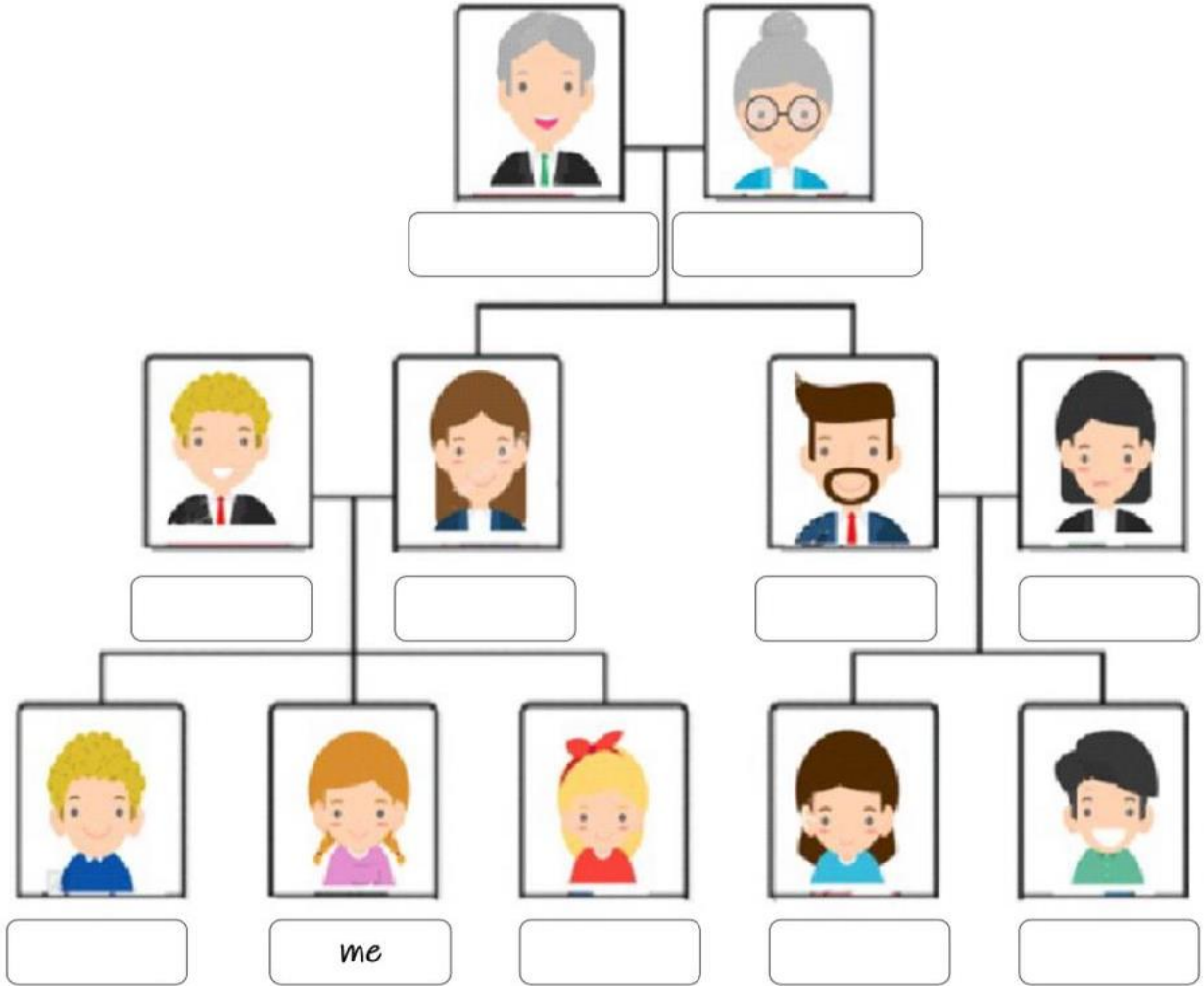
İNGİLİZCE

3rd GRADE

UNIT 2 MY FAMILY



Drag and match the family members.



mother

cousin

father

grandmother

uncle

brother

sister

grandfather

cousin


aunt

UNIT 3

PEOPLE I KNOW 1 (OPPOSITES)

Match the opposites.

- | | | | | | | |
|-----------|--------|------|-------|------|-------|------|
| BEAUTIFUL | BIG | OLD | SHORT | FAST | SMALL | FAT |
| UGLY | STRONG | SLOW | WEAK | SLIM | YOUNG | TALL |



3RD GRADE



WHO?

Who is this?

WHO?




Read and choose.




1. Who is this?

This is my




2. Who is this?

This is my




3. Who is this?

This is my



4. Who is this?

This is my




5. Who is this?

This is my




6. Who is this?

This is my



7. Who is this?

This is my



8. Who is this?

This is my



9. Who is this?

This is my

3RD GRADE