

2. SINIF



2. Hafta Fasikül
2020-2021 Eğitim-Öğretim Yılı

EVDE EĞİTİM E-FASİKÜL' DE

YERKÖY ARGE

Yerköy İlçe Milli Eğitim Müdürlüğünün
uzaktan eğitim sürecinde öğrencilerimiz
için hazırladığı destek hizmetidir.

<http://yerkoy.meb.gov.tr>





Yerköy İlçe Millî Eğitim Müdürlüğü

Mehmet DURMAZ
İlçe Millî Eğitim Müdürü

Meliha ÖZDEN
Necmettin SAGLAM
Şube Müdürleri

M.Suat ATİLA
Koordinatör ve Grafik Tasarım

Hazırlayanlar

Hanife KARACA
Özgül DOĞAN
Akın KILINÇ
Cemal ŞEN
Fatih DURAK
Serkan SAVAŞ

Mehmet Akif Ersoy Ortaokulu
Sekili Şht. Osman Pekşen İlkokulu
Şht. İbrahim Yıldız İlkokulu
Şht. Muhammed Ali Ocak İlkokulu
TOKİ Şht. Ali Salmanlı İlkokulu
Şht. Muhammed Ali Ocak İlkokulu



TÜRKÇE



YA ÜSTÜNDE OLSAYDIM

Bir gün Nasrettin Hoca eşeğini kaybeder. Eşeğini aramaya koyulur. Arada bir de ellerini açarak, "Allahım şükürler olsun." diye dua eder. Bunu gören komşusu, "Hocam bu ne iştir? Sen eşeğini kaybetmişsin. Üzüleceğin yerde şükrediyorsun." der. Hoca şöyle cevap verir: "Öyle deme komşum. Tabii şükrediyorum ya bir de eşeğin üzerinde olsaydım. Ben de kaybolup gidecektim."

A. Aşağıdaki soruları metne göre cevaplayınız.

1. Nasrettin Hoca ne diye dua ediyormuş?

.....

2. Nasrettin Hoca' nın dua ettiğini gören komşusu ona ne demiş?

.....

3. Nasrettin Hoca komşusuna ne cevap vermiş?

.....

B. Aşağıdaki verilen sözcüklerin zıt anlamlılarını tablodan bulup karşılıklarına yazınız.

sert

siyah

gündüz

ağır

uzun

büyük

az

zengin

genç

yakın

çok	
uzak	
hafif	
yumuşak	
yaşlı	

kısa	
fakir	
gece	
beyaz	
küçük	

TÜRKÇE

C. Aşağıdaki verilen görsellerden faydalanarak örnekteki gibi kelimelerin eş anlamlılarını yazınız.



güz

sonbahar



yel



nehir



memleket



konut



armağan




talebe



mektep

D. Aşağıda verilen test sorularını cevaplayınız.



Yukarıdaki görselde her sembole bir harf gelmektedir. Bu sembolleri kullanarak "TAKI" yazmak isteyen birisi sembolleri hangi sıraya göre dizmelidir?

- A. ♥ ★ ☆ 😊
B. ☆ ★ ♥ 😊
C. ♥ 😊 ☆ ★

2. Aşağıda verilen kelimelerden hangisinin hece sayısı diğerlerinden daha fazladır?

- A. araba
B. kanarya
C. bilgisayar

3. "T" sesinden önce ve sonra gelen harfler hangi seçenekte doğru olarak verilmiştir?

- A. P, S
B. Ş, U
C. R, Ş

4. Görsellerdeki varlıklardan hangisinin harf sayısı daha fazladır?



5. Aşağıdaki şehir isimlerinden hangisi sözlük sıralamasında diğerlerinden önce gelir?

- A. Bursa B. Çankırı
C. Denizli

6. Aşağıda alfabemizle ilgili verilen bilgilerden hangisi yanlıştır?

A. Alfabemizde 21 ünsüz harf vardır.

B. Alfabemizde 30 harf vardır.

C. Alfabemizde 8 ünlü harf vardır.

7. Aşağıdaki görsellerden hangisi tek heceli kelimedir?



8. Aşağıdaki eş anlamlı kelime eşleştirmelerinden hangisi yanlıştır?

- A. ev-konut B. öykü-hikaye
C. uzun-kısa

9. Aşağıdaki cümlelerin hangisinde zıt anlamlı kelimeler bir arada kullanılmıştır?

- A. Bahar gelince çiçekler açtı.
B. Ali soruların bazılarını doğru, bazılarını yanlış yaptı.
C. Çok eski zamanlarda bir Keloğlan varmış.

10.

Ayakkabı

Yukarıdaki kelimenin eş anlamlısı hangisidir?

- A. pabuç B. terlik C. çizme

TEST CEVAP ANAHTARI

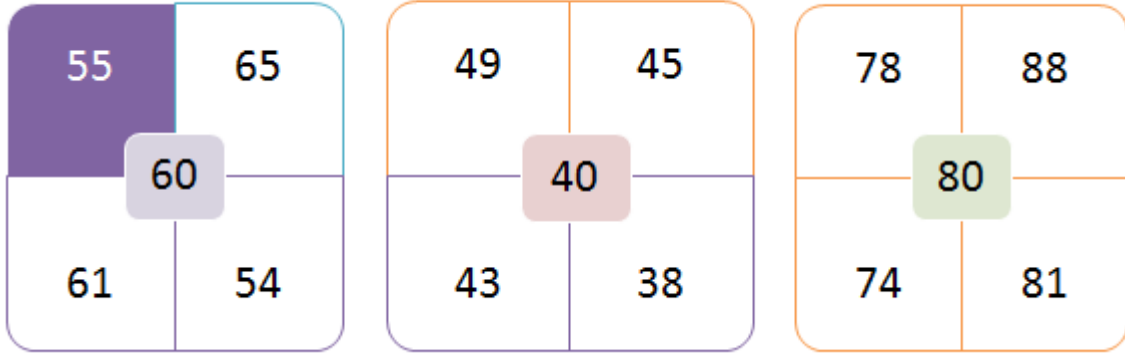
- | | |
|-----|------|
| 1.B | 6.B |
| 2.C | 7.A |
| 3.B | 8.C |
| 4.C | 9.B |
| 5.A | 10.A |

MATEMATİK


A) Aşağıdaki ifadelerin doğru olanların başına D, yanlış olanların başına Y yazınız.

	47 sayısına en yakın onluk ellidir.
	38 sayısı 50 ve 60 onlukları arasındadır.
	38 ve 44 sayıları aynı onluğa yuvarlanır.
	74 sayısının en yakın onluğu 80'dir.
	23 sayısı 30 ve 20 onlukları arasındadır.
	62 sayısı 60' a yuvarlanır.
	24 sayısına en yakın onluk 25'tir.
	29 lirası olan İrem " Yaklaşık 30 liram var." diyebilir.

B) Ortadaki yazılı onluğa yuvarlanan sayıların bulunduğu kutuları boyayınız.











C) Verilen sayıları sembol kullanarak küçükten büyüğe doru sıralayınız.



MATEMATİK

D) Aşağıda verilen toplama işlemlerini örneğe uygun olarak yapınız.

 13 + 5 = 18	 24 + 3 =
 37 + 2 =	 63 + 6 =
 42 + 4 =	 84 + 5 =
 71 + 8 =	 51 + 7 =

E) Verilen doğal sayılardan bir önce ve bir sonra gelen sayıları örnekteki gibi yazınız.

44 45 46	... 29 17 ...
... 53 68 77 ...
... 81 36 14 ...
... 35 41 10 ...
... 33 80 62 ...

Mina **Berat** **Mehmet** **Ayşe**



F) Öğrencileri başarı sırasına göre sıralayınız.

.....

MATEMATİK

1. Aşağıdaki güneşlerde " ? " ile boş bırakılan yere hangi sayı gelmelidir?



A) 20

B) 22

C) 23



2. Aşağıdaki örüntünün kuralı nedir?





A) Sayılar üçer artıyor

B) Sayılar beşer azalıyor

C) Sayılar beşer artıyor



3. Aşağıda  ve  yerine hangi sayılar gelmelidir?

8	18	28		48	
---	----	----	---	----	---

A) 40 - 50

B) 38 - 58

C) 58 - 68

4. " 33 büyüktür 3  'dan " ifadesinde  yerine hangi sayılar yazılabilir?

A) 1-2-3

B) 2-1-0

C) 7-8-9

5. 73'ten büyük 78 'dan küçük sayılar aşağıdakilerden hangisi olabilir?

A) 70

B) 75

C) 80

CEVAP ANAHTARI: 1B - 2C - 3B - 4B - 5B

HAYAT BİLGİSİ

GRUP ÇALIŞMALARIMIZ



Sınıfımızda bazı etkinlikleri kendimiz yapacağımız gibi bazen de arkadaşlarımızla yapmamız gerekebilir. Arkadaşlarımızla yaptığımız bu etkinliklere **grup çalışması** deriz. Grup çalışması ile;

- Grup olarak çalışmak bir işin daha hızlı ve kolay bitmesini sağlar.
- Grup çalışmalarında arkadaşlarımızın fikirlerine değer vermeliyiz.
- Okulda arkadaşlarımızla dayanışma içerisinde olmalıyız.
- Sorumluluklarımızı yerine getirip, sözlerimizi tutmalıyız.

A) Aşağıda verilen boşlukları uygun kelimelerle dolduralım.

Sorumluluk bilinci

İş birliği

yardımcı

kurallara

arkadaşlar

sabırlı

grup

- ❖ Grup çalışmalarında uymalıyız.
- ❖ Kulüp çalışmaları etkinliğidir.
- ❖ Grup çalışmaları bize yeni kazandırır.
- ❖ Grup çalışması bize kazandırır.
- ❖ Grup çalışmalarında ve olmalıyız.
- ❖ Grup çalışmalarında arkadaşlarımıza hep olmalıyız.

HAYAT BİLGİSİ

B) Aşağıdakilerden olumlu değerleri işaretleyelim.



C) Aşağıdaki ifadelerden doğru olanlara "D" yanlış olanlara "Y" yazalım.

<input type="checkbox"/>	Grup çalışmalarında alınan kararlara uymam.
<input type="checkbox"/>	Grup çalışmalarında bana düşen görevleri yaparım.
<input type="checkbox"/>	Okul ve sınıf etkinliklerinde arkadaşlarıma yardım etmem.
<input type="checkbox"/>	Güvenilir biri olmak için yalan söylerim.
<input type="checkbox"/>	Arkadaşlarıma adil davranırım.
<input type="checkbox"/>	Hata yaptığımda özür dilemem.
<input type="checkbox"/>	Arkadaşlarımin eşyalarını izinsiz kullanmam.
<input type="checkbox"/>	Arkadaşlarımla alay etmem.
<input type="checkbox"/>	Herkes tarafından sevilen ve saygı gösterilen biri olmak için davranışlarıma dikkat ederim.

D) Aşağıdaki soruların doğru seçeneklerini işaretleyelim.

1) Grup çalışmalarında nasıl davranmalıyız?

- a) Sabırsız
- b) Saygılı
- c) Kaba

2) Aşağıdakilerden hangisini yapan bir öğrenci, grup çalışmalarına uygun davranmıştır?

- a) Konuya katılmamak.
- b) Grup çalışmalarını dinlemek.
- c) Grupta bağırarak.

HAYAT BİLGİSİ

3) Grup çalışmalarında aşağıdakilerden hangisi önemlidir?

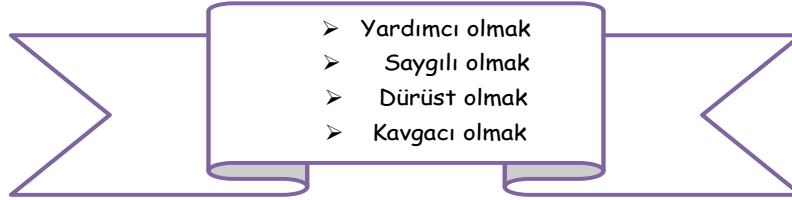
- a) Fikirlerimizin her zaman kabul edilmesi.
- b) Herkesin kendi eşyasını kullanması.
- c) Hoşgörü ve yardımlaşma.

4) "Okulumuzda bu yıl yapılacak olan Cumhuriyet Bayramı etkinliklerinde panolara resim, yazı ve şiir çalışmaları asmak için grup oluşturuldu."

Buna göre aşağıdaki öğrenci davranışlarından hangisi doğrudur?

- a) Grupta yaşı en büyük olan kişinin görüşleri dikkate alınmalıdır.
- b) Grup kurallarına uymamalıdır.
- c) Planlı ve demokratik olarak çalışmalıdır.

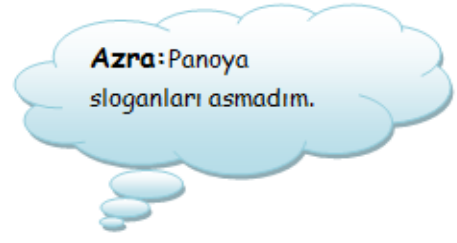
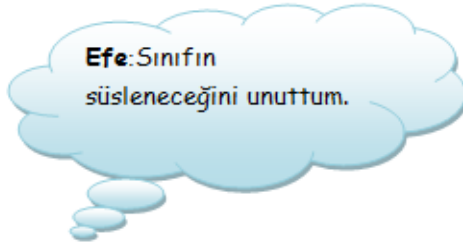
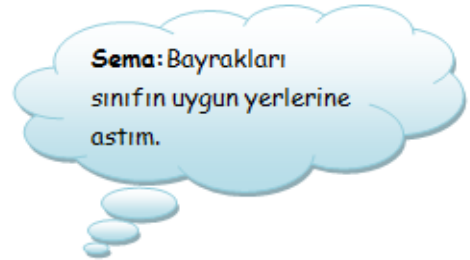
5)



Arkadaşlarımızla olan ilişkilerimizde yukarıdaki davranışlardan kaç tanesi doğrudur?

- a) 2
- b) 3
- c) 4

6)



Yukarıdaki öğrencilerden hangileri sorumluluğunu yerine getirmemiştir?

- a) Efe-Azra
- b) Azra-Ata
- c) Ata-Sema

CEVAP ANAHTARI: 1b-2b-3c-4c-5b-6a

HAYAT BİLGİSİ

E) Aşağıdaki verilen kelimeleri bulmacadan bulup, işaretleyelim.

görev	başarı	düşünce	saygı	grup	üye
çözüm	öneri	sorumluluk	karar	iş	fikir

G	R	U	P	Ç	A	Y	K	A	R	A	R
Z	R	Ö	G	Ö	R	E	V	L	Ö	M	T
A	Ş	N	I	Z	İ	J	Ç	K	N	Z	P
Ğ	K	E	Y	Ü	A	D	F	C	V	B	N
S	O	R	U	M	L	U	L	U	K	D	U
A	P	İ	Ş	B	Ö	L	Ü	M	Ü	K	İ
Y	K	H	K	S	N	M	H	Ç	Y	L	Y
G	J	F	D	Ü	Ş	Ü	N	C	E	S	M
I	A	G	E	Z	F	İ	K	İ	R	Ş	T
P	B	A	Ş	A	R	I	Z	H	Y	F	A

İNGİLİZCE

UNIT 2 'FRIENDS'

ACTIVITY 1

Match the expressions with the correct picture.



Good night



Good morning



Good evening



Good afternoon



Nice to meet you



Hello



Goodbye

İNGİLİZCE

ACTIVITY 2

Complete the sentences with **This** or **That**



..... **is Mert.**



..... **is Ece.**



..... **is Ayla.**

ACTIVITY 3

Put the words in the correct order.

is name your What

1.

name My Ceren is

2.

you How are ?

3.

thanks fine I'm

4.

ACTIVITY 4

Write the correct expressions under the picture.



.....



.....



.....



.....



.....



.....

ACTIVITY 5

Complete the dialogue

TOM: Hello, Tom.

TIM: Hi, your name, please.

TOM: T-O-M. What is your?

TIM: name is Tim.

TOM: Nice to you, Tim.

TIM: to meet you, too.

.meet

.My

.name

.Nice

.spell

.I am