

3. SINIF



1. Hafta Fasikül  
2020-2021 Eğitim-Öğretim Yılı

# EVDE EĞİTİM E-FASİKÜL' DE

## YERKÖY ARGE

Yerköy İlçe Milli Eğitim Müdürlüğü'nün  
uzaktan eğitim sürecinde öğrencilerimiz  
için hazırladığı destek hizmetidir.

<http://yerkoy.meb.gov.tr>





## Yerköy İlçe Millî Eğitim Müdürlüğü

**Mehmet DURMAZ**  
İlçe Milli Eğitim Müdürü

**Meliha ÖZDEN**  
**Necmettin SAGLAM**  
Şube Müdürleri

**M.Suat ATİLA**  
Koordinatör ve Grafik Tasarım

### Hazırlayanlar

|                 |                               |
|-----------------|-------------------------------|
| Özlem KÜÇÜK     | Şht. Kamil Çelikkaya İlkokulu |
| Ayşe Nur COŞKUN | Şht. Kamil Çelikkaya İlkokulu |
| Serhat GÜLCEGÜL | Şht. Kamil Çelikkaya İlkokulu |
| Yakup MURAT     | Şht. Kamil Çelikkaya İlkokulu |
| Ömer YIMAZ      | Atatürk İlkokulu              |
| Ahmet YARIÇI    | Reşat Akyön İlkokulu          |



# TÜRKÇE

**Çok yorgundum, her yerim ağrıyor, hapşuruyor ve burnumda akıyordu. Annem yatağıma yatırdı beni. Ablam nane limon kaynatmış bir bardak içtim. annemin yaptığı Arabaşı çorbasını içtikten sonra doktorun yazdığı ilaçlarımı içtim. sabaha kendime gelmişim.**

( ilk üç soruyu metne göre cevaplayalım )

**1. Annesi çocuğu nereye yatırdı?**

- A) Kanepeye B) Yatağına C) koltuğa

**2. Doktor çocuğa ne yazdı?**

- A) Reçete B) Nane limon C) iğne

**3. Çocuk ne zaman kendine geldi?**

- A) İki saat sonra B) Akşama C) Sabaha

**4. Dilimizde kaç harf vardır?**

- A) 8 B) 21 C) 29

**5. Hangi seçenekte ünlü harflerimiz doğru sıralanmıştır?**

- A) a-e-i-i-o-ö-u-ü  
B) a-e-i-p- r-ü-o  
C) e-a-b-u-i-ü-ö

**6. Alfabemizin 16.harfi hangisidir?**

- A) H B) L C) M

**7. Ünlü harfleri ☆ ünsüz harfleri ◇ şeklinde yazarsak 'YERKÖY' sözcüğünün yazılışı nasıl olmalı?**

- A) ◇ ◇ ☆ ☆ ◇ ◇

- B) ◇ ☆ ◇ ◇ ☆ ☆

- C) ◇ ☆ ◇ ◇ ☆ ◇

# TÜRKÇE

8. Aşağıdaki sözcükleri alfabetik sıraya koyduğumuzda hangi sözcük en sonda yer alır?

A) Melih

B) Berat

C) Damla

9. Aşağıdaki kelimelerin karşılıklarına eş anlamlılarını yazalım?

- Öğrenci.....
- Öğretmen.....
- Okul.....
- Sözcük.....

10. ZAMAN – VAKİT kelimeleri arasındaki anlam ilişkisi aşağıdaki seçeneklerin hangisinde vardır?

A) gece- gündüz

B) sabah –erken

C) süre – müddet

11. Aşağıdaki kelimelerin bazı ünlü harfleri verilmemiştir. Sözcüklere uygun harfleri yerleştirelim.

Tel.....f.....n

k.....ld.....r.....m

t.....rk.....y.....

p.....nc.....r.....

.....zerb.....yc.....n

y.....zg.....t

12. Yeni aldığım SİYAH ELBİSE çok güzeldi. Cümlesinde büyük harfler ile yazılan kelimelerin yerine hangi kelimeler yazılırsa anlamca bir değişiklik olmaz?

A) kara – pantolon

B) kara – giysi

C) pantolon - giysi

13. Aşağıdaki boşlukları uygun sözcüklerle tamamlayalım?

Dilimizde.....harf vardır.

Alfabemizdeki .....ünlü harf vardır.

Alfabemizde .....ünsüz harf vardır.

Alfabemizin ilk harfi..... Son harfi .....dir.

14. Aşağıda verilen harflerden hangisi ile anlamlı bir sözcük yazılabilir?

A) ö-a-e-u-ı-i-d

B) k-s-ı-l-a-e

C) z-b-t-h-s-ğ

# TÜRKÇE

## 15. ÖRETMEN----ECZANE----HERKEZ

Yukarıda verilen kelimelerden hangisinin yazılışı doğrudur?

- A) öğretmen B) eczane C) herkez

16. ( Bulduğu fikri beğendi çok bir kişi ) Parantez içinde yazılan cümleleri anlamlı ve kurallı cümle haline getiriniz?

.....  
(Her sabah yüzünü damla yıkar su ile)

.....  
Çocuk geçtikçe zaman bu duygulardan olumsuz oldu kurtulmuş.

17. ' Yağmur başladı ipteki çamaşırları .....toplayalım.' Cümlesindeki noktalı yerleri uygun sözcük ile tamamlayalım.

- A) temizlenmeden B) ıslanmadan C) kurumadan

18. Hangi seçenekte zıt anlamlı sözcükler birlikte kullanılmıştır?

- A) Kahvaltı çok güzel ve lezzetli olmuş  
B) Bugün akşama kadar akrabalarımı ziyaret ettim.  
C) Bugün akşama kadar bir aşağı bir yukarı dolandım.

19. Aşağıdakilerin hangisinin eş seslisi yoktur?

- A) çorba B) çay C) el

20. Aşağıdakilerden hangisi noktanın kullanımı ile ilgili bir kuraldır?

- A) İkilemelerin arasına konur.  
B) Soru anlamı taşıyan cümlelerin sonuna konur.  
C) Anlamca tamamlanmış cümlelerin sonuna konur.

# MATEMATİK

Aşağıda verilen üç basamaklı doğal sayıların okunuşlarını yazınız.

|            |  |            |  |
|------------|--|------------|--|
| <b>458</b> |  | <b>522</b> |  |
| <b>798</b> |  | <b>301</b> |  |
| <b>687</b> |  | <b>408</b> |  |
| <b>325</b> |  | <b>507</b> |  |
| <b>197</b> |  | <b>831</b> |  |
| <b>964</b> |  | <b>468</b> |  |
| <b>364</b> |  | <b>574</b> |  |
| <b>987</b> |  | <b>364</b> |  |
| <b>576</b> |  | <b>287</b> |  |
| <b>141</b> |  | <b>763</b> |  |
| <b>963</b> |  | <b>894</b> |  |
| <b>756</b> |  | <b>555</b> |  |
| <b>444</b> |  | <b>222</b> |  |

Okunuşları verilen doğal sayıları yazalım.

|                      |  |                        |  |
|----------------------|--|------------------------|--|
| Beş yüz kırk iki     |  | Sekiz yüz iki          |  |
| Yedi yüz seksen      |  | Sekiz yüz seksen sekiz |  |
| Üç yüz on altı       |  | İki yüz on             |  |
| Dört yüz kırk dört   |  | Üç yüz otuz            |  |
| Dokuz yüz otuz iki   |  | İki yüz iki            |  |
| Beş yüz yetmiş iki   |  | Sekiz yüz on altı      |  |
| Altı yüz on altı     |  | Dokuz yüz doksan altı  |  |
| Üç yüz üç            |  | Beş yüz seksen         |  |
| Üç yüz sekiz         |  | Altı yüz kırk dört     |  |
| Yüz yirmi yedi       |  | Yüz seksen yedi        |  |
| Beş yüz elli beş     |  | Üç yüz elli beş        |  |
| Dört yüz dört        |  | Beş yüz beş            |  |
| İki yüz doksan sekiz |  | Sekiz yüz otuz         |  |

# MATEMATİK

Verilen doğal sayıların arasına  $<$  ,  $>$  ve  $=$  işaretlerinden uygun olanı koyunuz.

|     |  |     |
|-----|--|-----|
| 152 |  | 865 |
| 255 |  | 256 |
| 789 |  | 897 |
| 330 |  | 303 |
| 155 |  | 155 |
| 596 |  | 253 |
| 647 |  | 235 |
| 654 |  | 874 |
| 297 |  | 123 |
| 579 |  | 864 |
| 862 |  | 255 |
| 197 |  | 324 |
| 888 |  | 808 |
| 349 |  | 940 |
| 200 |  | 500 |
| 766 |  | 371 |
| 117 |  | 346 |
| 662 |  | 558 |
| 397 |  | 502 |
| 909 |  | 221 |

|     |  |     |
|-----|--|-----|
| 387 |  | 564 |
| 555 |  | 777 |
| 663 |  | 376 |
| 867 |  | 523 |
| 334 |  | 871 |
| 267 |  | 379 |
| 227 |  | 229 |
| 301 |  | 478 |
| 645 |  | 546 |
| 761 |  | 374 |
| 552 |  | 791 |
| 274 |  | 647 |
| 975 |  | 587 |
| 222 |  | 334 |
| 508 |  | 709 |
| 672 |  | 234 |
| 894 |  | 685 |
| 342 |  | 695 |
| 687 |  | 127 |
| 263 |  | 185 |

# FEN BİLİMLERİ

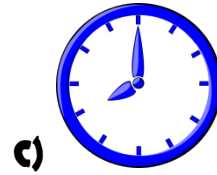
## FEN BİLİMLERİ

**A. Aşağıdaki ifadelerin doğru olanlarının başına ( D ), yanlış olanların başına ise ( Y ) harfini koyalım.**

- ( ) Dünya'mızın şekli düz bir tepsiye benzer.
- ( ) Dünya'mız alttan ve üstten basık, yanlardan şişkin bir küreye benzemektedir.
- ( ) İnsanlar çok eskilerden beri Dünya'nın yuvarlak olduğunu biliyorlardı.
- ( ) Çekirdek iç ve dış olmak üzere iki bölümden oluşmuştur.
- ( ) Hava katmanına atmosfer adı da verilir.
- ( ) Haritalarda sular yeşil renk ile gösterilir.
- ( ) Toprakta ve suda hava yoktur.
- ( ) Dünya'nın etrafını çepeçevre saran katman, hava katmanıdır.
- ( ) Dünya'nın en merkezinde manto bulunur.
- ( ) Dünya yüzeyinde karalar, sulardan daha fazla yer kaplar.

**B. Aşağıdaki çoktan seçmeli soruları cevaplayınız.**

**1. Aşağıdakilerden hangisi Dünya 'nın şekline benzemez?**



2.

**Dünya'nın şekli aşağıdakilerden hangisine benzer?**



A) Silindir

B) Küre

C) Küp



# FEN BİLİMLERİ

3) Bundan 2500 yıl önce Dünya' nın yuvarlak olduğunu ilk söyleyen kişi aşağıdakilerden hangisidir?

A)




Pisagor

B)



Aristo

C)



Macellan

4)



Gemimle sürekli batıya giderek Dünya'nın yuvarlak olduğunu ispatlayan denizciyim. Ben kimim?



A) Kristof Kolomb

B) Macellan

C) Kopernik



5) Dünya 'nın okyanusta yüzen dev bir kaplumbağanın üstündeki dört filin taşıdığı yarım küre şeklinde olduğunu düşünen medeniyet kimdir?

A) Eski Hintliler

B) Eski Mısırlılar

C) Mayalar

6)Aşağıdaki ifadelerden hangisi doğrudur?

A) Eskiden insanlar Dünya'nın şeklini düz bir masaya benzetmişlerdir.

B) Dünya'mızın bir öküzün boynuzları üzerinde durduğuna inanmışlardır.


C) Fillerin hortumlarıyla Dünya'yı döndürdüklerini düşünüyorlardı.

# FEN BİLİMLERİ

7) Aşağıdakilerden hangisi Dünya'nın yuvarlak olduğunu kanıtlayan durumlardan biri değildir ?

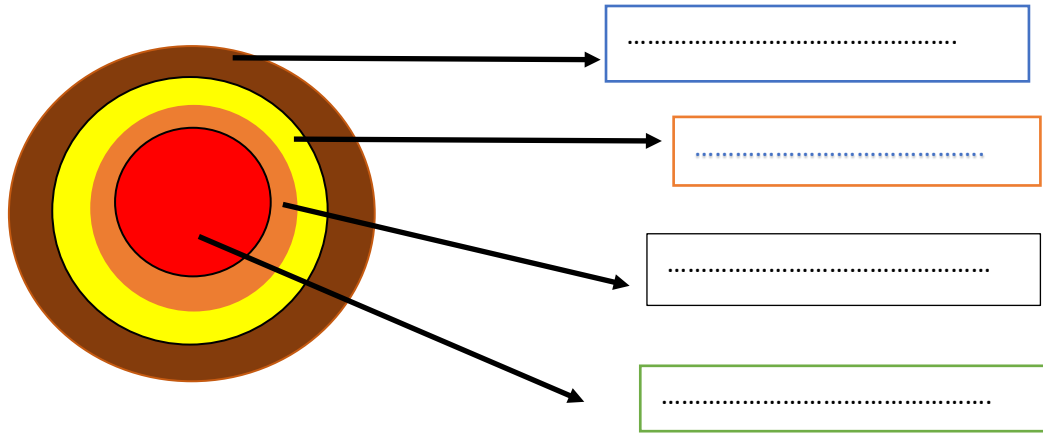
- A) Uzaydan çekilmiş fotoğraflar.
- B) Sonbaharda kuşların güneye göç etmesi.
- C) Denizden gelen geminin önce direğinin görünmesi.

8) Sahile doğru yaklaşan bir gemiye baktığımızda önce geminin direkleri görülür. Daha sonra gövdesini görürüz.



Yukarıdaki bilgiye bakarak bu durum aşağıdakilerden hangisinin kanıtıdır?

- A) Geminin çok yavaş hareket ettiğinin.
- B) Denizlerin tuzlu olduğunun.
- C) Dünya'nın yuvarlak olduğunun.



9) Dünya'nın iç katmanlarını yukarıdaki boşluklara yazınız.

# FEN BİLİMLERİ

**10) Dünya'mızın katmanları ile ilgili olarak aşağıda verilen bilgilerden hangisi doğrudur?**

- A) Kara katmanı (yer kabuğu ) insanların hayvanların yaşadığı katmandır.
- B) Çekirdek Dünya'nın en soğuk katmanıdır.
- C) Magma canlıların en çok yaşadığı katmandır.

**11) Dünya'mızı oluşturan iç katmanlar içten dışa doğru hangi şıkta doğru olarak verilmiştir?**

- A) İç çekirdek-dış çekirdek-yerkabuğu-manto
- B) Manto-iç çekirdek-dış çekirdek-yerkabuğu
- C) İç çekirdek-dış çekirdek-manto-yerkabuğu



**12) Dünya'mız bir soğan gibi iç içe girmiş katmanlardan oluşmaktadır. Dünya üzerinde gözlemlenebilen üç tane katman vardır. Aşağıdakilerden hangisi Dünya'nın gözlemlenebilen katmanlarından birisi değildir?**

- A) Atmosfer
- B) Yer kabuğu
- C) Çekirdek

**13) "Dünya'mız çeşitli katmanlardan meydana gelmektedir. Katmanlar birbirlerinden farklı özelliklere sahiptir."**

**Aşağıdakilerden hangisi yerkabuğunun özelliklerinden birisi değildir?**

- A) Kalınlığı her yerde aynıdır.
- B) Dünya'nın tüm yüzeyini kaplar.
- C) Dünya yüzeyinde sulardan daha az yer kaplar.

# FEN BİLİMLERİ



**14) Dünya'mızı oluşturan gözlemlenebilir katmanlar hangi şıkta doğru olarak verilmiştir?**

- A) Çekirdek-hava katmanı-su katmanı
- B) Hava katmanı-su katmanı-kara katmanı
- C) Manto-yer kabuğu-atmosfer

**15) Dünya'nın resmini boyayan Ali en çok hangi renk boyayı kullanır?**

- A) Mavi
- B) Kahverengi
- C) Yeşil

1-) Dünya'mız atmosfer adı verilen hava tabakasıyla çevrilidir.

2-) Kara katmanı canlıların üzerinde yaşadığı yerdir.

3-) Su katmanı Dünya yüzeyinin çoğunluğunu kaplar.

4-) Kara ve su katmanları Dünya'mızın iç kısmında yer alır.

**16) Yukarıdaki verilen bilgilerden kaç tanesi doğrudur?**

- A) 2
- B) 3
- C) 4

**17) Dünya'mızı Güneş'in zararlı ışınlarından koruyan katmanı hangisidir?**

- A) Kara Katmanı
- B) Su Katmanı
- C) Hava Katmanı

**18) Dünya yüzeyindeki kara ve sularla ilgili aşağıdakilerden hangisi yanlıştır?**

- A) Dünya yüzeyinin dörtte üçü sularla kaplıdır.
- B) Yer altı suları kara katmanında bulunur.
- C) İnsanlar, hayvanlar ve bitkiler kara katmanında yaşarlar.

**19) Yağmur, kar, rüzgâr gibi hava olayları hangi katmanda gerçekleşir?**

- A) Hava katmanı
- B) Su katmanı
- C) Kara katmanı



# FEN BİLİMLERİ

## C. Aşağıdaki ifadeleri uygun kelimelerle tamamlayalım.

|            |             |         |        |             |
|------------|-------------|---------|--------|-------------|
| yer kabuğu | teleskop    | sularla | Kara   | çekirdektir |
| deniz      | çekirdeğine | hava    | Küreye | Güneş'in    |

1. Dünya'mızın şekli ..... benzer.
2. Dünya'nın ..... yaklaştıkça sıcaklık artar.
3. Kara katmanına ..... da denir.
4. Atmosfer, ..... zararlı ışınlarının Dünya'ya ulaşmasını engeller.
5. .... gök cisimlerinin incelenmesinde kullanılan bir alettir.
6. Dünya'nın en sıcak katmanı .....
7. Dünya'mızın dörtte üçü ..... kaplıdır.
8. Yer kabuğunun en ince olduğu yerler ..... tabanlarıdır.
9. İnsanlar ..... katmanında yaşarlar.
10. Canlılar yaşamını sürdürebilmek için gereken oksijeni ..... katmanından elde ederler.

D. Aşağıda görselleri verilen canlıların Dünya'mızın hangi katmanında yaşadığını bularak numaralarını ait olduğu katmana yazınız.

**Kara katmanı**

**Su katmanı**

**Hava katmanı**



1




2




3



4





5



6

# HAYAT BİLGİSİ

|   |             |   |            |  |   |  |
|---|-------------|---|------------|--|---|--|
| <br>Park | Huzur Sokak | <br>Murat'ın Evi | Neşe Sokak | <br>Manav             | <br>Ayşe'nin Evi | <br>Banka |
| ERZURUM CADDESİ   |             |   |            |  |   |  |
| <br>Cami | Sevgi Sokak | <br>Hastane      | Okul Sokak | <br>Atatürk İlkokulu | <br>Çiçek Sitesi |  |

**Aşağıdaki soruları krokiye göre yanıtlayınız.**

➤ **Murat'ın evinin karşısında hangi yapı var?**

.....

➤ **Okulun sağıda hangi yapı var?**

.....

➤ **Ayşe'nin evinin karşısında hangi yapılar var?**

.....

➤ **Murat'ın evi hangi sokaklar arasındadır?**

.....

➤ **Parkın karşısında hangi yapı var?**

.....

➤ **Ayşe'nin evinin sağıda ve solunda hangi yapılar var?**

.....



Murat



Ayşe

# HAYAT BİLGİSİ

## 1) Aşağıdakilerden hangisi doğrudur?

- A) Yüksekten baktığımızda ağaçların sadece üst kısmını görürüz.
- B) Bir yere yüksekten bakmaya üst bakış denir.
- C) Krokideki çizimler ölçülü yapılır.

## 2) Aşağıdaki verilen bilgiler doğru-yanlış diye sıralandığı zaman nasıl bir tablo oluşur?

- ❖ Kroki kuş bakışı çizilir.
- ❖ Kroki kabataslak çizilir.
- ❖ Kroki çizerken ölçü kullanılır.

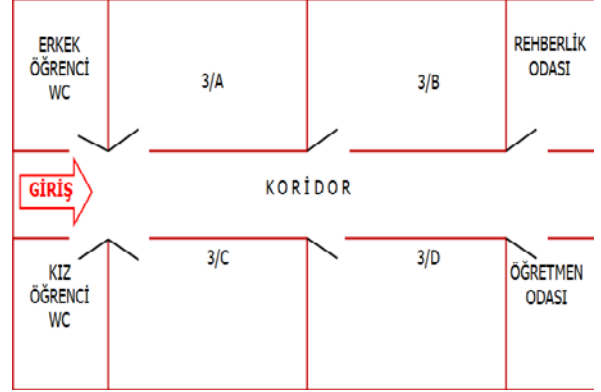
|    |   |   |   |
|----|---|---|---|
| A) | Y | D | D |
|    | Y | Y | D |
|    | D | D | Y |

## 3) Aşağıdakilerden hangisi krokilerde bulunmaz?

- A) Yön
- B) Ölçü
- C) Çizim

## 4) Sınıftaki oturduğumuz yeri belirtmek için sınıf krokisi çizmek istersek aşağıdakilerden hangisini göstermemize gerek yoktur?

- A) Sınıfın kapısını
- B) Okul bahçe kapısını
- C) Yazı tahtasını



## 5.6.7.8.9.10.11. soruları yukarıdaki krokiye göre cevaplandırınız.

## 5) Aşağıdakilerden hangisi üçüncü sınıfların bulunduğu katta değildir?

- A) Müdür Odası
- B) Rehberlik Odası
- C) Öğretmenler Odası

## 6) Rehberlik odasından çıkan birisi koridorun sağ tarafından yürüyerek giderse ilk önce hangi sınıfın önünden geçer?

- A) 3-A
- B) 3-C
- C) 3-B

## 7) Krokiye göre karşılıklı olan sınıflar hangileridir?

- A) 3-A 3-C
- B) 3-C 3-D
- C) 3-B 3-C

## 8) Öğretmenler odasına en yakın sınıf hangisidir?

- A) 3-A
- B) 3-C
- C) 3-D

# HAYAT BİLGİSİ

9) Kız öğrenci tuvaletine en yakın yer hangisidir?

- A) Rehberlik Odası
- B) 3-C Sınıfı
- C) 3-B Sınıfı

10) Aşağıdakilerden hangisi girişe göre sağ tarafta değildir?

- A) Öğretmenler Odası
- B) 3-D sınıfı
- C) 3-A sınıfı

11) Aşağıdakilerden hangisi yanlıştır?

- A) 3/E sınıfı kız WC'nin yanındadır.
- B) Krokide dört tane sınıf vardır.
- C) Rehberlik odası koridorun sonundadır.

12)

Ağaçların üst kısımlarını sadece .....bakınca görürüz.



Zehra

Zehra'nın cümlesi aşağıdakilerden hangisi ile tamamlanmalıdır?

- A) aşağıdan
- B) yuksekten
- C) yanından

13)

|  |  |
|--|--|
| Krokiye bakan birisi orası hakkında bilgi sahibi olur.         |  |
| Yüksekten baktığımız zaman her şeyin üst kısmını görürüz.      |  |
| Bir varlığa tepeden ve aşağıdan baktığımızda görünüşü aynıdır. |  |

Yukarıdaki ifadeleri doğru- yanlış olarak sıraladığımızda tablo nasıl oluşur?

|    |   |    |   |    |   |
|----|---|----|---|----|---|
| A) | D | B) | D | C) | Y |
|    | D |    | Y |    | D |
|    | Y |    | D |    | D |



Sena

Kroki çizerken ..... kullanılmaz, çizimler ..... yapılır.

Sena'nın cümlesi aşağıdakilerden hangileri ile tamamlanmalıdır?

- 14) A) Kağıt - boya
- B) Cetvel - kalem
- C) Ölçü - kabataslak

15) Aşağıdaki bilgilerden hangisi doğrudur?

- A) Krokilerde yerleri tarif etmek için yön kullanılır.
- B) Krokiler kuşbakışı olarak çizilemez.
- C) Yüksek bir yerden baktığımızda ağaçların sadece alt kısmını görürüz.




# İNGİLİZCE

**Aşağıdaki boşlukları uygun şekilde tamamlayınız.**


\* What is ..... name?

\* ..... name is Melih


\* Nice to ..... you




\*




\*




**19.00**



**14.00**



**23.00**




\* Aşağıdaki sözcüklerde eksik bırakılan harfleri tamamlayınız.

|   |     |     |     |     |     |     |     |   |
|---|-----|-----|-----|-----|-----|-----|-----|---|
| A | ... | ... | E   | ... | ... | O   | ... | N |
| N | ... | M   | ... |     |     |     |     |   |
| E | V   | ... | ... | I   | ... | G   |     |   |
| M | ... | ... | N   | I   | ... | ... |     |   |
| W | ... | A   | ... |     |     |     |     |   |
| H | ... | ... | L   | O   |     |     |     |   |

# İNGİLİZCE



















Write. 



# İNGİLİZCE

## A- Verilen kelimeleri resimlerin altına yazıp resimleri boyayınız

\* twenty \* seventeen \* good afternoon \* spell \* thirteen \* count \* fourteen \* good night  
\* nineteen \* good evening \* eleven \* eighteen \* twelve \* fifteen \* sixteen \* good morning

|   |   |  |   |
|---|---|--|---|
|    |    |    |    |
|   |   |  |   |
|  |  |  |  |
|   |   |  |   |
|  |  |  |  |
|   |   |  |   |
|  |  |  |  |
|   |   |  |   |