

1. SINIF



10. Hafta Fasikül
Yıl Sonu Deneme Sınavı

EVDE EĞİTİM E-FASİKÜL' DE

YERKÖY ARGE

Yerköy İlçe Milli Eğitim Müdürlüğü'nün
uzaktan eğitim sürecinde öğrencilerimiz
için hazırladığı destek hizmetidir.

<http://yerkoy.meb.gov.tr>





Yerköy İlçe Millî Eğitim Müdürlüğü

Mehmet DURMAZ
İlçe Milli Eğitim Müdürü

Serdal BORA
H.Hüseyin ASAR
Şube Müdürleri

M.Suat ATİLA
Koordinatör ve Grafik Tasarım

Hazırlayanlar

Adem İLENDEMLİ Atatürk İlkokulu
Alpaslan E. AKGÜN TOKİ Şht. Ali Salmanlı İlkokulu
Necip SİVRİ Şht. Kamil Çelikkaya İlkokulu
Ahmet Şevki ŞAHİN Saray Yibitaş Ortaokulu



YILSONU DENEME SINAVI/HAYAT BİLGİSİ

1- Daha çok bağ bahçe ve tarla bulunan yerleşim yeri hangisidir?

- A) İlçe B) Köy C) İl

2- Yurdumuz neresidir?

- A) Ankara B) İstanbul C) Türkiye

3- Ülkemizin başkenti hangisidir?

- A) Ankara B) İstanbul C) İzmir

4- İlçeyi hangisi yönetir?

- A) Vali B) Kaymakam C) Muhtar

5 - Hangi ilde yaşıyoruz?

- A) Yozgat B) Ankara C) İzmir

6. İstiklal Marş'ımızı kim yazmıştır?

- A) Mustafa Kemal Atatürk B) Osman Zeki Üngör C) Mehmet Akif Ersoy

7) Aşağıdakilerden hangisi insanların başka ülkelere göç etmesinin nedenleri arasında yer almaz?

- A) Savaşlar B) Daha iyi yaşamak C) Gezmeyi sevmek

8) Mustafa Kemal Atatürk nerede doğdu?

- A) Selanik B) İstanbul C) Ankara

9- Aşağıdakilerden hangisi millî bayramlarımızdan değildir?

- A) Kurban Bayramı B) 29 Ekim Cumhuriyet Bayramı C) 23 Nisan Ulusal Egemenlik ve Çocuk Bayramı

10- Okulda bayram hazırlığı için aşağıdakilerden hangisi yapılmaz?

- A) Şiir okuyacak öğrenciler seçilir.
B) Sınıflar süslenir.
C) Bilgi yarışması yapılır.

11- Millî bayramlarda aşağıdakilerden hangisi yapılmaz?

- A) Okul bahçelerinde ve şehir meydanlarında törenler yapılır.
- B) Okul, ev ve iş yerleri bayraklarla süslenir.
- C) Aileler birbirini ziyarete gider.

**12-Özgür olan her ülkenin
Yukarıdaki noktalı yere hangi ifade gelemez?**

- A)Bayrağı vardır
- B) Milli marşı vardır
- C) Denizi vardır

13-" Üüüürü üüüüü " diye bağırarak bizi sabah uyandıran hayvan hangisidir ?

- A)Horoz
- B)Köpek
- C)Tavuk

14-Hangi mevsimde kardan adam yaparız ?

- A)Kış
- B)Yaz
- C)İlkbahar

15-Aşağıdaki hayvanlardan hangisi ormanların kralıdır ?

- A)Aslan
- B)Köpek
- C)Civciv

16Bitkilerin yaşaması için aşağıdakilerden hangisine ihtiyacı yoktur ?

- A)Hava
- B)Gübre
- C)Toprak

17-Canlılar neden yuvaya ihtiyaç duyar ?

- A)Barınmak
- B)Oynamak
- C)Sevilmek

18-Bize ısı ve ışık veren hangisidir?

- A)Güneş
- B)Ay
- C)Yıldız

27-En soğuk mevsim hangisidir?

A)Kış

B)Yaz

C)Sonbahar

28-"Dallarda çiçek açar. Minik kuzular koşar. Çocuklar bahçelerde oynar. "

Bu hangi mevsimdir?

A)Kış

B)İlkbahar

C)Yaz

29-Havalar soğumaya başlar. Yapraklar sararır dökülür. Benim rengim sarıdır. "Hangi mevsimdir?

A)Kış

B)İlkbahar

C)Sonbahar

30-Gündüzler uzun, geceler daha kısadır. Havalar güneşli ve çok sıcaktır. Bu yüzden kısa kollu ve ince kıyafetler giyeriz. " Bu hangi mevsimdir?

A)Yaz

B)Kış

C)Sonbahar

**HAYAT BİLGİSİ TESTİ BİTTİ. CEVAPLARINIZI
KONTROL ETTİKTEN SONRA DİĞER TESTE
GEÇEBİLİRSİNİZ.**

7-“Eyvah, geç kaldım” cümlesinin sonuna hangi noktalama işareti gelmelidir?

- A)Nokta B)Soru işareti C)Ünlem işareti

8-“okumayı – çok – kitap – severim”

Yukarıdaki kelimelerle oluşturulan kurallı cümle hangisidir?

- A)Kitap okumayı severim çok.
B)Kitap okumayı çok severim.
C)Severim çok kitap okumayı.

9-Hangi cümlenin yazımı doğrudur?

- A)Defterime dayire çizdim.
B)okula gitmek için servise bindim.
C)Mehmet evde oyun oynuyor.

10-“sıcak” kelimesinin zıt anlamı aşağıdakilerden hangisidir?

- A) ılık B) soğuk C)buz

11-Aşağıdaki cümlelerden hangisinde yazım yanlışı yapılmıştır?

- A) Parkta Aylin’i gördüm.
B) Annesi emre’yi çağırdı.
C) Babası Osman’ı seviyordu.

12- Aşağıdaki cümlelerden hangisinin sonuna soru işareti konulmalıdır?

- A) Kerim bu rengi sever mi
B) Yarın sinemaya gideceğiz
C) Minik kedi düştü

13-Hangi kelime anlamına göre diğerlerinden farklıdır?

A)koltuk B) çilek C)sandalye

14-Hangi kelimenin yazımında yanlışlık yapılmıştır?

A)öğretmen B)yağmur C)teğmizlik

15-Aşağıdaki kelimelerden hangisi hecelerine doğru ayrılmıştır?

A)kel-e-bek

B)kap-lum-ba-ğ-a

C)ku-r-bağ-a

16-Aşağıdaki sözcüklerden hangisi tek hecelidir?

A)yumurta

B)ciğer

C)kalp

17-“Kitap okumak çok eğlenceli” cümlesinde kaç hece vardır?

A)9 B) 10 C)11

18- Aşağıdaki kelimeleri sözlük sırasına göre sıralayınız.

A.kalem B.silgi C.defter

19- SA..I kelimesinde noktalı yere hangi harf azılırsa anlamsız bir kelime olur ?

A)R B)J C)Y

20-Aşağıdakilerden hangisinin sonuna nokta (.) gelmelidir?

- A)Aslı eve mi gitti
- B)Ertuğrul top oynadı
- C)Eyvah, elim yandı

21- Hangi kelime anlamına göre diğerlerinden farklıdır?


- A)Piyano B)Flüt C)Masa

22-"Annem sekiz tane elma aldı"

Yukarıdaki cümlede aşağıdakilerden hangisinin yanıtı yoktur?

- A)Ne aldı? B)Kim aldı? C)Ne zaman aldı?

23-.Hangi varlığın adı her zaman büyük harfle yazılır?



24-Aşağıdakilerden hangisinin sonuna ünlem (!) gelmelidir?

- A)Derya çok üzüldü
- B)Kenan top mu oynadı
- C)Ay, çok sevindim

25-Hangi kelime anlamına göre diğerlerinden farklıdır?




- A)Nisan B)Cuma C)Mayıs

26-Aşağıdaki cümlelerin hangisinde yazım yanlışı yoktur?

- A)Dün burak bize gelecekti.
B)Arkadaşı aliyi çok severdi.
C)Ankara'ya gitmeyi çok isterim.

27-Aşağıdaki heceler ile hangi hayvanın adını yazamayız?

lık	kö	ba	ke	pek
-----	----	----	----	-----

- A)  B)  C) 

28-Aşağıdakilerden hangisi cümle değildir?

- A)Köpek mamasını yedi.
B)Konserde şarkı
C)Lale eve gel

29-Aşağıdakilerden hangisinde “televizyon” kelimesi satır sonunda doğru ayrılmıştır.

A).....televiz- yon	B).....telev- izyon	C).....tel- evizyon
------------------------	------------------------	------------------------

30-Aşağıdaki cümlelerden hangisi doğru bir sebep-sonuç cümlesi olur?

- A)Üşüyorum çünkü hava güneşli
B)Üşüyorum çünkü soba yanıyor
C)Üşüyorum çünkü hava soğuk

**TÜRKÇE TESTİ BİTTİ. CEVAPLARINIZI
KONTROL ETTİKTEN SONRA DİĞER
TESTE GEÇEBİLİRSİNİZ.**

1-Saat 08:30'da kitap okumaya başlayan Kemal'in, okumaya başladığı saati hangisi göstermektedir?



A)



B)



C)

2- Aşağıdaki saatlerden hangisi 10:00'u göstermektedir?



A)



B)



C)

3-Saat 08:00 olduğunda yelkovan hangi sayıyı gösterir?

A) 6)

B) 8

C) 12

4-Aşağıdakilerden hangisi bir bütündür?



A)



B)



C)

5- Aşağıdakilerden hangisi bize yarımı gösterir?



A)



B)



C)

6-3 Ekmek, kaç yarım ekmek yapar ?



A)



B)



C)



7-

4 yarım ekmek kaç bütün ekmek yapar?

A) 1

B) 2

C) 3

8-12' nin yarısı kaçtır?

A) 3

B) 4

C) 6

9-Aşağıdaki şekillerden hangisinin kenarı ve köşesi yoktur?



A)



B)



C)

10-Üç noktayı birleştirerek oluşturabileceğimiz şekil aşağıdakilerden hangisi olabilir?



A)



B)



C)

11-Hangisi küredir?



A)



B)



C)


12-Hangisi üçgen prizmaya örnek gösterilir?



A)



B)



C)

13-Hangisi diğerlerinden farklıdır?



A)



B)



C)



14-Yukarıdaki örüntüde “....” olan yere hangi şekil gelmelidir?



A)



B)



C)



15-Yukarıdaki örüntü hangi renk kare ile devam etmelidir?



A)



B)



C)

16-İki bütün karpuz kaç yarımdan oluşur?



A) 2

B) 3

C) 4




























17-Bir karpuzu 2 çocuk eşit olarak paylaşır yiyor. Bir çocuk ne kadar karpuz yemiştir?

- A)Bütün B)Yarım C)Çeyrek

18-Bir doğum günü pastasını 4 arkadaş eşit olarak paylaşır yiyor. Her bir çocuk ne kadar pasta yemiştir?

- A)Bütün B)Yarım C)Çeyrek

19- Aşağıdaki tablo bir çiftlikteki hayvan sayılarını göstermektedir. Aşağıdaki 19. , 20. , 21. soruyu tabloya göre cevaplayınız.

Hayvanlar	Hayvan Sayısı								
Tavşan									
Horoz									
Hindi									
Ördek									
Tavuk									

19-Tavuklar, hindilerden kaç fazladır?

- A) 3 B)4 C)5


20-Sayıları eşit olan hayvanlar hangileridir?

- A)Tavşan-Hindi B)Tavuk -Horoz C)Ördek – Horoz

21-Bu çiftlikte toplam kaç hayvan vardır?

- A) 12 B) 13 C) 25

22-En uzun balık hangisidir?




- A) 1 B) 2 C) 3

23- Kurbağalara büyükten küçüğe doğru sıra numarası verildiğinde, 2. sırada hangisi olur?



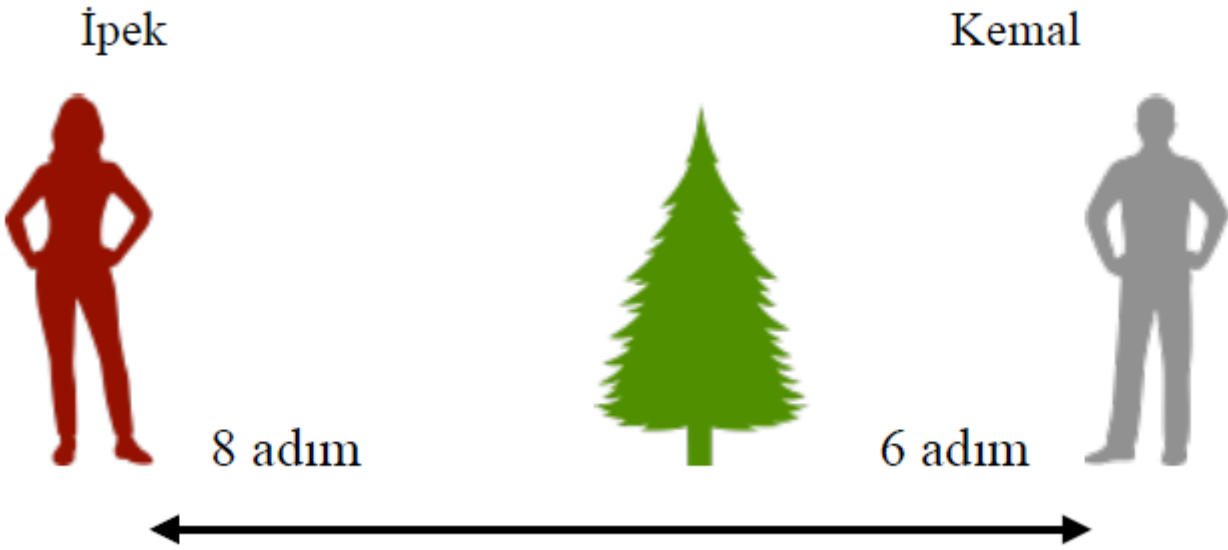
- A) 1 B) 2 C) 4

24- Eslin, cetvelinin boyunu 2 kalemle ölçüyor. Buna göre 4 cetvelin boyu kaç kalem uzunluğundadır ?



- A) 6 B) 8 C) 10


25- İpek'in ağaca uzaklığı 8 adım, Kemal'in ise 6 adımdır.



İpek ile Kemal yer değiştirirse, ikisinin attığı adım sayılarının toplamı kaç olur ?

- A) 28 B) 22 C) 14

26-Mina, bebeğin yanına 16 adımda gidiyor. Mina , bebeği alıp geri dönerse kaç adım atmış olur ?



- A) 26 B) 32 C) 34

27- Aşağıdaki kalemin boyu 5 silgi kadardır. Uç uca eklediğimiz 3 kalemin boyu kaç silgi olur ?



- A) 8 B) 13 C) 15

28-Defterimin uzun kenarı 7 silgi, kısa kenarı 5 silgi uzunluğundadır. Defterimin uzun kenarları ile kısa kenarlarının uzunlukları kaç silgi kadardır?

- A) 24 B) 17 C)15



29-Hilal, Hülya'dan 2 karış uzundur. Hülya'nın boyu 14 karış olduğuna göre

Hilal'in boyu kaç karıştır?

- A) 12 B) 14 C) 16

30-Odamdaki halının boyu 8 ayaktır. Salondaki halının boyu, odamdaki halının boyundan 5 ayak fazladır. Buna göre salondaki halının boyu kaç ayaktır?

- A)10 B) 13 C)15

TÜM TESTLERİ BİTİRDİNİZ. LÜTFEN
CEVAPLARINIZI KONTROL EDİNİZ.

YILSONU DENEME SINAVI/CEVAP ANAHTARI

HAYAT BİLGİSİ

1	2	3	4	5	6	7	8	9	10
B	C	A	B	A	C	C	A	A	C
11	12	13	14	15	16	17	18	19	20
C	C	A	A	A	B	A	A	A	A
21	22	23	24	25	26	27	28	29	30
B	B	A	B	A	C	A	B	C	A

TÜRKÇE

1	2	3	4	5	6	7	8	9	10
A	C	A	C	A	B	A	B	C	B
11	12	13	14	15	16	17	18	19	20
B	A	A	C	B	C	B	A	B	C
21	22	23	24	25	26	27	28	29	30
A	C	B	C	B	C	A	B	A	C

MATEMATİK

1	2	3	4	5	6	7	8	9	10
C	A	C	B	B	C	B	C	A	A
11	12	13	14	15	16	17	18	19	20
B	B	C	B	A	C	B	A	C	A
21	22	23	24	25	26	27	28	29	30
C	A	C	B	A	B	C	A	C	B