

2. SINIF



10. Hafta Fasikül  
Yıl Sonu Deneme Sınavı

# EVDE EĞİTİM E-FASİKÜL' DE

## YERKÖY ARGE

Yerköy İlçe Milli Eğitim Müdürlüğü'nün  
uzaktan eğitim sürecinde öğrencilerimiz  
için hazırladığı destek hizmetidir.

<http://yerkoy.meb.gov.tr>





## Yerköy İlçe Millî Eğitim Müdürlüğü

**Mehmet DURMAZ**  
İlçe Millî Eğitim Müdürü

**Seral BORA**  
**H.Hüseyin ASAR**  
Şube Müdürleri

**M.Suat ATİLA**  
Koordinatör ve Grafik Tasarım

### Hazırlayanlar

Özlem KÜÇÜK Şht. Kamil Çelikkaya İlkokulu  
Evşen SAYIÇI TOKİ Şht. Ali Salmanlı İlkokulu  
Ahmet YARIÇI Reşat Akyön İlkokulu  
Ömer YILMAZ Atatürk İlkokulu  
Hanife KARACA Mehmet Akif Ersoy Ortaokulu

**Çok halsizdim, öksürüyordum ateşimde çıkmış gibiydi. Titrediğimi hissettim. Annem her zaman olduğu gibi tavuk çorbası içirdi. Birde üzerime terlemem için yorgan örttü. İlaçlarımı içip çok uyuyunca kendime geldim.**

**İlk iki soruyu metne göre cevaplayınız?**

**1- Annesi çocuğa ne içirmiş?**

- A) Tavuk çorbası
- B) Nane limon
- C) Mercimek çorbası

**2- Çocuk neden halsizmiş?**

- A) Yorulduğu için
- B) Çok koştuğu için
- C) Hasta olduğu için

**1- Yataktan kalktım**

**2- Önce uyandım**

**3- Sonra hazırlandım**

**4- En sonunda sütü içip, okula gittim.**

**3- Cümleleri oluş sırasına göre sıraladığımızda dizilim nasıl olur?**

- A) 4-3-2-1
- B) 2-1-3-4
- C) 2-3-1-4

**4- Aşağıdaki görselde hangi mevsim olabilir?**



- A) Yaz mevsimi
- B) Sonbahar mevsimi
- C) Kış mevsimi

**5- Aşağıdaki sözcükler hangisi satır sonunu doğru ayrılmıştır?**

- A) O-  
kulum
- B) senar-  
yo
- C) ilk-  
okul

**6- Hangi kelimenin hece sayısı diğerlerinden daha fazladır?**

- A) Salatalık
- B) Domates
- C) Enginar

# TÜRKÇE

**7- Aşağıdaki hecelerle  
hangi kelimeyi  
yazamayız?**

-lak    -laf    -yu    -ku

- A) Kulak
- B) Yulaf
- C) Fulya

**8- Alfabemizin baştan ve  
sondan üçüncü harfleri  
hangi seçenekte  
sırasıyla yer almıştır?**

- A) Ç,T
- B) C,V
- C) C,Z

**Çatal – Cetvel – Balık**

**9- Yukardaki sözcüklerin  
alfabetik sıralamaya  
göre doğru sıralaması  
hangi şıkta  
verilmiştir?**

- A) Balık – Çatal – Cetvel
- B) Çatal – Cetvel – Balık
- C) Balık – Cetvel – Çatal

**10- -va, -ay, -gül, -  
pat, -pa, -ya heceleri  
kullanılarak  
aşağıdakilerden  
hangisinin adı  
yazılamaz?**

- A) Papatya
- B) Ayva
- C) Nar

**11- Aşağıdaki kelimelerden  
hangisi sözlükte en  
sonda yer alır?**

- A) Atkı
- B) Araba
- C) Ayna

**12- Alçak – yüksek  
sözcükleri arasındaki  
anlam ilişkisi aşağıdaki  
sözcüklerden hangisi  
arasında vardır?**

- A) Al – kırmızı
- B) Misafir – konuk
- C) Uzun – kısa

# TÜRKÇE

**13- Aşağıdaki sözcük çiftlerinden hangisi eş anlamlı değildir?**

- A) Doktor – hekim
- B) İhtiyar – yaşlı
- C) Pahalı – ucuz

**14- "Misal" sözcüğünün anlamdaşı nedir?**

- A) Mazeret
- B) Örnek
- C) Özgün

**15- Dışarıya soğukta çıkmayalım cümlesinde altı çizili sözcüğün zıt anlamlısı aşağıdakilerden hangisidir?**

- A) Sıcak
- B) Sisli
- C) Serin

**16- Aşağıdakilerden hangisinde zıt anlamlı sözcükler verilmiştir?**

- A) Şehir – kent
- B) Ak – beyaz
- C) Yaş – kuru

**17- Olayları oluş sırasına göre anlattığımızda hangisini en son söyleriz?**

- A) İlk önce
- B) Sonra
- C) En sonunda

**18- Aşağıdakilerden hangisi cümledir?**

- A) Okuyorum
- B) Kitaplarımız
- C) Dergilerimiz

**19- Aşağıdakilerden hangisi anlamlı ve kurallı bir cümle değildir?**

- A) Çok güzel kitap okuyor.
- B) Bana kitap alır mısın?
- C) Yazı yazdı okulda.

**20- Ayşe, elmaları topladın mı ( ) cümlesinin sonuna hangi noktalama işareti konulmalıdır?**

- A) Nokta ( . )
- B) Ünlem işareti ( ! )
- C) Soru işareti ( ? )

# TÜRKÇE

21- Satır sonuna sığmayan sözcükler ..... ile ayrılır. Cümlesi aşağıdakilerden hangisi ile tamamlanır?

- A) Uzun çizgi ( — )
- B) Kesme işareti ( ' )
- C) Kısa çizgi ( - )

22- "Of yeter bunaldım( )" cümlesinin sonuna hangi noktalama işareti gelmelidir?

- A) ?
- B) !
- C) .

23- Melek, kitap okuyor cümlesinde hangi sorunun cevabı yoktur?

- A) Kim okuyor?
- B) Ne okuyor?
- C) Ne zaman okuyor




24- Aşağıdaki sözcüklerin hangisi yanlış yazılmıştır?

- A) Herkes
- B) Maydonoz
- C) Tren

25-

	Yalnız
	kalemtraş
	soğan

Hangi sembolün yanındaki sözcük yanlış yazılmıştır?

- A) 
- B) 
- C) 

26- Aşağıdaki tarihlerden hangisi doğru yazılmıştır?

- A) 18 eylül 1982
- B) 10 Kasım 2011
- C) 6 ağustos 1982

# TÜRKÇE

**27- Hangi cümlede soru eki yanlış yazılmıştır?**

- A) Okudunuzmu ?
- B) Yazdın mı?
- C) Konuşalım mı?

**28- Aşağıdaki görsellerden hangisi geri dönüşümü ifade eder?**

A)



B)



C)



**29- Yapılacak olan bir işin, sözlü veya yazılı olarak işlem sırası halinde anlatılmasına ne denir?**

- A) Form
- B) Yönerge
- C) Masal

**30- Yandaki akıllı işaretin anlamı nedir?**



- A) Şiddet ve korku içerir
- B) Olumsuz örnek oluşturabilecek davranış içerir
- C) 7 yaş ve üzeri için uygundur.

# MATEMATİK



**1. İki deste çiçeğim var. Arkadaşım da bana çiçeklerimin yarısı kadar çiçek verdi. Kaç çiçeğim oldu?**

**A) 30**

**B) 25**

**C) 20**

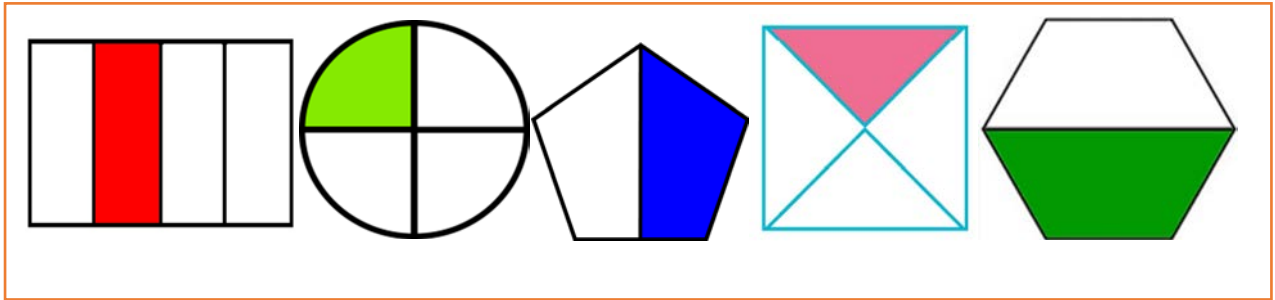


**2. Bir pizzayı dört eşit parçaya bölen Akın, pizzanın iki parçasını yerse; pizzanın ne kadarını yemiştir?**

**A) Bütün**

**B) Yarım**

**C) Çeyrek**



**3. Yukarıdaki şekillerden kaç tanesi çeyreği göstermektedir?**

**A) 1**

**B) 2**

**C) 3**

**4. Aşağıdaki saatlerden kaçının okunuşu doğrudur?**



12.30



05.45



03.00



11.15

**A) 3**

**B) 4**

**C) 2**



# MATEMATİK

5. Aşağıdaki bilgilerden hangileri doğrudur?

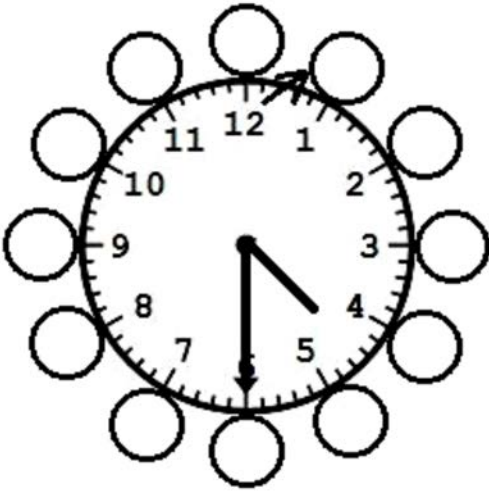
★ Saatlerde uzun çubuğa **yelkovan**, kısa çubuğa ise **akrep** denir.



Tam saatlerde yelkovan 12'yi, yarım saatlerde yelkovan ise 6'yı gösterir.



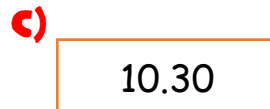
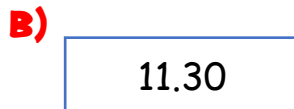
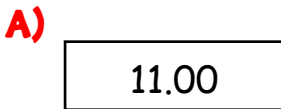
Bir yılda 12 ay vardır ve bütün aylar 31 gündür.




6. Yandaki analog saatin öğleden önce ve öğleden sonra okunuşu hangi şıkta doğru olarak verilmiştir?

A)	04.30	16.30
B)	04.15	16.15
C)	04.30	15.30

7. Ömer saat 09.30'da tarlada çalışmaya başlamıştır. İki saat çalıştıktan sonra ara vermiştir. Ömer ara verdiğiğinde saat kaçtır?



# MATEMATİK



**8. Eda bir saat içinde 40 dakika ders çalışıp kalan sürede dinlenmiş. Eda 3 saat içinde kaç dakika dinlenmiştir?**

- A)** 60 dakika
- B)** 70 dakika
- C)** 80 dakika

**9. Aşağıdaki cümlelerde boş bırakılan yerlere sırasıyla hangi kelimeler gelmelidir?**

- ♥ Bir saat ..... dakikadır.
- ♥ İki gün ..... saattir.
- ♥ Aralık, ocak ve şubat ..... mevsiminin aylarıdır.

- A)** 60-48-yaz
- B)** 60-72-kış
- C)** 60-48-kış

**10. Aşağıdaki tabloda boş bırakılan yerlere uygun olan saatler aşağıdaki şıklardan hangisinde doğru olarak verilmiştir?**

<b>Öğleden Önce</b>	<b>Öğleden Sonra</b>
<b>03.15</b>	.....
.....	<b>16.00</b>
<b>05.45</b>	.....

- A)** 15.15 - 04.00 - 16.45
- B)** 15.15 - 04.00 - 17.45
- C)** 14.15 - 04.00 - 17.45

# MATEMATİK

**11. Kumbarasına her gün 3 TL atan Nazlı 3 haftada kaç lira biriktirir?**



**12. Aşağıdaki öğrencilerden hangisinin söylediği yanlıştır?**



En büyük madeni paramız 1 TL 'dir.

**Emir**



En büyük kâğıt paramız 100 TL 'dir.

**Nazlı**



1 Türk lirası 100 kuruşa eşittir.

**Aslı**

A) Aslı

B) Nazlı

C) Emir

ÜRÜN	FİYATI
	5 TL
	6 TL
	1 TL 50 Kr



**Kumbarasındaki para yukarıdaki gibi olan Ayşe tablodakilerden hangilerini alamaz?**



# MATEMATİK

**14. Umur okul kantininden 12 liralık alışveriş yapmış ve kantinciye 20 TL vermiştir. Umur kantinciden kaç lira para üstü alacaktır?**

- A) 
- B) 
- C) 



**15. Zeynep, kumbarasındaki paranın 12 lirası ile oyuncak, 10 lirası ile kitap aldı. Geriye 25 lirası kaldı. Zeynep'in kumbarasında kaç lirası varmış?**


- A) 45TL      B) 46TL      C) 47TL

**16. Aşağıdakilerden hangisinde paraların değeri yanlış olarak verilmiştir?**

- A)  → 80Kr
- B)  → 3 TL
- C)  → 100Kr

# MATEMATİK




**Grafik:** Çiftlikteki Hayvanlar



**17. Yanda verilen nesne grafiğine göre aşağıdaki bilgilerden hangisi yanlıştır?**

- A)** Çiftlikte 20 tane koyun vardır.
- B)** Tavukların sayısı ineklerin sayısının üç katıdır.
- C)** Çiftlikte toplam 45 hayvan vardır.

**Grafik:** 2 F Sınıfı Başkan Adaylarının Oyları

Adaylar	Oy sayısı
 Ayşe	10
 Osman	5
 Burak	7

**18. Yandaki tabloya göre aşağıdaki boşluklara uygun olan kelimeleri bulunuz.**

- ★ Ayşe .....oy almıştır.
- ★ En az oyu ..... almıştır.
- ★ Burak .....oy almıştır.

- A)** 20-Osman-14
- B)** 18-Burak-14
- C)** 22-Burak-14

*Her şekil 2 öğrenciyi göstermektedir.*

ÇİÇEK TÜRÜ	ÖĞRENCİ SAYISI
Gül	
Papatya	
Karanfil	
Lale	

**19. Yandaki çetele tablosuna göre gül, karanfil ve laleyi seven öğrenci sayısı kaçtır?**

- A)** 16
- B)** 18
- C)** 20

# MATEMATİK


**20.** Ercan ile Murat sıralarının boyunu standart olmayan uzunluk ölçme birimleriyle ölçtüler. İkisi de farklı sonuçlar söylediler.

**Buna göre Ercan ve Murat hangi ölçme aracını kullanmış olabilirler?**

**A)** Metre

**B)** Karış

**C)** Cetvel



**21.** Yukarıda verilen standart olmayan uzunluk ölçme birimleri sırasıyla hangi şıkta doğru olarak verilmiştir?

**A)** Adım – parmak – karış

**B)** Ayak - kulaç- karış

**C)** Adım – kulaç - karış



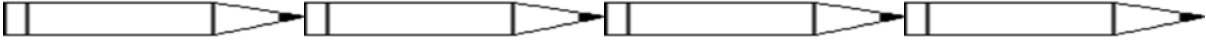
**22.** Terzi Ali Bey, 10 metre kumaşın yarısının 3 metre eksiği ile ceket yapıyor. Geriye kaç metre kumaş kalır?

**A)** 8 metre

**B)** 7 metre

**C)** 6 metre

# MATEMATİK



**23. Ayşe, kalemleri yukarıdaki gibi dizdi. Her kalemin uzunluğu 13 cm olduğuna göre Ayşe, aşağıdaki çizginin uzunluğunu kaç cm bulmuştur?**

- A) 52 cm      B) 56cm      C) 60cm



**24. Yukarıda cetvellerle yapılan ölçümlere göre aşağıdaki bilgilerden hangisi yanlıştır?**

- A) Silgi 5 santimetredir.  
B) 4 tane ataşı yan yana koyduğumuzda 16 santimetre olur.  
C) Fırçanın boyu 16 santimetredir.

# MATEMATİK



**25. Aynı büyüklükte olan kitaplardan her birinin kalınlığı 3 cm'dir. Bu kitaplardan 6 tanesi yan yana konduğunda kalınlıkları toplamı kaç cm'dir?**

A) 24

B) 21

C) 18



**26. Asya Hanım, salça yapmak için, her birinde 20 kg domates olan kasalardan 3 tane aldı. Domateslerin 53 kilogramı ile salça yaptığına göre, geriye kaç kilogram domates kalmıştır?**

A) 11kg

B) 9kg

C) 7kg



**27. Onur Bey, bahçesinden topladığı portakalların, 48 kilogramını satmıştır. Geriye 26 kilogram portakal kaldığına göre, Onur Bey bahçesinden kaç kilogram portakal toplamıştır?**

A) 72

B) 74

C) 76



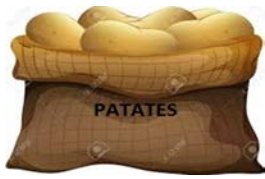
# MATEMATİK

**28. Aşağıdakilerden hangisi en ağırdır?**



**29. Yukarıdaki nesnelere hangileri kilogram ile ölçülür?**

- A) Elma, muz, kavun  
B) Elma, çanta, kalem  
C) Elma, muz, kalem



**30. Bir manavdaki patatesler, 29 kg ağırlığındadır. Soğanlar patateslerden 12 kg daha ağır olduğuna göre Patates ve soğanların ağırlıkları toplamı ne kadardır?**



- A) 70 kg  
B) 72 kg  
C) 74 kg

# HAYAT BİLGİSİ



**1- Yukarıda verilen doğal afetlerin ismi sırası ile aşağıdakilerden hangisidir?**

- A) deprem – çığ – erozyon
- B) deprem – çığ – sel
- C) deprem – sel – erozyon

**2-**



23 Nisan'ı niçin bayram olarak kutlarız çocuklar?

- A) Samsun'a çıkıp Kurtuluş Savaşı'nı başlattığım için.
- B) Düşmanı kesin olarak yendiğimiz için
- C) Türkiye Büyük Millet Meclisi açıldığı için.








**3-**



Yandaki çocukların oynadığı oyunun adı nedir?

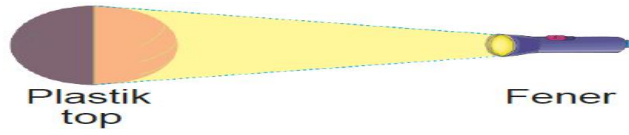
- A) Yağ satarım bal satarım.
- B) Dönme dolap
- C) Kutu kutu pense

# HAYAT BİLGİSİ

Pazartesi	Salı	Çarşamba	Perşembe	Cuma	Cumartesi	Pazar
						

**4- Yukarıdaki grafiğe göre, hangisi yanlıştır?**

- A) Pazartesi günü hava bulutludur.
- B) Cuma günü hava parçalı güneşlidir.
- C) Cumartesi günü kar yağışlıdır



**5- Yukarıda yapılan deneyde aşağıdakilerden hangisi gösterilmiştir?**

- A) Mevsimlerin oluşumu
- B) Dünyanın oluşumu
- C) Gece gündüzün oluşumu

1. Ağaçların yaprakları sararıp düşer.
2. En çok yağmur bu mevsimde yağar.
3. Hava, toprak ve su soğumaya başlar.

**6- Yukarıda verilenlerden hangisi ya da hangileri sonbahar mevsiminin özellikleridir?**

- A) 1 – 2
- B) 1 – 3
- C) 1 – 2 – 3

# HAYAT BİLGİSİ

7-



Şule'nin söylediği ifadelerden hangisi yanlıştır?

- A) Dünya kendi etrafında 24 saatte döner.
- B) Dünyanın güneş etrafında dönmesi ile gece gündüz oluşur.
- C) Dünya güneş etrafında 365 gün 6 saatte döner.

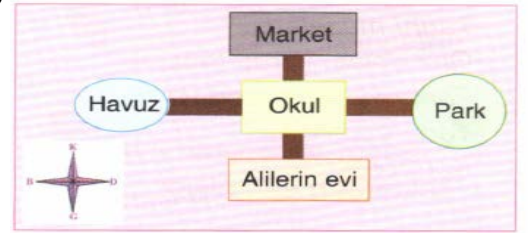


8- Yukarıdaki öğrencilerden hangisi başkentimizi söylemektedir?

- A) Zeynep
- B) Elif
- C) İzel

9- Yandaki krokiye göre, hangisi yanlıştır?

- A) Market, okulun güneyindedir.
- B) Park, havuzun doğusundadır.
- C) Alilerin evi, marketin güneyindedir.



10-



Hangisi dede ve ninemizin oynadığı bir oyun değildir?

A)



B)



C)



# HAYAT BİLGİSİ

11-



Suşi, aşağıdaki çocuklardan hangisinin ülkesinde yenir?

A)



B)



C)



( ) Bayrağımızın ay ve yıldızı kırmızı renklidir

( ) Bayrağımız bağımsızlığımızı temsil eder.

( ) Bayrağımıza her zaman saygı duymalıyız.

12- Yukarıda verilen ifadelerden doğru olanların başına 'D', yanlış olanların başına 'Y' yazarsak sıralama nasıl olur?

A) D-D- D

B) Y-Y-D

C) Y-D-D

13- Aşağıdaki görsellerden hangisi güvenli oyun alanları arasında yer almaz?

A)



B)



C)



14- Yandaki boşluğa aşağıdakilerden hangisi gelmelidir?

A) Temizliğe

B) Beslenmeye

C) Uykuya



Salgın ve bulaşıcı hastalıklardan korunmak için dikkat ..... etmeliyiz.

# HAYAT BİLGİSİ

**15- Aşağıdaki canlılardan hangisi yaşam alanı ile diğerlerinden farklıdır?**

A)



B)



C)



**16- Aşağıdakilerden hangisi tarım faaliyetleri sonucunda çiftçilerin yetiştirdiği bir üründür?**

A)



B)



C)



**17- Aşağıdaki görsellerden hangisi düğün adetlerimizden biri değildir?**



A) kına gecesi



B) maskeli balo



C) düğün yemeği

**18-**



Benimle ilgili aşağıdaki ifadelerden hangisi yanlıştır?

- A) 23 Nisan'da İstanbul'da Türkiye Büyük Millet Meclisi'ni açtım.
- B) 19 Mayıs'ta Samsun'a çıktım.
- C) 29 Ekim'de Cumhuriyeti ilan ettim.

# HAYAT BİLGİSİ

**19- Aşağıdakilerden hangisi dini bayramların özelliği değildir?**

- A) Yardımlaşma günleridir.
- B) Dayanışma günleridir.
- C) Özel yemekler yeme günleridir.

**20- Aşağıdakilerden hangi tüketilen maddelerin geri dönüşümüne katkı sağlayacak bir davranıştır?**

- A) Atık pilleri toprağa gömmek
- B) Atık kâğıtları biriktirip yakmak
- C) Geri dönüşümlü maddeleri uygun atık kutularına atmak

**21- Fasulye tanelerini filizlendirerek bitki yetiştirmek aşağıdakilerden hangisine örnektir?**

- A) Fideden bitki yetiştirme
- B) Tohumdan bitki yetiştirme
- C) Fidandan bitki yetiştirme

Toprak yapısı

Su kaynakları

İklim koşulları

Yer şekilleri

**22- Yukarıdakilerden kaç tanesi insan yaşamına etki eden doğal unsurlardandır?**

- A) 4
- B) 3
- C) 2

**23- Bitkisel ürünlerin yetiştirilmesi için en uygun toprak türü aşağıdakilerden hangisidir?**

- A) Humuslu toprak
- B) Kumlu toprak
- C) Taşlı toprak


# HAYAT BİLGİSİ

24-



Depremle ilgili aşağıdaki ifadelerden hangisi **yanlıştır**?

- A) Depremleri önlemek mümkün değildir.
- B) Depremlere her zaman hazırlıklı olmalıyız.
- C) Ülkemizde çok fazla deprem olmaz.



25- Hangi öğrencinin söylediği doğal afetin ağaçların yok edilmesi ile ilgisi yoktur?

A)



B)



C)



26- Aşağıdaki görsellerden hangisi yaz mevsimiyle ilgilidir?

A)



B)



C)





# HAYAT BİLGİSİ

Mustafa'ya Kemal ismini..... öğretmeni vermiştir.


**27- Atatürk ile ilgili yukarıdaki cümlede boş yere aşağıdakilerden hangisi gelmelidir?**

- A) Türkçe
- B) Matematik
- C) Müzik

**28- Aşağıdakilerden hangisi bitki ve hayvan yetiştirmenin yararlarından değildir?**

- A) Sorumluluk almayı ve üretmeyi öğreniriz.
- B) Bitki ve hayvanlar hakkında daha fazla bilgi sahibi oluruz.
- C) Oyuncağa ve arkadaşına ihtiyaç duymayız.

**29- Aşağıdakilerden hangisi kültürel miras öğelerimizden değildir?**



**30- Hayvancılığın yaygın olduğu yerlerde aşağıdaki sanayi dallarından hangisi gelişmiştir?**

- A) Yoğurt ve süt ürünleri tesisleri
- B) Salça ve meyve suyu tesisleri
- C) Mobilya üretim tesisleri

**1-Resmi anlatan seçeneği işaretleyin.**



- a) two
- b) one
- c) three

**2- Resmi anlatan seçeneği işaretleyin.**



- a) This is a window.
- b) This is a desk.
- c) This is a zebra.

**3- Resmi anlatan seçeneği işaretleyin.**



- a) Skip a rope
- b) This is a window.
- c) This is a zebra.

**4- Aşağıdakilerden hangisi "otur" komutunun İngilizcesidir.**



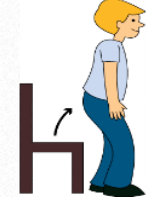
- a) stand up
- b) sit down
- c) turn left

**5- Resimdeki nesnenin İngilizcesi aşağıdakilerden hangisidir?**



- a) cake
- b) jacket
- c) office

**6-Aşağıdakilerden hangisi "Ayağa kalk" komutunun İngilizcesidir?**



- a) Hello
- b) Sit down
- c) Stand up



- 7-
- a) nose
  - b) eyes
  - c) mouth

**8- Görseli anlatan seçeneği işaretleyiniz.**



- a) arms
- b) feet
- c) knees

**9- That's a .....**



- a) lion
- b) horse
- c) zebra

**10-**



- a) good morning!
- b) good evening!
- c) good night

# ENGLISH

**11- Hangisi konuşma balonundaki sorunun cevabı olamaz?**

- a) great, thanks.
- b) I'm Ali.
- c) my name is Nehir.

What's your name?

**12- An elephant can't .....**



- a) run
- b) walk
- c) fly

**13- Resmi anlatan seçeneği işaretleyin.**

- a) sing
- b) slide
- c) swing




**14- Görseli anlatan seçeneği işaretleyiniz.**



- a) table
- b) desk
- c) board

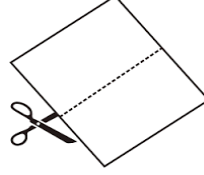
**15- Seçeneklerde verilen eşleştirmelerden hangisi yanlıştır?**



lemon hamburger telephone  
a) b) c)

**16- Doğru seçeneği işaretleyiniz?**

\_\_\_\_\_the paper.



- a) open
- b) cut
- c) look

**17- Where is the dog ?**



- a) in the table
- b) on the table
- c) under the table

**18- Ali: Which fruits do you like?**

Ayşe : I like.....



- a) pear
- b) orange
- c) strawberry

**19- I have got.....  
Görsele göre doğru cevabı bulunuz.**



- a) five eyes.
- b) two arms
- c) six legs.

**20- Görseli anlatan seçeneği işaretleyiniz.**



- a) Cut
- b) Draw
- c) Colour

# ENGLISH



**21-Verilmeyen sayıları bulunuz?**

- a) Five / Six
- b) Three / Eight
- c) Three / Six

**22-Daire içinde belirtilen organımız hangisidir?**



- a) Ears
- b) Eyes
- c) Nose

**23-Görseli anlatan seçeneği işaretleyiniz.**



- a) Let's play football!
- b) Let's play tennis!
- c) Let's swing!

**24- Görseli anlatan seçeneği işaretleyiniz.**



- a) jump
- b) run
- c) swing

**25- Görseli anlatan seçeneği işaretleyiniz.**



- a) hide and seek
- b) hopscotch
- c) run



**26- Görseldeki hayvanların sıralaması hangisidir?**

- a) Tiger – snake - hippo
- b) Lion – tiger - hippo
- c) Duck – giraffe – crocodile

**27- What is this?**



- a) This is a pen.
- b) This is a bag.
- c) This is a table.

**28- What is this?**



- a) Desk.
- b) Book.
- c) Scissors.



**29-Görseldeki hayvanların sıralaması hangisidir?**

- a) Monkey- bird – fish- turtle
- b) Dog- fish – horse- turtle
- c) Monkey- dog – rabbit- fish

**dance**

**run**

**swim**



**30-Tabloya göre hangi seçenek doğrudur?**

- a) I don't like dance.
- b) I don't like run.
- c) I don't like swim.

# CEVAP ANAHTARI

TÜRKÇE	
1	A
2	C
3	B
4	A
5	B
6	A
7	C
8	B
9	C
10	C
11	C
12	C
13	C
14	B
15	A
16	C
17	C
18	A
19	C
20	C
21	C
22	B
23	C
24	B
25	A
26	B
27	A
28	C
29	B
30	B

MATEMATİK	
1	A
2	B
3	C
4	B
5	C
6	A
7	B
8	A
9	C
10	B
11	C
12	B
13	B
14	A
15	C
16	B
17	C
18	A
19	A
20	B
21	C
22	A
23	A
24	B
25	C
26	C
27	B
28	B
29	A
30	A

HAYAT BİLGİSİ	
1	B
2	C
3	C
4	B
5	C
6	B
7	B
8	C
9	A
10	A
11	C
12	C
13	C
14	A
15	C
16	A
17	B
18	A
19	C
20	C
21	B
22	A
23	A
24	C
25	B
26	B
27	B
28	C
29	A
30	A

İNGİLİZCE	
1	A
2	B
3	A
4	B
5	B
6	C
7	B
8	C
9	B
10	A
11	A
12	C
13	B
14	B
15	C
16	B
17	C
18	C
19	A
20	B
21	C
22	A
23	A
24	A
25	C
26	A
27	A
28	C
29	C
30	B