

3. SINIF



10. Hafta Fasikül  
Yıl Sonu Deneme Sınavı

# EVDE EĞİTİM E-FASİKÜL' DE

## YERKÖY ARGE

Yerköy İlçe Milli Eğitim Müdürlüğü'nün  
uzaktan eğitim sürecinde öğrencilerimiz  
için hazırladığı destek hizmetidir.

<http://yerkoy.meb.gov.tr>





## Yerköy İlçe Millî Eğitim Müdürlüğü

**Mehmet DURMAZ**  
İlçe Milli Eğitim Müdürü

**Serdal BORA**  
**H.Hüseyin ASAR**  
Şube Müdürleri

**M.Suat ATİLA**  
Koordinatör ve Grafik Tasarım

### Hazırlayanlar

Cavidan KURU	Şht. Kamil Çelikkaya İlkokulu
Ersin BÜYÜKBAŞ	Reşat Akyön İlkokulu
Bekir ÇAKICI	TOKİ Şht. Ali Salmanlı İlkokulu
Cihan BARDAK	Atatürk İlkokulu
Esra BARDAK	Şht. Mehmet Tez And. Lisesi
Duygu ULUCAN	TOKİ Şht. Ali Salmanlı İlkokulu





# TÜRKÇE

## KORONA( COVID -19)

Ülkemizde ve bütün Dünya'da baş gösteren korona( covid -19 ) adı ile bilinen salgın hastalığı ilk önce Çin' de sonraları nerdeyse bütün Dünya'da görülmeye başladı. Temas yolu ile insanlara bulaşan hastalık İnsanların yaşamını olumsuz yönde etkiledi. Kimi insan işini, kimi yüzbinlerce insan da yaşamını kaybetti. Çoluk çocuk yaşlı genç herkesin yaşamı sınırlandırıldı. Okullar tatil edildi. Bu süreçte en değerli şeyin sağlık olduğu anlaşıldı. Bilim insanları hastalığın tedavisi için yoğun bir şekilde çalışmaya başladılar.

El temizliği başta olmak üzere hijyen kurallarına, sosyal mesafeye ve maske takmaya dikkat edildiği sürece hastalıktan korunabileceğimizi uzmanlardan öğrenmiş olduk.

**Bekir ÇAKICI**

**İlk 4 soruyu metne göre cevaplayınız.**

**1) Metne göre Korona ( Covid-19) hastalığı ilk önce hangi ülkede ortaya çıkmıştır?**

- A) Türkiye
- B) Çin
- C) Almanya

**2) Metne göre Korona ( Covid-19 ) hastalığının görülmesinin nedenlerinden olmayanı aşağıdakilerden hangisidir?**

- A) İnsanların birbiri ile teması sonucu görülmüştür.
- B) İnsanların el temizliğine dikkat etmemesi sonucu görülmüştür.
- C) İnsanların bolca C vitamini tüketmeleri sonucu görülmüştür.

**3) Metne göre aşağıdakilerden hangisi Korona( Covid-19 ) hastalığının sonuçlarından biri değildir?**

- A) Okullar tatil edilmiştir.
- B) En önemli şeyin oyun olduğu anlaşılmıştır.
- C) Yüzbinlerce İnsan ölmüştür.

**4) Metne göre Korona (Covid-19) hastalığından korunmak için aşağıdakilerden hangisi yapılmamalıdır?**

- A) Maske takılmalıdır.
- B) El temizliğine dikkat edilmelidir.
- C) İnsanlar ile temas edilmelidir.

# TÜRKÇE

5) Aşağıdaki cümlelerin hangisinde sebep-sonuç ifadesi yoktur?

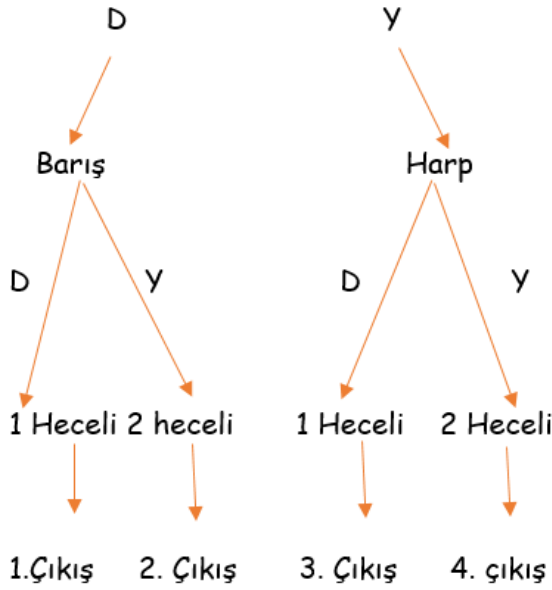
- A) Parkta oynadığı için ayakkabıları kirlenmiş.  
B) Oğuz, çok şeker yediği için karnı ağrıdı.  
C) Mustafa gibi arkadaşım hiç olmadı

7) Derslerime çalıştığım ..... başarılı oluyorum.

Yukarıdaki cümle aşağıdaki hangi sözcük ile tamamlanabilir?

- A) için B) ama C) çünkü

6) Savaş kelimesinin eş anlamlısı



yanıt

rüya

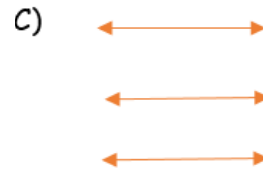
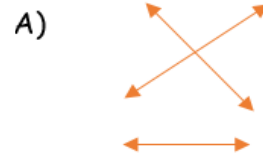
düş

cevap

siyah

kara

8) Yukarıdaki eş anlamlı sözcükler eşleştirildiğinde nasıl bir şekil ortaya çıkar?



Yukarıdaki ifadelere göre doğru çıkış aşağıdakilerden hangisidir?

- A) 1. Çıkış  
B) 2. Çıkış  
C) 3. Çıkış

# TÜRKÇE

9) Aşağıdaki satır sonuna sığmayan kelimelerden hangisinde yanlışlık yapılmıştır?

A)

öğret-  
men

B)

Öğr-  
etmen

C)

Öğ-  
retmen

10)

1.kavun

2.karpuz

3.kestan

4.kiraz

Yukarıdaki sözcükleri sözlük sırasına koyarsak sıralama nasıl olur?

A) 2-1-3-4

B) 1-2-3-4

C) 3-4-2-1

11) Aşağıdaki altı çizili sözcüklerden hangisi eş sesli bir sözcüktür?

A)Kötü haberi herkese yaydı.

B)Yemek yerken iki bardak su içerdi.

C)Üst kattan gelen ses bütün apartman tarafından duyuldu.

12) Sevgili çocuklar bu cümlede hangi sorunun cevabı yoktur?

Zeynep, dün hastalandığı için ödevini yapamadı.



A)Kim

B) Ne zaman

C) Nasıl

13) (1) Enes, o günü spor seçmelerine katılacaktı.(2) Bu seçmelere ilk defa katılacağı için çok heyecanlı idi.(3) Hayalindeki futbolcu gibi bir gün top oynamak istiyordu. (4) Enes, futbolda çok başarılı idi ama hiçbir takımda daha oynamamıştı.

Bu metinde numaralandırılmış cümlelerin hangisinde duygusal bir ifadeye yer verilmiştir?

- A) 1                      B) 2                      C) 3

14)



Ecrin

Size bugün fındıklı lokum alacağım.



Poyraz

Gözlükçü, bu yıl satışların iyi olduğunu söyledi.



İclal

Fatma, en arkadaki sırada oturuyordu.

Yukarıdaki cümleleri kuran 3/C sınıfı öğrencilerinden hangisinin belirttiği sözcük aldığı ek dolayısı ile anlam değişikliğine uğramamıştır?

- A) Ecrin    B) Poyraz  
C) İclal

15)

Anne, çizgili gömleğimi ütüler misin?



Yukarıdaki cümlede varlığın özelliğini belirten sözcük hangisidir?

- A) Anne  
B) çizgili  
C) gömleğimi

16) Aşağıdaki cümlelerin hangisinde ismin yerine kullanılmış bir sözcük vardır?

- A) Yarın akşam size geleceğiz.  
B) Pencereme yaralı bir kuş kondu.  
C) Korkudan ne yapacağımı bilemedim.

# TÜRKÇE

17) Aşağıdaki cümlelerin hangisinde büyük harflerin kullanımı ile ilgili bir yanlışlık yapılmıştır?

- A) Kedimiz Minnoş, mışıl mışıl uyuyor.
- B) Yozgat'lı tanıdığım bir arkadaşım var.
- C) Ödevlerimin kontrolünü genellikle ablam Züleyha yapar.

18) Aşağıdaki cümlelerden hangisinin sonuna farklı bir noktalama işareti getirilmelidir?

- A) Hafta sonu ne yapmayı düşünüyorsun
- B) Bu hafta pazara ben de gideceğim
- C) Akşam yemeğe bize gelir misin

19) Aşağıdaki cümlelerin hangisinde bir olay nedeni ile birlikte verilmiştir?

- A) Dolabındaki kalemlerden birini bana verdi.
- B) Yağmurda arkadaşımın şemsiyesini beraber kullandık.
- C) O günü acil işim çıktığı için buluşamadık.

20)

Aşağıdaki cümlelerin hangisinde farklı anlama gelen bir atasözü vardır?



- A) Üzüm üzüme baka baka kararır.
- B) Bir elin nesi var iki elin sesi var.
- C) Birlikten kuvvet doğar.

21)



3. Sınıfa giden Salih sınıf arkadaşlarına aşağıdaki sorunun cevabını sorar.

"Gözüne girmek" deyimini aşağıdaki cümlelerin hangisinde birisinin beğenisini kazanmak anlamında kullanılmıştır?

- A) Çok yakınımda duruyorsun. Neredeyse gözüme gireceksin.
- B) Ahmet, öğretmene verdiği cevaplar ile öğretmenin gözüne girdi.
- C) Ravza'nın elindeki çöp arkadaşının gözüne girdi.



22)



1. Patlayan
2. Tekerini
3. arabanın

\_\_\_\_\_ tamir  
ettik.

Yukarıdaki sözcüklerden anlamlı ve kurallı bir cümle oluşturmak isteyen Sümeyye'nin nasıl bir sıralama yapması gerekir?

- A) 1-2-3    B) 3-1-2    C) 3-2-1

23)

Yerköy ilçesi Yozgat iline bağlı şirin bir şehrimizdir. Tarım arazileri çok verimlidir. Buğday, arpa şeker pancarı, nohut fasulye mercimek, ayçiçeği, kavun, karpuz vb. ürünler yetiştirilmektedir. Yemekleri ile de meşhur olan ilçenin en sevilen yemekleri arasında arabaşı, tandır kebabı ve kıymalı pidesi gelmektedir.



Yukarıdaki metnin konusunu doğru tahmin eden Necati aşağıdakilerden hangisini söylemiş olabilir?

- A)Yerköy'ün tanıtımı  
B) Yozgat'ın doğal güzellikleri  
C)Ülkemizde yetişen ürünler

24)



Zeynep çok şanslı bir çocuktur. Babası boş zamanlarında atölyesinde maketten evler, bebekler yapardı. Zeynep, Türkçe dersinden öğretmenin verdiği deyimler ve atasözleri ile ilgili maket çalışmasını babası ile beraber yapmıştı. Herkes Zeynep'in maketine hayran kalmıştı.

Yukarıdaki metinde aşağıdaki hikâye unsurlarından hangisi yoktur?

- A) Ana karakter  
B) Olay  
C) Zaman

25) Aşağıda verilen sözcüklerden hangisinin yazımı doğrudur?

- A) sipor  
B) tıraş  
C) tiren



# TÜRKÇE

26) **Karşılaştırma:** İki ya da daha çok durumun birbiri ile benzer ya da farklı yönlerinin ifade edilmesi.



Yukarıdaki açıklamayı yapan TOKİ Şehit Ali Salmanlı İlkokulu 3/C sınıfı öğrencisi Ayşegül aşağıdaki cümlelerin hangisinde karşılaştırma yapmıştır?

- A) Melih, abisi Mehmet'ten daha iyi flüt çalıyor.  
B) Bütün öğrenciler spor salonunda toplanmışlardı.  
C) Uzun zamandır bulamadığı kitabı dolabından çıktı.

27) Babam sen evin kahramanı  
İyi ki hep yanımdasın  
Emin ol her zaman aklımdasın  
Çünkü sen benim canım babamsın

Yukarıdaki dördlüğün ana duygusu aşağıdakilerden hangisidir?

- A) Yaşama sevinici  
B) Baba sevgisi  
C) Yalnızlık

28)

Salon sporları arasında basketbol( )  
Voleybol( ) ve hentbol gelir( )

Yukarıdaki cümlede parantez içinde belirtilen yerlere sırası ile hangi noktalama işaretleri getirilmelidir?

- A) (.) (.) (?)  
B) (.) (.) (!)  
C) (.) (.) (.)

29) Aşağıdaki cümlelerin hangisinde anlamca olumsuz bir ifade vardır?

- A) Adem, derslerine her zaman çalışır.  
B) Berat çok güzel flüt çalar.  
C) Ülkü güzel resim yapmaz.

30)

"Son söylediği söz ile baltayı taşa vurdu."

Yukarıdaki cümlede altı çizili deyim hangi anlamda kullanılmıştır?

- A) İstediyini elde etmek için kurnazlık yapmak.  
B) Birini farkında olmadan kızdırmak veya üzme.  
C) Baltayı taşa vurarak baltayı kırmak, parçalamak.

TÜRKÇE TESTİ  
BİTMİŞTİR.

# MATEMATİK


1. Cep telefonunu hangi standart olmayan ölçme aracıyla ölçebiliriz?

- A) adım B) parmak C) kulaç

2. Eren uzunluğu 5 cm olan kalemtıraş ile masanın enini 8 defada ölçmüştür. Babasının kalemtıraştan daha uzun olan bir kalem ile ölçümü aşağıdakilerden hangisi olamaz?

- A) 3 B) 6 C) 9

3.



Onur sınıfın duvar uzunluğunu 8 kulaç ölçmüştür. Buna göre Mete aynı duvarın uzunluğunu kaç adımda ölçer?

- A) 16 B) 12 C) 8

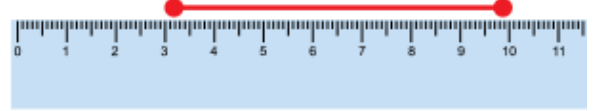
4.



Yukarıdaki kareli kâğıtta iki kare arası 1cm'dir. Buna göre doğru parçasının uzunluğunu kaç cm'dir?

- A) 6cm B) 12cm C) 24cm

5.

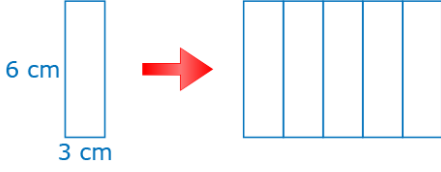


Yukarıdaki doğru parçasının uzunluğu kaç santimetredir?

- A) 3cm B) 7cm C) 10cm

# MATEMATİK

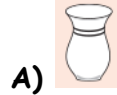
6.



Yukarıdaki ile aynı beş tane dikdörtgenin birleşmesiyle oluşan büyük dikdörtgenin çevresi kaç santimetredir?

- A) 18cm      B) 42cm      C) 66cm

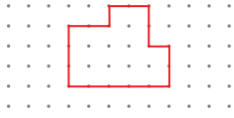
9. Aşağıdaki kaplardan hangisi 1 litreden fazla su alır?



7.

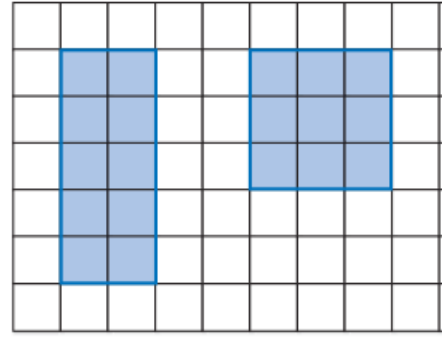


Şeklin çevre uzunluğu hesaplanırken bütün kenarların uzunlukları toplanır.



Yukarıda verilen bilgiye göre şeklin çevresi hesaplanırken kaç adet kenar uzunluğu toplanmalıdır?

- A) 8      B) 6      C) 5



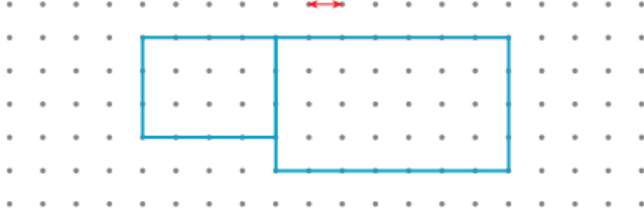
10.

Yukarıdaki dikdörtgenin ve karenin alanı toplamı kaç birimdir?

- A) 15      B) 13      C) 19

8.

İki nokta arası 1 birimdir.



Yukarıdaki şeklin çevresi kaç birimdir?

- A) 36 birim      B) 30 birim  
C) 15 birim




11. Hüseyin, yaptığı 346 L pekmezin 178 litresini sattı. Kaç litre daha satarsa 65 litre pekmez kalır?

- A) 103 L      B) 243 L      C) 105 L



# MATEMATİK

12. Hangi seçenekteki düzlemsel şekilleri birleştirerek bir silindir elde edebiliriz?

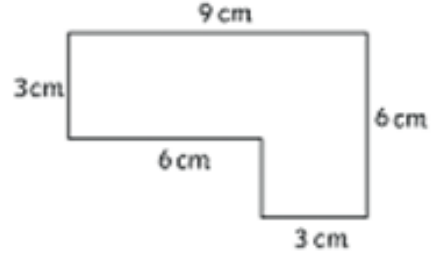
- A) 
- B) 
- C) 

13. Bir poşette 8 yarım, 12 de çeyrek kilogram un vardır. Poşetteki unların toplamı kaç kilogramdır?

- A) 7 kg      B) 20 kg      C) 8 kg

14. Aşağıdakilerden hangisi bir ışın modelidir?

- A) Tren yolu  
B) Örgü şişi  
C) Tahta parçası



15.

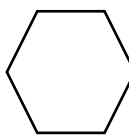
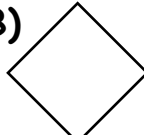

Yukarıdaki şeklin çevre uzunluğu kaç cm'dir?

- A) 27cm      B) 30cm      C) 33cm

16. Mehtap bakkaldan 6 tane yarım litrelik, 7 tane 1 litrelik, 4 tane 2 litrelik süt aldı. Aldıklarının toplamı kaç litredir?

- A) 18 L      B) 17 L      C) 20 L

17. Aşağıdaki geometrik cisimlerden hangisinin kenar sayısı diğerlerinden fazladır?


- A)       B)       C) 

# MATEMATİK

18. Aşağıdaki geometrik cisimlerle ilgili verilen bilgilerden hangisi yanlıştır?

- A) Silindirin 3 yüzeyi vardır.
- B) Kürede köşe ve ayrıt yoktur.
- C) Kare prizmanın 12 köşesi vardır.

19.



Yukarıdaki kare tam ortasından iki eş parçaya ayrılıyor. Oluşan şekillerle ilgili aşağıdakilerden hangisi söylenebilir?

- A) İki eş kare oluşur.
- B) İki eş dikdörtgen oluşur.
- C) İki eş üçgen oluşur.

20. Aşağıdaki harflerden hangisinin simetri doğrusu yoktur?

- A) **G**
- B) **A**
- C) **E**

21. 1.  $225 \text{ cm} = 2 \text{ m } 25 \text{ cm}$

2.  $900 \text{ m} = 9 \text{ cm}$

3.  $3 \text{ m } 7 \text{ cm} = 207 \text{ cm}$

4.  $6 \text{ m } 48 \text{ cm} = 648 \text{ cm}$

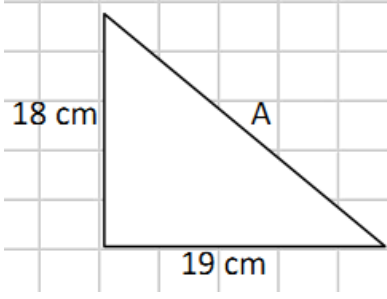
Yukarıdaki eşleştirmelerden kaç tanesi doğrudur?

- A) 2
- B) 3
- C) 4

22. 8 m içinde kaç tane yarım metre vardır?

- A) 4
- B) 8
- C) 16

# MATEMATİK



23.

Yukarıdaki üçgenin çevresi 57 cm'dir. Buna göre A kenarının uzunluğu kaç cm'dir?

- A) 37      B) 19      C) 20

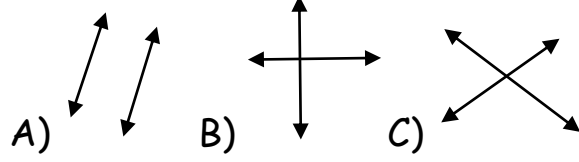
24. Bir bakkal 120 kg lık pirincin çeyreğini sattığına göre geriye kaç kilogram pirinci kalmıştır?

- A) 30      B) 90      C) 150

25. Ali 187 dakika ders çalışmıştır. Buna göre Ali kaç saat kaç dakika ders çalışmış olur?

- A) 2 saat 47 dakika  
B) 3 saat 7 dakika  
C) 3 saat 17 dakika

26. Aşağıdaki doğrulardan hangileri paralel doğrulardır?



27. Aşağıdaki öğrencilerden hangisi ölçme birimlerini doğru kullanmıştır?

- A) Adem: 3 L soğan aldım.  
B) Kayra: Her gün yarım kilogram süt içiyorum.  
C) Şamil: Pazardan 2 kilogram kivi aldım.

28. Yarım litresi 15 TL olan zeytinyağından 5 L aldık. Satıcıya kaç TL ödememiz gerekir?

- A) 150      B) 75      C) 100

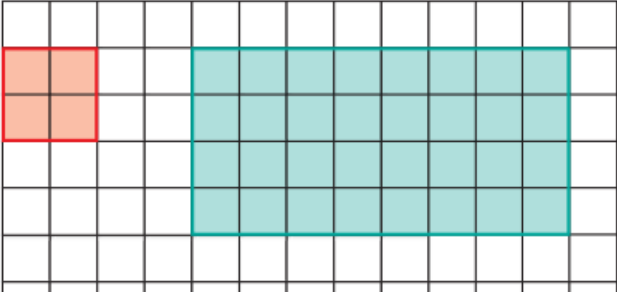


# MATEMATİK

29. Aşağıdaki harflerin hangisinde eğik doğrular kullanılmamıştır?

- A) **M**      B) **A**      C) **E**

30.



Yukarıdaki şekilde kırmızı alan domates yeşil alan biber ekilmiştir. Buna göre biber ekilen alan domates ekilen alandan kaç birim kare fazladır?

- A) 32      B) 28      C) 36

MATEMATİK TESTİ  
BİTMİŞTİR.

# HAYAT BİLGİSİ

1) Aşağıdakilerden hangisi bir annenin görevi olabilir?

- A) Ödev yapmak
- B) Evi temizlemek
- C) Tamirat yapmak

2) Aşağıdakilerden hangisi aile içi demokrasiye örnektir?

- A) Evde kararları hep babanın başına alması
- B) Çocuğun her istediğini, babanın koşulsuz kabul etmesi
- C) Evde herkesin fikirlerini rahatça söylemesi

3) "İnsanlar birbirlerinin farklılıklarına ve fikirlerine ..... davranmalıdır" Cümlesinde noktalı yerlere aşağıdakilerden hangisi getirilemez?

- A) Katı
- B) Hoşgörülü
- C) Saygılı

4) Aşağıdakilerden hangisi dengeli beslenmeyi anlatır?

- A) Bol bol çikolata yemek
- B) Her besinden yeterince yemek
- C) Sadece sebze yemeği yemek

5) Aşağıdakilerden hangisini okulda öğreniriz?

- A) Odamızı toplamak
- B) Yardımlaşarak beraber yaşamak
- C) Yemek yapmak

6) Acil durum olmayan seçenek hangisidir?

- A) Bisikletten düşmek
- B) Boğulmak
- C) Yangın çıkması

# HAYAT BİLGİSİ

7) Aşağıdakilerden hangisi dengeli beslenmede önemli bir yere sahiptir?

- A) Asitli içecekler
- B) Bol yağlı yiyecekler
- C) Süt ve süt ürünleri

8) Aşağıdakilerden hangisi hem görsel hem de işitsel bir iletişim aracıdır?

- A) Televizyon
- B) Gazete
- C) Radyo

9) Aşağıdakilerden hangisi bir değer değildir?

- A) Sevgi
- B) Saygı
- C) Beslenme

10) Aşağıdakilerden hangisi olumlu bir değerdir?

- A) Taraf tutmak
- B) Haksızlık etmek
- C) Eşit davranmak

11) "Bir yerin tepeden görünüşüne kuşbakışı denir." Buna göre kuşbakışı olarak bir yerin görünüşünün kağıt üzerine çizilmesine ne denir?

- A) Harita
- B) Kroki
- C) Resim

12) Yolda bir kaza olduğunu görürsek, aşağıdaki telefon numaralarından hangisini aramalıyız?

- A) 110
- B) 112
- C) 187



# HAYAT BİLGİSİ

13) Çekirdek ailede aşağıdakilerden hangisi bulunmaz?

- A) Hala
- B) Anne
- C) Baba

14) Aşağıdakilerden hangisini yön bulmak için kullanmayız?

- A) Pusula
- B) Kuzey yıldızı
- C) Ay

15) Gece yön bulmak için hangisini kullanırız?

- A) Güneş
- B) Ay
- C) Kuzey Yıldızı

16) Önünü Güneş'in doğduğu yöne dönen birisinin sağ kolu hangi yönü gösterir?

- A) Kuzey
- B) Güney
- C) Batı

17) Pusulanın kırmızı ucu hangi yönü gösterir?

- A) Doğu
- B) Kuzey
- C) Batı

18) Yangın çıkarsa hangi numarayı aramalıyız?

- A) 110
- B) 112
- C) 155

19) Günümüzü planlarken en çok hangisine zaman ayırmalıyız?

- A) Uyumak
- B) Oyun oynamak
- C) Ders çalışmak

20) Telefonu kim icat etmiştir?

- A) Louis Pasteur
- B) Graham Bell
- C) Thomas Edison

# HAYAT BİLGİSİ

21) Aşağıdakilerden hangisi bir liderin özellikleri arasında yer almaz?

- A) Taraf tutmak
- B) Dürüst davranmak
- C) Adil olmak

22) Öğretmeni, Ayşe'ye evin adresini soruyor. Ayşe ev adresini söylüyor. Ayşe'nin verdiği ev adresinde aşağıdakilerden hangisi bulunmaz?

- A) Sokak adı
- B) Evin rengi
- C) Mahalle adı

23) Aşağıdakilerden hangisi yanlıştır?

- A) Farklı özelliklere sahip kişilere hoşgörülü davranmalıyız.
- B) Herkesin fikirlerine saygı göstermeliyiz.
- C) Arkadaşımızın fiziksel özellikleriyle dalga geçebiliriz.

24) Hangisi dedemizin çocukken oynadığı oyunlardan biridir?

- A) Atari
- B) Bilgisayar oyunu
- C) Topaç

25) Aşağıdakilerden hangisi vatandaşlık görevi değildir?

- A) Oy kullanmak
- B) Maça gitmek
- C) Vergi vermek

26) Aşağıdakilerden hangisi dini bayramlarımızdandır?

- A) 1 Mayıs İşçi Bayramı
- B) Ramazan Bayramı
- C) Cumhuriyet Bayramı

# HAYAT BİLGİSİ

27) \* Hata yaparsam özür dilerim.

\* Arkadaşımın fiziksel özellikleri ile alay etmem.

\* Otobüste büyüklerime yer vermem.

\* Arkadaşlarımdan izin almadan da eşyalarını kullanabilirim.

**Yukarıdaki yargılardan kaç tanesi doğrudur?**

A) 2

B) 3

C) 4

28)

1. Üretim tarihi ve son kullanma tarihi

2. Pahalı olması

3. TSE Belgesi

**Bilinçli tüketici yukarıdakilerden hangisini veya hangilerini dikkate alır?**

A) 1 ve 3

B) 1 ve 2

C) 2 ve 3

29) Doğanın kirletilmesine karşı sorumlu olmak isteyen Ali, hangi kulübe üye olmalıdır?

A) Tiyatro Kulübü

B) Spor Kulübü

C) Çevre Kulübü

30) Erozyonla mücadele eden, ağaçlandırma ve doğal varlıkların korunmasını amaç edinen sivil toplum kuruluşu hangisidir?

A) ÇEVKO

B) ÇEKÜL

C) TEMA

**HAYAT BİLGİSİ TESTİ  
BİTMİŞTİR.**

# FEN BİLİMLERİ

1.



Aşağıdaki ifadelerden hangisi yanlıştır?

- A) Cansız varlıklar doğar, büyür ve ölürlür.
- B) Canlılar yardım almadan hareket edebilirler.
- C) Çam ağacı, canlı varlıklara örnek verilebilir.

2. Aşağıdaki seçeneklerin hangisinin tamamında canlı varlıklar verilmiştir?

- A) Taş, Toprak, Hava
- B) Arı, Kuş, Bulut
- C) Papatya, Kelebek, Tavşan

3. İnsanlar tarafından oluşturulan park, bahçe gibi yerler hangi çevreye örnek olarak gösterilebilir?

- A) Yapay B) Doğal C) Eğlenceli

4. Aşağıdaki ifadelerden hangisi yanlıştır?

- A. Çamlık Milli Parkı Yozgat ilimizde bulunmaktadır.
- B. Kaçkar Dağı Milli Parkı Nevşehir ilimizde bulunmaktadır.
- C. Manyas Kuş Cenneti Milli Parkı Balıkesir ilimizde bulunmaktadır.


5. Aşağıdakilerden hangisi yapay çevredir?

- A) Park B) Irmak C) Göl

6. Canlılar dünyaya geldikten sonra büyür, gelişir, çoğalır ve bir süre sonra ölür. Bu olaya ne ad verilir?

- A. Hayat süreci
- B. Yaşam döngüsü
- C. Ömür süresi

# FEN BİLİMLERİ



7. Verilen görsel bitki döngüsünün hangi evresini göstermektedir?

- A. Çiçeklenme evresi
- B. Yetişkin bitki evresi
- C. Çimlenme evresi

8. Bazı bitkiler uzun yıllar yaşayabilir. Aşağıdakilerden hangisi buna örnektir?

- A. Fasulye
- B. Ceviz ağacı
- C. Papatya

9. Çevre kirliliğine karşı alınabilecek önlemlere aşağıdakilerden hangisi örnek verilebilir?

- A. Kâğıt, cam, plastik gibi maddeleri geri dönüştürmeye gerek yoktur.
- B. Fabrika atıklarının doğaya karışmasını önlemek.
- C. Ormandaki ağaçları azaltmak.

10. "Bilimsel ve estetik açıdan ulusal ve uluslararası nadir bulunan tabii ve kültürel kaynak değerlerini koruma, dinlenme ve turizm alanlarına sahip alanlara denir."

Yukarıdaki tanım aşağıdakilerden hangisine aittir?

- A. Doğal anıt
- B. Milli park
- C. Yapay çevre

11. Pamukkale Travertenleri hangi ilimizdedir?

- A. Denizli
- B. Ankara
- C. Balıkesir

12. Aşağıdakilerden hangisi canlıların doğal yaşam alanlarına zarar verir?

- A. Yemek artıkları
- B. Elma kabukları Plastik şişeler



# FEN BİLİMLERİ

13. I. Piknik alanlarında çöplerimizi bırakmalıyız.  
II. Boş alanları ağaçlandırmalıyız.  
III. Çöplerimizi akarsulara atmamız.  
IV. Fabrika bacalarına filtre takmalıyız.

Yukarıda verilenlerden kaç tanesi doğal çevreyi korumak için yapılması gerekenlere örnektir?

- A) 4                      B) 2                      C) 3

14. Aşağıdakilerden hangisi temiz çevreye örnektir?



15. Aşağıdakilerden hangisi doğal çevrenin özelliklerinden değildir?

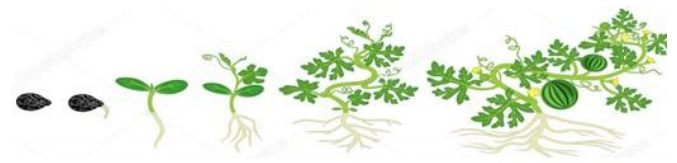
- A. Doğal çevrede canlı çeşitliliği çoktur.  
B. Doğal çevrenin havası ve suyu temizdir.  
C. Doğal çevrede insanlara ve araçlara çok rastlanır.



16. Bu görseli gördüğümüzde aşağıdakilerden hangisi aklımıza gelir?

- A. Döner kavşak trafik işareti.  
B. Yapay çevre işareti.  
C. Geri dönüşüm işareti.

17.



Yukarıdaki görsel hangi olayı anlatmaktadır?

- A. Bitkilerin çeşitliliği  
B. Yapay çevre örneği  
C. Bitkilerin yaşam döngüsü

# FEN BİLİMLERİ

18. Elektriğin icat edilmesiyle ilgili aşağıdakilerden hangisi yanlıştır?

- A ) İşlerimizi kısa sürede bitirebiliriz.
- B ) Yapacağımız işler aksamaya başlamıştır.
- C ) Hayatımız kolaylaşmıştır.

19 ) "Elektriğin icat edilmesiyle birlikte teknoloji de gelişmeye başlamış ve hayatımıza birçok olumlu katkısı olmuştur." Yukarıdaki açıklamaya göre, hangi çocuğun söylediği buna örnek olamaz?

- A. Bekir: Bulaşık makinesi sayesinde annem bulaşıkları kısa zamanda yıkayabiliyor.
- B. Ömer Faruk: Bilgisayar başında çok zaman geçirdiğim için arkadaşlarımla sokakta oyun oynayamıyorum.
- C. Muhammet Emin: Annem çamaşır makinesi sayesinde çamaşırların temizliğine ayıracağı zamanı bize ayırıyor.



20. Yandaki aracın yerine günümüzde hangi elektrikli araç kullanılmaktadır?



21. Aşağıdakilerden hangisinin kullanım alanı diğerlerinden farklıdır?



# FEN BİLİMLERİ

22. Aşağıdaki araçlardan hangisini kullanmak için elektriğe ihtiyaç yoktur?

- A. Matkap
- B. Hesap makinesi
- C. Tornavida

23. Elektrik enerjisinde tasarruf için aşağıdakilerden hangisi yapılmaz?

- A ) Açma kapama düğmesinden kapatılan elektrikli araçların fişi çekilmeli.
- B ) Evlerimize tasarruflu ampuller takılmalı.
- C ) Gece yatarken oturma odasının ışığı açık bırakılmalı



24. Yandaki sembol ne anlama gelmektedir?

- A ) İş makinesi çıkabilir işareti.
- B ) Elektrik tehlike işareti.
- C ) Yaya geçidi işareti.

25. Evde bozuk olan prizi değiştirirken öncelikle ne yapılmalıdır?

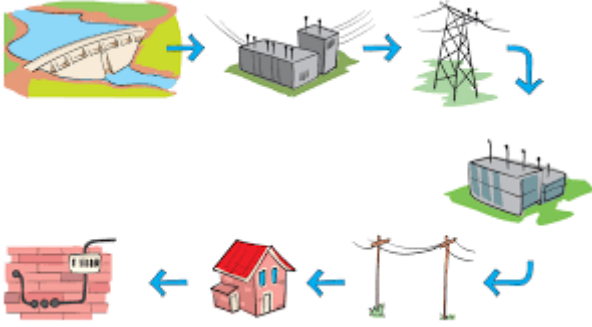
- A. Öncelikle priz yerinden çekip çıkarılmalı.
- B. Elektrikli bir aracın fişi takılıp priz kontrol edilmeli.
- C. Prize dokunmadan şalterden elektrik kesilmeli.

26. Atık pillerle ilgili aşağıdaki ifadelerden hangisi doğrudur?

- A. Atık pilleri en kısa zamanda toprağa gömüp imha etmeliyiz.
- B. Atık pilleri yakınımızda bulunan atık pil kutusuna atmalıyız.
- C. Atık pilleri poşete koyup evimizdeki çöp kutusuna atmalıyız.

# FEN BİLİMLERİ

27.



Yukarıdaki görselde anlatılan aşağıdakilerden hangisidir?

- A. Şehir elektriğinin zararları.
- B. Şehir elektriğinin kullanım amacı.
- C. Şehir elektriğinin üretiminden tüketimine kadar olan evreleri.

28.



Yandaki görselde verilen araç hangi amaç için kullanılır?

- A ) Elektrik akımını ayarlamak amacıyla.
- B ) Elektrikli aletlerin kablolarının prize yetişmediği yerlerde.
- C ) Elektrikli aletlerin tasarruflu çalışması için.

29. Aşağıdaki görselle alakalı aşağıdaki verilenlerden hangisi doğrudur?



- A. Birden fazla fiş takmak için doğru bir yöntem kullanılmamış.
- B. Yapacak başka bir yöntem olmadığı için bu şekilde kullanılmış.
- C. Uzatma kabloları doğru bir şekilde kullanılmış.




30. Elektrikli araç gereçlerin tamiri ile alakalı aşağıda verilenlerden hangisi doğrudur?

- A ) Tamir işini evdeki büyüklerimiz yapabilir.
- B ) Evdeki herkes tamir işini yapabilir.
- C ) Uzman kişilerden başkası yapmamalıdır.

**FEN BİLİMLERİ TESTİ  
BİTMİŞTİR.**









# İNGİLİZCE

1. Seçeneklerde verilen ifadelerden hangisi yanlıştır?

Edirne	20°C	
İzmir	35°C	
Kocaeli	3 °C	

- A) Edirne is rainy.  
B) Kocaeli is snowy.  
C) İzmir is cold.

2.

		
Arda		
Nazlı		
Ege		

Tablodaki bilgilere göre hangi ifade yanlıştır?

- A) Arda likes dolphin,, he dislikes bee.  
B) Nazlı likes frog, but she dislikes seahorse.  
C) Ege likes ladybird, but he dislikes seagull.

3.How many seagulls are there?



- A) There are fifteen seagulls.  
B) There are seventeen seagulls.  
C) There are sixteen seagulls.

4. I like dolphin,.....I dislike shark.

Boş bırakılan yere hangi ifade gelmelidir?

- A) but      B) and      C) or

5.

Eren : .....

Arda : I am happy.

Eren Arda'ya hangi soruyu sormuş olabilir ?

- A) How old are you ?  
B) What is your name ?  
C) How do you feel ?



# İNGİLİZCE

6.



Yukarıdaki harfler düzenlendiğinde evimizin hangi bölümü ortaya çıkar?

- A) bedroom
- B) playrom
- C) bathroom

7.



- A) I'm sorry.I don't know.
- B) Over there.
- C) Right here.



8.

Yukarıdaki görsele göre; Ayşe kendisini uyandıran annesine hangisini söylemelidir?

- A) Good evening.
- B) Good night.
- C) Good morning.

9.



Zübeyde Hanım is Atatürk's

\_\_\_\_\_.

Boşluğa hangi kelime gelmelidir?

- A) father
- B) mother
- C) sister

# İNGİLİZCE



10.

This is a picture of a .....

- A) armchair
- B) sofa
- C) curtain

11. Kelimenin eksik harflerini tamamlayan doğru seçeneği işaretleyiniz.

H-SP-T-L

- A) O / U / A /
- B) O / I / U /
- C) O / I / A /

12. Elif: ..... are you now?

Berna: I am at home.

Boşluğa hangi kelime gelmelidir?

- A) Who
- B) What
- C) Where

13. It 's small and green. It can jump. It's a.....


Boşluğa hangi kelime gelmelidir?

- A) pigeon
- B) frog
- C) seagull

14. Cümleyi tamamlayan doğru seçeneği işaretleyiniz.

..... has got sharp and big teeth.

- A) A seahorse
- B) A shark
- C) A bee



15.

- A) swim
- B) walk
- C) climb

# İNGİLİZCE



16. Yukarıdaki görselde anne ile çocuk evin hangi bölümündedir?

- A) bedroom
- B) kitchen
- C) livingroom

17. Görselde verilen çocuk için aşağıdakilerden hangisi söylenebilir?



- A) hungry
- B) angry
- C) sad

18. Aşağıdaki kelimeler, zıt anlamlıları ile birlikte verilmiştir.

Hangisi yanlıştır?


- A) fast - slow
- B) small- big
- C) heavy- short



19. Yukarıdaki görsele göre boş bırakılan yere hangisi gelmelidir?

There are \_\_\_\_\_ students.

- A) twenty
- B) twelve
- C) eleven



20. Görsele uygun seçeneği işaretleyiniz.

- A) hungry
- B) tired
- C) bored

# İNGİLİZCE

21. .... ..is the ..... in Rize?

It is .....



Görsele bakıp,  
boşluklara hangi kelimeler  
gelmelidir?

- A) How/ weather/ snowy /
- B) How/ weather/ rainy /
- C) Weather / how / windy /

22. Aşağıdaki eşleştirmelerde yanlış olan seçeneği işaretleyiniz.

- A) television - livingroom
- B) kettle - kitchen
- C) soap - playroom

23. Cümleyi tamamlayan doğru seçeneği işaretleyiniz.

..... can't fly, but it can.....

- A) A bee / run
- B) A dolphin / swim
- C) A butterfly / jump

24. - Who is Hasan?

- He is my .....

Konuşmayı tamamlayan ifade  
aşağıdakilerden hangisidir?

- A) brother
- B) sister
- C) aunt

25. SQ—RE

Kelimenin eksik harflerini  
tamamlayan doğru seçeneği  
işaretleyiniz.

- A) U / O
- B) U / A
- C) O / U

26. Boşluğa hangi kelime  
gelmelidir ?

The boat is ..... the river.



- A) in
- B) on
- C) at

# İNGİLİZCE

27. - How can I go to Erzurum?

- .....



Görsele bakıp, doğru cevabı işaretleyiniz.

- A) You can go by bus.
- B) You can go by bike.
- C) You can go by plane.

28. Melisa: .....

Nisan : I am fourteen years old.

Melisa Nisa' ya hangi soruyu sormuştur?

- A) How old are you ?
- B) How are you ?
- C) What is your name ?

29. ( ? / many / brown / are / teddy / there / how / bears / )

Verilen kelimelerden oluşturulan doğru seçeneği işaretleyiniz.

- A) How many teddy bears brown are there?
- B) How many bears teddy brown are there?
- C) How many brown teddy bears are there?

30. I..... ladybirds. 😊

I.....spiders. 😞

Boşluklara hangi kelimeler gelmelidir?

- A) like / don't like
- B) like/ can
- C) don't like / like

İNGİLİZCE TESTİ  
BİTMİŞTİR.



# CEVAP ANAHTARI

## Fen Bilimleri

1	A
2	C
3	A
4	B
5	A
6	B
7	C
8	B
9	B
10	B
11	A
12	C
13	B
14	B
15	C
16	C
17	C
18	B
19	B
20	A
21	B
22	C
23	C
24	B
25	C
26	B
27	C
28	B
29	A
30	C

## Matematik

1	B
2	C
3	A
4	A
5	B
6	B
7	A
8	B
9	C
10	C
11	A
12	B
13	A
14	B
15	B
16	A
17	A
18	C
19	B
20	A
21	A
22	C
23	C
24	B
25	B
26	A
27	C
28	A
29	C
30	B

# CEVAP ANAHTARI

## Hayat Bilgisi

1.	B	11. B	21. A
2.	C	12. B	22. B
3.	A	13. A	23. C
4.	B	14. C	24. C
5.	B	15. C	25. B
6.	A	16. B	26. B
7.	C	17. B	27. A
8.	A	18. A	28. A
9.	C	19. A	29. C
10.	C	20. B	30. C

## Türkçe

1.B	11.A	21.B
2.C	12.C	22.B
3.B	13.B	23.A
4.C	14.C	24.C
5.C	15.B	25.B
6.B	16.A	26.A
7.A	17.B	27.B
8.A	18.B	28.C
9.B	19.C	29.C
10.A	20.A	30.B

## İngilizce

1) C	11) C	21) B
2) B	12) C	22) C
3) C	13) B	23) B
4) A	14) B	24) A
5) C	15) A	25) B
6) C	16) B	26) B
7) A	17) C	27) C
8) C	18) C	28) A
9) B	19) B	29) C
10) B	20) A	30) A