

2. SINIF



9. Hafta Fasikül
08-12 Haziran Kazanımları

EVDE EĞİTİM E-FASİKÜL' DE

YERKÖY ARGE

Yerköy İlçe Milli Eğitim Müdürlüğü'nün uzaktan eğitim sürecinde öğrencilerimiz için hazırladığı destek hizmetidir.

<http://yerkoy.meb.gov.tr>





Yerköy İlçe Millî Eğitim Müdürlüğü

Mehmet DURMAZ
İlçe Millî Eğitim Müdürü

Seral BORA
H.Hüseyin ASAR
Şube Müdürleri

M.Suat ATİLA
Koordinatör ve Grafik Tasarım

Hazırlayanlar

Özlem KÜÇÜK Şht. Kamil Çelikkaya İlkokulu
Evşen SAYIÇI TOKİ Şht. Ali Salmanlı İlkokulu
Ahmet YARIÇI Reşat Akyön İlkokulu
Ömer YILMAZ Atatürk İlkokulu
Hanife KARACA Mehmet Akif Ersoy Ortaokulu

TÜRKÇE



Çocuk,

Umut dolsun senle

Sevgin hep olsun içinde

Çocuk kelebek olsun

Yer, gök hep neşe, sevinç dolsun

Uçsun gökyüzünde uçurtmalar

Aksın temiz yüzlerden dondurmalar

Varsın kirlensin eller ayaklar

Geceye kadar oynansın tüm oyunlar

İyi ki onlar bu hayatta hep var.

Evşen SAYICI

TÜRKÇE

Şiire göre cevaplayınız.

Şiire uygun başlık bulalım mı?

Neler uçmalıymış?

Çocuklar neyi yüzünden akıtmalıymış?

Çocuklar neye benzetilmiş?

TÜRKÇE

Hadi hikâye tamamlayalım mı?

Ağaçta bir karga varmış. Karga çok ama çok mutluymuş. Çünkü ağzında koskoca bir peynir varmış. Peyniri tam yiyecekmiş ki tilki ağacın altına gelmiş. Kargayı görmüş

Hadi tamamlayalım mı?

Çiçek koparıldığında ağaçlarda ağlamaya başladı.

.....
.....
.....
.....
.....

Siz de bugün neler yaptınız, hadi yazalım mı?

.....
.....
.....
.....
.....
.....

TÜRKÇE

Ya olmasaydı? Hadi yazalım.

Telefon olmasaydı:

Elektrik süpürgesi olmasaydı

Aşı olmasaydı

Bilgisayar olmasaydı

Uçak olmasaydı

Tekerlek olmasaydı

Kağıt ve kalem olmasaydı

TÜRKÇE

Önce Tahmin--- Sonra Sözlük

Okul	Tahmin:	
	Sözlük :	
Spor	Tahmin:	
	Sözlük :	
Dost	Tahmin:	
	Sözlük :	
Kitap	Tahmin:	
	Sözlük :	
Vakit	Tahmin:	
	Sözlük :	
Umut	Tahmin:	
	Sözlük :	
Nehir	Tahmin:	
	Sözlük :	
Bilim	Tahmin:	
	Sözlük :	
Tıp	Tahmin:	
	Sözlük :	
İlkel	Tahmin:	
	Sözlük :	
Modern	Tahmin:	
	Sözlük :	

TÜRKÇE

ATASÖZLERİ/DEYİMLER

Bilgi Kutum: **Atasözleri** geçmişte yaşamış büyüklerimizin tecrübeleri sonucu elde ettikleri kalıp sözlerdir. Atasözleri az sözcükle çok şey anlatır. Cümle biçiminde olur. Nasihat verir. Gerçek anlamdadır. Söyleyeni belli değildir.

Sakla samanı gelir zamanı.

Üzüm üzüme baka baka kararır.

Deyimler: kalıplaşmış söz gruplarıdır. -mak , -mek ekleri gelir sonlarına. Anlamı gerçek değildir. Verilmek istenen mesaj saklı verilir.

Göze girmek

Ele vermek gibi

Atasözlerinin başına A, deyimlerin başına D koyalım mı?

- () Ağzı kulaklarına varmak
- () Karnı zil çalmak
- () Acele işe şeytan karışır
- () Ne ekersen onu biçersin
- () Yaş kesen baş keser.
- () Dilinde tüy bitmek

TÜRKÇE


Kimlik Kartı Doldurma

Siz de kütüphane kimlik kartı doldurmak ister misiniz?

O zaman hadi.

ÖĞRENCİ	KÜTÜPHANE KİMLİK KARTI
	Adı :.....
	Soyadı :.....
	Okulu :.....
	Okul No :

Mustafa Kemal Atatürk'ün nüfus cüzdan bilgilerinizi tamamlayalım.

	Adi:.....
	Soyadi:.....
	Anne Adi:.....
	Baba Adi:.....
	Doğum Yeri / Tarihi:.....

TÜRKÇE

“Ben, Esra Engin. 6 Eylül 2011’de Yozgat’ta doğdum. Annemin adı Ayşe, babamın adı Osman’dır.”

Hadi Esra’nın kimlik kartını üstte yazan bilgilerine göre dolduralım.

	Adı- Soyadı:
	Anne Adı:
	Baba Adı:
	Doğum Yeri:
	Doğum Tarihi:

MATEMATİK

PROBLEMLER



1. Pamuk haftada 2 kilo kedi maması yemektedir. Pamuk bir ayda kaç kilogram kedi maması yer?

A)8

B)6

C)10



2.

Yukarıdaki nesnelere kaç tanesi kilogram ile ölçülür?

A)3

B)2

C)1



3. Yandaki koyunun yünlerinden kazak örmek isteyen Havva Hanım koyundan ne kadar yün aldığını aşağıdakilerden hangisi ile ölçebilir?

A)



Litre

B)



Kilogram

C)



Metre

MATEMATİK

4. 20 kilo domatesin yarısından 3 kilo daha fazlası ile salça yaptık. Geriye kaç kilo domates kalmıştır?

ÇÖZÜM:



5. Manavdan kilogramı 5 TL olan erikten 4 kilo aldım. Manava 50 lira verdim. Kaç TL para üstü alırım?

A) 25

B) 30

C) 35

6. Ben 24 kilogramım. Ablam benden 6 kilogram daha ağırdır. İkimizin kilosunun toplamı ne kadardır?

A) 30

B) 36

C) 54

7. Annemin pazar arabası en fazla 15 kilogram yük taşıyabilmektedir. Buna göre annem hangi seçenekte verilenleri arabasıyla taşıyabilir?




A) 6 kilogram soğan, 5 kilogram karpuz, 4 kilogram çilek

B) 8 kilogram soğan, 6 kilogram karpuz, 4 kilogram elma

C) 7 kilogram soğan, 5 kilogram karpuz, 4 kilogram erik

MATEMATİK

8. Aşağıdakilerden hangisi kilogram ile ölçülür?



9. Bir çuval pirinci olan Ezgi Hanım komşularına eşit olarak dağıtmak istiyor. Aşağıdakilerden hangisi ile ölçerek dağıtabilir?

A) Litre B) kilogram C) Ton



10. Yandaki gibi bir kasa domatesin ağırlığını aşağıdakilerden hangisi ile ölçebiliriz?

A) Kilogram

B) Ton

C) Litre



11. 40 kilo balın önce yarısını, sonra 8 kilo daha bal satan bir satıcının daha satması gereken kaç kilo balı kalmıştır?

ÇÖZÜM:

MATEMATİK

12. Babam pazardan 12 kilogramlık 3 çuval patates aldı. Aldığı patateslerden bir çuvalını amcama verdi. Bize kaç kilogram patates kaldı?

A) 36

B) 24

C) 12



13.

Garfield tanesi 225 gram olan balıklardan 4 tane yedi. Garfield toplam kaç gram balık yedi?

A)900

B)850

C)800



14. Nasrettin Hoca pazardan yarım kilosu 5 TL olan muzdan 3 kilo, çeyrek kilosu 4 TL olan fıstıktan 2 kilo alıyor. Pazarda kaç TL harcamıştır?

ÇÖZÜM:

MATEMATİK

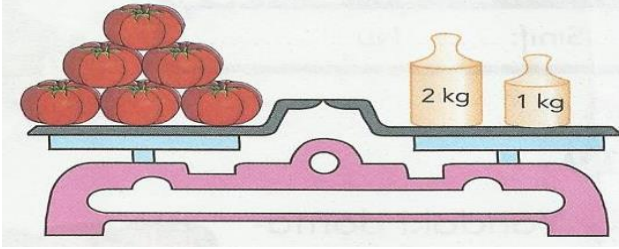


15. Arı Maya 69kilogram balı 3 kilogramlık kavanozlara yerleştiriyor.Arı Maya'nın kaç tane kavanoz kullanması gerekir?

A)24

B)23

C)22



16.

Yukarıdaki terazi dengede olduğuna göre kaç kilogram domates vardır?

A) 2 kg

B) 1 kg

C) 3 kg



17. Doğduğunda 3 kilogram olan kardeşim Yahya 8 ay sonra 7 kiloya ulaştı. Yahya 8 ayda kaç kilogram almıştır?

A) 3

B) 4

C) 5

18. 50 kilo un bulunan çuvaldan önce 15, daha sonra 18 kilo un kullanıldı. Çuvalda kaç kilo un kalmıştır?

ÇÖZÜM:

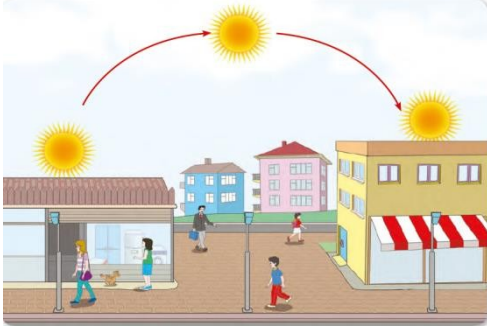
HAYAT BİLGİSİ

YÖNLER

Sabah olunca görünmeye başlarım. Benim sabahları gördüğüm yer "**doğu**"dur.


Doğduktan sonra yavaş yavaş yükselirim. Öğlen olduğunda tam tepede görünürüm. Ardından yavaş yavaş alçalmaya başlarım.

Akşam olduğunda doğduğum yerin tam karşısından batarım. Yani artık beni göremezsiniz. Battığım yönün adı "**bati**"dir.



Dört ana yön vardır. Bunlardan ikisini, yani "**doğu**" ve "**bati**"yı öğrendiniz. Diğer ana yönler "**kuzey**" ve "**güney**"dir. Bu yönleri de Güneş sayesinde bulabilirsiniz. Nasıl mı?

Yandaki resimde ayakta duran çocuğa dikkatle bakalım. Sağ kolumuzu güneşin doğduğu; yani "**doğu**"ya uzatalım. Sol kolumuz güneşin battığı; yani "**bati**"yı gösterdi, fark ettiniz mi? Artık diğer iki yönü bulmak çok kolay! Baktığınız yer "**kuzey**"i gösterir. Kuzey önümüzde. Arkamızda kalan taraf ise "**güney**" yönünü gösterir. Sabah uyandığında bunu denemelisin bilginim. Denizin hangi yönde olduğunu bulabilecek misin?



Aşağıdaki boşlukları tamamlayınız.

- ❖ Sol kolumuzu Güneş'in battığı yöne çevirirsek, sağ kolumuz.....yönünü gösterir.
- ❖ Sağ kolumuzu Güneş'in battığı yöne çevirirsek, sırtımız.....yönünü gösterir.
- ❖ Sırtımızı Güneş'in battığı yöne çevirirsek, sağ kolumuz.....yönünü gösterir.
- ❖ Yüzümüzü Güneş'in doğduğu yöne çevirirsek, arkamız.....yönünü gösterir.

HAYAT BİLGİSİ

1- Batan Güneş'i izleyen birisinin sol tarafı hangi yönü gösterir?

- A- Güney B- Batı C- Doğu

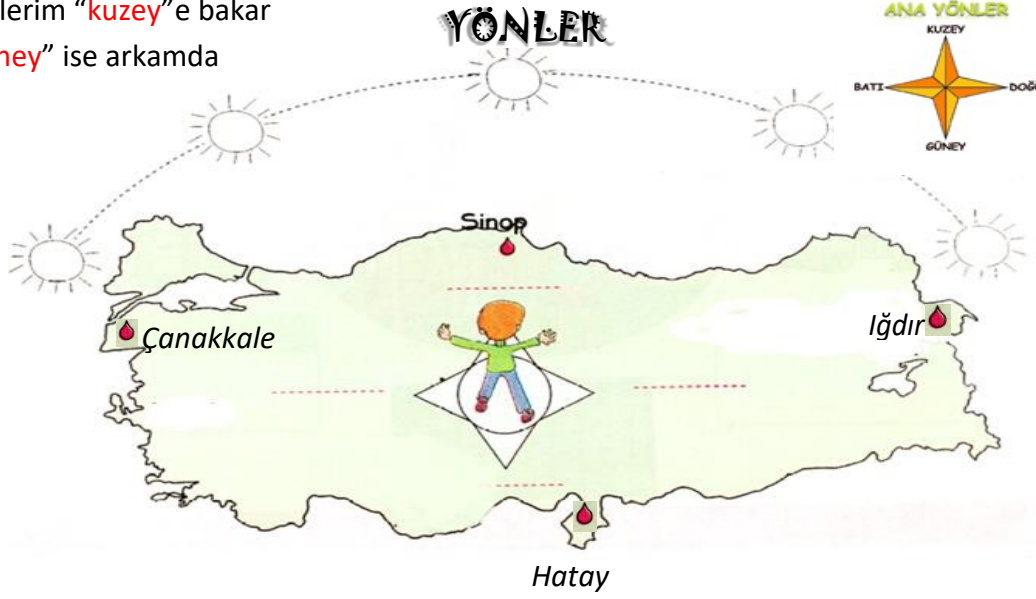


Güneş "doğu"yor sağımda

Akşam "batı"yor solumda

Gözlerim "kuzey"e bakar

"güney" ise arkamda



Cümlelerdeki boşlukları uygun sözcükler ile tamamlayalım.

- ❖ Ülkemizin en doğusundailimiz vardır.
- ❖ Ülkemizin en batısında.....ilimiz vardır.
- ❖ Ülkemizin en kuzeyinde.....ilimiz vardır.
- ❖ Ülkemizin en güneyinde.....ilimiz vardır.
- ❖ Çocuğun yüzü.....yönüne bakmaktadır.

Aşağıdaki bilgilerin başına doğru olanına "D", yanlış olanına "Y" yazalım


(.....) Ana yön sayısı üçtür.

(.....) Güneşin doğduğu yöne doğu, battığı yöne kuzey denir.

(.....) Kuzey yönünün zıt yönü batıdır.

(.....) Yüzümü batıya dönersem, sırtım doğuyu gösterir.

HAYAT BİLGİSİ



Cümlelerdeki boşlukları uygun sözcükler ile yukarıdaki resme göre tamamlayalım.

- ❖ Çocuğun doğusunda.....vardır
- ❖ Çocuğun batısında.....vardır.
- ❖ Çocuğun kuzeyinde.....vardır.
- ❖ Çocuğun güneyinde.....vardır.

DÜNYA'NIN ŞEKLİ VE HAREKETLERİ

1-Aşağıdaki ifadelerden doğru olanların başına **D, yanlış olanların başına **Y** yazınız.**

- () Dünya'nın şekli küreye benzer.
- () Dünya'mız sağdan ve soldan basık, üstten şişkindir.
- () Güneş Dünya'nın etrafında dolanır.
- () Dünya kendi etrafındaki hareketini bir günde tamamlar.
- () Dünya Güneş etrafındaki hareketini bir günde tamamlar.

HAYAT BİLGİSİ

2- Aşağıda boş bırakılan yerleri uygun ifadelerle tamamlayınız.

gece - uzaklaşması - kış -hareketi- gündüz- farklı -yaklaşması- yıl - yaz -karanlık

- ❖ Dünya'nın iki türlüvardır.
- ❖ Dünya'nın Güneş gören yüzünde....., diğer yüzünde..... yaşanır.
- ❖ Dünya'nın Güneş görmeyen bölümü.....olur.
- ❖ Dünya'nın Güneş'in etrafında dönmesi bir.....sürer.
- ❖ Dünya'nın Güneş'eve.....ile mevsimler oluşur.
- ❖ Her mevsimin.....özellği vardır.
- ❖ İnsanlarmevsiminde giydiklerinimevsiminde giymezler.

3- Aşağıdakilerden hangisi bir mevsim adı değildir?

A-Kış B-Sonbahar C-Aralık

4- Aşağıdakilerden hangisi Dünya'nın bir hareketi değildir?

- A-Güneş'in etrafında dönmesi
- B-Kendi etrafında dönmesi
- C-Ay'ın etrafında dönmesi

5- Mevsimlerin oluşmasının sebebi aşağıdakilerden hangisidir?

- A-Dünya'nın Güneş'in etrafında dönmesi
- B-Güneş'in Dünya'nın etrafında dönmesi
- C-Havaların bazen sıcak bazen soğuk olması

HAYAT BİLGİSİ

Aşağıdaki cümlelerde boş bırakılan yerleri uygun sözcüklerle doldurunuz.

saatte

Yılda

dört

yuvarlaktır

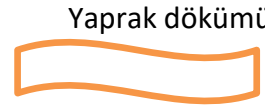
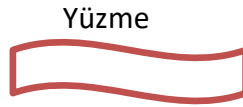
ekseni

mevsimler

- * Dünya'nın kendi etrafında dönmesi ile gece ve gündüz oluşur.
- * Dünya'nın şekli
- * Dünya kendi eksenini etrafında dönüşünü 24tamamlar.
- * Dünya'nın Güneş'in etrafında dolanması sonucu oluşur.
- * Dünya, Güneş'in etrafında dolanımını bir tamamlar.
- * Bir yılda mevsim vardır.

MEVSİMLER ETKİNLİĞİM

1-Aşağıdaki kavramların hangi mevsimlere ait olduğunu belirtiniz.



2-Mevsimler ile o mevsimlere ait olan ayları eşleştiriniz. (İlkbaharın aylarının kutusuna "İ" , Yaz aylarının kutusuna "Y" , Sonbahar aylarının kutusuna "S" , Kış aylarının kutusuna "K" yazınız.)

İlkbahar		Ağustos		Mayıs		Nisan
Yaz		Şubat		Ekim		Eylül
Sonbahar		Temmuz		Ocak		Kasım
Kış		Mart		Haziran		Aralık

HAYAT BİLGİSİ

3-Aşağıdaki mevsimlere ait belirgin özellikleri belirtiniz.

Sonbahar:

.....

Kış:

.....

İlkbahar:

.....

Yaz:

.....

4-Aşağıdaki ifadelerden doğru olan ifadelerin başına (D), yanlış olan ifadelerin başına (Y) yazınız.

(.....) Kar yağışlı, fırtınalı, sisli ve yağmurlu havalar günlük ulaşımı kötü etkiler.

(.....) Yağmurlu havalarda aracımıza zincir takmalıyız.

(.....) Yolculuğa çıkmadan önce hava durumunu öğrenmeliyiz.

(.....) Yeni yıl şubat ayı ile başlar.

(.....) Yılın en kısa ayı ağustostur.

(.....) Dünya'nın Güneş etrafında dönmesiyle mevsimler oluşur.

(.....) Sonbahar mevsimi en yağmurlu mevsimdir.

(.....) Ülkemizde en çok kar Antalya'ya yağmaktadır.

(.....) En soğuk mevsim sonbahar mevsimidir.

(.....) İlkbahar mevsiminde tabiat uyanmaya başlar.

(.....) Haziran ayı ilkbahar mevsiminin ayıdır.



WELCOME TO THE ENGLISH LESSON SECTION

Hazırlayan

AHMET YARIÇI

Jumbled Animals



e s p h e



o s u m e



e b r z a



a n d a p



l n i o



r f g o



h p p o i



r h s e o



s n i a l



g d o



e a b r



h s i f



d k u c



s k n a e



t a c



d i r b

Let's Look and Drag

goat - rabbit - lion - snake - fish - cow - elephant

dog - monkey - duck - donkey - spider - horse

1. This is a _____.



2. This is a _____.



3. This is a _____.



4. This is a _____.



5. This is a _____.



6. This is a _____.



7. This is a _____.



8. This is a _____.



9. This is a _____.



10. This is a _____.



11. This is a _____.



12. This is a _____.



13. This is a _____.

Let's Look and Write

frog

dolphin

seagull

pigeon









bee

ladybird

bear

whale

shark



GAZETE

Babalar Günü Özel Sayısı

Babamın Özellikleri

- Neseli
- Sempatik
- Cesur
- Karizmatik
- Becerikli
- Uyumlu
- Güler Yüzlü
- Bilgili
- Pratik
- Güvenilir
- Düşünceli
- Sevgi Dolu
- Zeki
- Kıbar
- Sinirli
- Sakin
- Sessiz
- Enerjik

DÜNYANIN EN İYİ BABASI

Ödülü Kazanan Kişi ve Ailesi

Ödül ile ilgili sorulara dilenin çocuğu cevap verdi:


"Benim babam harika bir insandır. Birlikte

yaptığımızda ben çok mutlu olurum.

Evde işini en iyi babam yapar.

Aldığı ödülü sonuna kadar hak ediyor." dedi.

BABALAR GÜNÜ ÖZEL



Adı _____



3 Kelime ile Babam

☆ ☆ ☆ Babamın Favorileri ☆ ☆ ☆

Yemek _____

Takım _____

Oyun _____

Babamın En Sevdiği Şeyler _____

♥ Babamı Çok Seviyorum. Çünkü _____

BABALAR GÜNÜ ÖZEL

Babam Hakkında Her Şey

Babamın Adı

En Sevdiği Şey

En Başarılı Olduğu Şey

En Güldüğü Şey

Birlikte Yapmayı Sevdiğimiz Şeyler

Babamı Çok Seviyorum Çünkü;

Dünyanın En İyi
Babası Ödülü

Ödül Sahibi: _____

Ödülü Veren _____

Tarih _____