

3. SINIF



8. Hafta Fasikül  
01-05 Haziran Kazanımları

# EVDE EĞİTİM E-FASİKÜL' DE

## YERKÖY ARGE

Yerköy İlçe Milli Eğitim Müdürlüğü'nün  
uzaktan eğitim sürecinde öğrencilerimiz  
için hazırladığı destek hizmetidir.

<http://yerkoy.meb.gov.tr>





## Yerköy İlçe Millî Eğitim Müdürlüğü

**Mehmet DURMAZ**  
İlçe Millî Eğitim Müdürü

**Serdal BORA**  
**H.Hüseyin ASAR**  
Şube Müdürleri

**M.Suat ATİLA**  
Koordinatör ve Grafik Tasarım

### Hazırlayanlar

Cavidan KURU	Şht. Kamil Çelikkaya İlkokulu
Ersin BÜYÜKBAŞ	Reşat Akyön İlkokulu
Bekir ÇAKICI	TOKİ Şht. Ali Salmanlı İlkokulu
Cihan BARDAK	Atatürk İlkokulu
Esra BARDAK	Şht. Mehmet Tez And. Lisesi
Duygu ULUCAN	TOKİ Şht. Ali Salmanlı İlkokulu

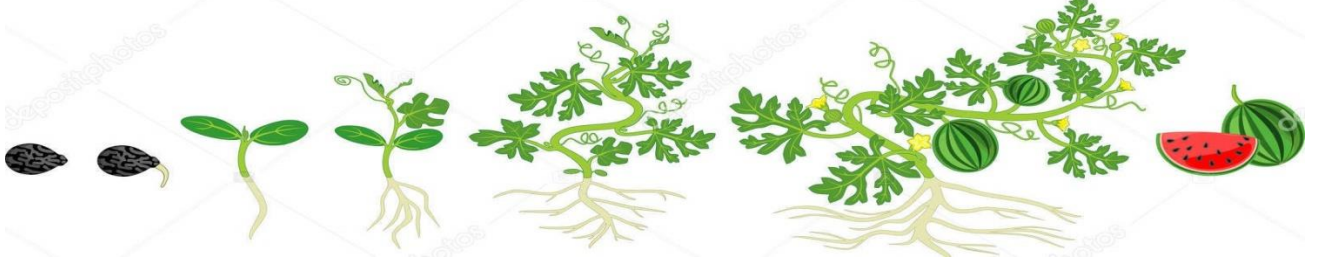




# HAYAT BİLGİSİ

## BİLGİ SAYFASI

### MEYVELER VE SEBZELER NASIL YETİŞİR



Bir tohumun çimlenmesi için su ve ısıya, büyümesi için ise su, ısı ve Güneş ışığına ihtiyacı vardır. Her bitkinin suya, ısıya ve Güneş'e olan ihtiyacı birbirinden farklıdır.

- ❖ Buğday filizlenmek ve büyümek için yağış ister, olgunlaşmak için ise kurak ve sıcak bir ortam ister.
- ❖ Çay bitkisi, her mevsim bol yağış ister.
- ❖ Elma, armut ve patates gibi sebze ve meyveler, soğuk hava şartlarına uygundur.
- ❖ Domates, ılık ve sıcak yerde yetişir.
- ❖ Tükettiğimiz meyvelerin çoğu ağaçta yetişir. (elma, armut, erik, şeftali, kiraz, kayısı.....)
- ❖ Çilek toprak üstünde, böğürtlen çalı şeklinde bitkiler üzerinde yetişir.
- ❖ Domates, biber, patlıcan ve salatalık toprak üstünde, havuç, patates, turp ise toprak altında yetişir.
- ❖ Bitkilerden iyi verim alabilmek için sulama, budama, gübreleme ve ilaçlama gibi işlemler yapılmalıdır.
- ❖ Sebze ve meyveler seralarda da yetiştirilebilir.

# HAYAT BİLGİSİ

## Test

1) Tarımla uğraşan kişiye ne ad verilir?

- A) Öğretmen
- B) Bankacı
- C) Çiftçi

2) Aşağıdakilerden hangisi toprak altında yetişir?

- A) Böğürtlen
- B) Havuç
- C) Çilek

3) Aşağıdakilerden hangisi ağaçta yetişir?

- A) Elma
- B) Ahududu
- C) Turp

4) Bitkilerin aşağıdakilerden hangisine ihtiyacı yoktur?

- A) Güneş
- B) Karbondioksit
- C) Su

5) Ülkemizin her bölgesinde yetişebilen meyve hangisidir?

- A) Üzüm
- B) Ananas
- C) Muz

6) Aşağıdaki meyvelerden hangisi turunçgillerden değildir?

- A) Portakal
- B) Hindistan Cevizi
- C) Greyfurt

7) Fındık en fazla hangi ilimizde yetişir?

- A) Giresun
- B) İzmir
- C) Adana

8) Rize ilimizde aşağıdaki bitkilerden en fazla hangisi yetişir?

- A) Pamuk
- B) Çay
- C) Buğday

9) 'Çatısı olan, genellikle naylon veya cam ile kapalı tutulan, içerisinde sebze ve meyve yetiştirilen yapıya ne ad verilir?

- A) Fanus
- B) Kafes
- C) Sera

10) Malatya ilimizde yetiştirilen meyve hangisidir?

- A) Armut
- B) Kayısı
- C) Muz

11) Aşağıdaki sebzelerden hangisi soğuk havalara dayanıklıdır?

- A) Patates
- B) Domates
- C) Biber

12) Bitkilerden iyi verim alabilmek için ne gibi işlemler yapılır?

- A) Kısaltma, ışık verme, boyama
- B) Budama, sulama, ilaçlama, gübreleme
- C) Kırma, çapalama, toplama

# HAYAT BİLGİSİ

Aşağıda görselleri verilen bitki, sebze ve meyveler ile ilgili bildiklerinizi, yandaki kutucuğa yazınız.




# MATEMATİK

## Alan Konusu

☞ Bir düzlemsel şeklin yüzeyinin büyüklüğüne, o düzlemsel şeklin ..... denir.

☞ Aşağıdaki kareli kağıt üzerinde verilen her bir rengin kaç adet kareden oluştuğunu noktalı yerlere yazınız.



Sarı bölge: ..... tane kare

Mavi bölge: ..... tane kare

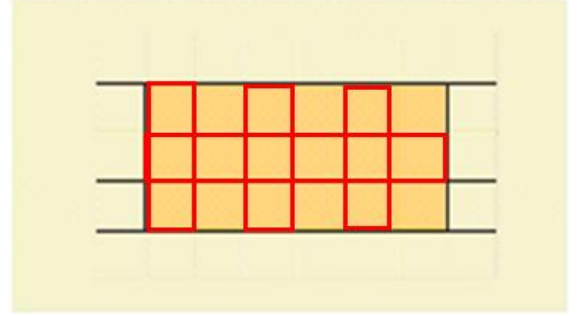
Yeşil bölge: ..... tane kare

Pembe bölge: ..... tane kare

Mor bölge: ..... tane kare

## Test

1)



Yukarıdaki kareli kağıt üzerinde verilen boyalı bölgenin alanı kaç adet kareden oluşmuştur?

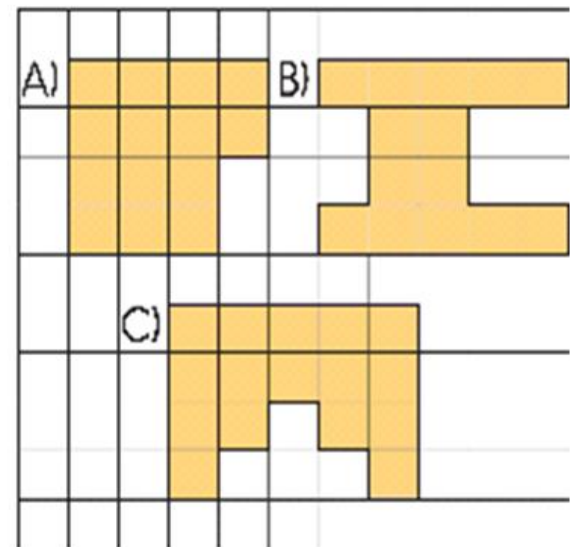
A) 18

B) 19

C) 21

2)

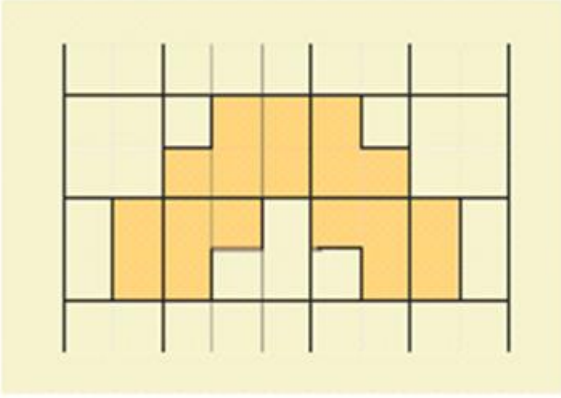
Aşağıdaki kareli kağıt üzerinde verilen şekillerden hangisinin alanı 16 tane kareden oluşmaktadır?





# MATEMATİK

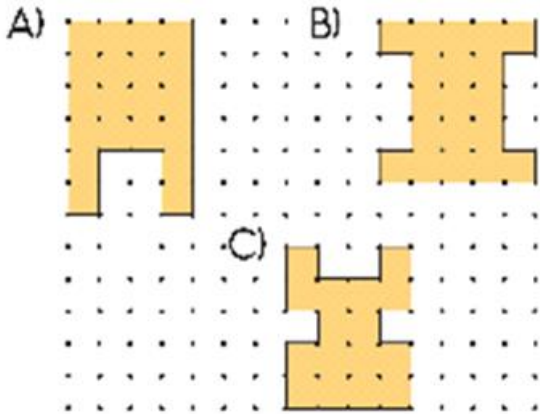
3)




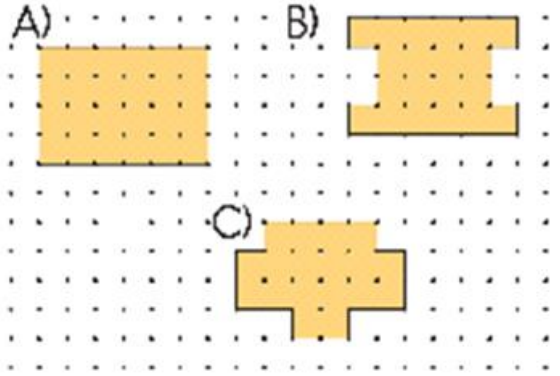
Yukarıdaki kareli kağıt üzerinde verilen boyalı bölgenin alanı kaç adet kareden oluşmuştur?

- A) 17      B) 18      C) 19

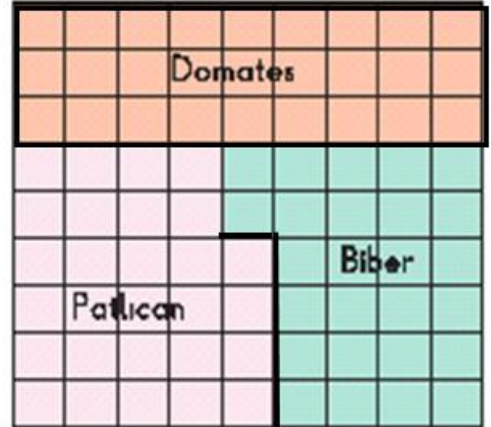
4) Aşağıdaki noktalı kağıt üzerinde verilen şekillerden hangisinin alanı diğerlerine göre daha büyüktür?



5) Aşağıdaki noktalı kağıtta verilen şekillerden hangisinde 20 tane  vardır?



6) Aşağıdaki karesel bölge şeklindeki bahçede domates, biber ve patlıcan dikili alanlar gösterilmiştir.

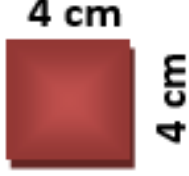


Yukarıdaki şekle göre, bahçede **en fazla** alana dikilen ürün hangisidir?

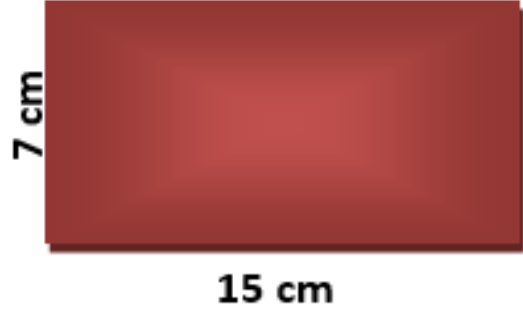
- A) Domates      B) Biber  
C) Patlıcan

# MATEMATİK

Aşağıdaki geometrik şekillerin çevrelerini hesaplayalım.



Çevre: ..... Cm



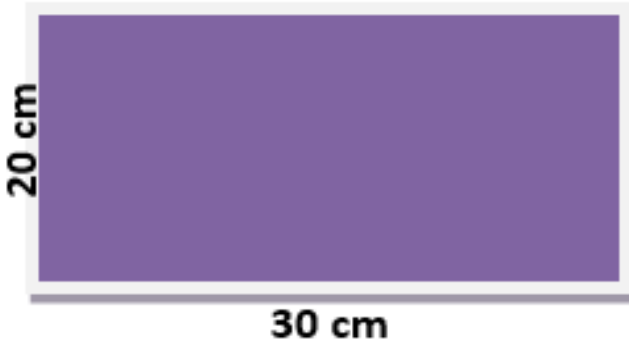
Çevre: ..... Cm




Çevre: ..... Cm



Çevre: ..... Cm



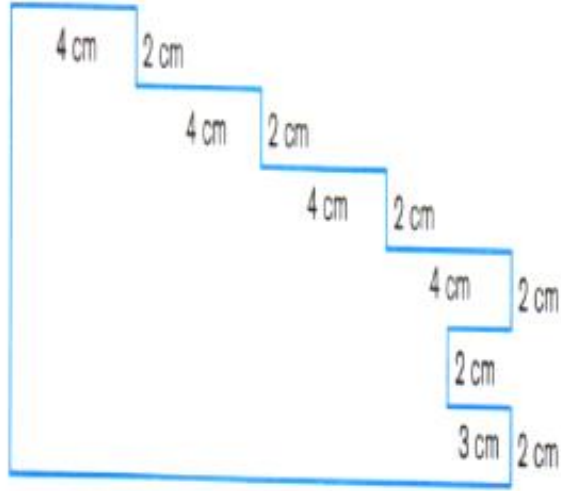
Çevre: ..... Cm



Çevre: ..... Cm



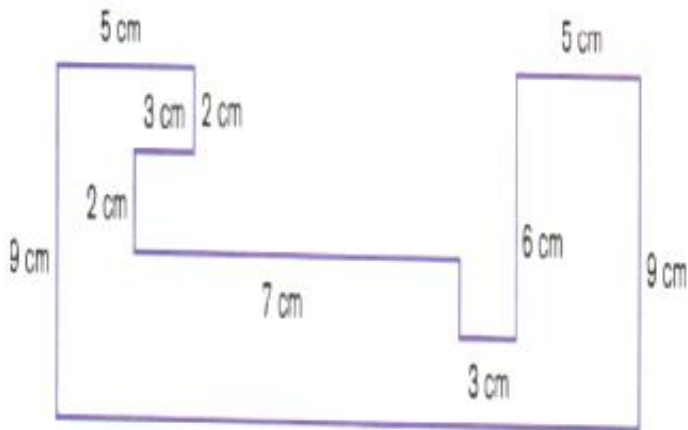
# MATEMATİK



**Çevre:**



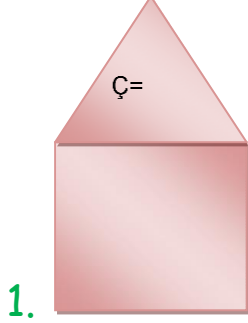
**Çevre:**



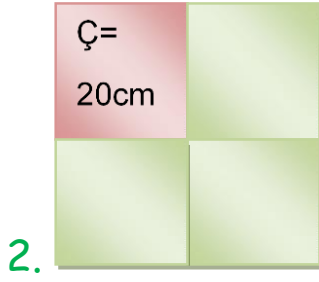
**Çevre:**

# MATEMATİK


## \*\*\*Çokgenlerde Alan ve Çevre Yıldızlı Sorular\*\*\*



Evin çatısı eş kenar üçgen altı da kareden oluşmuştur. Çatının çevresi 75 cm ise şeklin çevresi kaç cm'dir?



Küçük eş karelerden büyük kare oluşturulmuştur. Küçük karelerden birinin çevresi 20 cm ise şeklin tamamının çevresi kaç cm'dir?



Karenin bir kenarı 14 cm ise üçgenler den birinin alanı kaç dir?

# MATEMATİK

4.




Masanın eni 10 cm, boyu 25 cm'dir.  
Alanı ile çevresinin farkı sayı olarak kaçtır?

5.

8 cm

$$A = 96$$



Alanı 96 kısa kenar 8 cm ise dikdörtgenin çevresi kaç cm'dir?

98

180

40

125

40

Testin Cevapları:

1. A
2. C
3. B
4. A
5. B
6. C





# FEN BİLİMLERİ

## A ) Elektriğin Güvenli Kullanımı

Elektrik yaşamımızı kolaylaştırmanın yanında dikkatli kullanılmadığında ciddi tehlikeler ortaya çıkarabilen bir enerjidir. Elektrik dikkatli kullanılmadığında elektrik çarpmasına maruz kalınabilmektedir. Elektrik çarpması; vücutta yaralanma, sakatlanma ve ölüme neden olabilir. Bunların yanı sıra elektrikli araçların zarar görmesi ya da yangın tehlikesinden dolayı mal kayıplarına da neden olabilmektedir. Ülkemizdeki yangınların en önemli sebeplerinden biri de elektriktir.

### Elektriğin tehlikeli etkilerinden korunmak için;

- Kablosu kopmuş, yıpranmış elektrikli araç ve gereçleri kullanmamalıyız.
- Prizlere herhangi bir cisim sokmamalıyız.
- Islak zeminlerde elektrikli araç ve gereçleri kullanmamalıyız.



# FEN BİLİMLERİ

- Elektrik direkleri yakınında oynamamalıyız. Direklerden sarkan tellere dokunmamalıyız. Yağmur yağdığında elektrik direkleri yakınında oluşan su birikintilerinden uzak durmalıyız.
- Elektrikli araçları çalışır durumdayken hareket ettirmemeliyiz.
- Elektrikli araçların kullanma kılavuzlarını dikkatle okumalı ve talimatlara uygun kullanmalıyız.
- Elektrikli araç ve gereçleri kullandıktan sonra prizden çekmeliyiz.
- Çevremizde bulunan dış yalıtım özelliğini kaybetmiş kablolara temas etmemeliyiz.



- Bozuk priz ve elektrikli araç ve gereçleri kullanmamalı, tamir ettirmeliyiz.



Kazalara Yol Açabilecek Durumlar

# FEN BİLİMLERİ

**B ) Aşağıdaki soruları öğrendiğimiz bilgileri kullanarak cevaplandıralım.**

**1 ) Aşağıda verilenlerin hangileri elektriğin güvenli kullanımı için doğru değildir?**

- A ) Uzatma kabloları yeterli kalınlıkta olmalıdır.
- B ) Fiş ve prizler sağlam ve kaliteli olmalıdır.
- C ) Elektrik kabloları halıların ve kilimlerin altından taşınmalıdır.

**2 ) Aşağıdakilerden hangisi yanlış bir davranıştır?**

- A ) Prizlere herhangi bir cisim sokmamak.
- B ) Elektrik kesildiğinde fişleri prizlerden çekmek.
- C ) Çalışan elektrikli araçlara ıslak elle dokunmak.

**3 ) Aşağıda verilenlerden hangisi elektrikli araçların kullanımı ile ilgili yanlış bir harekettir?**

- A ) Kullanım talimatlarına uygun kullanmak.
- B ) Daha emniyetli olması için fişlerini prizden çekerek kapatmak.
- C ) Açma kapatma düğmelerini kullanarak açıp kapatmak.

**4 ) Elektrik enerjisinin hatalı kullanımı sonucu aşağıdakilerden hangisi oluşur?**

- A ) Trafik kazası.
- B ) Elektrik çarpması.
- C ) İş kazası.



# FEN BİLİMLERİ

**5) Aşağıdakilerden hangisi elektriğin oluşturacağı kazalardan birisi değildir?**

- A ) İş yerinde yangın çıkması.
- B ) Elektrik çarpması.
- C ) Yıldırım düşmesi.

**6 ) Aşağıdakilerden hangisi elektriğin güvenli kullanımı ile ilgili yanlış bir davranıştır?**

- A ) Elektrikli araçların bakım ve onarımını her yetişkin yapabilir.
- B ) İşimiz bittiğinde elektrikli araç gereçlerimizin fişlerini prizden çıkarmak.
- C ) Elektrik prizlerine kullanacağımız araçların fişlerinden başka bir şey sokmamak.

**7 ) Aşağıdaki davranışlardan hangisi yanlıştır?**

- A) Yerde gördüğümüz elektrik tellerine dokunmak.
- B) Patlamış ampulleri değiştirmek.
- C) Elektrikli aletlerin fişini elimiz ıslakken prizden çekmemek.

**8 ) Aşağıdakilerden hangisi elektrik çarpmasından korunmak için yapılması gerekenlerden birisi değildir?**

- A ) Eskimiş, aşınmış elektrik kablolarını kullanmamalıyız.
- B ) Bir prize uzatma kablosu kullanarak birden fazla fiş takmamalıyız.
- C ) Arızalanan elektrikli araçların fişini hiç çekmemeliyiz.

# FEN BİLİMLERİ

**9 ) Aşağıdaki ifadelerden hangisi yanlıştır?**

- A ) Elektrik kaçağı olduğunda prizlere fiş takılmamalıdır.
- B ) Elektrikli araç gereçlerin tamiri uzman kişilere yaptırılmalıdır.
- C ) İşimiz bittiğinde elektrikli araç ve gereçlerin fişlerini prizden çekmeliyiz.

**10) Aşağıdakilerden hangisi elektrik çarpmasına neden olur?**

- A ) Çalışır durumdaki elektrikli araçların iğini açmak.
- B ) Tamir edilmiş elektrikli aletleri kullanmak.
- C ) Kaliteli kablolar kullanmak.

**11) Aşağıdaki araçlardan hangisinin ışığından faydalanamayız?**

- A ) Telefon
- B ) Tablet
- C ) Çamaşır makinesi

I. İşimiz bittiğinde elektrikli aracı kapatmak için ilk önce fişinden çekmek.

II. Islak zeminde elektrikli alet çalıştırmak.

III. Prizlere fiş dışında bir şey sokmamak.

**12 ) Yukarıdakilerden hangisi ya da hangileri güvenli bir elektrik kullanımı için alınan önlemlerdendir?**

- A ) I, II ve III
- B ) III
- C ) I ve III

**13) Aşağıdakilerden hangisi güneş enerjisi ile çalışabilir?**

- A ) Hesap makinesi
- B ) Kumanda
- C ) Televizyon

**14 ) Aşağıdakilerden hangisi elektrik üreten bir kaynak değildir?**

- A ) Güneş
- B ) Bulut
- C ) Rüzgâr

# FEN BİLİMLERİ

**15) Ailesiyle pikniğe giden Ecrin radyo dinlemek istiyor. Bunun için hangi elektrik kaynağından yararlanabilir?**

- A ) Pil
- B ) Akü
- C ) Şehir elektriği

**16) Gece elektrikler kesildiği zaman hangisinden yararlanarak aydınlanabiliriz?**

- A ) Lamba
- B ) El feneri
- C ) Televizyon

**17) Aşağıdakilerden hangisi elektriğin doğru kullanımı ile ilgili bir açıklamadır?**

- A ) Prizleri ıslak bezle silmek.
- B ) Kablosu yıpranmış elektrik aletlerini kullanmamak.
- C ) Bozulan elektrikli araçları tamir ettirmek.

**18) Elektrik çarpmış birine nasıl müdahale edilmesi doğrudur?**

- A ) Elektrik akımını kesip kapatmak.
- B ) Üzerine su dökerek soğutmak.
- C ) Elinden tutup çekmek.

**19) Aşağıdakilerden hangisi ısıtmak amacı ile kullanılan bir elektrikli araç değildir?**

- A ) Klima
- B ) Vantilatör
- C ) Kombi



# FEN BİLİMLERİ

" ..... pil ile çalışan bir alettir."

**20 )** Yukarıdaki boşluğa gelebilecek uygun kelime hangisidir?

- A ) Telefon
- B ) Saat
- C ) Tablet

**21 )** Aşağıdakilerden hangisi iletişim için kullanılan bir elektrikli araçtır?

- A ) Dergi
- B ) Gazete
- C ) Telsiz

"Kamyonet farının elektriğini..... sağlar."

**22 )** Yukarıdaki boşluğa ne gelmelidir?

- A ) Akü
- B ) Batarya
- C ) Pil

**23 )** Hangi araç temizlik için kullanılmaz?

- A ) Bulaşık makinesi
- B ) Saç kurutma makinesi
- C ) Elektrikli süpürge

" Elektrik kaynakları içerisinde en az dayanıklılığa sahiptir."

**24 )** Yukarıda bahsedilen elektrik kaynağı hangisidir?

- A ) Akü
- B ) Pil
- C ) Batarya

# TÜRKÇE

## AKILLI ÇİFTÇİ

Eskiden köyün birinde, çok bilge bir çiftçi yaşarmış. Her insan gibi bu çiftçi de zamanı gelince ihtiyarlamış. İyice yaşlandığında ise hastalanıp yatağa düşmüş. Artık ölüm döşeginde olduğunu hisseden çiftçi, çocuklarını başına toplamış ve "Sevgili yavrularım!" demiş, "Şimdi söyleyeceklerime iyi kulak verin. Artık yaşlandım ve çok hastayım. Biliyorsunuz ki, yakında öleceğim."

Çiftçinin çocukları hiç beklemedikleri bu sözler karşısında şaşırılmışlar. "Aman babacığım!" demiş hepsi de, "Allah gecinden versin. Çiftçi devam ederek; "Yok yok!" demiş, "Bu hastalık beni sağ bırakmaz artık. Ölmeden önce size önemli bir şey açıklayacağım. Aklınızda iyi tutun haa, tarlamızda altın var. Toprağı iyi kazarsanız altını bulursunuz."

Çiftçi bu sözleri söyledikten üç gün sonra ölmüş. Babalarını mezara koyan çocuklar tarladaki altınları aramaya koyulmuşlar. Fakat tarlanın altını üstüne getirdikleri halde, bir tek altın bile bulamamışlar. Kendilerini boşu boşuna çalıştıran babalarına kızıyorlarmış. Tarlayı bu kadar çok eşeledikten sonra, ona buğday ekmekten başka çarelerinin olmadığını düşünmüşler.

Bilenler bilir ki, toprak ne kadar çok alt üst edilip yoğrulursa verim de o kadar çok olur. Çocuklar bilmeden, işte bunu yapmışlar. Ektikleri tarlayı hasat ettiklerinde herkesten çok buğday elde etmişler.

Babalarının "tarlada altın var" sözlerinin ne anlama geldiğini işte o zaman anlamışlar.



Aşağıdaki soruları metne göre cevaplayınız.

1) Bilge çiftçi, nerede yaşar?

.....

2) Bilge çiftçi, çocuklarını başına toplayıp ne söylemiş?

.....

3) Çocuklar, altını bulmak için ne yapmış?

.....

4) Çocuklar, altını bulamayınca tarlaya ne ekmeye karar vermişler?

.....

5) Bilge çiftçinin "tarlada altın var" sözünün ne anlama geldiğini ne zaman anlamışlar?

.....

# TÜRKÇE

## EŞ ANLAMLI - ZİT ANLAMLI SÖZCÜKLER

Aşağıdaki sözcük çiftleri arasında anlam ilişkisi açıklanmıştır.

Verilen açıklamalardan doğru olanlara "D", yanlış olanlara "Y" yazınız.

<input type="checkbox"/>	ödül – ceza	→	Eş anlamlı
<input type="checkbox"/>	doğa – tabiat	→	Eş anlamlı
<input type="checkbox"/>	güçlü - kuvvetli	→	Zıt anlamlı
<input type="checkbox"/>	kolay – basit	→	Zıt anlamlı
<input type="checkbox"/>	rüya - düş	→	Eş anlamlı
<input type="checkbox"/>	cesur - korkak	→	Zıt anlamlı
<input type="checkbox"/>	pinti - cimri	→	Zıt anlamlı
<input type="checkbox"/>	şehir - kent –	→	Eş anlamlı
<input type="checkbox"/>	vatan – millet	→	Eş anlamlı
<input type="checkbox"/>	tutsak - esir	→	Zıt anlamlı

Aşağıdaki cümlelerde yay ayrıçla ( ) belirtilen yerlere uygun noktalama işaretleri koyalım.

- Hafta sonu Bolu ( )ya gideceğiz( )
- TBMM( )nin açılışında şiir okudum( )
- Fatma( ) yarışmada 4( ) olunca ağladı( )
- Prof( ) Dr( ) Aziz Sancar 2015 yılında kimya alanında Nobel ödülü aldı( )
- Eyvah( ) en sevdiğim vazo yere düşüp kırıldı( )
- Atatürk 19 Mayıs 1919( )da Samsun( )a çıktı( )
- Dün ( )Çizmeli Kedi( ) adlı kitabı arkadaşşıma hediye ettim( )

# TÜRKÇE

## Eş Anlamlı, Zıt Anlamlı ve Eş Sesli Sözcükler Değerlendirme Soruları

1) "Ucuz - pahalı" sözcükleri arasındaki anlam ilişkisi aşağıdakilerden hangisinde vardır?

- A) yurt - vatan
- B) dost - düşman
- C) görev - vazife

2) Aşağıdaki cümlelerin hangisinde zıt anlamlı sözcükler bir arada kullanılmıştır?

- A) Komşumuz yeni aldığı arabayı bahçede yıkıyordu.
- B) Matematik dersinden tek ve çift sayıları öğrendik.
- C) Murat, iri ve şişman bir çocuktur.

3) "Annem evimize gelen misafirlere kahve yaptı."

Altı çizili kelimelerin yerine hangi kelime yazılırsa cümlenin anlamı değişmez?

- A) konuk
- B) millet
- C) konut

4) Aşağıdaki cümlelerin hangisinde eş sesli sözcükler aynı anlamda kullanılmıştır?

- A) Akşam ilginç bir düş gördüm.  
Ali ağaçtan inerken düştü.
- B) Ali ocak ayında doğdu.  
Annem bahçedeki ocakta reçel yaptı.
- C) Dedem çocukları ipe dizdi.  
Kütüphanedeki kitapları raflara dizdik.

5) Aşağıdaki cümlelerin hangisinde "bayat" kelimesinin zıt anlamlı kullanılmıştır?

- A) Babam sabah fırından taze ekmeği aldı.
- B) Öğretmenim ödevlerime baktı.
- C) Çocuklar okulun bahçesinde top oynuyor.

6) Aşağıdaki kelime çiftlerinden hangisi eş anlamlı değildir?

- A) güz - sonbahar
- B) ilave - ek
- C) hürriyet - esir

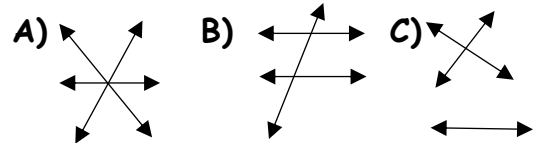
7) Dereden karşıya sal ile geçtik.

Yukarıdaki cümlede altı çizili sözcük hangi seçenektekiyle aynı anlamda kullanılmıştır?

- A) Dayım kafesteki kuşları saldı.
- B) Gölde sal ile balık tuttuk.
- C) Kümesteki tavukları bahçeye saldım.

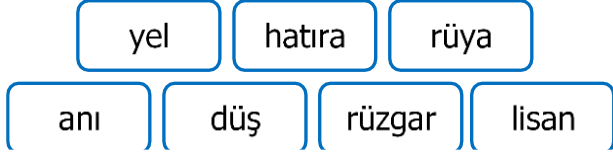
soru	• •	zarar
ödül	• •	ceza
fayda	• •	yanıt

8) Yukarıdaki kelimelerin zıt anlamlılarını eşleştirildiğinde okların yönü nasıl olur?



# TÜRKÇE

9)



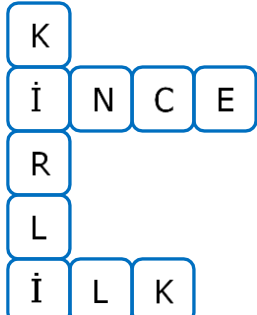
Yukarıdaki kelimelerin eş anlamlıları eşleştirildiğinde hangi sözcük boşta kalır?

- A)rüzgar      B) lisan      C) hatıra

10) Aşağıdaki cümlelerin hangisinde eş sesli kelime kullanılmıştır?

- A)Akşam, komşular bize geldi.  
B)Çiftlikteki tavuklara yem verdim.  
C)Yemekten sonra bahçede çay içtik.

11) Aşağıdaki kelimelerden hangisinin bulmacada zıt anlamı yoktur?



- A)Kalın      B)Temiz      C) Islak

12)

Doktor, öğrencilerin sorularını yanıtladı.

Yukarıdaki cümlede kaç tane eş anlamlı kelime vardır?

- A) 4      B) 3      C) 2

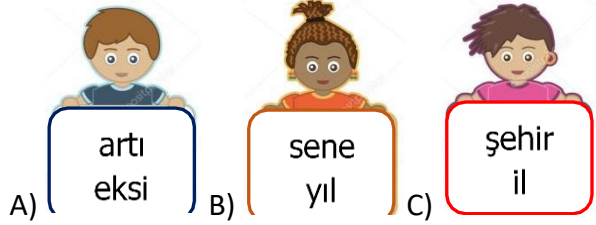
13)

Ahmet, kır ata binip uzaklaştı.

Yukarıdaki cümlede altı çizili kelime hangi cümledekiyle aynı anlamda kullanılmıştır?

- A)Ailece kırdan piknik yaptık.  
B)Kır saçlı adam arabaya bindi.  
C)Murat, ağacın dalını kırdı.

14) Aşağıdaki çocukların hangisinin elinde zıt anlamlı sözcükler yazılmıştır?





# TÜRKÇE

## CÜMLEDE YARGI ETKİNLİĞİ

### BİLGİ KUTUSU

**DUYGU:** Mutluluk, üzüntü, korku, heyecan , öfke, ilgi, merak vb. bildiren sözcük veya sözcükler.

**Örnek:** Okulların kapalı olmasına çok üzülüyorum.

**DÜŞÜNCE:** Düşünme sonucu varılan, düşünmenin ürünü olan görüş.

**Örnek:** Hakan çok güzel resim yapar.

**HABER :** Bir olay ile ilgili edinilen bilgi.

**Örnek :** Öğretmenimiz bize ziyarete geldi.

**İSTEK:** Bir kimsenin yerine gelmesinden mutlu olduğu şey.

**Örnek:** Bu ayakkabıyı almayı istiyorum.

### Aşağıdaki cümlelerin bildirdiği ifadeyi eşleştiriniz.

Keşke deprem olmasaydı.

Duygu

Özkan, şimdi okula geldi.

Düşünce

Eylül, problemi çözemeyince çok üzüldüm.

Haber

En güzel meyve çilektir.

İstek

Ne sinemaya gitmiş ne tiyatroya.

# TÜRKÇE

Bu elbiseyi almak istiyorum.

Mavi gözler, yeşil gözlerden daha güzeldir.

İstanbul'a giden ablamı çok özleyorum.

Bu kedi yavrusunu bana alır mısınız?

Komşumuzun oğluna sinir oluyorum.

Yarın size geleceğiz.

Bunu kabul eder misin?

Aykut, çok güzel resim yapar.

Duygu

Düşünce

Haber

İstek

Aşağıdaki cümleleri tamamlayınız Cümlelerin bildirdiği yargıyı işaretleyiniz.

\_\_\_\_\_ güzel şarkı söyler

Düşünce

İstek

Haber

\_\_\_\_\_ Nevşehir'e gidecek.

Düşünce

Duygu

Haber

# TÜRKÇE

\_\_\_\_\_ oyun oynamak istiyor.

Haber  İstek  Düşünce

\_\_\_\_\_ gördüğüme sevindim.

Duygu  İstek  Haber

\_\_\_\_\_ için heyecanlıyım.

Haber  Duygu  Düşünce

\_\_\_\_\_ yarışmada ikinci oldu.

Haber  Duygu  Düşünce

\_\_\_\_\_ daha çok yakışıyor.

Düşünce  İstek  Haber

\_\_\_\_\_ konsere gidebilsem.

Duygu  Haber  İstek

\_\_\_\_\_ sabah erkenden gitti.

Duygu  Haber  İstek

\_\_\_\_\_ güzel bir mevsimdir.

İstek  Duygu  Haber

\_\_\_\_\_ bana getirir misin?

Düşünce  İstek  Haber

\_\_\_\_\_ geldiğine sevindim.

Haber  İstek  Duygu

## CÜMLEDE YARGI DEĞERLENDİRME SORULARI

1) Aşağıdaki cümlelerin hangisinde "özlem" duygusu hakimdir?

- A) Ah nerede o eski güzelim günler.
- B) Yıllar sonra kim bilir neler yaşanacak.
- C) Beklediğim haber bir gelse.

2) "Eskiden olsa başımı alıp diyar diyar dolaşmak isterdim. Şimdi ise, yaşlılıktan olsa gerek, evden ayrılınca çok geçmeden yuvam burnumda tütüyor ." diyen biri en çok hangi duyguyu yaşamaktadır?

- A) Telaş
- B) Özlem
- C) Üzüntü

3) Aşağıdakilerin hangisinde "şaşıрма" anlamı vardır?

- A) Bu konuda sana güvenebilir miyim?
- B) Derenin içerisinde yürürken bir anda suya boylu boyunca düşmeyeyim mi?
- C) Bu kalabalıkta bir yerden bir yere gitmek kolay mı?

4) Aşağıdaki cümlelerin hangisinde "uyarı" anlamı vardır?

- A) Acele et yoksa sınava geç kalacaksın.
- B) Bu sayede kime güvenebileceğimi de anladım.
- C) Sana verilen emanete böyle mi sahip çıkıyorsun?

5) "Biz bu kadar çabayı sırf senin için harcamıştık. "cümlesinde hakim olan duygu aşağıdakilerden hangisidir?

- A) Korku
- B) Endişe
- C) Sitem

6) Aşağıdakilerden hangisi "endişe" içermektedir?

- A) Bu sene tarladan beklenen verim alınamadı.
- B) Kışın sert geçmesi bizi kötü etkiledi.
- C) Acaba bu sene de don yaşanacak mı?

7) Aşağıdaki cümlelerin hangisinde bir istek anlamı vardır?

- A) Sene sonu yapılacak yarışmalara katılalım.
- B) Son dönemde polisiye romanlar çok okunuyor.
- C) Devamlı kendini geliştirmeye çalışmalısın.

8) Aşağıdaki cümlelerin hangisinde bir "öğüt" anlamı vardır?

- A) Şimdi çok sinirlendim işte!
- B) Sabret ki sonunda kazanasın.
- C) Korkudan yüreğim ağzıma geldi

# İNGİLİZCE

## UNIT 10 - NATURE (DOĞA)




frog



pigeon



bear



whale



shark




dolphin



Ladybird



bee



seagull



cave



forest




desert



butterfly



seahorse



spider



# İNGİLİZCE

😊 I like .....


Sevdiğimiz şeylerden bahsederken kullanırız.



😊 I like butterfly.



😊 I like bee.



😊 I like dolphin.

☹ I don't like /

I dislike.....

Sevmediğimiz şeylerden bahsederken kullanırız.



☹ I don't like /dislike bear.



☹ I don't like /dislike frog.



☹ I don't like /dislike shark.

## BUT = AMA

Bir tane **olumlu**, bir tane **olumsuz** cümleden bahsederken kullanırız.



➤ I like dolphins, **but** I don't like/dislike sharks.

➤ I like ladybird, **but** I don't like/dislike frog.



➤ I don't like/dislike pigeon, **but** I like butterfly.

➤ I don't like/dislike bears, **but** I like bees.

# İNGİLİZCE

## A) Answer the questions.

1) I am grey. I am fat. I can fly. I have got wings. Who am I? a) bee b) butterfly c) pigeon	2) I am blue and big. I am heavy. I can swim. Who am I? a) whale b) bear c) ladybird	3) I am yellow and black. I can fly. I like flowers. Who am I? a) frog b) bee c) dolphin
4) I am blue. I can jump and play a ball. I am friendly. Who am I? a) shark b) dolphin c) whale	5) I am green. I can jump. Who am I? a) bird b) seahorse c) frog	6) I am colourful. I am small. I can fly. I have got colourful wings. Who am I? a) ladybird b) butterfly c) seagull
7) I am brown and big. I am strong. I like honey. Who am I? a) bear b) bee c) spider	8) I am blue and big. I can swim. I have got sharp teeth. Who am I? a) shark b) pigeon c) bear	9) I am black and red. I am small. I can fly. I have got spots. Who am I? a) bee b) ladybird c) butterfly

## B) Circle the correct one.

1. This is a **bee** / ladybird. It's **small** / big. It's black and **yellow** / red.



2. This is a **shark** / whale. It's **small** / big. It's **green** / blue.



3. This is a **butterfly** / frog. It's **small** / big. It's **green** / white.




4. This is a **seagull** / pigeon. It's **small** / big. It's white and **grey** / green.












# İNGİLİZCE

## C) Guess.



## D) Choose the correct one.

 <p>1) A) whale B) frog C) dolphin</p>	 <p>2) A) seagull B) pigeon C) seahorse</p>	 <p>3) A) bee B) shark C) ladybird</p>
 <p>4) A) shark B) bee C) frog</p>	 <p>5) A) bear B) bee C) spider</p>	 <p>6) A) whale B) shark C) seagull</p>
 <p>7) A) seahorse B) seagull C) bee</p>	 <p>8) A) spider B) frog C) pigeon</p>	 <p>9) A) dolphin B) shark C) whale</p>

# İNGİLİZCE

## ANSWER KEY

**A)**

- 1) c
- 2) a
- 3) b
- 4) b
- 5) c
- 6) b
- 7) a
- 8) a
- 9) b

**B)**

- 1) bee / small / yellow /
- 2) whale / big / blue /
- 3) frog / small / green /
- 4) seagull / big / grey /

**C)**

- 1) bee
- 2) dolphin
- 3) shark
- 4) frog
- 5) seagull
- 6) ladybird

**D)**

- 1) B
- 2) C
- 3) C
- 4) A
- 5) B
- 6) A
- 7) B
- 8) C
- 9) A