

2. SINIF



8. Hafta Fasikül
01-05 Haziran Kazanımları

EVDE EĞİTİM E-FASİKÜL' DE

YERKÖY ARGE

Yerköy İlçe Milli Eğitim Müdürlüğünün
uzaktan eğitim sürecinde öğrencilerimiz
için hazırladığı destek hizmetidir.

<http://yerkoy.meb.gov.tr>





Yerköy İlçe Millî Eğitim Müdürlüğü

Mehmet DURMAZ
İlçe Millî Eğitim Müdürü

Seral BORA
H.Hüseyin ASAR
Şube Müdürleri

M.Suat ATİLA
Koordinatör ve Grafik Tasarım

Hazırlayanlar

Özlem KÜÇÜK Şht. Kamil Çelikkaya İlkokulu
Evşen SAYIÇI TOKİ Şht. Ali Salmanlı İlkokulu
Ahmet YARIÇI Reşat Akyön İlkokulu
Ömer YILMAZ Atatürk İlkokulu
Hanife KARACA Mehmet Akif Ersoy Ortaokulu

TÜRKÇE



.....
Güzel yurdum dağlarını,
Uzaktan göresim gelir.
Keskin akan yellerine
Başımı veresim gelir.

Gözümde tüter dağların
Sakız kokulu çamların,
Türkü söyler akşamların,
Başa kendi sesim gelir.

Vasfi Mahir KOCATÜRK

TÜRKÇE

1- Şiirin konusu nedir?

.....

2- Şiirin ana duygusu (verdiği mesaj) nedir?

.....

3- Şiire bir başlık yazsan ne yazardın?

.....

4- Şiir kaç mısradan oluşur?

.....

Bilgi Kutum:

Yönerge: Yapılması istenenlerin sıralanmasıdır. Harita gibidir. Takip edilerek yapılır.

Yukarıda açıklaması yapılan yönergeye göre:

- 1-** Üçgen çizin. Onu yeşile boyayın.
- 2-** Üçgenin içine kare çizin. Onu sarıya boyayın.
- 3-** Karenin içine kalp çizin. Onu kırmızıya boyayın.

Yönergeleri boşluğa yapalım mı?

TÜRKÇE

SÖZCÜK BİLGİSİ







Aşağıdaki sözcükleri anlamlarıyla eşleştirelim.

1	Yenilen besinler sonucu oluşan güç.		Desteklemek
2	Kişiye yardımcı olmak.		Vitamin
3	Yediğimiz besinlerde olur. A,B,C,D,E,K çeşitleri vardır.		Enerji
4	Vücudun hasta olmaması hali.		Su
5	Vücudun %75'ini oluşturur ve onsuz hayat olmaz.		Sebze
6	Bitkilerin pişirilerek ya da çiğ olarak tüketilen türüne genel olarak verilen isim.		Sağlık
7	Kişinin kim olduğunu tanıtan belge.		Haberleşme
8	İletişim, yazışma		Müsrif
9	Çok fazla harcayan		Kimlik

TÜRKÇE

AKILLI İŞARETLER

Anlamlarını karşlarına yazalım mı?

TÜRKÇE

SATIR SONUNA SIĞMAYANLAR

Satır sonuna doğru bölünenlerin kutusunu işaretleyiniz (Tik atalım)

üzü	Göky-	plık	Kita-
rim	yıldı-	ortakal	p-
m	Resi-	ul	p-
üm	alb-	rafa	zü-
men	Öğret-	as	mak-
ci	öğren-	eolog	ark-
luk	Yolcu-	e	belg-
na	fırtı-	tatürk	A-

TÜRKÇE

GÖRSEL OKUMA

Resimlerde gördüklerinizi karşılarına yazınız



Blank yellow space for writing the description of the first image.



Blank yellow space for writing the description of the second image.



Blank yellow space for writing the description of the third image.



Blank yellow space for writing the description of the fourth image.

MATEMATİK

TARTMA



ESKİ KANTAR



ELEKTRONİK KANTAR



EŞİT KOLLU TERAZİ



BASKÜL



ELEKTRONİK TERAZİ



HASSAS TERAZİ

Kütle ölçüsü birimi **kilogram**dır.


Kısaca "**kg**" şeklinde gösterilir.

$$1 \text{ kilogram} = 1 \text{ kg}$$

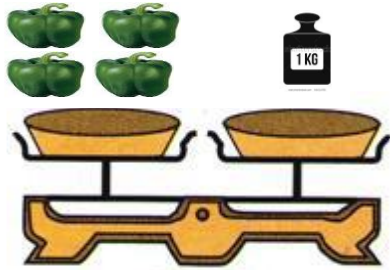

MATEMATİK

ALİŞTIRMALAR

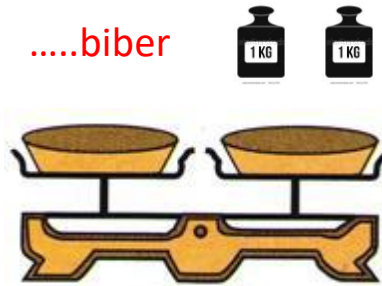
1. Aşağıdakilerden en ağır olanı işaretleyiniz.



2. Aşağıdakilerden en hafif olanı işaretleyiniz.



....biber



3. Yukarıdaki teraziye göre 1 kg 4 tane dolma biber etmektedir. İki kilogram kaç dolma biber eder?


A)6

B)8

C)10


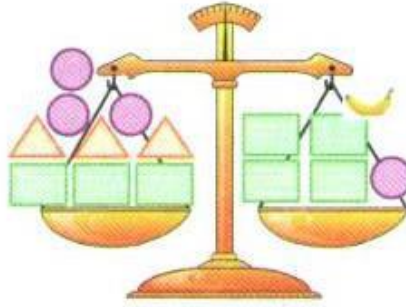
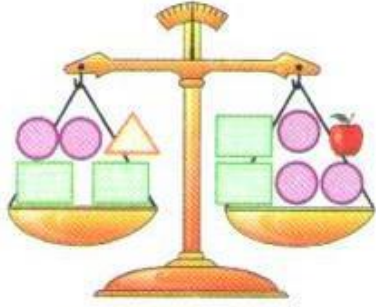
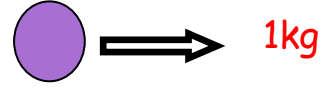
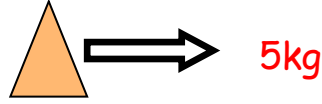
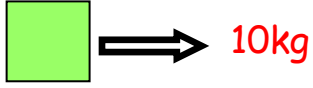
MATEMATİK

4. Aşağıda verilen ürünlerden kilogram ile ölçülenleri işaretleyiniz.


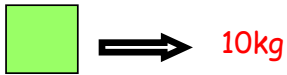


MATEMATİK

5. Eşit kollu terazilerin kefeleri dengededir. Buna göre meyveler kaç kilogramdır. Bulunuz.



6. Eşit kollu terazilerin kefelerini dengede tutabilmek için belirtilen şekillerden uygun olanını çiziniz.



MATEMATİK



3kg



5kg



4kg



8kg

7. Yukarıda verilen ürünlerin ağırlıkları altlarında yazmaktadır. Aşağıdaki terazilerde bulunan meyvelerin ağırlıklarını ölçerek üzerine yazalım.



MATEMATİK

PROBLEMLER

1. Koca Ayı ve arkadaşları sabahları 27kg bal yiyor. Akşamları ise ;sabah yediği baldan 14 kg fazla bal yiyor. Koca Ayı ve arkadaşları üç günde kaç kg bal yerler?

A)68 B)136 C)204

2. Ece 29 kg , babası 83 kg 'dır. Babası, Ece'den kaç kg fazladır?

ÇÖZÜM:

3. 5 tane elma 1 kg geliyor. Aynı elmalardan 35 tanesi kaç kg gelir ?



A)7 B)8 C)6

4. Egemen'in kütlesi 34 kg'dır. Efe, Egemen'den 6 kg eksiktir. İkiisi toplam kaç kg'dır ?

ÇÖZÜM:

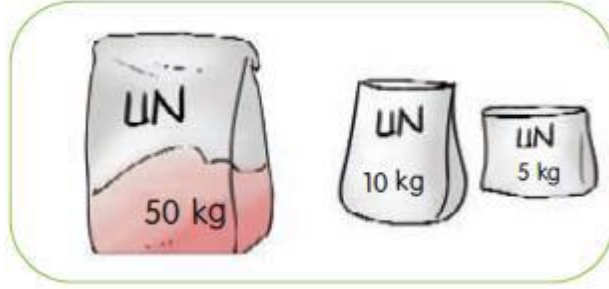
5. 3 nar 1 kg geliyor. Aynı nardan 8 kg alırsak kaç nar almış oluruz ?

A)21 B)24 C)27

MATEMATİK

6. Boş olarak 6 kg olan sandığa 37 kg patates ve 26 kg soğan kondu. Sandık şimdi kaç kg oldu?

ÇÖZÜM:



7. Niloya ve annesi ekmek pişirmek için yukarıdaki unları almışlardır. Toplam kaç kg un almışlardır?

A)60 B)65 C)70

8. Bir manav 28 kg portakal, 47 kg mandalina, 18 kg elma aldı. Aldığı meyvelerin 39 kg'ını sattı. Elinde ne kadar meyve kalmıştır?

ÇÖZÜM:



9. Keloğlan yukarıdaki şeker paketlerinden 5 tane, pirinç paketlerinden ise 3 tane almıştır. Keloğlan toplam kaç kg pirinç ve şeker almıştır?

A)20 B)21 C)22

HAYAT BİLGİSİ

DOĞAL AFETLER

Aşağıdaki görsellerde hangi doğal afetler anlatılmaktadır?
İsimlerini yazalım.



.....



.....



.....



.....



.....



.....



.....



.....



.....

HAYAT BİLGİSİ

**Aşağıdaki deprem çantasına neler koymamız gerekir?
Yazalım.**



1		5	
2		6	
3		7	
4		8	

Aşağıdaki cümlelerde boş bırakılan yerleri uygun sözcüklerle doldurunuz.

AFAD

şemsiye

çığ

hortum

sel

deprem

- * Yağmurlu havalarda dışarı çıkarken yanımıza almalıyız.
- * Kızılay ve doğal afetlerde zarar görenlere ilk yardım, yiyecek, giyecek ve barınma yardımı yapar.
- * Yer kabuğunun sarsılması sonucunda denilen doğal afet oluşur.
- * Sıcak ve nemli hava ile soğuk havanın şiddetle yer değiştirmesi sırasında dönen rüzgârlar adı verilen doğa olayını oluşturur.
- * Karların büyük kütleler hâlinde dağlardan yuvarlanması sonucunda oluşur.
- * Karların erimesi ve yağmurun çok yağması sonucu oluşabilir.

HAYAT BİLGİSİ

Aşağıdaki ifadelerden doğru olana "D" yanlış olana "Y" harfini yazınız.

- () Deprem kuşağında bulunan yerlere az katlı binalar yapılmalıdır.
- () Erozyon konusunda alınabilecek önlemlerin başında ağaç dikmek gelir.
- () Deprem bölgesine gökdelenler yapılabilir.
- () Heyelan, aşırı yağıştan dolayı olduğu için ağaç dikme yoluyla engellenebilir.
- () Pikniklerde yaktiğimiz ateşleri kesin olarak söndürüp ayrılarak, cam kırıklarını yerlere atmayarak olacak yangınları engelleriz.
- () Doğal afetlerden korunmak mümkün değildir.
- () Sağlam zeminli alanlara evler yapılmalı ve insanlar depremle yaşama konusunda bilinçlendirilmelidir.

Aşağıdakilerden hangileri doğal afetlere karşı alınabilecek önlemlerdendir?



ile belirtiniz.

- Yerleşim yerleri güvenli yerlerde kurulmalıdır.
- Eğimli arazilerde ağaçlandırma çalışmalarına önem verilmelidir.
- Deprem bölgelerinde çok katlı binalar yapılmalıdır.
- Dolaplar, kitaplıklar devrilmemesi için duvara sabitlenmelidir.
- Bina, yol yapılacak zeminlerin dayanıklılığında emin olunmalıdır.
- Binaların inşasında dayanıklı malzemeler kullanılmalıdır.
- Barajlar inşa edilerek akarsuların akışı kontrol altına alınmalıdır.
- Dere yatakları temizlenmeli ve genişletilmelidir.

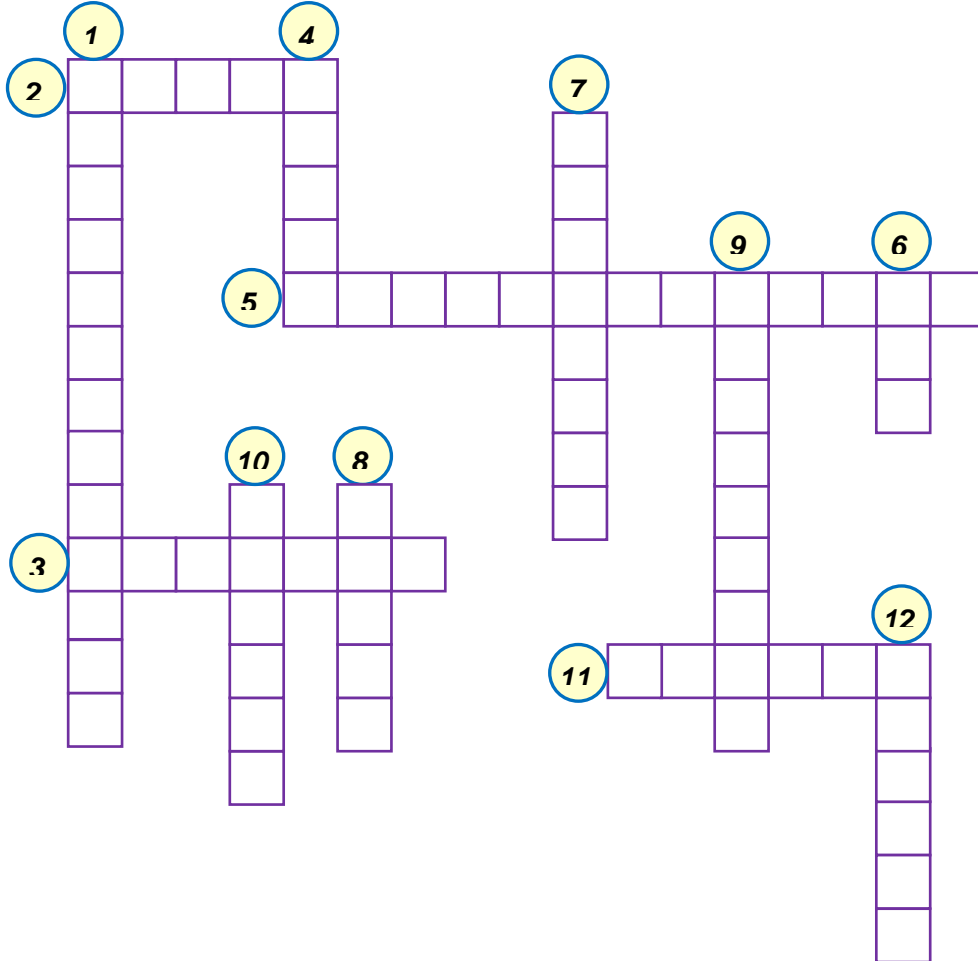


ile belirttiğiniz önlemleri, hangi doğal afetlerin zararlarını azaltmaya yönelik olduğunu belirtiniz.

HAYAT BİLGİSİ

Aşağıdaki bulmacayı, yandaki kelimelerden yararlanarak dolduralım.

1. Deprem sonrasında lazım olabilecek malzemelerin konulduğu eşya.
2. Deprem anında tehlike oluşturmaması için duvara monte edilmelidir.
3. Deprem sonrası iletişim anlamında işimizi en çok kolaylaştıracak teknolojik araç.
4. Uçak sürücüsü.
5. Heyelan.
6. Su baskını.
7. Deprem sonrasında tellerin ve direklerinden uzak durmalıyız.
8. Yapay kelimesinin zıt anlamlısı.
9. Deprem gerçeği katman.
10. Önlem sözcüğünün eş anlamlısı
11. Sele neden olan yağış türü.
12. Şiddetli fırtınaya neden olur.



RÜZGÂR

PİLOT

TOPRAK
KAYMACI

ÇİĞ

DOLAP

YER
KARIĞI

DOĞAL

TELEFERİK

DEPREM
ÇANTASI

RADYO

YAĞMUR

ELEKTRİK

TELEFON

SEL




BASKIN

TEDBİR

DOĞAL GAZ

HAYAT BİLGİSİ

Aşağıdaki soruların doğru yanıtlarını işaretleyiniz.

- Aşağıdakilerden hangisi doğal afettir?**
A) Yağmur B) Sel C) Gök gürültüsü
- Aşağıdakilerden hangisi depremlere karşı yapmamız gereken hazırlıklardan biridir?**
A) Çok katlı binalar yapmak
B) Akarsu kenarına yerleşmek
C) Tahliye çantası hazırlamak
- Aşağıdakilerden hangisi doğal afetlerde zarar görenlere ilk yardım, yiyecek, giyecek ve barınma yardımı yapar.**
A) Yeşilay B) Kızılay C) Jandarma
- Gamze, gazetede bir haber okumuş. Haberde bir köydeki evlerin çoğunun sular altında kaldığı yazıyormuş. Habere göre bu köyde hangi doğal afet yaşanmış olabilir?**
A) Çiğ B) Sel C) Erozyon
- Deprem sırasında aşağıdaki öğrencilerden hangisinin söylediğini yapmamalıyız?**
A)  Güvenli bir yerde bekleme
B)  Merdivenlere doğru koşmak
C)  Asansörleri kullanmamak

- Yüksek ve çıplak yerleri bitki örtüsü ile kaplama**
- Akarsu yataklarını sağlam duvarlarla kontrol altına almak**
- Yerleşim yerlerini toprak kayma alanlarının dışına çıkarmak**

6) Yukarıdakilerden hangileri toprak kaymasına karşı alınması gereken önlemlerdendir?

- A) 1 ve 2 B) 2 ve 3 C) 1,2 ve 3

- Ağaçlandırma yapmak**
- Nehir, kanal ve dere yataklarına bina yapmamak**
- Baraj ve setler yapmak**

7) Su ve sel baskınlarını önlemek için yukarıdakilerden hangilerini yapmak gerekir?

- A) 1 ve 2 B) 2 ve 3 C) 1,2 ve 3

8) Aşağıdaki doğal afetlerden hangisi ülkemizde görülmez?

- A) Tsunami B) Sel C) Deprem

9) Görseldeki doğal afet aşağıdakilerden hangisidir?

- A) Toprak Kayması B) Çiğ C) Sel



10) Görselde verilen doğal afet aşağıdakilerden hangisidir?

- A) Deprem B) Heyelan C) Çiğ





WELCOME TO THE ENGLISH LESSON SECTION

Hazırlayan

AHMET YARIÇI

ENGLISH


Tabloya göre konuşmalardaki boşlukları "like" ya da "don't like" ile örnekteki gibi tamamlayalım.


					
					
					


 I like monkeys. ^a


^b I elephants. 

 I horses. ^c

^d I ducks. 


 I elephants. ^e

^f I snakes. 

 I ducks. ^g

^h I horses. 

 I snakes. ⁱ

^j I monkeys. 

ENGLISH

Resimleri inceleyelim. Sözcüklerdeki eksik harfleri örnekteki gibi tamamlayalım.

a



p _ a _ r _ r _ o _ t

b



e l _ p _ a n _

c



l _ o _

d



g _ a _

e



c _ _

f



h _ r _ e

3 Her bir kutu için beş örnek yazalım.

a

Farm Animals

1

2

3

4

5

b

Jungle Animals

1

2

3

4

5

ENGLISH

Karışık harflerle verilen adları bularak örnekteki gibi resimlerle eşleştirelim, doğrularını yanlarına yazalım.

a
n k c
h e c
i



1

b
d k
c u



2

c
e k y
n o d



duck

3

d
b r z
a e



4

e
y n m
e o k



5

f
e k
s n a



6

EĞLENCE ZAMANI

		4	
4	2		
		2	3
	3		

2	4		
		2	
4			1
	3		

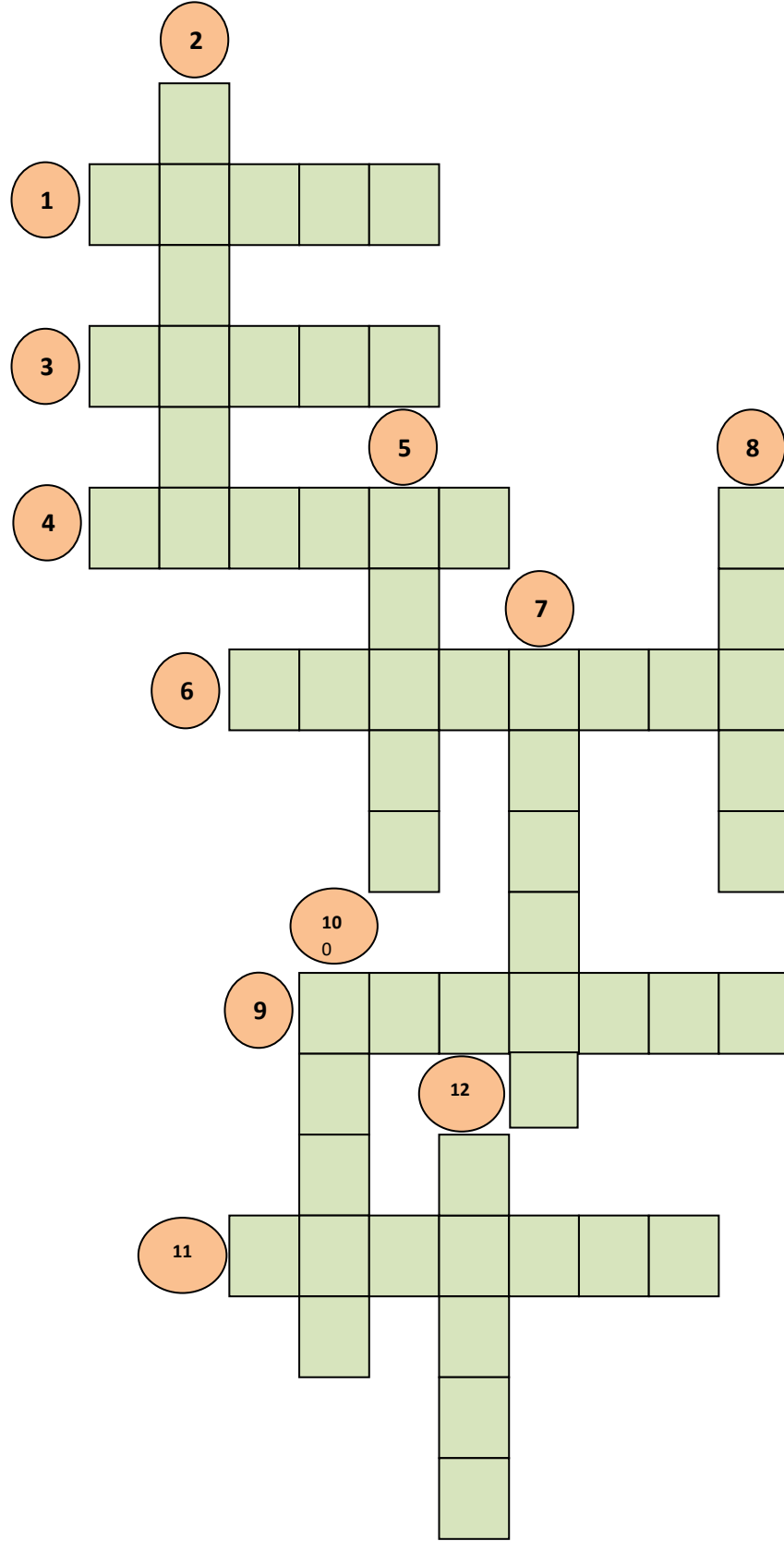
			1
4			
	4		2
		3	4

		2	
	1		
3			2
		3	4

	2		1
	3	4	
	1		4

			4
3			1
		1	
	2	4	

EĞLENCE ZAMANI



SORULAR

- 1."Savaş" sözcüğünün karşıt anlamlısı,
- 2."Açık" sözcüğünün karşıt anlamlısı.
- 3."Yurt" sözcüğünün eş anlamlısı.
- 4."Kuru" sözcüğünün karşıt anlamlısı.
- 5."Yüksek" sözcüğünün karşıt anlamlısı.
- 6."Yükselmek" sözcüğünün karşıt anlamlısı.
- 7."Tat" sözcüğünün eş anlamlısı.
- 8."Yoksul" sözcüğünün eş anlamlısı.
- 9."Geçmiş" sözcüğünün karşıt anlamlısı.
- 10."Dar" sözcüğünün karşıt anlamlısı.
- 11."Konuk" sözcüğünün karşıt anlamlısı.
- 12."Taze" sözcüğünün karşıt anlamlısı.