

3. SINIF



7. Hafta Fasikül
25-29 Mayıs Kazanımları

EVDE EĞİTİM E-FASİKÜL' DE

YERKÖY ARGE

Yerköy İlçe Milli Eğitim Müdürlüğü'nün
uzaktan eğitim sürecinde öğrencilerimiz
için hazırladığı destek hizmetidir.

<http://yerkoy.meb.gov.tr>





Yerköy İlçe Millî Eğitim Müdürlüğü

Mehmet DURMAZ
İlçe Milli Eğitim Müdürü

Serdal BORA
H.Hüseyin ASAR
Şube Müdürleri

M.Suat ATİLA
Koordinatör ve Grafik Tasarım

Hazırlayanlar


Cavidan KURU	Şht. Kamil Çelikkaya İlkokulu
Ersin BÜYÜKBAŞ	Reşat Akyön İlkokulu
Bekir ÇAKICI	TOKİ Şht. Ali Salmanlı İlkokulu
Cihan BARDAK	Atatürk İlkokulu
Esra BARDAK	Şht. Mehmet Tez And. Lisesi
Duygu ULUCAN	TOKİ Şht. Ali Salmanlı İlkokulu



HAYAT BİLGİSİ

BİLGİ SAYFASI

DOĞADA YÖN BULMA YÖNTEMLERİ



1. Belli bir noktaya göre yerimize yön denir. Yönler Güneş'in konumuna göre belirlenir. Güneş'in doğduğu tarafa sağ kolumuzu uzatırsak sağ kolumuz **doğuyu**, sol kolumuz batıyı, sırtımız güneyi, yüzümüz kuzeyi gösterir.



2. En güvenilir yön bulma yöntemi pusuladır. Düz bir yere konulan pusulanın renkli ucu daima **kuzeyi** gösterir.



Çubuk Yöntemi

3. Güneşli bir günde öğle vakti yere dikilecek bir çubuğun en kısa gölgesi **kuzeyi** gösterir.



Karınca Yuvaları

4. Karınca yuvalarının toprak yığılı olan kısmı **kuzeyi** gösterir.

HAYAT BİLGİSİ



Yosunlu Ağaçlar

5. Ağaç ve taşların yosun tutan kısmı **kuzeyi** gösterir.



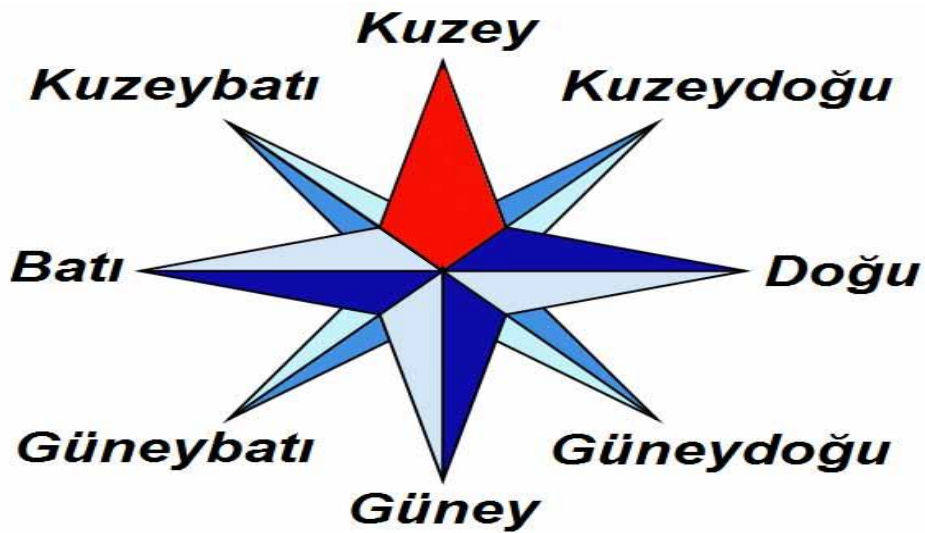
Kutup Yıldızı

6. Geceleyin Kutup Yıldızı **daima kuzeyi** gösterir.

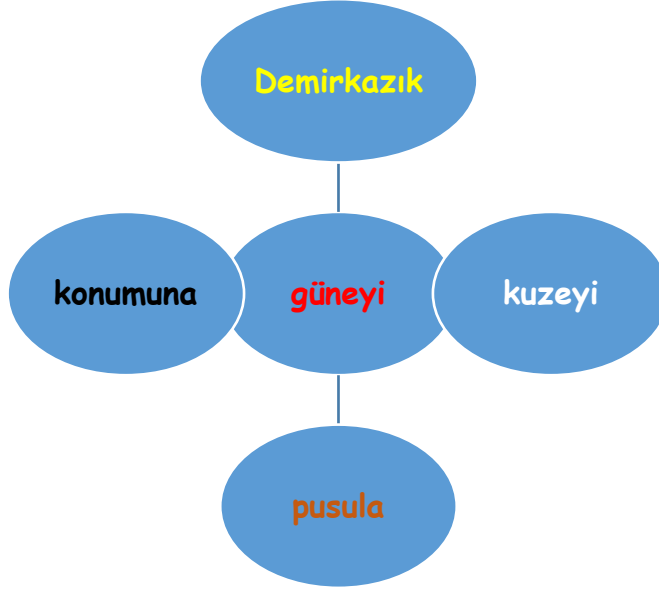


Cami Minareleri

7. Minarelerin kapıları ülkemizde **güneyi** gösterir.



HAYAT BİLGİSİ



Aşağıdaki ifadeleri uygun kelimelerle tamamlayalım.

1. Kutup Yıldızı'nın diğer adı da'tır.
2. Yönler Güneş'in göre belirlenmektedir.
3. En güvenilir yön bulma yöntemidır.
4. Ülkemizde minare kapıları gösterir.
5. Pusulanın renkli ucu daima gösterir.

Aşağıdaki ifadelerden doğru olanlara "D", yanlış olanlara "Y" yazalım.

	Karıncanın yuvalarının ağzı güneyi gösterir.
	Doğadan yararlanarak yönlerimizi bulabiliriz.
	Güneş her zaman batıdan doğar.
	Kutup Yıldızı, bizim yön bulmamızı sağlar.
	Teknolojik gelişmeler, yön bulma yöntemlerini de etkiledi.
	Ülkemizin en kuzeyindeki il Antalya'dır.
	Ay, yön bulmamızı sağlar.
	Ağaçların yosun tutmuş tarafı kuzeyi gösterir.
	Güneş'in doğuşuna ve batışına göre yönlerimizi bulabiliriz.

HAYAT BİLGİSİ

Konu Testi

1) Aşağıdakilerden hangisine bakarak yönlerimizi bulamayız?

- A) Güneş
- B) Ay
- C) Kutup Yıldızı

2) Aşağıdakilerden hangisi yön değildir?

- A) Doğu
- B) Kuzey
- C) Orta

3) Güneş..... doğar, batır.

Boş bırakılan yerlere uygun ifadeler hangi seçenekte verilmiştir?

- A) doğudan-batıdan
- B) batıdan-doğudan
- C) doğudan-doğudan

4) Aşağıdakilerden hangisi bize kuzeyi gösterir?

- A) Karınca yuvalarının ağzı
- B) Ağaçların yosun tutan tarafları
- C) Namaz kılan kişi

5) Pusulanın kırmızı ucu bize hangi yönü gösterir?

- A) Güney
- B) Kuzey
- C) Batı

6) Aşağıdaki bilgilerden hangisi doğrudur?

- A) Pusulanın kırmızı ucu doğuyu gösterir.
- B) Kutup Yıldızı doğuyu gösterir.
- C) Cami minaresinin kapısı güneyi gösterir

7) Aşağıdaki yön bulma yöntemlerinden hangisi ile güneyi bulabiliriz?

- A) Karınca yuvalarının ağzına bakarak
- B) Ağaçların yosunlu tarafına bakarak
- C) Kutup Yıldızı'nı bularak

8) Yüzümüzü Güneş'in doğduğu yöne çevirirsek, arkamız hangi yönü gösterir?

- A) Güney
- B) Doğu
- C) Batı

9) Aşağıdaki illerden hangisi doğudadır?

- A) İstanbul
- B) Van
- C) İzmir

10) Aşağıdaki illerden hangisi kuzeydedir?

- A) Antalya
- B) Edirne
- C) Sinop

MATEMATİK

Aşağıdaki uzunluk ölçülerini santimetreye çevirerek büyükten küçüğe sıralayınız.

600 cm

7 cm

1 m

37 m

41 m

50 cm

4 m

2 m50cm

Aşağıdaki problemleri defterinizde çözünüz.

Ferhat'ın boyunun uzunluğu 120 cm, Fatma'nın boyunun uzunluğu 1 m 43 cm'dir. Ferhat, Fatma'dan kaç santimetre kısadır?

Bir top kumaşın uzunluğu 2 m 50 cm'dir. 3 top kumaşın uzunluğu, 8 metre kumaştan kaç santimetre kısadır?

Marangoz yaptığı bir çerçeve için 1 m 15 cm uzunluğunda çita kullandı. Marangoz, 4 tane çerçeve yaptığında kaç santimetre çita kullanır?

750 cm'lik rafyanın 223 cm'sini Özge, 214 cm'sini Arda kullandı. Kullanılmayan kaç santimetre rafya kalmıştır?

6 m uzunluğundaki bir telin 2 m 40 cm'si kesilip kalan kısım 6 eşit parçaya bölünmüştür. Eşit parçaların uzunlukları kaç santimetredir?

60 cm

460 cm

313 cm

23 cm

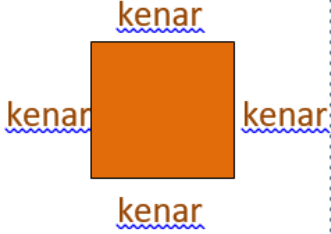
50 cm

MATEMATİK

Bilgi Kutusu

***Çevre:** Bir kapalı şeklin kenar uzunlukları toplamı çevre uzunluğudur.

❖ Karenin Çevre Uzunluğu



Karenin çevre uzunluğunu bulmak için **2 yol** vardır:


1. Yol : Tüm kenar uzunlukları toplanır.

▪ **Çevre : kenar + kenar + kenar + kenar**

2. Yol : Kenar uzunlukları eşit olduğu için bir kenar uzunluğu 4 ile çarpılır.

▪ **Çevre : 4 x kenar**

❖ Dikdörtgenin Çevre Uzunluğu



Dikdörtgenin çevre uzunluğunu bulmak için **3 yol** vardır:

1. Yol : Tüm kenar uzunlukları toplanır.

▪ **Çevre : uzun kenar+kısa kenar+uzun kenar+kısa kenar**

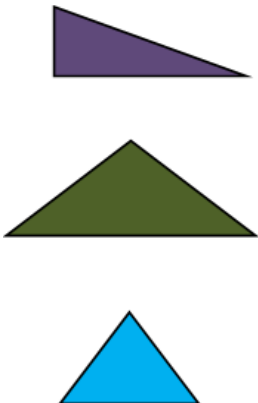
2. Yol : Uzun kenar ve kısa kenar ayrı ayrı 2 ile çarpılır, bulunan sonuçlar toplanır.

▪ **Çevre : (uzun kenar x 2) + (kısa kenar x 2)**

3.Yol: Uzun kenar ile kısa kenar toplanır, bulunan sonuç 2 ile çarpılır.

▪ **Çevre: (uzun kenar + kısa kenar) x 2**

▲ Üçgenin Çevre Uzunluğu



Üçgenin çevre uzunluğunu bulmak için de tüm kenar uzunlukları toplanır. Üçgen çeşitlerine göre farklı yollar da kullanılabilir.

1. Çeşitkenar Üçgen (tüm kenarlar farklı uzunluktadır.)

▪ **Çevre : 1.kenar + 2.kenar + 3.kenar**

2. İkizkenar Üçgen(iki kenarı eşit, üçüncü kenar farklı uzunluktadır.)

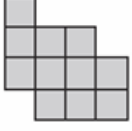
▪ **Çevre : (aynı kenarlardan biri x 2) + farklı kenar**

3.Eşkenar Üçgen (tüm kenarlar eşit uzunluktadır.)

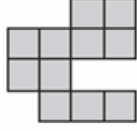
▪ **Çevre: kenar x 3**

MATEMATİK

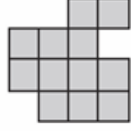
1. Verilen şekillerin çevre uzunluklarının kaç birim olduğunu bulunuz.




Çevre: ... br



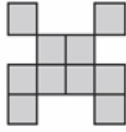
Çevre: ... br



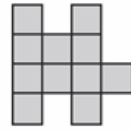
Çevre: ... br



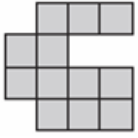
Çevre: ... br



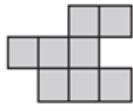
Çevre: ... br



Çevre: ... br



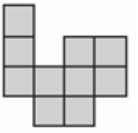
Çevre: ... br



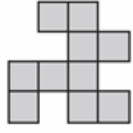
Çevre: ... br



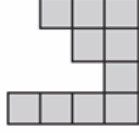
Çevre: ... br



Çevre: ... br

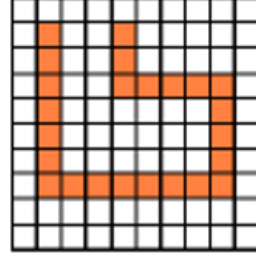


Çevre: ... br




Çevre: ... br

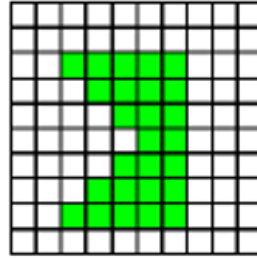
2. Aşağıdaki şekillerin çevre uzunluklarını birim cinsinden hesaplayınız.



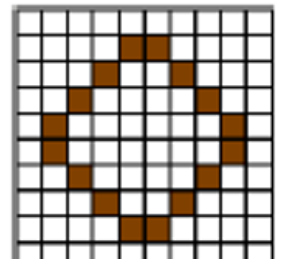
Çevre: ... br





Çevre: ... br



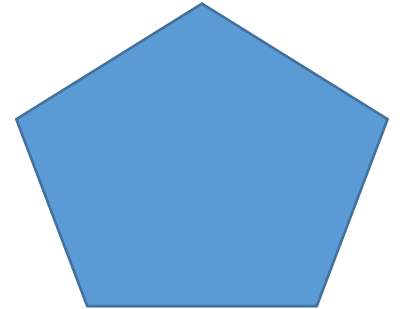
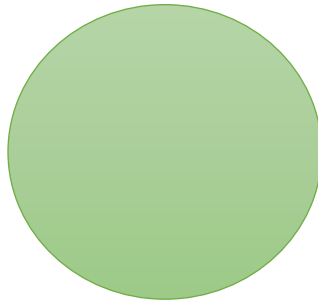

Çevre: ... br



Çevre: ... br

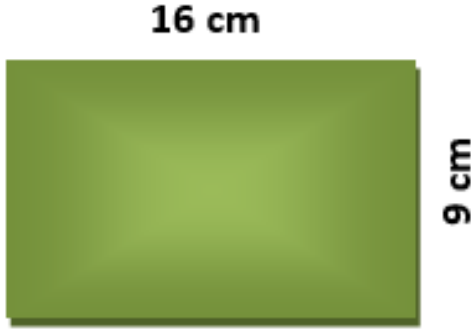


3. Aşağıdaki geometrik şekillerin çevresini ipe belirleyelim. Daha sonra çevreyi belirlediğimiz ipin uzunluğunu cetvelle ölçerek şeklin çevresini bulalım.

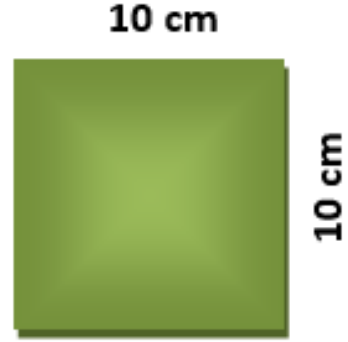


MATEMATİK

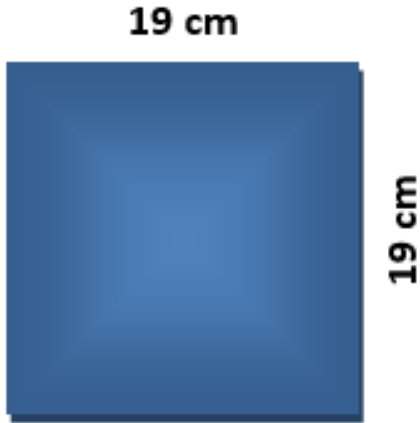
4. Aşağıdaki kare ve dikdörtgenlerin çevre uzunluklarını hesaplayınız.



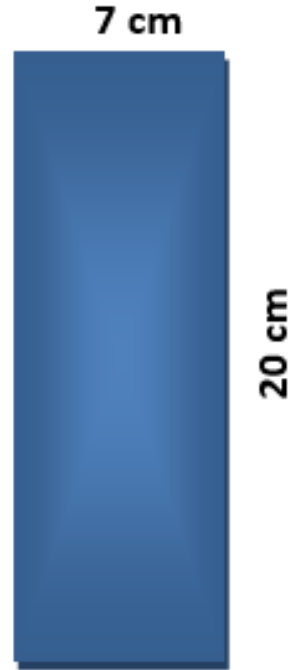
Çevre: Cm



Çevre: cm



Çevre: cm



Çevre: cm


MATEMATİK

5. Aşağıdaki şekilleri çevre uzunlukları ile eşleştiriniz.

1



2




3




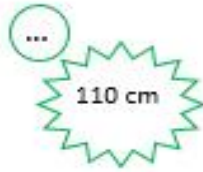
4



5



6



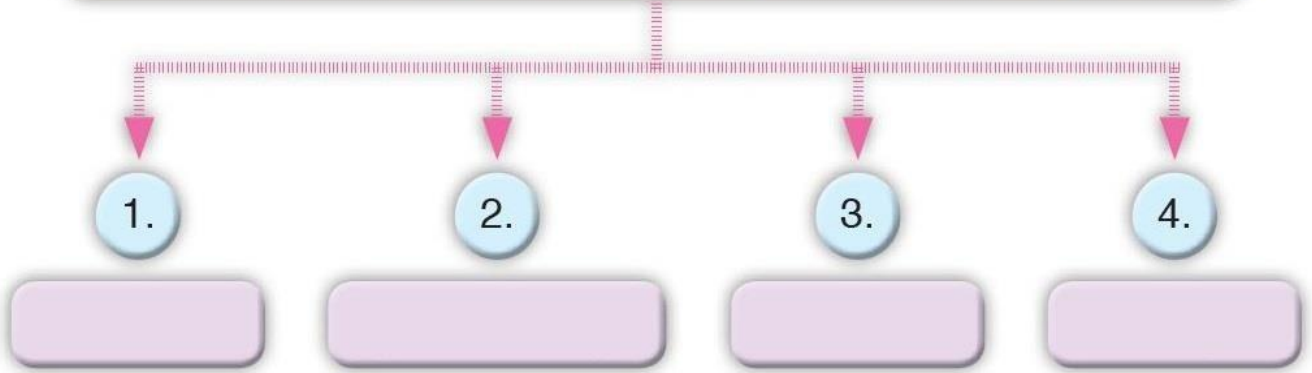
FEN BİLİMLERİ

A) Keloğlan'ın sorusunu öğrendiğimiz bilgileri kullanarak cevaplandıralım.



Sevgili çocuklar, aşağıdaki boş bırakılan yerlere kullandığımız elektrikli araç gereçlerin ihtiyaç duyduğu elektrik kaynaklarının neler olduğunu yazabilir misiniz?

Elektrikli araç gereçlerin ihtiyaç duyduğu elektrik kaynakları



B) Verilen elektrikli araçların, enerjilerini hangi kaynaktan sağladıklarını altlarına yazalım.



1) 2) 3) 4)

FEN BİLİMLERİ

C) Aşağıda verilen görselleri inceleyelim. Hangi tür elektrik kaynağının görseli verilmemiştir?



A) Pil

B) Akü

C) Şehir elektriği

D) Aşağıdaki ifadelerden doğru olanlara "D", yanlış olanlara "Y" yazalım.

Çevreye atılan piller, toprağa karışarak bitki ve hayvanlara zarar verir.

Atık pilleri mutlaka çöp kutusuna atmalıyız.

Pillerin içini açıp bakmak tehlikelidir.

Cep telefonunu akü ile çalışır.

Bütün elektrikli araçların kaynağı şehir elektriğidir.

FEN BİLİMLERİ

E) Aşağıda verilen elektrikli araç gereçlerin adlarını yandaki tabloya örnek olarak yazılanlar gibi sırasıyla yazalım.

				Ütü			
							
							Cep telefonu

F) Aşağıdaki sorulara uygun cevapları verelim.

1) Şehir elektriği ile ilgili aşağıdaki ifadelerden hangisi yanlıştır?

A) Bir çok ev aleti şehir elektriği ile çalışmaktadır.

B) Can güvenliği açısından, diğer kaynaklardan daha az tehlikelidir.

C) Elektrik santrallerinde üretir.

2) Birden fazla pilin bir araya getirilmesi ile oluşan, elektrik enerjisini kimyasal enerji olarak depo eden elektrik kaynağına ne denir?

A) Akü

B) Şehir elektriği

C) Batarya

FEN BİLİMLERİ

3) Neden farklı elektrik kaynakları kullanılmaktadır?

A) Biri tükenirse diğeri kullanılsın diye.

B) Elektrikli araç gereçlerin farklı amaçlarda kullanılmasının sonucu olarak ihtiyaç duyulmuş olması.

C) Şehir elektriğinin korunması ve bitmemesi için.

4) Akü ile ilgili aşağıdaki ifadelerden hangisi doğrudur?

A) Pilden daha küçüktür.

B) Bataryadan daha büyüktür.

C) Enerjisi hiç bitmez.

5) Batarya ile ilgili aşağıdaki ifadelerden hangisi doğrudur?

A) Enerjisi bittiği zaman şarj edilebilir.

B) Bütün bataryaların büyüklükleri aynıdır.

C) Aküye göre daha çok enerji üretir.

6) Günlük hayatta farklı amaçlarla kullandığımız batarya ile çalışan elektrikli araç gereçlerden üç tanesini yazalım.

I)

II)

III)

FEN BİLİMLERİ

6) Aşağıda verilen elektrikle çalışan araç gereçleri kullandıkları kaynaklar ile çizerek eşleştirelim.



Akü



Batarya



Şehir Elektrığı



Pil

TÜRKÇE

DİNLEMİYİ ÖĞRENECEĞİZ

İlk ders zili çalmıştı.

Öğretmen:

-Bu dersimizde, konuşanı dinleme kurallarını öğreneceğiz, dedi. Hikmet, dersin konusundan pek hoşlanmamışa benziyordu.

Öğretmen pencereye doğru yöneldi. Pencereyi açtı.

-Bakın, ormandan gelen sesi dinleyin. Kayın ağaçlarının hışırtısı çağıldayan bir suyu anımsatmıyor mu?

Onur, oturduğu yerden:

-Gerçekten öyle, diye öğretmeni onayladı. Öğretmen:

-Çocuklar, arıların da vızıltısı geliyor. Bakın vızıltı bir ara kesildi. Çünkü yaklaşan uçağın motor gürültüsü, onların sesini bastırdı. Bu bir yolcu uçağıdır. Oldukça yüksekte uçuyor, dedi.

Abdullah:

-Uçak, okulumuzu görmüş olmalı, dedi.

Öğretmen onu duymamış gibi davranıp dersini sürdürdü.

O sırada Özlem, saçlarını düzeltiyor, öğretmeni dinlemiyordu.

Öğretmen, o tarafa baktı.

-Bazı kimseler başkalarını dinlemeyi bilmezler. Bu çok kötü bir alışkanlıktır, dedi. Bizi arkadaş bilip derdini söyleyen olur. Sessizce dinlemeliyiz onu. Üzüntülerini paylaşmalıyız. Sevinçli bir haber veren arkadaşımızın neşesine biz de katılmamız. "Ben de çok sevindim." Demeliyiz. İyi bir insan hem dinlemesini hem de yanıt vermesini bilen insandır.

Aşağıdaki soruları metne göre yanıtlayalım.

1. Okuldaki ilk dersin konusu nedir?

.....

2. Ormandan gelen neyin sesidir?

.....

3. Arıların vızıltısı, bir ara neden kesilmiş?

.....

4. Uçak nereden uçuyor?

.....

5. Öğretmeni dinlemeyen kimdir?

.....

6. Arkadaşlarımızı nasıl dinlemeliyiz?

.....

TÜRKÇE

YAZIM KURALLARI DEĞERLENDİRME SORULARI

- 1) I Mutvak III. Havlu
II. Naylon IV.Çenber

Yukarıdaki kelimelerin hangisinin yazımı yanlıştır?

- A)(I) ve (II)
B)(II) ve (III)
C)(I) ve (IV)

2) Aşağıdaki cümlelerin hangisinde yazım yanlışı yoktur?

- A)4 nisanda arkadaşlarla sinemaya gideceğiz.
B)Otobüsle İstanbul'dan Ankara'ya gittik.
C)Elif, bana "neşeli çocuk" adlı kitabı hediye etti.

3)Aşağıdakilerden hangisi her zaman büyük harf ile yazılır?

- A)İzmir B) Çiçek C) Kedi

4)Aşağıdaki cümleleri hangisinde "mi" soru eki yanlış yazılmamıştır?

- A)Parktan evemi gideceksin?
B)Çocuklar ormanda mı kayboldu?
C)Okula gelecekmisiniz?

5)Aşağıdaki cümlelerin hangisinde altı çizili sözcük yanlış yazılmıştır?

- A)Bahçedeki Gül kurumaya başladı.
B)Gül'ün aldığı tokenin aynısından bende de var.
C)Dayım yeni doğan kuzenimin adını Gül koydu.

6) Aşağıdaki tarihlerden hangisinin yazımı doğrudur?

- A)23 Temmuz 2020
B)16 mayıs
C)18 aralık 2015

7)Aşağıdaki cümlelerin hangisinde büyük harflerin yazımı ile ilgili yanlışlık yapılmıştır?

- A)Av. Haluk Bey duruşmaya gelmedi.
B)Köpeğim Karabaş hasta oldu.
C)Duygu, almanca ve İngilizce kursuna gidiyor

1C-2B-3A-4B-5A-6A-7C

TÜRKÇE

Aşağıdaki şiirleri okuyunuz. Şiirlerin konularını işaretleyiniz.

İçinde barınır her türlü hayvan,
Nefes alıp veriyor onunla insan.
Bir yangın haberi duyduğum zaman,
Kaplar bütün dünyamı kapkara duman
Ramazan Dağlı

Ev

Orman

Okul

Köy

Göklerin ay yıldızı,
Rengine pek yaraşmış,
Bu yurdun oğlu kızı,
Senin için dolaşmış.
Ayda AKTAŞ

Atatürk

Vatan

Anne

Bayrak

Yoksul bir çocuk görsem,
Yağmur altında üşüyen,
Köprü olmak geçer,
Hiç değilse içimden
Sunay AKIN

Arkadaş

Çocuk

Tabiat

Dost

TÜRKÇE

Aşağıdaki şiirleri okuyup konusunu ve ana duygusunu yazınız.

ANNEME VERDİĞİM SÖZ

Ben güzel olacağım
Taşıyacağım hep
Akan suların güzelliğini

Ben iyi olacağım
Ellerim açılacak gece gündüz
Bir bitki iyiliğinde

Ben doğru olacağım
Gökten düşen taş gibi
Doğru ...

Fazıl Hüsnü DAĞLARCA

Şiirin Konusu

.....

Şiirin Ana Duygusu

.....

KİTABIM

Kitap en iyi arkadaş
Bana neyi sorsam söyler
Ne anlatsam en sonunda
Çalış, iyi, doğru ol der.

Geceleri uyumaz o
Beni kaldırır erkenden
Okulum kadar güzeldir
Kitabı çok severim ben ..

Fazıl Hüsnü DAĞLARCA

Şiirin Konusu

.....

Şiirin Ana Duygusu

.....

KIŞ

Bembeyaz oldu ortalık
Kışın da başka tadı var
Hava bir parça karanlık
Her yanda buz tutmuş sular

Gel biz de şöyle kocaman
Bir kardan adam yapalım
Eğer düşmekten korkmazsan
Buzun üstünde kayalım ..

Vasfi Mahir KOCATÜRK

Şiirin Konusu

.....

Şiirin Ana Duygusu

.....

KEDİM

Ne güzel bir kedisin,
Mırıl mırıl edersin.
Gözlerin ateş saçar,
Seni gören fareler kaçar.

Kuyruğunu sallarsın,
Delikleri koklarsın.
Sen de olmazsan eğer,
Evlerde hep fare gezer...

Arife HANCI

Şiirin Konusu

.....

Şiirin Ana Duygusu

.....

TÜRKÇE

Cümle Oluşturma Etkinliği

Aşağıdaki cümleleri eksik sözcüklerin uygun olanıyla tamamlayınız.

Yıldırım, Sadettin 'in kulağına alçak sesle

bağırdı

fısıldadı

çekti

Abant Göl'ü üzerinde yolculuk yaptık.

trenle

arabayla

vapurla

Yarın Tekir'e yeni bir alacağım.

kafes

kümes

ev

Voleybol turnuvasına ben... katıldım.

daha

de

gibi

Senin yazdığın şiiri panoya

yıkayacağım

okuyacağım

asacağım

Yarın pikniğe..... gitmeyi düşünüyorsun?

kim

kiminle

ne

Ailemizin..... en uzun bireyi benim.

boyu

montu

çantası

TÜRKÇE

Aşağıdaki tek sözcüklü cümlelerden
örnekte belirtilen sözcük sayısı kadar cümleler yazalım.

Kaldı 4

Pazardan kiraz, çilek aldım.

Gelecek 5

Okudum 6

Uçmuş 3

Yattım 5

Üzüldü 4

Güldü 2

İzledim 5

Topladım 6

Uçtu 4

Gittim 3

Cümle Bilgisi Değerlendirme Soruları

1) Aşağıdaki kelime dizilerinden hangisi cümle değildir?

- A) Aykut ile pazara gittik.
- B) Her hafta sonu pikniğe gideriz.
- C) Tarladaki ekinleri kamyonu

2) Aşağıdakilerden hangisi olumlu cümledir?

- A) Baharda buralara çok yağmur yağar.
- B) Ahmet, fırından ekme almada.
- C) Diktiğim erik ağacı çiçek açmadı.

3) Hangisi ünlem cümlesidir?

- A) Cüzdanımda hiç para kalmamış
- B) Sabah işe neden geç kaldın
- C) Vah vah, demek okula gitmedin

Canım arkadaşım, bana

4) Yukarıdaki cümle hangisi söz dizisi ile tamamlanamaz?

- A) kitap hediye etti.
- B) ip atlada.
- C) mektup yazmış.

..... oyuncak araba yaptı?

5) Yukarıdaki cümlede boş bırakılan yere hangisi getirilirse soru anlamı kazanmaz?

- A) kim
- B) nerede
- C) dün

Ahmet bizimle parka gelmesin.

6) Yukarıdaki cümle için hangisi doğrudur?

- A) Kurallı ve olumsuz
- B) Devrik ve olumsuz
- C) Kurallı ve olumlu



Acaba karıncaların kaç tane ayağı vardır?

7) Hakan'ın cümlesinde hangi duygu vardır?

- A) korku
- B) merak
- C) üzüntü

8) Aşağıdaki cümlelerde hangisi soru cümlesidir?

- A) Sınavım çok iyi geçti
- B) Balıklara yem vermeyi unutma
- C) Mahalledeki köpektan mi korktun

1C-2A-3B-4B-5C-6A-7B-8-C

İNGİLİZCE

A) Look at pictures and fill in the blanks with one



1) Leyla:..... is the weather?
Mert:..... is windy.



6) Esma:it cold there?
Arda: No. It's hot and.....



2) Selim:..... the weather cold?
Mert: Yes, it It is freezing.



7) It is today.



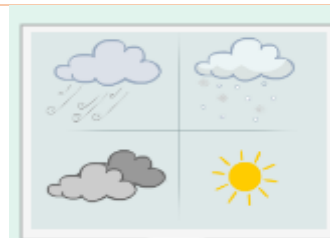
3) Mete: Is it rainy..... the desert?
Teacher: No it isn't. It is hot.....
sunny.



8) Aras: Is it?
Emel: No, it It's freezing.



4) Sema: Can I gothe park?
Father: No, you It's rainy.



9).....



5) Alp: is the weather?
Ediz: It's



10) Melisa:is the weather like in
Bolu? Selçuk: It's

İNGİLİZCE



WINDY

SNOWY

HOT

FREEZING

DESERT

WARM

SUNNY

WEATHER

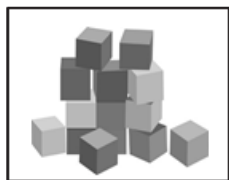
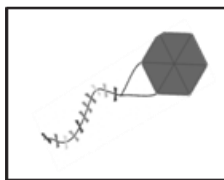

WET

COLD

RAINY

CLOUDY

C) Write the names of the toys. (kite- doll- blocks- teddy bear- ball)



.....

.....

.....

.....

.....

D) Write True or False.

My name is Eliz. I am nine years old. My mother is a teacher and my father is a policeman. I have got two sisters. I like toys. We play together. There are eighteen toys in the toy box. We are a happy family.

1) Eliz is 10 years old.....

2) She has got two sisters.....

3) There are 18 toys in the toy box.....

4) They are sad.....

İNGİLİZCE

E) Answer the questions.



1) Melis: Where is the helicopter?

Melisa:


- A) It is on the road.
- B) It is in the air.
- C) It is at the sky.



6) Asya: How can I get to Kırşehir?

Ada:.....

- A) You can go by taxi.
- B) You can go on foot.
- C) You can go by bus.



2) Deniz : Where is the train?

Derya:.....

- A) It is on the sea.
- B) It is on the road.
- C) It is on the rails



7) İrem: How can I go to school?

Mustafa:.....

- A) You can go by train.
- B) You can go by bike.
- C) You can go by boat.



3) Nehir: Where is the ship?

Zeynep:.....

- A) It is on the sea.
- B) It is in the sky.
- C) It is ship.

8) Cem:.....?

Ceren: It is snowy and cold.

- A) How is the weather?
- B) Is the weather snowy and cold?
- C) How are you?

4) The / in/ is / helicopter / the /sky /

- A) The helicopter in the sky is.
- B) The helicopter is in the sky.
- C) The sky is the helicopter in.

9) is the weather

- A) What / like
- B) How / like
- C) Where / in

5) is / where / bus / the/ ? /

- A) Where is bus the?
- B) Where is the bus?
- C) Where the bus is?

10) My father's sister is my.....

- A) Aunt
- B) Uncle
- C) Brother

İNGİLİZCE



11) Serra:.....

Selim: It is stormy .

- A) What is the weather like?
- B) Where is the bus stop?
- C) How many toy cars are there?



16) Is the weather partly cloudy?

.....

- A) Yes, it is.
- B) No, it is.
- C) No, it isn't.

12) My father's mother is my.....

- A) Sister
- B) Daughter
- C) Grandmother

17) Hayvanat bahçesine nasıl gidebilirim?

- A) Where are you?
- B) How can I get to mosque?
- C) How can I get to zoo?

13) My mother's father my.....

- A) Grandmother
- B) Grandfather
- C) Son

18) Hastaneye nasıl gidebilirim?

- A) How can I go to hospital?
- B) How are you?
- C) How can I go to museum?



14) Ömer: How can I get to Kayseri?

Emir:.....

- A) You can take a train.
- B) You can take a bus.
- C) You can take a plane



19) Sare: Where is the plane?

Buğlem:.....

- A) It is on the rails.
- B) It is on the sea.
- C) It is in the sky.

15) is the weather?

It is windy and warm.

- A) What
- B) Where
- C) How



20) Ali: How can I go to shopping centre?

Ayşe:.....

- A) You can go on foot.
- B) You can go by car.
- C) You can go by plane.

İNGİLİZCE

ANSWER KEY

A)

- 1) How / It
- 2) Is / is
- 3) in / and
- 4) to / can't
- 5) What / like / rainy
- 6) Is / sunny
- 7) hot
- 8) warm / isn't
- 9) weather
- 10) What / windy

B)



C)

- 1) ball
- 2) kite
- 3) teddy bear
- 4) doll
- 5) blocks

D)

- 1) False
- 2) True
- 3) True
- 4) False

E)

- | | |
|-------|-------|
| 1) B | 11) A |
| 2) C | 12) C |
| 3) A | 13) B |
| 4) B | 14) A |
| 5) B | 15) C |
| 6) C | 16) C |
| 7) B | 17) C |
| 8) A | 18) A |
| 9) A | 19) C |
| 10) A | 20) B |