

2. SINIF



7. Hafta Fasikül
25-29 Mayıs Kazanımları

EVDE EĞİTİM E-FASİKÜL' DE

YERKÖY ARGE

Yerköy İlçe Milli Eğitim Müdürlüğünün
uzaktan eğitim sürecinde öğrencilerimiz
için hazırladığı destek hizmetidir.

<http://yerkoy.meb.gov.tr>





Yerköy İlçe Millî Eğitim Müdürlüğü

Mehmet DURMAZ
İlçe Millî Eğitim Müdürü


Seral BORA
H.Hüseyin ASAR
Şube Müdürleri

M.Suat ATİLA
Koordinatör ve Grafik Tasarım

Hazırlayanlar

Özlem KÜÇÜK Şht. Kamil Çelikkaya İlkokulu
Evşen SAYIÇI TOKİ Şht. Ali Salmanlı İlkokulu
Ahmet YARIÇI Reşat Akyön İlkokulu
Ömer YILMAZ Atatürk İlkokulu
Hanife KARACA Mehmet Akif Ersoy Ortaokulu

TÜRKÇE



KELOĞLAN İLE HANCI

Keloğlan'ı bir kış günü anası pazara gönderirken;

-Yolda yemeğini kimseye verme. Yoksa aç kalırsın, demiş.
Keloğlan

-Tamam, anacığım, diyerek yola koyulmuş.

Ancak yolda yaşlı, yorgun bir ihtiyar ile karşılaşmış ve ona yemeğini vermiş. Sonra pazara gitmiş.

Alacaklarını almış ve eve doğru yola koyulmuş. Aniden tipi bastırmış. Keloğlan bir han bulup oraya sığınmış.

Hanın sahibi yemeğini verdiği adam çıkmış. Adam;

-Şöyle gel hele, yaptığın iyiliği unutmam demiş.

TÜRKÇE

Metin ile İlgili Soruları Cevaplayalım

1- Metnin kahramanı kimdir?

.....

2- Yapılan iyilik nedir?

.....

3- Tipi esnasında Keloğlan nereye sığınmış?

.....

4- Siz Keloğlan gibi davranır mıydınız?

.....

5- Bu masalda yer ve zamanı belirtiniz?

.....

6- Masalda bize verilen mesaj (ana düşünce) nedir?

.....

.....

TÜRKÇE

Metinleri Tamamlayalım mı?

Babam, ben ve annem dışarı çıkmıştık. Hava birden karardı. Gök gürlmeye başladı

.....
.....
.....

Ali ve babası balık tutmak için nehir kenarına gitmişler. Oltayı suya atmışlar ve

.....
.....
.....
.....

Küçük tavşancık yiyecek aramak için ormanın derinliklerine doğru koşuyormuş ki

.....
.....
.....

Dedem bizi yanına çağırdı ve

.....
.....
.....
.....

TÜRKÇE

ÖZEL AD / TÜR ADI

Özel ve tür adlarını bulup tik atalım.

	Özel Ad	Tür Adı
Esra		
Vazo		
Bardak		
Türkiye		
Dağ		
Almanca		
Selin		
Minnoş		

TÜRKÇE

İŞARET VE LEVHALAR

İşaret ve levhaları eşleştirelim.

1			Okul geçidi
2			Park Yapılmaz
3			Hastane
4			Dikkat
5			Bisiklet Giremez
6			Genel izleyici

TÜRKÇE

METİN TÜRLERİ (Şiir, Düzyazı)

- 1- Yaşamak için suya ihtiyacımız var. İnsan vücudunun % 75 'i sudur. Yıkanmak, beslenmek, temizlik vb. şeyler için su kullanırız.

Metnin Türü:.....

- 2- Kirli mi temiz mi?

Bilmezdim o yerleri,
Yaşamak en güzeli
Sokakları, caddeleri.

Metnin Türü:.....

- 3- Aslı, çok yorgundu. Erkenden uyudu. Sabah bir türlü uyanamadı. Annesi çağırdı. O yine uyanamadı.

Metnin Türü:.....

- 4- Beraberce otururuz

Uyuruz ve konuşuruz.
İyi ki o var.
Benim mis gibi evim.

Metnin Türü:.....

TÜRKÇE

NOKTALAMA İŞARETLERİ

Boşluklara uygun noktalama işaretlerini koyalım.

Ankara () nın en sevdiğim yeri Anıtkabir () dir ()

Ali sınavda 2 () olmuş ()

Neden hep konuşuyorsun ()

Eyvah () her şey bitti ()

Ali ve Veli defter () kalem () silgi () kalemıraş aldılar ()

Sen dün Rize () ye gittin mi ()

Esra () parkta oynuyordu ()

Vah vah () Her şey bitmiş mi ()


Atatürk () Kurtuluş Savaşı () nın önderidir ()

Minnoş sütü döktü mü ()

MATEMATİK

UZUNLUKLARI ÖLÇME

1. Aşağıda verilen nesnelerin uzunluklarının standart olmayan ölçme birimlerinden hangisi ile ölçülmesi daha uygundur? İşaretleyin.



kulaç parmak karış



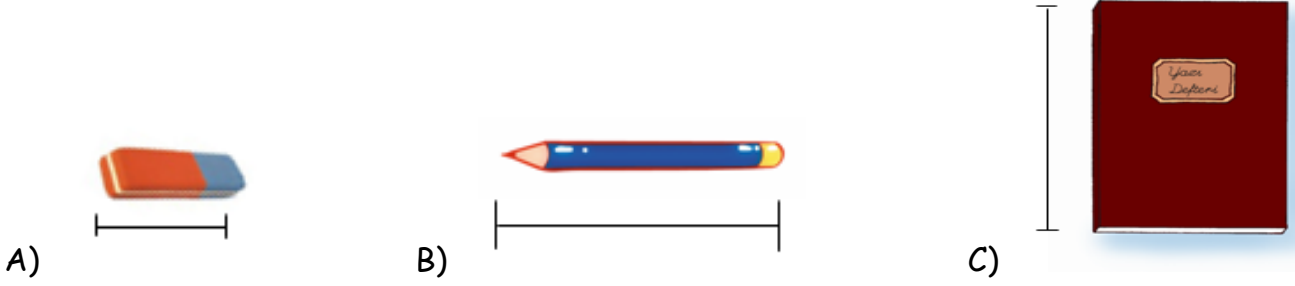
karış kulaç parmak



adım karış ayak

MATEMATİK

2. Resimlerdeki nesnelerden hangisinin belirtilen uzunluğu tahminen 3 santimetredir?




Koray Nihat

3. Resme göre Nihat'ın boyu Koray'ın boyundan ne kadar uzundur?

- A) 1 karış, 2 parmak B) 2 karış, 2 parmak C) 2 karış

4- İki direk arasına eşit uzunlukta üç tane çamaşır ipi bağlandı. Bir ipin uzunluğu 6 metre 20 santimetredir. 3 ipin toplam uzunluğu kaç metre kaç santimetredir?

ÇÖZÜM:



MATEMATİK



5. Yakup'un evi ile bakkal arası 175 metredir. Ev ile okul arası ise 184 metredir. Bakkal, okul ile ev arasında yer almaktadır. Buna göre bakkal ile okul arası kaç metredir?

ÇÖZÜM:

6. Annem 9 metre kumaşın 3 metresiyle pantolon, kalan kumaşın 2 metresiyle de etek dikti. **Geriye kaç metre kumaş kaldı?**



A) 7

B) 6


C) 4

7. Annem elbiseme dikmek için 55 santimetre kurdele aldı. Yetmeyince 25 santimetre daha kurdele aldı. **Annemin aldığı kurdele toplam kaç santimetredir?**

A) 80

B) 70

C) 60



8. Nihat yukarıdaki cetvelle ölçtüğü plastik levhadan 4 tanesini uç uca getirerek bir sayı doğrusu yapıyor. **Bu sayı doğrusunun boyu kaç santimetredir?**


A) 8

B) 10

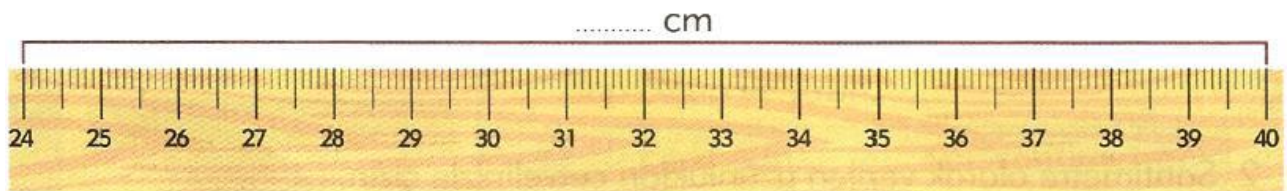

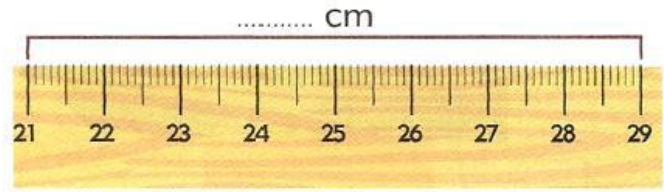

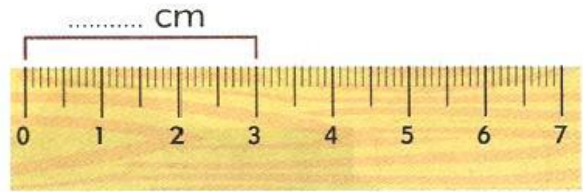

C) 12

MATEMATİK

9. Cetvelden yararlanarak, uzunluđu okuyun ve karřılıđına gelen harfi ařađıdaki kutucuklara yazınız. Őifreyi bulunuz.



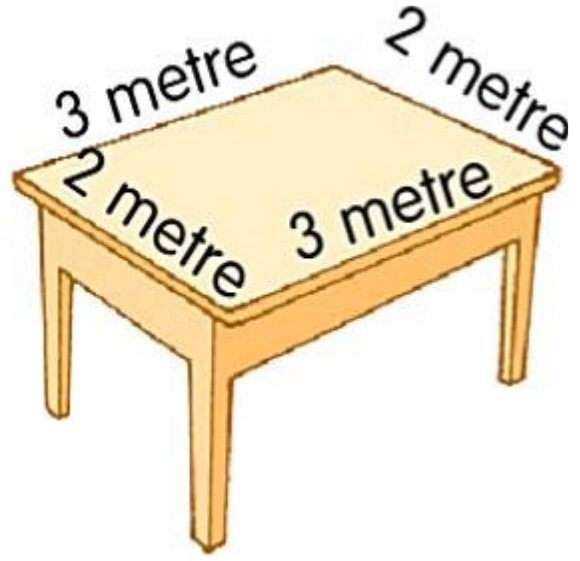
10. Verilen lmlerin ka santimetre olduđunu bulunuz.



MATEMATİK

11. Yandaki masanın üst yüzünün kenarlarına bant yapıştırıldı. Kaç metre bant kullanılmıştır?

ÇÖZÜM:



12. Berat, 5 santimetrelik cetvelle masasının boyunu ölçtü. Cetvelle 10 kez ölçüm yaptığına göre Berat'ın masasının boyu kaç santimetredir?

ÇÖZÜM:



2 santimetre



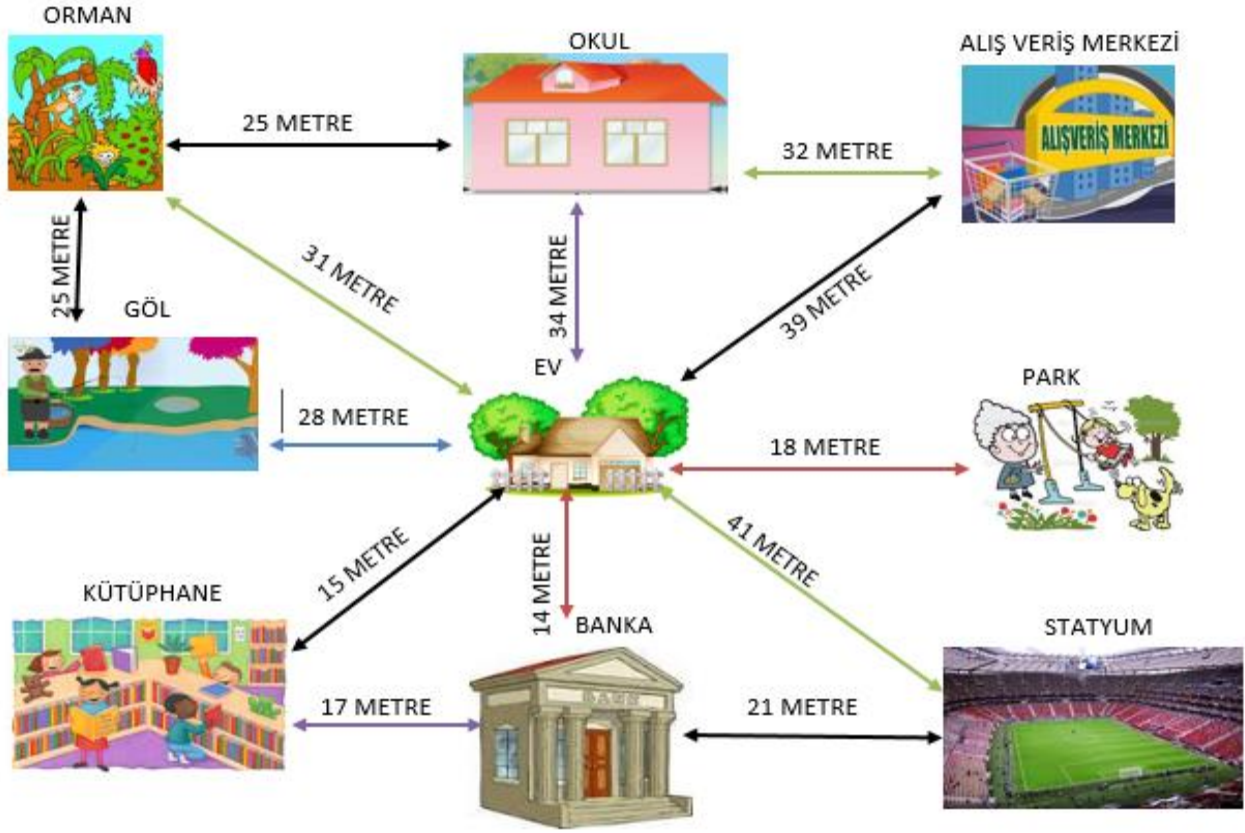
3 santimetre



13. Ufuk, yukarıda uzunlukları verilen kartonları kullanarak 10 santimetre uzunluğunda bir sayı doğrusu modeli yapmak istiyor. Buna göre Ufuk'un kullanacağı kartonlar hangi seçenekte doğru verilmiştir?



MATEMATİK



Yukarıdaki verileri kullanarak problemleri çözüünüz.

14. Yahya'nın evi ile stadyumun arası 41 metredir. Yahya evden stadyuma yürüyerek gidip maç izlemiştir. Maç çıkışı bankaya gidip sonrada eve dönmüştür. Yahya kaç metre yürümüştür?

ÇÖZÜM:

15. Yahya evden çıkıp önce ormana oradanda balık tutmak için göle gidiyor. Yahya balık tuttuktan sonra eve dönüyor. Yahya kaç metre yol yürümüştür?

ÇÖZÜM:

MATEMATİK

16. Ormanın eve olan uzaklığı, stadyumun eve olan uzaklığından ne kadar azdır?

ÇÖZÜM:

17. Ev ile göl arasındaki uzaklık, ev ile park arasındaki uzaklıktan ne kadar fazladır?

ÇÖZÜM:

18. Yahya sabah kalkıp okula gidiyor. Okul çıkışı alışveriş merkezine uğrayıp oradan eve dönüyor. Yahya bugün kaç metre yol yürümüştür?

ÇÖZÜM:

19. Okulun alışveriş merkezine olan uzaklığı ile evin ormana olan uzaklığının farkı kaçtır?

ÇÖZÜM:

20. Evin okula olan uzaklığı ile evin parka olan uzaklığının toplamı kaçtır?

ÇÖZÜM:

21. Evin bankaya olan uzaklığı ile evin okula olan uzaklığının farkı kaç metredir?

ÇÖZÜM:

HAYAT BİLGİSİ

GERİ DÖNÜŞÜM

1- Aşağıdaki atıkların altına atılması gereken geri dönüşüm kutusunun ismini yazalım.



Plastik



Kağıt



Cam



Metal

2- Aşağıdaki ifadelerden doğru olanların yanına "D", yanlış olanların yanına "Y" yazalım.

- () Bitkisel yağları lavaboya dökümleriz.
- () Geri dönüşüm ile doğanın korunmasına katkı sağlarız.
- () Alışverişlerde poşet almayarak çevre kirliliğini engellemede fayda sağlarız.
- () Geri dönüşüme katkıda bulunmak ülkemiz ekonomisine yararlı olur.
- () Kimyasal atıklar, pil ve diğer atıklar doğaya zarar vermez.
- () Plastik, kağıt ve cam gibi atıklar geri dönüşümle tekrar kullanılabilir.

3- Aşağıdakilerden hangisi geri dönüşümün faydalarından birisi değildir?

- A) Doğadaki kaynaklar korunur.
- B) Çevre kirliliği azalır.
- C) Doğadaki kaynaklar azalır.

HAYAT BİLGİSİ

4- Aşağıdaki cümlelerde boş bırakılan yerleri uygun sözcüklerle doldurunuz.

çöpe

kirliliğine

atık kâğıt

atık yağ

toprak-su

kullanılmış piller

- * Kullanılmış ve bitmiş pilleri kutusuna atmamızdır.
- * Kullanılmış yağları lavaboya dökmek vekirliliğine neden olur.
- * Evimizdeki atık yağları biriktirerek toplama merkezlerine vermeliyiz.
- * Günlük hayatta kullandığımız plastik, kâğıt, pil ve cam gibi atıkları atmamalıyız.
- * Plastik, kâğıt, pil ve cam gibi maddelerin doğaya atılması çevre sebep olur.
- * Kullanmadığımız kitaplarımızı, biten defterlerimizi kutularında biriktirerek tekrar kullanılmasını sağlamalıyız.

5- Aşağıdakilerden hangisi geri dönüşüm işaretidir?



6- Aşağıda verilen görsellerden hangisi geri dönüşüm için uygun değildir?



Doğru Olanı Bul

Geri dönüşümü yapılacak olan maddelerin ayrı ayrı toplanmasının sebepleri neler olabilir? Doğru olanların yanına 'X' koyunuz.

- Zamandan tasarruf etmektir.
- Ayrıştırma işlemini basitleştirir.
- Ayrıştırma işini yapan insanlar daha az yorulur.
- Geri dönüşüm atıkları çöplerle karışmadığı için kirlenmez.
- Daha az atık dönüşür.
- Çevre kirliliği daha az olur.

HAYAT BİLGİSİ

DOĞA OLAYLARI

Aşağıdaki noktalı yerlere gelmesi gereken doğa olaylarının isimlerini yazalım.



Bulutlarda oluşan su buharının yeryüzüne **su damlacıkları** şeklinde düşmesine..... denir.



Yoğunlaşan su damlalarının havanın soğuk tabakasında **kristalleşerek** yeryüzüne beyaz bir örtü biçimde düşen yağış biçimine..... denir.



Yağmur damlalarının aniden soğuk bir hava tabakasıyla karşılaşmasıyla **donup buz topu gibi yere düşmesine** denir.



Yeryüzünde **görüş mesafesini azaltan** ve 1 km'nin altına düşüren beyaz örtü gibi buluta benzeyen meteorolojik olaya..... denir.



Sıcak hava ile soğuk havanın yer değiştirmesi sonucu oluşan **esintiye**.....denir.



Rüzgârın daha hızlı bir şekilde esmesinedenir.








HAYAT BİLGİSİ

Aşağıdaki ifadeleri doğru ya da yanlış olmaları bakımından değerlendirelim. Başlarındaki kutuya uygun harfi yazalım (ifade doğru ise 'D' yanlış ise 'Y' yazalım).

.....	Bazen farklı hava koşulları trafiği olumsuz etkileyebilir.
.....	Sisli havalarda sürücüler daha rahat araç kullanabilirler.
.....	Yağmurlu ve karlı havalarda yollar kaygan hale gelir.
.....	Karlı havalarda sürücüler araçlarına zincir takarak trafiğe çıkmalıdır.
.....	Az ya da çok yağmur yağması tarımla uğraşan insanların yaşamını etkilemez.

Aşağıdaki hava olayları ile ilgili tabloyu inceleyelim. Sonrasında verilen soruları cevaplandıralım.

PAZARTESİ	
SALI	
ÇARŞAMBA	
PERŞEMBE	
CUMA	

1) Hangi gün araçların tekerleklerine zincir takarak çıkmak doğru olur?

- A) Pazartesi
- B) B) Çarşamba
- C) C) Cuma

2) Uçak seferleri iptal edilmiş. Ankara'ya gidemeyeceğim. Hasan Bey'in memleketine gitmeyi planladığı ve uçuşun ertelendiği gün hangisi olabilir?

- A) Perşembe
- B) Pazartesi
- C) Çarşamba

3) Cuma günü pazar alışverişine çıkacak Serpil Hanım'ın hangisini yapması doğru olur?

- A) Güneş gözlüklerini yanına almak.
- B) Kabanını giymek ve bere takmak.
- C) Spor ayakkabılarını giymek.

4) 1. Arabada çekme halatı bulundurmak.
2. Araçlara kar lastiği takmak.
3. Arabayı süratli kullanmak.
4. Araç takip mesafesini kısa tutmak.

Cuma günü trafiğe çıkan araçların hangisini yapması doğru değildir?

- A) 1-2
- B) 2-3
- C) 3-4



WELCOME TO THE ENGLISH LESSON SECTION

Hazırlayan

AHMET YARIÇI

ENGLISH

Animals

Match the animals with the picture.

TIGER

HORSE

HIPPO

GIRAFFE

ELEPHANT

DONKEY

SHEEP

COW

SPIDER

PANDA

SNAKE

LION

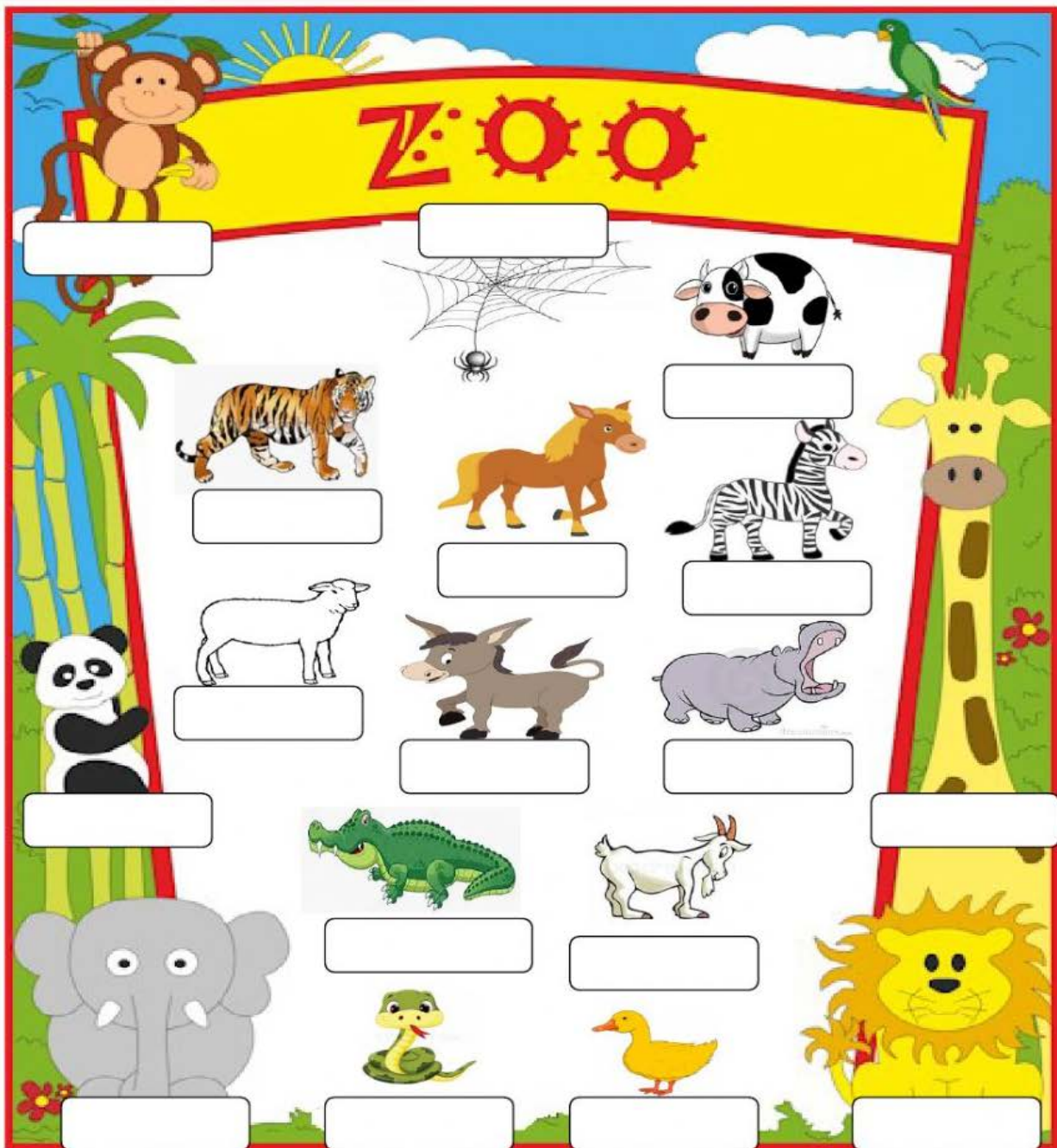
MONKEY

DUCK

ZEBRA

GOAT

CROCODILE



HOW MANY ANIMALS?



1


2

3

4

5

6



ENGLISH

1. Choose



WOLF

GIRAFFE

ELEPHANT



PARROT

HIPPO

SNAKE



RHINO

TIGER

SHARK



WHALE

GIRAFFE

MONKEY



LION

FOX

HIPPO



GIRAFFE

CHEETAH

TIGER



ZEBRA

WOLF

MONKEY



CROCODILE

BEAR

WOLF



CHEETAH

BEAR


ZEBRA

BUNLARI BİLİYOR MUYDUNUZ?

Zürafalar 35 cm uzunluğunda siyah bir dile sahiptirler.



Türkiye'de Barış ismini ilk olarak "Barış Manço" almıştır.



Kargalar ortalama 120 yıl yaşarlar.



Bir bardak kolada yaklaşık 32 küp şeker olduğunu biliyor muydunuz?



Bir insanın 1'den 1 milyara kadar 12 senede sayabildiğini biliyor muydunuz?



BUNLARI BİLİYOR MUYDUNUZ?

Sümüklüböceklerin dört tane burnu olduğunu, biliyor muydunuz?



Sadece erkek kanaryaların güzel öttüğünü, biliyor muydunuz?



Salatalığın %96'sının su olduğunu, biliyor muydunuz?



Karada yaşayan en büyük hayvanın fil olduğunu, biliyor muydunuz?

