

1. SINIF




7. Hafta Fasikül
25-29 Mayıs Kazanımları

EVDE EĞİTİM E-FASİKÜL' DE

YERKÖY ARGE

Yerköy İlçe Milli Eğitim Müdürlüğünün
uzaktan eğitim sürecinde öğrencilerimiz
için hazırladığı destek hizmetidir.

<http://yerkoy.meb.gov.tr>





Yerköy İlçe Millî Eğitim Müdürlüğü

Mehmet DURMAZ
İlçe Milli Eğitim Müdürü

Serdal BORA
H.Hüseyin ASAR
Şube Müdürleri

M.Suat ATİLA
Koordinatör ve Grafik Tasarım

Hazırlayanlar

Adem İLENDEMLİ Atatürk İlkokulu
Alpaslan E. AKGÜN TOKİ Şht. Ali Salmanlı İlkokulu
Necip SIVRI Şht. Kamil Çelikkaya İlkokulu
Ahmet Şevki ŞAHİN Saray Yibitaş Ortaokulu



ÇEVREMİZDEKİ BİTKİLER

Yakın Çevremde Bulunan Bitkiler

Bahçe bitkileri: Yaşadığım yer süs bitkileri ve sebzeler bakımından oldukça zengindir. Gül, lale, karanfil, sardunya, süsen, horozibiği, kasımpatı gibi çiçekler; marul, domates, biber, salatalık, soğan, tere, nane ve maydanoz gibi sebzeler yetişmektedir.



Gül



Lale



Süsen



Biber



Domates



Nane

Yabani bitkiler: Yaşadığım yerde birçok yabani bitki bulunur. Bunlardan bazıları papatya, çan çiçeği, gelincik, menekşe, ayrık otu, madımak, sirken, hardal, ebegümeçi ve ısırgan otudur.



Papatya



Çan çiçeği



Gelincik



Madımak



Hardal



Isırgan

ÇEVREMİZDEKİ BİTKİLER

Ağaçlar: Yakın çevremde birçok ağaç türü vardır. Sarıçam, karaçam, meşe, kavak, akasya, salkım söğüt, iğde, elma, armut, vişne, kiraz, dut, erik, kayısı, kızılıçık, alıç, ahlat ve üvez bunlardan bazılarıdır.



Salkım söğüt



Kavak



Meşe



Arkadaşlar, yaptığım araştırma ve gözlemlerim sırasında bitkilerin yıl içerisinde değişimler gösterdiğini fark ettim. Aşağıda, bununla ilgili olarak kayısı ağacını örnek verdim. İnceleyiniz.



Soğukların bitişi ve havanın ısınmaya başlamasıyla kayısı ağacı çiçeklenir.



Havanın iyice ısınmasıyla çiçekler meyveye dönüşür ve meyveler zamanla olgunlaşır.

ÇEVREMİZDEKİ BİTKİLER



Sıcak sona erip havanın soğuması ile birlikte kayısı ağacının yaprakları sararır ve yavaş yavaş dökülür.



Havalar iyice soğduğunda, kayısı ağacı, yapraksız dallarıyla havaların tekrar ısınmasını bekler.

BİTKİLERİ VE HAYVANLARI KORUMA

Hayvanlara şiddet uygulamamalıyız. Onların barınaklarına zarar vermemeliyiz. Çevremizde bulunan bitkilere de zarar vermemeli, onları koparıp ezmemeliyiz. Evimizde yetiştirdiğimiz bitkileri zamanında sulamalıyız. Bitkilerin bakımı ve budanması sırasında büyüklerimize yardımcı olmalıyız.

Çevrenizdeki bitki ve hayvanları korumak için neler yapabilirsiniz?





GİZEM'İN GÖZLÜĞÜ

Gizem'in gözleri tablette çok oyun oynadığı için iyi göremez olmuştu. Babası Galip Bey kızını göz doktoruna götürmüştü. Doktor da Gizem'e gözlük kullanması gerektiğini söylemiş. Gözlükçüye gidip en güzelinden, geniş camlı bir gözlük almışlar.

ANLADIK MI ?

1. Gizem'in gözleri neden bozulmuş?


2. Babası Gizem'i nereye götürmüştü?

3. Gizem'e nasıl bir gözlük almışlar?

4. Doktor, Gizem'e ne söylemiş?

TÜRKÇE

RESFEBE, kelime veya kelime gruplarının, harf, sayı ve resimlerle temsil edilmesiyle oluşturulan oyunlara deniyor.



TÜRKÇE

SÖZCÜK MAKİNESİ

📖 Aşağıdaki sözcüklerin son harfi ile başlayan yeni sözcükler türetip örnekteki gibi yazınız.

Kalem → masa → ayran → nane → ekmek

Mendil → → → →

Kumbara → → → →

Balık → → → →

Kedi → → → →

Gözlük → → → →

Peçete → → → →

TÜRKÇE

CÜMLE-KELİME-HECE ETKİNLİĞİ

Aşağıdaki metin parçasını okuyunuz. Cümle, kelime ve hece sayılarını yazınız.

Bahar gelmişti. Tüm çocuklar kırlara koşmuş, uçurtma uçuruyorlardı. Kerem ve Didem de bir uçurtma yapmaya karar verdiler. Uçurtma yapmak için annelerinden uçurtma malzemesi istediler.

Cümle Sayısı:

Kelime Sayısı:

Hece Sayısı:

Küçük Elif annesiyle birlikte sabah pazara gitmiş. Pazardan elma, armut, şeftali almışlar. Pazardan eve dönerken yolda yavru bir kedi ile karşılaşmışlar. Kedi çok hastaymış. Elif annesine kediyi alıp eve götürelim demiş. Annesi de tamam demiş.

Cümle Sayısı:

Kelime Sayısı:

Hece Sayısı:

TÜRKÇE

BİR HECE , İKİ KELİME ETKİNLİĞİ

Ortaya öyle bir hece yazın ki , iki tane kelimeniz olsun (kolye - yemek).

1	kol	ye	mek	7	kir	.	de
2	kü	.	ri	8	ma	.	kız
3	man	.	la	9	ma	.	na
4	mo	.	ba	10	mas	.	ne
5	ka	.	nak	11	ke	.	tı
6	man	.	gıç	12	kü	.	lek

MATEMATİK

TABLO OKUMA



























A) Aşağıda, bir sınıftaki öğrencilerin sevdiği spor türleri listelenmiştir. Verilen tabloya göre aşağıdaki soruları cevaplayınız.

SPOR TÜRÜ	ÖĞRENCİ
Futbol	8
Basketbol	5
Voleybol	7
Yüzme	10

- 1) Futbol seven kaç kişidir?
- 2) Voleybol seven kaç kişidir?.....
- 3) Basketbol seven kaç kişidir?.....
- 4) Yüzme seven kaç kişidir?
- 5) En az hangi spor türüdür?.....
- 6) En fazla hangi spor türüdür?.....
- 7) Yüzme bilen, voleybol bilenden kaç fazladır?.....
- 8) Bu sınıfta toplam kaç kişi vardır?.....
- 9) Basketbol ve yüzme seven toplam kaç kişidir?.....
- 10) Futbol ve voleybol bilen toplam kaç kişidir?.....

MATEMATİK

B) Aşağıdaki tablo bir çiftlikteki hayvan sayılarını göstermektedir. Aşağıdaki soruları tabloya göre cevaplayınız.

Hayvanlar	Hayvan Sayısı							
İnek								
Koyun								
Hindi								
At								
Tavuk								

- 1) Bu çiftlikte kaç tavuk vardır?
- 2) Tavuklar, hindilerden kaç fazladır?.....
- 3) İnek ve at sayılarının toplamı kaçtır?.....
- 4) Tavuklar, koyunlardan kaç fazladır?.....
- 5) Çiftlikte en fazla hangi hayvan vardır?.....
- 6) Atlarla hindiler kaç tanedir?.....
- 7) Hangi hayvan en azdır?.....
- 8) Hangi hayvan en fazladır?.....
- 9) Atlar hindilerden kaç fazladır?.....
- 10) Bu çiftlikte toplam kaç hayvan vardır?.....
- 11) Tablodaki atların ayakları kaç tanedir?.....
- 12) Tablodaki tavukların ayakları kaç tanedir?.....

MATEMATİK

TAKVİM OKUMA 2018 2019 2020 2021 2022

	«	MAYIS 2020						»	
Günler	Pt	Sa	Ça	Pe	Cu	Ct	Pz		
18. Hafta					1	2	3		
19. Hafta	4	5	6	7	8	9	10		
20. Hafta	11	12	13	14	15	16	17		
21. Hafta	18	19	20	21	22	23	24		
22. Hafta	25	26	27	28	29	30	31		

2020 Mayıs Ayı Önemli Günleri takvimde bulup gösteriniz.

1 Mayıs İşçi Bayramı, Emek ve Dayanışma Günü

19 Mayıs Atatürk'ü Anma, Gençlik ve Spor Bayramı

23 Mayıs Ramazan Bayramı Arifesi

24 Mayıs Ramazan Bayramı 1. Gün

25 Mayıs Ramazan Bayramı 2. Gün

26 Mayıs Ramazan Bayramı 3. Gün

MATEMATİK

C) Aşağıdaki soruları yukarıdaki tabloya bakarak cevaplarını yazınız.

1. 1 Mayıs hangi güne denk gelmektedir?
2. 19 Mayıs Atatürk'ü Anma, Gençlik ve Spor Bayramı hangi güne denk gelmektedir?
3. 31 Mayıs hangi gündür?
4. 18. Haftada kaç gün vardır?
5. 18. Hafta da hangi günler vardır?
6. Cumartesi, Mayıs ayının kaçınıcı günleri vardır?
7. Pazartesi, Mayıs ayının kaçınıcı günleri vardır?.....
8. Pazar kaçınıcı günlere denk gelmektedir?
9. 24 Mayıs hangi güne denk gelmektedir?

Yatay olanlara satır denir.

Dikey olanlara sütun denir.

10. Takvimde satır ve sütunları

gösteriniz.

MATEMATİK

2019-2020 EĞİTİM ÖĞRETİM YILI

YERKÖY ATATÜRK İLKOKULU 1 /A SINIFI HAFTALIK DERS PROGRAMI

	PAZARTESİ	SALI	ÇARŞAMBA	PERŞEMBE	CUMA
1. Ders	HAYAT BİLGİSİ	HAYAT BİLGİSİ	TÜRKÇE	HAYAT BİLGİSİ	HAYAT BİLGİSİ
2. Ders	TÜRKÇE	TÜRKÇE	TÜRKÇE	TÜRKÇE	TÜRKÇE
3. Ders	TÜRKÇE	TÜRKÇE	MATEMATİK	TÜRKÇE	TÜRKÇE
4. Ders	MATEMATİK	MATEMATİK	GÖRSEL SANATLAR	MATEMATİK	MATEMATİK
5. Ders	MÜZİK	SERBEST ETKİNLİK	SERBEST ETKİNLİK	SERBEST ETKİNLİK	SERBEST ETKİNLİK
6. Ders	BEDEN EĞİTİMİ VE OYUN	BEDEN EĞİTİMİ VE OYUN	BEDEN EĞİTİMİ VE OYUN	BEDEN EĞİTİMİ VE OYUN	BEDEN EĞİTİMİ VE OYUN

D) Aşağıdaki soruları yukarıdaki ders programı tablosuna bakarak cevaplayınız.

1. Pazartesi 1. Dersin adı nedir?.....

2. Çarşamba 3.dersin adı nedir?.....

3. Müzik hangi gündür?.....

4. Müzik kaçınıcı derstir?.....

5. Görsel Sanatlar hangi gündür?.....

6. Beden Eğitimi ve Oyun hangi satırda yer almaktadır?.....

7. Perşembe 5. Dersin adı nedir?.....

MATEMATİK

E) Ali Baba'nın Çiftliğinde 5 tane inek, 6 tane keçi, 4 tane horoz, 7 tane tavuk, 3 tane at vardır.

*Yukarıdaki bilgileri kullanarak bir tabloyu oluşturunuz.

Tablo Adı:Çiftlikte Bulunan Hayvanlar

HAYVANLAR	SAYISI

Soruları Yanıtlayalım:

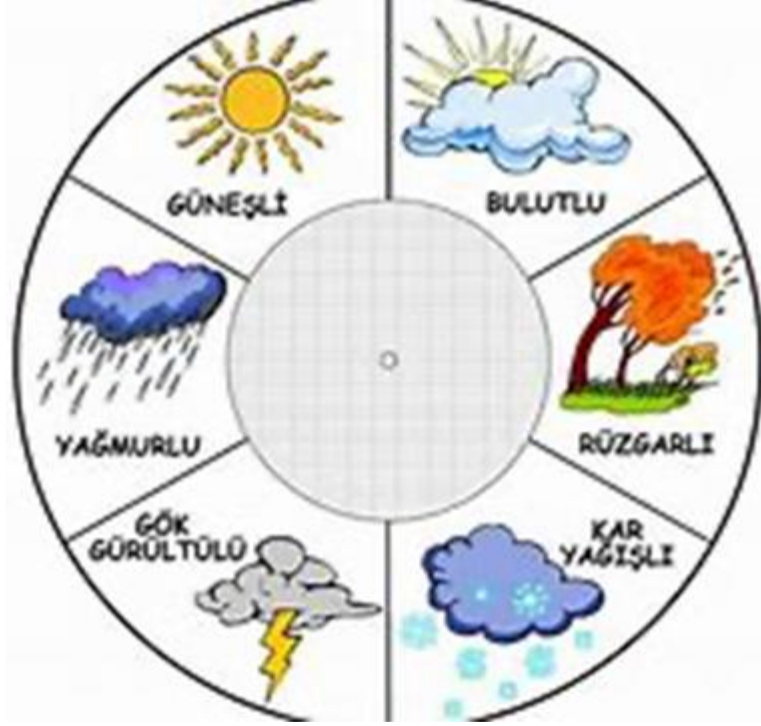
* Çiftlikte en çok hangi hayvan vardır?.....

*Çiftlikte en az hangi hayvan vardır?.....

*Çiftlikteki keçi sayısı at sayısından ne kadar fazladır?.....

*Çiftlikteki horoz sayısı tavuk sayısından ne ne kadar azdır?.....

MATEMATİK



F) İlçemizin bir haftalık hava durumunu gözlemleyerek tabloya resmini yapınız.

Tablo: İlçemizin Bir Haftalık Hava Durumu

	Pazartesi	Salı	Çarşamba	Perşembe	Cuma	Cumartesi	Pazar
GÜNEŞLİ							
BULUTLU							
GÖK GÜRÜLTÜLÜ							
YAĞMURLU							
RÜZGARLI							
KAR YAĞIŞLI							

MATEMATİK





















Tablonun karşısına sayılarını yazınız.

Tablo Adı: İlçemizin Bir Haftalık Hava Durumu

HAVA DURUMU	SAYISI
GÜNEŞLİ	
BULUTLU	
GÖK GÜRÜLTÜLÜ	
YAĞMURLU	
RÜZGARLI	
KAR YAĞIŞLI	

MATEMATİK

Tablo: İllerin Beş Günlük Hava Durumu

İller	P.tesi	Salı	Crsm.	Prsm.	Cuma
İçel					
Aydın					
Sinop					
Edirne					

Tablo: İllerin Hava Durumu

HAVA DURUMU	SAYISI
GÜNEŞLİ	
PARÇALI BULUTLU	
YAĞMURLU	