

1. SINIF



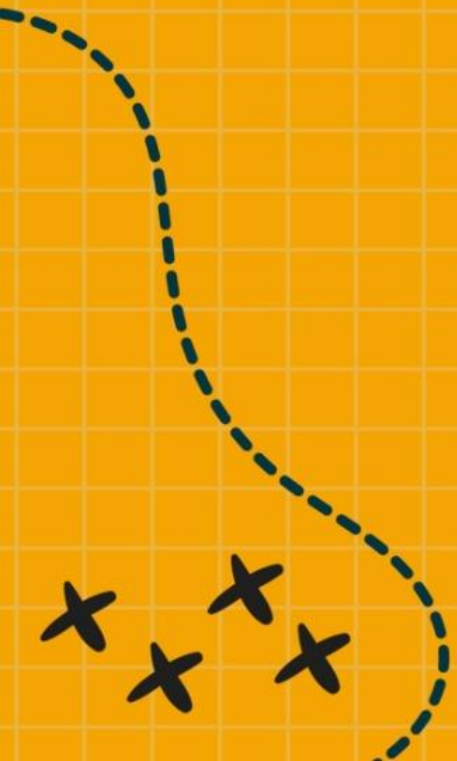
6. Hafta Fasikül  
18-22 Mayıs Kazanımları

# EVDE EĞİTİM E-FASİKÜL' DE

## YERKÖY ARGE

Yerköy İlçe Milli Eğitim Müdürlüğü'nün  
uzaktan eğitim sürecinde öğrencilerimiz  
için hazırladığı destek hizmetidir.

<http://yerkoy.meb.gov.tr>





## Yerköy İlçe Millî Eğitim Müdürlüğü

**Mehmet DURMAZ**  
İlçe Milli Eğitim Müdürü

**Serdal BORA**  
**H.Hüseyin ASAR**  
Şube Müdürleri

**M.Suat ATİLA**  
Koordinatör ve Grafik Tasarım

### Hazırlayanlar

Adem İLENDEMLİ Atatürk İlkokulu  
Alpaslan E. AKGÜN TOKİ Şht. Ali Salmanlı İlkokulu  
Necip SİVRİ Şht. Kamil Çelikkaya İlkokulu  
Ahmet Şevki ŞAHİN Saray Yibitaş Ortaokulu





# HAYAT BİLGİSİ

## DİNİ GÜN VE BAYRAMLAR

### 1.RAMAZAN BAYRAMI



Ramazan Bayramı ve Kurban Bayramı dinî bayramlarımızdır.  
Ramazan ayı boyunca oruç tutulur.

**Ramazan ayının sonunda üç günlük RAMAZAN BAYRAMI kutlanır.**

Bayram için şeker, çikolata, bayramlık ve kıyafetler alınır. Evde tatlılar hazırlanır.

Bayramda akrabalar ve komşular birbirine bayramlaşmaya gider.

# HAYAT BİLGİSİ

## DİNİ GÜN VE BAYRAMLAR

### 2. KURBAN BAYRAMI



Kurban Bayramı'nda en önemli alışveriş ise kurbanlık alışverişidir. Alınan kurban, uygun alanda kesilir.

Kurban etinin bir kısmı, kurban kesemeyenlerle paylaşılır, bir kısmı da pişirilip komşularla, akrabalarla birlikte bayram boyunca yenir.

Eş, dost ve akraba birbirini ziyaret eder. İhtiyaç sahiplerine yardım edilir, çocuklar sevindirilir. Kurban Bayramı dört gün sürer.

**Dini Günlerimiz:** Regaip Kandili, Miraç Kandili, Berat Kandili, Kadir Gecesi, Mevlit Kandili ve Aşure Günü gibi dinî günlerimiz vardır.

Bu günlerde dualar okunur; kandil simidi, lokma, helva, aşure dağıtılır. İnsanlar bu günlerde birbirlerini arar, birbirlerine iyi dileklerini ve dualarını iletirler.

# HAYAT BİLGİSİ

## ÇEVREMİZDEKİ HAYVANLAR



Çevrenizde hangi hayvanları görüyorsunuz? Söleyiniz.

### YAKIN ÇEVREMİZDEKİ HAYVANLAR

**Balıklar:** Yaşadığım yerde birçok göl ve akarsu bulunmaktadır. Buralarda tatlı su balıkları yetişmektedir. Aynı zamanda, balık çiftlikleri oluşturularak balık yetiştiriciliği de yapılmaktadır. Sazan, yayın, kadife ve turna gibi balıklar yakın çevremde görülen başlıca balık türleridir



Sazan balığı



Yayın balığı



Kadife balığı



Tatlı su turna balığı

**Kuşlar:** Yaşadığım yerin çevresi kuş çeşitliliği bakımından ülkemizin zengin bölgelerinden biridir. Güvercin, serçe, kırlangıç, karga gibi kuşlar burada sıkça görülen kuş türlerindedir.



Karga



Güvercin



Serçe



Kırlangıç

# HAYAT BİLGİSİ

## CEVREMİZDEKİ HAYVANLAR

**Sürüngenler:** Yaşadığım çevrede sarı yılan, şeritli engerek, tarla kertenkelesi, kara kaplumbağası gibi sürüngenler yaşamaktadır.



Yılan



Tarla kertenkelesi



Kaplumbağa

**Böcekler:** Karınca, örümcek, çekirge, uğur böceği, karasinek, sivrisinek, ateş böceği ve kelebek gibi birçok böcek türü yaşadığım çevrede bulunmaktadır.



Uğur böceği



Kelebek



Karınca



Çekirge



Kara sinek

**Evcil hayvanlar:** Evcil hayvanlar; etinden, sütünden, yününden, gücünden yararlanmak amacıyla insanlar tarafından yetiştirilen hayvanlardır. Yaşadığım çevrede birçok evcil hayvan vardır. İnek, koyun, keçi, at, eşek, tavuk, hindi, tavşan, kedi, köpek, bal arısı başlıca evcil hayvanlardandır.

**İnek, koyun, keçi, at ve eşek; ot, saman ve yem ile beslenir.**

Kedi ve köpeklere ise evde pişen yemekler, süt, mama gibi besinler verilir.

Tavuk ve hindi gibi kümes hayvanları arpa, buğday, mısır ile yemlenir.

Tavşanlar ot, arılar ise çiçeklerle beslenir.

İnek, at ve eşek gibi hayvanların barındığı yere ahır, koyun ve keçinin barındığı yere ağıl denir.

Tavuk, hindi ve tavşanların barındığı yere kümes, köpeklerin barındığı yere kulübe, arıların yaşadığı yere ise kovan denir.

Kediler genelde evde, insanlarla birlikte yaşar. Huyunu bilmediğimiz, tasma, küpesi olmayan sahipsiz hayvanlarla oynamamalıyız.



# HAYAT BİLGİSİ

## ETKİNLİK

**\*\* Noktalı yerlere uygun sözcükleri yazarak cümleleri tamamlayalım\*\***

**tohum ve böcekler – tehlikeli - yabani(vahşi) – evcil – veteriner - Şeker Bayramı**

\*Evlerimizde beslediğimiz hayvanlara .....hayvanlar denir.

\*Doğada kendi başına yaşayan hayvanlara .....hayvanlar denir.

\*Kuşlar.....ile beslenirler.

\*Bazı hayvanlar insanlar için .....dir.

\*Hasta hayvanların tedavisini .....yapar.

\*Ramazan Bayramı'nın diğer adı .....dir.

**1-Aşağıdakilerden hangisinde dinî bayramlarımız doğru olarak verilmiştir? İşaretleyiniz.**

A-)Berat Kandili - Kurban Bayramı

B-)Ramazan Bayramı - Kurban Bayramı

C-)Ramazan Bayramı - Regaip Kandili

**2-Aşağıdaki ifadelerden hangisi doğrudur? İşaretleyiz.**

A-) Kurban Bayramı süresi dört gündür.

B-) Ramazan Bayramı'nda da okulumuzu süsleriz.

C-) Ramazan Bayramı iki gün sürer.

## RAMAZAN BAYRAMI HEYECANIM

Benim ismim Murat. Sizlere bir anımı anlatmak istiyorum: Hayatımda ilk kez oruç tutmuştum. Büyük bir heyecan içindeydim. Çünkü Ramazan Bayramına çok az zaman kalmıştı. Ramazan Bayramı orucu tamamladığımız için biz müslümanlara verilen şükür hediyesiydi. Babamla çocuklara serbest olan bir gün dışarı çıkıp bayramlık yeni elbiseler aldık. Annem evde bayrama hazırlık yaptı. Annem bizim için çeşit çeşit börekler, tatlılar ve sarmalar yaptı. İşte o gün de geldi sonunda. Bayram sabahı önce ailece birbirimizle bayramlaştık. Ben annemin ve babamın elini öptüm. Bu yıl korona salgınından dolayı akraba ziyaretlerine gidemedik. Babam bazı akrabaları telefonla aradı bazıları ile de internetten canlı görüşmeler yaptık. Hepsiyle teknoloji kullanarak bayramlaşıp hasret giderdik.

### Aşağıdaki soruları metne göre cevaplayalım

1-) Murat neden heyecan içindeymiş?

.....  
.....

2-) Ramazan Bayramı kimlere hediye edilmiş?

.....  
.....

3-) Aşağıdakilerden hangisi Murat'ın bahsettiği bayramda yapılan işlerden birisidir?

- A-) ailece birbirimizle bayramlaştık
- B-) dedeme gittik
- C-) bütün akrabaları tek tek gezdik.



# TÜRKÇE

4-) Murat'ın hayatında ilk kez yaptığı neymiş?

.....  
.....  
.....

5-) Bu metnin konusu nedir?

.....  
.....  
.....

6-) Bu metne farklı bir başlık yazalım

.....  
.....

# TÜRKÇE

Aşağıdaki bayramlaşma resmini istediğimiz şekilde boyayalım.



# TÜRKÇE

## 19 Mayıs

Bugün 19 Mayıs  
Gençlik bayramı var!  
Bugün Samsun ufkundan  
Yeni bir güneş doğar.

Karanlığa gömülmüş,  
Vatana nur oldu O,  
Yas bağlayan ruhlara,  
Yüreklere doldu O...

O bir yaman volkandı,  
Başbuğdu, kahramandı...  
Bugünü kuran odur,  
Yurdu kurtaran odur.

Bugün 19 Mayıs  
Gençlik bayramı var!  
Bugün Samsun ufkundan  
Yeni bir güneş doğar.

İ.Hakkı TALAS



# TÜRKÇE

**2. ETKİNLİK:** Soruları şiire göre cevaplayınız. Resmi boyayınız.

1) 19 Mayıs'ta hangi bayram vardır?

.....

2) Yeni bir güneş nerede doğar?


.....

3) Karanlığa gömülmüş vatani kurtaran kimdir?

.....

4) Yurdu kurtaran kahraman o kişi neye benzetilmiştir?

.....



# TÜRKÇE

Aşağıdaki kelimeleri örnekteki gibi hecelere ayırılım

Kurtuluş	Samsun	Gemi
Kur-tu-luş		
Komutan	Başlamak	Atatürk
Mücadele	Bandırma	İlk

	HARF SAYISI	SESLİ HARF	SESSİZ HARF
Elma			
Muz			
Mandalina			
kayısı			
çilek			
portakal			
erik			
dut			

# MATEMATİK

## Geometrik Şekiller, Cisimler ve Örüntüler

### ALİŞTIRMALAR

Doğru olan anlatımlara **D**, yanlış olanlara **Y** 'yi işaretleyiniz.

- D** **Y** ❖ Üçgenin üç kenarı vardır.
- D** **Y** ❖ Üçgenin dört köşesi vardır.
- D** **Y** ❖ Üçgenin üç köşesi vardır.
- D** **Y** ❖ Karenin kenar uzunlukları birbirine eşittir.
- D** **Y** ❖ Karenin üç köşesi vardır.
- D** **Y** ❖ Karenin dört köşesi vardır.
- D** **Y** ❖ Karenin karşılıklı kenarları birbirine eşittir.
- D** **Y** ❖ Dikdörtgenin karşılıklı kenarları birbirine eşittir.
- D** **Y** ❖ Çemberin alanı yoktur.
- D** **Y** ❖ Dairenin alanı vardır.
- D** **Y** ❖ Çember ve daire birbirinden farklıdır.
- D** **Y** ❖ Çember ve daire aynıdır.



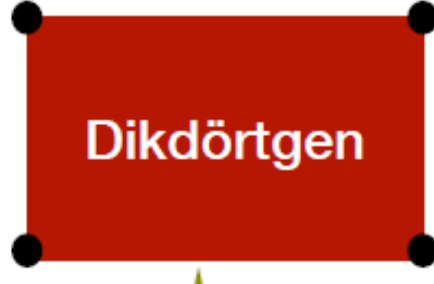
# MATEMATİK

Benim 4 köşem var.



Benim 4 kenarım var.  
Kenar uzunluklarım  
birbirine eşittir.

Benim de 4 köşem var.



Benim de 2 uzun, 2 kısa,  
toplam 4 kenarım var.  
Karşılıklı kenarlarım birbirine  
eşittir.

Benim 3 köşem ve  
üç kenarım var.



Üğünüm, benim  
köşem ve kenarım yok.  
İçim boş, alanım yok.

**Çember**

**Daire**

Benim de köşem ve kenarım  
yok. İçim dolu, alanım var.

# MATEMATİK



Benim 6 yüzüm,  
8 köşem, 12 ayrıtım var.  
Bütün yüzeylerim karedir.

Üst ve  
alt yüzlerim  
karedir



Benim 6 yüzüm, 8  
köşem, 12 ayrıtım var.

4 yan yüzüm de  
dikdörtgendir

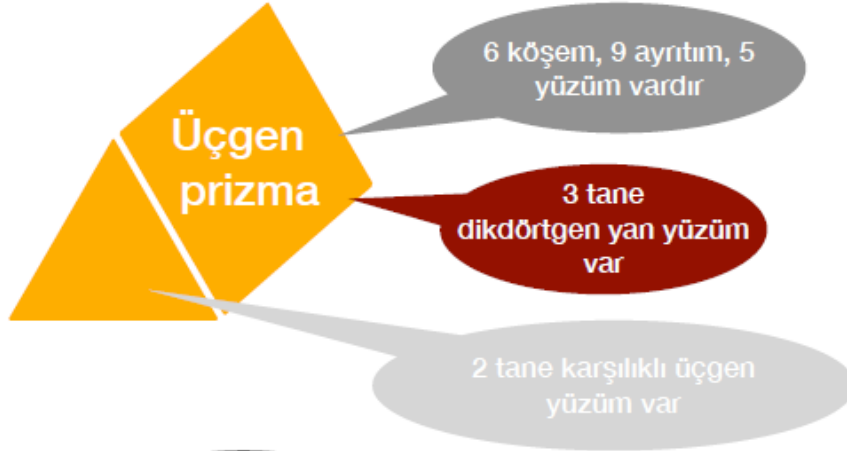


Karşılıklı yüzlerim  
dikdörtgendir.

Benim 6 yüzüm, 8  
köşem, 12 ayrıtım  
vardır.

Kibrit  
kutusu bana model olarak  
gösterilebilir.

# MATEMATİK

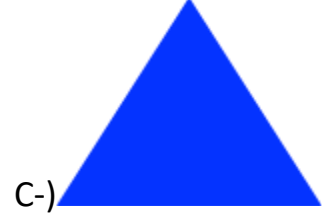
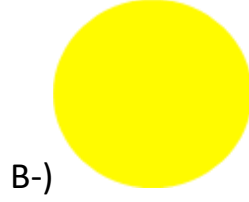




# MATEMATİK

## DEĞERLENDİRME

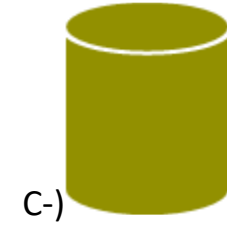
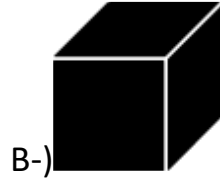
1- Hangisi farklı işaretleyiniz.



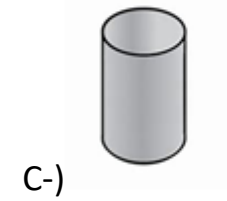
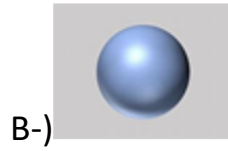
2- Hangisinin köşesi yoktur?



3- Hangisinin köşesi yoktur?

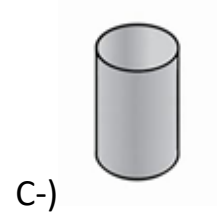



4- Hangisi küredir?

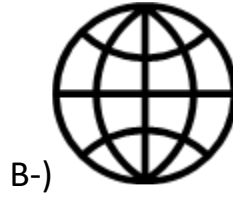
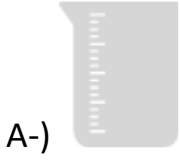


# MATEMATİK

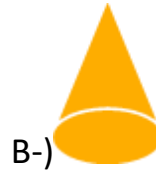
5- Hangisi üçgen prizmaya örnek gösterilir?



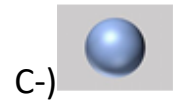


6- Silindire benzeyen nesneyi işaretleyelim.



7- Hangisi diğerlerinden farklıdır?






8- Hangisi en küçük küredür?




# MATEMATİK

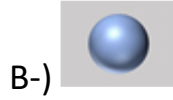
9- Hangisi en büyük küredir?



10- Küreden önce hangi nesne vardır?



11- Küreden sonra hangi cisim vardır?



12- Aşağıdaki boşlukları şekle göre doldurun.



# MATEMATİK

1. Kürenin sağında  .....

2. Kürenin solunda  .....

3. Kürenin üstünde  .....

4. Kürenin altında  .....

5. Üçgen ile koni arasında .....

6. Küreden önce .....

7. Küreden sonra .....

8. Üçgenden sonra .....











9. Koniden önce .....

10. Ortada .....

# MATEMATİK

Sudokuda Boşlukları Dolduralım.

Satır, sütun ve çaprazda aynı cisimden bir tane bulunacak.

		.....	
.....		.....	
	.....		.....
	.....		



# MATEMATİK

**Örüntüleri Yapınız Kuralını Açıklayınız.**

1-Geometrik cisimler belli bir kurala göre dizilmiştir.....yere ne gelecektir?



Örüntünün Kuralı:.....

2- Geometrik cisimler belli bir kurala göre dizilmiştir. .... yere ne gelecektir?



Örüntünün Kuralı:.....

3- Geometrik cisimler belli bir kurala göre dizilmiştir. .... yere ne gelecektir?

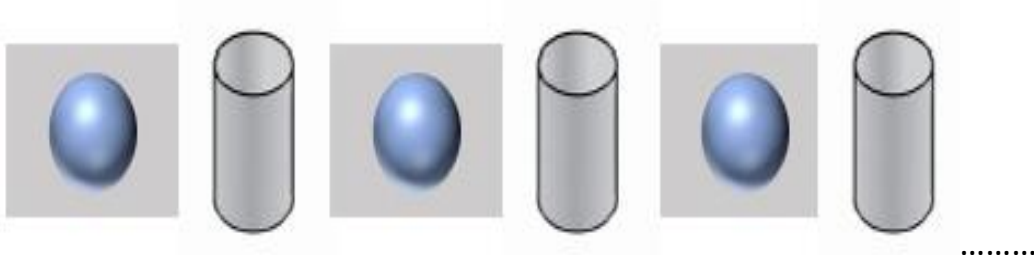


Örüntünün Kuralı:.....



Örüntünün Kuralı:.....

# MATEMATİK



Örüntünün Kuralı:.....



Örüntünün Kuralı:.....



Örüntünün Kuralı:.....

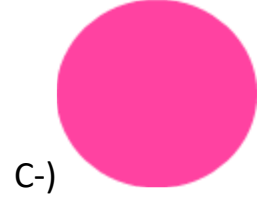


Örüntünün Kuralı:.....

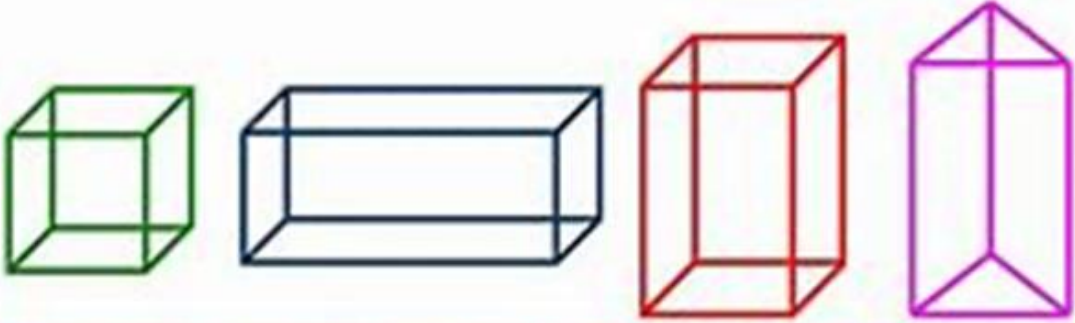
# MATEMATİK



4- Yukardaki üçgen prizmayı kullanarak aşağıdakilerden hangisini **çizemeyiz**?



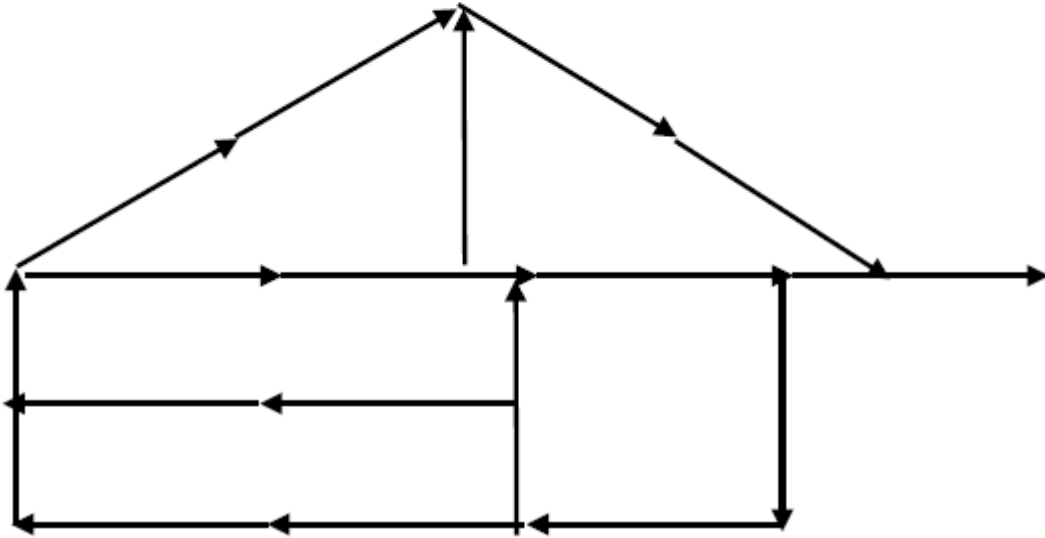
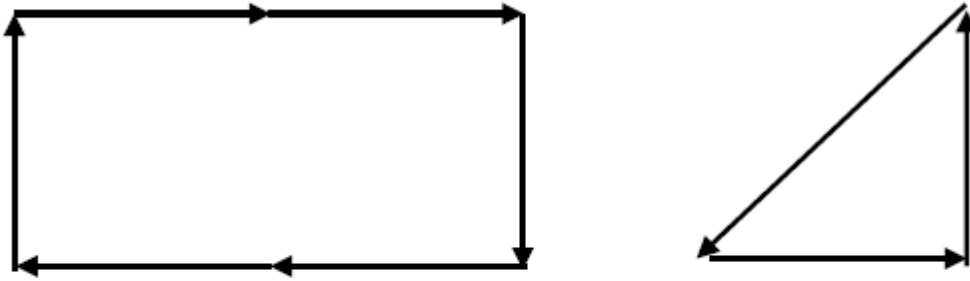
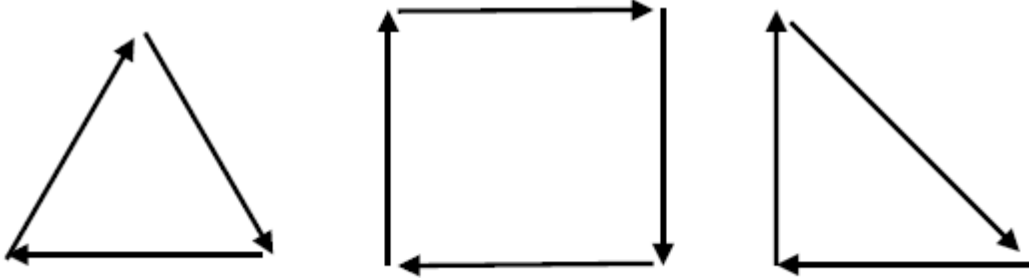
Geometrik isimlerin özelliklerini inceleyelim.



GEOMETRİK İSİM	Köşe Sayısı	Yüz Sayısı	Ayrı Leğni	Tabanını Oluşturan şekil	Yanları Oluşturan şekil
Küp	8	6	12	Kare	Kare
Dikdörtgenler Prizması	8	6	12	Dikdörtgen	Dikdörtgen
Kare Prizma	8	6	12	Kare	Dikdörtgen
Üçgen Prizma	6	5	9	Üçgen	Dikdörtgen

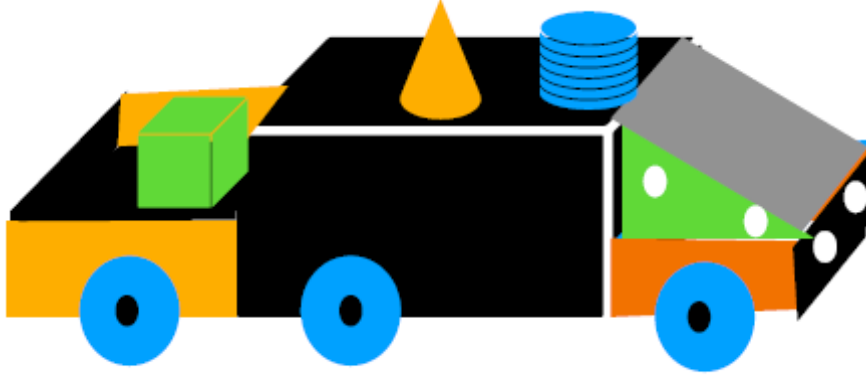
# MATEMATİK

Anne baba gözetiminde kibrit çöplerini kullanarak → oklar yönünde kibrit çöplerini dizerek yapıştıralım. Oluşan şeklin özelliklerini söyleyelim.



# MATEMATİK

Geometrik Cisimlerden Oyuncak Yapalım.



Geometrik şekillerden levhalar yapalım.





# MATEMATİK

Geometrik Şekillerden Sudokuyu Oluşturun

Satır, sütun ve çaprazda farklı şekiller olacak.

