

4. SINIF



5. Hafta Fasikül
Deneme Sınavı

EVDE EĞİTİM E-FASİKÜL' DE



YERKÖY ARGE

Yerköy İlçe Milli Eğitim Müdürlüğü'nün uzaktan eğitim sürecinde öğrencilerimiz için hazırladığı destek hizmetidir.





Yerköy İlçe Millî Eğitim Müdürlüğü

Mehmet DURMAZ
İlçe Milli Eğitim Müdürü

Serdal BORA
H.Hüseyin ASAR
Şube Müdürleri

M.Suat ATİLA
Koordinatör ve Grafik Tasarım

Hazırlayanlar

Ahmet DEMİR	Atatürk İlkokulu
Aysun ASLAN	Reşat Akyön İlkokulu
Bahattin VARLIK	TOKİ Şht. Ali Salmanlı İlkokulu
Yıldız TÜNGER	Şht. Kamil Çelikkaya İlkokulu
Yılmaz TÜNGER	Sekili Şht. Osman Pekşen İlkokulu
Davut BEŞPINAR	Reşat Akyön Ortaokulu



TÜRKÇE

Annelerin en güzeli,
Sensin, benim güzel annem.
Ilık esen bahar yeli,
Sensin, benim güzel annem.

Güneş yüzlü, altın kalpli,
Ağır başlı, tatlı dilli,
Meleklerin eşi sanki
Sensin, benim güzel annem.

Açan çiçek, çağlayan su,
Gülümseyen engin duygu,
Evimizin mutluluğu
Sensin, benim güzel annem.

H. Latif SARIYÜCE



Not: 1., 2. ve 3. soruları yukarıdaki şiire göre cevaplandırınız .

S-1) Okuduğunuz şiirin **teması** aşağıdakilerden hangisidir?

A) dostluğun önemi B) kardeşliğin önemi C) anne sevgisi D) çocuk sevgisi

S-2) Şair, ikinci dördlüğü yazarken aşağıdaki yazım tekniklerinin hangisinden yararlanılmıştır?

A) karşılaştırma B) benzetme C) neden-sonuç D) örneklendirme

S-3) Şiirin içeriğine göre aşağıdakilerden hangisi bu şiire başlık **olamaz**?

A) Sevgili Çocuk B) Canım Annem C) Anneye Mektup D) Güzel Annem

Ayşegül, Atatürk ilkokulu ikinci sınıfa gidiyor.

S-4) Yukarıdaki cümlede hangi renkle yazılan sözcükte **yazım yanlış** yapılmıştır?

A) Kırmızı B) Mavi C) Yeşil D) Turuncu

I.

Rengi atmak

II.

Gözden düşmek

III.

Canı çıkmak

IV.

Kulağını çınlatmak

S-5) Yukarıda verilen **deyimlerden** hangisinin anlamı **yanlış** verilmiştir?

A) Başkalarının gözündeki değerini kaybetmek(II)

B) Çok yorulmak (III)

C) Çok korkmak ,renği sararmak(I)

D) Kulağının önünde zil çalmak (IV)

TÜRKÇE



S-6) Horoz, çöplükte gezinirken bir inci bulmuş () "Ne kadar da şanssızım () Bu benim ne işime yarar ki () Keşke bir buğday tanesi bulsaydım () "

Yukarıdaki metinde () yerine gelmesi gereken noktalama işaretleri hangi şıkta doğru verilmiştir?

- A) (!)(!)(.)(?) B) (.)(!)(.)(?) C) (.)(!)(?)(.) D) (!)(:)(?)(.)

Hangi sözcüğün eş anlamlısı, eş sesli(sesteş) bir sözcüktür?



S-7)

- A) millet B) kırmızı C) mektep D) vatan

S-8)

*Bilim, sanat, meslek veya spor dalı gibi kavramları ifade eden sözcüklere **terim anlamlı sözcükler** denir.

Yukarıda verilen bilgiye göre hangi sözcük terim anlamlı **değildir**?

- A) dikdörtgen B) virüs C) penaltı D) ekmek

S-9) Aşağıdaki kısaltmalardan hangisine getirilen ek **yanlış** yazılmıştır?

- A) TBMM'nde kg'dan
C) TRT'nin cm'ye

S-10)

Gülşah, her sabah yürüyerek okula gelirdi.

- 1 Kim?
2 Ne zaman?
3 Nasıl?
4 Niçin?

Yukarıdaki cümlede kaç numaralı sorunun cevabı **yoktur**?

- A) 1 B) 2 C) 3 D) 4

TÜRKÇE

S-11)

hastalıklara

düzenli

korunuruz

karşı

beslenirsek

Yukarıdaki sözcüklerle kurulacak kurallı ve anlamlı bir cümlede **sondan ikinci** sözcük hangisi olur?

A) hastalıklara

B) düzenli

C) karşı

D) korunuru



Sevgili çocuklar!
Aşağıdakilerden hangisi bir ilacın prospektüsünde (tanıtım ve kullanım belgesi) yer **almaz**?

S-12)

A) İlacın tanıtımı

B) İlacı yazan doktor adı

C) İlacın yan etkileri

D) İlacın kullanım şekli

S-13)

a) **e-mail**

özçekim

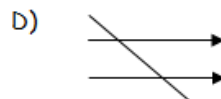

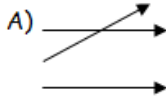
b) **selfie**

Yaygın hastalık

c) **pandemi**

Elektronik posta

Dilimize girmiş yabancı kelimelerle Türkçe anlamları eşleştirildiğinde hangisi doğru olur?



S-14) Aşağıdaki cümlelerin hangisinde ayrı yazılması gereken "ki" bitişik yazılmıştır?

A) Kırıldaki papatyalar çok güzel

B) Sınıf taki çocuklar çok gürültü yapıyorlar

C) Balkondaki yaşlı adam olanları izliyordu.

D) Öyle güldüm ki karnıma ağrılar girdi



Tamaaaaam, şimdi buldum!!!

S-15) Yukarıdaki görseli inceleyip yorumlayan Aylin, aşağıdaki atasözlerinden hangisine ulaşmıştır?

A) Dost başa düşman ayağa bakar.

B) Ayağını yorganına göre uzat.

C) El elden üstündür.

D) Mart kapıdan baktırır ,kazma kürek yaktırır.

MATEMATİK



1. Kısa kenarı 25 m ve uzun kenarı 35 m olan dikdörtgenin çevresi karenin çevresine eşit olduğuna göre karenin bir kenarı kaç m'dir?

- A.45m
- B.30m
- C.55m
- D.50m



2. Okulumuzda 847 öğrenci bulunmaktadır. Bunların $\frac{4}{7}$ 'ü sınavı kazandı. Buna göre Kaç öğrenci sınavı kazandı ?

- A.484
- B.356
- C.512
- D.246




3. Bir kenarı 60 m olan kare şeklindeki bahçenin çevresine 2 sıra tel çeken çiftçi kaç m tel kullanır?

- A.360m
- B.540m
- C.480m
- D.400m

MATEMATİK

4. Aşağıdaki şeklin çevresi kaç birimdir?



- A.60
- B.50
- C.40
- D.30



5. Bir terzi 8 m uzunluğundaki kumaşın 3 m 44 cm' sini takım elbise dikmek için kullanılıyor. Buna göre terzinin elinde kaç metre kaç cm kumaşı kalmıştır?

- A.2m 36 cm
- B.3m 40 cm
- C.4m 12 cm
- D.4m 56 cm

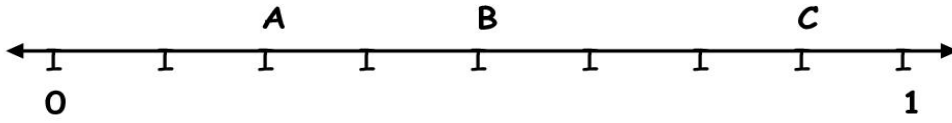
6. "9 - 4 - 5 - 7 - 0 " rakamlarını bir defa kullanarak oluşturulabilecek, en küçük beş basamaklı sayıyı yazınız ?

- A.40579
- B.40759
- C.50479
- D.97540

MATEMATİK

7. Sayı doğrusundaki A ,B, C kesirlerinden yararlanarak ,aşağıdaki işlemin sonucunu bulunuz ?

$$A + B + C = ?$$



A. $\frac{14}{8}$

B. $\frac{13}{8}$

C. $\frac{15}{8}$

D. $\frac{12}{8}$



8. Bünyamin : 448 sayısının yarısının 142 eksiği.

Emin : 265 sayısının $\frac{3}{5}$ 'i olan sayı.

Bünyamin + Emin = ?

Yukarıdaki İşlemin sonucu kaçtır ?

A.252

B.253

C.241

D.255

MATEMATİK





9. $(8 \times 10.000) + (6 \times 1.000) + (9 \times 100) + (5 \times 10) + (7 \times 1)$
çözümlemesi verilen sayı kaçtır?

- A.75968
- B.57698
- C.86579
- D.86957

10. $(4277 - 3362) : 5 > B$ ifadesinde B sayısı kaçtır?

- A.182
- B.183
- C.184
- D.185



11. Aşağıdaki kesirlerin büyükten küçüğe doğru sıralanırsa en başta yer alan kesri bulunuz ?

$$\frac{2}{7}, \frac{2}{4}, \frac{2}{9}, \frac{2}{11}$$

- A. $\frac{2}{7}$
- B. $\frac{2}{11}$
- C. $\frac{2}{4}$
- D. $\frac{2}{9}$

MATEMATİK

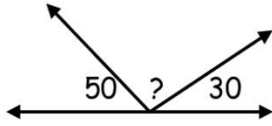
12. Aşağıdaki toplama işleminde verilmeyen ABCD'nin değeri bulup $A+B+C+D = ?$ kaçtır?

$$\begin{array}{r} 1342 \\ 2756 \\ + \underline{ABCD} \\ 7689 \end{array}$$

- A.18
- B.20
- C.17
- D.19



13. Nurten ,aşağıdaki verilmeyen açığı kaç derece olarak bulmuştur ?



- A.110
- B.100
- C.120
- D.130

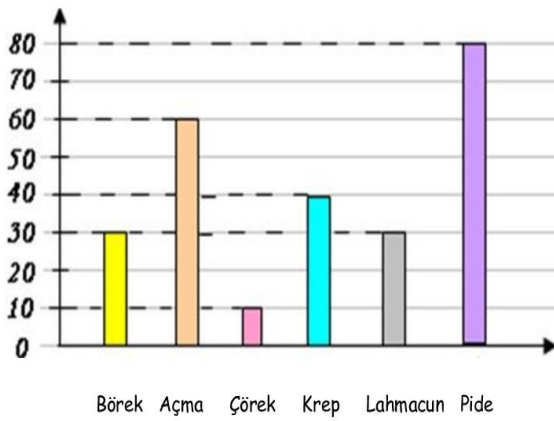
MATEMATİK



14. Banu ile babasının yaşları toplamı 45'dir. Babasının yaşı Banu'nun yaşının 8 katı olduğuna göre babasının 3 yıl sonraki yaşı kaç olacaktır?

- A.46
- B.44
- C.53
- D.43

15. Aşağıdaki tabloda tüketilen yiyecekler adet olarak verilmiştir. Aynı adet sayılarında tüketilen yiyeceklerin toplamı, en çok adet olarak tüketilen yiyecekten ne kadar eksiktir ?



- A.20
- B.40
- C.30
- D.50

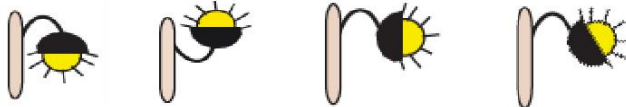
FEN BİLİMLERİ

1.) Köyde yaşayanlar gökyüzündeki yıldızları daha iyi görürler.Şehirlerde ise yıldızlar görünmez. Sebebi nedir?

- A)Gökyüzüne bakmamaları
- B)Şehirlerde yıldız olmaması
- C)Şehirlerdeki yıldızların parlak olmaması
- D)Şehirlerde ışık kirliliğinin olması



2.)Aşağıdaki aydınlatma yöntemlerinden hangisi doğrudur?



- A)
- B)
- C)
- D)

3.) Nohut-tuz karışımını hangi yöntemle ayırabiliriz?

- A) Mıknatıslama
- B) Eleme
- C) Buharlaştırma
- D) Süzme



4.) Maddelerin sıvı halden gaz haline geçmesine ne denir?


- A) donma
- B) erime
- C) buharlaşma
- D) bozulma



FEN BİLİMLERİ

5.) Aşağıdaki maddelerden hangisi karışım değildir?

- A) Buzlu su
- B) Tuzlu su
- C) Alkollü su
- D) Şekerli su



6.) Aşağıdaki ışık kaynaklarından hangisi kendiliğinden ışık yayar?

- A) Ampul
- B) Yıldız
- C) Kandil
- D) Gaz lambası

7.) "Sünger, pamuk, peçete, kumaş" gibi maddelerin ortak özelliği hangisidir?

- A) Suda yüzme
- B) Suyu emme
- C) Suyu emmeme
- D) Mıknatısla çekilme

8.) Aşağıdakilerden hangisi doğrudur?

- A) Kütle litre ile ölçülür.
- B) $1000 \text{ g} = 10 \text{ Kg}$
- C) Katı maddelerin hacimleri ölçülemez.
- D) Sıvıların hacmi litre ile ölçülür.



FEN BİLİMLERİ

9.) Sıvıların ağırlığını ölçerken; içi sıvı dolu kap içersinden ,sıvıyı boşalttığımız zaman , boş kabın ağırlığına ne denir?

- A) Net Kütle B)Brüt Kütle C)Dara D)Hacim



10.) Sesin kaydedilip tekrar dinlenilmesini sağlayan fonograf kim tarafından icat edilmiştir?

- A) Alexander Graham Bell B) Nikola Tesla
C) Thomas Edison D) Guglielmo Marconi



SOSYAL BİLGİLER

- 1- Aşağıdakilerden hangisi çocukların koruma ile ilgili haklarından değildir?
- A) Yasalarla belirlenmiş çalışma yaşının altındaki çocuklar, işçi olarak çalıştırılmamalı
 - B) Göçmen ve sığınmacı çocuklar korunmalı ve kollanmalı
 - C) Beslenme, sağlık ve bakım ihtiyaçlarını karşılanmalıdır
 - D) Çocuklar, kötü alışkanlıklardan korunmalıdır
- 2- Aşağıdakilerden hangisi çocukların sorumluluklarından değildir?
- A) Bir işte çalışmak
 - B) Aile kurallarına uymak
 - C) Derslerine çalışmak
 - D) Okulda öğretmenini dinlemek
- 3- Okullarda oluşturulan eğitsel ve sosyal etkinlik yapma amaçlı kulüpler aşağıdakilerden hangisi içinde yer alır?
- A) Özel Kurum
 - B) Resmi Kurum
 - C) Devlet Kurumu
 - D) Sosyal Örgüt
- 4- Aşağıdakilerden hangisi Atatürk'ün üstlendiği rollerden biri değildir?
- A) Cumhurbaşkanı
 - B) Öğrenci
 - C) Başbakan
 - D) Asker
- 5- Aşağıdakilerden hangisi çocuğun sorumluluğu değildir?
- A) Ailesine başından geçenleri anlatmak
 - B) Ailenin harcamalarını düşünmek
 - C) Alınan ürünleri yerleştirmeye yardımcı olmak
 - D) Yıkanmış kıyafetleri yerleştirmek
- 6- Çocukların birinci dereceden sorumlu olan kişiler kimlerdir ?
- A) Doktor
 - B) Aile
 - C) Polis
 - D) Öğretmen

SOSYAL BİLGİLER

7- Tüm çocukların en öncelikli sahip olduğu hak hangisidir ?

- A) Yaşama
- B) Eğitim
- C) Ata binme
- D) Oynama

8- 1-Derslere hazırlıklı gelmek

2-Arkadaşlarımızın haklarına saygı göstermek

3- Okul panosuna katkı sağlamak

Yukarıdakilerden hangileri okul sorumluluğumuzdur?

- A) Yalnız 1
- B) 1 ve 2
- C) 2 ve 3
- D) 1,2 ve 3

9- Okul çağına gelen çocuklar okula başlamak zorundadır. Devlet okullarında ücretsiz olarak eğitim almaktadırlar. Verilen bilgi çocuk haklarından hangisiyle ilgilidir ?

- A) Seyahat hakkı
- B) Sosyalleşme hakkı
- C) Eğitim hakkı
- D) Yaşama hakkı

10 -Çocuk Haklarına Dair Sözleşmesini onaylayan bir ülke aşağıdakilerden hangisini yapmalıdır?

- A) Devlet yönetiminde çocuklara yetki vermelidir.
- B) Yasalarını sözleşmeye göre düzenlemelidir.
- C) Çocukların her istediğini gerçekleştirmelidir.
- D) Çocuklara ait bir bayram yapmalıdır.

ENGLISH

1-  I like

- A) playing chess
- B) dancing
- C) riding a bike
- D) taking photographs



- 2-
- A) I can't dive
 - B) I can't play chess.
 - C) I can't cook .
 - D) I can't play the guitar



- 3-
- A) He can't swim.
 - B) He can't fly.
 - C) He can't climb.
 - D) He can't catch.



4- **Görsele uygun cümle hangisidir?**

- A) I am a teacher.
- B) I am a driver
- C) I am a farmer.
- D) I am a nurse

ENGLISH



5- Yukarıdaki kıyafetlerin doğru sıralanışı hangisidir?

- a) socks / coat / skirt / scarf
- b) skirt / socks / gloves / jacket
- c) shirt / shoes / scarf / coat
- d) shirt / gloves / scarf / jacket

6- It is rainny outside. Take your _____.

- a) scarf
- b) sunglasses
- c) umbrella
- d) gloves

7- Aşağıda verilen tanım hangi resme uygundur?

She has long wavy blonde hair.



8- Ali : _____ ?

Eren : He is angry and bad.

- a) What does he look like?
- b) How old is he?
- c) What is his name?
- d) What is he like?

9- Hangisi farklıdır ?

- a) tall
- b) shy
- c) slim
- d) dark

10- What _____ he look like?

He has a

- a) does / beard
- b) does / moustache
- c) is / beard
- d) is / moustache

CEVAP ANAHTARI

TÜRKÇE	MATEMATİK	FEN	SOSYAL	İNGİLİZCE
1-C	B	D	C	C
2-B	A	A	A	B
3-A	C	B	D	D
4-C	C	C	C	C
5-D	D	A	B	A
6-C	A	B	B	C
7-B	B	B	A	A
8-D	C	D	D	D
9-A	D	C	C	D
10-D	A	C	B	B
11-C	C			
12-B	A			
13-C	B			
14-D	D			
15-B	A			