

3. SINIF



5. Hafta Fasikül
Deneme Sınavı

EVDE EĞİTİM E-FASİKÜL' DE

YERKÖY ARGE

Yerköy İlçe Milli Eğitim Müdürlüğü'nün
uzaktan eğitim sürecinde öğrencilerimiz
için hazırladığı destek hizmetidir.

<http://yerkoy.meb.gov.tr>





Yerköy İlçe Millî Eğitim Müdürlüğü

Mehmet DURMAZ
İlçe Milli Eğitim Müdürü

Serdal BORA
H.Hüseyin ASAR
Şube Müdürleri

M.Suat ATİLA
Koordinatör ve Grafik Tasarım

Hazırlayanlar

Cavidan KURU	Şht. Kamil Çelikkaya İlkokulu
Ersin BÜYÜKBAŞ	Reşat Akyön İlkokulu
Bekir ÇAKICI	TOKİ Şht. Ali Salmanlı İlkokulu
Cihan BARDAK	Atatürk İlkokulu
Esra BARDAK	Şht. Mehmet Tez And. Lisesi
Duygu ULUCAN	TOKİ Şht. Ali Salmanlı İlkokulu



TÜRKÇE

Ömer yetim bir çocuktur. Okul masraflarını karşılamak ve annesine yardımcı olmak için simit satardı.

Sabah erkenden bizim evin önündeki kavşağa tezgâh açardı. Gür bir sesle "simit var! Taze, gevrek simit var!" diye bağırdı.

İşe ve okula gidenler, yoldan geçenler Ömer'den simit alırdı. Simitler öğlen olmadan tükenir, Ömer de öğleden sonra okula giderdi. Öyle olmasına rağmen Ömer'in dersleri oldukça iyiydi. Her fırsatta okula olan sevgisini dile getirir, okumanın önemini arkadaşlarına anlatırdı. Büyük zorluklarla da olsa Ömer, o yılı okulun en başarılı öğrencisi olarak tamamladı. Annesi oğlunun bu başarısından gurur duyuyordu.

1) Aşağıdakilerden hangisi Ömer için söylenemez?

- A) Çalışkan bir çocukmuş.
- B) Her sene okul birincisi olurmuş.
- C) Ailesi onunla gurur duymış.

2) Yukardaki metnin ana fikri aşağıdakilerden hangisidir?

- A) Şartlar ne olursa olsun her zorluğun üstesinden gelinir ve başarılı olunabilir.
- B) Zorluklar ile karşılaştığımızda pes etmeliyiz.
- C) Derslerde başarılı olmak her şeyden daha da önemlidir.

3) Yukarıdaki metne bir başlık koyacak olsak ne olabilirdi?

- A) Ömer'in Azmi ve Çalışkanlığı
- B) Ömer'in Yaramazlığı
- C) Ömer'in Başarısızlığı

TÜRKÇE

4) Aşağıdaki tümcelerin hangisinde karşıt anlamlı sözcükler yoktur?

- A) Eskiye kiyafetlerimin yerine bayramda yenisini alacağız.
B) Soruların bazıları zor, bazıları kolaydı.
C) Çalışkan öğrenci derslerinde her zaman başarılı olur.

5) Aşağıdaki kelimelerden hangisi sözlük sıralamasında en başta olur?

- A) Erik B) Elma C) Elbise

6) Aşağıdaki hangi cümlede yazım yanlışı vardır?

- A) Amcam Yozgat da bir hafta kaldı.
B) Fatma Zehra şimdi de İngilizce öğreniyor.
C) Defterimi de Ayşgöl 'e vermiştim.

7) Aşağıdaki cümlelerin hangisinde duygusal bir anlatım yoktur?

- A) Okulların açılacağı günü büyük bir heyecan ile bekliyorum.
B) Nurullah'ın okulumuzdan gitmesi beni çok üzdü.
C) Uzmanlar korona virüs etkisinin yaz aylarında azalacağını söylüyor.

8)

- 1.Ödevini ilk bitiren İclal oldu.
2. Dört arkadaş ödev yapmaya karar verdi.
- 3.Ödevlerini bitirince okulun yanındaki parka gittiler.
4. Daha sonra diğerleri de bitirdi.

Yukarıdaki cümlelerin oluş sırasına göre doğru sıralanışı hangi seçenekte verilmiştir?

- A) 1-2-3-4
B) 2-1-4-3
C) 2-1-3-4



Köyün çobanı, mısır tarlasının yanındaki tek katlı evde oturuyordu.

9)

Arife'nin cümlesinde aşağıdaki hikâye unsurlarından hangisi yoktur?

- A) Zaman
- B) Karakter
- C) Yer

10) Aşağıdaki cümlelerin hangisinde yazım yanlışı vardır?

- A) Salih'ler yarın bize oturmaya gelecekler.
- B) Doktor Hatice Hanım yetenekli bir kişiydi.
- C) Yozgat'ı Ankara'ya bağlayan yolda ilerliyoruz.

11) Eyvah()Selin()Fatma ve Sinem () i çağırmaı unuttum()

Yukarıdaki cümlede parantezlerin içine sırası ile hangi noktalama işaretleri gelmelidir?

- A) (!) (,) (,) (.)
- B) (,) (,) (') (.)
- C) (!) (,) (') (.)

12) Aşağıdaki cümlelerden hangisinde sebep-sonuç ilişkisi yoktur?

- A) Abim askerden geleceği için çok mutluyum.
- B) Hafta sonu piknik yapmayı düşünüyoruz.
- C) Çok çalıştığım için istediğim okulu kazandım.

TÜRKÇE

13) Aşağıdaki atasözlerinden hangisi bir yönü ile diğerlerinden farklıdır?

- A) Damlaya damlaya göl olur.
- B) Bugünün işini yarına bırakma.
- C) Sakla samanı gelir zamanı.

14) İlkokul 3. Sınıfa giden Melih, aşağıda satır sonuna sığmayan kelimelerden hangisini yanlış yerden ayrılmıştır?

- A)okulum-
uzdan
- B)saklan-
baç
- C).....çalış-
kan

- 15)
- 1. Gideceğiz
 - 2. yarın
 - 3. pazara
 - 4. annem ile

Yukarıda karışık olarak verilen sözcüklerden anlamlı ve kurallı bir cümle oluşturacak olursak doğru sıralama nasıl olur?

- A) 2-3-1-4
- B) 4-1-2-3
- C) 4-2-3-1

TÜRKÇE TESTİ
BİTMİŞTİR.

MATEMATİK



Ezgi

730

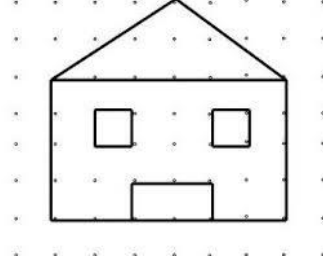
1-

Aşağıda verilen sayılardan hangisi Ezgi'nin söylediği sayıya yuvarlanmaz?

A) 726

B) 734

C) 724



3. ve 4. Soruları şekle göre cevaplayınız.

3- Yukarıda verilen şekilde kaç tane yatay doğru kullanılmıştır?

A) 2

B) 7

C) 8

2-

13	15	19	25	33	?
----	----	----	----	----	---

"?" işaretli yere aşağıdaki sayılardan hangisi gelmelidir?

A) 43

B) 41

C) 35

4- Yukarıda verilen şekilde en az kullanılan düzlemsel şekil hangisidir?

A) kare

B) dikdörtgen

C) üçgen

MATEMATİK

5- Halillerin oturduğu apartman 5 katlıdır. Her katta 4 daire bulunmaktadır. Her dairede ise 8 pencere bulunmaktadır. Buna göre apartmanda toplam kaç pencere vardır?

- A) 160 B) 180 C) 200

- I. 120 cm = 1 m 20 cm
II. 245 cm = 2 m 50 cm
III. 1 kg 50 g = 1500 g
IV. 1 kg = 100 g

6-Yukarıda verilen çevirmelerden kaç tanesi yanlıştır?

- A) 2 B) 3 C) 4

7- Ece: Makara ve şerit metre

Ali: Otoyollar ve tren rayları

Ceren: Cetvel ve odun parçası

Yukarıdaki öğrencilerden hangileri ışın ve doğru parçasına örnek vermiştir?

- A) Ece, Ali
B) Ali, Ceren
C) Ece, Ceren

8-Hasan bir günde 10 saat uyuyor.6 saatini de okulda geçiriyor. Hasan'ın bir günden geriye kaç saati kalır?

- A) 8 B) 10 C) 6

MATEMATİK

9- Hangi seçenekteki düzlemsel şekilleri birleştirerek bir üçgen prizma elde edebiliriz?

A)



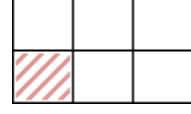
B)



C)



10-

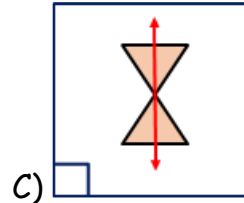
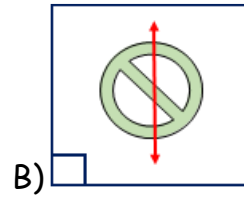
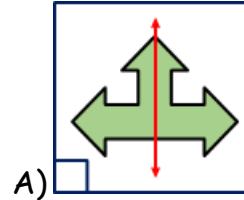


Yandaki

şeklin gösterdiği birim kesir aşağıdakilerden hangisidir?

A) $\frac{2}{6}$ B) $\frac{7}{6}$ C) $\frac{1}{6}$

11- Hangi şeklin simetri doğrusu yanlış çizilmiştir?



MATEMATİK

12- Bakkal Mustafa Amca 96 kg pirincin $\frac{1}{8}$ 'ini sattı. Geriye kaç kilogram pirinci kalmıştır?

- A) 84 B) 12 C) 32

13-



Yukarıda verilen kaplamalı örüntüde hangi geometrik şekil kullanılmamıştır?

- A) Kare
B) Daire
C) Üçgen



14- Bir sütçü 63 L sütü 5 litrelik şişelere dolduruyor. Bu iş için kaç şişeye ihtiyacı vardır. Kaç litre süt artar?

- A) 13 şişe 3 litre süt
B) 12 şişe 5 litre süt
C) 12 şişe 3 litre süt

15- Aşağıdakilerden hangisi noktaya bir örnektir?

- A) Bir çivinin tahtaya açtığı delik
B) Ayakkabının çamurda bıraktığı iz
C) Bisiklet lastiğinin toprakta bıraktığı iz.

MATEMATİK TESTİ
BİTMİŞTİR.

HAYAT BİLGİSİ

1) Aşağıda verilen bilgilerden hangisi doğrudur?

- A) Milli bayramlarda coşkulu törenler yapmak
- B) Milli bayramlarda ziyaretlerde bulunmak
- C) Milli bayramlarda okula gitmemek

2) İyi bir arkadaşta bulunması gereken özellik aşağıdakilerden hangisidir?

- A) Bencilik
- B) Kıskançlık
- C) Yardımseverlik

3) Atatürk ile ilgili verilen bilgilerden hangisi yanlıştır?

- A) Annesinin adı Zübeyde Hanım'dır.
- B) Babasının adı Mehmet'tir.
- C) 1881 yılında doğmuştur.

4) Aşağıdakilerden hangisi doğal bir unsurdur?

- A) Beyşehir Gölü
- B) Süleymaniye Cami
- C) 15 Temmuz Köprüsü

5) Deprem tahliye çantasında bulunması gereken malzemelerden hangisi yanlış verilmiştir?

- A) El feneri
- B) Kaşık ve çatal
- C) Düdük

6) 'Okul bizim vekazandığımız resmi bir kurumdur'

Yukarıdaki noktalı yerlere sırayla hangi kelimeler gelmelidir?

- A) oyun - eğlence.
- B) hediye - bilgi
- C) bilgi - beceri

HAYAT BİLGİSİ

7) Aşağıdakilerden hangisi beşeri unsurdur?

- A) Erciyes Dağı
- B) Alacami
- C) Peri Bacaları

8) Aşağıdakilerden hangisi ulusal bayramlarımızdan değildir?

- A) Ramazan Bayramı
- B) Zafer Bayramı
- C) Cumhuriyet Bayramı

9) Aşağıdakilerden hangisini yapmak tehlikeli olabilir?

- A) Evde kitap okumak
- B) Çakmakla oynamak
- C) Resim yapmak


10) Okula giderken yolda trafik kazası olduğunu gören Zeynep ne yapmalıdır?

- A) 156'yı arayıp itfaiye çağırmalıdır.
- B) 112'yi arayarak ambulans çağırmalıdır.
- C) 110'u arayarak polis çağırmalıdır.

HAYAT BİLGİSİ TESTİ
BİTMİŞTİR.

FEN BİLİMLERİ

1)



Dünya'nın katmanlarıyla ilgili aşağıda verilen bilgilerden hangisi doğrudur?

A) Çekirdek iç ve dış olmak üzere iki bölümden oluşur.

B) Manto, Dünya'nın gözlemlenebilen katmanlarından biridir.

C) Yer kabuğu en sıcak katmandır.

2) "Hatice, telefonundan sevdiği şarkıyı dinlerken karşıdan gelen arkadaşı Münire'yi farkettil. Telefonunu cebine koydu ve Münire'ye doğru yürüdü."

Yukarıdaki anlatılanlarda Hatice hangi duyu organını kullanmamıştır?

A) Kulak B) Dil C)Göz

3) Kuvvet ve hareket ile ilgili, aşağıdaki ifadelerden hangisi doğrudur?

A) Cansız varlıklar dışarıdan bir etki olmadan hareket edebilirler.

B) Kuvvet, cisimlerin şeklini, yönünü değiştirir.

C) Dünyanın hareketi sallanma hareketidir.

4)

- Renksizdir.
- Kokusuzdur.
- Serttir.

Yukarıda özellikleri verilen madde aşağıdakilerden hangisidir?

A) Su B) Hava C) Cam bardak

FEN BİLİMLERİ

5) Aşağıda görselleri verilen ışık kaynaklarından hangisi diğerlerinden farklı bir ışık kaynağıdır?



A)



B)



C)

6) Koridorda çalan teneffüs ziline, bütün sınıflardan duyulmasının sebebi sesin hangi özelliği ile açıklanabilir?

- A) Sesin her yönde yayılması.
- B) Sesin duyulabilir olması.
- C) Sesin güzel olması.

7) Aşağıdaki ifadelerden hangisi doğrudur?

A) Cansız varlıklar doğar, büyür ve ölürler.

B) Canlılar yardım almadan hareket edemezler.

C) Çınar ağacı, canlı varlıklara örnek verilebilir.

FEN BİLİMLERİ

8) Aşağıda verilen ifadelerin sonuna, doğal çevreye ait olana "D" , yapay çevreye ait olana "Y" yazacak olursak doğru sıralama hangi şıkta verilmiştir?

- 1- İnsanlar tarafından oluşturulmuştur.
- 2- Kendiliğinden oluşmuş ortamlardır.
- 3- Toprağı, suyu, havası temizdir.
- 4- Gürültü fazladır.
- 5- İnsanlara ve araçlara daha sık rastlanır.
- 6- Canlı çeşitliliği çoktur.

- | | | |
|---------|---------|---------|
| 1- Y | 1- D | 1- Y |
| A) 2- D | B) 2- Y | C) 2- D |
| 3- D | 3- D | 3- Y |
| 4- Y | 4- Y | 4- Y |
| 5- Y | 5- Y | 5- Y |
| 6- D | 6- Y | 6- D |

9)

Isınma

Bilgisayar

Aydınlatma

Elektrik

Temizlik

1. yaşamımızı kolaylaştırır, işlerimizi daha kolay yapmamızı sağlar.
2. Çamaşır makinesi, bulaşık makinesi gibi araçlar amaçlı kullanılan araçlardır.
3. Sokak lambası, el feneri, ampul gibi araçlar amacıyla kullanılır.
4. iletişim amacıyla kullanılan bir elektrikli araçtır.
5. Elektrikli ısıtıcı, kombi gibi araçları amacıyla kullanırız.

Yukarıda verilen kelimelerin hangi cümleye ait olduğu, sırasıyla hangi şıkta doğru olarak verilmiştir?

- | | |
|----------------|----------------|
| A) 1- Elektrik | B) 1- Elektrik |
| 2- Temizlik | 2- Temizlik |
| 3- Bilgisayar | 3- Aydınlatma |
| 4- Aydınlatma | 4- Bilgisayar |
| 5- Isınma | 5- Isınma |

- C) 1- Temizlik
2- Isınma
3- Aydınlatma
4- Bilgisayar
5- Elektrik

FEN BİLİMLERİ

10) Aşağıda verilen elektrikli araç gereçler ve bize sağladığı kolaylıklarla ilgili eşleştirme tablosunun doğru sıralaması aşağıdakilerden hangisidir?

1	Ütü		?	Haberleşmek için kullanılırım.
2	Fırın		?	Kırıksık kıyafetleri düzleştirmek için kullanırım.
3	Çamaşır makinesi		?	Pasta, börek gibi yiyecekler yapmak için kullanılırım.
4	Buzdolabı		?	Elbiseleri temizlemek için kullanılırım.
5	Telefon		?	Yiyeceklerin uzun süre taze kalmalarını sağlamak için kullanılırım.

A) 5-1-3-2-4

B) 5-1-2-3-4

C) 4-1-3-5-2

FEN BİLİMLERİ TESTİ
BİTMİŞTİR.

İNGİLİZCE

1) A bird can.....



A fish can.....

Yukarıdaki cümleleri sırasıyla en uygun şekilde tamamlayan fiil hangisidir?

- A) Fly - Jump
- B) Dance - Swim
- C) Fly - Swim


2) Aşağıda verilen resme uygun ifade hangisidir?



- A) tired
- B) angry
- C) hungry

3) Zeynep: Where is the ship?

Nehir:



Sorunun cevabı nedir?

- A) It is a ship.
- B) It is on the sea.
- C) It is in the sky.

4) İrem: How can I go to school?

Mustafa:.....



Sorunun cevabı hangisidir?

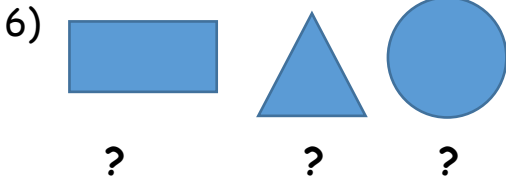
- A) You can go by train.
- B) You can go by bus.
- C) You can go by bike.

İNGİLİZCE

5) I am Dilara. I am nine years old. I have got ten toys. I like my toys very much. I feel happy and energetic.

Yukarıdaki parçada hangi sorunun karşılığı yoktur?

- A) How old are you?
- B) How do you feel?
- C) How many dolls are there?



Soru işaretli yere hangi kelimeler gelmelidir?

- A) rectangle / triangle / round /
- B) square / circle / triangle /
- C) rectangle / round / square /

7) is my



Boşluklara hangi kelimeler gelmelidir?

- a) She / grandfather
- b) He / grandmother
- c) He / grandfather

8)



Ankara

Erzurum

Çanakkale

Resimlere göre hangi cümle doğrudur?

- A) Ankara is stormy.
- B) Çanakkale is windy.
- C) Erzurum is rainy and warm.

İNGİLİZCE

9) Nihal: Where are you now?

Seda:.....



Seda hangi cevabı vermiştir?

- A) I am at the bank.
- B) I am at the campus.
- C) I am at the carnival.

10) Where is the sofa?

.....



Sorunun cevabı nedir?

- A) It is in the bedroom.
- B) It is in the bathrom.
- C) It is in the livingroom.

İNGİLİZCE TESTİ
BİTMİŞTİR.

CEVAP ANAHTARI

TÜRKÇE

- 1) B
- 2) A
- 3) A
- 4) C
- 5) C
- 6) A
- 7) C
- 8) B
- 9) A
- 10) A
- 11) C
- 12) B
- 13) B
- 14) A
- 15) C

MATEMATİK

- 1) C
- 2) A
- 3) B
- 4) C
- 5) A
- 6) B
- 7) C
- 8) A
- 9) A
- 10) C
- 11) B
- 12) A
- 13) B
- 14) C
- 15) A

HAYAT BİLGİSİ

- 1) A
- 2) C
- 3) B
- 4) A
- 5) B
- 6) C
- 7) B
- 8) A
- 9) B
- 10) B

FEN BİLİMLERİ

- 1) A
- 2) B
- 3) B
- 4) C
- 5) C
- 6) A
- 7) C
- 8) A
- 9) B
- 10) B

İNGİLİZCE

- 1) C
- 2) B
- 3) B
- 4) C
- 5) C
- 6) A
- 7) C
- 8) B
- 9) C
- 10) C