

2. SINIF



5. Hafta Fasikül
Deneme Sınavı

EVDE EĞİTİM E-FASİKÜL' DE

YERKÖY ARGE

Yerköy İlçe Milli Eğitim Müdürlüğü'nün
uzaktan eğitim sürecinde öğrencilerimiz
için hazırladığı destek hizmetidir.

<http://yerkoy.meb.gov.tr>





Yerköy İlçe Millî Eğitim Müdürlüğü

Mehmet DURMAZ
İlçe Millî Eğitim Müdürü

Seral BORA
H.Hüseyin ASAR
Şube Müdürleri

M.Suat ATİLA
Koordinatör ve Grafik Tasarım

Hazırlayanlar

Özlem KÜÇÜK Şht. Kamil Çelikkaya İlkokulu
Evşen SAYIÇI TOKİ Şht. Ali Salmanlı İlkokulu
Ahmet YARIÇI Reşat Akyön İlkokulu
Ömer YILMAZ Atatürk İlkokulu
Hanife KARACA Mehmet Akif Ersoy Ortaokulu

Sevgili Çocuklar:

Bu deneme sınavında 15 Türkçe,

15 Matematik,

15 Hayat Bilgisi ve 10 İngilizce olmak üzere 55 soru bulunmaktadır.

Sınav süresi 75 dakikadır.

Hepinize başarılar dileriz.

ADI:.....

SOYADI:.....

SINIFI:.....

OKULU:.....

TÜRKÇE

OKULUMUZ

Her yerden daha güzel
Bizim için burası.
Okul, sevgili okul
Neşe bilgi yuvası.



Güzel kitaplar burda,
Birçok arkadaş burda.
İnsan nasıl sevinmez,
Böyle yerde okur da.

Rakım ÇALAPALA

(1.2.ve 3.soruları yukarıdaki şiire göre cevaplayınız.)

1. Yukarıdaki şiirin konusu aşağıdakilerden hangisidir?

- A) Ev
- B) Okul
- C) Doğa

2. Yukarıdaki şiir kaç dizeden oluşmaktadır?

- A) 8 dize
- B) 2 dize
- C) 12 dize

3. Şiirde yer alan sözcük hangisidir?

- A) Saygı
- B) Dost
- C) Yuva

4- "Ağaçtaki erik kafasına düştü."

Cümlesindeki eş anlamlı sözcük hangisidir?

- A) Erik
- B) Ağaç
- C) Kafa

5- Hazırladı - yemeğini - akşam - annem

Yukarıdaki sözcükler nasıl sıralanırsa kurallı ve anlamlı cümle olur?

- A) Yemeğini annem akşam hazırladı.
- B) Hazırladı akşam yemeğini annem
- C) Annem akşam yemeğini hazırladı.

TÜRKÇE

6- Aşağıdaki resimlerden hangisinin eş anlamlısı vardır?

A) Hediye



B) Ayna



C) Top



7- Keşke anneme daha çok onu sevdiğimi söyleseydim.

Yukarıdaki cümle hangi duyguyu içerir?

A) Sevinç

B) Öfke

C) Pişmanlık

8- Kişi, yer adları ve unvan adları büyük harfle başlar.

İzmir - Ankara - Hanım - Ali - Sevim - Ev-bey - Dayı - Çiftlik

Bu bilgiye göre yukarıdaki adlardan kaç tanesi büyük harfle başlar?

A) 4

B) 6

C) 5

9- Aşağıdakilerden hangisinin yazımı doğrudur?

A) Herkez

B) Tiren

C) Tiyatro

10-3 Ünsüz harften oluşur.
3 Ünlü harfi vardır.
Ev eşyası olarak kullanılır.

A) Koltuk

B) Baston

C) Kanepa

11- "Melis geç uyandığı için kahvaltı yapamadı."

Cümlesinde SNİK sorularından hangisinin cevabı yoktur?

A) Kim?

B) Ne?

C) Nerede?

A	B	C

12- Yukarıdaki görsellerin isimleri sırayla yazıldığında hangi sıralama doğru olur?

A) ABC

B) CBA

C) BCA

13- **yon-le-te-viz**

Yukarıdaki hecelerden hangi kelime oluşturulur?

A) Teleskop

B) Telefon

C) Televizyon

TÜRKÇE

14- Annen sana toka () kolye ()
yüzük () bebek () aldı mı ()

Yukarıdaki cümlede
ayraçların içine sırasıyla hangi
noktalama işaretleri gelmelidir?

- A) (,) (?) (!) (.)
B) (,) (,) (,) (.)
C) (,) (,) (,) (?)

15- Aşağıdaki sözcüklerden
hangisi hecelerine yanlış
ayrılmıştır?

- A) bil-gi-sa-yar
B) ha-nım-e-li
C) ka-lem-lik

-TÜRKÇE TESTİ BİTTİ-

DİĞER TESTE GEÇİN

MATEMATİK

1. () Bir nesnenin tamamına bütün denir.

() 8 yarım kavundan 3 bütün kavun elde edilir.

() 12 yumurtanın çeyreği kırılınca, geriye 9 yumurta kalır.

Yukarıdaki ifadelerden doğru olanların başına (D),yanlış olanların başına (Y) harfi getirilirse aşağıdaki şıklardan hangisini elde ederiz?

A) D
D
D

B) D
Y
D

C) D
D
Y

2.



Hikâye kitabımın yarısı 24 sayfadır. Bugün 20 sayfa okuduğuma göre: kitabı bitirmek için kaç sayfa daha okumalıyım?

A) 20

B) 24

C) 28

3. Aşağıdaki saatlerden kaç tanesi tam saattir?



A) 3

B) 2

C) 1

MATEMATİK



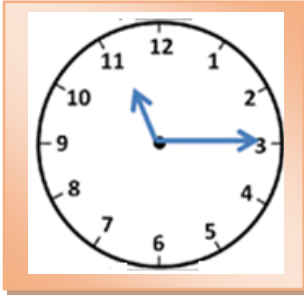
4. Ebrar, her gün yandaki saatte okuldan gelmektedir. Buna göre, Ebrar saat kaçta okuldan gelmektedir?

A) 15.15

B) 15.30

C) 15.45

5. Aşağıda verilen saatin öğleden önce ve öğleden sonra okunuşu hangi şıkta doğru verilmiştir?



Öğleden önce

Öğleden sonra

A) 11.15

20.15

B) 10.15

23.15

C) 11.15

23.15

1

2

3

4



12.30



05:45



15.00



11.15

6. Yukarıda okunuşları verilen saatlerle ilgili hangi bilgi **yanlıştır**?

A) 1 ve 4 numaralı saatler doğru okunmuştur.

B) 3 numaralı saat tam saattir.

C) 2 numaralı saatin okunuşu beşe çeyrek vardır.

MATEMATİK

7. Şehit Kamil Çelikkaya İlkokulu öğrencileri aşağıda gösterilen saatte öğle yemeğine gitmektedir. Buna göre öğrenciler saat kaçta yemeğe gitmektedir?



- A) 11.30
B) 12.30
C) 13.30



8.

Ayşe Yozgat'tan İstanbul'a gidecektir. Otobüs Yozgat'tan 20.00'da kalkmış, saat 09.00'da İstanbul'a varmıştır. Ayşe kaç saat yolculuk yapmıştır?

- A) 12 B) 13 C) 14

MATEMATİK

9.



Ali'nin gittiği Rafadan Tayfa Göbeklitepe filmi saat 17.00'da başlayıp:01.30'saat sonra bitmiştir. Film saat kaçta bitmiştir?

- A) 18.30
- B) 18.45
- C) 19.30



10. Sevimli inek bir günde 5 litre süt vermektedir. Günlük sütün 3 litresini satıp, geri kalanı ile yoğurt yapıyoruz. Bir ayda kaç litre süt ile yoğurt yaparız?

- A) 50
- B) 60
- C) 70

11. Aşağıdaki paralardan hangisi daha fazladır?

A)



B)



C)



MATEMATİK

12. Aşağıda Kutlay, Ahmet ve Efe'nin kumbaralarındaki paralar verilmiştir. Buna göre, görseldeki oyuncakçı kim alamaz?



A) Kutlay:



B) Ahmet:



C) Efe:



13.

75 TL

Kumbaramda, iki tane 20 TL, üç tane 10 TL ve iki tane 1 TL vardır. Yandaki çantayı alabilmem için kaç TL daha biriktirmeliyim?

A)



B)



C)



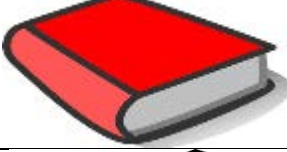




MATEMATİK

14. Kumbaramdaki paralar görseldeki gibidir. Tanesi 4 TL olan kalemlerden 7 tane alırsam kaç TL param kalır?



- A) 42 TL
- B) 53 TL
- C) 64 TL

ÜRÜNLER	FİYATI
	1 TL
	7 TL
	10 TL
	3 TL
	50 TL

15. Yandaki tabloya göre 50 TL'si olan Bilge aşağıdakilerden hangisini alabilir?

- A) 1 ayakkabı ve 1 top
- B) 2 silgi, 5 ekmek, 3 top ve 1 kitap
- C) 4 kitap, 5 ekmek ve 1 top

-MATEMATİK TESTİ BİTTİ-
DİĞER TESTE GEÇİN

HAYAT BİLGİSİ

1. Aşağıdaki görsellerden hangisi Atatürk'ün doğduğu evdir?

A)



B)



C)



Bugün yurdumuzdan
düşmanları temizledik.
Ülkemizi düşmanlardan
kurtardık.

2. Yukarıda Atatürk'ün söylediği gün ülkemizde hangi bayram olarak kutlanır?

- A) Zafer Bayramı B) Çocuk bayramı C) Cumhuriyet Bayramı

3. Milli bayramlar ile ilgili ifadelerden hangisi yanlıştır?

- A) Milli bayramlar birlik ve beraberlik sağlar.
B) Milli bayramlar hep beraberce coşkuyla kutlanır.
C) Milli bayramlarda büyüklerimizin ellerini öperiz.



4. Yukarıdaki görsel hangi bayrama aittir?

- A) Ramazan Bayramı B) Kurban Bayramı C) Cumhuriyet Bayramı

HAYAT BİLGİSİ




5. Yukarıdaki görsellerde aşağıdakilerden hangisi vurgulanmıştır?

- A) Bitki Yetiştirme B) Oyun Oynama C) Yardımseverlik

6. Canlılar ile ilgili aşağıdaki bilgilerden hangisi yanlıştır?

- A) Bitkilerin büyüebilmesi için barınmaya ihtiyaçları vardır.
B) Bitkiler besinlerini topraktan alır.
C) Hayvanların yaşayabilmesi için barınmaya ve beslenmeye ihtiyacı vardır.



7. Yukarıdaki bitkinin gelişim aşamalarını sıraya koyarsak doğru seçenek hangisi olur?

- A) 1-2-3-4
B) 4-3-1-2
C) 3-1-2-4

8.

1. Sucuk
2. Zeytin
3. Oyuncak

- a. Tarım
b. Sanayi
c. Hayvancılık

Yukarıdaki üretim ve alanlarını eşleştirirsek aşağıdakilerden hangisi doğru olur?

- A) (1-a) , (2-c) , (3-b)
B) (1-c) , (2-a) , (3-b)
C) (1-c) , (2-b) , (3-a)


HAYAT BİLGİSİ

9. **Elif Rana gittiği köy düğününde yöresel yemeklerin olduğunu gördü. Elif Rana'nın cümlesine göre Türk düğünlerinde aşağıdaki yemeklerden hangisi yer almaz?**


- A) Keşkek B) Höşmerim C) Pizza

10. **Aşağıdaki görsellerden hangisi tarım ile ilgili bir üretilimdir?**

A)



B)



C)



11. * hoşgörü * misafirperverlik * yardımlaşma
* saygısızlık * bayramlaşma * ziyaret

Yukarıdaki ifadelerden kaç tanesi Türk gelenek ve göreneklerinde vardır?

- A) 4 B) 5 C) 6

12.

Salgın ve bulaşıcı hastalıkların önlenmesi için gereken bilgilendirmeyi yapandır.

Yukarıdaki cümlede noktalı yere gelmesi gereken kelime aşağıdakilerden hangisidir?

- A) İçişleri Bakanlığı
B) Sağlık Bakanlığı
C) Milli Eğitim Bakanlığı

HAYAT BİLGİSİ

13. Aşağıdakilerden hangisi gelenek ve göreneklerimizden değildir?

- A) Misafirlere kahve ikram etmek
- B) Asker uğurlamak
- C) Büyüklerimize saygı göstermemek

14. Aşağıdaki görsellerden hangisi ülkemize ait güzelliklerden biri değildir?

A)



B)



C)



15. Ülkemize göç eden insanlara nasıl davranmalıyız?

- A) Onlara istenmediğini söylemeliyiz.
- B) Ülkelerine gitmelerini istemeliyiz.
- C) Misafirperver şekilde davranmalıyız.

**-HAYAT BİLGİSİ TESTİ BİTTİ -
DİĞER TESTE GEÇİN**

ENGLISH



1. Resmi ifade eden cümle hangisidir?

- A) Let's run!
- B) Let's skip a rope!
- C) Let's sing!

2. How many fish are there?



- A) Six lions
- B) four lions
- C) three lions



3. Which fruit is it ?

- A) CARROT
- B) BANANA
- C) PEAR

4. Where is the rabbit?

- A) in the hat
- B) on the hat
- C) under the hat



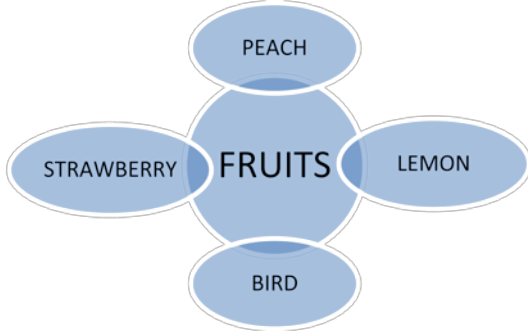
5. Verilen hayvanların İngilizce karşılıkları sırasıyla hangi şıkta verilmiştir?



- A) Monkey – bird – fish – turtle
- B) Dog – fish – horse – turtle
- C) Monkey – dog – fish – rabbit

ENGLISH

6. Aşağıda verilen şemaya uygun olmayan seçenek hangisidir?



- A) bird
- B) strawberry
- C) peach

7. How many apples are there?



- A) six
- B) five
- C) nine



8. - Do you like grapes?

- A) No, I don't
- B) No!
- C) Yes, I like



9. Aşağıda verilen resimlerde hangi meyve yoktur?

- A) grapes
- B) banana
- C) watermelon



10. - Do you eat banana?

- A) Yes, I do
- B) No, I don't
- C) Yes, I like

-SINAV BİTTİ-

CEVAPLARINIZI KONTROL EDİN