

4. SINIF



4. Hafta Fasikül
4-8 Mayıs Kazanımları

EVDE EĞİTİM E-FASİKÜL' DE



YERKÖY ARGE

Yerköy İlçe Milli Eğitim Müdürlüğü'nün uzaktan eğitim sürecinde öğrencilerimiz için hazırladığı destek hizmetidir.





Yerköy İlçe Millî Eğitim Müdürlüğü

Mehmet DURMAZ
İlçe Milli Eğitim Müdürü

Serdal BORA
H.Hüseyin ASAR
Şube Müdürleri

M.Suat ATİLA
Koordinatör ve Grafik Tasarım

Hazırlayanlar

Ahmet DEMİR
Aysun ASLAN
Bahattin VARLIK
Yıldız TÜNGER
Yılmaz TÜNGER
Davut BEŞPINAR

Atatürk İlkokulu
Reşat Akyön İlkokulu
TOKİ Şht. Ali Salmanlı İlkokulu
Şht. Kamil Çelikkaya İlkokulu
Sekili Şht. Osman Pekşen İlkokulu
Reşat Akyön Ortaokulu



TÜRKÇE

VOLEYBOL



Voleybol, 1885 yılında Amerika'da icat edilmiş ve amatör kişiler tarafından oynanmaya başlanmıştır. Spor Okulu'nda öğretmenlik yapan William Morgan basketbol topunun iç lastiğiyle böyle bir oyunun oynanabileceğini düşünmüş ve ilk uygulamayı öğrencileri arasında yapmıştır.



Voleybol, altı kişiden kurulu iki takım arasında oynanır. Oyuncular sahada üç kişi fileye yakın atak ve diğer üç kişi ise savunma pozisyonunda geride duracak şekilde yerleşirler. Bir takım topa arka arkaya en fazla üç kez vurabilir. Topa vücudun herhangi bir yeri ile vurmak serbesttir. Oyuncular saat yönünde sürekli değişerek oynarlar. Amaç, sahayı ikiye bölen filenin üzerinden topu karşı tarafın sahasına düşürmektir. Bunu başaran takım puan kazanır.

Voleybolda oyun, hakemler tarafından yönetilmektedir. Hakemler aldıkları görevlere göre farklılık gösterir. Maç esnasında sadece baş ve yardımcı hakemler düdük çalabilir. Diğer hakemler bayrak ile uyarı yaparlar.

Voleybolda her oyuncunun farklı görevleri vardır ve oyunda yer aldıkları alana göre isim alırlar. Örneğin; "Libero" bir defans oyuncusudur. Defansta istediği yerde oynayabilir. Libero, ön tarafa geçemez, blok yapamaz, servis atamaz. Bu özellikleri sebebiyle forma rengi takım arkadaşlarından farklıdır.

Takım koçları, saha kenarından takımlarına direktifler vermekte serbesttir. Takımların her sette altı değişiklik yapma hakkı vardır.

Maçlar 3 veya 5 setten (oyunun bölümleri) oluşur. 25 puana, en az iki farkla olmak üzere ilk ulaşan seti kazanır. Beşinci set 15 puan üzerinden oynanır. En az iki farklı sonuç burada da gereklidir.



TÜRKÇE

A) Aşağıdaki soruları metne göre cevaplayınız.

1. Voleybol oyunu nerede ve kim tarafından icat edilmiştir?
.....
2. Oyun tarihte ilk kez ne zaman oynanmaya başlanmıştır?
.....
3. Voleybolda oyuncular sahaya nasıl yerleşirler?
.....
.....
4. Takımlar nasıl puan kazanmaktadırlar?
.....
.....
5. Voleybolda oyunu kimler idare etmektedirler?
.....
.....
6. Liberonun (defans oyuncusu) oyundaki özel görevi nedir?
.....
.....
7. Liberonun forma rengi neden farklıdır?
.....
.....
8. Metnin konusu nedir?
.....
.....
9. Metnin türü nedir?
10. Metne yeni bir başlık bulunuz.

B) Aşağıdaki metin ile ilgili cümlelerin başına doğru ise (D), yanlış ise (Y) harfi koyunuz.

1. (.....) Voleybol ilk kez Amerikalı bir spor öğretmeni tarafından öğrencilere oynatılmıştır.
2. (.....) Voleybolda bir takım topla istediği kadar oynayabilir.
3. (.....) Oyuncular sahada sürekli sabit olarak yer alırlar
4. (.....) Voleybol maçları iki hakem ile idare edilir.
5. (.....) Voleybolda her oyuncunun farklı görevleri vardır.

C) Aşağıdaki cümlelerde yer alan boşlukları metne göre doldurunuz.

Voleybol,kişiden kurulu iki takım arasında oynanır. Oyuncular sahada üç kişi fileye yakın ve diğer üç kişi ise pozisyonunda geride duracak

TÜRKÇE

D) Aşağıda verilen kelimelerin (anlamdaş) eş anlamlılarını yazınız

atak	defans
öğrenci	ikaz
idare	alan
birey	ekip
taraf	farklı

E) Aşağıda verilen kelimelerin (karşıt) zıt anlamlarını yazınız

hücum	arka
aşağı	bitiş
içinde	fazla
farklı	amatör
değişken	mağlubiyet

F) Aşağıdaki cümlelerde ALTI ÇİZİLİ kelimelerden Gerçek anlamda kullanılanları (G) Terim anlamda kullanılanları ise (T) ile belirtiniz.

- 1) (.....) Maç 3 veya 5 setten oluşur.
- 2) (.....) Blok, top fileyi geçmeden yapılmalıdır.
- 3) (.....) Libero, ön tarafa geçemez, blok yapamaz, servis atamaz.
- 4) (.....) Topa vücudun herhangi bir yeri ile vurmak serbesttir.
- 5) (.....) Oyuncular sahada saat yönünde değişerek oynarlar.
- 6) (.....) Maç esnasında sadece baş ve yardımcı hakemler düdük çalabilir.

G) Aşağıdaki deyimleri açıklamalarıyla eşleştiriniz.

- | | |
|----------------------------|--|
| 1- kulak asmamak | Belli etmeden özellikle dinlemeye çalışmak. |
| 2- kulak kabartmak | Çok şey bilen, az yanılan. |
| 3- kulak misafiri olmak | Bir olaydan ders çıkarıp unutmamak. |
| 4- kulak tıkamak | Önem vermemek, umursamamak. |
| 5- kulağı delik | İstmeden, tesadüfen konuşulan bir şeyi duymak. |
| 6- kulağı kesik | Güzel bir müziği zevkle dinlemek. |
| 7- kulağını çınlatmak | Muhabbet esnasında birini anmak |
| 8- kulağına küpe olmak | Kaynağı belli olmayan gerçekliği şüpheli bilgi ve duyum. |
| 9- kulağının pasını silmek | Olup biteni çabuk haber alan. |
| 10- kulaktan dolma | Bir şeyi duymazlıktan gelmek. |

TÜRKÇE

OKUDUĞUNU ANLAMA

KARNE

İlk dönem bitmişti. Dördüncü sınıf olmanın en güzel yanı artık öğrenciler başarılarına göre "Takdir" ve "Teşekkür" belgesi de alabiliyordu. Öğretmenim bana "Aferin Tuğçe! Takdir aldın." dediğinde sevinçten havalara uçtum. Sadece ben değil, en sevdiğim arkadaşlarım; Zeynep, Gülce, Ayça ve Kerem de benim gibi takdir almıştı ve çok mutlulardı. Bizim sınıfta toplam ben ve 8 arkadaşım takdir belgesi aldık. Ancak sıra arkadaşım Hatice teşekkür aldığı için mutsuzdu. Sınıfta 6 kişi teşekkür almıştı ve Hatice de onlardan biriydi. Onun mutsuzluğunu görünce çok sevinemedim. Hemen yanına gidip teselli ettim. Karne aldıktan sonra hep beraber kartopu oynamaya gittik. Karne günü çok eğlendik.

(Not: İlk 3 soruyu yukarıdaki metne göre yanıtlayınız.)

1. Metne göre sınıftan kaç öğrenci takdir belgesi almıştır?

- A) 8 B) 9 C) 10 D) 11

2. Yukarıdaki metne göre aşağıdakilerden hangisi kesinlikle söylenemez?

- A) Gülce ve Ayça takdir belgesi almıştır.
B) Hatice dışında teşekkür alan 5 kişi vardır.
C) Kartopu oynamaya sadece takdir belgesi alanlar gitmiştir.
D) Takdir ve teşekkür belgesi alanların toplamı 15'ten fazladır.

3. Yukarıdaki metne göre Tuğçe'nin altı çizili cümlelerdeki davranışı aşağıdakilerden hangisini yaptığını gösterir?

- A) Alçak gönüllülük B) Özveri
C) Empati D) Azimlilik

4. Aşağıdaki eş anlamlı kelimelerden hangisi yanlış eşleştirilmiştir?

- A) Kılavuz – Rehber B) Cümle – Tümce
C) Maaş – Aylık D) Sevinç – Kaygı

"Türkçe'nin yanı sıra İngilizce ve Almanca biliyor."

5. Aşağıdaki cümlelerden hangisi yukarıda verilen cümle ile aynı anlamdadır.

- A) İngilizce ve Almancayı Türkçeden daha iyi biliyor.
B) Türkçe bildiği gibi İngilizce ve Almanca da biliyor.
C) Türkçe, İngilizce ve Almancadan başka diller biliyor.
D) İngilizce ve Almanca bilse de Türkçesi daha iyi.

6. Aşağıdaki zıt anlamlı kelimelerden hangisi yanlış eşleştirilmiştir?

- A) Kolay – Zor B) Ağlamak – Gülmek
C) Acımak- Acımamak D) Acı – Tatlı

KARDEŞLİK

Biz dört kardeşiz. Bir ağabeyim, bir ablam ve bir de küçük kız kardeşim var. Kardeşlerimi çok seviyorum. Onlarla zaman geçirmek çok güzel. Ancak doğrusunu söylemek gerekirse en çok ağabeyimle iyi anlaşıyorum. Onunla et ve tırnak gibiyiz. Beraber oyunlar oynuyoruz, beni güldürüyor, eğlendiriyor... Yani hep mutlu ediyor. Geçtiğimiz yıl ağabeyim askere gitti. Aylarca onu özledim. Fırsat buldukça arayıp sesini duydum. Bir gün kapı çaldığında koşarak açmaya gittim. Ağabeyim gelmişti. Ona kocaman sarıldım. Ona "Hiç gelmeyeceksin sandım." dedim. O ise bana "Ne demişler: '.....!'" dedi. Haklıydı, artık ağabeyim gelmişti yanıma. (Not: 7,8 ve 9. soruları yukarıdaki metne göre cevaplayınız.)

7. Yukarıdaki 'Kardeşlik' metnine göre aşağıdakilerden hangisi kesinlikle doğrudur?

- A) Metni anlatan kişi erkektir.
B) Dört kardeşten ikisi kız ikisi erkektir.
C) Metni anlatan kişi ablasını hiç sevmemektedir.
D) Metni anlatan kişiden küçük sadece kız kardeşi vardır.

8. Metindeki boş bırakılan bölüme hangi atasözü getirilebilir?

- A) Dağ dağa kavuşmaz, insan insana kavuşur.
B) Bakarsan bağ, bakmazsan dağ olur.
C) Ağaca çıkan keçinin dala bakan oğlağı olur.
D) Bir elin nesi var iki elin sesi var.

9. Yukarıdaki metinde altı çizili deyimın anlamı aşağıdakilerden hangisidir?

- A) Bir türlü anlaşamamak.
B) Soğuk davranmak, küsmek.
C) Çok iyi geçinmek, birbirinden kopmamak.
D) Birisine çok kızmak.

“Ne güz mutlu eder beni, ne sıcak.
Ne de lapa lapa yağan kar.

İsterim ağaçlar yeşersin, çiçekler açsın,
Benim sevdiğim tek mevsim var.”

10. Yukarıdaki şiirde şairin sevdiği tek mevsim aşağıdakilerden hangisi olabilir?

- A) Sonbahar
B) Kış
C) İlkbahar
D) Yaz

“ Aynı gibiydi. Suçunu bildiği için mahcup bir şekilde bana bakıyordu.”

11. Yukarıdaki cümlede boş bırakılan yere aşağıdaki deyimlerden hangisi getirilmelidir?

- A) Süt dökmüş kedi
B) Etekleri zil çalıyor
C) Gözü yüksekte
D) Keçileri kaçırmış

“ Yaptığı davranışlardan sonra Eren gözünden düştü.”

12. Yukarıdaki cümlede altı çizili deyimın yerine aşağıdakilerden hangisi gelebilir?

- A) Eski değerini yitirdi.
B) Kendini kanıtlamış oldu.
C) Daha başarılı oldu.
D) Düşüp bir yerini kırdı.

13-) Aşağıdakiler alfabetik sıraya dizilirse ilk sırada hangisi olur?

- A-Aydın B-Bolu C-Ağrı D-Bursa

14. “Musluğu kapamış mıydım? Elektriği söndürdüm mü acaba? Kilitledim mi kapıyı, kilitlemeden mi çıktım yoksa?”Yukarıdaki sorular, nasıl yapıdaki bir insanın kafasında canlanır?

- A. korkak
B. meraklı
C. kuşkucu
D. Vurdumduymaz

İsimleri Gülden, Seçkin, Fırat, Kerem ve Ayça olan beş arkadaş beden eğitimi dersinde koşu yarışması yapıyor. Yarışma ile ilgili şu bilgiler bilinmektedir:

- Fırat, Ayça ve Gülden den daha önde yarışı bitirmiştir.
- Gülden yarışı son sırada bitirmiştir.
- Seçkin yarışta ikinci olmuştur.
- Kerem, yarışı Fırat'tan önde bitirmiştir.

(Not: 15,16 ve 17. Soruları yukarıdaki bilgilere göre yapalım.)

15. Yarışta kim birinci olmuştur?

- A) Kerem B) Fırat C) Ayça D) Gülden

16. Yarışta kim üçüncü olmuştur?

- A) Kerem
B) Fırat
C) Ayça
D) Gülden

17. Yarışta kim dördüncü olmuştur?

- A) Kerem
B) Fırat
C) Ayça
D) Gülden

18 . Aşağıdaki kelimelerden anlamlı ve kurallı bir cümle kurulsa, hangi sıralama doğru olur?

sonra-ortaokula-ilkokulu-başlanır-bitirdikten

- 1 2 3 4 5

- A) 5-1-2-3-4
B) 2-1-4-5-3
C) 3-5-1-2-4
D) 4-3-1-2-5

19. Aşağıdaki cümlelerin hangisinde pişmanlık söz konusudur?

- A) İstersen hafta sonu bize gel.
B) Ne diye uydum senin sözüne!
C) Bu saate kadar neredesiniz?
D) Babamı öyle göresim geldi ki...

20-Aşağıdaki hangi davranış biçimi sessiz okuma sırasında yapılmaz?

- A. Satırları göz ile takip ederiz.
B. Dudaklarımızı kıpırdatırız.
C. Başımızı sağa sola çevirmeyiz.
D. Öne, arkaya sallanmayız.

YAZIM KURALLARI VE NOKTALAMA İŞARETLERİ DEĞERLENDİRME

1- Aşağıdaki öğrencilerin cümlelerinin hangisinin sonuna soru işareti gelmez?

- A) Alperen: "Bugün ders çalışalım mı"
 B) Mert: "Hediyeni ne yaptın"
 C) Yasemin: "Mutlu musun şimdi"
 D) Hayrünnisa: "Tatlı mı tatlı bir kedim var"

2-

Babam () Yozgat () Ankara
 arasını 4 saatte gidiyor ()

Yukarıdaki cümlede parantez içlerine hangi noktalama işaretleri konulmalıdır?

- A) (,) (,) (.) B) (:)(-)(.)
 C) (,) (-)(.) D) (;)(,)(.)

3-



Özel isimlere gelen ekleri kesme işareti ile ayırdım

Aşağıdaki cümlelerin hangisinde Ceylin kesme işaretini yanlış kullanmıştır?

- A) Yasemin sen Yozgat'lı mısın?
 B) Kayseri'yi henüz hiç görmedim.
 C) Bu kalem Aysun'un mu?
 D) Geçen yaz Pamukkale'ye gittik.

4-



Sınıfa girer girmez()() Günaydın arkadaşlar() Bugün nasılsınız()" derim.

Mehmet'in sözlerinde parantez içlerine sırasıyla hangi noktalama işareti gelmelidir?

- A) (:)(")(!)(.) B) (.) (-)(!)(?)
 C) (:)(")(!)(?) D) (:)(")(!)(?)

5- Aşağıdaki cümlelerin hangisinden virgül kaldırılırsa cümlelerin anlamında bozulma olur?

- A) Çantasını aldı, ayakkabısını giydi.
 B) Atatürk, Ankara'daki bahçesine iyi bakardı.
 C) İhtiyar, Berat'a bakıp gülümsedi.
 D) Herkes vatanına, bayrağına sahip çıkmalı.

6- Hangi cümlelerin sonuna nokta getirilmelidir?

- A) Bu yol ne kadar uzak
 B) Kitap okumayı sever
 C) Hangisinin vurduğunu
 D) Bilmeyeyi kim çözecek

7-

Atatürk (I) disiplinli (II) çalışkan (III)
 ileri görüşlü bir liderdir(IV)

Yukarıdaki cümlede numaralandırılmış yerlerin hangisinde farklı bir noktalama işareti kullanılmalıdır?

- A) I B) II C) III D) IV

8- Aşağıdaki öğrencilerden hangisi virgölün görevini yanlış açıklamıştır?

- A) Cümlede eylemi yapanı belirtmek için konur.
 B) Eş görevli sözcükleri ayırmak için konur.
 C) Bazı kısaltmaların sonuna konur.
 D) Bağlı cümlelerin arasına konur.

9- Aşağıdaki cümlelerin hangisinin sonuna farklı bir noktalama işareti getirilmelidir?

- A) Hey, ağaçtan atlama
 B) Eyvah! Sen de mi geleceksin
 C) İmdat, bana yardım edin
 D) Oh be, bu işi de hallettik

10- Aşağıdaki cümlelerin hangisinde virgöl yanlış yerde kullanılmıştır?

- A) Mustafa, amcasına bir göz attı.
 B) Berkan her, gece kitap okur.
 C) Ezel, güler yüzlü bir kızdır.
 D) Yarın Ömer, Ahmet ve Ali gelecek.

11- Aşağıdaki çocuklardan hangisi korku bildiren bir ünlem kullanmıştır?

- A) Eyvah, eve hırsız girmiş!
 B) Oh oh, ne iyi yapmışsın!
 C) Hey, çabuk buraya gel!
 D) Vah vah, yazık bu yavruya!

TÜRKÇE


12- Yukarıdaki cümlede () olan yerlere sırasıyla hangi noktalama işareti gelmelidir?

- A) (") (,) (!) (") (?)
B) (") (,) (.) (") (?)
C) (") (.) (!) (?) (")
D) (") (,) (!) (") (.)

13- Dila, herkesin sevdiği bir kızdı. Arkadaşlarına her zaman Teşekkür ederim. Nasılsınız gibi ifadeler kullanır.

Yukarıdaki metinde kaç yerde tırnak işareti kullanılmalıdır?

- A) 1 B) 2 C) 3 D) 4

14-  Bugün matematik fen bilimleri ve müzik dersimiz var

Kemal'in cümlesinde hangi kelimedden sonra virgül konulmalıdır?

A) matematik B) fen bilimleri
C) fen D) müzik

15- Aşağıdaki cümlelerin hangisinin sonuna farklı bir noktalama işareti konulur?

- A) Dedem mi yarın evimize gelecek
B) Abdülaziz bunlardan hangisini alacaksınız
C) Maalesef, yangının nasıl çıktığını görmemiş
D) Canım anneciğim, bugün nasılsın

16-

Tavşan ormanda karşısına çıkan ayıyı görünce:
Ayı kardeş ne kadar da hoşsun bugün, dedi.
Ayı:
Boşuna uğraşma seni yiyeceğim, diye karşılık verdi.

Yukarıdaki metinde kaç yere uzun çizgi gelir?

- A) 1 B) 2 C) 3 D) 4

17- Aşağıdakilerden hangisinde kesme işareti(') doğru kullanılmıştır?

- A) Yerköylü B) Fadime'ler
C) Ankaray'a D) Kırşehir'in

18-

Ey insanlar()
Yaptıklarınızdan
utanmıyor musunuz ()



Cümlesinde boş bırakılan yerlere sırasıyla hangi noktalama işaretleri gelmelidir?

- A) (,) (!) B) (!) (.) C) (!) (?) D) (,) (?)

19- "Altıncı sıra" sözünü rakamla yazmak istersek aşağıdakilerden hangisi doğru olur?

- A) 6 sıra B) 6. sıra C) 6, sıra D) 6- sıra

20- Aşağıdaki cümlelerin hangisinde noktalama işaretlerinde yanlışlık yapılmamıştır?

- A) Bugün denizde yüzmemelisin.
B) Sinemaya gidelim mi diye sordu?
C) Yazın 20 kitap okuyabilir misin.
D) Türkiye'nin en güzel şehri İstanbul'dur.

" gece ali, ankara' dan fransa' ya hareket etti. "

21) Yukarıdaki cümlede büyük harfle başlaması gereken kaç sözcük vardır ?

- A) 2 B) 5 C) 3 D) 4

22) Aşağıdaki cümlelerin hangisinde büyük harflerin kullanışıyla ilgili bir yanlışlık vardır ?

- A) I. Dünya Savaşı ne zaman yapılmıştır ?
B) Yardım kuruluşlarımızdan Kızılay da bölgeye geldi.
C) Akdeniz Bölgesi turizm bakımından gelişmiştir.
D) Yerköy ilçemiz türkiyenin tam ortasındadır

23) Aşağıdaki cümlelerin hangisinde yazım yanlışı vardır ?

- A) Bu saati bana doğum günümde ışık aldı.
B) Babam İzmir' den yarın dönecek.
C) Anıtkabir gezimiz çok güzel geçti.
D) Kutup Yıldızı her zaman kuzeyi gösterir.

" Bir yığın kitab sahibi olmuştu. "

24) Yukarıdaki cümlede kaçınıcı kelime yanlış yazılmıştır ?

- A) 2. B) 1. C) 3. D) 4.

25) Aşağıda verilen hangi cümlede yazım yanlışı vardır?


- A) Sınıfta bir sessizlik oldu.
B) Hüseyinde açık havaya çıktı.
C) Memlekette sevinç var.
D) Biraz da heyecanlanmıştı

TÜRKÇE

GÖRSEL HİKAYE OKUYORUM VE ANLATIYORUM

TRAFİK KAZASI

Sevgili öğrenciler; Aşağıdaki görselleri sırası ile inceleyiniz. Sonra görsellerde gördüklerinizi aile büyüklerinize anlatınız. Anlatırken mutlaka konuşma kurallarına dikkat ediniz lütfen.



TÜRKÇE

BİL - BUL

Aşağıdaki bilmecelerin cevabını bulalım. Cevapları ile eşleştirelim.

Gökyüzündeyim bazen
Bazen de denizlerde
Çocuklar görür beni
Atamın gözlerinde...



Sımsıcak güneşteyim
Ekşi bir limondayım.
Papatyanın gözünde
Bil bakalım ben neyim.



Damarında kanında
Bir de çilek tadında
Daha da bulamazsan
Ay yıldızlı bayrakta...




İlkbaharın rengiyim
Ağacı ben giydirdim
Karpuzun kabuğunda
Kivinin içindeyim.



Patlıcanın rengiyim
Bir de mahsun menekşe
Bacağımı çarptım ya
Şimdi o renk dizimde.



Zıt(Karşıt) Anımlı Kelimeler Bulmacası



Soldan Sağa

1. TUTSAK kelimesinin zıt anlamlısı kelime.
3. KİRLİ kelimesinin zıt anlamlısı kelime.
6. SEVİNÇ kelimesinin zıt anlamlısı kelime.
8. SALDIRI kelimesinin zıt anlamlısı kelime.
10. EVET kelimesinin zıt anlamlısı kelime.
13. KOYU kelimesinin zıt anlamlısı kelime.
14. HAYAL kelimesinin zıt anlamlısı kelime.
15. ASGARİ kelimesinin zıt anlamlısı kelime.
16. YAPAY kelimesinin zıt anlamlısı kelime.
17. KALABALIK kelimesinin zıt anlamlısı kelime.
18. CİMRİ kelimesinin zıt anlamlısı kelime.
21. CESUR kelimesinin zıt anlamlısı kelime.
22. SERT kelimesinin zıt anlamlısı kelime.
24. YARAMAZ kelimesinin zıt anlamlısı kelime.
25. SOMUT kelimesinin zıt anlamlısı kelime.
26. SORUN kelimesinin zıt anlamlısı kelime.

27. NAZİK kelimesinin zıt anlamlısı kelime.
28. AYDINLIK kelimesinin zıt anlamlısı kelime.

Yukarıdan Aşağıya

1. ESARET kelimesinin zıt anlamlısı kelime.
2. ÖDÜL kelimesinin zıt anlamlısı kelime.
4. ÇUKUR kelimesinin zıt anlamlısı kelime.
5. TEMBEL kelimesinin zıt anlamlısı kelime.
7. DAĞINIK kelimesinin zıt anlamlısı kelime.
9. HATIRLAMAK kelimesinin zıt anlamlısı kelime.
11. MAT kelimesinin zıt anlamlısı kelime.
12. GEÇMİŞ kelimesinin zıt anlamlısı kelime.
14. GELİR kelimesinin zıt anlamlısı kelime.
19. ÜRETİM kelimesinin zıt anlamlısı kelime.
20. SUÇLU kelimesinin zıt anlamlısı kelime.
23. DÜRÜ kelimesinin zıt anlamlısı kelime.

MATEMATİK

MATEMATİK

ÇEVRE ÖLÇME-KARE VE DİKDÖRTGENİN ÇEVRE UZUNLUKLARI

ETKİNLİK 4

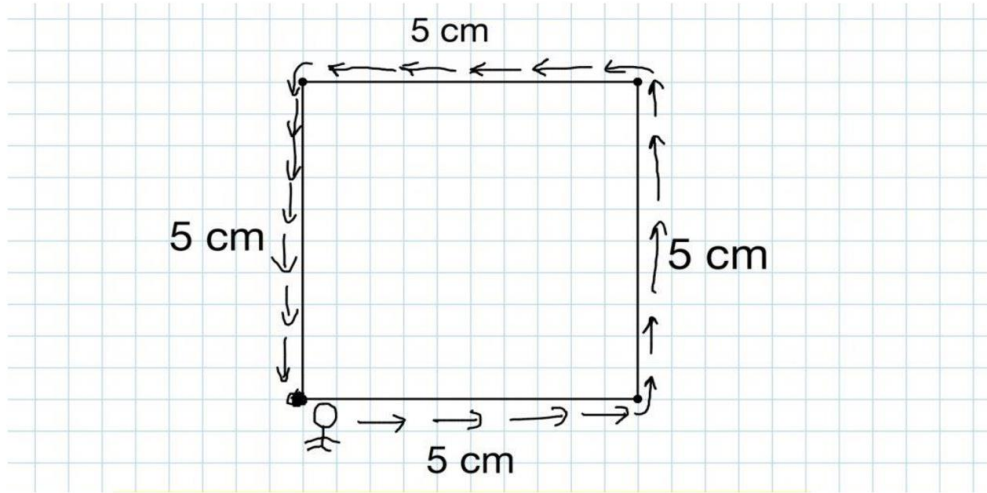
BİLGİ ZAMANI

Çevre Nedir ?

Çevre: Varolan bir geometrik şeklin tüm kenarlarının toplamıdır.Başka bir deyişle geometrik şeklin etrafında dolaştığımızda katettiğimiz mesafedir.

KARENİN ÇEVRESİNİ HESAPLAMA

Karenin çevresini ölçmeyi bir örnek üzerinde anlatalım.



*Karenin bir köşesinden başlayıp tüm kenarlarını (yani etrafını) dolaşip ,başladığımız köşeye kadar katettiğimiz mesafe bize karenin çevresini verecektir.

*Karenin çevresini hesaplarken 4 kenarıda birbirine eşit olduğu için bir

Kenarının uzunluğu ile 4'ü çarpılır. Yani Çevre = 5 cm x 4

*Çevreyi bir uzunluk ölçüsü birimi ile ifade ederiz .(km, hm, dam, m, dm, cm,mm).

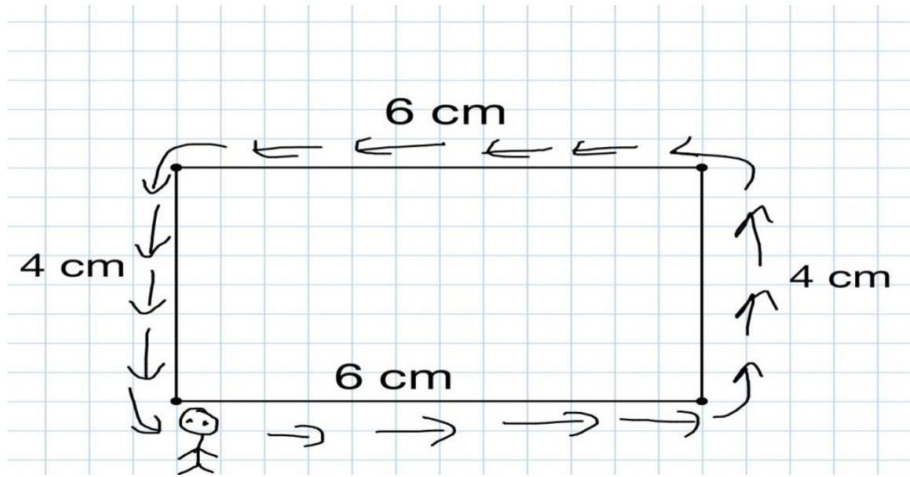
$$\text{Çevre} = 5 \text{ cm} + 5 \text{ cm} + 5 \text{ cm} + 5 \text{ cm} = 20 \text{ cm}$$

$$\text{Çevre} = 4 * 5 \text{ cm} = 20 \text{ cm}$$

MATEMATİK

DİKDÖRTGENİN ÇEVRESİNİ HESAPLAMA

Dikdörtgenin çevresini ölçmeyi de bir örnek üzerinde anlatalım.



*Yine dikdörtgende de kare gibi bir köşesinden başlayıp tüm kenarlarını (yani etrafını) dolaşip ,başladığımız köşeye kadar katettiğimiz mesafe bize dikdörtgenin çevresini verecektir.

*Dikdörtgenin çevresini hesaplariken karşılıklı kenarları birbirine eşit olduğu için bir kısa bir uzun kenar toplanır ve 2 ile çarpılır. Yani

$$\text{Çevre} = (6 + 4) \times 2$$

*Çevreyi bir uzunluk ölçüsü birimi ile ifade ederiz (km, hm, dam, m, dm, cm,mm).

$$\text{Çevre} = 6 \text{ cm} + 4 \text{ cm} + 6 \text{ cm} + 4 \text{ cm} = 20 \text{ cm} .$$

MATEMATİK

Günlük Hayatımızda Çevre Hasaplaması Hangi Meslek Gruplarında Ne İşe Yarar ?

*Özellikle matematik ve geometri derslerinde sıkça kullandığımız çevre hesaplamaları günlük hayatta birçok meslek dalında da kullanılmaktadır.

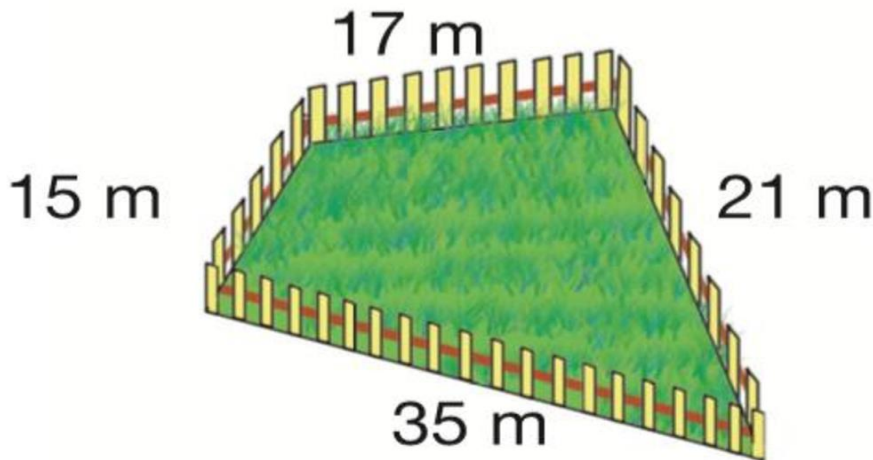
*Derslerde gördüğümüz kare, dikdörtgen gibi çeşitli türlerdeki şekiller mimarlık, tapu kadastro, mühendislik gibi bazı meslek dallarında kullanılır.

*Çevre uzunluklarını ölçmeyi gerektiren mesleklerin başında marangozluk ve terzilikte gelir.

*Örneğin bir terzi dikeceği elbisenin ölçülerini kişinin çevresini ölçerek alır. Özellikle bel kısmını metre ile ölçerek dikkatli bir şekilde elbiseyi diker.

* Diğer bir örneğimiz olan marangozlar ise yapacakları araç ya da gereci oluşturan çeşitli parçaları bazı şekillerden oluştururlar. Kimi zaman kare, kimi zaman daire bir tekerlek kullanan marangozlar çevre hesaplamalarından yararlanarak şekli oluşturur.

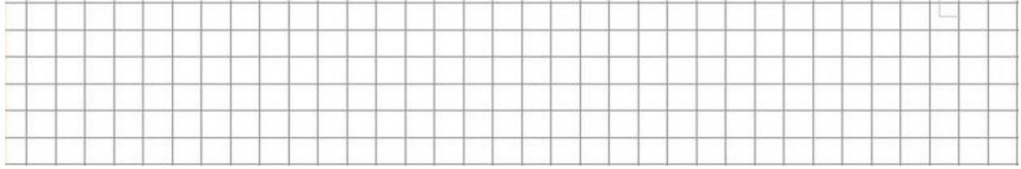
*Aşağıda gördüğümüz çitleri oluşturmak içinde marangozlar çevre hesaplamalarından yararlanırlar.



MATEMATİK



9. Medine odasındaki kare şeklindeki duvarın çevresini süslemek için 25 m 'lik rafya alıyor. Medine'nin odasındaki duvarın bir kenarının uzunluğu kaç m'dir ?



10. Kısa kenarının uzunluğu 10 m olan ,80 m çevre uzunluğuna sahip bir bahçenin uzun kenarının, uzunluğu kaç m 'dir ?



11. Aşağıdaki sorunun cevabını bulunuz?

$$\text{shoe} + \text{shoe} + \text{shoe} = 30$$

$$\text{man} + \text{man} + \text{shoe} = 20$$

$$\text{diamond} + \text{diamond} + \text{man} = 13$$

$$\text{shoe} + \text{man} \times \text{diamond} = ?$$

FEN BİLİMLERİ

A. Aşağıdaki soruları cevaplayalım

1) İstenmeyen ve insanı rahatsız eden seslere verilen ad aşağıdakilerden hangisidir?

- A) Ses azlığı
B) Ses kirliliği
C) Işık kirliliği
D) Su kirliliği

ADNAN: Hava alanları yerleşim bölgelerinden uzak yerlere kurulmalıdır.

ZÜLEYHA: Ulaşım araçlarının çıkardığı sesi azaltmak için gerekli filtrelemeler yapılmalıdır.

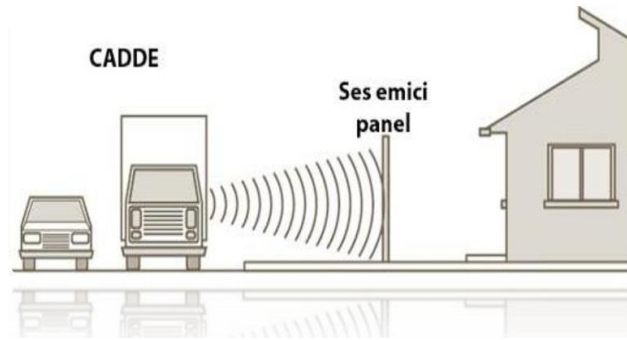
BAKİ: Binalarda ses yalıtımı iyi yapılmalıdır.

2) Kimlerin ses kirliliğini azaltma önerileri doğrudur?

- A) ADNAN
ZÜLEYHA
B) ADNAN
BAKİ
C) ZÜLEYHA
BAKİ
D) ADNAN
ZÜLEYHA
BAKİ

3) Aşağıdakilerden hangisi ses kirliliğine neden olmaz?

- A) Araba kornası
B) Kuş sesi
C) Araç sesleri
D) İş makineleri



FEN BİLİMLERİ

4) Aşağıdakilerden hangisi ses kirliliğinin sonucu görülmez?

A) Sinir bozukluğu

B) Görme kaybı

C) Stres

D) Uykusuzluk



5) Yerleşim yerlerine yakın yerlere fabrika kurulursa aşağıdaki hangi sorunla karşılaşılır?

A) Heyelan

B) Deprem

C) Ses kirliliği

D) Görme bozukluğu

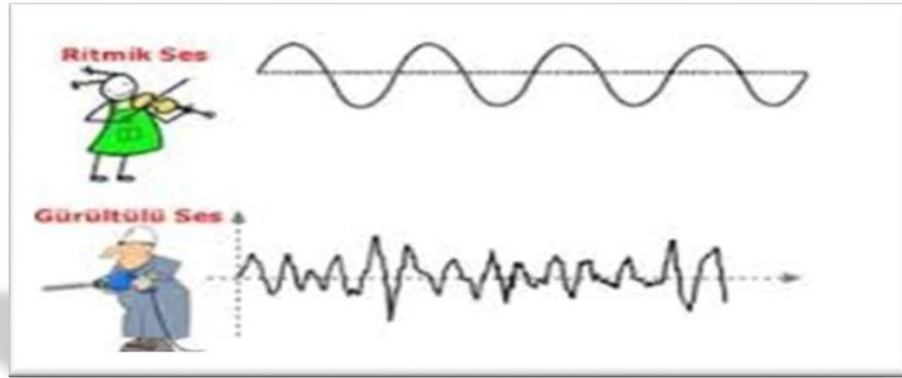
FEN BİLİMLERİ

6) Aşağıdakilerden hangisi gürültüye karşı alınacak önlemlerdendir?

- A) Gündüz dışarı çıkmamak
B) Sokakta kulaklıkla dolaşmak
C) Gürültülü iş yerlerini şehir dışına taşımak
D) Eğlence yerlerini kapatmak

7) Uzun süre ve tekrarlı ses kirliliğine maruz kalan birinde hangisi görülebilir?

- A) görme kaybı B) işitme kaybı C) konuşma bozukluğu D) bilinç kaybı



8) Aşağıdakilerden hangisi ses kirliliğini önlemek için alınan önlemlerden birisi değildir?

- A) Ortak kullanım alanlarında yüksek seslerle konuşulmamalı.
B) Tamirat ve bakım gibi işler uygun saatlerde yapılmalı.
C) Yüksek seste müzik dinlenmemelidir.
D) Trafikte gereksiz yere korna çalınmalı.




FEN BİLİMLERİ

- B. Ebrar:
"Ses Kirliliğini Azaltmak İçin Bireysel Olarak Üzerimize
Düşen Görevler Şunlardır."
Neler söylemiş Olabilir?

<hr/> <hr/>	<hr/> <hr/>	<hr/> <hr/>
<hr/> <hr/>	<hr/> <hr/>	

- C. Ses Kirliliğinin Doğal Hayata Verdiği Zarara Örnek Verelim
Ve Bu Zararı Ortadan Kaldırmaya Yönelik Bir Çözüm
Düşünelim



FEN BİLİMLERİ

Ses Yalıtımı: Dış ortamdaki seslerin duyulmasını engellemek için binalara ses yalıtımı yapılır. Lastik, pamuk, yün ve keçe gibi maddeler sesi az iletir. Tahta, demir, bakır, taş, beton gibi maddeler ise sesi iyi iletir. Bu maddelerin üzerleri sesi az ileten maddelerle kaplanarak sesin iletimi engellenebilir. Günümüzde teknik olarak üretilen birçok yalıtım malzemesi vardır. Poliüretan, çift cam bunlardan bazılarıdır. Özellikle okul, hastane, fabrika gibi yerlerde ses yalıtımı yapılmalıdır.



D. "Ses Kirliliğini Azaltmak" İle İlgili Bir Slogan Oluşturalım.




E. DENEMEK İSTEYECEĞİNİZ DENEYLER

ZIPLAYAN PARA

Hava ısındıkça genişler, yani daha geniş bir hacme yayılır.

Madeni bir parayı zıplatmak için havanın genişlemesinden yararlanır.




Para şişenin ağzını tümüyle kapatmalıdır.

Uzun boyunlu bir şişe derin bir kaba konur. Şişenin ağzı ıslatılır ve üzerine madeni para yerleştirilir. Sonra da kaba sıcak su konur.

Sıcak su şişenin içindeki havayı ısıtır. Genleşen hava parayı yukarı doğru iter.

FEN BİLİMLERİ

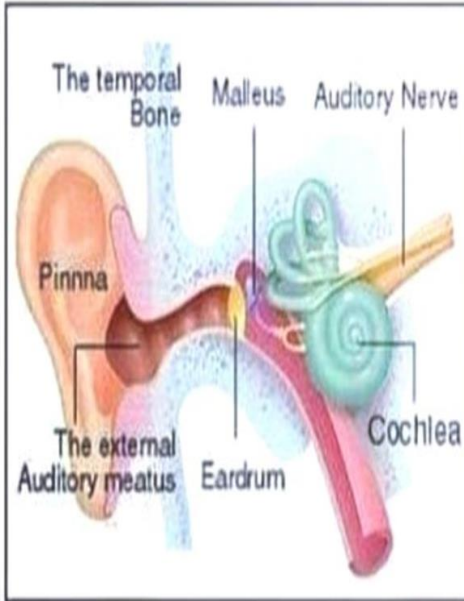
F. BİRAZ GÜLÜMSE



FEN BİLİMLERİ

G. BUNU BİLİYOR MUYDUK?

Beethoven'ın, sağır olduğu halde besteler yapabildiğini duymuşsunuzdur. Çalarken piyanosuna taktığı bir metal çubuğu ısırduğunda duyabildiğini keşfetmişti.



Beethoven took advantage of Bone Conduction as well.

Bu sayede ses, çene kemiklerinden iç kulağa iletiliyor, o da çaldıklarını duyuyordu. Buna 'kemik iletimi' denir.

SOSYAL BİLGİLER

ÖZGÜRLÜK VE BAĞIMSIZLIK KARAKTERİMİZDİR

Özgürlük, kişinin herhangi bir dış zorlama olmadan kendi düşüncesine dayanarak karar vermesidir. Gerçekte özgür ve sorumlu olan tek canlı insandır. Özgür olmak başkalarının haklarını elinden almayı veya onlara zarar vermeyi gerektirmez.

Bağımsızlık: Bir ülkenin her yönden(siyaset adalet, mali...) kendi kararlarını kendi alması, başka devletlerin etkisi altında olmadan halkın yararına aldığı kararlardır. Bağımsızlığını kaybetmiş bir ülkede bireyler özgür değildir. Her alanda yaşamları kısıtlanmış demektir.

Türkiye Cumhuriyetinin bağımsız mücadelesi Mustafa Kemal'in 19 Mayıs 1919'ta Samsun'a çıkması ile başlamıştır.23 Nisan 1920'de yurdun her bölgesinden gelen millet temsilcileri ile Ankara'da Büyük Millet Meclisi açılmıştır. Türk milletinin iradesi, kararı ve sesi, onun tek temsilcisi olan Büyük Millet Meclisi aracılığı ile bütün dünyaya duyurulmuştur.

20 Ocak 1921 tarihinde hazırlanan ilk anayasamızda da, hâkimiyetin kayıtsız şartsız milletin olduğu kabul edilmiştir.

29 Ekim 1923 tarihinde tam olarak bağımsızlığına kavuşmuştur.

Ulusal egemenlik; "Egemenliğin tam yasal kaynağı ve sahibi millettir" ilkesine sahiptir.

Bir ülkenin bağımsızlığını koruyabilmesi devam ettirebilmesi için, o devletin vatandaşı olan halkın, devletine, milli değerlerine sahip çıkması, koruması ve kollaması gerekmektedir. Devletinin kalkınması için örnek bir vatandaş, bilim ışığında ülkesini kalkındıracak işler yapması için çabalamalıdır.

SOSYAL BİLGİLER

ÖZGÜRLÜK, BAĞIMSIZLIK, ULUSAL EGEMENLİK PEKİŞTİRME ÇALIŞMASI

CUMHURİYET	SEÇME	ÇOCUK	TBMM
MİLLETE	DEMOKRATİK	İŞGAL	KURTULUŞ
1920	LİDERLİK	MUSTAFA KEMAL	SEÇİLME
23 NİSAN'I	MİLLET	SAMSUN'A	EGEMENLİK

- ❖ Mondros Ateşkes Antlaşması'ndan sonra yurdumuzun birçok bölgesi edildi.
- ❖ Mustafa Kemal Atatürk Türk çocuklarına bayram olarak armağan etti.
- ❖ Vatanın ve milletin kurtuluşunu, milletin azim ve gayreti ile olacağına inanan
19 Mayıs 1919'da Samsun'a çıktı.
- ❖ İşgal güçleri İstanbul'da Meclisi Mebusan'ı kapatınca Ankara'da açıldı.
- ❖ Atatürk Türk çocuklarına armağan etti.
- ❖ Milli egemenliğin bireye tanıdığı en önemli hak ve hakkıdır.
- ❖ Mustafa Kemal 19 Mayıs 1919'da çıktı.
- ❖ Atatürk Meclis'in açılış gününü Ulusal Egemenlik ve Bayramı ilan etti.
- ❖ Atatürk yaptığı bütün işlerde egemenliğin ait olduğu ilkesini göz önünde bulundurdu.
- ❖ aynı topraklar üzerinde yaşayan ve ortak değerler etrafında toplanan insan topluluğudur.
- ❖ Ülkemizde her yıl 29 Ekim günü Bayramı olarak kutlanmaktadır.
- ❖ Savaşı milli birlik ve beraberlik duygusu ile kazanılmıştır.
- ❖ tarihinde ülkenin her yerinden gelen milletvekillerinin Ankara'da toplanmasıyla TBMM açıldı.
- ❖ Atatürk, Kurtuluş Savaşı'nda Türk milletine etmiştir.

SOSYAL BİLGİLER

Etkin Vatandaşlık (Özgürlük Ve Bağımsızlık)

1	sorumluluk	Milletin egemenliğini kendi elinde tuttuğu ve bunu belirli süreler için seçtiği milletvekilleri aracılığıyla kullandığı yönetim biçimi.
2	iş birliği	Kölelik, tutsaklık, esirlik, özgür bağımsız olmama durumu.
3	bağımsızlık	Kişinin kendi davranışları veya kendi yetki alanına giren herhangi bir olayın sonuçlarını üstlenmesi.
4	sosyal katılım	Amaçları ve çıkarları bir olanların oluşturdukları çalışma ortaklığı.
5	karar verme	Davranışlarını, tutumunu, girişimlerini herhangi bir gücün etkisinde kalmadan düzenleyebilen özgür, hür.
6	hak	Bakıma muhtaç kişilerin, engellilerin hayatın içinde olması, toplumsal yaşama aktif olarak katılması.
7	egemenlik	Bir sorunu çözümlenmek, sonuçlandırmak.
8	cumhuriyet	Herhangi bir koşula sınırlamaya, zorlamaya kısıtlamaya bağlı olmaksızın düşünme ve davranma durumu
9	esaret	Bir toplumun ekonomik, siyasal yönlerden başka bir toplumun güdüm ve yönetimi altında bulunmaması.
10	özgürlük	Adaletin, hukukun gerektirdiği veya birine ayırdığı kazanç.

SOSYAL BİLGİLER

ÇOKTAN SEÇMELİ SORULAR:

1) Egemenlik kelimesinin eş anlamlısı aşağıdakilerden hangisidir ?

- A) Yurt B) Ulusal
C) Millet D) Hakimiyet

2) Hak egemenliğine dayanan yönetim şekli aşağıdakilerden hangisidir ?

- A) Mutlakiyet B) Egemenlik
C) Cumhuriyet D) Padişahlık

3) TBMM, ne zaman ve nerede açılmıştır ?

- A) 23 Nisan 1923 - Ankara
B) 23 Nisan 1920 - Ankara
C) 23 Nisan 1920 - İstanbul
D) 19 Mayıs 1919 - Samsun

- 4) I - Kendi kendini özgürce yönetebilme.
II - Dış işlerinde başka devletlere bağlı olmama
III - Bireylerin özgürlüklerini rahatça kullanabilme
IV - Toprak bütünlüğünün bulunmaması

Yukarıdakilerden hangisi bağımsız bir ülkenin özelliklerindedir ?

- A) I ve II
B) I ve IV
C) II ,II ve III
D) II ve III

5) Milli Egemenlik aşağıdaki hangi tarihi olay ile başlamıştır ?

- A) Atatürk'ün Samsun'a çıkması
B) TBMM'nin açılması
C) Milli Mücadelenin Başlaması
D) Cumhuriyetin İlanı

6) " Milli Egemenlik " kavramı ile aşağıdakilerden hangisi arasında ilişki kurulamaz?

- A) TBMM'nin açılışı
B) 30 Ağustos Zafer Bayramı
C) 15 Temmuz Demokrasi ve Milli Birlik Günü
D) Kurban Bayramı

7 - 23 Nisan 1920'de Türkiye Büyük Millet Meclisi'nin açılması ile aşağıdakilerden hangisi gerçekleşmemiştir?

- A) Egemenlik milletin oldu.
B) Ülkemizin yönetim biçimi cumhuriyet oldu.
C) Yeni bir devletin temelleri atıldı.
D) Bağımsızlığımız için bir aşama gerçekleşti.






SOSYAL BİLGİLER

8 - Aşağıdaki cümlelerde boş bırakılan yerlere uygun ifadeleri yerleştirin.

tarihimizi	tam bağımsız	çocuklara
demokrasiyi	bireysel özgürlüğü	TBMM

- * Atatürk, bağımsızlık ve milli egemenliğimizi geleceğimiz olan armağan etmiştir.
- * 23 Nisan 1920'de 'nin açılmasıyla Türk halkı kendi kararlarını vermeye başladı.
- * olan kişiler, kendi seçimlerini yapabilir, düşüncelerini özgürce ifade edebilir.
- * Atatürk'e göre ülkeler, başka ülkelere muhtaç olmayan ulusların ülkeleridir.
- * Bağımsızlığımızı korumak için iyi öğrenmeli ve korumalıyız.

9 - Aşağıdaki çocuklardan bireysel özgürlüğe sahip olanları işaretleyin.

	<input type="checkbox"/>		<input type="checkbox"/>		<input type="checkbox"/>
Ders çalışma, oyun oynama ve eğlenme zamanlarımı kendim planlarım.		Ailem, bütün kararları benim yerine alır.		Topluluk karşısında konuşarak düşüncelerimi özgürce ifade edebilirim.	
	<input type="checkbox"/>		<input type="checkbox"/>		
Ülkemde güvenlik sorunu olduğu için sokakta güvenle oynayamıyorum.		Sporcu olmak istiyorum bunun için spor akademisine gidiyorum.			

10 - Ülkemizin Cumhurbaşkanlık sistemine geçmeden önceki sistemi olan parlamenter sistemde hangi görevlerin, hangi organ tarafından yerine getirildiğini eşleştirin.

<u>a</u>	Yasama		Bağımsız mahkemeler
<u>b</u>	Yürütme		TBMM
<u>c</u>	Yargı		Cumhurbaşkanı ve bakanlar kurulu

ENGLISH

UNIT 9 (MY FRIENDS)

1. Observe the pictures, understand the words, and then write.



friendly



cheerful



curly hair



dark hair



wavy hair



fair hair



straight hair



energetic



funny



beard



rude



short



shy



nice / polite



tall / slim



freckles

ENGLISH

ÇOKTAN SEÇMELİ SORULAR:

1- Görseldeki ünlüyle ilgili aşağıdakilerden hangisi söylenemez?



- A) Her hair is brown and curly.
- B) She has long blonde hair.
- C) She has a lovely smile.
- D) She has wavy hair

2..“NEŞELİ” kelimesinin İngilizce karşılığı hangi seçenekte verilmiştir?

- A) funny
- B) cheerful
- C) polite
- D) helpful

3- Aşağıdakilerden hangisi diğerlerinden farklıdır?

- A) hardworking
- B) friendly
- C) tall
- D) polite

4-Aleyna Tilki is a famous singer. She brown eyes and long fair hair.

- A) is
- B) does
- C) has
- D) have

5-My father is tall and fat. hair is short.

- A) She
- B) He
- C) Her
- D) His

6-Görselle ilgili aşağıdakilerden hangisi söylenemez?



- A) She has long hair.
- B) She has black hair.
- C) She is slim.
- D) She is tall.

7-Sinem: What he like?

Berk: He is polite and cheerful

Boşluğa uygun gelen seçeneği işaretleyiniz.

- A) does
- B) do
- C) are
- D) is

8-“What does he look like?”

Yukarıdaki soruyu görselle göre cevaplayınız.



- A) He is tall and slim.
- B) He is short and slim.
- C) He is tall and heavy.
- D) He has long hair.

9-Görselle ilgili aşağıdakilerden hangisi doğrudur?








- A) He has blonde hair.
- B) His hair is black.
- C) He has blue eyes.
- D) He has a moustache.

10-She has wavy blonde

- A) hair
- B) eyes
- C) freckles
- D) legs

ENGLISH

Answer the questions according to the pictures. Resimlere göre sorulan cevaplayınız.

 Ayşe	 Ahmet	 Gül	 Zeki
 Ali	 Meltem	 Fuat	 Davut
 Elif	 Gökçe	 Zeynep	 Sema
 Onur	 Emir	 Selen	 Eren
 Yağmur	 Seda	 Çınar	

1. Who has long beard?

2. Who has dark hair?

3. Who is nice and polite?

4. Who is energetic?

5. Who is shy?

6. Who is tall and slim?

7. Who is rude?

8. Who is cheerful?

9. Who is funny?

10. Who has fair hair?

11. Who is friendly?

12. Who has freckles?

13. Who has straight hair?

14. Who has curly hair?

15. Who has wavy hair?

16. Who is short?


17. Who has blue eyes?

18. Who has green eyes?

ENGLISH

Who is who?

Read the descriptions and write the names in the boxes.



Hello! My name is Aysun. I've got dark, straight hair. I'm wearing a yellow T-shirt and a red dress. My shoes are light yellow and I'm wearing a hat. I'm six years old.

Hello! My name is Kerem. I'm Onur's best friend. I've got short brown hair. I'm wearing red shorts, a blue T-shirt and a pair of dark blue shoes. I'm ten years old.

Hello! My name is Onur. I'm Aydın's cousin. I have got a small nose. I've got dark curly hair. I'm wearing blue jeans, a green T-shirt and green shoes. I'm nine years old.

Hello! My name is Fatma. I've got long wavy brown hair. I'm wearing a red hairband with a dotted bow. I'm wearing a blue skirt and a red and blue striped T-shirt. I'm seven years old.

Hello! My name is Aycan. I've got fair hair and it's quite short. I'm wearing a light and dark blue striped T-shirt and blue shorts. I'm also wearing blue socks and dark blue plimsolls. I'm eleven years old.

Hello! My name is Aydın. I'm Onur's cousin. I've got short fair hair and freckles. I'm wearing blue jeans, a navy blue and white striped T-shirt and navy blue shoes. I'm eight years old.