

1. SINIF



III. Hafta Fasikül
27Nisan-1Mayıs Kazanımları

ABC

EVDE EĞİTİM E-FASİKÜL' DE

YERKÖY ARGE

Yerköy İlçe Milli Eğitim Müdürlüğü'nün
uzaktan eğitim sürecinde öğrencilerimiz
için hazırladığı destek hizmetidir.

<http://yerkoy.meb.gov.tr>





Yerköy İlçe Millî Eğitim Müdürlüğü

Serdal BORA

İlçe Millî Eğitim Müdür V.

H.Hüseyin ASAR

Şube Müdürü

M.Suat ATİLA

Koordinatör ve Grafik Tasarım

Hazırlayanlar

Adem İLENDEMLİ Atatürk İlkokulu
Alpaslan E. AKGÜN TOKİ Şht. Ali Salmanlı İlkokulu
Necip SİVRİ Şht. Kamil Çelikkaya İlkokulu
Ahmet Şevki ŞAHİN Saray Yibitaş Ortaokulu

HAYAT BİLGİSİ

ÜLKEMİZİN ÖZELLİKLERİ

Dünya üzerinde birçok ülke bulunur. Bu ülkelerin bir adı vardır.



Bizim ülkemizin adı da Türkiye Cumhuriyeti Devleti'dir .



HAYAT BİLGİSİ

Devletimizin Kurucusu Mustafa Kemal Atatürk'tür.



Özgürlüğünü kazanmış tüm ülkelerin bir bayrağı ve marşı vardır. Bayrak ve marş bağımsızlığı sembolüdür. Bayrağımız beyaz ay ve yıldızlı al bayraktır. Ülkemizin millî marşı İstiklâl Marşı'dır. Bayrağımız ve marşımız bağımsızlığımızın sembollerindedir. Ülkemizi sever, bayrağımıza ve İstiklâl Marşı'mıza saygı duyarız.



İSTİKLÂL MARŞI

KORKMA, SÖNMEZ BU ŞAFAKLARDA YÜZEN AL SANCAK
SÖNMEYEN YURDUMUN ÜSTÜNDE TÜTEN EN SON OCAK.
O BENİM MİLLETİMİN YILDIZIDIR PARLAYACAK!
O BENİMDİR, O BENİM MİLLETİMDİR ANCAK!

ÇATMA, KURBAN OLAYIM, ÇEHRENI EY NAZLI HİLAL!
KAHRAMAN İRKİMA BİR GÜL... NE BU ŞİDDET, BU CELÂL?
SANA OLMAZ DÖKÜLEN KANLARIMIZ SONRA HE LÂL.
HAKKİDİR, HAKK'A TAPAN MİLLETİMİN İSTİKLÂL.

BEN EZELDEN BERİDİR HÜR YAŞADIM, HÜR YAŞARIM,
HANGİ ÇILGIN BANA ZİNCİR VURACAKMIŞ? ŞAŞARIMI
KÜKREMİŞ SEL GİBYİM, BENDİMİ ÇİĞNER, AŞARIM.
YIRTARIM DAĞLARI, ENİNLERE SİĞMAM, TAŞARIM.

GARBİN ÂFÂKINI SARMIŞSA ÇELİK ZİRHİ DUVAR,
BENİM İMAN DOLU GÖĞSÜM GİBİ SERHADDİM VAR.
ULUSUN, KORKMA! NASIL BÖYLE BİR İMÂNI BOĞAR,
'MEDENİYET' DEDİĞİN TEK DİŞİ KALMIŞ CANAVAR?

ARKADAŞ, YURDUMA ALÇAKLARI DÜRATMA SAKIN,
SİPER ET GÖVDENİ, DURSUN BU HAYÂSIZCA AKIN.
DOĞACAKTIR SANA VA'DETTİĞİ GÜNLER HAKTIN,
KİM BİLİR, BELKİ YARIN, BELKİ YARINDAN DA YAKIN.

BASTIĞIN YERLERİ 'TOPRAK' DİYEREK GEÇME, TANI!
DÜŞÜN ALTINDAKİ BİNLERCE KEFENSİZ YATANI.
SEN ŞEHİD OĞLUSUN, İNCİTME, YAZIKTIR, ATANI.
VERME, DÜNYÂLARI ALSAN DA BU CENNET VATANI.

KİM BU CENNET VATANIN UĞRUNA OLMAZ KI FEDA?
ŞÜHEDÂ FIŞKIRACAK TOPRAĞI SIKSAN, ŞÜHEDÂ!
CÂNI, CÂNÂNI, BÜTÜN VARIMI ALSIN DA HUDÂ,
ETMESİN TEK VATANIMDAN BENİ DÜNYÂDA CUDÂ.

RÜHUMUN SENDEN İLÂHÎ, ŞUDUR ANCAK EMELİ:
DEĞMESİN MA' BEDİMİN GÖĞSÜNE NÂ-MAHREM ELİ!
BU EZANLAR-Kİ ŞEHÂDETLERİ DİNİN TEMELİ-
EBEDÎ YURDUMUN ÜSTÜNDE BENİM İNLEMELİ.

O ZAMAN VECD İLE BİN SECDE EDER -VARSA- TAŞIM.
HER CERİHAMDAN, İLÂHÎ, BOŞANIP KANLI YAŞIM,
FIŞKIRIR RÜH-İ MÜCERRED GİBİ YERDEN NA'ŞİM:
O ZAMAN YÜKSELEREK ARŞA DEĞER BELKİ BAŞIM!

DALGALAN SEN DE ŞAFAKLAR GİBİ EY ŞANLI HİLAL!
OL ŞUN ARTIK DÖKÜLEN KANLARIMIN HEPSİ HE LÂL.
EBEDİYYEN SANA YOK, İRKİMA YOK İZMİHLÂL,
HAKKİDİR, HÜR YAŞAMIŞ, BAYRAĞIMIN HÜRİYET,
HAKKİDİR, HAKK'A TAPAN MİLLETİMİN İSTİKLÂL!

MEHMET AKİF ERSOY

MEHMET AKİF ERSOY

KİM BİTİR, BEĞKİ LUKİB, BEĞKİ LUKİBİDİR Dİ LUKİB
DOĞUCUKLİK EYİN İYDELLİĞİ OĞİTEK HUKKİB
İBİB EL OĞADEMİ DİBİBİBİ BU HUKKİBİSİ YUKİB
YUKİBİDİR, İZMİHLÂL YİSİBİ YİBİ DOĞULUP İYKİB

İBİB KİDİR, HUKKİB İYİNİ MİTELİBİBİ İZİBİTİ
HUKKİDİR, HUKKİB İYİNİBİBİ BİYALFİBİBİBİBİ HUKKİBİBİ
EBEDİYYEN SANA YOK, İRKİMA YOK İZMİHLÂL
O ZAMAN YÜKSELEREK ARŞA DEĞER BELKİ BAŞIM!
DÜNYÂLARI ALSAN DA BU CENNET VATANI.

HAYAT BİLGİSİ

Başkent, devletin yönetildiği önemli kent demektir.

Ülkemizin başkenti **Ankara**'dır.

Türkiye Büyük Millet Meclisi Ankara'da bulunur.

Atatürk'ün mezarının bulunduğu Anıtkabir Ankara'da bulunur.



HAYAT BİLGİSİ

3. İstiklal Marşımızın yazarı kimdir?

- A. Yunus EMRE
- B. Mustafa Kemal ATATÜRK
- C. Mehmet Akif ERSOY

4. Milli Marşımızın adı nedir?

- A. Cumhuriyet Marşı
- B. Kurtuluş Marşı
- C. İstiklal Marşı

5. Bağımsızlık sembolümüz olmayan hangisidir?

- A. Okulumuz
- B. Bayrağımız
- C. İstiklal Marşımız

6. Bayrağımız neyin sembolüdür?

- A. Okulumuzun
- B. Bağımsızlığımızın
- C. Sınıfımızın

7. Ülkemizin başkenti neresidir?

- A. Ankara
- B. İstanbul
- C. İzmir

8. Aşağıdakilerden hangisi Türk bayrağıdır? İşaretleyiniz.



MUSTAFA KEMAL ATATÜRK

Mustafa Kemal Selanik'te doğdu. Annesinin adı Zübeyde Hanım, babasının adı Ali Rıza Efendi'dir. Mustafa Kemal'in kız kardeşi ise Makbule Hanım'dır. Çocukluğunda kardeşi Makbule Hanım ile dayısına tarla işlerinde yardımcı oldu

Mustafa Kemal çok çalışkan bir öğrenciydi. En çok matematik dersini sevdi. Gittiği okulları başarı ile tamamladı. Mustafa Kemal yurdumuzu düşmanlardan kurtardı. Yenilikler yaptı. Cumhuriyeti kurdu. Atatürk çocukları çok sevdi. Onlarla şakalaşır oyunlar oynardı.

Atatürk 10 Kasım'da İstanbul'da Dolmabahçe Sarayı'nda vefat etti. Mezarı Ankara'da bulunan Anıtkabir'dedir.



Soru 1: Mustafa Kemal nerede doğdu?

Soru 2: Annesinin ve babasının adı nedir?

Soru 3: Atatürk en çok hangi dersi seviyormuş?

Soru 4: Cumhuriyeti kuran kimdir?

TÜRKÇE

Aşağıda Atatürk hakkında öğrendiklerimiz var. Bu cümlelerdeki yazım yanlışlarını düzeltebilir misin?

❖ Atatürkün selanikte doğduğunu öğrendik.

.....

❖ Annesinin adı Zübeyde hanımdır.

.....

❖ Babasının adı ali rıza Bey'dir.

.....

❖ mustafa kemal en çok matematik dersini severdi.

.....


❖ Onu ziyarete anıtkabire gidebiliriz.

.....

TÜRKÇE

Atatürk

✿ Aşağıda Atatürk'le ilgili resimler verilmiştir. Resimlerdeki yer ve kişilerin adını altlarına yazınız.



TÜRKÇE

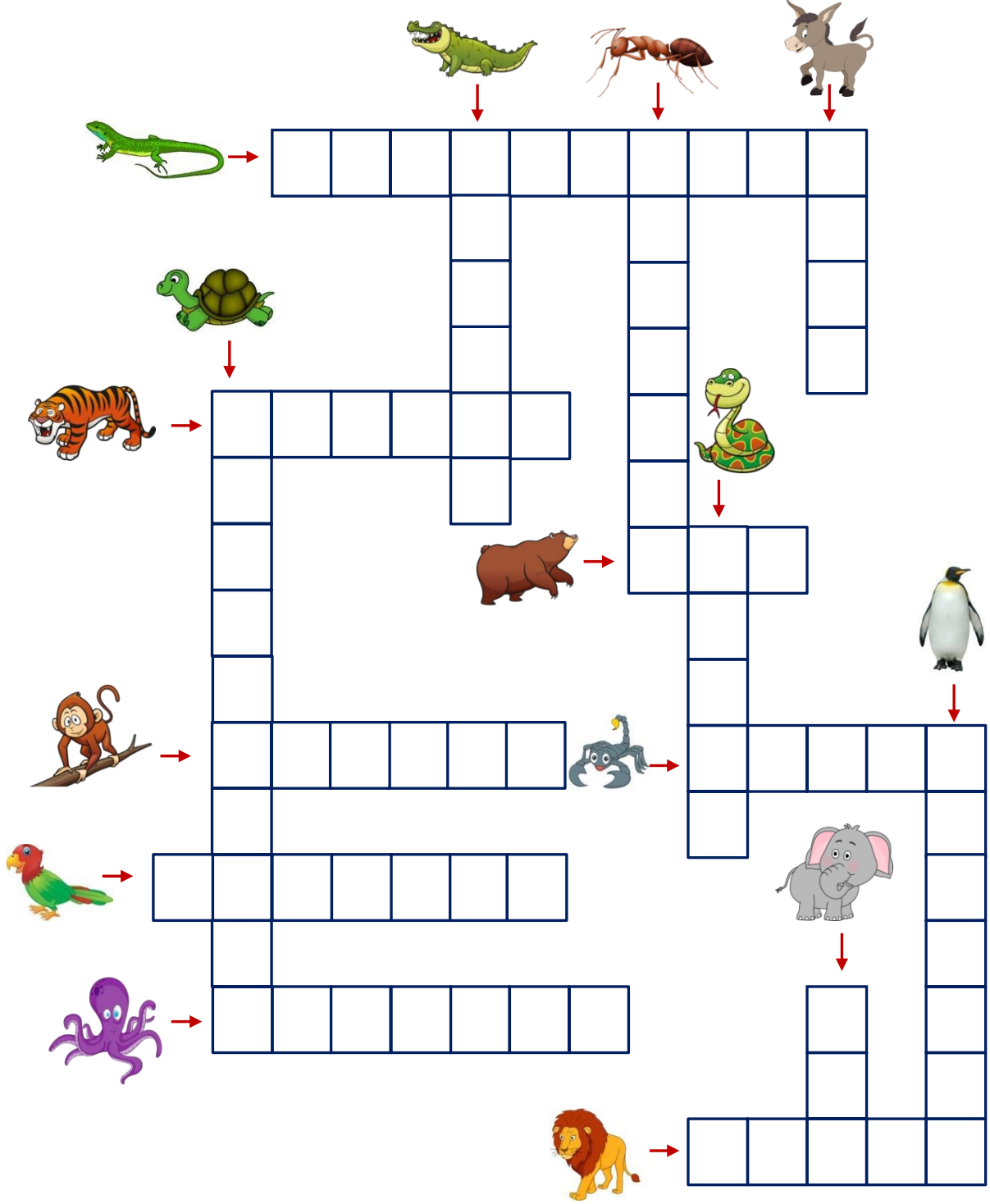
Heceleri sıralayarak anlamlı sözcükler oluşturup boşluklara yazınız.

KELİME TÜRETME ETKİNLİĞİ

1	tar	nah	a	
2	me	ra	ka	
3	ker	te	lek	
4	can	pat	lı	
5	rık	kı	hıç	
6	ci	la	vert	
7	gu	pen	en	
8	ta	cı	pos	
9	la	ve	i	
10	kır	tı	tı	
11	ke	le	li	
12	ya	Ma	lat	
13	Tür	ye	ki	
14	lem	ka	lik	
15	te	ke	ne	
16	be	şir	te	
17	ka	ri	ha	
18	ka	yet	şi	
19	dak	ı	şıl	
20	mel	mü	kem	
21	ğa	ça	po	
22	ma	kay	kam	
23	ri	şan	pe	
24	pa	ıs	nak	
25	ci	mek	mer	
26	li	teh	ke	

TÜRKÇE

Aşağıdaki bulmacayı görsel ipuçlarından yararlanarak çözelim.



TÜRKÇE

Aşağıdaki tekerleme ve sayışmamaları doğru ve yanlış okuyana kadar tekrar edelim.

<p>LEYLEK</p> <p>Leylek leylek lekirdek Hani bana çekirdek Çekirdeğin içi yok Koca kızın saçları yok</p>	<p>TIRTIL</p> <p>Tırtıl tırtıl Tırtır tırnak Tırtır tırmık Tırtır katır Çatalı köfteye batır Kıtır kıtır ısır</p>
<p>TEKİR</p> <p>Bir iki tombul Tekir Camdan bakar Başına takar Hop hop, altın top</p>	<p>KARGA</p> <p>Karga, karga “gak” dedi, “Çık şu dala bak” dedi, Karga seni tutarım, Kanadını yolarım.</p>
<p>OYUN</p> <p>Oooo..... İğne battı, Canımı yaktı, Tombul kuş Arabaya koş. Arabanın tekeri, İstanbul’un şekeri. Hop Hop altıntop, Bundan başka oyun yok.</p>	<p>HASAN</p> <p>Hasan Hasan Helvaya basan Kapıyı kıran Horozu kaçıran</p>
<p>Gül dibi bülbül dili gibi, Bülbül dili gül dibi gibi.</p>	<p>Doktor gelir tık tık, Elinde ibrik, Biz bu ilaçtan bıktık, Tıka tıka tık.</p>

MATEMATİK

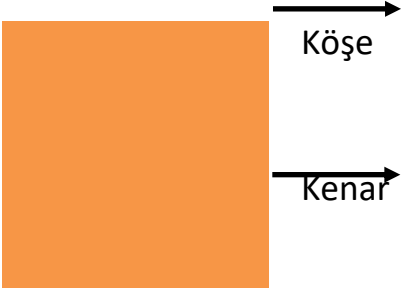
GEOMETRİK ŞEKİLLER

DİKDÖRTGEN



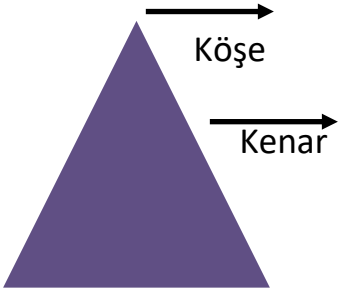
- ❖ 4 köşesi vardır.
- ❖ 4 kenarı vardır.
- ❖ Karşılıklı kenar uzunlukları birbirine eşittir.

KARE



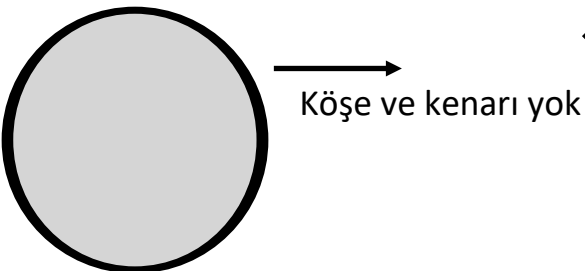
- ❖ 4 köşesi vardır.
- ❖ 4 kenarı vardır.
- ❖ Bütün kenar uzunlukları birbirine eşittir..

ÜÇGEN



- ❖ 3 köşesi vardır.
- ❖ 3 kenarı vardır.

ÇEMBER



- ❖ Köşe ve kenarı yoktur.

MATEMATİK

Aşağıdaki geometrik şekillerle ilgili yazılan ifadelerden doğru olanların başına "D" harfini, yanlış olanların başına "Y" harfini işaretleyiniz.



Yandaki şekil karedir

D

Y

Şeklin 3 kenarı vardır.

D

Y

Şeklin 4 köşesi vardır.


D

Y

Bütün kenarlar eşit uzunluktadır.

D

Y



Yandaki şekil dikdörtgendir.

D

Y

Karşılıklı kenarları eşit uzunluktadır.

D

Y

5 köşesi vardır.


D

Y

Hiç köşesi ve kenarı yoktur.

D

Y



Yandaki şekil çemberdir

D

Y

Şeklin 3 kenarı vardır.

D

Y

Şeklin 3 köşesi vardır.


D

Y

Hiç köşesi ve kenarı yoktur.

D

Y



Yandaki şekil çemberdir.

D

Y

Hiç kenarı yoktur.

D

Y

4 köşesi vardır.

D

Y

Hiç kenarı ve köşesi yoktur.


D

Y


MATEMATİK

ŞEKİLLER İLE İLGİLİ SUDOKU


Her satır ve sütunda şekillerden bir tane gelecek şekilde harflerin yerine gelecek şekilleri çizin



A




B



C





D




A

D


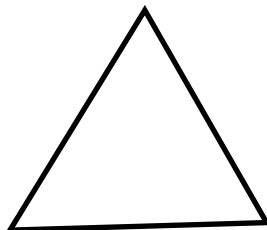



D

A










Geometrik şekilleri sevdiğiniz renklere boyayınız.



MATEMATİK

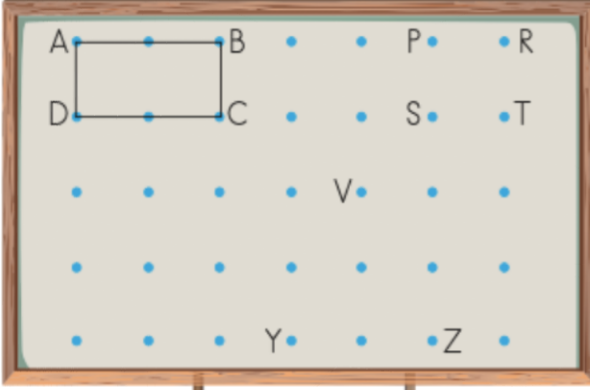
ŞEKİLLERİ RENKLERİNE BOYAYALIM



MATEMATİK

ETKİNLİK ZAMANI

Yandaki panoda bazı noktaların yanına harfler yazılmıştır. Bu noktaları kullanarak geometrik şekiller oluşturulacaktır. Buna göre aşağıdaki soruları yanıtlayınız.



✓ V, Y, Z noktalarını ip kullanarak birleştirirsek hangi şekil oluşur?

✓ P, R, T, S noktalarını ip kullanarak birleştirirsek hangi şekil oluşur?

✓ C, S, V noktalarını ip kullanarak birleştirirsek hangi şekil oluşturulur?

✓ B, P, S, C noktalarını ip kullanarak birleştirirsek hangi şekil oluşur?

ETKİNLİK ZAMANI

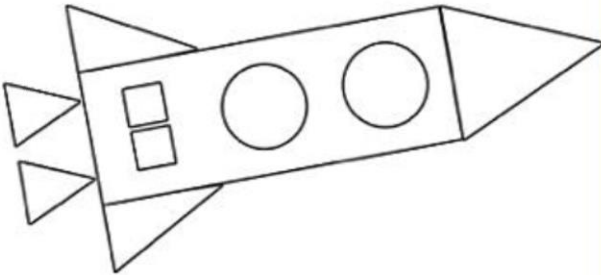
Aşağıdaki görseli belirtilen renklerle dikkatlice boyayınız.

Üçgen → Yeşil

Kare → Turuncu

Çember → Lacivert

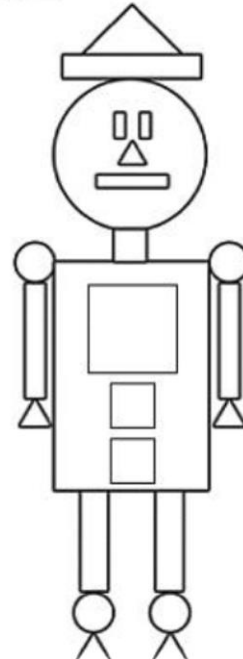
Dikdörtgen → Sarı



..... tane dikdörtgen
..... tane kare
..... tane çember
..... tane üçgen



Aşağıdaki görseli belirtilen renklerle dikkatlice boyayınız. Hangi şekilden kaçar tane olduğunu yazınız.



Kare → Mavi

Dikdörtgen → Sarı


Çember → Kırmızı

Kare → Pembe

..... tane dikdörtgen
..... tane çember
..... tane üçgen
..... tane kare

MATEMATİK

Aşağıdaki şekilleri inceleyiniz. Görsellerde hangi geometrik şekillerden kaçar tane olduğunu yazalım.



.....

.....

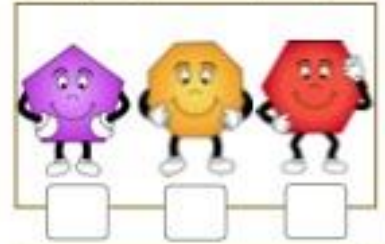
.....

.....

MATEMATİK

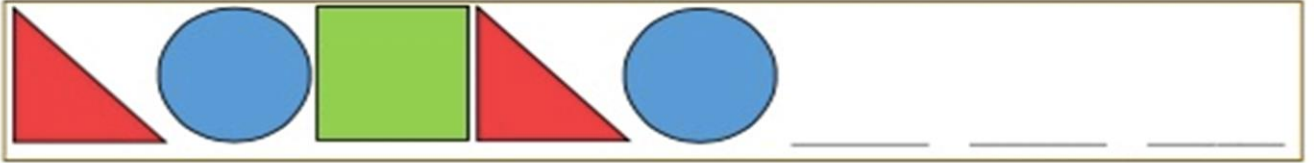
ÖRÜNTÜYÜ TAMAMLAYALIM.

1. Aşağıdaki örüntülerde eksik bırakılan şekli bulup işaretleyelim.




MATEMATİK

2. Aşağıdaki örüntüleri devam ettirelim.



3. Geometrik şekilleri kullanarak aşağıdaki örüntülerin kuralı ile yeni örüntüler oluşturalım.



4. Yandaki şekilleri kullanarak bir örüntü oluşturalım. 




MATEMATİK

GEOMETRİK ŞEKİLLER DEĞERLENDİRME

A. Aşağıdaki şekilleri ait oldukları şekillerle eşleştirelim.

- 4 köşem ve 4 kenarım vardır.
- Karşılıklı kenarlarım eşittir.




- Köşem ve kenarım yoktur.



- 4 köşem ve 4 kenarım vardır.
- Bütün kenar uzunluklarım eşittir.


- 3 kenarım ve üç köşem vardır.

B. Aşağıdaki şekillerden kenarı ve köşesi olmayanları maviye, üç kenarı olanları sarıya, dörtkenarı olanları kırmızıya boyayalım.




MATEMATİK


C. Aşağıdaki noktaları birleştirerek kareler oluşturalım.



D. Aşağıdaki noktaları birleştirerek üçgen oluşturalım.



E. Aşağıdaki noktaları birleştirerek dikdörtgen oluşturalım.



TEST

1. Aşağıdaki şekillerden hangisinin üç kenarı ve üç köşesi vardır?

A.



B.




C.



2. Aşağıdaki şekillerden hangisinin kenarı ve köşesi yoktur?

A.



B.



C.



3. Üç noktayı birleştirerek oluşturabileceğimiz şekil aşağıdakilerden hangisi olabilir?

A.



B.



C.



4.



.....

Örüntünün Kuralı:.....

5.



.....

Örüntünün Kuralı:.....

MATEMATİK

6.



Örüntünün Kuralı:.....

7.



Yukarıdaki örüntüde “?” olan yere hangi şekil gelmelidir?

A.



B.



C.



8.



Yukarıdaki örüntü hangi renk kare ile devam etmelidir?

A.



B.



C.



9.



Yukarıdaki örüntüde “?” olan yere hangi şekil gelmelidir?

A.



B.



C.

