

2. SINIF



III. Hafta Fasikül  
27Nisan-1Mayıs Kazanımları

# EVDE EĞİTİM E-FASİKÜL' DE

## YERKÖY ARGE

Yerköy İlçe Milli Eğitim Müdürlüğünün  
uzaktan eğitim sürecinde öğrencilerimiz  
için hazırladığı destek hizmetidir.

<http://yerkoy.meb.gov.tr>





## Yerköy İlçe Millî Eğitim Müdürlüğü

**Serdal BORA**

İlçe Millî Eğitim Müdür V.

**H.Hüseyin ASAR**

Şube Müdürü

**M.Suat ATİLA**

Koordinatör ve Grafik Tasarım

### Hazırlayanlar

Özlem KÜÇÜK	Şht. Kamil Çelikkaya İlkokulu
Evşen SAYICI	TOKİ Şht. Ali Salmanlı İlkokulu
Ahmet YARICI	Reşat Akyön İlkokulu
Ömer YILMAZ	Atatürk İlkokulu
Hanife KARACA	Mehmet Akif Ersoy Ortaokulu



# TÜRKÇE



## TOP SESİ

Yemekler hazırlanıyordu. Güzel kokular mutfağı sarmıştı. Annem çorba, karnıyarık, pilav, cacık, börek, tatlı yapmıştı. Küçük olduğum için bunlara çok seviniyor bir yandan da sebep arıyordum. Ama bulamamıştım. Koştum dedeme hadi yiyelim dedim. O da beklememiz gerektiğini akşam namazından önce bir top sesi duyacağımızı sonra ezan okununca yemek yiyeceğimizi söyledi. Giderek merakım artıyordu. Babam geldi. Herkes masada toplandı. Aynı dedemin dediği gibi oldu. Biz yemeğimizi doyasıya ve çok mutlu bir şekilde yedik. Bir sonraki top sesine kadar bende hiçbir şey yemeyecektim.

Evşen SAYICI

# TÜRKÇE

## METİN İLE İLGİLİ SORULARI CEVAPLAYINIZ.

- 1- Annem neler hazırladı?
- 2- Dedem ne zaman yiyeceğimizi söyledi?
- 3- Kim gelince masada toplanıldı?
- 4- Neye söz verdi?

## BU METNE UYGUN RESİM YAPALIM MI?



## MANİSİZ OLUR MU?

Denizden çek oltanı  
Duvara as baltanı  
Hoş geldi sefa geldi.  
On bir ayın Sultanı.



# TÜRKÇE

## BAŞLIK YAZMA

Verilen hikâyeye uygun başlık yazalım ve hikâyeyi resimleyelim mi?

Bir gün Ali ve Esmâ okullarının arkasında ki boş araziye giderler. Arazi de kocaman bir kulübeye benzeyen bir makine bulurlar. Bu makineyi kurcalarken kocaman bir düğmeye basarlar. Hoop! Kendilerini 100 yıl sonrasında bulurlar.



# TÜRKÇE

**Yazım yanlış olan kelimeleri bulalım mı?**

**( Yanlış yazılan kelimeleri daire içine alalım. Doğru cümleyi altına yazalım. )**

Sana çukulata vereyim mi?

.....

Sınava yalnız beş kişi katılacakmış.

.....

Taksi şoferi bizim durakta beklemedi.

.....

Çayın yanında püskevit yemeyi severim.

.....

## **BİLGİ KUTUM**

**Büyük harflerin kullanıldığı yerler;**

- 1- Cümle büyük harfle başlar.
- 2- Dizeler(şiiirdeki satırlar) büyük harfle başlar.
- 3- Özel adlar büyük harfle başlar.
- 4- Yer adları büyük harfle başlar.
- 5- Bayram adlarının her sözcüğü büyük harfle başlar.

# TÜRKÇE

**Büyük harflerin yazımlarını inceleyin.**

**Doğru yazılanlara ( D ) yanlış yazılanlara ( Y ) yazalım.**

- ( ) Ali okula gitti mi?  
( ) Sen ankarayı gördün mü?  
( ) Annesi ile Ayşe Hanımın evine gittiler.  
( ) zafer bayramı'nı her yıl kutluyoruz.  
( ) Ayşe'ler sancaklı mahallesinde oturuyor.  
( ) Annem dün izmirden geldi.

## **SÖZCÜK ÇALIŞMASI**

Aşağıdaki kelimeleri anlamlarıyla eşleştirelim mi?

1	bağlılık		ifade etmek
2	vatansever		yurdunu seven
3	oruç		yeme içmeden kendini bir süre alıkoyma
4	dile getirmek		oruç açma vakti
5	iftar		birine sevgi duyma
6	mütevazı		yağış şekli
7	sadaka		güneş doğmadan yenen yemek
8	sabırlı		yoksullara yardım etmek
9	sahur		sinirlenmeyen
10	yağmur		alçak gönüllü

# TÜRKÇE

## **BİLGİ KUTUM**

**Soru Cümlesi:** cümlenin sonuna -mı, -mi, -mu, -mü ekleri getirilerek yapılır ve kelimedenden ayrı yazılır.

### **Soru cümleleri oluşturalım.**

Sınavlar başlayacak.

.....?

Yeni bisiklet aldım.

.....?

İlaç içtim.

.....?

Eve girdim.

.....?



# TÜRKÇE

## **BİLGİ KUTUM**

### Sayıların Yazılışı:

- Sayılar bir metinde yazıyla yazılır.
- Birden fazla kelimedenden oluşan sayılar ayrı yazılır.

Örnek: Bugün kırk sekiz sayfa kitap okudum.

### Tarihlerin Yazılışı:

- Tarihler rakamla yazılırsa ay, gün, yıl rakamları arasına nokta(.) ya da eğik çizgi (/) konulur.

Örnek: 18.09. 1982 tarihinde doğdum. veya 18/09/1982 tarihinde doğdum.

- Ay ve gün adları yanlarında rakam varsa büyük harfle yazılır.

Örnek: Zafer Bayramı'nın tarihi 30 Ağustos 1922

### **Etkinlik Zamanı: Doğrularını boşluklara yazalım.**

- Tunahan on beş yaşındadır.  
.....
- Serdar 6 Ağustos 1982 de doğdu.  
.....
- Ali on beş cevizi bir anda ağzına attı.  
.....
- Aslı 30.Ekim.2012 tarihinde doğmuş.  
.....
- Ayşe 5 tane kalem aldı.  
.....
- Sınavlar 12 haziran Cuma günü bitecek.  
.....
- 12/Aralık/1910 tarihinde Ankara da doğmuş.  
.....
- Sinemaya Cuma günü gidebiliriz.  
.....

# TÜRKÇE

**Çok sevdiğimiz arkadaşımıza hadi sevgi mesajı yazalım mı?**

**(Süslemeyi unutmayın kuzucuklar)**

Ayşe duyduğu sesle birden irkildi. Zil çalmıştı. Arkadaşlarıyla birlikte okul bahçesine doğru koşuştular. Birden düştü. Gözlüğü kırılmış, dizide kanamıştı. Ağlayarak nöbetçi öğretmenin yanına gitti. Öğretmen hemen Ayşe'ye pansuman yapıp, onu sakinleştirdi.

**Metnin kahramanı kimdir?**

.....

**Olay nerede geçmektedir?**

.....

**Sonunda ne oldu?**

.....

## **HECELERİNE AYIRALIM MI?**

**Makarna** : .....

**Hasret** : .....

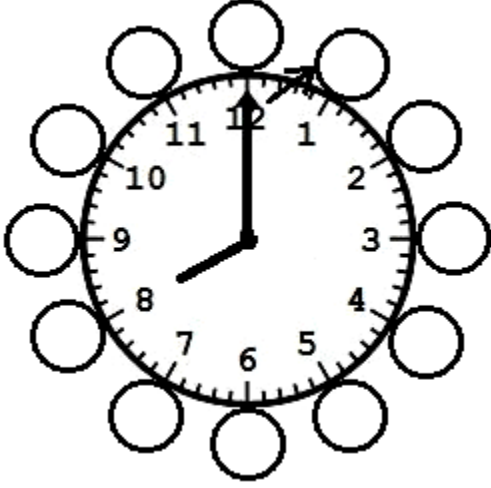
**Kitaplık** : .....

**Başarılı** : .....

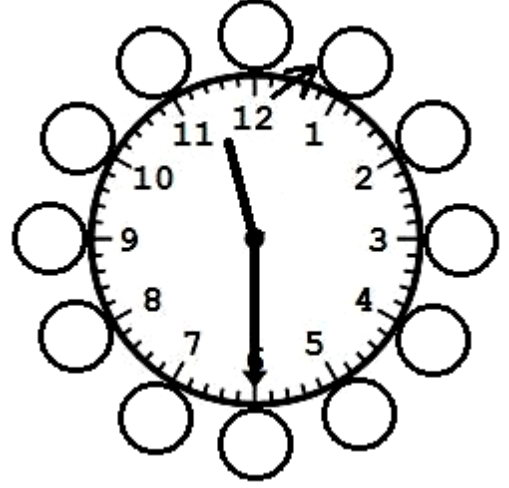
# MATEMATİK

## ALİŞTIRMALAR

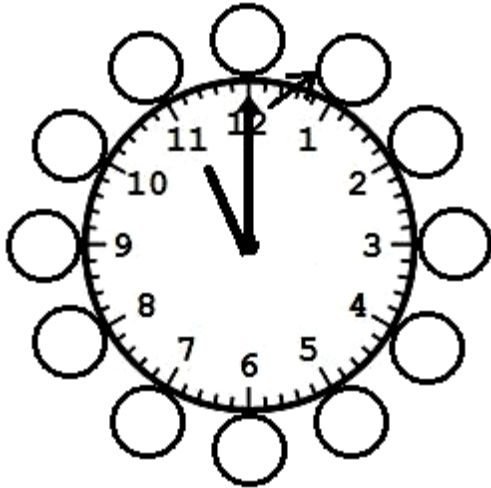
Aşağıdaki analog saatlerin öğleden önce ve öğleden sonra kaç olduklarını dijital saatlere yazalım.



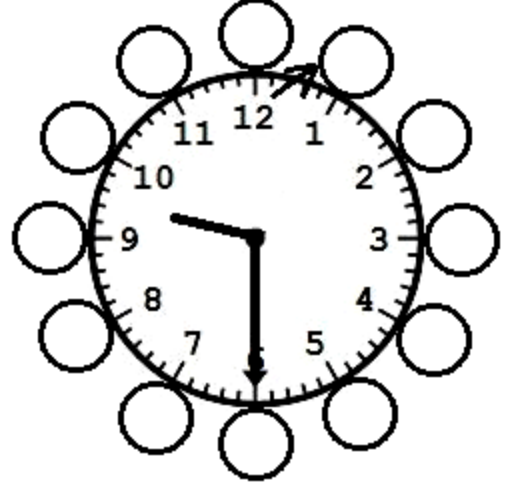
Öğleden önce:  
Öğleden sonra:



Öğleden önce:  
Öğleden sonra:



Öğleden önce:  
Öğleden sonra:



Öğleden önce:  
Öğleden sonra:

## EŞLEŞTİRELİM

Tabloda boş bırakılan yerleri uygun saatlerle dolduralım.

Öğleden önce	Öğleden sonra
03:30	15:30
10:15	
	17:00
01:45	
	24:00
09:00	
	19:30
22:15	

Öğleden sonra kaç olduğu verilen saatin öğleden önce hangi saati ifade ettiğini bulmak için; çıkarma işlemi yaparız. Verilen saatten 12'yi çıkarırız. Dakika ise aynen kalır.


**Örnek:** Saat öğleden sonra 20:00

$$20-12=8$$

Saat öğleden önce:08:00'dir.

**Örnek:** Saat öğleden sonra 22.30

$$22-12=10$$



Aşağıdaki saatlerin okunuşlarını yanlarına yazınız.

11:15

18:30

05:00

12:45

09:30

# MATEMATİK

## GÜN,HAFTA,AY,YIL,MEVSİM

\*Bir gün 24 saattir. Bir gün Dünya'nın kendi etrafında tam tur dönmesiyle oluşur.

\*Bir hafta 7 gündür. Bu günler sırasıyla; pazartesi, salı, çarşamba, perşembe, cuma, cumartesi ve pazardır.

\*1 yıl 12 aydır. Ocak, şubat, mart, nisan, mayıs, haziran, temmuz, ağustos, eylül, ekim, kasım ve aralıktır.

\*1 ay 4 haftadır.

\*1 yıl 365 gün 6 saattir.

\*1 yıl 52 haftadır.

\*1 yıl 4 mevsimdir. Mevsimler : İlkbahar, yaz, sonbahar, kış mevsimleridir.

\*1 mevsim 3 aydır.

\*Kış mevsiminin ayları: Ocak, Şubat, Mart ayları

\*İlkbahar mevsiminin ayları: Mart, Nisan, Mayıs aylarıdır.

\*Yaz mevsiminin ayları: Haziran, Temmuz, Ağustos aylarıdır.

\* Sonbahar mevsiminin ayları: Eylül, Ekim, Kasım aylarıdır.

\*Yılın ilk ayı ocak ayıdır.

\*Yılın son ayı aralık ayıdır.

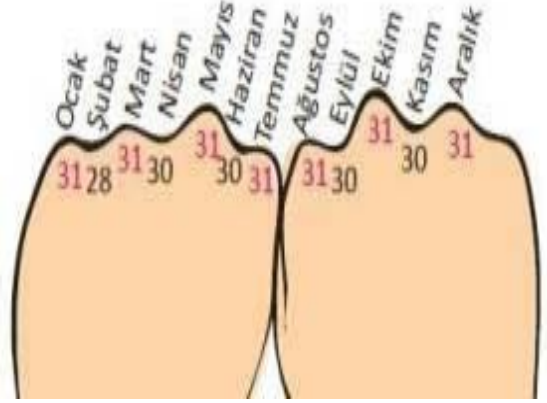
\*1 ay 30 ya da 31 gündür. Şubat ayı ise 28 gündür. Ancak şubat ayı 4yilda bir 29 gündür. Bu yıla **artık yıl** denir. 2020 yılı artık yıldır. 1yıl 365 gün 6 saati hatırlarsanız zekâ küplerim. Bu 6 saatler 4 yılda birleşerek  $6+6+6+6=24$  saati oluştururlar. 24saatte bir gün olduğu için 4yilda bir şubat ayı 29 gün olur.



# MATEMATİK


## HANGİ AY KAÇ GÜNDÜR?

Haydi, o güzel ellerini yumruk yap ve birleştir. Aynı resimdeki gibi hangi ayın kaç gün olduğunu gör. Ellerindeki tümsekler **31** günü; çukurlar ise **30** günü temsil eder. Sırayla ayları saymayı da unutma. Şubat ayı ise 28 gündür.



## TAKVİM NEDİR?

Bize hangi yılda, hangi ayda, hangi günde olduğumuzu gösteren zaman çizelgesidir.



Yandaki takvim bize 2019 yılı ekim ayını göstermektedir.

Takvime bakarak hangi ayda ve yılda olduğumuzu öğrenebiliriz. Ekim ayının kaç gün olduğunu görebiliriz.

Yandaki takvime göre aşağıdaki ifadelerden doğru olanların başına(D), yanlış olanların başına(Y) koyunuz.

- ( ) Ekim ayı 31 gündür.
- ( ) Takvim 2020 yılını göstermektedir.
- ( ) Ekim ayının ilk günü salıdır.
- ( ) 29 Ekim Cumhuriyet Bayramı pazartesi günü kutlanmıştır.
- ( ) Kardeşim 11 Ekim'de doğmuştur. Kardeşimin doğum günü cuma günüdür.
- ( ) Ekim ayının son günü perşembe günüdür.

# MATEMATİK

## BOŞLUKLARI DOLDURALIM

Aşağıdaki kelimelerden cümlelere uygun olanlarla boşlukları dolduralım.

**kış, yaz, 24,52,29, ocak, ilkbahar, 7, 4, üç yüz altmış beş, pazartesi, pazar, 3, sonbahar, 12, artık**

1. Bir gün .....saattir.
2. Bir yıl .....gündür.
3. Bir yılda .....mevsim vardır.
4. Yılın birinci ayı .....ayıdır.
5. Şubat ayı 4 yılda bir ..... gün olur.
6. Şubat ayınının 29 gün olduğu yıllara ..... denir.
7. Aralık, ocak ve şubat ayları .....mevsiminin aylarıdır.
8. Haziran, temmuz ve ağustos ayları .....mevsiminin aylarıdır.
9. Eylül, ekim ve kasım ayları .....mevsiminin aylarıdır.
10. Mart, nisan ve mayıs ayları .....mevsiminin aylarıdır.
11. Haftanın ilk günü .....günüdür.
12. Haftanın son günü .....günüdür.
13. Bir mevsimde .....ay vardır.
14. Bir yılda .....ay vardır.
15. Bir hafta .....gündür.
16. Bir yıl .....haftadır.



# MATEMATİK

## ALİŞTIRMALAR

Aşağıda verilen tabloları ipucuna göre tamamlayalım.

DÜN	BUGÜN	YARIN
	salı	
perşembe		
		pazartesi
	pazar	
çarşamba		
	cuma	

Aşağıda verilen aylardan bir önce ve bir sonra gelen ayları yazınız.

Önceki ay	Bu ay	Sonraki ay
	Nisan	
	Ocak	
	Temmuz	
	Ekim	
	Mayıs	
	Şubat	

Aşağıdaki tabloda mevsimlere ait olan ayları tamamlayınız.

İlkbahar	Yaz	Sonbahar	Kış
Mart			
	Temmuz		Ocak
		Kasım	

Aşağıda bir yılın ayları karışık olarak verilmiştir. İlk önce hangi ay olduğunu ,sonra da ayın kaç gün olduğunu yazalım.


10.AY	12.AY	1.AY	4.AY	6.AY
EKİM	.....	.....	.....	.....
31 gün	.....	.....	.....	.....

Merhaba çocuklar.Size yeni bir bilgi daha.Bir yıl yani 365 gün 6 saat Dünya'nın Güneş etrafında bir tur dönmesiyle oluşur.





# MATEMATİK



Saat

60 dakikadır.

Gün

24 saattir.

Hafta

7 gündür.

Ay

30 gündür.

Ay

4 haftadır.

Yıl

365 gün  
6saattir.

Yıl

12 aydır.

Yıl

4 mevsimdir.

Yıl

52 haftadır.

# MATEMATİK



## NİSAN 2020

PAZARTESİ	SALI	ÇARŞAMBA	PERŞEMBE	CUMA	CUMARTESİ	PAZAR
		1	2	3	<u>4</u>	<u>5</u>
6	7	8	9	10	<u>11</u>	<u>12</u>
13	14	15	16	17	<u>18</u>	<u>19</u>
20	21	22	<u>23</u>	24	<u>25</u>	<u>26</u>
27	28	29	30			

Aşağıdaki soruları yukarıdaki takvime göre cevaplayınız. Resmi boyamayı da ihmal etmeyin.

\*Nisan ayı kaç gündür?.....

\*23 Nisan Ulusal Egemenlik ve Çocuk Bayramı hangi güne denk gelmektedir?.....

\*Nisan ayının son günü hangi gündür?.....

\*Nisan ayının 1.günü hangi güne denk gelmektedir?.....

\*Nisan ayında kaç tane Salı günü vardır?.....

\*Doğum günü 15 Nisan olan Kutlay bu yıl doğum gününü hangi gün kutlayacaktır?.....

\*Mayıs ayının ilk günü hangi güne denk gelmektedir?

# MATEMATİK

## PROBLEM ZAMANI

1)Ela bir haftada 2 kitap okumaktadır. Ela bir ayda kaç kitap okur?

A)10 B)8 C)12

2) Belinay 6 saatte bir şurup içmektedir. Belinay bir günde kaç kere şurup içer?

A)5 B)3 C)4

3)Dört hafta 8 gün kaç gün etmektedir?

A)36 B)34 C)32

4)Her gün 10 litre süt veren bir inek bir ayda kaç litre süt verir?(1ay=30 gün)

A)330 B)300 C)320

5)Zeynep 4 saat süren bir sinemaya gitmiştir. Sinema 20.00'da bitmiştir. Buna göre sinema kaçta başlamıştır?

A)24:00 B)18:00 C)16:00

6)Yarın günlerden pazartesi ise; dün günlerden neydi?

A)Pazar B)Cumartesi C)Salı

6)Saat 09:00'da yola çıkan kamyon 8 saat sonra gideceği yere ulaşmıştır. Buna göre kamyon saat kaçta gideceği yere ulaşmıştır?

A)15:00 B)17:00 C)19:00

7)Her ay iş için 5 saat yolculuk yapan Evren bir yılda kaç saat yolculuk yapar?

A)40 B)50 C)60

8)Saat 14:45 iken yelkovan kaç gösterir?

A)9 B)6 C)3

9) Ebrar, saat 22:00'da uyuyor ve saat 08:00'da uyanıyor. Buna göre Ebrar günde kaç saat uyuyor?

A)6 B)8 C)10

10)

19:00

Yandaki saatin 3 saat öncesi ve 2 saat sonrası hangi şıkta doğru verilmiştir?

A)

15:00

21:00

B)

16:00

20:00

C)

16:00

21:00

# HAYAT BİLGİSİ


## DİNİ GÜNLERİMİZ VE BAYRAMLARIMIZ

Dinî bayramlar; insanların yardımlaşma, dayanışma, yakınlaşma içinde oldukları günlerdir.



Aile büyüklerine, akrabalara, hastalara, komşulara yapılan ziyaretler çok önemlidir. Bu ziyaretlerde misafirlere çeşitli yiyecekler, içecekler ikram edilir. Çocuklara harçlık, hediye verilir. Bunlar, bayram gelenekleridir ve çok güzel alışkanlıklardır.

Dini bayramlarımız iki tanedir. Ramazan (Şeker) Bayramı ve Kurban Bayramı, kutladığımız dinî bayramlardır.



# HAYAT BİLGİSİ

Ramazan ayı, oruç ayıdır ve bu ayda oruç tutulur. Ramazan ayının sonunda Ramazan (Şeker) Bayramı kutlanır. Ramazan ayında ihtiyacı olanlara, yoksullara yardım edilir. Böylelikle onların da güzel bir bayram geçirmeleri sağlanır.



Kurban Bayramı'nda maddi durumu iyi olanlar ibadet amacıyla koyun, keçi, deve veya sığır gibi hayvanlar keserler. Kesilen kurbanların etleri akrabalarla, komşularla ve ihtiyacı olanlarla paylaşılır. Yardım kurumlarına kurbanlıklar bağışlanır. Kutladığımız dinî günler de vardır. Mevlit, Regaib, Miraç, Berat ve Kadir Gecesi dinî günlerdendir.



# HAYAT BİLGİSİ

**Aşağıda verilen çoktan seçmeli soruları cevaplayınız.**

- Dini bayramlarda akrabalarımızı ziyaret ederiz.
- Dini bayramlarda sınıflarımıza bayraklar asarız.
- Dini bayramlarda büyüklerimizin ellerini öperiz.
- Miraç kandili ve Kadir gecesi dini bayramlarımızdır.

1-Yukarıda dini bayramlar ile ilgili verilen ifadelerden kaç tanesi doğrudur ?

A- 2

B- 3

C- 4

Çok heyecanlıyım .Yarın ..... bayramı.Bayramlıklarımı giyip arkadaşlarımla şeker toplayacağım.Çünkü bu bayramın diğer adı şeker bayramıdır.

2-Yukarıdaki ifadeye göre noktalı yere hangi bayram gelmelidir ?

A- Kurban Bayramı B- Cumhuriyet Bayramı C- Ramazan Bayramı

3-



Aşağıdaki seçeneklerden hangisi dini bayramlarda yapılmaz ?

- A- Misafirlere ikram etmek için şeker, çikolata alınır.
- B- Kesilen kurban eti yoksullarla paylaşılır.
- C- Şiirler okuyup şarkılar söyleriz.

# HAYAT BİLGİSİ



- Ailenizle dinî günleri nasıl kutlarsınız? Anlatınız.

• Aşağıdaki anlatımlardan doğru olanların başına "D", yanlış olanların başına "Y" yazınız.

(...) Dinî bayramlarımız, Ramazan Bayramı ve Kurban Bayramı'dır.

(...) Kandiller, dinî günlerdir.

(...) Kurban Bayramı'nın diğer adı "Şeker Bayramı"dır.

(...) Dinî bayramlarda misafirlerimize yiyecekler ikram ederiz.

(...) Çocuklara harçlık vermek bayram geleneklerimizdendir.

(...) Dinî bayramlardan önce evlerimizi özenle temizleriz.

(...) Dinî bayramlarda yardımlaşma ve paylaşma artar.

(...) Dinî bayramlar yakınlaşma ve dayanışma günleridir.

(...) Kurban Bayramı'nda kurbanlık hayvanların etleri ihtiyacı olanlarla paylaşılır.

(...) Ramazan Bayramı'nda tatile gitmek gerekir.

**Aşağıda verilen boşluk doldurmaları uygun kelimelerle tamamlayınız.**

Ramazan

Dini Bayramlar

Dini Günler

Oruç

Kurban

1-..... insanların yardımlaşma, dayanışma, yakınlaşma içinde oldukları günlerdir.

2-Dini bayramlarımız Kurban ve ..... bayramıdır.

3- Koyun, keçi, deve veya sığır..... bayramında kesilir.

4-Ramazan ayında .....tutarız.

5- Mevlit, Regaib, Miraç, Berat ve Kadir Gecesi ..... dir.

# HAYAT BİLGİSİ

## DİNİ GÜNLERİMİZ VE BAYRAMLARIMIZ

1- Aşağıda verilen görsellerden dini bayramlarla ilgili olanları işaretleyiniz.





# HAYAT BİLGİSİ

2- Aşağıdaki cümlelerde boş bırakılan yerleri uygun sözcüklerle doldurunuz.

Kadir Gecesi

Kurban Bayramında

ikramlarda

ziyaret

dini

harçlık

- \* Ramazan Bayramı ve kurban bayramı olmak üzere iki tane ..... bayramımız vardır.
- \* Dini bayramlarda akrabalar komşular ..... edilir.
- \* Ramazan ayının yirmi yedinci gecesi ..... olarak anılır.
- \* ..... koyun, keçi veya büyükbaş hayvanlar alınır. Bunların eti komşu, akrabalara ve ihtiyaç sahibi olanlara dağıtılır.
- \* Bayramlarda büyüklerin eli öpülür..... alınır.
- \* Bayramlaşmaya gelen misafirlere çeşitli ..... bulunulur.

3- Aşağıdakilerden hangisi dini bayramlarımızdan biri değildir?

A) Ulusal Egemenlik ve Çocuk Bayramı.

B) Ramazan Bayramı

C) Kurban Bayramı

4- Aşağıdaki bayramlardan hangisinde koyun, keçi veya büyükbaş hayvanlar alınır?

A) Zafer Bayramı

B) Kurban Bayramı

C) Ramazan Bayramı

# HAYAT BİLGİSİ

## YAKIN ÇEVREMİZDE ÜRETİM

İnsanların geçimini sağlamak için yaptığı işlere üretim denir.

- Çevremizde yapılan üretim faaliyetleriyle ilgili olarak şunlar söylenebilir:
  - **Tarım:** Toprağın ekilmesinden elde edilen ürünlerin toplanmasına kadar yapılan işlere **tarım** denir. **Çiftçilik**, tarımla uğraşan mesleğe verilen addır. Soframıza gelen her bitkisel besin, çiftçilik mesleğinin eseridir. Ülkemiz tarım ülkesidir ve pek çok bitki çeşidi yetiştirilebilmektedir.
  - **Hayvancılık:** Tavuk, hindi, ördek, koyun, keçi, tavşan, balık, inek, deve kuşu gibi hayvanları besleyerek deri, et, yumurta, süt ve süt ürünleri üretimine **hayvancılık** denir. Soframıza gelen tüm hayvansal ürünler veteriner, kasap, yem satıcılığı gibi mesleklerin eseridir. Ülkemizde hayvancılık yaygındır. Ülkemiz iklim ve bitki çeşitliliği sebebiyle çok çeşitli hayvanın yetiştirilmesine uygundur.
  - **Sanayi:** Tarım ve hayvan ürünlerinin yanında yer altından ve yer üstünden çıkan ürünlerin işlenerek kullanılabilir hâle gelmesine **sanayi** denir. Örneğin pamuk üretimi bir tarım faaliyetidir. Pamuğun işlenerek kıyafet yapılması bir sanayi faaliyettir. Demir, bakır gibi pek çok madenimizin işlenerek araba, buzdolabı, bilgisayar yapımında bir sanayi faaliyetidir. Makine mühendisliği, elektrik mühendisliği, kimyagerlik gibi mesleklere sahip olanlar sanayi alanında çalışmaktadırlar.
- Üretim faaliyetleri şu şema ile ifade edilebilir:



# HAYAT BİLGİSİ

**1-Aşağıdaki ifadelerden doğru olanların başına D,yanlış olanların başına Y yazınız.**

- ( ) İnsanlar, yaşadıkları çevrenin koşullarına uygun işler yaparak geçimlerini sağlarlar.
- ( ) Tarlalar, bağ ve bahçelerde hiç bir ürün yetiştirilmez.
- ( ) Çiftçiler, yetiştirdikleri tarım ürünlerinin satışından gelir elde eder.
- ( ) Besinlerimiz, bitkilerden ya da hayvanlardan elde edilir.
- ( ) Toprağı ekip biçerek geçimini sağlayan kişiye ormancı denir.
- ( ) İnsanlar geçimini sağlamak için üretim yapar.
- ( ) Ekmek,un ve su gibi gıdalar hayvancılık faaliyetidir.
- ( ) Otomobil ve buzdolabı sanayi faaliyetidir.

**2-Aşağıda boş bırakılan yerleri uygun ifadelerle tamamlayınız.**

hayvanlardan -orman- arıcılık- çiftçi- değerli- malzeme -bitki- eşyalar

Çok sayıda ağacın bulunduğu doğal alana .....denir.

Hayvancılık işi yapan insanlar .....gelir elde ederler.

Toprağı ekip biçerek geçimini sağlayan kişiye .....denir.

Bal almak için arı yetiştirme işine .....denir.

İnsanlar yer altındaki madenlerden .....maden çıkarırlar.

Yediğimiz yiyecek ve içecekler .....ve hayvanlardan elde edilir.

Kullandığımız bazı .....bitki ve hayvanlardan elde edilir.

Fabrikalar çeşitli eşya ve .....yaparlar.

# HAYAT BİLGİSİ

Aşağıda verilen çoktan seçmeli soruları cevaplayınız.

1-Tarımsal faaliyetler sonucunda hangi ürünler yetiştirilmez?

A-Sebze B-Meyve C-Su

2-Bazı yerlerde geniş tarlalar,bağ ve bahçeler bulunur.Böyle yerlerde hangi tarımsal faaliyet yapılmalıdır?

A-Sebze ve meyve yetiştiriciliği B-Balık çiftliği C-Ormancılık

3-Aşağıdakilerden hangisi hayvanlardan elde edilen bir ürün değildir?

A-Et B-Bal C- Yem

4-İnsanlar, yaşadıkları çevrenin koşullarına uygun işler yaparak geçimlerini sağlarlar. Bazı yerlerde geniş tarlalar, bağ ve bahçeler bulunur. Buralarda ..... ekilir ve tarım ürünleri yetiştirilir. Yetiştirilen tarım ürünlerinin satışından gelir elde edilir.

Yukarıdaki ifadeye göre noktalı yere aşağıdakilerden hangisi gelmelidir ?

A-Toprak B-Su C-Maden

5-Annem buzdolabından yumurta çıkartıp tavada pişirdi.Bizde afiyetle yedik.

Yukarıdaki ifadeye göre altı çizili kelimeler sırasıyla hangi üretim faaliyetleridir ?

A-Tarım-Sanayi B-Sanayi-Tarım C-Sanayi-Hayvancılık

6-Elif Ece süttten : peynir,yoğurt ve tereyağ yaptı.Yaptığı ürünleri pazarda satıp para kazandı.

Buna göre Elif Ece'nin yaptığı iş aşağıdakilerden hangisidir ?

A-Tüketim B-Üretim C-Dağıtım

# HAYAT BİLGİSİ

Aşağıda verilen kelimeleri

tarım faaliyeti ise **YEŞİL**

hayvancılık ise **SARI**

sanayi ise **MAVİYE** boyayınız.

ARI

PEYNİR

OTOMOBİL

TENCERE

KİRAZ

UN

BALIK

ZEYTİN

TELEVİZYON

TABLET

KANEPE

ET

PATATES

EKMEK

FUTBOL TOPU

İNGİLİZCE



**Hazırlayan: Ahmet YARICI**

## Fruit Word Search



B	L	U	E	B	E	R	R	İ	E	S	H	G	E	R
T	E	S	P	E	E	R	İ	S	H	N	M	E	U	T
S	M	İ	P	E	A	C	H	O	S	P	L	U	M	S
T	O	E	E	S	G	H	K	A	R	L	Q	Z	W	X
R	N	Y	A	U	R	D	F	G	J	A	Q	C	F	S
A	S	N	C	B	A	N	A	N	A	S	N	A	G	G
W	P	O	H	İ	P	U	Y	T	R	E	R	G	W	Q
B	A	S	E	F	E	G	H	J	K	L	L	Z	E	Z
E	S	V	S	B	S	N	M	U	İ	P	E	A	R	S
R	R	E	T	G	H	N	J	K	A	A	S	P	O	İ
R	E	P	İ	N	E	A	P	P	L	E	W	K	İ	W
İ	N	E	A	P	P	L	S	T	U	V	R	İ	K	İ
E	M	K	A	P	P	L	E	S	T	R	A	W	R	R
S	Y	N	H	N	O	P	A	S	G	F	F	İ	W	N

**Grapes**

**bananas**

**apples**

**Pears**

**lemons**

**strawberries**

**Oranges**

**pineapple**

**kiwi**

**Plums**

**blueberries**

**peaches**

# İNGİLİZCE



Match each fruit with its picture.

1 a raspberry

2 an apple

3 a watermelon

4 an orange

5 a pineapple

6 grapes

7 a plum

8 a kiwi

9 a lemon

10 a hazelnut

11 a pear

12 a coconut

13 a cherry

14 a peanut


15 a strawberry

16 a mango

17 a peach

18 a banana

19 a red currant





# İNGİLİZCE



## Fruits



Match the words with the pictures.

APPLE

GRAPES

MELON

LEMON

ORANGE

STRAWBERRY

PEACH

BANANA

WATERMELON

PEAR

CHERRY

**FRUITS**

Man with mustache and clock

<input type="text"/>	<input type="text"/>	<input type="text"/>	<input type="text"/>
<input type="text"/>	<input type="text"/>	<input type="text"/>	<input type="text"/>
			<input type="text"/>
<input type="text"/>	<input type="text"/>	<input type="text"/>	

# FRUIT



⇒ strawberry



⇒ apple



⇒ banana




⇒ orange




⇒ grapes

EĐLENCE ZAMANI

MANDALA BOYAMA



# BİR KİŞİ BİR HAYAT



## **PROF.DR. AZİZ SANCAR**

**Prof. Dr. Aziz Sancar Mardin'in Savur ilçesinde 8 çocuğun 7.si olarak dünyaya geldi ve hiç eğitimi olmayan anne ve babası çocukları için eğitimin önemli olduğunun bilinciyle onların okumalarını sağladı. Prof. Sancar İstanbul Üniversitesi Tıp Fakültesi'nde okuduktan sonra ABD'ye lisansüstü eğitim için gitti ve doktora derecesini 1977 yılında Dallas'taki Teksas Üniversitesi'nden Moleküler Biyoloji alanında aldı.**

**Prof. Sancar DNA tamiri ve hücre döngüsü gibi alanlarda uzmanlaştı. 2015 yılında Kimya alanında Nobel ödülünü meslektaşları Tomas Lindahl and Paul L. Modrich ile birlikte DNA tamirinin mekanik çalışmaları ile ilgili yaptıkları çalışma ile aldı.**