

3. SINIF



III. Hafta Fasikül
27Nisan-1Mayıs Kazanımları

EVDE EĞİTİM E-FASİKÜL' DE

YERKÖY ARGE

Yerköy İlçe Milli Eğitim Müdürlüğü'nün uzaktan eğitim sürecinde öğrencilerimiz için hazırladığı destek hizmetidir.

<http://yerkoy.meb.gov.tr>





Yerköy İlçe Millî Eğitim Müdürlüğü

Serdal BORA

İlçe Milli Eğitim Müdür V.

H.Hüseyin ASAR

Şube Müdürü

M.Suat ATİLA

Koordinatör ve Grafik Tasarım

Hazırlayanlar

Cavidan KURU
Ersin BÜYÜKBAŞ
Bekir ÇAKICI
Cihan BARDAK
Esra BARDAK

Şht. Kamil Çelikkaya İlkokulu
Reşat Akyön İlkokulu
TOKİ Şht. Ali Salmanlı İlkokulu
Atatürk İlkokulu
Şht. Mehmet Tez And. Lisesi



TÜRKÇE

Kahramanlar

Zeynep ve ninesi

Hikayenin Adı

Yardım Severlik

Yer

Köy Yolu

Zaman

Öğlen

Olay

Yadigar ninenin marketten aldığı ürünlerinin yere saçılması



Yukarıda verilen hikaye unsurlarından ve görsellerden yararlanarak bir hikaye yazınız.

TÜRKÇE

Atatürk, çocukları çok severdi. Onun dilinde çocuk "sevgi" demektir. Bütün çocuklar, onun öz çocukları gibiydi.

Bir gezisinde, yoksullar için hazırlanan çocuk balosuna katıldı. Çocuklar sevgiyle Atatürk'ün elini öptüler.

Atatürk, çocukların yaptığı gösteriyi seyretti. Onları ayrı ayrı sevdi, başlarını okşadı. Çeşitli hediyeler verdi.

Atatürk en büyük eseri olan Türkiye Cumhuriyeti'ni çocuklara bıraktı.

1. Parçanın başlığı ne olabilir?

2. Bu parçada Atatürk'ün hangi sevgisinden bahsedilmiştir?

3. Atatürk'ün çocuklara bıraktığı en büyük eseri nedir?

➤ Aşağıdaki kelimelerle anlamlı ve kurallı cümleler yazalım.

• Geldi-akşam-geç-eve

• Çok-kitap-severdi-okumayı

• Yüzmek-havuz-gitti-için

• Bayılırdı-dans-etmeye

• Perdesinden-oldukça-tiyatronun-son-etkilenmiştik

NOT: Cümleye büyük harfle başlamayı ve cümle sonuna gerekli noktalama işaretlerini koymayı unutmayalım.

➤ Aşağıdaki kelimelerin eş anlamlarını yazalım.

Cins → Ak →
Sual → Kelime →
Sonbahar → Okul →
Zelzele → Öykü →
Hasret → Uzun →

➤ Aşağıdaki kelimelerin zıt anlamlarını yazalım.

Uzun → Acı →
Güzel → Eski →
Siyah → İyi →
Tutsak → Satmak →
Soru → Yanlış →

Aşağıdaki tabloyu örnekteki gibi tamamlayalım.

Sözcük	Ses sayısı	Ünlüler	Ünsüzler
Kitap	5	ı,a	K,t,p
Okul			
Ev			
Bahçe			
Muz			
Sinema			
Nar			
Kalem			
Dünya			
Müzik			
Tavuk			
Televizyon			
Atatürk			
Öğretmen			
Ders			
Kumanda			
Yemek			
Anne			
Araba			
Öğrenci			
Çocuk			

TÜRKÇE

MINİ BİLGİ: mi soru eki kendinden önce gelen kelimedenden ayrı, kendinden sonra gelen ek ile bitişik yazılır.

ÖRNEK : gelir misin? , sende mi? ,

Aşağıdaki cümleler "mı, mi, mu, mü" ekleri kullanarak soru cümlelerine dönüştürelim.

İclal, güzel yemek yapar.

.....

Çocuklar dereye yüzüyor.

.....

Adem, bakkaldan üç ekmek aldı.

.....

Sabah elektrikler kesildi.

.....

Yadigar, yeni araba aldı.

.....

Yolda arabalar çarpıştı.

.....

Gece yağmur yağdı.

.....

Kirpiler yuvalarını terk etti.

.....

Aşağıdaki cevaplara uygun örnekteki gibi birer soru cümlesi yazınız.

Dedem çocuklara ne aldı?

Dedem kardeşime oyuncak aldı.

.....

Ninem bize geldi.

.....

Biz İstanbul'dan geldik.

.....

Sabah erkenden gideceğiz.

.....

Siyah araba benim.

TÜRKÇE

Aşağıda cümlelerde soru anlamı taşıyanların sonuna soru işareti koyunuz.

- Çantamdan kitabımı kim aldı ()
- Babam garajda temizlik yapıyor ()
- Mesut, tarladaki karpuzları suladı ()
- Ahmet, arkadaşlarımız nereye gitti ()
- Parktaki çocuk neden ağlıyor ()
- Bizimle sinemaya niçin gelmedin ()
- Ablam bana renkli tokalar aldı ()
- Sabaha kadar şiddetli yağmur yağdı ()
- Kardeşim misketleri nerede sakladı ()
- Güneşli havaları seviyorum ()
- Oltasını alıp denize açıldı ()
- Tatilden ne zaman döneceksin ()
- Kedi, sessizce pencereden kaçtı ()
- Yıldızlar bugün başka parlıyor ()
- Sizin köy nerede ()
- Sevimli mi sevimli bir köpek ()
- Benim için yarışmaya katılır mısın ()
- Siz her sabah nereye gidiyorsunuz ()
- Balıklara yem vermeyi unutma ()
- Tatlıları annem mi yaptı ()
- Dayım kuşlara kafes yaptı ()
- Portakalları neden topladın ()
- Sabah kahvaltısını kim hazırladı ()
- Bulaşıkları neden yıkamadınız ()
- Tebeşirleri sıranın gözüne koy ()
- Bizimle pikniğe gelecek misin ()
- Ayla, doğum gününde ne aldı ()
- Hava yağmurlu olduğu için gelmedi.()

TÜRKÇE

DEĞERLENDİRME SORULARI

1) Aşağıdaki cümlelerin hangisinde mi soru eki yanlış kullanılmıştır?

- A) Traktör dereden geçebildi mi?
- B) Ahmet , toplantıya gittimi?
- C) Okul çıkışı buluşalım mı?

2) Aşağıdaki cümlelerden hangisi soru cümlesidir?

- A) Bekir Bey, bugün işe geldi mi bilmiyorum
- B) Okullar açılacak mı açıklama bekliyorum
- C) En çok hangi arkadaşını özledin

3) Aşağıdaki cümlelerin hangisi soru cümlesi değildir?

- A) Ah, şimdi okulda olmak vardı
- B) Yarın akşam bize kim gelecek
- C) Bu sene kızılıklar oldu mu

4) Aşağıdaki sözcüklerden hangisinin hece sayısı daha fazladır?

- A) Yerköylü
- B) Sporcumuz
- C) Mahallemizden

5) " Yerköy " sözcüğünün ünlü harfleri hangi seçenekte doğru verilmiştir?

- A) e-ö
- B) y-e-ö
- C) y-r-k

6) " Bugün hava çok güzel" cümlesine hangi kelimeyi getirirsek soru cümlesi olur?

- A) Değil sözcüğünü cümle sonuna getirirsek.
- B) Cümle sonuna mi ekini koyarsak.
- C) Cümle sonuna soru işareti koyarsak.

7) " Annen güzel yemek yapar" Cümlesini soru cümlesi haline gelmiş şekli nasıl olur?

- A) Annen güzel yemek yapar mı
- B) Annen güzel yemek yapmaz
- C) Annen güzel yemek yapmaz değil

8) Aşağıdaki cümlelerin hangisinde **mektep** sözcüğünün eş anlamlısı kullanılmıştır?

- A) Okulumu çok özledim.
- B) Sınıf başkanı seçimini adil yaptık.
- C) En sevdiğim ders Türkçe dersidir.

9) "Yüz" sözcüğü aşağıdaki hangisinde cümlelerin farklı bir anlamda kullanılmıştır?

- A) Haftaya yüzmeye gidelim mi?
- B) Abim çok güzel yüzer.
- C) Kumbaramda yüz lira olmuş.

10) "Acı" kelimesinin zıt anlamlısı aşağıdaki cümlelerin hangisinde vardır?

- A) Yemek biraz tuzlu olmuş.
- B) Ravza bugün çok tatlı yedi.
- C) Ekşi meyvelere bayılırım.

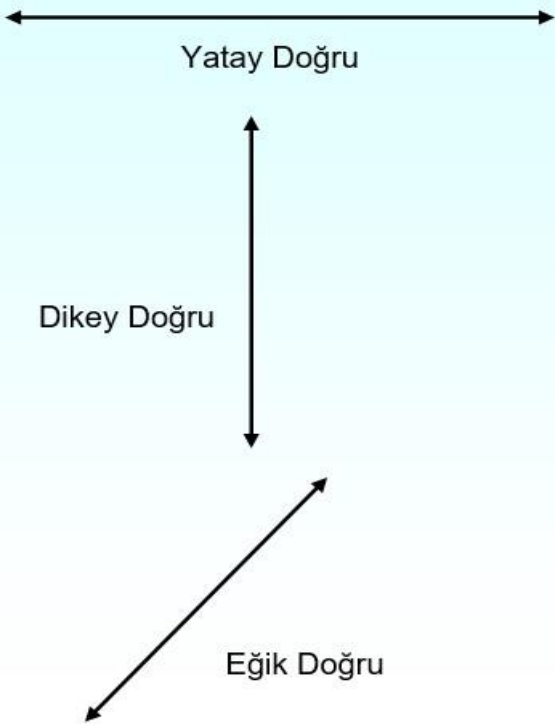
MATEMATİK

Geometride Temel Kavramlar:

Bilgi Kutusu: Dikkatlice okuyalım!!!

DOĞRULARIN ÇEŞİTLERİ

Doğrular **yatay doğru**, **dikey doğru** ve **eğik doğru** olmak üzere üç çeşittir.



DOĞRULARIN DURUMLARI

İki doğrunun durumu paralel, kesişen ve dik doğrular olabilir.

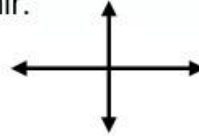
1) Paralel Doğrular: İki doğru hiçbir noktada kesişmiyorsa bu doğrulara paralel doğrular denir.



2) Kesişen Doğrular: İki doğru, bir noktada kesişebilir. Bu doğrulara kesişen doğrular denir.



3) Dik Doğrular (Dik Kesişen Doğrular): Kesişen doğrular birbirini dik kesiyorsa böyle doğrulara (dik doğrular) dik kesişen doğrular denir.



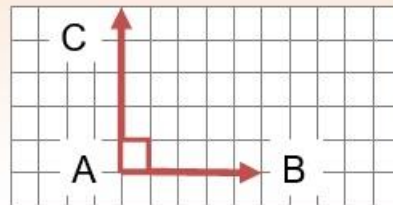
AÇI



- Açının kolları birer ışındır.
- Örnekte verilen açının ışınları AC ışını ve AB ışınıdır.
- Açılar köşesine yazılacak olan büyük harfle isimlendirilir.
- Açının bir köşesi ve iki kenarı vardır.
- Bir açının ölçüsünü belirlemek için veya ölçüsü verilen bir açıyı çizmek için açölçer (iletke) kullanılır.

Not: Kare ve dikdörtgenin iç açıları dik açıdır.

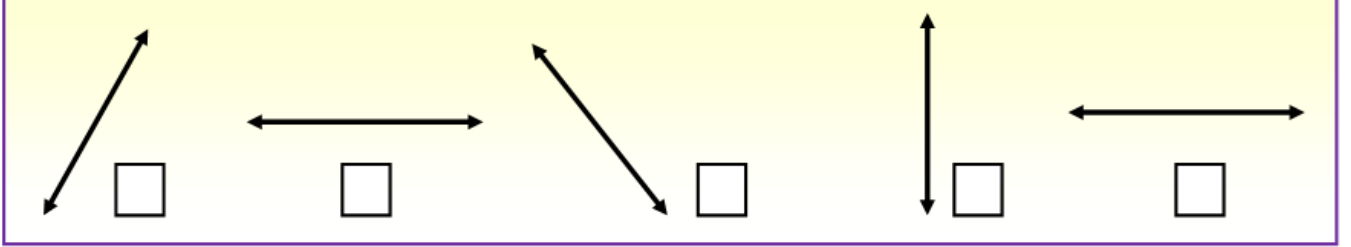
Dik açı: Ölçüsü 90° olan açılara **dik açılar** denir.



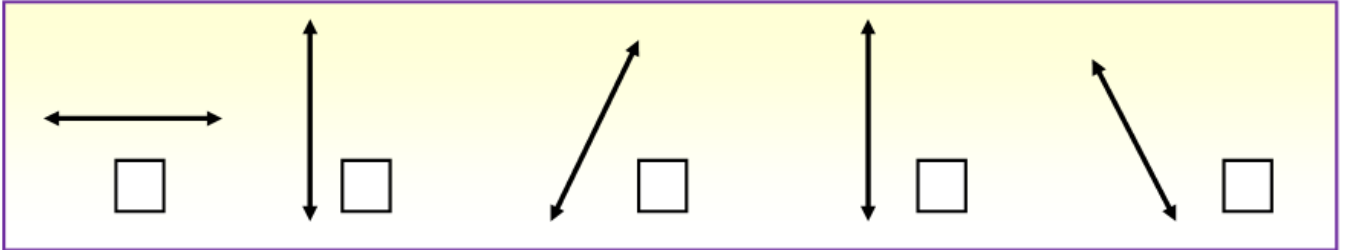
MATEMATİK

Etkinlik:

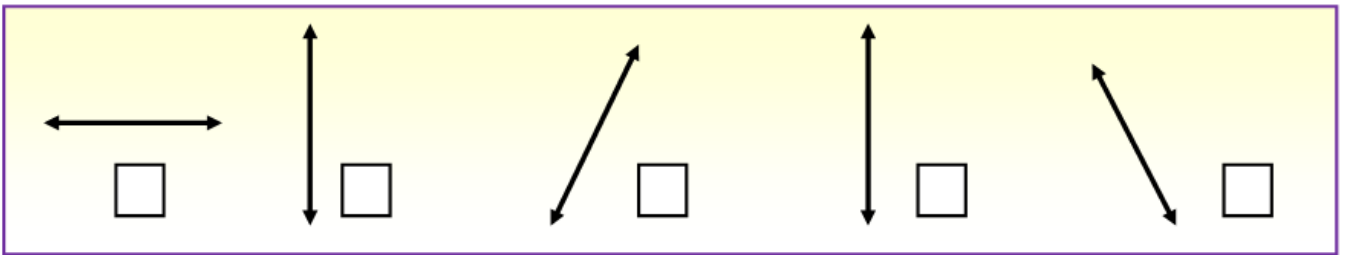
Aşağıdaki doğrulardan yatay doğru olanları işaretleyiniz.



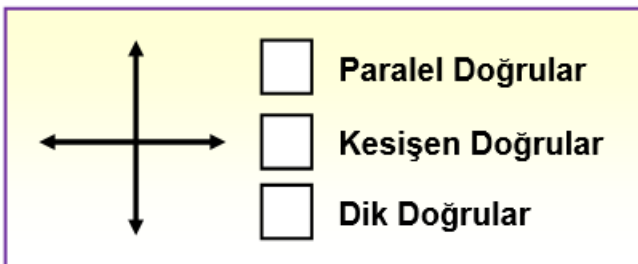
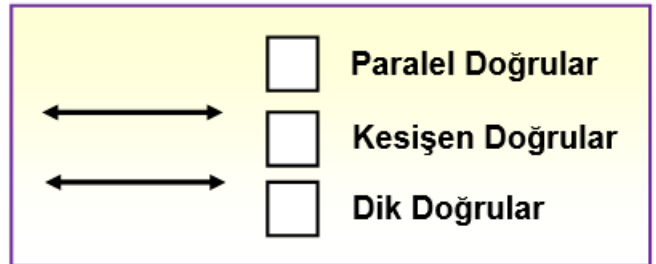
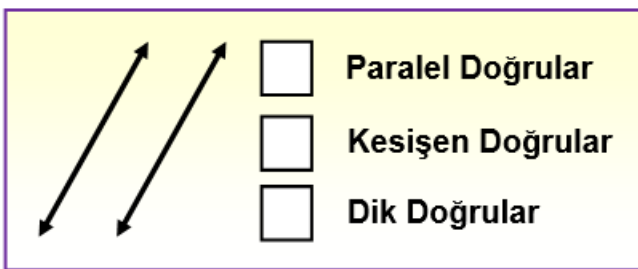
Aşağıdaki doğrulardan dikey doğru olanları işaretleyiniz.



Aşağıdaki doğrulardan eğik doğru olanları işaretleyiniz.

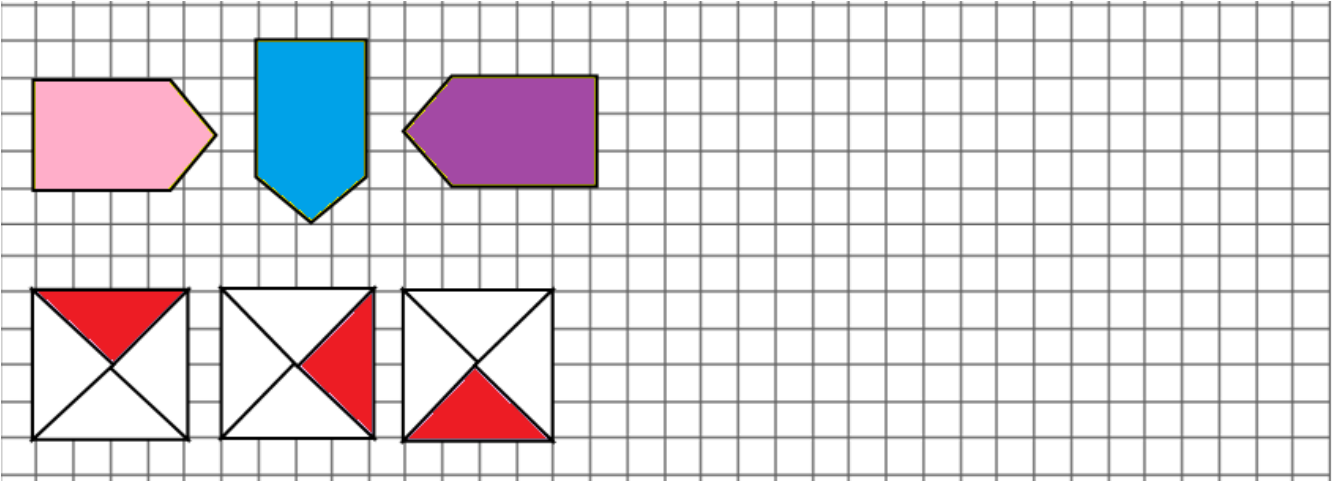



Aşağıdaki verilen doğruların birbirlerine göre durumlarını işaretleyiniz.




MATEMATİK

Aşağıdaki örüntü ve süslemeleri devam ettiriniz.

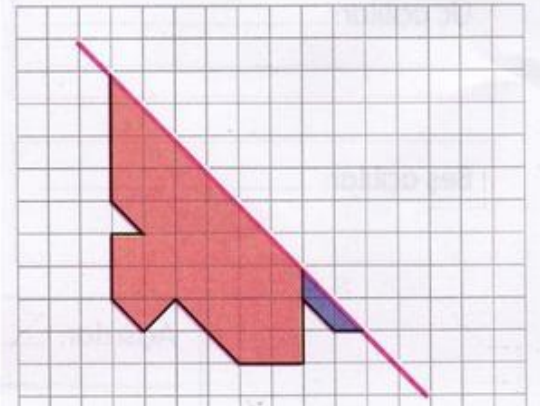
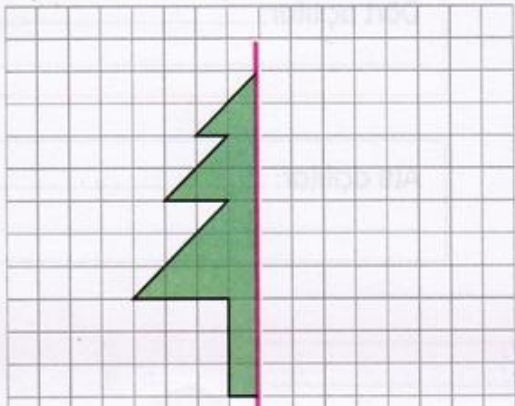
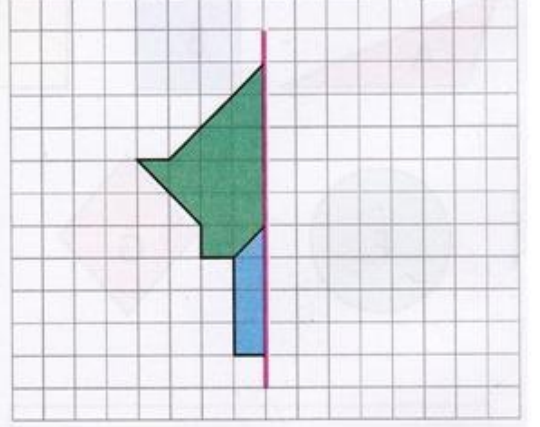
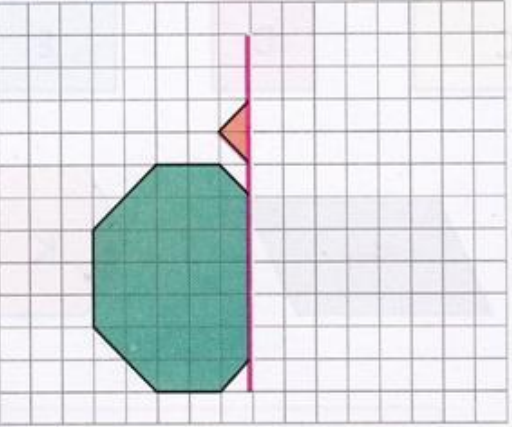
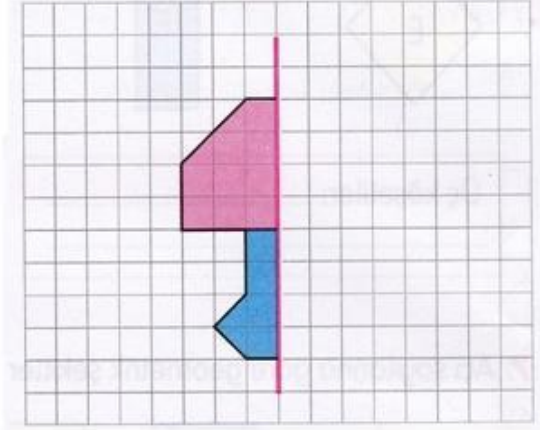
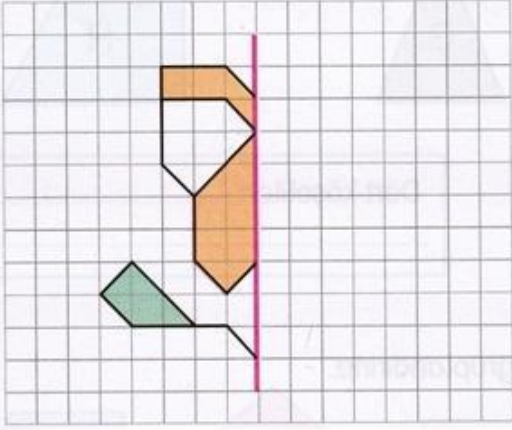


Aşağıdaki kareli kağıda kendiniz geometrik şekillerden örüntü ve süsleme yapıp boyayınız.



MATEMATİK

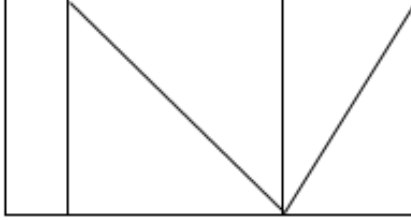
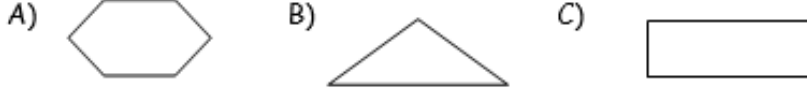
AŞAĞIDAKİ ŞEKİLLERİN SİMETRİLERİNİ ÇİZİNİZ



MATEMATİK

GENEL DEĞERLENDİRME ÇALIŞMALARI

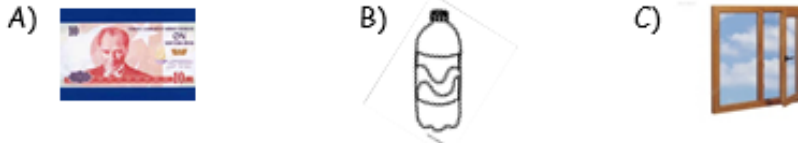
1- Aşağıda verilen şekillerden hangisinin 6 kenarı ve 6 köşesi vardır?



2-Yandaki şeklin içinde kaç tane üçgen, kare ve dikdörtgen vardır?

- A) 4 üçgen, 1 kare, 2 dikdörtgen
B) 5 üçgen, 1 kare, 5 dikdörtgen
C) 5 üçgen, 1 kare, 2 dikdörtgen

3-Aşağıdaki nesnelerin hangisinin dik açısı yoktur?



4- Aşağıdaki ağırlıklardan hangisi en büyüktür?

- A) 3000 g B) 350 g C) 4 kg

5- Aşağıdaki geometrik cisimlerden hangisinin eğik yüzü yoktur?

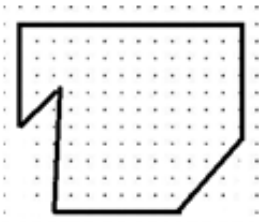
- A) küre B) üçgen prizma C) silindir

6-Aşağıdaki ifadelerden doğru olanların başına " D" , yanlış olanların başına " Y" yazınız.

- () Açık modelinin bir köşesi ve bu köşeden çıkan iki kenarı vardır.
() Saat 21:00' i gösterirken akrep ile yelkovanın arasında dik açı modeli oluşur.
() Koni modelinden yararlanılarak kare çizilebilir.
() Kürenin yüzü ve yüzeyi aynıdır.
() Karenin 4 açısı ve 4 köşesi vardır.

7-Bir trendeki erkek yolcuların sayısı, kadın yolcuların sayısının 13 katından 25 fazladır. Trende 68 kadın yolcu olduğuna göre erkek yolcuların sayısı kaçtır?

8- Bir baba, aldığı 6 düzine kalemi, 4 çocuğuna eşit şekilde paylaştırıyor. Her bir çocuğuna kaç kalem vermiştir?



9-Yandaki şekildeki doğru sayılarını yazınız.

Eğik doğru sayısı:

Yatay doğru sayısı:

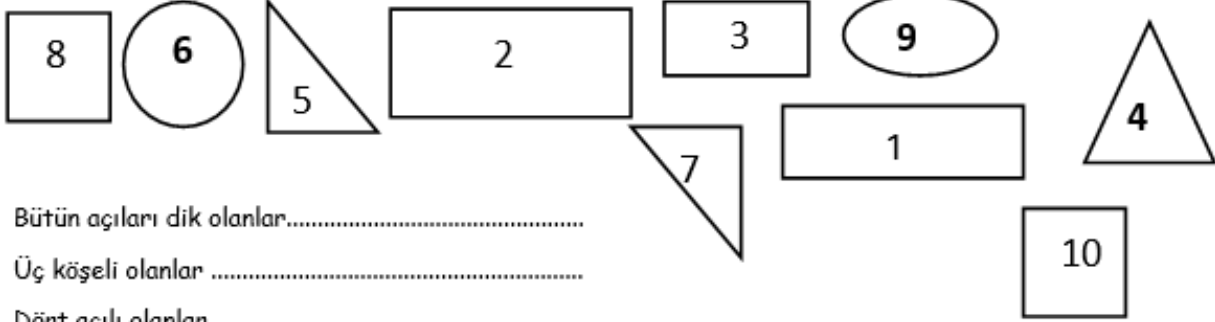
Dikey doğru sayısı:

MATEMATİK

10-Esra saat 21.00'da yatıp sabah saat 08.00'de kalkmıştır. Buna göre Esra kaç saat uyumuştur?

11-Sınıfımızın taban kenarlarına süpürelük çakıldı. Marangoz 5 tane 1 m' lik ve 2 tane 2 m 50 cm' lik süpürelük kullandı. Kullanılan süpürelüğün uzunluğu kaç m' dir?

12- Aşağıda verilen düzlemsel şekillere göre, noktalı yerlere uygun sayıları yazınız.



Bütün açıları dik olanlar.....

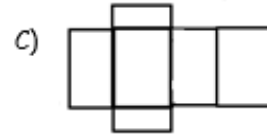
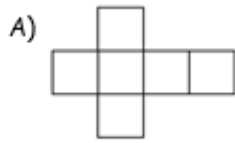
Üç köşeli olanlar

Dört açılı olanlar.....

Açısı olmayanlar

Bir açısı dik olanlar

13-Aşağıda verilen şekillerden hangisi kare prizmanın açınıdır?



14- Aşağıdaki harflerden hangisinin simetri doğrusu doğru çizilmiştir?



15-Yandaki şeklin simetriği aşağıdakilerden hangisidir?



A)

B)

C)

HAYAT BİLGİSİ

ORTAK KULLANIM ALANLARI

Başka insanlarla birlikte kullandığımız yerlere ortak kullanım alanları denir. Ülkemizde vatandaşlardan toplanan vergilerle, yollar, köprüler, camiler, okullar, parklar, spor salonları, stadyumlar gibi hizmet veren ortak kullanım alanları yapılır.

A. Aşağıdaki verilen resimlerden ortak kullanım alanlarını işaretleyelim.



HAYAT BİLGİSİ

B. Aşağıdaki ifadelerden doğru olanlara (D), yanlış olanlara (Y) yazalım.

- Duraklar ortak kullanım alanlarıdır.
- Kamu mallarını sadece öğretmenler kullanır.
- Bisikletimiz ortak kullanım araçlarındanndır.
- Camiler, okullar, kütüphaneler tüm halkımızın malıdır.
- Ortak kullanım alanları, halkımızın vergileri ile yapılmaktadır.
- Ortak kullanım alanlarına zarar vermemeliyiz.
- Kamu mallarını korumak, bir çeşit tasarruftur.

C. Çocuklar! Ortak kullanım alanlarında bazı sorunlar tespit ettik. Bu sorunların nedenlerini ve çözüm yollarını bulma görevi size verildi. Sorumlu bireyler olarak görev sırası şimdi sizde, kolay gelsin....

- Okulumuzun bahçesi biriken çöplerden dolayı çok kötü duruma gelmiş.

NEDENİ:

ÇÖZÜMÜ:.....

- Mert, biraz eğlenmek için parka gittiğinde, salıncakların kırık olduğunu görmüş.

NEDENİ:

ÇÖZÜMÜ:.....

- Annesi ile pazara gitmek için otobüse binen Aycan, koltukların yırtık olduğunu görmüş.

NEDENİ:

ÇÖZÜMÜ:.....

HAYAT BİLGİSİ

Ç. Aşağıdaki ortak kullanım eşyaları, konuşuyor olsa, size neler anlatırdı?



.....

.....

.....

.....

.....

.....



.....

.....

.....

.....

.....

.....



.....

.....

.....

.....

.....

.....



.....

.....

.....

.....

.....

.....

FEN BİLİMLERİ

A - Haydi çocuklar **Doğal** ve **Yapay** çevre ile ilgili etkinliklerimizi yapalım.

1 - Doğal ve yapay çevre ile ilgili aşağıdaki ifadelerde, renkli sözcüklerin hangi çevre alanına ait olduğunu yandaki kutucuğa yazalım.

Bugün havuza gideceğiz.	
Lunaparkta eğlenceli vakit geçirdik.	
Şehirlerde yaşam koşulları oldukça hareketlidir.	
Seralarda yetişen domatesler olgunlaştı.	
Araçlar köprüye doğru ilerliyor.	
İnsanlar nehirden karşıya geçemediler.	
Bahar gelince ovalar canlandı.	
Barajlarda elektrik üretimi yapılır.	
Akvaryumda rengarenk balıklar vardı.	
Çiftlikteki tavukları beslemek çok eğlenceli.	
Babam hayvanlarını meraya olatmaya götürdü	
Köyümüzün nüfusu yazın artıyordu.	
Ağabeyim ile Fenerbahçe maçı için stada gittik.	

FEN BİLİMLERİ

2 - Aşağıdaki görselleri inceleyiniz . Doğal çevreye ait olan görsellere **Doğal**, yapay çevreye ait görsellere **Yapay** yazalım .



.....



.....



.....



.....



.....



.....



.....



.....



.....



.....



.....



.....

FEN BİLİMLERİ

3 -

- I. Geri dönüşüm kutusuna atılan çöpler
- II. Fabrika bacaları
- III. Araçların egzoz dumanları

Yukarıdakilerden kaç tanesi çevre kirliliğine neden olur?

A) 1

B) 2

C) 3

4 -



Yukarıdaki orman görseli için aşağıdakilerden hangisi söylenemez?

- A) Çok sayıda canlıya ev sahipliği yapar.
- B) Doğal çevredir.
- C) İnsan eliyle oluşmuştur.

5 - Çevre kirliliğini önlemek için alınacak önlemlerden hangisi doğrudur?

- A) Her türlü atık doğaya bırakılmalıdır.
- B) Fabrika atıkları akarsulara değil boş arazilere bırakılmalıdır.
- C) Kaynaklar bilinçli kullanılmalıdır.

FEN BİLİMLERİ

6 -



Aşağıdakilerden hangisi çevrede kalıcı kirliliğe neden olur ?

- A) Çöpleri çöp kutusuna atmak.
- B) Atık pilleri bahçemizde güvenli bir yere atmak.
- C) Plastik atıkları geri dönüşüm kutusuna atmak.

7- Aşağıdakilerden hangisi çevremizi korumak ve güzelleştirmek için bireysel sorumluluğumuz değildir?

- A) Çevreyi kirletenleri uyarmak.
- B) Mahallemizin çöplerini toplamak.
- C) Çöpleri çöp kutusuna atmak.

8 - Aşağıdakilerden hangisi geri dönüşümün amaçlarından değildir?

- A) Çevreyi korumak.
- B) Yeniden kullanılabilir hale getirmek.
- C) Çöpleri ortadan kaldırmak.



FEN BİLİMLERİ

B - **Doğal Anıtlar ve Milli Parklarımızı** hatırlayalım. Konu ile ilgili etkinliklerimizi yapalım.

1 - Aşağıda verilen Doğal Anıt ve Mili Parkların buldukları illeri altlarına yazalım.



Pamukkale Travertenleri

.....



Uludağ Milli Parkı

.....



Kapadokya Bölgesi

.....



Nemrut Dağı Milli Parkı

.....



Hattuşaş Antik Kenti

.....



Çamlık Milli Parkı

.....



Manavgat Şelalesi

.....



Kuş Cenneti Milli Parkı

.....



Damlataş Mağarası

.....

FEN BİLİMLERİ

C - Elektrikli araç-gereçler ve elektriğin günlük yaşamımızdaki önemi ile ilgili etkinlikleri yapalım.

1 - Elektriğin icat edilmesiyle ilgili aşağıdakilerden hangisini söyleyemeyiz?

- A) Hayatımız bir çok yönden kolaylaşmıştır.
- B) İşlerimiz zorlaşmaya başlamıştır.
- C) İşlerimizi kısa zamanda bitirebiliriz.

2 - Aşağıdakilerden hangisi doğrudan şehir elektriği ile çalışır?



A) Duvar saati



B) Cep telefonu



C) Elektrik sobası

3 - Aşağıdaki araçlardan hangisinin kullanım amacı diğerlerinden farklıdır?

- A) Cep telefonu
- B) Bilgisayar
- C) Su ısıtıcısı

4 - Yakın çevremizde elektrikler kesilirse;

- I. Televizyon çalışmayacağı için haberleri öğrenemeyiz.
- II. Derin dondurucudaki yiyecekler bozulabilir.
- III. Cep telefonlarımızı kullanamayız .

yukarıdaki durumlardan hangileri gerçekleşebilir?

- A) I ve III
- B) I ve II
- C) Yalnız I

5 - Hangi araç hem ısıtma hem soğutma amaçlı kullanılmaktadır?

- A) Kombi
- B) Klima
- C) Soba

FEN BİLİMLERİ

6 - Aşağıdakilerden hangisi pil ile çalışır?



7 - Aşağıdakilerden hangisinde elektrik üretilir?

A) Fabrika

B) Baraj

C) İşyeri

8 - Aşağıdaki boş bırakılan yerlere örnekteki gibi uygun nesnelere yazalım.

Şehir Elektrikliği ile Çalışan Aletler

.....**Buzdolabı**.....

.....

.....

.....

.....

Pil veya Batarya ile Çalışan Aletler

.....**El feneri**.....

.....

.....

.....

.....

ENGLISH

WEATHER CONDITION IN TURKEY

Today, It is rainy and warn in Yozgat. It is sunny and hot Antalya and İzmir. Çanakkale is windy.It is cloudy in Kayseri. Erzurum is snowy and cold.

True-False

1.Verilen ifadeler doğruysa "True", yanlış ise "False" işaretleyiniz.

1. Kayseri is hot. (.....)
2. Yozgat is sunny. (.....)
3. Erzurum is cold. (.....)
4. It is snowy and cold in Çanakkale. (.....)
5. İzmir is hot . (.....)
6. It is cloudy is in Kayseri. (.....)
7. It is windy is Çanakkale. (.....)
8. Antalya is sunny. (.....)

2.Circle the odd one out.(Farklı olanı daire içine al.)


1. HOT COLD WINDY KETTLE
2. WARM CLOUDY SOAP RAINY
3. HOT SUNNY DOLL WINDY
4. COLD WARM SNOWY POST OFFICE
5. BLOCKS TEDDY BEAR HOT BUTTONS

3.Sort mixed letters correctly (Karışık Harfleri Doğru Sıralayınız.)

INDYW:	NNUSY:.....
CLOYDU:.....	DLOC:.....
WEHERAT:.....	ARWM:.....
NOWYS:.....	HTO:.....

ENGLISH

4. Resimlerin altını doğru şekilde doldurunuz.



S _ _ _ _



R _ _ _ _



W _ _ _ _



S _ _ _ _



C _ _ _ _



C _ _ _ _

5. Cümlenin İngilizcesi nedir?

YOZGATTA HAVA ILIK VE GÜNEŞLİ.

.....

6. Cümlenin Türkçesi nedir?

KIRIKKALE IS WINDY AND RAINY TODAY.

.....







7. Sare:

Elif: It's cloudy.

- A) How is the weather?
- B) Where is the hospital?
- C) The weather is rainy.

ENGLISH

7. Answer the questions according to pictures. (Resimlere göre soruları cevaplayınız.)

<p>Eren: Is the weather snowy today?</p>  <p>Emir:</p> <p>A)No , it isn't. B)Yes, it is. C)Yes, it isn't.</p>	<p>Mert : Is the weather?</p>  <p>İrem: Yes, it is.</p> <p>A)Snowy B)Sunny C)Windy</p>
<p>Ayşe: Melisa: It's cold and snowy.</p>  <p>A)Where is the snowman? B)How is the weather? C)Is it cold and snowy</p>	<p>Berat: Is the weather there?</p>  <p>Beren : Yes, it is.</p> <p>A)Windy B)Hot C)Rainy</p>
 <p>"It's very today."</p> <p>A)Snowy B)Cold C)Hot</p>	<p>"It'stoday in Kırşehir"</p>  <p>A)Sunny B)Windy C)Cloudy</p>

8. LET'S FIND THE WORDS

S	D	G	O	K	Y	M	L	P
U	T	V	Q	S	T	R	V	A
N	X	X	X	K	C	W	R	R
N	A	X	C	K	T	T	L	T
Y	F	H	O	T	Y	L	L	L
S	C	O	L	D	B	X	R	Y
E	V	T	D	V	M	T	V	C
S	I	O	H	M	J	V	L	L
R	A	I	N	B	O	W	S	O
Z	W	R	R	J	J	V	L	U
S	I	Z	B	B	R	V	B	D
S	N	J	J	X	X	T	T	Y
Z	D	J	I	R	I	L	U	A
S	Y	J	J	J	J	V	L	X
S	J	S	N	O	W	Y	U	C
R	A	I	N	Y	J	L	L	C
Z	B	G	Z	J	G	G	X	B

