

3. SINIF



II. Hafta Fasikül
20-24 Nisan Kazanımları

EVDE EĞİTİM E-FASİKÜL' DE

YERKÖY ARGE

Yerköy İlçe Milli Eğitim Müdürlüğü'nün uzaktan eğitim sürecinde öğrencilerimiz için hazırladığı destek hizmetidir.

<http://yerkoy.meb.gov.tr>





Yerköy İlçe Millî Eğitim Müdürlüğü

Serdal BORA

İlçe Milli Eğitim Müdür V.

H.Hüseyin ASAR

Şube Müdürü

M.Suat ATİLA

Koordinatör ve Grafik Tasarım

Hazırlayanlar

Cavidan KURU	Şht. Kamil Çelikkaya İlkokulu
Ersin BÜYÜKBAŞ	Reşat Akyön İlkokulu
Bekir ÇAKICI	TOKİ Şht. Ali Salmanlı İlkokulu
Cihan BARDAK	Atatürk İlkokulu



HAYAT BİLGİSİ

1) Aşağıdakilerden hangisi bir çocuğun sorumluluğunda değildir?

- A) Oyuncakları Toplamak
- B) Aile Geçindirmek
- C) Sofra Kurmaya Yardım Etmek

2) "Ülkemi seviyorum" diyen Mert için hangi ifade doğrudur?

- A) Mert vergi ödemez.
- B) Mert saygısız bir çocuktur.
- C) Mert vatanına ve bayrağına saygı duyar.

3) Aşağıdakilerden hangisi, öğrencilerin görev ve sorumluluklarındandır?

- A) Arızalı eşyaları tamir etmek
- B) Sabah işe gitmek
- C) Ödevlerini zamanında yapmak

4) Kendisine, ailesine, okuluna ve ülkesine olan görevlerini yerine getiren bireyler hangi kelime ile ifade edilir?

- A) Sorumluluk sahibi
- B) Tembel
- C) Saygısız

5) Aşağıdaki ifadelerden hangisi doğrudur?

- A) Başarılı olmak için çok çalışmalıyız
- B) Çocukların görevleri önemsizdir.
- C) Çocukların sorumluluğu yoktur.

6) Evdeki sorumluluklarımızdan biri hangi seçenekte verilmiştir?

- A) Sınıf eşyalarına zarar vermemeliyiz.
- B) Ülkemizi sevmeliyiz.
- C) Odamızı toplamalıyız.

7) Aşağıdakilerden hangisi bir öğrencinin okuldaki sorumluluğu değildir?

- A) Sofra kurmaya yardımcı olmak
- B) Öğretmenini dikkatle dinlemek
- C) Okul eşyalarını özenli kullanmak

8) Aşağıdakilerden hangisini 3. Sınıf öğrencisi Ayşe yapamaz?

- A) Programlı ders çalışmak
- B) Perdeleri asmak
- C) Yatağını toplamak

9) Aşağıdakilerden ifadelerden hangisi doğru değildir?

- A) Basit işlerde ailemize yardım etmek
- B) Kaynakları tasarruflu kullanmak
- C) Sürekli oyun oynamak

10) Sorumluluk nedir?

- A) Kişinin kendi üzerine düşen görevleri yerine getirmesidir.
- B) Dengeli ve düzenli beslenmektir.
- C) Kaynakları boşa harcamaktır.

11) Annesi: Oğlum ödevlerini bitir.

Babası: Metin, bol bol oyun oyna.

Metin ile ailesi arasında geçen konuşmada, hangi aile ferdi, sorumluluklara ait bir istekte bulunmuştur?

- A) Her ikisi de
- B) Babası
- C) Annesi

12) Kendimize ait sorumluluklarımızdan birisi aşağıdakilerden hangisidir?

- A) Akrabaları ziyaret etmek
- B) Arabada ön koltuğa oturmak
- C) Kişisel bakımımızı düzenli yapmak

HAYAT BİLGİSİ

Aşağıdaki tabloda verilen görev ve sorumluluktan yapabildiklerinizin başına (✓) işareti koyunuz.

	Odamı ve yatağımı toplayabilirim.
	Yemek yapabilirim.
	Kıyafetlerimi askıya asıp, dolabıma yerleştirebilirim.
	Ödevlerimi yalnız başıma yapabilirim.
	Bir işte çalışıp, para kazanabilirim.
	Yemek masasını hazırlayabilirim.
	Çamaşır yıkayabilirim.
	Evde bozulan bazı eşyaları tamir edebilirim.
	Ütü yapabilirim.
	Bulaşıkları yıkayabilirim.

Aşağıdaki tabloda verilen ifadelerden, DOĞRU olanların başına (D), YANLIŞ olanların başına (Y) yazınız.

	Evdeki tüm işleri anneler yapmalıdır.
	Ailede iş bölümü yapmaya gerek yoktur.
	Evin geçimini babalar sağlar.
	Ailede her bireyin söz hakkı vardır.
	Ailede yardımlaşma, mutluluk getirmez.
	Bütün kaynaklarımızı tasarruflu kullanmalıyız.
	Yemekleri her zaman anneler yapar.
	Çocuklara, yapabilecekleri görev ve sorumluluklar verilmelidir.
	Ders çalışmak, çocukların sorumluluklarındandır.
	Sofra kurarken ve kaldırırken, annemize yardım etmeye gerek yoktur.

HAYAT BİLGİSİ

Çocuklar, sizin evde kim, hangi işi yapar? Hadi işaretleyin...

GÖREV VE SORUMLULUK	ANNEM	BABAM	BEN
Ütü yapmak			
Faturaları ödemek			
Bahçeyi sulamak			
Okul çantasını hazırlamak			
Yatak düzeltmek			
Sofra kurmak			
Ders çalışmak			
Çöp atmak			
Çamaşırları yıkamak			
İşe gitmek			
Oyuncakları toplamak			
Yemek yapmak			
Sofrayı toplamak			
Bulaşıkları yıkamak			
Evdeki bazı eşyaları tamir etmek			



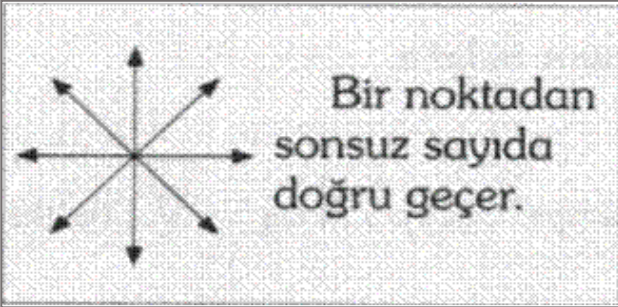
MATEMATİK

Geometride Temel Kavramlar:

Bilgi Kutusu: Dikkatlice okuyalım!!!

NOKTA

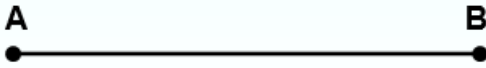
- Duvara çakılan çivinin bıraktığı iz,
- Yüzümüzdeki ben,
- Kalem ucunun kâğıda bıraktığı iz,
- Tebeşirin tahtaya bıraktığı iz,
- Su damlası,
- Cümlenin bittiğini göstermek için kullanılan işaret noktaya birer örnektir.
- Nokta, büyük temel harflerle adlandırılır.
•A •B •C •K •Y
- Noktanın eni, boyu ve yüksekliği yoktur.
- Nokta (•) işareti ile gösterilir.
- Bir noktadan sınırsız sayıda doğru geçer.



DOĞRU PARÇASI

İki nokta arasında bulunan tüm noktaların birleşimine doğru parçası denir.

- Doğru parçasının başlangıç ve bitiş noktası bellidir.
- Doğru parçası iki uçundan da uzatılamaz.
 - Ucu açılmamış kurşun kalem, çubuk makarna birer doğru parçası modelidir.

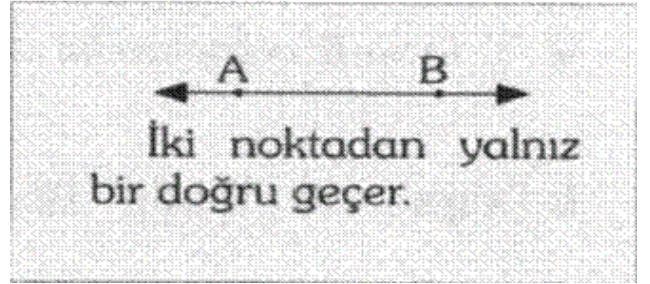
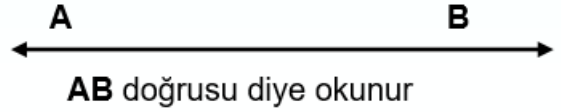
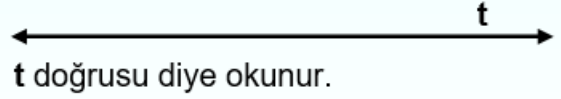


AB doğru parçası biçiminde okunur.

DOĞRU

Her iki yönden sonsuza kadar giden aynı doğrultudaki noktaların birleşimine doğru denir.


- Doğrunun belirli bir kalınlığı yoktur, sadece uzunluğu vardır
- Başlangıç ve bitiş noktası yoktur.
- Gergin durumdaki hortum, yol doğru modelidir.
- Doğrular, küçük harflerle ya da iki büyük harfle isimlendirilir.



IŞIN

Bir ucu sınırlı bir ucu sınırsız olan doğrulara ışın denir.

- Işınlardan başlangıç noktası bellidir ve bir uçundan sınırsız uzatılabilir.
- Televizyon anteni, çelik metre, birer ışın modelidir.
- Işınlardan büyük harflerle isimlendirilirler.

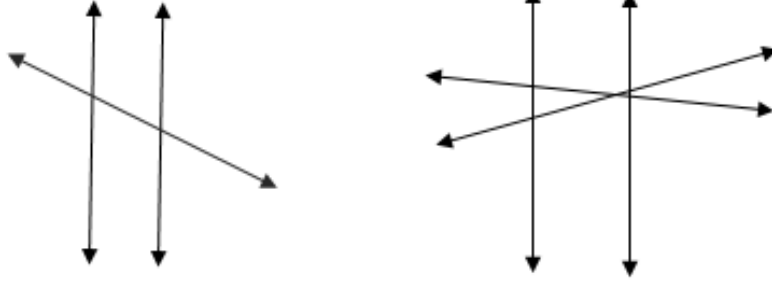


KL ışını diye okunur.




MATEMATİK

Etkinlik:

1- Aşağıdaki şekillerde doğruların kesişim noktalarını büyük harfle adlandırınız.



2- Verilen modellerin altına “doğru”, “ışın” veya “doğru parçası” adlarından uygun olanları yazınız.

A)  B)  C) 

3- Defterinize 5 cm’lik bir doğru, 8 cm’lik bir ışın ve 6 cm’lik bir doğru parçası çiziniz.


4- Aşağıdaki geometrik şekillerin adlarını yazınız, özelliklerini işaretleyiniz, bir özellik de siz ekleyiniz.



- Dört köşelidir.
- Üç açılıdır.
- Dik açılıdır.
- Dört kenarlıdır.
-



- Dört köşelidir.
- Açısı yoktur.
- Dik açılıdır.
- Dört kenarlıdır.
-




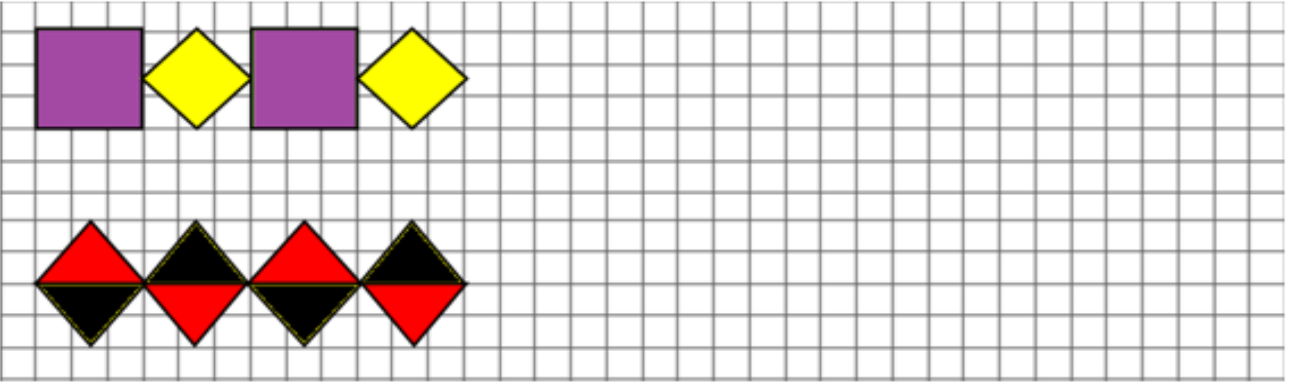
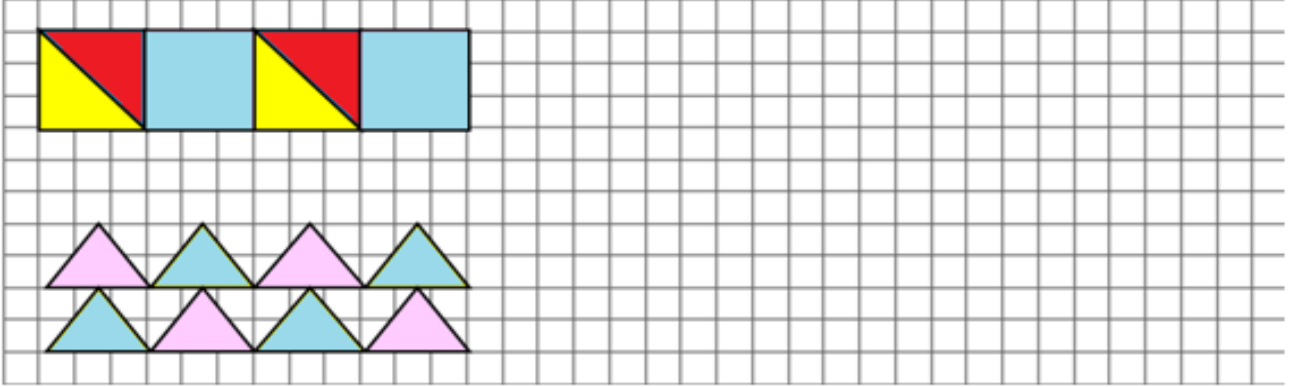
- Açısı yoktur.
- Üç açılıdır.
- Dört kenarlıdır.
- Üç kenarlıdır.
-



- Açısı yoktur.
- Kenarı yoktur.
- Dik açılıdır.
- Dört kenarlıdır.
-

MATEMATİK

Aşağıdaki örüntü ve süslemeleri devam ettiriniz.



Aşağıdaki kareli kağıda kendiniz geometrik şekillerden örüntü ve süsleme yapıp boyayınız.



MATEMATİK

TEST:

1) Aşağıdaki geometrik cisimlerden hangisinin ayrıtı ve köşesi yoktur?



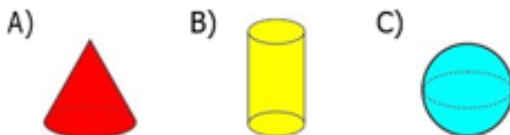
2)  
Hangisi yukarıda verilen geometrik cisimlerin ortak özelliklerinden biri değildir?

- A) 6 yüzü vardır.
B) 8 köşesi vardır.
C) Tüm yüzeyleri karesel bölgedir.

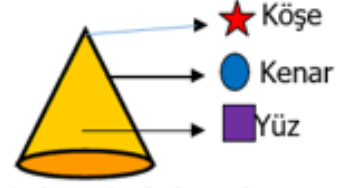
3) 
Aşağıdaki düzlemsel şekillerden hangisi yukarıdaki geometrik cismin yüzlerinden biri olamaz?



4) Aşağıda verilen geometrik cisimlerden hangisinin yüzü diğerlerinden daha azdır?



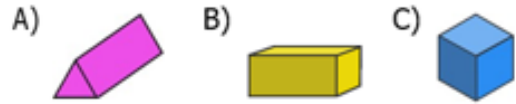
5)



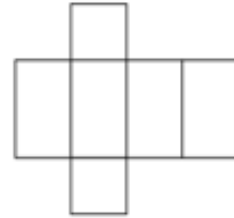
Yukarıda koni ile ilgili verilen isimlendirmelerden hangisi doğrudur?

- A) ★ B) ● C) ■

6) Hangi seçenekte verilen geometrik cismin 6 köşesi, 9 ayrıtı vardır?



7)



Yukarıda açılımı verilmiş geometrik cisim aşağıdakilerden hangidir?



8) Aşağıdaki ifadelerden hangisi yandaki geometrik cismin özelliklerinden biri değildir?



- A) 8 köşesi vardır.
B) 6 yüzü vardır.
C) 10 ayrıtı vardır.

MATEMATİK

PROBLEMLER:

1) Özlem'in kütlesi, Aylin'den 15 kilogram eksiktir. Özlem'in kütlesi 52 kilogramdır. İkiisi toplam kaç kilogramdır?

Çözüm:



2) Kayra saat 11.30'da film izlemeye başladı. İzlediği film 1 saat 45 dakika sürdüğüne göre film kaçta bitmiştir?

Çözüm:



3) Annem yarım kilogramlık pirincin 140 gramını pilav için, 90 gramını ise sütlaç yapmak için kullandı. Kullanılmayan pirinç kaç gramdır?

Çözüm:



4) 980 kg yük taşıyabilen bir kamyonete 285 kg üzüm, 372 kg şeftali konulmuştur. Kamyonete daha kaç kilogramlık yük konulabilir?

Çözüm:



5) 3 tane 50 ₺ ile 4 tane 20 ₺, 300 liradan ne kadar eksiktir?

Çözüm:

6) Marketten 3 kg 250 gram zeytin, 3 kg 750 gram peynir aldım. Marketten aldığım ürünlerin toplam kütlesi ne kadardır?

Çözüm:



7) Bir çuval pirinç 76 kilogramdır. Pirincin $\frac{1}{4}$ 'i tüketildi. Buna göre kaç kg pirinç kaldı?

Çözüm:



8) Annem, marketten 12 kutu süt aldı. 4 kutu süt 1 litre olduğuna göre annem kaç litre süt almıştır?

Çözüm:



57

7

320

13.15

3

270

119

70

MATEMATİK

Aşağıdaki boş sayfaya 3 doğru, 5 ışın, 8 doğru parçası modeli çiziniz ve bunları adlandırınız.

FEN BİLİMLERİ

Kazanım Değerlendirme Soruları:

A - Aşağıdaki sorulara uygun cevapları verelim.

1 - " Yer kabuğunun oluşum sürecinde ortaya çıkan peri bacaları, traverten, mağara, şelale, göl biçimindeki yeryüzü şekilleri ve özel korumaya alınmış ağaçlardır. "

Yukarıdaki ifade, aşağıdakilerden hangisinin tanımıdır?

A) Milli park

B) Yapay çevre

C) Doğal anıt

2 - Aşağıdaki cümlelerde boş bırakılan yerlere uygun şehirleri yazdığımızda, hangisi dışta kalır?

" Yozgat - Rize - Kırşehir - Nevşehir - Balıkesir "

Çamlık Milli Parkı ilimizde bulunmaktadır.

Kaçkar Dağı Milli Parkıilimizde bulunmaktadır.

Manyas Kuş Cenneti Milli Parkı ilimizde bulunmaktadır.

Peri bacaları ilimizde bulunmaktadır.

A) Kırşehir

B) Yozgat

C) Rize

FEN BİLİMLERİ

3 - Aşağıdaki eşleştirmeleri haritamız üzerinde yapalım.



Yukarıdaki haritada aşağıda verilen milli parkların ve doğal anıtların olduğu şehirlerimizi bulalım. Numaralandırılmış olan yerleri buldukları şehirlerin üzerine yazalım.

1) Çamlık Milli Parkı

6) Manavgat Şelalesi

2) Pamukkale Travertenleri

7) Yedigöller Milli Parkı

3) Tuz Mağarası

8) Kuş Cenneti Milli Parkı

4) Peri Bacaları

9) Spil Dağı Milli Parkı

5) Kaçkar Dağları Milli Parkı

10) Nemrut Dağı Milli Parkı

FEN BİLİMLERİ

B - Aşağıdaki tabloyu inceleyerek doğal ve yapay çevre ile ilgili etkinlikleri yapalım.

Doğal Çevre	Yapay Çevre
Oluşumunda insan emeği yoktur.	Oluşumunda insan emeği vardır.
Doğada kendiliğinden bulunur.	İhtiyaç ve istekleri doğrultusunda insanlar tarafından yapılır.

1 - Yukarıdaki tabloya göre aşağıdaki noktalı yerlere doğal ve yapay çevrelere örnekler yazalım.

DOĞAL ÇEVRE

YAPAY ÇEVRE

a-

.....

b-

.....

c-

.....

ç-

.....

d-

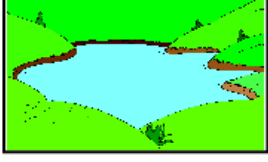
.....

e-

.....


FEN BİLİMLERİ

2 - Aşağıdakilerden hangisi yapay çevreye örnektir ?



Göl

A)



Orman

B)



Havuz

C)

3 -

* Dere

* Park

* Okul

* Baraj

* Deniz

* Dağ

Yukarıda verilenlerin kaç tanesi doğal çevredir ?

A) 2

B) 4

C) 3

4 - Yapay çevre ile ilgili olarak;

I . İnsanlar tarafından oluşturulur.

II . Doğada kendiliğinden oluşmaz.

III . Dere ve denizler örnektir.

yukarıdaki ifadelerden hangileri doğrudur?

A) Yalnız I

B) II ve III

C) I ve II

FEN BİLİMLERİ

5 - Aşağıdaki canlılardan hangisi yaşamını doğal ortamda geçirmektedir?

A) Kafesteki kuş.

B) Topraktaki solucan.

C) Akvaryumdaki balık.

6 -



1



2



3



4

Yukarıdaki görsellerden yararlanarak, aşağıdaki yapılan gruplamalardan hangisi doğrudur?

GRUPLAR	DOĞAL ÇEVRE	YAPAY ÇEVRE
1. Grup	3. ve 4. Görsel	1. ve 2. Görsel
2. Grup	1. ve 3. Görsel	2. ve 4. Görsel
3. Grup	2. ve 3. Görsel	1. ve 4. Görsel

A) 1. Grup

B) 2. Grup

C) 3. Grup

7 - Aşağıdakilerden hangisi doğal çevrenin bozulmasına neden olur ?

A) Şehrimize ağaç dikmek.

B) Tarım alanlarına atık madde atmak.

C) Evlerimizi ısıtmak için kömür yerine doğalgaz kullanmak.

FEN BİLİMLERİ

C - Aşağıdaki soruları cevaplandıralım.

1 - Ömer Faruk ve Hatice, her yıl mutlaka ağaç dikmektedirler.



Ömer Faruk ve Hatice, bu davranışlarıyla aşağıdakilerden hangisini sağlamaz ?

- A) Çocuklara daha güzel bir dünya bırakmak.
- B) Çevre temizliğine katkı sağlamak.
- C) Ormanlık alanların azalmasına sebep olmak.

2 - Aşağıdakilerden hangisine çevremizi korumak ve geliştirmek için bireysel sorumluluğumuzdur diyemeyiz ?

- A) Yerlere çöp atmaları uyararak.
- B) Suyu gereksiz yere kullanmak.
- C) Çöpleri çöp kutusuna atmak.

3 - Aşağıda verilen ifadeler doğru ise başındaki ayraçların içine "D", yanlış ise "Y" yazınız.

- () Atık piller doğayı kirletmez.
- () Milli parklara insanların girmesi yasaktır.
- () Baraj, park ve alışveriş merkezleri yapay çevrelerdir.
- () Geri dönüşüm merkezlerinde biriken malzemeler kullanılmamak üzere imha edilir.
- () Etrafa atılan plastik eşyalar, çevremizin uzun yıllar kirli kalmasına sebep olur.

TÜRKÇE

23 NİSAN

Gün aydın, gözün aydın,
Sayısız devrim saydın.
Dünyaya bir ün yaydın.
O mutlu Nisan bugün.

Buldun taze can bugün.
İşte neşe, işte haz,
Sevincin çok, derdin az.
Bundan ünlü gün olmaz.

Her lezzete kan bugün.
O mutlu Nisan bugün,
Seyir için bu töreni,
Durma aç pencereni.

Sana onu vereni,
Saygıyla an bugün,
O mutlu Nisan bugün.

Soruları metne göre cevaplayınız.

1-1.kıtaya dünyaya nasıl bir yayılmış ?

.....

2-23 Nisan' da ne olmuş ?

.....

3-23 Nisan törenini seyir için yapılmasını istiyor?

.....

4-Şiire göre saygı ile anılması gereken kimdir?

.....

5-Taze can buldun sözü ile ne anlatılmak istenmektedir?

.....

TÜRKÇE

Aşağıdaki verilen fıkralara uygun noktalama işaretlerini koyunuz:

ONUN ÜSTÜ DAHAKİRLİ

Hoca () nin hanımı dere kenarında çamaşır yıkarken bir karga gelip sabunu kapmış() Zavallıkadın()

() Amanhocam() karga sabunukaçırıyor()

() Hoca() Be hanımdemiş() bırakgötürsün() Onun üstü

Bizimkinden daha kirlidemiş()

NASRETTİN HOCA'NIN YAŞI

NasrettinHoca() yakın arkadaşı hocanın yaşını merak eder vesorar()

() Hocam kaçyaşındasınız()

() 45yaşındayım() Aradan uzun yıllar geçer yakın arkadaşı yine sorar ()

() Hocam kaç yaşınageldin()

() 45 yaşına derhoca() Arkadaşı merak eder tekrarsorar()

() Hocam bu nasıl olur () Yıllar önce de 45 yaşındayım demiştin()

BEŞ ALMIŞ

Babası dördüncü sınıfa gidenoğluna()

() Yavrucuğum() demiş() derslerin nasıl()

Oğlu cevapvermiş()

() Babacığım 5aldım() Türkçe1 () matematik1 () sosyal bilgiler 1

() fen bilimleri1 () müzik 1() Toplarsanız hepsini 5eder()

TÜRKÇE

Aşağıdaki noktalama işaretlerini kullanacağımız birer cümle yazalım.

tırnak işareti

virgül

konuşma çizgisi

kesme işareti

soru işareti

ünlem

nokta

Aşağıdaki cümlelerde noktalama işaretleri doğruysa "D", yanlışsa "Y" yazınız

Tatile nereye gideceksiniz.

Ne yazık ki, bunu sevmiyorum?

Tatile nereye gideceksiniz?

Ela,nın kalemleri kaybolmuş.

Tatile nereye gideceksiniz.

Off !başım çok ağrıyor.

TÜRKÇE

Aşağıda yazım yanlış yapılan kelimelerin doğrusunu altlarına yazalım:

eşortman

yamur

pisküvi

tenefüs

laylon

tırafık

süpriz

herkez

şevkat

deyerli

mutvak

tenbel

pisiklet

eşki

heycan

kiprik

ahçı

makina

eyitim

ayle

traş

kavaltı

poaça

sovan

kağıd

YAZIM YANLIŞI ETKİNLİKLERİ

Aşağıdaki cümlelerde yapılan yazım yanlışlıkları bularak noktalı yerlere doğrusunu yazalım:

- Mahallede herkez bayrama hazırlıkedyordu.

.....

- Kaç dakkadır markette onubekliyorum.

.....

- Sahilde boncuk pisikletiminarkadındankoşuyordu.

.....

- Tırafık polisi Dr. Haluk beye cezayazdı.

.....

TÜRKÇE

Aşağıdaki cümlelerde yapılan yazım yanlışlıkları bularak noktalı yerlere doğrusunu yazalım:

- Kedim mırmır bahçedeki ağaçlara tırmandı.

.....

- Dedemi 8 nisanda hastaneye götüreceğiz.

.....

- Gamze'nin evini bliyormusun?

.....

- Ablam istiklal ilkokulunda göreve başlayacak.

.....

- Sabah kırtasiyeden "pamuk prenses ve yedi cüceler" kitabını aldım.

.....

- Halam Yıldız mahallesinden ev aldı.

.....

- Kuzenim A.v. Haluk yurt dışına tatile gitti.

.....

- Dayımın 12 temmuz 2019 Salı günü düğünü var.

.....

- Tuz gölü ülkemizin en büyük 2.inci gölüdür.

.....

TÜRKÇE

1) Aşağıdaki altı çizili kelimelerden hangisinin yazımında yanlışlık yapılmıştır?

- A) Beni sınıfta herkes yanlışlandı.
- B) Rüzgardan elimdeki şemsiyeuçverdi.
- C) Soruların çoğunu yanlışcevapladı.

2) Aşağıdaki cümlelerin hangisinde sayıların yazımı ile ilgili yanlışlık yapılmamıştır?

- A) Kardeşim onbir yaşına girdi.
- B) Kumbaramda yüz 10 TL paravar.
- C) Ali'nin otuz sekiz tane misketi var.

3) Aşağıdaki cümlelerin hangisinde "mi" soru eki yanlış yazılmıştır?

- A) Ahmet pikniğe mi geliyor?
- B) Bakkaldan ekmekleri alıyor musun?
- C) Kardeşim eve geldimi?

4) Aşağıdaki cümlelerin hangisinde büyük harflerin kullanımıyla ilgili yanlışlık yapılmıştır?

- A) Köpeğim Tarçın bahçede uyuyor.
- B) Doktor Hakan Bey Ankara'yagidecek.
- C) Arabayı Zümrüt mahallesine parketti.

5) Aşağıdaki cümlelerin hangisinde yazım yanlışlığı vardır?

- A) Dayım 12 Nisan'da askerden gelecek.
- B) Babam her sabah milliyet gazetesi okur.
- C) Tuğlalı Köyü'nde akşam yangın çıktı.

Ahçı topladığı maydanozları tespiye koydu.

1 2 3 4 5

6) Yukarıdaki cümlede altı çizili sözcüklerden hangilerinin yazım yanlışlığı vardır?

- A) 1 ve 2
- B) 1ve4
- C) 2 ve 5

7) Aşağıdaki cümlelerin hangisinde büyük harflerin kullanımıyla ilgili bir yanlışlık yapılmıştır?

- A) Baharda Fırat Nehri coşkuyla akar.
- B) Cumhuriyet Bayramı'nda şiir okuyacağım.
- C) Tatilde İngilizce kursuna başlayacağım.

8) Aşağıdakilerden hangisi her zaman büyük yazılır?

- A) Çiçek
- B) Samsun
- C) Aslan

9) "24 Aralık günü tekiri doktora götürecekmisin?"

Yukarıdaki cümlede kaç tane yazım yanlışlığı vardır?

- A) 1
- B) 2
- C) 3