

2. SINIF



II. Hafta Fasikül
20-24 Nisan Kazanımları

EVDE EĞİTİM E-FASİKÜL' DE

YERKÖY ARGE

Yerköy İlçe Milli Eğitim Müdürlüğü'nün uzaktan eğitim sürecinde öğrencilerimiz için hazırladığı destek hizmetidir.

<http://yerkoy.meb.gov.tr>





Yerköy İlçe Millî Eğitim Müdürlüğü

Serdal BORA

İlçe Milli Eğitim Müdür V.

H.Hüseyin ASAR


Şube Müdürü

M.Suat ATİLA

Koordinatör ve Grafik Tasarım

Hazırlayanlar

Özlem KÜÇÜK
Evşen SAYICI
Ahmet YARICI
Ömer YILMAZ



2.SINIF ETKİNLİKLER

OKUMA-ANLAMA:



SAĞLIKLIYIM BEN

Mert benim adım. Akşamları erken yatar televizyonu çok seyretmem. Hele ki tablet ve bilgisayarı hiç sevmem. Hareket etmeyi, koşmayı spor yapmayı çok severim. Sabahları annemi hiç üzmeden kalkar, elimi yüzümü yıkarım. Kahvaltıda süt içerim. Kardeşim Fatma ise benim tam tersim. Geç yatar. Saatlerce televizyon izler. Sabahları da yataktan zor kalkar. Dedem bize geldiğinde “ Sağlıklı olmak için dengeli ve düzenli beslenip, uykumuza dikkat etmemiz gerekir” derdi. Hiç unutmam ben bu başarıyı ve mutluluğumu bu söze borçluyum.

Evşen SAYICI

TÜRKÇE

ETKİNLİK-1

Aşağıdaki soruları okuma parçasına göre cevaplayınız.

1- Mert nasıl bir çocukmuş?

2- Mert ne yapmayı severmiş?

3- Mert'in kardeşi Fatma nasıl bir çocukmuş?

4- Dedesi ne öğütlemiş?

ETKİNLİK-2

Hadi biraz eşleştirme yapalım.(eş anlamlıları)

1	asil		yıl
2	sene		soylu
3	çelimsiz		acele
4	fikir		yurt
5	vatan		düşünce
6	çabuk		sıskı
7	anıt		öğrenci
8	al		deprem
9	talebe		abide
10	zelzele		kırmızı

TÜRKÇE

Cümleleri kurallı hale getirerek yeniden yazar mısınız?

Gittin mi okula sen?

.....

Yaptık pasta çok güzel.

.....

Gelecek bize Aliler.

.....

BİLGİ KUTUM:

Devrik Cümle: İşin ortada ya da başta olduğu cümledir.

Örnek:

Yaptık çok ödev.

Kurallı Cümle: İşin sonda olduğu cümledir.

Örnek:

Çok ödev yaptık.

Hadi bu cümleleri kurallı ve anlamlı hale getirelim.

Yaptık-çabuk-ödevimizi-ben ve Ali.

.....

Piknik-dün-yaptık-ailecek.

.....

Çiziyorum-deftere-çok-güzel-resimler.

.....

Oturuyorlar-çok-sessiz-öğrenciler-sınıfta.

.....

TÜRKÇE

BİLGİ KUTUM:

Uzun Çizgi: (—): Yazıda konuşmaları belirlemek için konuşma başlarına konur.(Konuşma Çizgisi)

Yay ayrıçalarına uygun noktalamaları koyalım mı?

() Nereye gidiyorsun ()

() Markete gidiyorum ()

Yarışmayı 2 () bitirdim ()

Ayşe () Fatma ve Esmâ pazara gittiler()

Eyvah () süt taşı ()

Kimi aradın()

Ah () unutmuşum()

ETKİNLİK-3

Yazılan sözcükleri okuduktan sonra doğru yazılanların başına “D” yanlış yazılanların başına ise “Y” yazalım.

<input type="radio"/>	<input type="radio"/>	Perşembe	Öretmen	<input type="radio"/>	<input type="radio"/>
<input type="radio"/>	<input type="radio"/>	sovan	yalnız	<input type="radio"/>	<input type="radio"/>
<input type="radio"/>	<input type="radio"/>	kirbit	yanlış	<input type="radio"/>	<input type="radio"/>
<input type="radio"/>	<input type="radio"/>	kipri	eylence	<input type="radio"/>	<input type="radio"/>
<input type="radio"/>	<input type="radio"/>	dinneme	televizyon	<input type="radio"/>	<input type="radio"/>
<input type="radio"/>	<input type="radio"/>	pendir	elektirik	<input type="radio"/>	<input type="radio"/>
<input type="radio"/>	<input type="radio"/>	sipor	düyme	<input type="radio"/>	<input type="radio"/>
<input type="radio"/>	<input type="radio"/>	herkez	tiren	<input type="radio"/>	<input type="radio"/>

TÜRKÇE

ETKİNLİK -4

5N İK çalışmalarını başlasın mı?

1. Ayşe kütüphanede araştırma yapıyormuş.

Kim?.....

Nerede?.....

Ne?.....

2. Pazar günü köyde kar yağacakmış.

Ne zaman?.....

Nerede?.....

Ne?.....

3. Kitabım evde kaldı.

Ne?.....

Nerede?.....

4. Esin yarın pikniğe gidecekmiş.

Kim?.....

Ne zaman?.....

Nereye?.....

MATEMATİK

Bilgi Köşesi



Analog Saat



Dijital Saat

ÇEYREK SAATLER

Analog saatlerde yelkovan 3 ve 9'un üstünde olduğu zaman saati **çeyrek geçiyor** ya da çeyrek var şeklinde söyleriz.

ÇEYREK GEÇİYOR

Analog saatlerde yelkovan 3'ün üstünde olduğu zaman saati **çeyrek geçiyor** şeklinde söyleriz. Akrep iki rakam arasını gösterir. Soldaki (önce olan) rakam söylenir ve çeyrek geçiyor denir. Örnek: 04:15 saat dördü çeyrek geçiyor , 07:15 saat yediyi çeyrek geçiyor , 11:15 saat on biri çeyrek geçiyor gibi vb.



04 : 15

Okunuşu: Saat dördü çeyrek geçiyor.



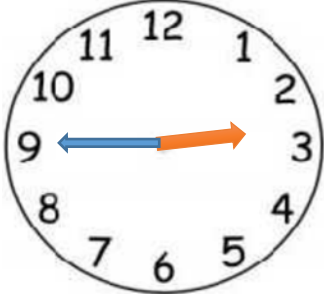
07 : 15

Okunuşu: Saat yediyi çeyrek geçiyor.

MATEMATİK

ÇEYREK VAR

Analog saatlerde yelkovan 9'un üstün Akrep iki rakam arasını gösterir. Sağdaki (sonra olan) rakam söylenir ve çeyrek var denir. Örnek: 02.45 saat üçe çeyrek var, 11:45 saat on ikiye çeyrek var, 06:15 saat yediye çeyrek var gibi vb. de olduğu zaman saati **çeyrek var** şeklinde okuruz.



02 : 45

Okunuşu: Saat üçe çeyrek var.




11 : 45

Okunuşu: Saat on ikiye çeyrek var.



*1 Saat
60
Dakikadır.*



Analog saatlerde art arda gelen iki sayı arası 5 dakikadır. Saat 1'den 2'ye gelene kadar yelkovan bir tam tur atarak sırayla 5 - 10- 15 - 20 - 25 - 30 - 35 - 40 - 45 - 50 - 55 ve 60 dakikayı tamamlar. Bu sırada akrep 1'den 2'ye ilerler.

1 saat = 60 dakika

MATEMATİK



Bakalım bu hafta bilgi sandığından neler çıkacak? Kitaplar okundu ve açıldı bilgi dolu sandık.

60

Tam saat 60 dakikadır.

30

30

Yarım saat 30 dakikadır.

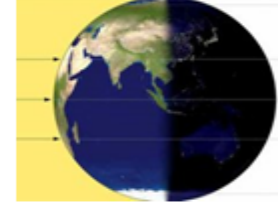
15

15

15

15

Çeyrek saat 15 dakikadır.



1 GÜN 24 SAATTİR.

YARISI GÜNDÜZ,

YARISI **GECEDİR.**

Yaşasın kitap okumak! Kitaplar her kilidi açar.

SAATLERİ OKUYALIM

Aşağıdaki analog saatleri okuyarak ;dijital saatlerin üzerine yazınız.



MATEMATİK

BİLİYORUM SAAT OKUMAYI ÇOK SEVDİNİZ SEVGİLİ ÇOCUKLAR. OKUMAYA DEVAM EDELİM ÖĞRETMENİM,BİRAZ DAHA SORAR MISINIZ DEDIĞİNİZİ DUYAR GİBİYİM.BEN SİZİ HİÇ KIRAR MIYIM?



ŞİMDİ SIRA SENDE BEN SAATİN KAÇ OLDUĞUNU SÖYLEYECEĞİM,SİZ DE AKREP VE YELKOVANI ÇİZECEKSİNİZ. AKREP **MAVİ** ,YELKOVAN **KIRMIZI** OLMALI.KOLAY GELSİN ÇOCUKLAR.

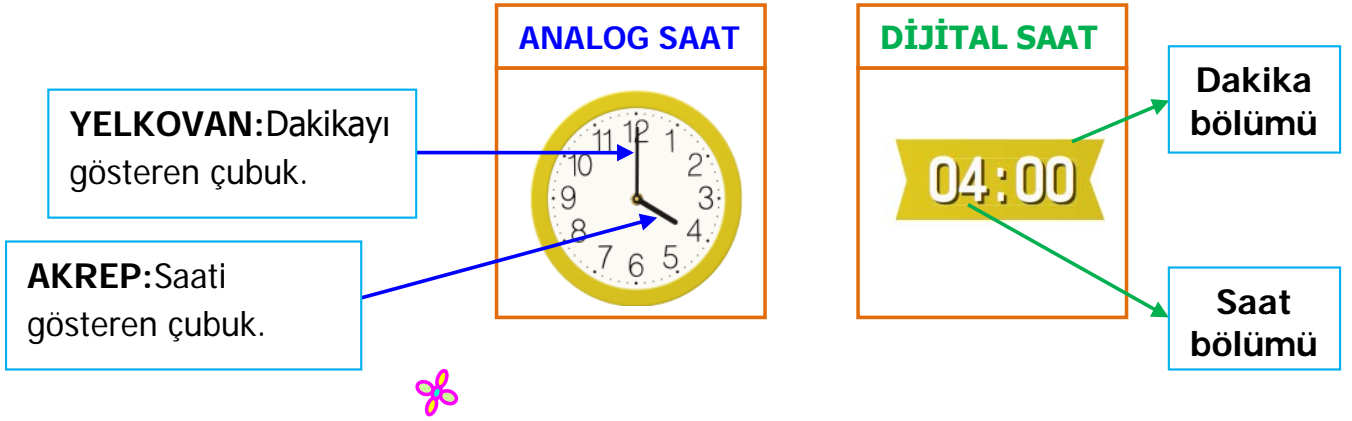


MATEMATİK

ZAMAN ÖLÇME

Saati Okuyalım ve Ayarlayalım

- ♣ Analog saatte, saat başlarında yelkovan 12'yi gösterir.
- ♣ Dijital saatte, saat başlarında " : " işaretinden sonraki kısım " 00 " gösterir.



- ♣ Analog saatte, **yarım saatlerde yelkovan 6'yı gösterir. Akrep ise iki sayının tam ortasını** gösterir.
- ♣ Dijital saatte, yarım saatlerde " : " işaretinden sonraki kısım "30" u gösterir.



Görüldüğü gibi her iki modelde de saat üç buçuktur.

MATEMATİK

♣ Analog saatte **çeyrek varken** yelkovan 9'u gösterir.

♣ Dijital saatte, **çeyrek varken** ":" işaretinden önceki kısım çeyrek vaktin kaldığı saatin 1 eksiğini gösterirken sonraki kısım " 45 " i gösterir.

ÖRNEK: "2'ye çeyrek var." → 01:45

"10'a çeyrek var." → 09:45

ANALOG SAAT



DİJİTAL SAAT

01:45



♣ Analog saatte **çeyrek geçiyorken** yelkovan daima 3'ü gösterir.

♣ Dijital saatte çeyrek geçiyorken ":" işaretinden sonraki kısım "15"i gösterir.

ANALOG SAAT



DİJİTAL SAAT


10:15



Görüldüğü gibi her iki saatte de saat onu çeyrek geçiyordur.

MATEMATİK


ÖĞLEDEN ÖNCE VE ÖĞLEDEN SONRA



Bir gün 24 saattir; ama saatlerimizin üzerindeki sayılar birden on ikiye kadardır.Öğle vakti olduğunda saat tam on ikidir.Bu yüzden öğleden önceki saatleri okurken şu ana kadar saatleri okumayı öğrendiğimiz gibi okuruz çocuklar.Örneğin saat 05:00,saat 11:30,saat 03:15 ve saat 08:45 gibi...Şimdi gelelim öğleden sonraki saatleri okumaya;yani saat 12:00'den sonraki saatleri okumaya.Bu da çok basit.Hadi gelin birlikte öğleden sonraki saatleri okumayı ve dijital saatlere yazmayı öğrenelim.

ÖĞLEDEN SONRA

Öğleden sonra saatleri okurken şöyle yapıyoruz.Saatimize bakıyoruz,akrebin kaçın üstünde olduğunu kontrol ediyoruz.Akrep birin üzerindeyse on ikinin üzerine bir sayıyoruz.Saat 13:00 diyoruz.Örneğin akrep beşin üzerindeyse on ikinin üzerine beş sayıyoruz,saat 17:00 diyoruz.



Yandaki saati gördüğümüzde hemen kaç deriz?

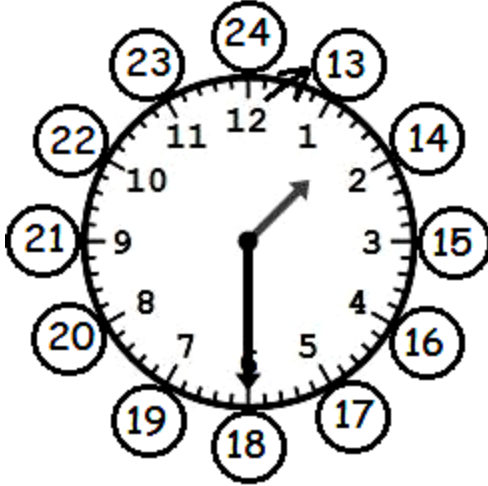
Saat 04:00

Öğleden önce saat 04:00

Öğleden sonrayı hesaplamak için,hemen 12'nin üzerine 4 sayalım ya da 12 ile 4 'ü toplayalım.Zihinden toplarsın biliyorum.

Kaç eder ?16

Öğleden sonra :16:00



Yandaki saati gördüğümüzde hemen kaç deriz?

Saat:01:30

Öğleden önce 01:30

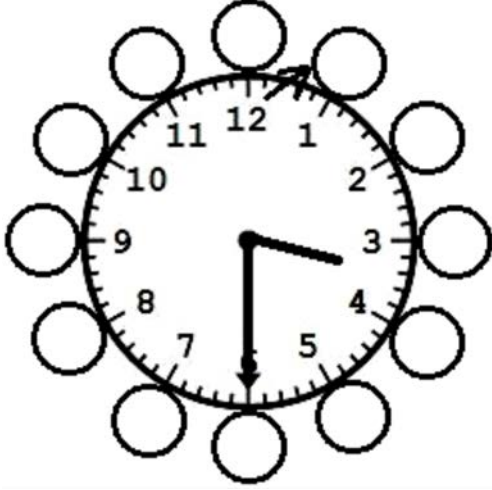
Öğleden sonrayı bulmak için,hemen 12'nin üzerine 1 sayalım ya da 12 ile 1'i toplayalım.Zihinden topladın bile biliyorum.

Kaç eder?13

Öğleden sonra 13:30

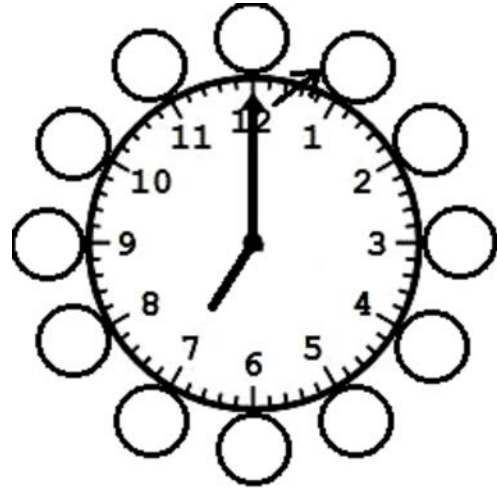
DİKKAT:Şunu unutma zeka küpüm.Öğleden sonraki saatleri okurken de saat 3,saat 5 diye okuruz;ama dijital saatlere yazarken saat 15:00,saat 17:00 diye yazarız. Örneğin akşam haberlerinin başlama saati 19:00 diye yayınlanır televizyon

ÖRNEKLER




Öğleden önce: Saat 03:30

Öğleden sonra: Saat 15:30




Öğleden önce: Saat 07:00

Öğleden sonra: Saat 19:00



Öğleden önce: Saat 09:00

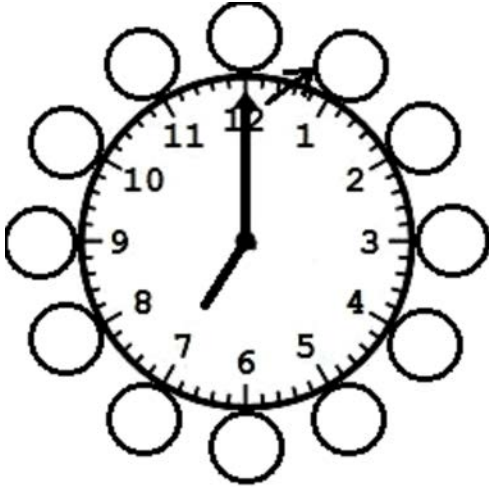
Öğleden sonra: Saat 21:00



Öğleden önce: Saat 08:30


Öğleden sonra: Saat 20:30

ALİŞTIRMALAR



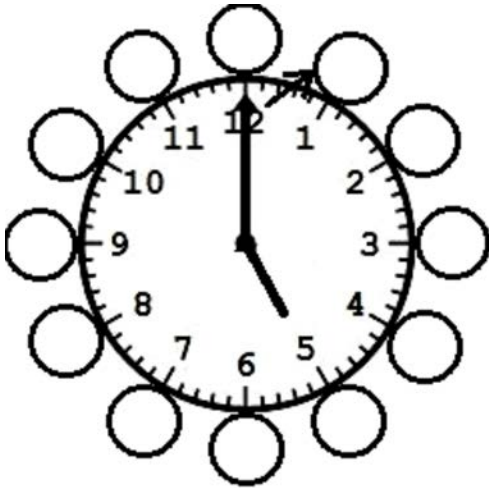
Öğleden önce:

Öğleden sonra:



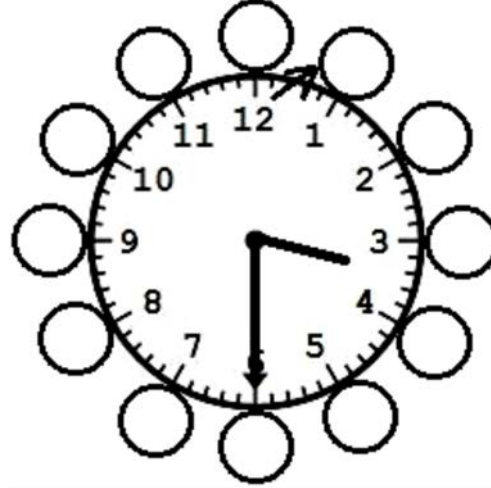
Öğleden önce:

Öğleden sonra:



Öğleden önce:


Öğleden sonra:



Öğleden önce:


Öğleden sonra:

MATEMATİK




Öğleden önce:

Öğleden sonra:




Öğleden önce:

Öğleden sonra:



Öğleden önce:

Öğleden sonra:



Öğleden önce:

Öğleden sonra:

MATEMATİK

PROBLEMLER

1.Yozgat'tan saat 10:00'da kalkan otobüs 7 saat sonra İstanbul'a gelmiştir.Buna göre otobüs saat kaçta İstanbul'da olmuştur?

A)15:00 B)17:00 C)19.00

2.Saat 06:00 iken akrep hangi sayıyı gösterir?

A)12 B)9 C)6

3.Saat 12.00 'de okula giden Efe 5 saat sonra evine dönmektedir.Efe eve geldiğinde sat kaçtır?

A)13:00 B)17:00 C)20:00

4) 17:15 Yandaki saatin 3 saat sonrası hangisidir?

A) 20:15 B) 21:15 C) 19:15

5)Aslıhan günde 9 saat uyumaktadır. Aslıhan günün kaç saati uyanık kalmaktadır?

A)16 B)14 C)13

HAYAT BİLGİSİ

MİLLÎ GÜNLERİMİZ VE BAYRAMLARIMIZ

Milletimiz için önemli olayların yıl dönümlerini millî gün veya millî bayram olarak kutlarız.

Millî gün ve bayramlar, milletimizin birlik ve beraberliğini güçlendirir. Ortak duyguları paylaşmamızı sağlar. Aşağıdaki renkli bölgeleri okuyalım ve milli bayramlarımızı öğrenelim.

Sizlerde 15 Temmuz Milli Birlik ve Demokrasi gününü araştırınız.

23 Nisan Ulusal Egemenlik ve Çocuk Bayramı

Atatürk, 23 Nisan Bin Dokuz Yüz Yirmi'de Türkiye Büyük Millet Meclisi'ni açtı. 23 Nisan gününü de çocuklara armağan etti. Dünyada çocuklara armağan edilmiş tek bayramdır.



19 Mayıs Atatürk'ü Anma, Gençlik ve Spor Bayramı

Atatürk 19 Mayıs Bin Dokuz Yüz On Dokuz'da Samsun'a geldi. Kurtuluş Savaşı'nı başlattı. Atatürk'ün isteği üzerine bu bayram gençlere armağan edildi.



30 Ağustos Zafer Bayramı

30 Ağustos, Atatürk'ün Kurtuluş Savaşı'nı zaferle sonuçlandığı gündür. Bu nedenle 30 Ağustos Zafer Bayramı olarak kutlanır.



29 Ekim Cumhuriyet Bayramı

29 Ekim günü Atatürk, Türkiye Büyük Millet Meclisi'nde Cumhuriyet'i ilan etti. Böylece her yıl 29 Ekim günü Cumhuriyet Bayramı olarak kutlanmaya başlandı.



HAYAT BİLGİSİ

A - Aşağıda verilen görseller ile kutucukları eşleştirelim.

1		Atatürk Türkiye Büyük Millet Meclisini açtı ve bu günü çocuklara armağan etti.
2		Atatürk Cumhuriyet'i ilan etti. Tüm yurttta coşkuyla kutlanır.
3		Kurtuluş savaşımızın başlangıcıdır. Atatürk bu bayramı gençlere armağan etti.
4		Kurtuluş savaşının zaferle sonuçlandığı gündür. Yurdumuzdan düşmanları attığımız için coşkuyla kutlarız.
5		Düşmanlar devletimizin yönetimini ele geçirmek istedi. Birlik ve dayanışma içinde sokaklara dökülen halkımız, demokrasisine ve devletine sahip çıktı .amaçlarına ulaşmalarını engelledi.

HAYAT BİLGİSİ

B- Aşağıda verilen çoktan seçmeli soruları cevaplayınız.

1- Milli bayramlar ile ilgili ifadelerden hangisi yanlıştır?

- a- Milli bayramlar birlik ve beraberlik sağlar.
- b- Milli bayramlar hep beraberce coşkuyla kutlanır.
- c- Milli bayramlarda büyüklerimizin ellerini öperiz.



Bugün Türkiye Büyük Millet Meclisini açıyorum. Bu değerli günü siz çocuklara armağan ediyorum.

2- Yukarıda verilen açıklamaya göre Atatürk'ün çocuklara armağan ettiği Milli Bayramımız hangisidir?

- a- 30 Ağustos Zafer Bayramı
- b- 23 Nisan Ulusal Egemenlik Ve Çocuk Bayramı
- c- 29 Ekim Cumhuriyet Bayramı

3-

Milli bayramlarda ortak duyguları paylaşıyoruz

Milli bayramlarda akraba ziyaretleri yaparız.


Milli bayramlar coşkuyla kutlanır.

Yukarıda Milli bayramlarımız ile ilgili ifadeler şekillerin içine yazılmıştır. Buna göre hangi şekildeki ifade yanlıştır?


a-



b-



c-



HAYAT BİLGİSİ

C- Aşağıda verilen soruların cevaplarını yazınız.

E

1- 30 Ağustos Zafer Bayramını neden her yıl coşkuyla kutlarız?

.....
.....
.....

2- 23 Nisan Ulusal Egemenlik ve Çocuk Bayramını kim çocuklara armağan etmiştir ?

.....

3-Atatürk 19 Mayıs'ta hangi ilimize gelerek Kurtuluş Savaşını başlattı ?

.....

D- Aşağıda verilen boşluk doldurmaları uygun kelimelerle tamamlayınız.

Cumhuriyet

Coşkuyla

Zafer

23 NİSAN

Milli Bayram

1-Kurtuluş savaşını kazandığımız için 30 Ağustos'u bayramı olarak kutlarız.

2-Milli bayramlarımızı kutlarız.

3-Dünyada çocuklara armağan edilmiş tek bayramdır.

4-Atatürk 29 Ekim'i bayramı ilan etti.

5- Önemli olayların yıl dönümlerini olarak kutlarız.

İNGİLİZCE



Hazırlayan

Ahmet YARIÇI

PET SHOP



dog

cat

rabbit



cat

fish

rabbit



fish

bird

turtle



fish

cat

mouse



parrot

cat

turtle



mouse

cat

rabbit



dog

fish

rabbit



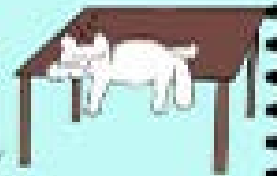
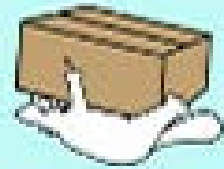

turtle

parrot

rabbit



in - on - under



Match.



The cat is **in** the car.



The cat is **on** the car.



The cat is **under** the table.



The cat is **under** the car.



The cat is **on** the table.

PETS

Drag and drop.



dog

rabbit

cat

fish

mouse

bird

turtle

parrot



Look and match



IT CAN'T FLY



IT CAN'T WALK



IT CAN'T CLIMB




IT CAN'T SWIM




IT CAN'T JUMP

EĞLENCE ZAMANI



İki resim arasındaki 10 farkı bulabilir misiniz?



EĞLENCE ZAMANI

Haydi Sudoku yapalım..

2	1		
	3	2	
			4
1			

1		3	4
	3		
2			
			1

		1	2
	1		3
4		2	

4	2		
1			
	1	2	
			3

			3
4			
	1	3	
3		2	

	3	2	
			4
1			
		1	2

	2		
		2	
3		4	
2			1

			1
4			2
2			4
		2	3

4			
			2
2		1	4
	4		