

3. SINIF



1. Hafta Fasikül
13-17 Nisan Kazanımları

EVDE EĞİTİM E-FASİKÜL' DE

YERKÖY ARGE

Yerköy İlçe Milli Eğitim Müdürlüğü'nün
uzaktan eğitim sürecinde öğrencilerimiz
için hazırladığı destek hizmetidir.

<http://yerkoy.meb.gov.tr>



ABC
AB





Yerköy İlçe Millî Eğitim Müdürlüğü

Serdal BORA

İlçe Millî Eğitim Müdür V.

H.Hüseyin ASAR

Şube Müdürü

M.Suat ATİLA

Koordinatör ve Grafik Tasarım

Hazırlayanlar

Cavidan KURU
Ersin BÜYÜKBAŞ
Bekir ÇAKICI
Cihan BARDAK

Şht. Kamil Çelikkaya İlkokulu
Reşat Akyön İlkokulu
TOKİ İlkokulu
Atatürk İlkokulu



HAYAT BİLGİSİ

Tarihi Eserlerimiz Ve Doğal Güzelliklerimiz:

1)



Aşağıdakilerden hangisi doğal güzelliğdir?

- A) Süleymaniye Cami
- B) Peri Bacaları
- C) Dolmabahçe Sarayı

2)



Resimde görülen Nemrut Kaya Mezarları hangi ilimizdedir?

- A) Adana
- B) Bursa
- C) Adıyaman

3)



Aşağıdaki bilgilerden hangisi doğrudur?

- A) Ülkemizin iki tarafı denizlerle çevrilidir.
 - B) Başkentimiz İstanbul'dur.
 - C) Ülkemiz, doğal ve tarihi güzellikler bakımından çok zengindir.
- 4) Aşağıdakilerden hangisi İzmir ilimizde bulunmaktadır?

A)



B)



C)



5) Aşağıdaki illerimizden hangisinde kış turizmi gelişmiştir?

- A) Antalya
- B) İzmir
- C) Bursa

6)



Görselde bulunan Selimiye Camii, kim tarafından inşa edilmiştir ve hangi ilimizdedir?

- A) Mimar Selim-İstanbul
- B) Mimar Ahmet- Ankara
- C) Mimar Sinan-Edirne

7) Tarihi eserlerin sergilendiği ve korunduğu yere ne ad verilir?

- A) Araştırma Merkezi
- B) Müze
- C) Rasathane

8) Bir ülkede bulunan tarihi eserleri tanımak neden önemlidir?

- A) Boş vakitlerimizi değerlendirmeye yarar.
- B) Ailemizle eğlenceli zaman geçirmemizi sağlar.
- C) Geçmişimizle ilgili bilgi edinmemizi sağlar.

Başarılar Dilerim 😊

HAYAT BİLGİSİ

Aşağıdaki tarihi yerleri buldukları şehir ile eşleştiriniz:

- | | | | |
|---|-------------------------|--|-----------|
| 1 | PAMUKKALE TRAVERTENLERİ | | ANTALYA |
| 2 | PERİBACALARI | | İZMİR |
| 3 | ASPENDOS TİYATROSU | | ŞANLIURFA |
| 4 | SÜMELA MANASTIRI | | KARABÜK |
| 5 | EFES ANTİK KENT | | KARS |
| 6 | BALIKLI GÖL | | DENİZLİ |
| 7 | İSHAKPAŞA SARAYI | | TRABZON |
| 8 | ÖLÜDENİZ | | NEVŞEHİR |
| 9 | SAFRANBOLU EVLERİ | | MUĞLA |

Hey çocuklar! Yandaki kelimeler, aşağıdaki karelerin içerisine gizlenmiş. Haydi, birlikte bulup, onları saklandıkları yerden çıkaralım. Bu haylaz kelimeler, soldan sağa, sağdan sola, yukarıdan aşağıya, aşağıdan yukarıya doğru veya çapraz yerleştirilmiş olabilir. Hadi bakalım, kolay gelsin...

B	Z	A	S	P	E	N	D	O	S	B	Ç
I	A	Y	Y	A	K	F	V	P	S	E	H
R	T	L	E	M	L	C	Ö	Ü	A	S	G
A	R	A	I	U	İ	T	M	Ğ	F	A	Y
L	A	T	İ	K	M	E	G	J	R	F	T
A	B	N	Z	K	L	R	E	B	A	R	D
C	Z	A	R	A	A	I	B	T	N	U	E
A	O	J	Ğ	L	T	R	G	N	B	I	N
B	N	O	S	E	F	E	S	Ö	O	L	İ
İ	S	H	A	K	P	A	Ş	A	L	N	Z
R	A	P	M	U	Ğ	L	A	Ç	U	A	L
E	K	A	R	A	B	Ü	K	K	Ü	Ş	İ

SAFRANBOLU
ÖLÜDENİZ
İSHAKPAŞA
BALIKLI GÖL
EFES
SÜMELA
ASPENDOS
PERİBACALARI
PAMUKKALE
ANTALYA
İZMİR
KARS
ŞANLIURFA
KARABÜK
DENİZLİ
TRABZON
MUĞLA

HAYAT BİLGİSİ

Aşağıdaki cümleleri uygun sözcüklerle tamamlayın:

<i>doğal</i>	<i>Sümela Manastırı</i>	<i>yüksek</i>	<i>zenginliği</i>
<i>müzelerde</i>	<i>Uludağ</i>	<i>uygarlıklara</i>	<i>zarar</i>

- ❖ Tarihi eserlere vermemeliyiz.
- ❖ Düden Şelalesi ve Peri Bacaları güzelliklerimizdendir.
- ❖ Ülkelerin tarihi eserleri..... sergilenir.
- ❖ hem yerli hem yabancı turistler tarafından çok ilgi gören bir kış turizm noktasıdır.
- ❖ Bir ülkenin para ile değil, tarihi ile ölçülür.
- ❖ Tarihini bilmeyen toplumlar medeniyet seviyesine ulaşamazlar.
- ❖ Ülkemiz, geçmiş yıllarda bir çok ev sahipliği yapmıştır.
- ❖ Karadeniz'in incisi Trabzon ilimizin gezilecek güzellikleri arasında..... da bulunur.



Devler gibi eserler bırakmak için, karıncalar gibi çalışmak lazım...

N.Fazıl KISAKÜREK

TÜRKÇE

HİKÂYE TAMAMLAMA ETKİNLİĞİ

Sevgili öğrenciler, aşağıda verilen hikayeyi görsellerden yararlanarak ve hayal gücünüzü kullanarak tamamlayınız...

ESKİ EV

Okul çıkışı genelde Melih ve Ravza ile evimizin önündeki parkta buluşup oyunlar oynardık. Bazen Ravza sevimli köpeği Karabaş'ı da getirirdi. Karabaş çok sevimli ve akıllı bir köpekti. Yine bir gün okul çıkışı parkta buluştuk. Oyun oynarken yağmur yağmaya başladı. Yağmur yağınca evimizin karşısında bulunan eski eve girdik. Yağmur yağmaya devam ediyordu. Bu arada Karabaş sürekli garip bir şekilde havlıyor ve kapıya doğru gidip geliyordu. Birden bire eski evden önce bir çatırdama sesi geldi ve ardından büyük gürültüyle üstümüze yıkıldı. Üçümüzde merdiven boşluğunda sıkışıp kalmıştık. Yalnızca Karabaş'ın havlamasını duyuyorduk.



TÜRKÇE

Aşağıda verilen hikâye unsurlarından ve görselden yararlanarak bir öykü yazınız.

Kahramanlar

Çiftçi ve korkuluk
İclal ve balık
Avcı ve ayı

Olaylar

Kargaların buğdayları yemesi
Yakalanan balığın konuşması
Ayının avcıyı kovalaması

Yer

Tarla
Göl
Orman



Yukarıdaki oluşturduğunuz hikâye ile ilgili üç tane soru hazırlayınız ve cevaplayınız.

Soru1:

Cevap:

Soru2:

Cevap:

Soru3:

Cevap:

TÜRKÇE

OLAYLARI OLUŞ SIRASINA KOYMA ETKİNLİĞİ

Aşağıdaki karışık halde verilen cümleleri oluş sırasına uygun olarak numaralandırınız.

- Ayı, çocuğun yanına gelip başına doğru eğilip, bakıp gitmiş.
- Birisi koşup ağaca çıkmış diğeri yüzükoyun yere yatmış.
- "Bana arkadaşları tehlikede iken kaçıp giden kişilerden sakınmamı söyledi!"
- İki arkadaş ormanda yürürken karşlarına bir ayı çıkmış.
- Ağaçtan inen çocuk arkadaşının yanına gelip ayının ona ne fısıldadığını sormuş.
- Ölü taktiği ayıdan yapıp kurtulmayı düşünmüş.
- Zafer Müdür'den izin alarak mezun olduğumuz sınıfa gittik.
- Çocukluk arkadaşlarımızla mahallede okuduğumuz okulda buluşmaya karar verdik.
- Sırada otururken geçirdiğimiz günler gözümüzde canlandı.
- Arkadaşlarla söyleştığımız saatte okulda buluştuk.
- Herkes sınıfta önceden oturduğu sıralara oturdu.
- Sonunda tekrar buluşmak üzere ayrıldık.

Aşağıda karışık olarak verilen cümleleri oluş sırasına göre (1) önce, (2) sonra, (3) daha sonra ve (4) en sonunda ifadelerinden uygun olanlarını noktalı yerlere yazarak numaralandırınız.

- uçurtmamız kuşlar gibi gökyüzünde süzülüyordu.
-annemden harçlık alarak birlikte kırtasiyeye gittik.
- arkadaşım Enes ile uçurtma yapmaya karar verdik.
- amcamdan yardım alarak uçurtmamızı yapmaya başladık.

TÜRKÇE

Aşağıdaki paragrafta olayların oluş sırasını bozan cümleyi bulup paragrafın altındaki noktalı yerlere yazınız:



Top oynamak için evimizin arkasındaki boş arazide buluştuk. Hemen iki gruba ayrıldık. Her zamanki gibi Poyraz geç kalmıştı. Poyraz karşı takıma geçti. Tam oyuna dalmıştık ki yağmur yağmaya başladı. Oyunu yarıda bırakıp evlerimize gittik. Dedesinin köyden geldiğini söyledi.

.....

Pencereden yağmurun yağışını izliyordum. Serçeler evin balkonuna konduğunu gördüm. Mutfaktan ekme aldım. Yavaşça balkon kapısını açtım. İlk başta biraz tedirgin oldular. Hepsini bitirdiler. Tekrar mutfaktan ekme alıp balkona geldim. Serçelere verdim. Biraz daha yiyip uçuverdiler. Ekmekleri atınca hepsi bir anda ekme kırıntılarının başına uçuştular.

.....

Aşağıda verilen görselleri oluş sırasına göre numaralandırarak, uygun metinler yazınız:



.....

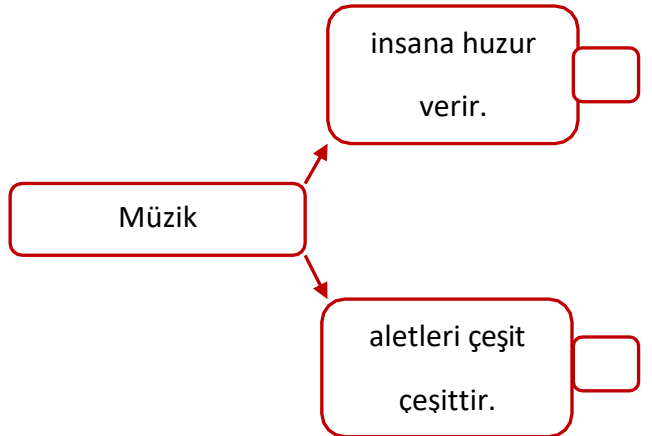
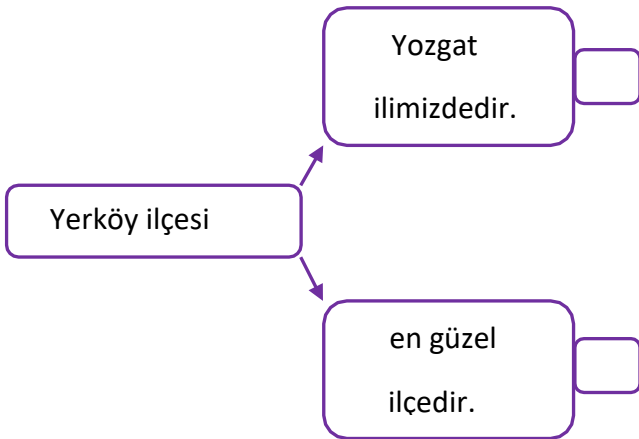
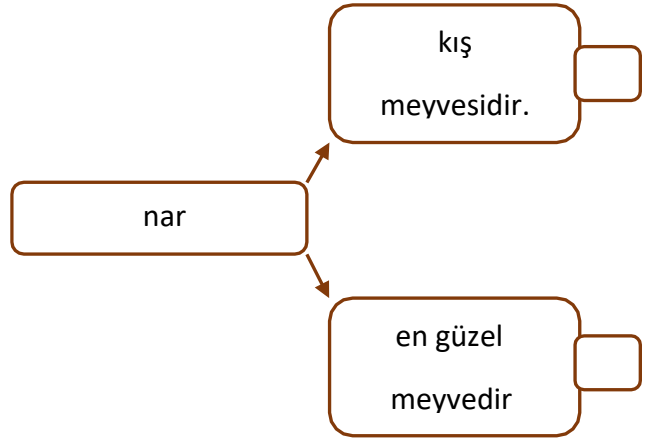
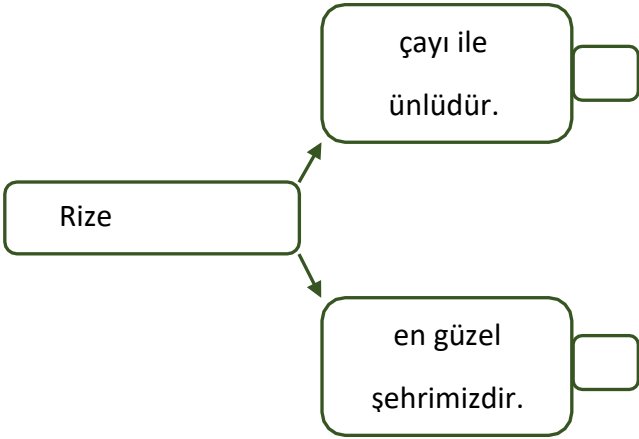
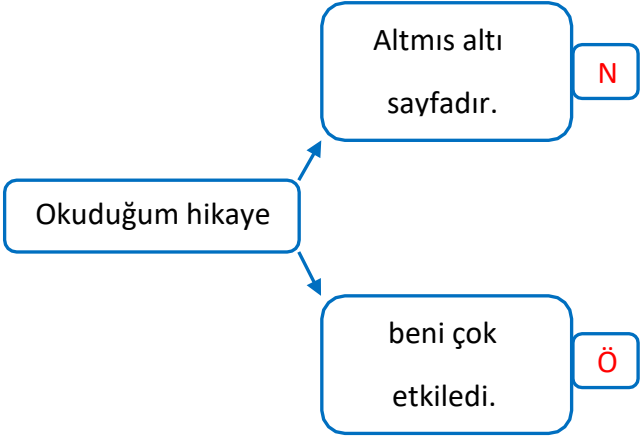


.....

TÜRKÇE

ÖZNEL NESNEL İFADELER ETKİNLİĞİ

Haydi çocuklar, cümlelere örnekteki gibi öznel ifade belirtenlere "Ö", nesnel ifade belirtenlere "N" harfi yazınız.



TÜRKÇE

Aşağıdaki cümlelere örnekteki gibi öznel ifade belirtenlere "Ö", nesnel ifade belirtenlere "N" harfi yazınız:

N

Dikdörtgenin dört kenarı vardır.

Berat, çok güzel şarkı söyler.

Sumeyye' ye pembe elbise yakışır.

Ankara, Türkiye'nin başkentidir.

Kitap en iyi arkadaştır.

Babamın kız kardeşi halamdır.

Telefon bir iletişim aracıdır.

Geceleri yıldızları izlemek çok keyiflidir.

Evimizde üç oda bir salon vardı.

Türkiye'nin en güzel şehri Yozgat 'tır.

En güzel mevsim yaz mevsimidir.

Karenin dört kenarı vardır.

Kırmızı en güzel renktir.

mart, nisan ve mayıs ilkbahar aylarıdır.

TÜRKÇE

Aşağıdaki sözcükleri öznel olacak şekilde örnekteki gibi tamamlayınız:

➤ Köpeğimiz çok sevimlidir.

➤ Kuşlar

➤ Otomobilim

➤ Kitaplar

➤ Denizler

➤ Gece

➤ Şehrimiz

➤ Biber

➤ Rüzgar

Aşağıdaki sözcükleri nesnel olacak şekilde örnekteki gibi tamamlayınız.

➤ Kedimiz ağaca çıktı.

➤ Balıklar

➤ Arabam

➤ Kitaplar

➤ Orman

➤ Akşam

➤ Okulumuz

➤ Domates

➤ Rüzgar

TÜRKÇE

1) Aşağıdaki cümlelerin hangisinde "nesnel" bir ifade vardır?

- A) En güzel ay haziran ayıdır.
- B) Soru çözmek çok sıkıcıdır.
- C) Öğretmenimiz sınıfı üç gruba ayırdı.

"İclallerin evinin"

2) Yukarıdaki ifade hangisi ile tamamlanırsa nesnel bir ifade olur?

- A) salonu çok güzel
- B) rengi çok hoşuma gitti.
- C) garajı var.

3) Aşağıdaki tümcelerin hangisinde öznel bir ifade yoktur?

- A) Çamaşır makinası elektrikle çalışır.
- B) Resim yapmak çok zevklidir.
- C) Çevremizde temizliğe dikkat edilmiyor.

4) Aşağıdaki cümlelerin hangisinde nesnel bir ifade vardır?

- A) Adem'in tıraşı çok güzel oldu.
- B) En başarılı sınıf bizim sınıftır.
- C) Kardeşim benden uzun boyludur.

5) Aşağıdaki cümlelerin hangisinde öznel bir ifade vardır?

- A) Bence uzun saç sana çok yakışıyor.
- B) Bir yıl yirmi on iki aydır.
- C) Türkiye'nin milli marşı İstiklal Marşı'dır.

6) Aşağıdaki cümlelerin hangisinde nesnel bir ifade vardır?

- A) Bu eteği beğeneceğini hiç zannetmiyorum.
- B) Ata binmeyi çok seviyorum.
- C) Bir gün 24 saattir.

7)

- I. 3/ C sınıfında 10 kız 9 erkek öğrenci var
- II. Doğum gününde alınan hediyeler çok güzeldi.
- III. Meyvelerin en güzeli nardır.

Yukarıdaki cümlelerin hangisinde öznel bir anlatım vardır?

- A) I-II
- B) I-III
- C) II-III

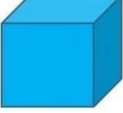






8) Aşağıdaki tümcelerin hangisinde öznel bir ifade vardır?

- A) Türkiye'nin en büyük şehri İstanbul'dur.
- B) Köyde yaşamaya doyum olmaz.
- C) Peribacaları, Nevşehir ilimizdedir.

MATEMATİK

Geometrik Cisimler ve Geometrik Şekiller:

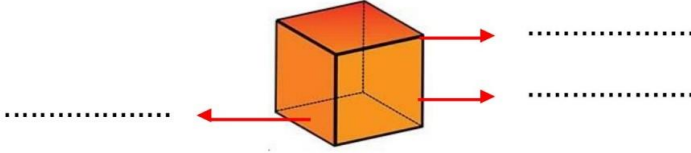
Aşağıdaki verilen geometrik cisimlerin özelliklerine göre tabloyu doldurunuz.

Geometrik Cisim	Geometrik Cismin Adı	Köşe Sayısı	Ayrıt Sayısı	Yüz Sayısı
				
				
				
				
				
				
				

MATEMATİK


Aşağıdaki geometrik cisimlerin özelliklerine göre noktalı yerleri doldurunuz.

Küp



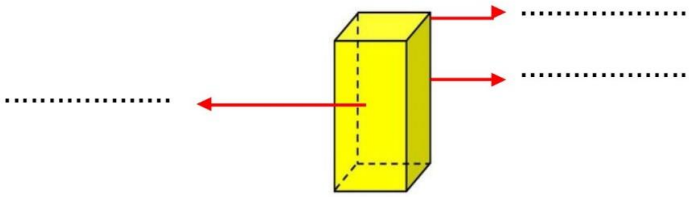
..... yüzü,
..... köşesi,
..... ayrıtı, Bütün
tüm yüzleri
..... bölgedir

Dikdörtgen Prizma



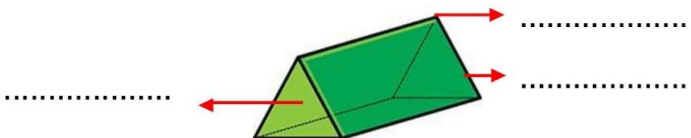
..... yüzü,
..... köşesi,
..... ayrıtı, Bütün
tüm yüzleri
..... bölgedir

Kare Prizma



..... yüzü,
..... köşesi,
..... ayrıtı,
2 yüzü
4 yüzü
..... bölgedir.

Üçgen Prizma

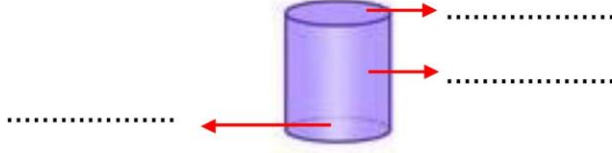


..... yüzü,
..... köşesi,
..... ayrıtı,
2 yüzü
3 yüzü
..... bölgedir.

MATEMATİK

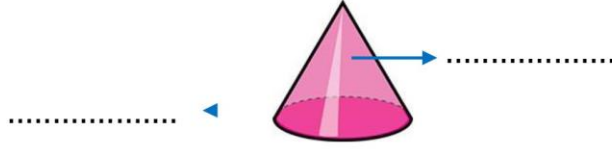
Aşağıdaki geometrik cisimlerin özelliklerine göre noktalı yerleri doldurunuz.

Silindir



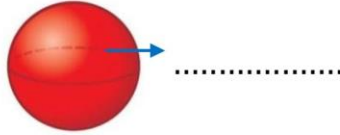
..... yüzü vardır.
..... yoktur.
..... yoktur.
2 yüzü
1 yüzü
bölgedir.

Koni



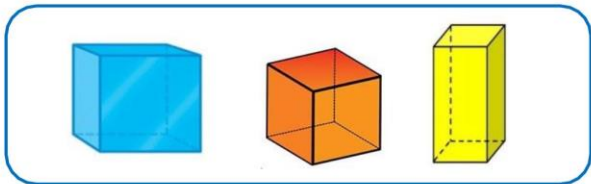
..... yüzü vardır.
..... yoktur.
..... yoktur.
1 yüzü
bölgedir.

Küre



..... yüzü vardır.
..... yoktur.
..... yoktur.

Aşağıdaki geometrik cisimlerin benzer ve farklı özelliklerini yazınız.

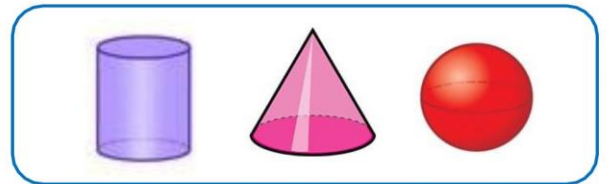


Benzer Özellikleri

.....
.....
.....
.....

Farklı Özellikleri

.....
.....
.....
.....



Benzer Özellikleri

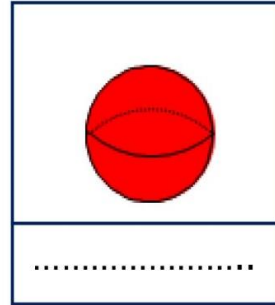
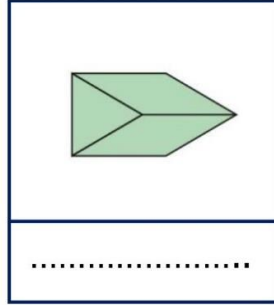
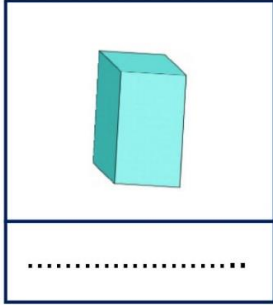


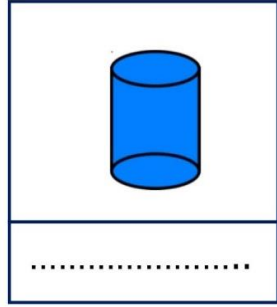

.....
.....
.....
.....

Farklı Özellikleri



.....
.....
.....
.....

MATEMATİK

Aşağıdaki geometrik cisimlerin isimlerini yazınız.

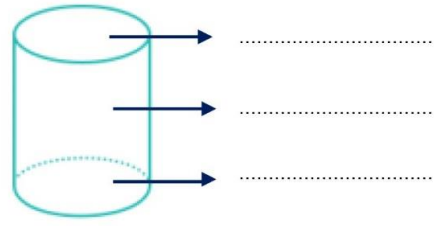
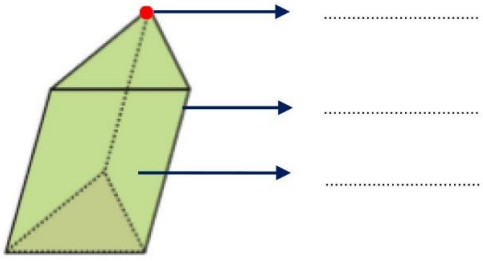
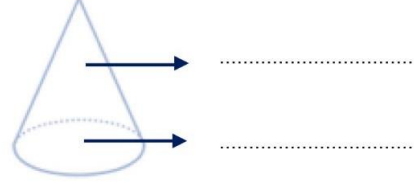
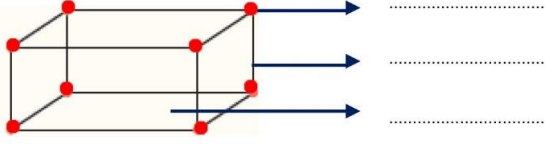


Aşağıdaki nesnelerin hangi geometrik cisimlere benzediğini altlarına yazınız.

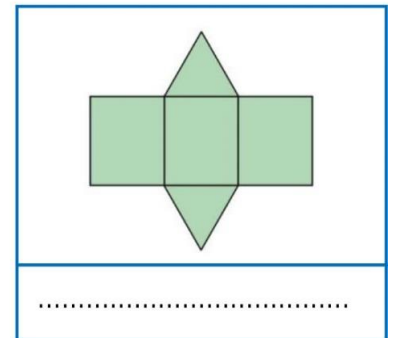
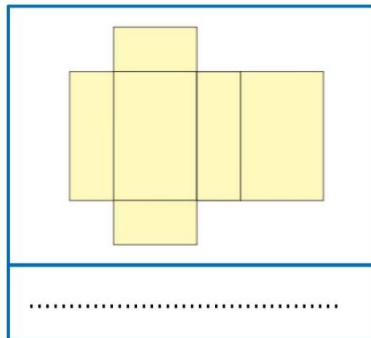
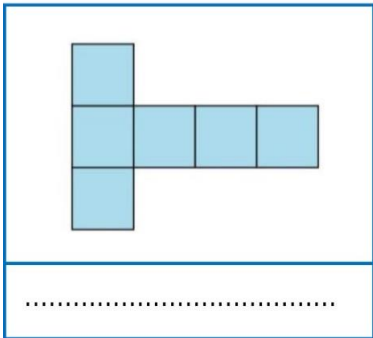
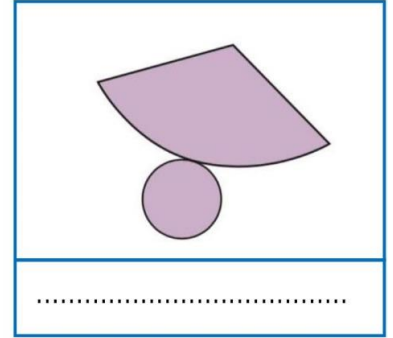
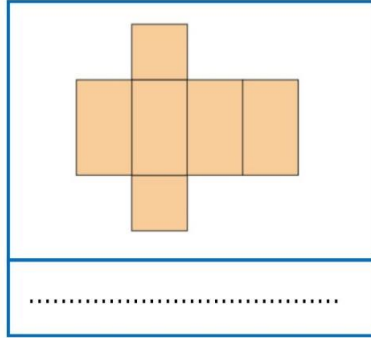
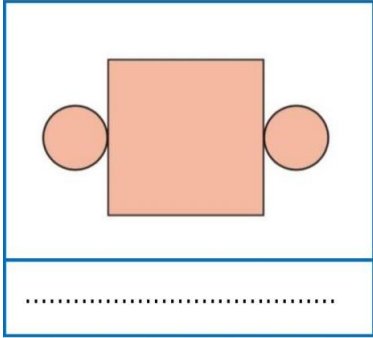


MATEMATİK

Aşağıdaki geometrik cisimlerin köşelerini, ayrıtlarını ve yüzeylerini yazınız.




Açınımları verilen geometrik cisimlerin adlarını yazınız.



MATEMATİK


GEOMETRİK CİSİMLER KONU TESTİ

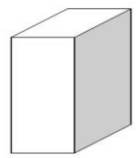
1. Aşağıdakilerden hangisi geometrik cisim değildir?
A. Küre B. silindir C. Üçgen
2. Aşağıdakilerden hangisinin tüm yüzeyleri düzdür?
A. Kare Prizma B. Koni C. Küre
3. Aşağıdakilerden hangisi küreye örnek verilmez?
A. Dondurma B. Portakal C. Futbol topu
4. Aşağıdakilerden hangisi köşesi olan bir geometrik cisim değildir?
A. Küp B. Üçgen prizma C. Küre
5. Bütün yüzeyleri kare olan geometrik cisim hangisidir?
A. Kare Prizma B. Küp C. Dikdörtgen

6. 
Yukarıdaki geometrik şekiller hangi geometrik cismin yüzeyleridir?
A. Koni B. Küp C. Kare Prizma

7. Aşağıdakilerden hangisinin üçgen prizmaya örnek olarak verebiliriz?



8. 
Yandaki geometrik cismin köşe, yüzey ve ayrıt sayılarının toplamı aşağıdaki işlemlerden hangisini yaparak buluruz?
A. $8+6+4$
B. $6+6+6$
C. $8+6+12$

9. 
Dikdörtgenler prizmasının kaç yüzü vardır?
A. 6
B. 4
C. 12

10. Silindirin eğri yüzeyi düzleme açılırsa hangi şekil oluşur?
A. Dikdörtgen B. Kare C. Çember

MATEMATİK

GEOMETRİK ŞEKİLLER

- Yandaki şekillerden üçgeni maviye, çemberi yeşile, kareyi     kırmızıya, dikdörtgeni sarıya boyayınız.

- Aşağıda boş bırakılan yerleri uygun kelimelerle doldurunuz.

Köşesi-eşit-köşegeni-3-4-3-4-eşittir-yoktur-köşeleri-kenar- eşittir-eşit-2-4-2-4-eşit

- Karenin.....kenarı, köşesi vardır. Bütün kenarları birbirinetir.
- Dikdörtgenin.....kenarı, köşesi vardır. Karşılıklı kenar uzunlukları birbirinetir.Dikdörtgenlerde uzunluktatane kısa kenar ve uzunlukta.....tane uzun kenar vardır.
- Üçgen;.....kenarı,köşesi olan bir geometrik şekildir. Üçgenlerde uzunlukları farklı olabileceği gibi de olabilir.
- Çember ; ve olmayan bir geometrik şekildir.
- Köşegen: Geometrik şekillerde komşu olmayanbirleştiren çizgiye denir.
- Üçgen ve çemberde köşegentur.

ETKİNLİK 1:

Defterinize;

Bir kenarı 5 cm, bir kenarı 7 cm olan iki kare çiziniz.

Kısa kenarı 4 cm uzun kenarı 8 cm olan bir dikdörtgen çiziniz.

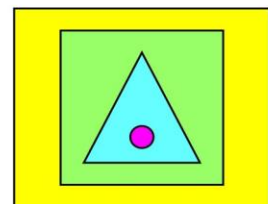
Sadece alt kenarı 3 cm, yine sadece alt kenarı 6 cm olan iki farklı üçgen çiziniz.

Biri şişe kapağıyla diğeri kavanoz kapağıyla olmak üzere iki çember çiziniz.

NOT: Bir karenin ve bir dikdörtgenin köşegenlerini çizerek gösteriniz.

ETKİNLİK 2:

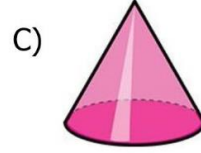
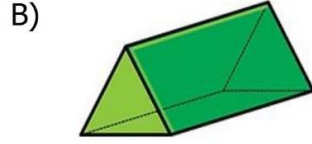
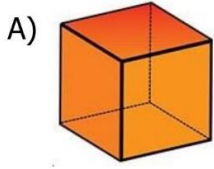
Defterinizin tamamen boş bir sayfasına kısa kenarı 11 cm, uzun kenarı 14 cm olan bir dikdörtgen çiziniz. Sonra içine kenarı 8 cm olan bir kare çiziniz. Onunda içine, tabanı 5 cm olan ve köşeleri kareye değmeyecek şekilde bir üçgen çiziniz. Üçgenin de içine şişe kapağı ile bir çember çiziniz. Herbirini ayrı renklerde boyayınız.




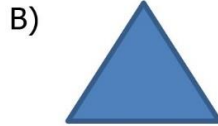
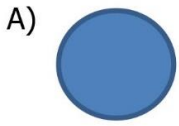
MATEMATİK

KONU TESTİ

1) Aşağıdaki geometrik cisimlerden hangisinin hem üçgene hem de dikdörtgene benzeyen yüzü vardır?



2) Aşağıdaki geometrik şekillerden hangisinin köşegeni vardır?

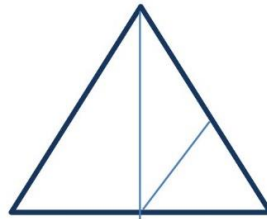


3) Aşağıda verilen bilgilerden hangisi **yanlıştır**?

- A) Dikdörtgenin 4 eş kenarı vardır.
- B) Her üçgenin 3 köşesi vardır.
- C) Çemberin köşegeni yoktur.

4) Yandaki şekilde kaç tane üçgen vardır?

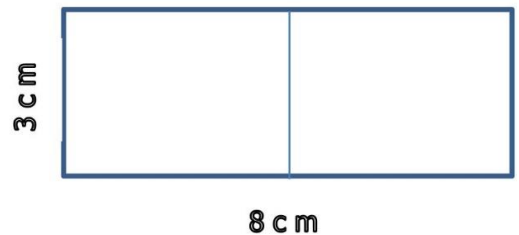
- A) 5
- B) 4
- C) 6



5) Yandaki dikdörtgen ortadan iki eş parçaya ayrılıyor.

Oluşan şekille ilgisi hangisi söylenebilir?

- A) İki eş kare oluşur.
- B) İki eş dikdörtgen oluşur.
- C) İki eş üçgen oluşur.



MATEMATİK

Biraz da problem çözelim! 😊

Teyzem marketten 500 gram şeker, 200 gram yağ ve 125 gramlık 2 pakette fındık aldı. Buna göre teyzemin aldığı malzemeler toplam kaç gramdır?



Bir bakkal, aldığı bir çuval pirinci 500 gramlık paketlere koydu. Bu iş için 30 paket kullandığına göre çuvalda kaç kilogram pirinç vardı?



Kilogramı 5 TL olan elmalardan 6 kilogram aldım. Satıcıya 50 TL verdim. Satıcıdan kaç TL geri almam gerekir?



Ahmet 60 kilogram soğanın $\frac{1}{5}$ ini satmıştır. Ahmet kaç kilogram soğan satmıştır?



Bir kamyon, 25 kilogramlık kömür torbalardan Kayra'nın evine 8 torba, Emir'in evine 10 torba kömür bırakmıştır. Kamyon kaç kilogram kömür taşımıştır?



Annem manavdan kilogramı 13 TL olan armutlardan 4 kg aldı. Annem manava kaç lira öder?



52

450

15

20

950

12

FEN BİLİMLERİ

Kazanım Değerlendirme Soruları:

S.1)




Aşağıda verilen ifadelerden hangisi yanlıştır?

- A) Dünya'nın karalarla kaplı bölümü daha azdır.
- B) Dünya'nın büyük bölümü denizlerle kaplıdır.
- C) Dünya'da karalarla suların kapladığı alan aynıdır.

S.2) Aşağıdakilerden hangisi Dünya'nın küre şeklinde olduğunu söyleyen bilim insanlarından biri değildir?

- A) Mevlana
- B) Pisagor
- C) Birüni

S.3)



Yukarıdaki görselden yararlanarak Dünya'nın katmanlarının içten dışa olacak şekilde sıralanışı nasıl olmalıdır?

- A) İç çekirdek - Dış çekirdek - Yer kabuğu - Manto
- B) Dış çekirdek - Manto - Yer kabuğu - İç çekirdek
- C) İç çekirdek - Dış çekirdek - Manto - Yer kabuğu

S.4) Aşağıda verilen ifadeler doğru ise başındaki ayrıçların içine "D", yanlış ise "Y" yazınız.

- () Hava katmanı kara ve su katmanı ile temas halindedir.
- () Dünya üzerinde mavi renkte görünen kısımlar hava katmanını göstermektedir.
- () Uzaydan bakıldığında Dünya yeşil renkte görünür.
- () Hava katmanının diğer adı atmosferdir.
- () Toprak kara katmanı olduğu için toprakta hava bulunmaz.

S.5) Hangi seçenekteki ifadede doğal çevreden söz edilmiştir?

- A) Hafta sonu ormanda yürüyüş yaptım.
- B) Ersin'i alışveriş merkezine götürdüm.
- C) Arkadaşlarımla parkta çok eğlendik.

S.6) Aşağıdakilerden hangisi canlıların ortak özelliği değildir?

- A) Büyümek
- B) Uyumak
- C) Çoğalmak

S.7) "Ecem Naz, sabah masa saatinin alarm sesiyle uyandı. Yatağını kendisi düzenledikten sonra elini yüzünü yıkadı." Bu ifadelere göre Ecem Naz hangi duyu organını kullanmamıştır?

- A) Kulak
- B) Dil
- C) Deri

FEN BİLİMLERİ

S.8)



"Lunaparktaki atlı karıncalar hareketi yaparlar."

Yukarıdaki cümlede boş bırakılan yere hangi ifade gelmelidir?

A)Dönme B)Yön değiştirme C)Sallanma ayıdır.

S.9)



Bilge'nin babasının matkapla duvarda delik açarken uyguladığı kuvvet aşağıdakilerden hangisidir?

A)Yön değiştirme B)İtme C)Çekme

S.10) Ağaçtan düşen elma hangi hareketi yapar?

A) Sallanma B) Hızlanma C) Dönme

S.11) Aşağıdakilerden hangisi **kırılgan** bir maddedir?

A)Bulaşık süngeri B)Kağıt bardak C)Cam şişe

S.12)



Su buharını maddenin hangi haline örnek verebiliriz?

A)Sıvı B)Katı C)Gaz

S.13) Aşağıdaki ifadelerden hangisi doğrudur?

- A) Görmemiz için ışık olmasına gerek yok.
- B) Ateş böceği doğal ışık kaynağıdır.
- C) Işık kaynakları doğal, yapay ve insanların yaptıkları olmak üzere üçe ayrılır.

S.14) Ses ile ilgili aşağıdakilerden hangisi yanlıştır?

- A) Rüzgâr doğal ses kaynağıdır.
- B) Ses her yöne yayılır.
- C) Her sesin bir kaynağı olmasına gerek yoktur.

S.15) ", canlıyı kuşatan ve etkileyen her şeydir." İfadesinde boş bırakılan yere aşağıdakilerden hangisi gelmelidir?

A)Varlık B)Çevre C)Mahalle

S.16) Aşağıdakilerden hangisi doğal çevrenin bir parçasıdır?

A) Park B) Göl C) Havuz

FEN BİLİMLERİ

S.17)

Canlı Varlıkların Özellikleri	Cansız Varlıkların Özellikleri
Doğarlar	Hareket edebilirler
Yer değiştirirler	Nefes alıp vermezler
Çoğalmazlar	Hava ve suya ihtiyaçları yoktur
Büyürler	Büyümezler


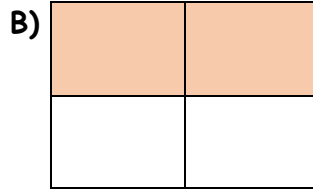
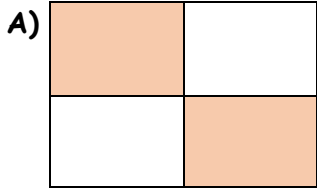
Yukarıdaki tablonun doğru olması için hangi özellikler yer değiştirmeli?

- A) Doğarlar - Nefes alıp vermezler
B) Çoğalmazlar - Hareket edebilirler
C) Büyürler - Büyümezler

S.18)

Elma kabuğu	Plastik şişe
Tarım ilacı	Solucan

Yanda tabloda verilen varlıklardan doğada kalıcı zararlara neden olanlar boyandığında aşağıdaki şekillerden hangisi ortaya çıkar?



S.19)



Yandaki şekli görünce aklımıza aşağıdakilerden hangisi gelir?

- A) Garanti belgesi
B) Geri dönüşüm
C) Trafik işareti

S.20)

Aşağıdakilerden hangisi insanlar tarafından yapılmıştır?

- A) Baraj
B) Yayla
C) Irmak