

1. SINIF



1. Hafta Fasikül  
13-17 Nisan Kazanımları

# EVDE EĞİTİM E-FASİKÜL' DE

YERKÖY ARGE

Yerköy İlçe Milli Eğitim Müdürlüğü'nün  
uzaktan eğitim sürecinde öğrencilerimiz  
için hazırladığı destek hizmetidir.

<http://yerkoy.meb.gov.tr>





## Yerköy İlçe Millî Eğitim Müdürlüğü

**Serdal BORA**

İlçe Milli Eğitim Müdür V.

**H.Hüseyin ASAR**

Şube Müdürü

**M.Suat ATİLA**

Koordinatör ve Grafik Tasarım

### **Hazırlayanlar**

Adem İLENDEMLİ  
Alpaslan Ergin AKGÜN  
Necip SIVRI

Atatürk İlkokulu  
TOKİ İlkokulu  
Şht. Kamil Çelikkaya İlkokulu



# HAYAT BİLGİSİ

## ÇEVREMİZDEKİ TARİHİ VE TURİSTİK YERLER

Ülkemiz, eski uygarlıkların bıraktıkları tarihi eserlerin yanı sıra birçok doğal güzelliklere de sahiptir.

Ülkemizin tarihi ve doğal güzelliklerini öğrenmek ve onlara sahip çıkmak hepimizin görevidir. İnsanların ilgisini çeken tarihi ve doğal güzelliklere **turistik yerler** denir. Geçmişte yaşamış insanlardan kalan yapı ve alanlara **tarihi yer** denir.


Ülkemizde görülmesi gereken tarihi yerler:



İstanbul Ayasofya Müzesi (Camii)



Efes Antik Kenti (İzmir/Selçuk)



Sümela Manastırı ( Trabzon)



İshak Paşa Sarayı ( Ağrı )



Bursa Ulu Camii



Konya Mevlana Müzesi

İnsan eli değmeden oluşan ve gezilip görülebilecek özelliği olan yerlere **doğal yerler** denir.



Pamukkale Travertenleri (Denizli)



Peri Bacaları (Nevşehir)



Düden Şelalesi (Antalya)



Gölyazı Köyü (Bursa)



# HAYAT BİLGİSİ

## Yerköy'ümüzün Gezilecek Yerleri:



Yerköy Kaplıcaları



Yerköy Keçi Kalesi

## Yozgat'ımızın Gezilecek Yerleri:



Karslıoğlu Konağı



Yozgat Müzesi



Yozgat Çamlığı Milli Park



Çapanoğlu Camii

# HAYAT BİLGİSİ

## ETKİNLİK

Aşağıdaki ifadelerden doğru olanların başına " D " , yanlış olanların başına ise " Y " yazınız .

- ( ) 1) Yaşadığımız yerdeki doğal ve tarihi yerleri korumalıyız .  
( ) 2) Dinlenmek, eğlenmek, görmek, tanımak amacıyla geziye çıkan insanlara turist denir .  
( ) 3) Safranbolu evleri , Zonguldak ilimizde bulunur .  
( ) 4) Ülkemiz eşsiz tarihi ve doğal güzelliklere sahiptir.

## DOĞRU ŞIKKI İŞARETLEYİN

1. Ayasofya Müzesi (Camii) hangi ilimizdedir?

- A) İzmir  
B) Bursa  
C) İstanbul

2. Sümela Manastırı hangi ilimizdedir?

- A) Yozgat  
B) Bursa  
C) Trabzon

3. Pamukkale Travertenleri hangi ilimizdedir?

- A) Denizli  
B) Sivas  
C) Trabzon

4. Peri Bacaları hangi ilimizdedir?

- A) Denizli  
B) Nevşehir  
C) Trabzon

5. Çapanoğlu Camii hangi ilimizdedir?

- A) Yozgat  
B) Nevşehir  
C) Trabzon



# TÜRKÇE

## ÇANAKKALE GEÇİLMEZ

Gelmeyiniz ey düşmanlar,  
Çanakkale geçilmez.  
Bekler nice kahramanlar,  
Çanakkale geçilmez.

On Sekiz Mart Zaferini,  
Herkes tanır Türk Askerini,  
Ölür de vermez yerini,  
Çanakkale geçilmez.



**Ali Osman ATAK**

**Yukarıdaki metne göre, aşağıdaki soruları cevaplayın:**

**Soru 1: Neresi geçilmezmiş ?**

.....

**Soru 2: Çanakkale'yi kimler bekliyormuş ?**

.....

**Soru 3: Türk askerini kimler tanırmış ?**

.....

# TÜRKÇE

Aşağıdaki haritada **Çanakkale** şehrini bulup daire içine alalım:



Aşağıdaki görsellerden hangisi **Çanakkale Şehitler Abidesi**'ne aittir, yanındaki kutucuğu işaretleyelim:





# TÜRKÇE

Aşağıdaki anahtar kelimelerle birer cümle yazalım:

Vatan

Atatürk

Şehit

Atalarımız


.....

.....

.....

.....

Aşağıdaki kelimeler ile ilgili görselleri eşleştirelim:



VATAN

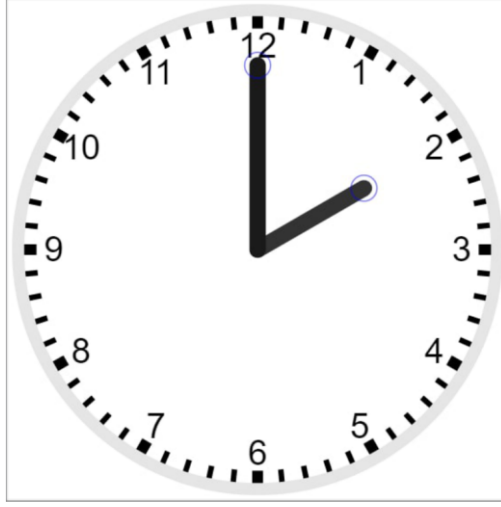
BAYRAK

KOMUTAN

KAHRAMAN

# MATEMATİK

## SAATİN ANLATTIKLARI:



A) Aşağıdaki boşlukları uygun kelimelerle doldurunuz.

saati, dakikayı, yelkovan, saniye, akrep

- 1) Saatlerde kısa kolun adı .....dir.
- 2) Saatlerde uzun kolun adı .....dir.
- 3) Uzun kol olan yelkovan .....gösterir.
- 4) Kısa kol olan akrep.....gösterir.

B) Haftanın günlerini yazınız.

- 1) Pazartesi
- 2) .....
- 3) .....
- 4) .....
- 5) .....
- 6) .....
- 7) .....

Haftanın ilk günü.....dir.

Haftanın son günü.....dır.

# MATEMATİK

C) Ayların isimlerini yazınız.

1) OCAK

2) .....

3) .....

4) .....

5) .....

6) .....

7) .....

8) .....

9) .....

10) .....

11) .....

12) .....

Ç) Aşağıdaki soruları cevaplayınız.

1) Biz şimdi hangi yıldayız?

2) Siz hangi yılda doğdunuz?

3) Siz hangi ayda doğdunuz? Ayın adını yazınız.

4) Siz ayın kaçında doğdunuz?

5) Bir ay kaç gündür?

6) Bir haftanın kaç gün olduğunu yazınız?

7) Yılın son ayı hangisidir?



# MATEMATİK

D) Aşağıdaki testleri cevaplayınız.

1) Saat 08:30'da kitap okumaya başlayan Kemal'in, okumaya başladığı saati hangisi göstermektedir?

A)



B)



C)

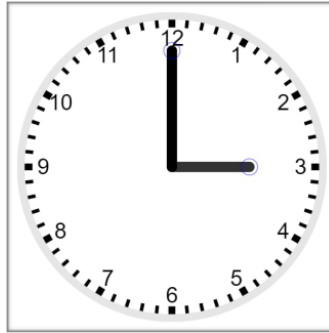


2) Saat 03:00 olduğunda akrep ile yelkovan arasında kaç rakam bulunur?

A) 2

B) 3

C) 4



3) Aşağıdaki saatlerden hangisi 10:00'u göstermektedir?

A)



B)



C)



# MATEMATİK

4) Saat 08:00 olduğunda yelkovan hangi sayıyı gösterir?

A)6

B)8

C)12

5) Saat ile anlatılanlardan hangisi doğrudur?

A) Saatin üzerindeki uzun kol, dakikayı gösterir.

B) Yelkovan kısa koldur.

C) Akrep dakikayı gösterir.

6) Aşağıdaki soruların doğru olanların başına (D), Yanlış olanların başına (Y) harfini koyunuz.

1) (.....) Günlük işlerimizi saate göre ayarlarız

2) (.....) Bir hafta beş gündür.

3) (.....) Bir hafta yedi gündür.

4) (.....) Bir gün yirmi dört saattir.

5) (.....) Haftanın ilk günü pazardır.

6) (.....) Akrep, yelkovandan uzundur.

7) (.....) Akrep, yelkovandan kısadır.

8) (.....) Yelkovan dakikayı gösterir.

9) (.....) Saat üzerinde on iki rakam bulunur.

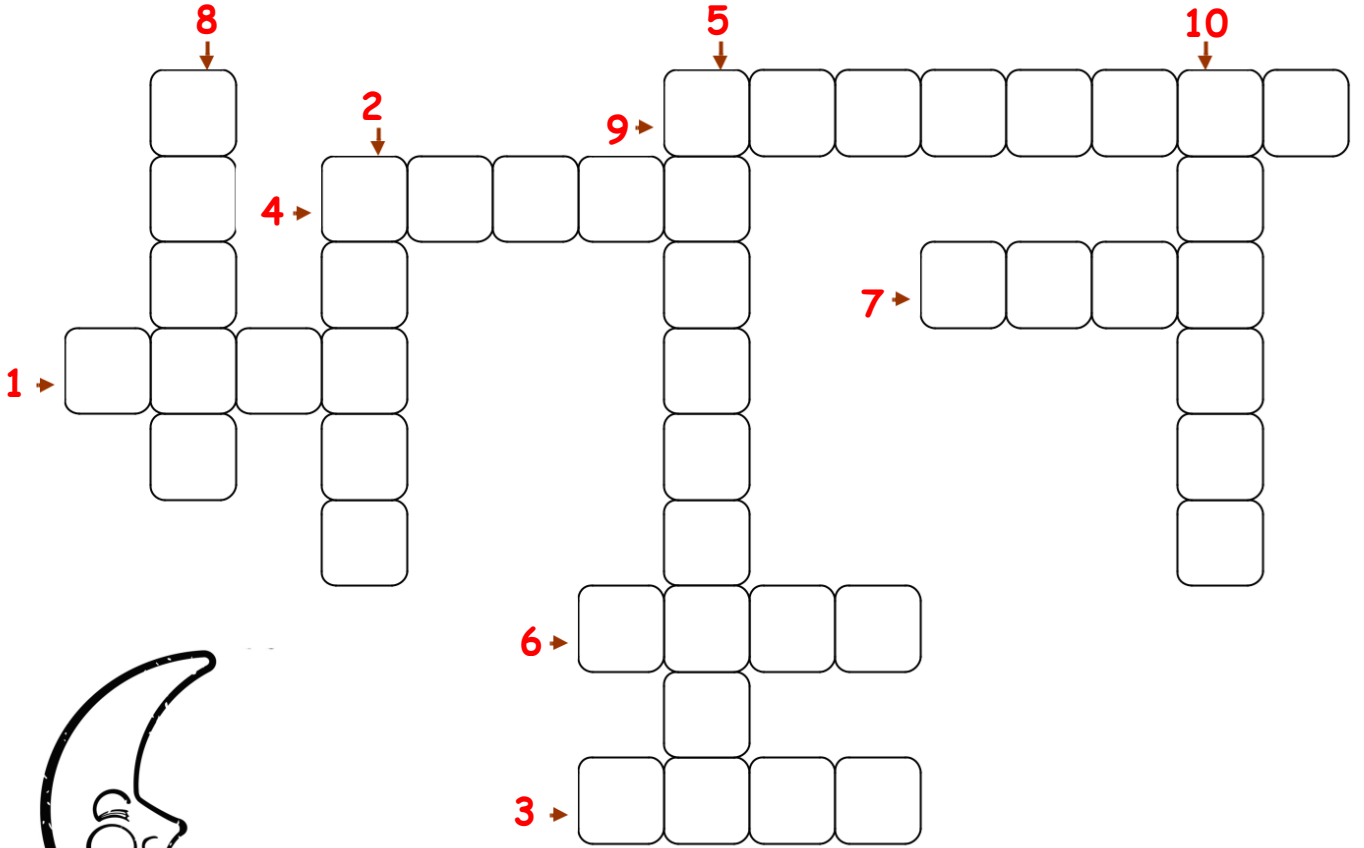
10) (.....) Okulda zil saat ve dakikaya göre çalar.



# MATEMATİK

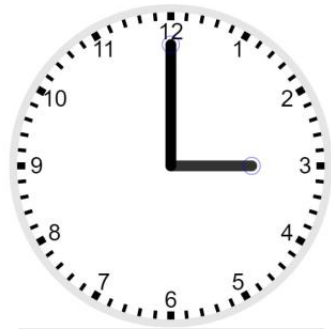
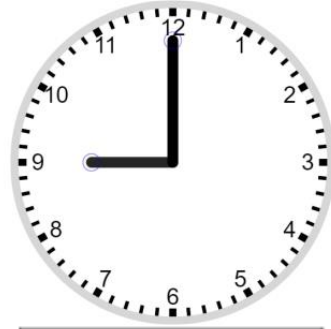

Cümlelerdeki boşlukları uygun kelimelerle tamamlayınız. Boşluklara yazdığınız sözcükleri bulmacadaki yerlerine yazarak bulmacayı çözünüz.

- 1) Bir hafta ..... gündür.
- 2) Bir yılda ..... ay vardır.
- 3) Bir ay ..... gündür.
- 4) Saat kadranında ..... tane sayı vardır.
- 5) Bir gün ..... saattir.
- 6) Bir yılda ..... mevsim vardır.
- 7) Zamanı ölçmek için ..... kullanırız.
- 8) Saatin kısa göstergesine ..... denir.
- 9) Saatin uzun göstergesine ..... denir.
- 10) Bir saat ..... dakikadır.



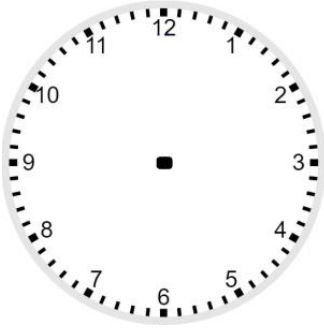
# MATEMATİK

Saatlerin kaçı gösterdiklerini okuyup altlarına yazınız:

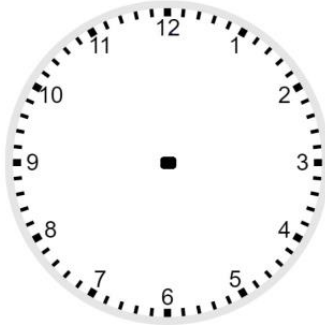


# MATEMATİK

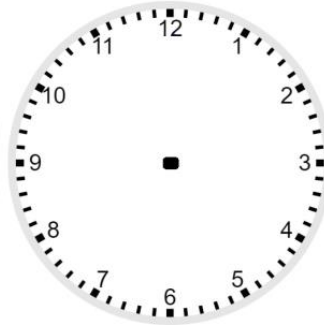
Kutularda belirtilen saatleri çiziniz:



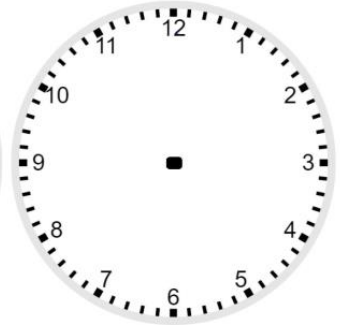
**03:30**



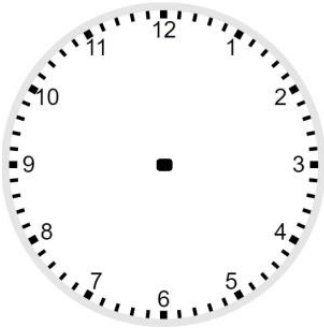
**12:00**



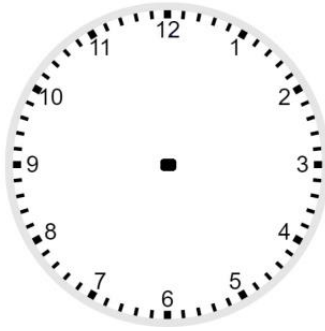
**07:00**



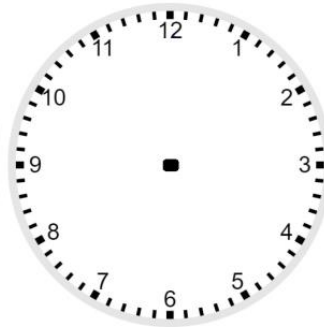
**02:30**



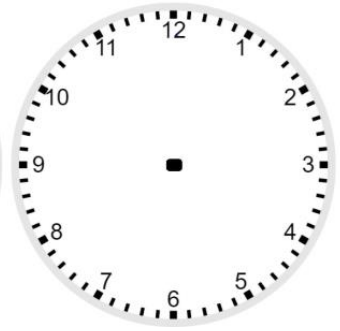
**04:30**



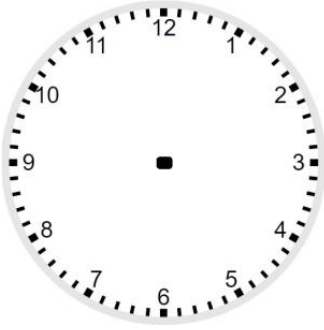
**03:00**



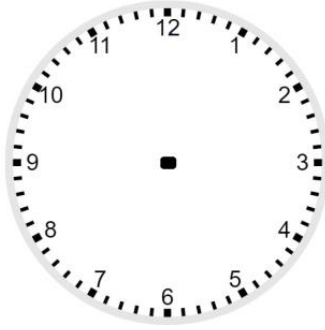
**06:00**



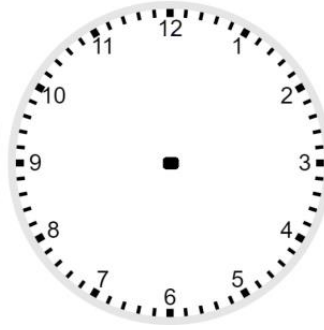
**05:30**



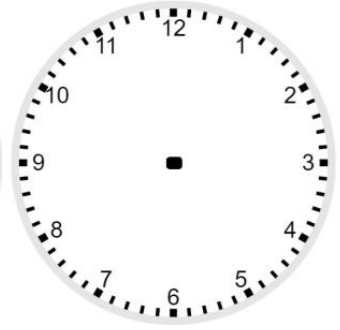
**09:00**



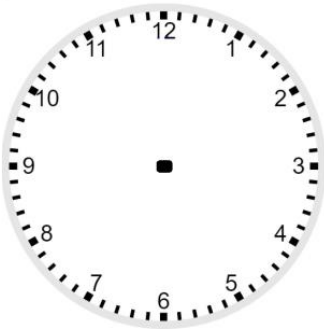
**07:30**



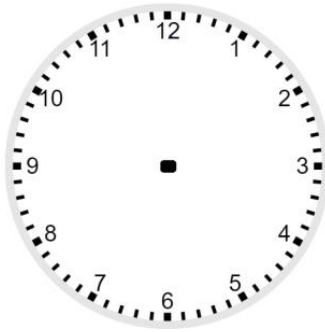
**10:30**



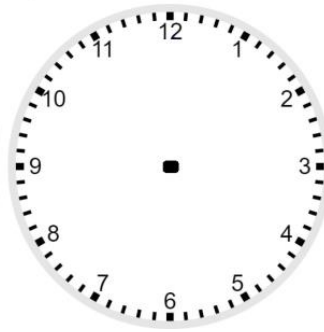
**08:30**



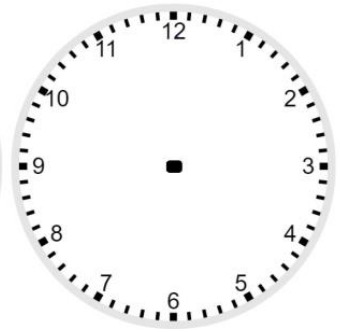
**11:00**



**01:30**



**05:00**



**10:00**